


السنة الثانية	اختبار الثلاثي الأول ديسمبر 2011 المادة: رياضيات	المدرسة الابتدائية الخاصة نور المعارف
الاسم و اللقب:		

السند 1: يَوْمَ الْأَحَادِ نَهَبَ أَحْمَدُ إِلَى ضِعْفِ جَدِّهِ
سَاعَةً أَحْمَدُ جَدُّهُ فِي الْعِنَايَةِ بِالْعَيَّوَانَةِ
وَوَعْنِي الثَّمَارِ

التعليمة 1: اجزئ هذه المجموعة حسب خاصية
الآنظها

م 1
└



قطب القمائل الخوخ فتة صلو اعلى 25 كغ من
العجم الصغير و 36 كغ من العجم الكبير
التعليمة 2: احسب كتلة الخوخ في الجملة

م 2 ب
└

التعليمة 3: اكتب أسماء العائلات تصاعدياً

م 2 ج
└

كَمَا جَعَلُوا الشَّمْسَ قَدْرًا لَوْ عَلَى كَيْفِيَّةٍ ذُو قُوَّةٍ
كَيْفِيَّةَ الْعُرُوجِ 23 كغ

مد 1
ل
مدجب
ل

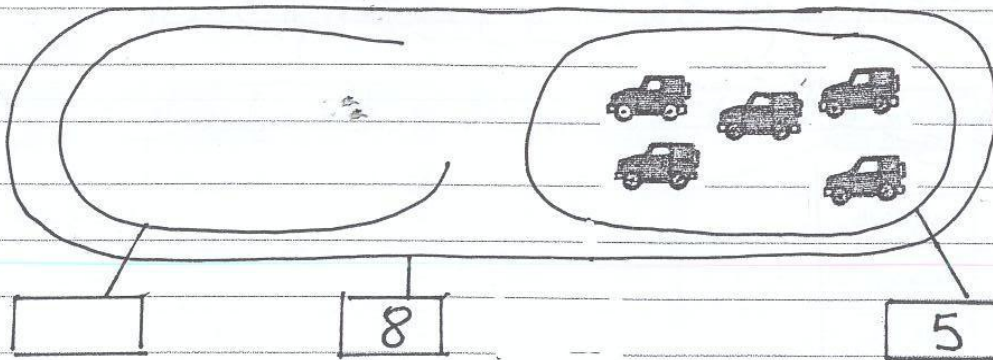
التعليمة 1.4 أحسب كثرة الشمس

التعليمة 1.5 أرتب أعداد القملية تدار ليًا

مدب
ل

السند 2: أحسب أحمد بالذهب وقد خل غرقته
وشغل الحاسوب ولعبت لعبة يساق السيارات
والترابيات

التعليمة 1.2 أوسم مقمرة وجهه في السيارات في
مقمة وجه اللقب المشتقة له في السباق



مد 1
ل
X

السند 3: في الأثناء انشفت الحدة باعداد كماله
الطعام للغة ال قومت 15 مخرجنا كبير 14
مخرجنا صغير
التعليمة 1.3 أحسب اعداد المخرجون في الجملة

مدى 1

ب

التعليمية 2. 3. أرتب أعداد العقليّة

مدى 2

كما وضعت 10 كؤوس
التعليمية 2. 3. أرتب أعداد الأواني في الجملة

مدى 5

ب


حان وقت الأعداء فتعلق أفراد العائلة حول
المائدة

التعليمية 3. 3. أرتب الرشم
على يمين على يسار

أقام وراء

مدى 4

ب



العائلة

أقام وراء

التعليمية 3. 3. أرتب

السند 4: في المساء قدم العدة الأتمدة بلقمة التنا
لشراء لعتبة وتزوج لاله البائع القطيع
التقديّة الثالبيّة

(2) (1) (5) (5) (20) (10) (20) (20)

التعليمة: 4.1 أَسْبِهُ الْأَعْرُوفَ هَذَا الْمَبْلُغَ [] مِ

3 مع
ب

شَرَى أَحْمَدُ كِتَابًا بِ 110 مِ
التعليمة: 4.2 أَحِطْ بِتَطَوُّقِ الْقَطْعِ الَّتِي تُمَثِّلُ هَذَا الْمَبْلُغَ

3 مع
ب

التعليمة: 4.3 أَسْبِ الْمَبْلُغَ الْمُتَبَقَّى [] مِ

3 مع
ب

فَكَرَّ أَحْمَدُ فِي شَرَاؤِ خَلْوَى تَمَنُّهَا 48 مِ بِمَا تَبَقَّى لَهُ

التعليمة: 4.4 هَلْ يُمَكِّنُهُ ذَلِكَ أَنْ شَطِبَ الْأَدِفَةَ الْخَالِجَةَ وَلَا قَادًا؟

5 مع
ب

نَعَمْ [لا] يُمْكِنُهُ لِأَنَّ

جدول اسناد الأعداد

معايير التميز		معايير الحد الأدنى					المعايير مستويات التملك
مع 5 ب	مع 15	مع 4	مع 3	مع 2 ب	مع 2 أ	مع 1	
		0	0	0	0	0	انعدام التملك - - -
2	2	1	1	1	0.5	0.5	التملك دون الحد الأدنى + - -
		2	2	2	1	1	التملك الأدنى - + +
4		3	3	3	1.5	1.5	التملك الأقصى + + +