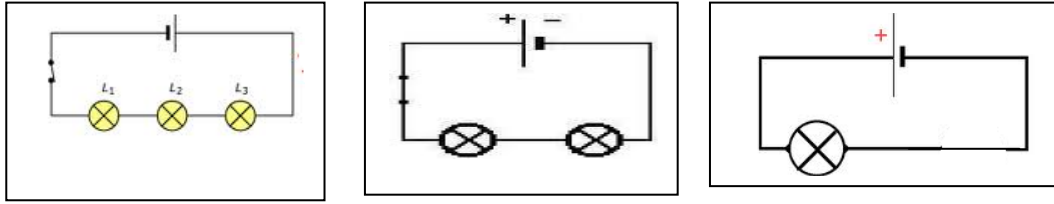


شدة التيار الكهربائي

1. شدة التيار الكهربائي



الملاحظة

أستنتج

2. قياس شدة التيار الكهربائي

أ. تعريف الشدة 'رمزها ووحدة قياسها العالمية

.....

A			mA			μA

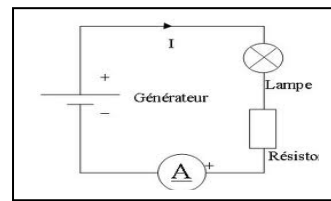
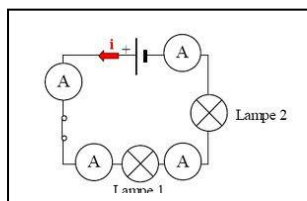
*أجزاء الأمبير

..... المليأمبير

..... المكروأمبير

ب. جهاز قياس الشدة

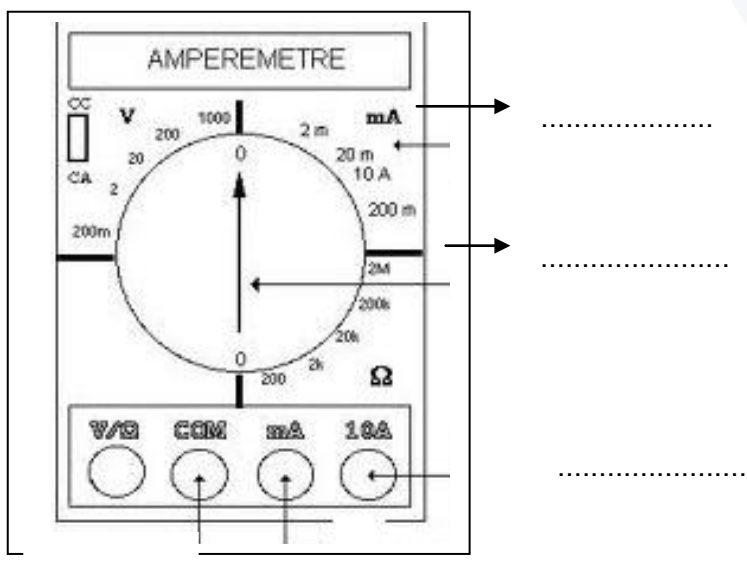
.....





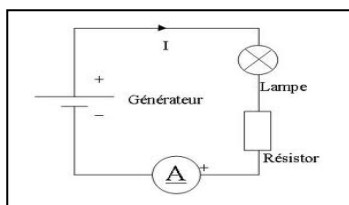
شدة التيار الكهربائي

$$I = \frac{n \cdot c}{N}$$

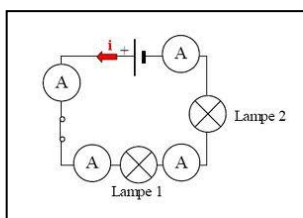


أمثلة

$$I =$$



$$I =$$



www.najahni.tn

