

تقييم مكتسبات التلاميذ في نهاية
الثلاثية الثانية في مادة
الإيقاظ العلمي

الاسم:

اللقب:

السند 1: يَوْمُ الْأَحَدِ ذَهَبَتْ عَائِلَةُ رَامِي لِزِيَارَةِ جَدِّهِ
(1) أَضْعُ عَلَامَةً (x) تَحْتَ وَسِيلَةِ النُّقْلِ الَّتِي تُقْضِي مَدَّةَ زَمَانٍ أَقْصَرَ
لِلْوُصُولِ إِلَى بَيْتِ الْجَدِّ





2

مع 1

السند 2:

أَهْدَى الْجَدُّ لِرَامِي خُرُوفًا صَغِيرًا وَقَالَ لَهُ: " بَعْدَ أَشْهُرٍ سَيُصْبِحُ كَبِشًا كَبِيرًا "
فَتَحَّ رَامِي الْحَاسُوبَ لِمَعْرِفَةِ مَرَاحِلِ نُمُوِّ الْخُرُوفِ فَوَجَدَ الصُّورَ التَّالِيَةَ
(2) أَرْتَّبُ مَرَاحِلَ نُمُوِّ الْخُرُوفِ



2

مع 1

(3) أَرِبْطُ بِخَطِّ التَّغْلِيلِ الْمُنَاسِبِ

* يَلْعَبُ كُلَّ يَوْمٍ

* يَتَغَذَّى جَيِّدًا

* لَا يَطِيرُ


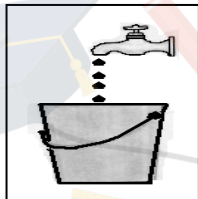
نَمَّ الْخُرُوفُ وَكَبُرَ لِأَنَّه *

2

مع 2

السند 3:

أَرَادَ رَامِي أَنْ يُنْظِفَ خُرُوفَهُ فَمَلَأَ سَطْلًا مِنَ الْمَاءِ وَخَرَجَ لِلْحَدِيقَةِ
(4) أَلْوَنُ السَّطْلِ الَّذِي يُقْضِي رَامِي مَدَّةَ زَمَانٍ أَطْوَلَ لِمَلَاهُ



1


مع 1

(5) وَضَعَ رَامِي السَّطْلَ تَحْتَ أَشْجَرَةٍ تَفَّاحٍ عَنِ الْمَنْزِلِ: أَرَسُمُهُ

(6) وَقَفَّ رَامِي تَحْتَ أَطْوَلِ شَجَرَةٍ: أَرَسُمُ رَامِي

2

مع 1



قَطَفَ رَامِي تَفَاحَةً لِيَأْكُلَهَا
(5) أَصْلِحِ الخَطَأَ
* رَامِي لَا يَغْسِلُ التَّفَاحَةَ قَبْلَ أَكْلِهَا

2

مع 3

* غَسَلُ تَفَاحَةٍ يَسْتَعْرِقُ مُدَّةً زَمَنِيَّةً أَطْوَلَ مِنْ مُدَّةِ تَنْظِيفِ الخُرُوفِ

2

مع 3



(6) أَرَسُمُ تَفَاحَةً أَكْبَرَ مِنْ تَفَاحَةِ رَامِي



1

مع 1

السند 5: قَالَ رَامِي مَاذَا سَأَطْعِمُ خُرُوفِي؟
(8) أَرِبِّطُ بَيْنَ الحَيَوَانِ وَ غِذَائِهِ



2

مع 1

السند 3: قَدَّمَ رَامِي قِطْعَةً لَحْمٍ للخُرُوفِ فَلَمْ يَتَنَاوَلْهَا
(10) أَضَعُ الإِجَابَةَ الصَّحِيحَةَ فِي إِطَارِ

2

مع 2

- لِأَنَّ اللَّحْمَ لَيْسَ مَشْوِيًّا

- لِأَنَّ الخُرُوفَ لَا يَتَغَذَّى عَلَى اللَّحْمِ

- لِأَنَّ الخُرُوفَ مَرِيضٌ


(11) أَصْلِحِ الخَطَأَ

الخُرُوفُ لَيْسَ فِي حَاجَةٍ للغِذَاءِ لِكَيْ يَنْمُوَ

2

مع 3


أرْبِطُ بَيْنَ الْحَيَوَانَ وَ غِذَائِهِ



السندُ 4: قَبْلَ الْعَوْدَةِ إِلَى الْبَيْتِ قَدَّمَ رَامِي جَزْرًا إِلَى الْأَرَانِبِ
(10) أَضَعُ عَلَامَةً (x) تَحْتَ الْأَرْنَبِ الَّذِي يَقْضِي مُدَّةَ زَمْنِيَّةٍ أَقْصَرَ فِي الْأَكْلِ



(أَحْبَبْتُ بِحُطٍّ مُغْلَقٍ أَبْعَدَ شَجَرَةَ تَفَّاحٍ عَنِ الْمَنْزِلِ)
(4) أَضَعُ عَلَامَةً فَوْقَ أَطْوَلِ شَجَرَةٍ



نجحني

نجحني

نجحني

نجحني

جدول إسناد الأعداد

نجحني


نجحني

نجحني

نجحني

نجحني

مع 3	مع 2	مع 1 ب	مع 1 أ	
0	0	0	0	انعدام التملك ---
2-1	2-1	1.5	1.5	دون التملك الأدنى +
4-3	4-3	3	3	التملك الأدنى ++
5	6-5	4.5	4.5	التملك الأقصى +++
/ 20				



نجحني

نجحني

الموقع التربوي نجحني



www.najakni.tn

نجحني