

السنة الخامسة	تقييم مكتسبات التلاميذ في نهاية الثلاثي الثالث 2008-2009
العدد 20	المدة : التاريخ
الاسم و اللقب :	

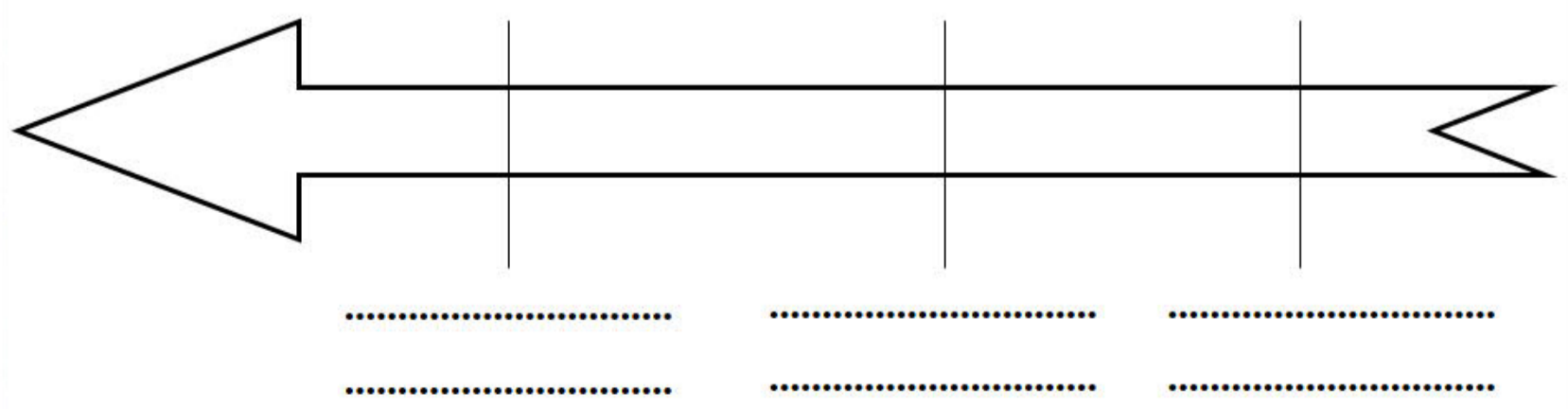
السند 1: "أعلم أنّ فنّ التاريخ فنّ عزيز المذهب، جمّ الفوائد، شريف الغاية إذ هو يوقفنا على أحوال الماضين من الأمم" قرأت هذه الكلمات للعلامة ابن خلدون في أولى صفحات كتاب كان أبي يطالعه. جذبتني هذه العبارة فواصلت اكتشاف الكتاب تصفحته فأبهرتني الحقائق التي فيه : تونسنا اليوم إفريقية في الماضي استقرّ بها العرب بعد الفتوحات الاسلامية وكونوا دولا اهمها الدولة الأغلبية والدولة الفاطمية والدولة الحفصية وتعرّفت على مؤسسها وتاريخ تأسيسها.

التعليمية 1-1: أربط كلّ دولة بمؤسسها وتاريخ تأسيسها

عبيد الله المهدي	634 هـ	الدولة الأغلبية
ابراهيم بن الأغلب	184 هـ	الدولة الفاطمية
أبو زكرياء يحيى الحفصي	296 هـ	الدولة الحفصية

التعليمية 2-1: كما تعرّفت على عدّة أحداث هامّة أخرى.
- أجسّم هذه الأحداث على السلم الزمني مرتّبة.

- بناء مدينة المهدية - بناء مدينة القيروان - بناء فسقية الأغالبة



التعليمة 1-3 : وأردت أن أختبر والدي فعرضت عليه مايلي فأجاب بصواب أو خطأ وأصلح الخطأ إن وجد :

..... اتخذ الحفصيون مدينة تونس عاصمة لهم

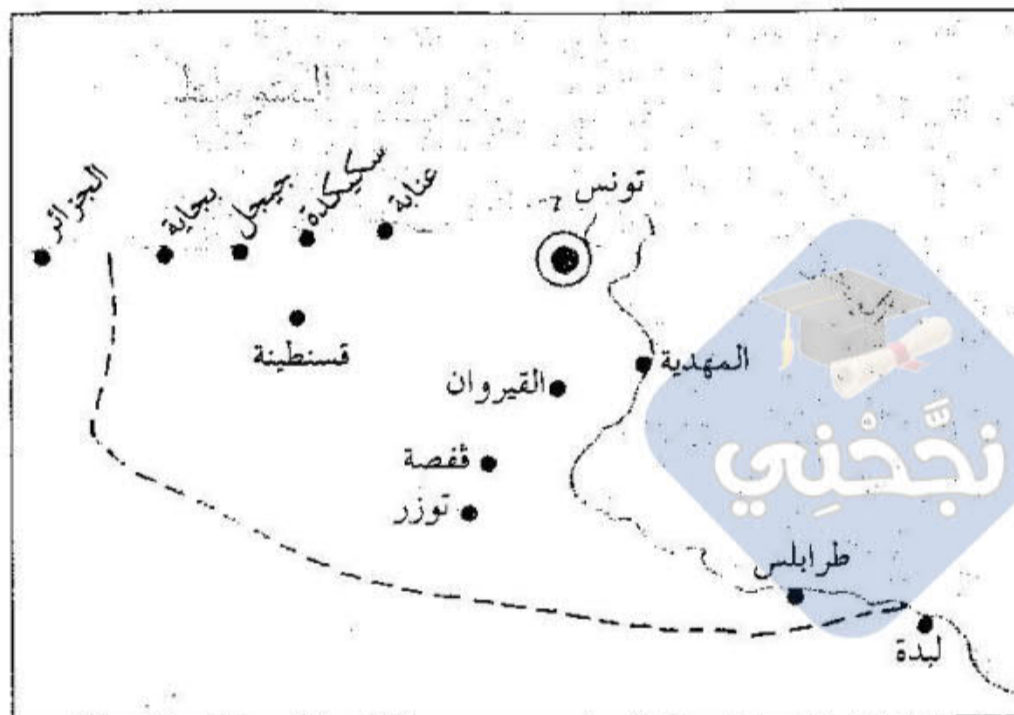
مع 2 ب

..... نقل الفاطميون عاصمتهم من رقادة إلى المهديّة

مع 3

..... الإمام سحنون أحد علماء مدينة تونس في العهد الحفصي

السند 2: في المقابل أراد أبي أن يختبرني فقدم لي خريطة بها أهم المدن الاسلامية في افريقية وطلب منّي معرفة عواصم كل من الدّول الأغلبيّة والفاطميّة والحفصية.
التعليمة 2:




التعليمة 2-1: ألّون على الخريطة

- ♦ عاصمة الدولة الأغلبيّة بالأحمر
- ♦ عاصمة الدولة الفاطميّة بالأزرق
- ♦ عاصمة الدولة الحفصية بالأخضر

مع 2 ج

التعليمة 2-2 : بعد ذلك قدّم لي صوراً لمعالم في هذه المدن وطلب منّي التعرف عليها
أكتب تحت كل صورة اسم المعلم



السند 3 : لاحظ والدي شغفي بتاريخ بلادي ورغبتني في اكتشاف المزيد من المعلومات فقدم لي هذا النص.

... لكل من أرباب الحرف موقعهم اخاص... وجلّهم نسّاجون يصنعون
فيها كمية عظيمة من القماش البالغ حدّ الإتقان، يُباع في إفريقيا كلّها بأثمان
باهظة لأنّه رفيع ومتين...
-الحسن بن محمّد الوزان الفاسي : وصف إفريقيا
(ج 2 ص: 74-75)

التعليمة 1-3: أذكر ثلاث أنواع من الصناعة بمدينة تونس

.....
.....
.....

التعليمة 2-3 : أشار النص إلى كيفية ترويج هذه الصناعات خاصة صناعة النسيج
أحرر فقرة أبين فيها ازدهار النشاط التجاري لمدينة تونس في العهد الحفصي

عدد 3 ب

السند 4 : واصلت مطالعة الكتاب وتعرفت إلى أهم العلماء وانتجت النص التالي :
"زحرت بلادنا في العهد الأغلبي والحفصي بعدة علماء ومؤسسات تعليمية هامة."
التعليمة 1-4 : أعبر عن رأيي في هذه الخلاصة

عدد 4

التعليمة 2-4 : تبينت كم تزخر بلادنا بمعالم تاريخية إسلامية ثرية وجميلة.
أذكر واجبي نحو هذه المعالم.

عدد 4

عدد 4		عدد 3		عدد 2				عدد 1		
		0	0	0	0	0	0	0	0	انعدام التملك
2,5	2,5	1	0,5	0,5	0,5	0,5	0,5	1	0,5	دون التملك الأدنى
		2	1	1	1	1	1	2	1	التملك الأدنى
5		3	1,5	1,5	1,5	1,5	1,5	3	1,5	التملك الأقصى