

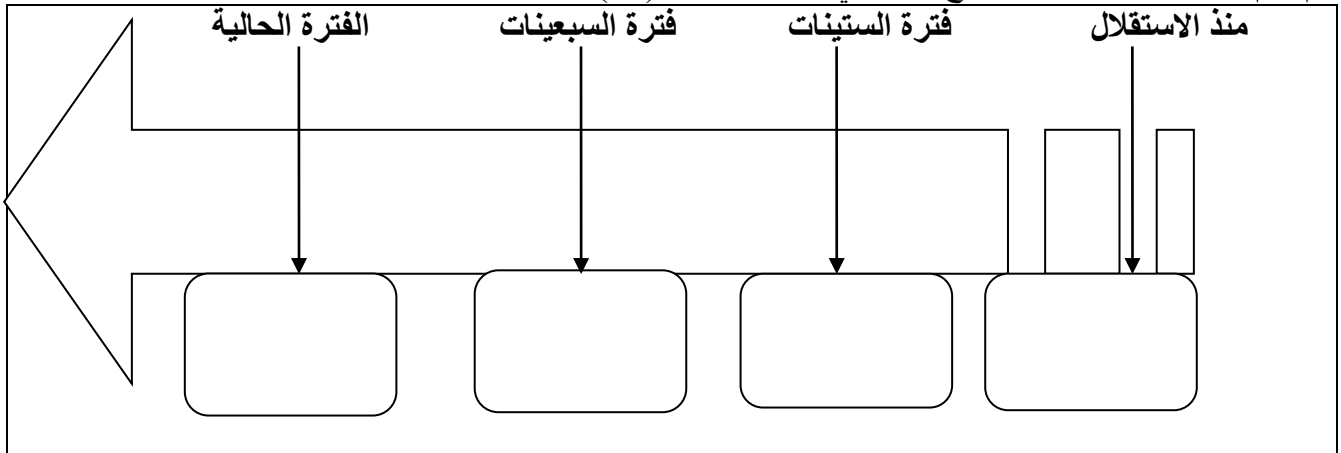
الاسم واللقب: .....

القسم: 9 أساسي .....


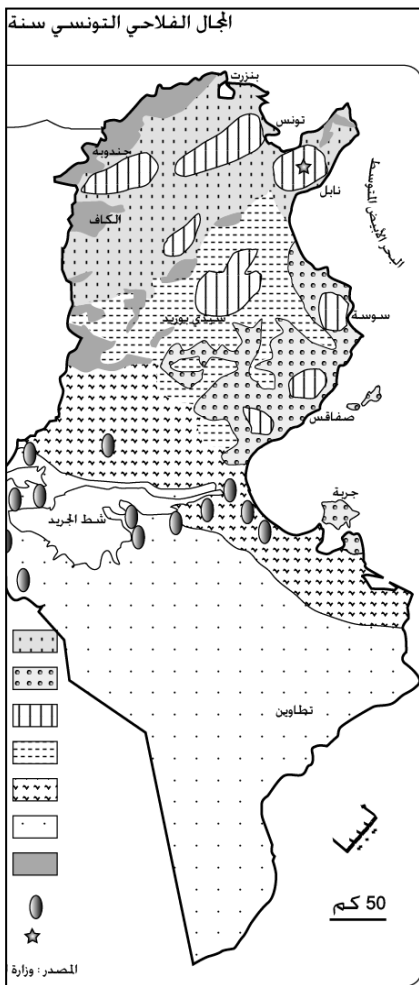
الرقم: .....

## القسم الأول (6 نقاط)

1 - أتمم سلم المراحل الكبرى للإصلاح الزراعي بالتعريف بها. (02)



2- أتعرف على مواقع إنتاج المواد التالية: (04)



## القسم الثاني (12 نقاط)

### الموضوع:

- تمثل الفلاحة ركيزة الاقتصاد التونسي، لذا حظيت منذ الاستقلال بعدة محاولات تعصير كان لها نتائج ايجابية. أحرر فقرة إنشائية متماسكة العناصر مستعينا بالأسئلة التالية
- \* أشير إلى مكانة الفلاحة في الاقتصاد التونسي. (02)
  - \* أستعرض مختلف مراحل الإصلاح الزراعي في تونس. (04)
  - \* أبرز محاولات تعصيره. (04)
  - \* المح إلى مميزات الوضع الغذائي بتونس. (02)

### التحرير

نقطتان لحسن الصياغة والتنظيم

الاسم واللقب: ..... القسم: 9 أساسي ..... الرقم: .....

**القسم الأول (6 نقاط)**

(1) أتم الجدول التالي حول انتشار الإنتاج الفلاحي التونسي (03).

المنطقة	الإنتاج الفلاحي
الشمال	.....
الوسط	.....
الجنوب	.....

(2) - أعرف المصطلحات التالية. (03)

..... ..... .....	قانون التأمين
..... ..... .....	التجربة التعاضدية

**القسم الثاني (12 نقاط)**

" فقرة تأليفية "

تمثل الفلاحة ركيزة الاقتصاد التونسي، لذا حظيت منذ الاستقلال بعدة محاولات تعصير كان لها نتائج ايجابية.

أحرر فقرة إنشائية متماسكة العناصر مستعينا بالأسئلة التالية

\* أشير إلى مكانة الفلاحة في الاقتصاد التونسي. (02)

\* أستعرض العوامل المفسرة لهذا التطور. (04)

\* أبرز نتائج ذلك على مستوى الإنتاج. (04)

\* المح إلى أبرز مشاكل الفلاحة التونسية. (02)



الاسم واللقب: ..... القسم: 9 أساسي ..... الرقم: .....

القسم الأول (6 نقاط)  
1- أتمم الرسم بربط الإصلاح بفتوته. (04)

مراحل الإصلاح
© الخمسينات
© الستينات
© السبعينات
© الثمانينات

- -الدولة تسوغ أراضيها للخواص ولشركات احياء فلاحي
- تصفية القطاع التعاضدي
- تأميم أراضي الأجانب
- اصلاح الهياكل العقارية
- ضم الأحباس وتمليك المستغلين للأراضي
- تطبيق سياسة التعاضد
- تحرير الفلاحة وتشجيع التخصيص
- تشجيع الشبان المستثمرين على الاستغلال الفلاحي

2- اعرّف المصطلحات التالية. (02)

..... ..... .....	نسبة التغطية
..... ..... .....	الأمن الغذائي

**الموضوع:**

تتباين النطاقات المناخية على مستوى الخصائص والغطاء النباتي ومن بينها النطاق المعتدل. أحرر فقرة انشائية متماسكة متبعا للتمشي التالي:

- في المقدمة: أذكر موقع النطاق المعتدل وأصناف مناخاته (02)
- في الجوهر: أبين خصائص النطاق المعتدل وتنوع الغطاء النباتي السائد فيه على اختلاف مناخاته (08)
- في الخاتمة: أمثل بالرسم المناطق الحرارية على سطح الأرض، وأشير الى عدم تشابه حالة الجو بكل الكرة الأرضية (02)

**التحرير**

نقطتان لحسن الصياغة والتنظيم