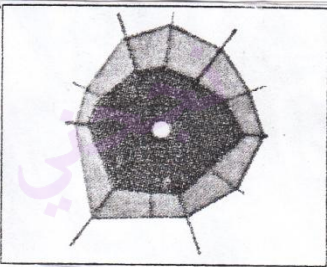



المربية: وفاء أم هاني السنة الخامسة	تقييم نهاية الثلاثي الثاني 2014	المدرسة الابتدائية أولاد عيوني
الاسم واللقب	جغرافيا	السنة الدراسية 2014/2013

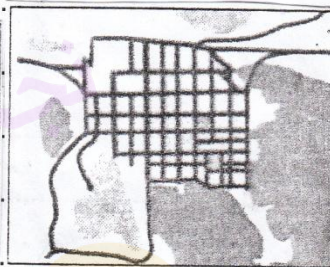
السنة 1 نَطَقْتُ مَدْرَسَتَنَا حَمَلَةً تَرَفِيهِمِيَّةً لِحَدِّ مَنَاطِقٍ مِنْ بِلَادِنَا قَرُنًا
عِدَّةً مُدُنٍ وَبَلَدَاتٍ صَغِيرَةٍ، وَفِي كُلِّ مَرَّةٍ نَأْخُذُ الْخَرِيْطَةَ لِتَعَرُّفٍ عَلَيَّ
حَظِّ سَيَّارٍ رَجَلْتَنَا.
التعليق 1 أكتب تحت كل مشهد نوع تصنيفه:



③



②



①

ل ل ل
100

التعليق 2 أضع في إطار الإفادة المناسب:

* من مقبيلات المشهد الحضري:

① ازدياد قطاع القبة السكانية

② ازدياد المساحات الخضراء

③ كثرة وسائل النقل وتنوعها

ل ل ل

100

السنة 2 وأكثرت مآخذ التباين في أن لكل مدينة نشاط بارز

يُصَيِّرُهَا عَنْ غَيْرِهَا مِنْ الْمُدُنِ

التعليق 3 أذكر نوع نشاط كل مدينة:

نشاط فلاحية - نشاط مالي - نشاط سياحية

.....	النشاط
سيدي بوزيد	العمامات	تونس العاصمة	المدينة

ل ل ل

100

التعليمة 4

أرّبط كل مدينة بموقعها على الخريطة:

- للا العاصمة * تقع على الساحل المشرق للبلاد *
 2.00 سيدي بوزيد * تقع قرب بحيرة تونس *
 الحمامات * تقع وسط البلاد *

التعليمة 5

لترّيف مقيّرات والمدينة خصائص
 لؤخبرت بين العيش في الريف والمدينة، فماذا تختار؟

عبارة 1
 لا ←

4.00

عبارة 2
 لا ←
 ماذا؟

* المعايير *

* جدول إسناد الأعداد *

400	300	200	100	
0	0	0	0	-
2,5	2	1	3 2 1	+
5	4	2	4	++
	6	3	6 5	+++

1.00 = فهم الوضعية

2.00 = تحليل الوضعية

3.00 = إنجاز الوضعية

4.00 = إضافة الذاتية