


أشرب على حل المسائل

المرئية سامية الوسائتي





الوضعية عدد 1

بمناسبة عيد ميلاد أمير اشترى العم كريم 16 بالوناً أحمرًا و 22 بالوناً

أصفرًا و 31 قبعة ورقية وحضر 25 ولدًا و 13 بنتًا.



ألون الأسئلة المناسبة للوضعية ثم أجب عنها



أحسب عدد القبعات التي اشتراها العم كريم

أحسب عدد البالونات التي اشتراها العم كريم

كم عدد البالونات الكبيرة؟

ما عدد الحاضرين في الحفلة؟



امتطى وسيم القطار للسفر إلى مدينة المهدية قصد زيارة بيت عمه.

هذه عربات القطار تحمل أعداد المسافرين



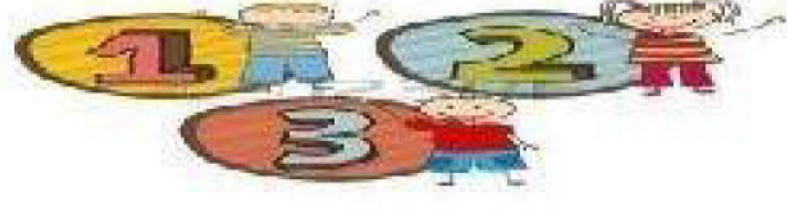
1: أحسب عدد المسافرين في العربة الأولى

2: أحسب عدد المسافرين في العربة الثانية

3:



المربية سامية الوسلاتي



يَمْلِكُ جَدِّي بُسْتَانًا كَبِيرًا فِيهِ أَشْجَارٌ مُتَّوَعَةٌ التَّمَارِ، وَهِيَ 42 شَجَرَةً خَوْخٍ وَ 33 شَجَرَةً تُفَاحٍ



أَمَّا أَشْجَارُ المَشْمَشِ فَعَددهَا هُوَ نَصْفُ عَدَدِ أَشْجَارِ الخَوْخِ

1- أكتب السؤال الثاني المناسب لهذه الوضعية

1: ما عدد أشجار المشمش؟

2:

2- أكمل تعبير الجدول بالمعطيات اللازمة




		المعطى اللفظي
42	←
33	←
	←	عدد أشجار المشمش



3-



في العُطلة زار أمير مزرعة خاله، توجّه إلى الزّريبة وعدّ الأُغنام فوجدَ



22 خروفاً و 13 كبشاً و 24 ماعزاً

نَجْهِنِي

أطرح سؤالاً مناسباً للوضعية



<u>العملية العمودية</u>	<u>الإجابة اللفظية:</u> <u>العملية الأفقية:</u>

المربية سامية الوسلاتي

المرببة سامية الرسالتي



بَاعَ الْفَلَّاحُ فِي الْيَوْمِ الْأَوَّلِ 20 كَيْسًا مِنَ الْقَمْحِ وَفِي الْيَوْمِ الثَّانِي أَكْثَرَ مِمَّا بَاعَهُ فِي الْيَوْمِ

الْأَوَّلِ بِـ 14 كَيْسًا



أَطْرَحِ الْأَسْئَلَةَ الْمُنَاسِبَةَ لِلْوَضْعِيَّةِ



.....

.....

.....

	الإجابة اللفظية:
	العملية الأفقية:





قال وسيم عندي 42 مي وزادني أمي هذه القطع



فهل أستطيع شراء بسكويت بـ 80 مي

ليعرف وسيم الإجابة عن سؤاله

سيبحث أولاً

	<p>.....</p> <p>.....</p> <p>.....</p> <p>.....</p> <p>.....</p>





عِنْدَ كُلِّ صَبَاحٍ يُعَادِرُ أَمِيرٌ وَسَمْرٌ مَنزِلَيْهُمَا بِاتِّجَاهِ الْمَدْرَسَةِ كَمَا يَبِينُهُ الرَّسْمُ



10 م

75 م



منزل أمير



منزل سمر

21 م

70 م

من يَصِلُ أَوَّلًا؟

لأجيب عن السؤال

سأبحث أولاً على.....

سأبحث ثانياً على.....

	<p>.....</p> <p>.....</p> <p>.....</p> <p>.....</p>



لأن

شَارَكَ فِي مَخِيْمٍ صَيْفِيٍّ فَوْجٌ مِنَ الْأَطْفَالِ يَتَأَلَّفُ مِنْ 45 وَلَدًا وَ 31 بِنْتًا



أَضَعْ عَلاَمَةَ (x) أَمَامَ السُّؤَالِ الْمُنَاسِبِ لِلوَضْعِيَّةِ



	أَحْسِبُ عِدَدَ الْبَنَاتِ فِي الْمَخِيْمِ
	أَحْسِبُ عِدَدَ الْأَطْفَالِ الْمَشَارِكِينَ فِي الْمَخِيْمِ
	مَا هُوَ الْعِدَدُ الْجَمَلِيُّ لِلْفَائِزِينَ؟

أُجِبْ عَنِ السُّؤَالِ الَّذِي اخْتَرْتُهُ بِطَرِيقَتَيْنِ



شَجَرَةُ الْحِسَابِ

المربية ميامية الوسلاتي

المربية سامية الوسلاتي



Illustration of a boy thinking, surrounded by coins (50, 20, 5) and items (donut for 60, candy for 25).

نص الوضعية

.....

.....

.....

.....



