

الاسم و اللقب:

تقييم مكتسبات التلاميذ في نهاية

دائرة غار الذماء 02
المدرسة الابتدائية الدورة
المربي: محمد نجيب كحلوي

السنة الأولى أ

رياضيات - ديسمبر 2020 -

السند 01:

في الصَّبَاحِ لَبَسَ بِلَالٌ مِیدَعَتَهُ ، وَوَضَعَ فِي مِحْفَظَتِهِ
الْجَمِيلَةَ كِتَابًا وَكِرَاسًا وَلَوْحًا.

التعليمية 01:

أَضَعُ فِي خَطِّ مُغْلَقٍ مَجْمُوعَةَ الْأَدْوَاتِ الْمَذْكُورَةِ فِي النَّصِّ.



مع اب

--	--	--

السند 02: تَوَجَّهَ بِلَالٌ نَحْوَ الْمَطْبَخِ لِتَنَاوُلِ فِطُورِ الصَّبَاحِ.



التعليمية 1: أَرَسُمُ قِطْعَةً تَحْتَ الطَّائِلَةِ.


التعليمية 2: أَحِيطُ مَا يُوجَدُ وَرَاءَ بِلَالٍ.

التعليمية 3: أَضَعُ عِلَامَةً (x) فَوْقَ الشَّخْصِ الْمَوْجُودِ عَلَى يَمِينِ الْأَبِّ

مع أ

--	--	--

حَمَلَ بِلَالٌ مَحْفَظَتَهُ وَ قَصَدَ الْمَدْرَسَةَ وَ فِي طَرِيقِهِ شَاهَدَ
وَسَائِلَ نَقْلِ مُتَنَوِّعَةٍ.



التَّعْلِيمَةُ 1:

* أَصْنِفْ وَسَائِلَ النَّقْلِ حَسَبَ خَاصِيَّةٍ اخْتَارَهَا وَ أَرْمِزْ لَهَا

التَّعْلِيمَةُ 2: أَلَوْنُ الْعِبَارَةِ الصَّحِيحَةِ

أَقَلَّ مِنْ

عَلَى قَدْرِ

أَكْثَرَ مِنْ

مَجْمُوعَةُ الدَّرَاجَاتِ

مَجْمُوعَةُ السِّيَّارَاتِ

مع 5

مع 1 ج

وَصَلَ بِلَالٌ إِلَى الْمَدْرَسَةِ وَسَلَّمَ عَلَى أَسْدِقَانِهِ بِحَرَارَةٍ



التَّعْلِيمَةُ 01: أَحِيطْ مَجْمُوعَةَ التَّلَامِيذِ وَارْمُزْ إِلَيْهَا

التَّعْلِيمَةُ 02: أَضَعُ الْعَلَامَةَ (x) أَمَامَ الْإِجَابَةِ الصَّحِيحَةِ

- الْمُدِيرُ يَنْتَمِي إِلَى مَجْمُوعَةِ التَّلَامِيذِ
- رَحَابٌ تَنْتَمِي إِلَى مَجْمُوعَةِ التَّلَامِيذِ
- الْمُعَلِّمَةُ لَا تَنْتَمِي إِلَى مَجْمُوعَةِ التَّلَامِيذِ

السند 05: خِلَالَ حِصَّةِ التَّرْبِيَةِ الشَّكْلِيَّةِ طَلَبَتِ الْمُعَلِّمَةُ مِنَ التَّلَامِيذِ رَسْمَ خُطُوطٍ مُخْتَلِفَةٍ

التَّعْلِيمَةُ 01: أَجْعَلْ الْخُطُوطَ الْمَفْتُوحَةَ مُغْلَقَةً



مع 1 ج

--	--

مع 1 أ

--	--	--

مع 4

--	--	--

السند 06: عند المساء توجه بلال رفقة أميرة إلى البحيرة المجاورة لمنزلهما.

التعليمة 01: أشطب الخطأ



مع 4

--	--	--

أميرة
الإوزة السوداء
الإوزة البيضاء

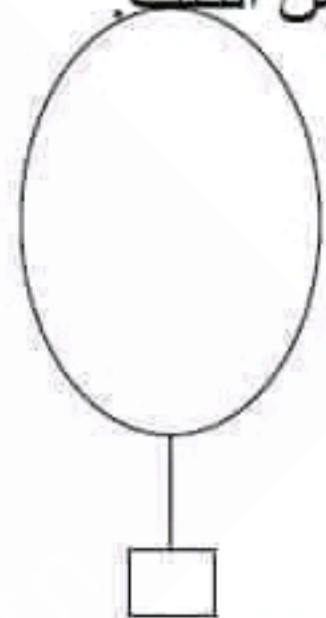
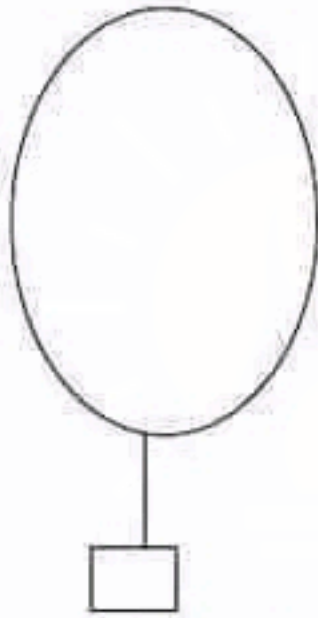
على يسار	على يمين
على يسار	على يمين
وراء	أمام

بلال
الإوزة البيضاء
البطة

التعليمة 02: أرسم مجموعة أقلام بها 4 عناصر و مجموعة فارغة من الكتب

مع 5

--	--



جدول إسناد الأعداد

مع 5	مع 4	مع 1 ج	مع 1 ب	مع 1 أ	
	0	0	0	0	انعدام التملك (---)
2	3-2-1	1	1	1.5-1-0.5	دون التملك الأدنى (--+)
3	4	2	2	2	التملك الأدنى (-++)
5	6-5	3	3	3-2.5	التملك الأقصى (+++)

امتحان الثلاثي الأول
مادة الإيقاظ العلمي

الاسم:
اللقب:
المتة الأولى

السند عدد 1: زار محمد وسلمان منزل الجدة فتوجه سلمان إلى الحديقة لإطعام الأرانب الصغيرة.



مع 1

التعليمة 1: أحيط بخط مغلق أصغر أرتب في الحديقة.

مع 1

التعليمة 2: أرسم جزراً على يمين أكبر أرتب.

مع 2

السند عدد 2: اشتتم محمد رائحة فواحة من مطبخ جدته فقصدته مسرعاً.

التعليمة 1: أضغ علامة (x) أمام الإجابة الصحيحة.



قصد محمد المطبخ.

لأن رائحة الطعام جذبته.

لأن جدته نادته.

مع 1

التعليمة 1-2: ألون العضو الذي استعمله محمد ليشتم رائحة الطعام.



التعليمة 1-3: اضع علامة تحت العنهد الذي يضر حاسة السمع لدى محمد.



مع 1

السند عدد3: دخل محمد المطبخ فسمع جدته تزد أغنيته المفضلة.



التعليمة 1: اربط بينهم.

الذنبه



استعمل محمد.



لسانه



مع 1

التعليمة 2: اربط اسم الحاسة التي استعملها محمد.

السمع

البصر

الشم

مع 1

السند عدد4: التحق سلمان سلمان بصديقه محمد إلى المطبخ ليعيد السلة إلى مكانها بعد أن أطعم الأرناب.

التعليمة 1: اصنع الخطاب: فوق- اليسرى - أكبر



يضع سلمان سلة الجزر تحت الخوض.

يضع سلمان سلة الجزر الخوض.

يُمسك محمد الملعقة بيده اليمنى.

يُمسك محمد الملعقة بيده.....

الطاوله اصغر من السلة.

الطاوله من السلة.

مع 3

السند عدد 5: جَلَسَتْ الْجَدَّةُ صُحْبَةَ مُحَمَّدٍ لِتَتَأَوَّلَ الطَّعَامَ عَلَى الطَّائِلَةِ وَقَرَّرَ سَلْمَانُ تَتَأَوَّلَ الْفَطُورَ أَمَامَ التِّلْفَازِ فَعَاتَبَتْهُ الْجَدَّةُ.



التعلیمة 1: اُكْمِلْ بِـ عَلَى يَمِينِ _ عَلَى يَسَارِ.

الجدَّةُ مُحَمَّدٍ.

مع 2

التعلیمة 2: أَرَسِمُ الْعَضْوُ الَّذِي اسْتَعْمَلَهُ سَلْمَانُ لِمُشَاهَدَةِ التِّلْفَازِ.



مع 2

التعلیمة 3: أَوِّنِ التَّعْلِيلَ الْمُنَاسِبَ.

عَاتَبَتْ الْجَدَّةُ سَلْمَانَ لِأَنَّ الْجُلُوسَ فِي مَكَانٍ قَرِيبٍ جَدًّا مِنَ التِّلْفَازِ يَضُرُّ بِـ :

خامسة البصر

خامسة الذوق

مع 2

جدول إسناد الأعداد

مع 3	
0	
3	2
5	

مع 2			مع 1			مستويات التعلك
0			0			- - -
4.5	3	1.5	3	2	1	+ - -
6			4			+ + -
9	7.5	6	6	5		+ + +