

الاسم:	تقييم مكتسبات المتعلمين في نهاية الثلاثي الأول رياضيات	المدرسة الابتدائية العربية
اللقب:		
سن 2		

السند 1 : خلال العطلة زار أمين ضيعة جده و تعرّف على بعض الأشجار المغروسة .
وجد أمين 27 شجرة برتقال و 38 شجرة تفاح .


التعليمة 1-1 : أحسب عدد الأشجار في الجملة .

- مع 1 ب
- مع 2 ب

التعليمة 1-2 : أرّب أعداد العملية تصاعديًا .

التعليمة 1-3 : واصل أمين جولته فرأى مجموعة من أشجار الإجاص

أصنّف مجموعة الفلال حسب نوعها .



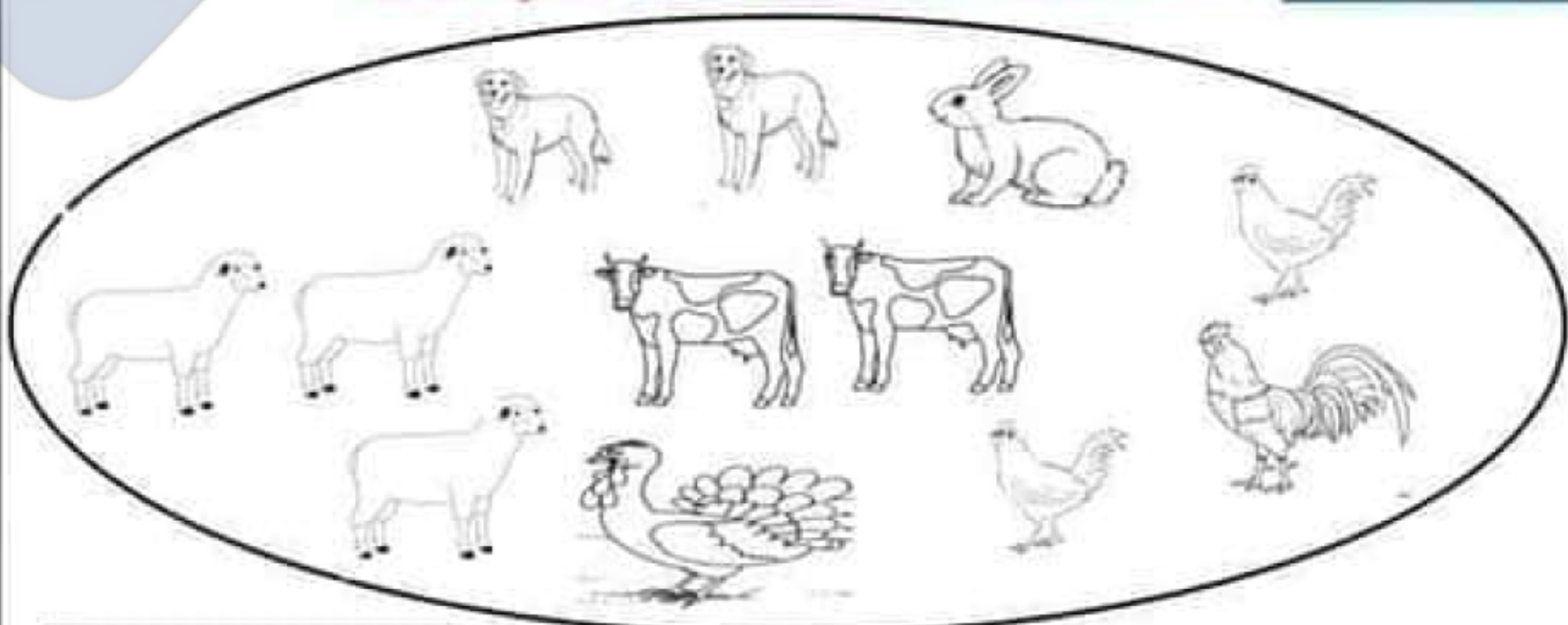
- مع 1 ب
- مع 2 ب

التعليمة 1-4 : أعبر عن التّجزئة بكتابة جمعيّة

..... + +

السند 2 : بعد ذلك تنقل أمين لمشاهدة الحيوانات الموجودة هناك

التَّعْلِيمَة 2-1: أَصْنِفِ الْخَيَوَانَاتِ التَّالِيَةَ حَسَبَ أَمَاكِنِ عَيْشِهَا.



مع 1

1 + 2 + 4 + 5

4 + 8

1 + 3 + 2 + 2 + 4

التَّعْلِيمَة 2-2: أَرِطِ الْمَجْمُوعَةَ الْكُلِّيَّةَ بِاللَّافِتَةِ الْمُنَاسِبَةِ لَهَا.

مع 1 ب

السند 3:

شَاهِدَ أَمِينُ فِي الْقِنِّ 17 دِيكًا وَعَدَدًا مِنْ الدَّجَاجِ يَفُوقُ عَدَدَ الدِّيَكَةِ بِ 13.

التَّعْلِيمَة 1-3: أِبْحَثْ عَنْ عَدَدِ الدَّجَاجِ .

مع 1 ب

مع 2 أ

مع 1 ب

مع 2 أ

مع 2 ب

التَّعْلِيمَة 2-3: أَحْسِبْ عَدَدَ الدَّوَّاجِنِ فِي الْجُمْلَةِ .

التَّعْلِيمَة 2-3: أَرِطِ أَعْدَادَ الْعَمَلِيَّةِ تَنَازُلِيًّا

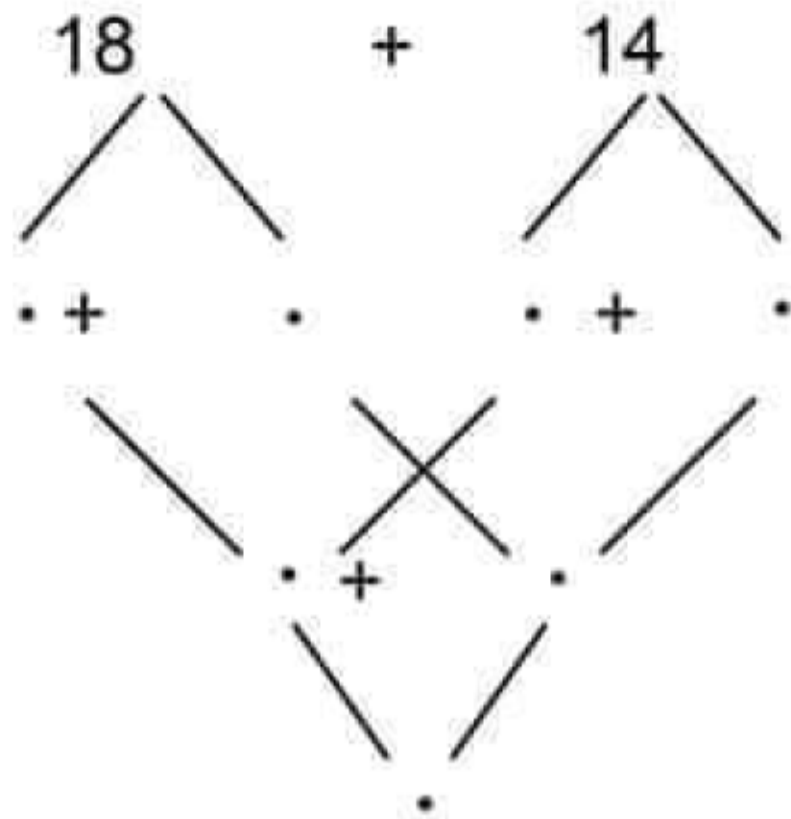
السند 4: فِي الْحَقْلِ أَعْجَبَ أَمِينُ بِالْأَزْهَارِ مُخْتَلِفَةِ الْأَلْوَانِ فَرَادَا أَنْ يَكُونَ

بَاقَةً يُهْدِيهَا لِجَدِّهِ وَجَدَّتِهِ .

قَطَفَ أَمِينُ 14 زَهْرَةً حَمْرَاءَ وَ 18 زَهْرَةً صَفْرَاءَ .

التعليمة 2-4: أساعد أمين على معرفة العدد الجملي للأزهار المكونة للباقة مستعملًا شجرة الحساب.

مع 2



السند 5: فرح الجدان بالباقة فقدمًا لحفيديهما هذه القطع النقدية.

التعليمة 1-5: أمثل المبلغ الذي قدمه الجد لحفيده بأقل عدد من القطع النقدية

مع 3

49 مي

التعليمة 2-5: أحسب المبلغ الذي تسلمته من جدته.

مع 3

5

10

5

5

10

2

التعليمة 3-5: أحسب المبلغ الذي تجمع عند أمين.

مع 1

مع 2

التعليمة 4-5: أكمل تمثيل المبلغ 86 مي

مع 3

86 مي

20

1

السند 6: جَمَعَ أَمِينُ نُفُودَهُ وَتَوَجَّهَ إِلَى أَقْرَبِ مَتَجَرٍ .

هَذِهِ الْمَبِيعَاتُ الَّتِي شَاهَدَهَا أَمِينٌ .



التَّعْلِيمَةُ 6-1: اِبْحَثْ عَنِ ثَمَنِ الْحَلْوَى وَالْبِسْكَوَيْتِ .

ثَمَنِ الْحَلْوَى وَالْبِسْكَوَيْتِ .

مع 2

التَّعْلِيمَةُ 6-2: ارْتَبِ أَعْدَادَ الْعَمَلِيَّةِ تَرْتِيبًا حُرًّا .

مع 2 ب

التَّعْلِيمَةُ 6-3: اخْتَارْ سُؤَالَ مُنَاسِبًا لِلْوَضْعِيَّةِ وَاجِيبْ عَنْهُ .

- احسب ثمن المرطبة
 احسب المبلغ المتبقي لامين
 هل يستطيع امين شراء الحلوى و المرطبة؟

مع 5

السند 7: عِنْدَ تَجَوُّلِهِ اتَّبَعَ أَمِينُ مَسَالِكَ مُخْتَلِفَةً .

- مِنَ الْمَنْزِلِ إِلَى الضَّيْعَةِ (مُسْتَقِيمٌ)
 مِنَ الضَّيْعَةِ إِلَى الْمَغَازَةِ (مُنْحَنٌ)
 مِنَ الْمَغَازَةِ إِلَى الْمَنْزِلِ (مُسْتَقِيمٌ ثُمَّ مُنْحَنٌ ثُمَّ مُسْتَقِيمٌ)

المنزل

التَّعْلِيمَةُ 7: ارْسُمْ الْمَسَالِكَ

الضيعة

المغارة

مع 4

جدول إسناد الأعداد

الحساب الذهني	معياري الدقة	معايير الحد الأدنى						المؤشرات
		مع 5	مع 4	مع 3	مع 2ب	مع 2أ	مع 1ب	
	ع 1: 2	0	0	0	0	0	0	العدم الضك
	ع 2: 2	1	1	0,5	0,5	0,5	0,5	دون التملك الأدنى
		2	2	1	1	1	1	التمك الأدنى
4	4	3	3	1,5	1,5	1,5	1,5	التمك الأقصى



الحساب الذهني

- ✓ مجموع 6 و 8 هو
- ✓ العدد الذي يسبق مباشرة العدد 39 هو
- ✓ العدد الذي يلي مباشرة 39 هو
- ✓ أتمم بزيادة 5 في كل مرة: 0 - - - 15 - 20