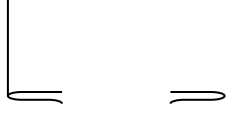


نَجْحِنِي



كراس عطلة الربيع لتلاميذ السنة الثالثة



تمارين

أحجيات



تسوية



رسم وتلوين



الرَّبِيعُ

حلّ فصل الربيع فأشرقت الشَّمْسُ و نَشَرَتْ
فِي الأَرْضِ
أشِعَّتَهَا و أنقشعت الغيوم و تَفَتَّحَتِ الزُّهُورُ و
ظَهَرَتْ
الفَرَاشَاتُ مِن جَدِيدٍ وَهِيَ مُحَلَّقَةٌ بَيْنَ زَهْرَةٍ
وَآخَرَى تَتَرَاقَصُ
فَرِحَةً

فِي الرَّبِيعِ يُصْبِحُ الخُرُوجُ فِي رَحَلَةٍ طَوِيلَةٍ شَدِيدًا
فِي قِمَّةِ المُنْتَعَةِ هَا هِيَ الأَعشَابُ الخَضَاءُ
تَغْطِي الأَرْضَ كَأَنَّهَا بَسَاطٌ أَخْضَرٌ بَدِيعٌ وَالمَاءُ
يَجْرِي خِلَالَهَا يَلْمَعُ مِثْلَ الفِضَّةِ وَزَهْوَرُ البِنْفَسِجِ
وَالقَرْنَفَلِ وَاليَاسْمِينِ تَزِينُهَا وَتَضْفِي عَلَيْهَا
مَسْحَةٌ مِنَ البَهَاءِ وَالسَّحَرِ وَالفَرَاشَاتُ الجَمِيلَةُ
تَتَنَقَّلُ فَوْقَهَا تَلْتَمِ الرِّحِيقُ فِي نَهْمٍ كَبِيرٍ وَالنَّسِيمُ
العَلِيلُ يَحْرِّكُهَا فِي رَفَقٍ مَتَّبِعًا أَلْحَانَ تَغْرِيدِ الطَّيُورِ
وَتَسْبِيحِهَا.

وَالحَقُولُ الشَّاسِعَةُ مِتْرَامِيَّةُ الأَطْرَافِ فَأَيْنَمَا
وَجَّهْتَ نَظْرَكَ لَا تَرَى إِلَّا مَا يَسْحَرُ العَيْنَ وَيُشْرِحُ
الصَّدْرَ وَيَشْتَفِّ الأُذُنَ، إِذْ هُوَ جَمَالُ الحَيَاةِ.

مَا أَبْهَى صَفَاءَ لَوْنِ السَّمَاءِ الأَزْرَقِ المُرِيحِ
لِلنَّفْسِ وَالمَجْدُ
لِشَدِّ مَسِيهِ التِّي لَا تَقْسُدُ، وَلنَسَدَ مَاتِ هَوَائِهِ
العَلِيلَةِ، وَلوُرُودِهِ
المَتَفَتِّحَةِ

أكتب تحت كلّ صورة الجملة الواردة في النصّ

المناسبة لها



.....

.....



.....

.....





مَنْ أَكُونُ ؟

أَنَا كائن حي **أعيش في البحار** والمحيطات
والأنهار أتنفس بخياشيمي وأتنقل بمساعدة
الزعانف تختلف ألواني ما بين الرمادي الفاتح،
والأحمر الزاهر، والبني الذي تشبه خضرة، إلى
الألوان القاتمة .

من أنا ؟

أرْسُمْني :



ك




ف

أ



ن

س






أَلُون



doryfr

ألون

نجدني



توجد المادّة في الطبيعة على ثلاث حالات

:

مادّة صلبة

مادّة سائلة

مادّة غازيّة

أشطب الخطأ

1 (المادّة الصلبة لها شكل ويمكن مسكها

2 (المادّة الصلبة ليس لها شكل ولا يمكن مسكها

أشطب الخطأ

1 (المادّة السائلة لها شكل ثابت ويمكن مسكها

2 (المادّة السائلة ليس لها شكل ثابت ولها حجم ثابت ولا يمكن مسكها

أشطب الخطأ

1 (المادّة الغازية ليس لها شكل ثابت ولا حجم ثابت ولا يمكن مسكها

2 (المادّة الغازية لها حجم ثابت

أكتب تحت كل صورة الطاقة المستعملة
طاقة هوائية - طاقة عضلية - طاقة ميكانيكية -
طاقة كهربائية



.....

.....



.....

.....

عدد أيام الأشهر

⑦ جويلية : 31 يوما

① جانفي : 31 يوما

⑧ أوت : 31 يوما

② فيفري : 28 يوما وفي
السنة الكبيسة 29 يوما

⑨ سبتمبر : 30 يوما

③ مارس : 31 يوما

⑩ أكتوبر : 31 يوما

④ أبريل : 30 يوما

⑪ نوفمبر : 30 يوما

⑤ ماي : 31 يوما

⑫ ديسمبر : 31 يوما


⑥ جوان : 30 يوما

Le printemps



Au printemps, les oiseaux chantent, les arbres bourgeonnent, les fleurs colorent la nature, les animaux sont amoureux et le soleil illumine nos journées.

j'écris une phrase du texte :




.....



.....

أي سمكة تسلك الطريق الصحيح؟



لعبة المتاهة

نَجِّنِي