

8 أساسي... الإسم..... القب:..... الرقم:.....	20 / .....	اختبار عدد 2 التربية التكنولوجية	المدرسة الإعدادية بالمنار 2
التاريخ: ...../...../.....	المدة الزمنية: 30 دقيقة	الأستاذ: ماهر القسطيني	

4

1

2

3

التمرين 1 : أكمل الفراغات بأرقام المساقط المناسبة.

..... / 4

..... / 4

التمرين 2 :

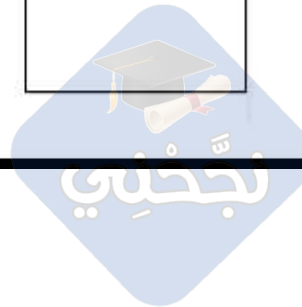
أ - أكمل كل فراغ باسم المسقط المناسب.

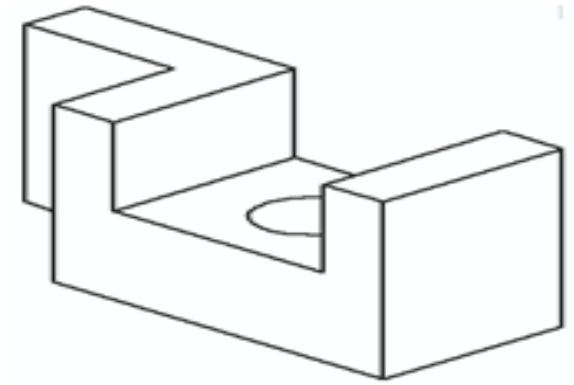
ب - أكمل رسم المسقطين الناقصين بأرقام :

\* المسقط رقم 3. / .....

12

\* المسقط رقم 4.

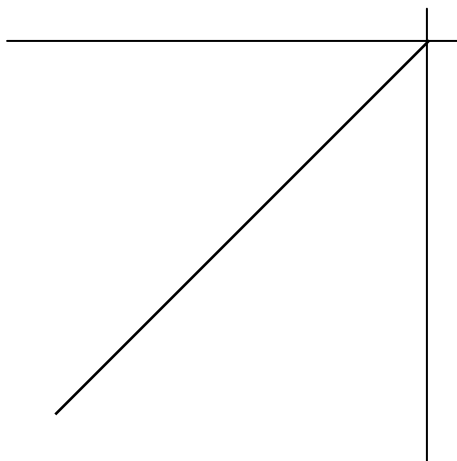
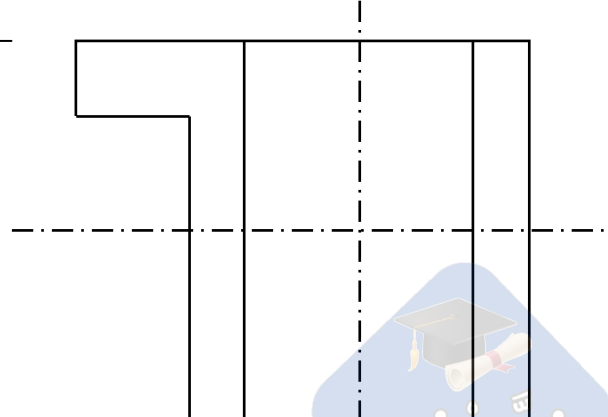
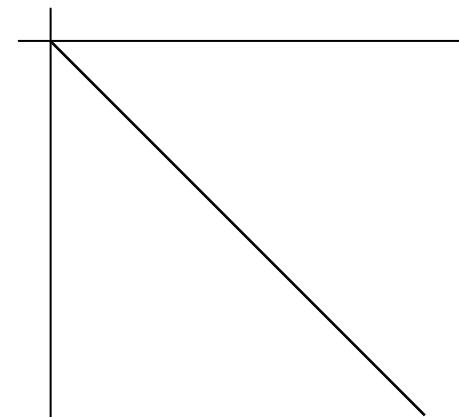
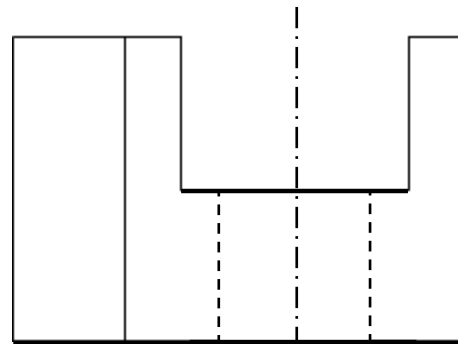





.....المسقط - 1

.....المسقط - 2

.....المسقط - 3



.....المسقط - 4

