

إختبار كتابي 2

تربية تكنولوجية

/20

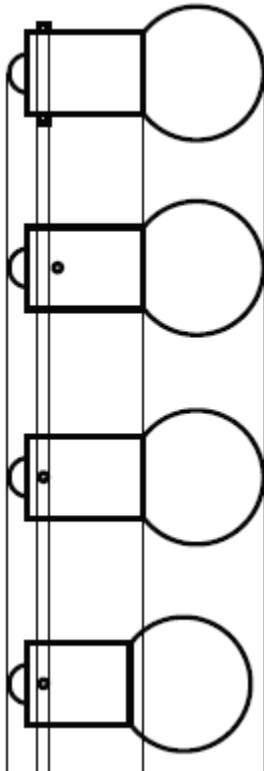
9 أساسي :

الضارب: 1

مدة الإنجاز: 30 د

التاريخ:

1- حدّد من بين الإقتراحات المقدمة المسقط اليساري للقلم و المسقط العلوي لمصباح رفاف السيارة الذي يقابل المسقط F وذلك بوضع علامة x في الخانة المناسبة.

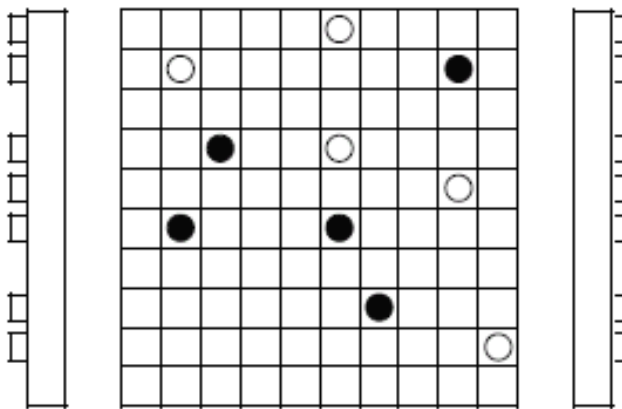
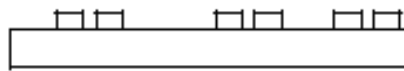


F

F

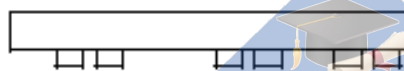


3



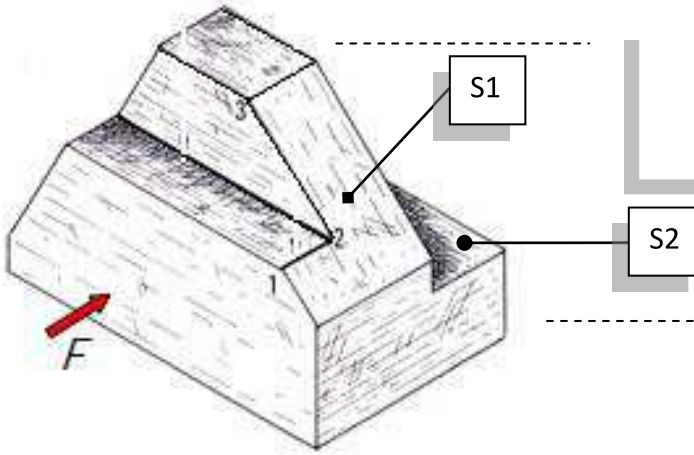
2- إعتد مبدأ الإسقاط المتعامد المشار إليه في السؤال الأول لتحديد الأشكال السوداء التي تظهر على المسقط الرأسي على بقية المساقط الأخرى مستعملا لونا موحد لكل جسم .

4.5



3- لاحظ الرسم المنظوري للقطعة المصنعة الموائية .

3-1- سمّ العمليات التقنية المنجزة S1 و S2.



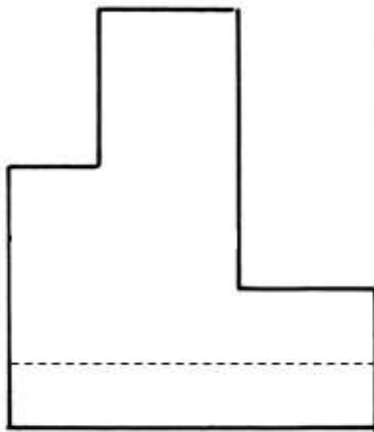
3- 2 - إستعن باتجاه النظر **F** وسمّ المساقط المقدمة لتعريف القطعة.

3- 3 - أكمل الحواف الظاهرة والمخفية على كل المساقط .

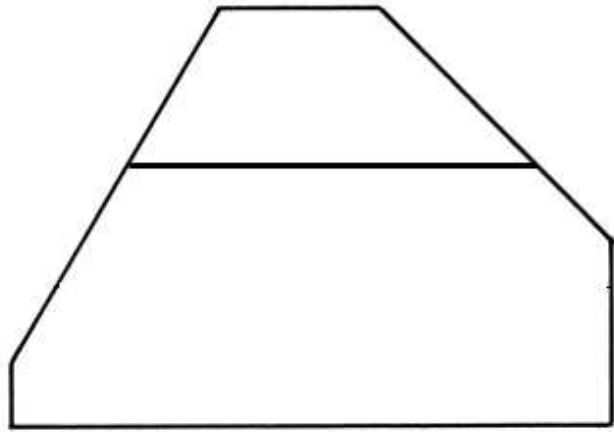
3- 4 - سجل النقاط (1)، (2) و (3) على كل المساقط .

3- 5 - وضح بنفس اللون السطح S1 على المساقط التي يكون فيها ظاهرا .

مسقط



مسقط



مسقط

