



الإسم و اللقب: / القسم: 3

السند 1: في نطاق الاستعداد للاجتماع باجتماع السنة الدراسية، عزمت
جمعية العمل التنموي على إقامة حفل مدرسي، يوم 30/6/2008
لتنويع النجباء من التلاميذ. أراد بعض التلاميذ المساهمة في
شراء بعض الجوائز فساهم مهدي و فتحي بالمبالغ التالية:

| مهدي | فتحي |
|-----------|--|
| |  |
| 7.785 م.م | 5000 م.م |

التعليمة 1-1: أكتب اسم الشهر المناسب.

2008 / 6 / 30



التعليمة 1-2: أمثل المبلغ الذي يملكه مهدي بأقل عدد
ممكن من القطع النقدية.

التعليمة 1-3: أكمل تمثيل المبلغ الذي يملكه
فتحي.

السند 2: شَرَى مَهْدِي 4 قِصَصِ عَرَبِيَّةٍ بِ 1680 مِ الْوَاحِدَةَ
وَشَرَى فَتْحِي 5 مَجْمُوعَاتِ هِنْدِيَّةٍ بِ 760 مِ الْوَاحِدَةَ
وَقَلَمَ جَبْرِ بِ 975 مِ

التعلیمة 2-1: أَحْسَبُ ثَمَنَ قِصَصِ الْعَرَبِيَّةِ
• ثَمَنُ قِصَصِ الْعَرَبِيَّةِ:

2.90
لا

$$= 4 \times 1680$$

=

1.90
لا

التعلیمة 2-2: أَحْسَبُ ثَمَنَ مُشْتَرِيَاتِ فَتْحِي

2.90
لا

التعلیمة 2-3: كَمْ بَقِيَ لِفَتْحِي؟

1.90
لا

2.90
لا

السند 3: لِلدُّقَابِ إِلَى الْمَدْرَسَةِ، يَقَطَعُ مَهْدِي 1 هِمًا وَ 5 دَكَمًا
وَيَقَطَعُ فَتْحِي 4 هِمًا وَ 7 مِ

التعلیمة 3-1: أَحْسَبُ الْمَسَافَةَ الَّتِي يَقَطَعُهَا كُلُّ تَلْمِذٍ بِالْمِثْرِ

3.90
لا

الْمَسَافَةُ الَّتِي يَقَطَعُهَا
فَتْحِي بِالْمِثْرِ

الْمَسَافَةُ الَّتِي يَقَطَعُهَا
مَهْدِي بِالْمِثْرِ

3.90
لا

4 هِمًا وَ 7 مِ

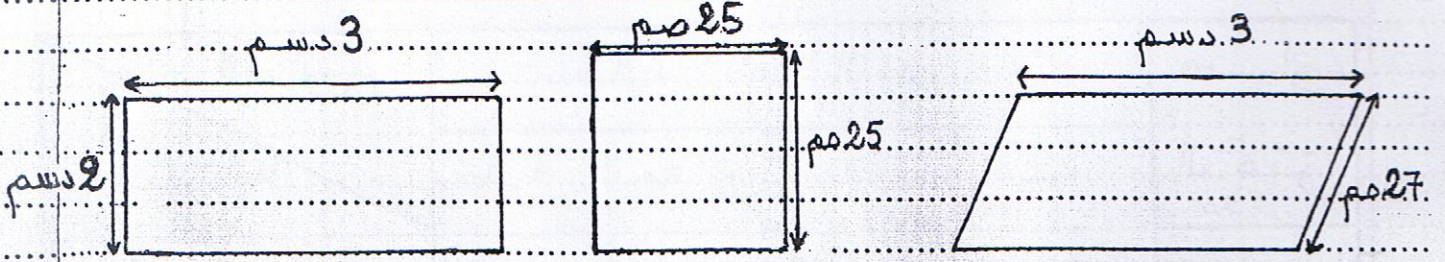
1 هِمًا وَ 5 دَكَمًا = مِ

التعلیمة 3-2: مَا هِيَ الْمَسَافَةُ الَّتِي يَقَطَعُهَا التَّلْمِذَانِ يَوْمًا ذَهَابًا وَإِيَابًا؟

لا

• الْمَسَافَةُ الَّتِي يَقَطَعُهَا التَّلْمِذَانِ يَوْمًا
ذَهَابًا وَإِيَابًا:

السند 4: أعدّ التلاميذ لوحات تشكيلية تصممت رؤوسًا:



التعليمة 4-1: أضع علامة (x) تحت المُستطيل.

التعليمة 4-2: أبحث عن قيس محيط المربع بالصم.

التعليمة 4-3: أبحث عن قيس محيط المُستطيل بالصم.

السند 5: أراد كريم أن يساهم في الجفل، فذهب إلى المكتبة ويخبره 9500 مبي، واشترى مجموعة قصص بـ 5350 مبي، وأراد شراء مريكة بالمبلغ المتبقي فقال: «لو أضفت للمبلغ المتبقي 285 مبي لأشترت المريكة».

التعليمة 5-1:

• ما هو ثمن المريكة؟

5 م

جدول إلتزام الأقساء

| مصارف | مصاريف الحد الأدنى | | | | المصاريف |
|----------|--------------------|------|------|------|--------------------------------|
| | 4.00 | 3.00 | 2.00 | 1.00 | |
| المصاريف | | | | | مستويات التملك |
| 0 | 0 | 0 | 0 | 0 | 1. زودام التملك (---) |
| 2 | 1 | 1.05 | 1.5 | 1.5 | 2. دون التملك الأدنى (-- +) |
| 3 | 2 | 2.15 | 3 | 3 | التملك الأدنى (-+++) |
| 5 | 3 | 3.25 | 4.5 | 4.5 | التملك الأقصى (++++) |