

الإدارة الجهوية للتعليم بالمنستير

مدرسة طريق رمادة

دائرة المنستير 3

تقييم مكتسبات التلاميذ

في مادة الرياضيات مكتبة الخدمات
السنة الدراسية 2010/2011
الثلاثي الثالث



أمام جامع الثوبة المنستير

الاسم و اللقب :

سن: 2 / أ ب






يوم: / / 2011 / العدد: 0 /

فِي الْعِطْلَةِ قَرَّرَ ثَلَاثُ إِخْوَةٍ الدَّهَابَ إِلَى الشَّاطِئِ لِلنُّزْهَةِ. وَ قَبْلَ الْخُرُوجِ كَمَّرُوا حَصَالَتَهُمْ فَوَجَدُوا:

أحمد	ثريا 785 مي	مراد 625 مي
		
أحسب مبلغ أحمد	أكمل تمثيل المبلغ	أمثل المبلغ ب 6 قط
مي		

مع 3

خِلَالَ النُّزْهَةِ تَوَجَّهَ الْأَطْفَالُ إِلَى الْبَائِعِ فَوَجَدُوا قَائِمَةَ الْمَعْرُوضَاتِ التَّالِيَةِ

عصير	مثلجة	كوكا	مرطبة	شكلاطة
				
215 مي	225 مي	200 مي	375 مي	350 مي

مع 2 أ

شَرَى أَحْمَدُ مَرَطِبَةً وَ مَثَلَجَةً.
أَحْسَبُ ثَمَنَ مُشْتَرِيَاتِ أَحْمَدَ

مع 1

مع مكتبة الخدمات والمبلغ المتبقي عند أحمد

نجاهني

أمام جامع الثوبة المنستير

1 مع
وَشَرَّتْ ثُرَيَّا سُكْلَاطَةَ وَ مَرْطَبَةَ
أَحْسَبُ ثَمَنَ مُشْتَرِيَاتِ ثُرَيَّا

مع 2 أ

مع 2 ب

أَمَّا مُرَادٌ فَقَدْ شَرَى كَعَكَةً وَ عَصِيرًا
أَحْسَبُ ثَمَنَ مُشْتَرِيَاتِ مُرَادٍ .

مع 2 أ

مع 1

مع 2 ب

أَحْسَبُ الْمَبْلَغَ الْمُتَبَقِّي عِنْدَ مُرَادٍ .

عِنْدَ الدَّخُولِ إِلَى الْبَائِعِ اخْتَارَ أَحْمَدُ مَرْطَبَةً عَلَى شَكْلِ خُمَاسِي أَضْلَاجٍ .
الرَّسْمُ هَذَا الشَّكْلُ

وَ ثُرَيَّا اخْتَارَتْ مَرْطَبَتَهَا عَلَى هَذَا الشَّكْلِ



أَكْتُبُ اسْمَ هَذَا الشَّكْلِ

مع 4

أَمَّا مُرَادٌ فَقَدْ كَانَ شَكْلُ عُلْبَةِ عَصِيرِهِ عَلَى شَكْلِ سُبَاعِي أَضْلَاجٍ
أَكْمَلُ هَذَا الرَّسْمَ



أَمَّا الْأَخُ الْأَصْغَرُ سَامِي فَقَدْ أَرَادَ شِرَاءَ لَعِبٍ بَحْرِيَّةٍ ثَمَنُهَا 975 مِي
عَدَّ نَقُودَهُ فَوَجَدَ أَنَّهُ يَنْقُصُهُ 230 مِي

مكتبة الخدمات

امام جامع التوبة المنستير

أَضَعْ عَلامَةَ (x) أَمَامَ السُّؤَالِ الْمُنَاسِبِ :

- مَا هُوَ ثَمَنُ الدَّمِيَّةِ؟
- مَا هُوَ الْمَبْلَغُ الَّذِي كَانَ يَمْلِكُهُ سَامِي؟
- مَا هُوَ مَبْلَغُ سَلْمَى وَ كَرِيمِ؟

مع 5

الْجَوَابُ :

الْعَمَلِيَّةُ :

حِسَابُ ذَهْنِي

جدول إسناد الأعداد

مستويات التملك	مع أ	مع 2 أ	مع 2 ب	مع 3	مع 4	مع 5	حساب ذهني
انعدام التملك (- - -)	0	0	0	0	0	0	0
دون التملك الأدنى (- - +)	0.5	1	1	1	0.5	2	1
التملك الأدنى (- + +)	1	2	2	2	1	2	*3
التملك الأقصى (+ + +)	1.5	3	3	3	1.5	4	4



مكتبة الخدمات

امام جامع التوبة المنستير