

المدرسة الابتدائية
شارع غزة هوان
المنستير

تقييم مكتسبات التلاميذ
في مادة الرياضيات
الثلاثي الثالث

الاسم:
اللقب:
القسم: 3.

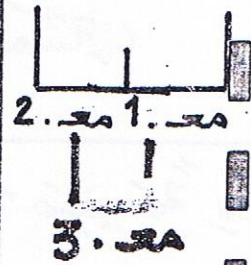
2009

جوان

يوم

كَلَّفَ مَنَشِطَ نَادِي "كُورَالِ الْأَطْفَالِ" بِمَدْرَسَتِنَا الْمُنْخَرِطِيَّةِ
بِتَوْفِيرِ زِيٍّ مُوَحَّدٍ مُتَكَوِّنٍ مِنْ قَمِيصٍ وَتَبَّانٍ وَذَلِكَ لِتَقْدِيرِ
عُرُوضِ بِمُنَاسَبَةِ عِيدِ الطُّفُولَةِ.
يُبَاعُ الْقَمِيصُ بِ 5 د ، وَالتَّبَّانُ بِ 4 600 م.

1. أَحْسِبْ ثَمَنَ الزِّيِّ (الْقَمِيصِ وَالتَّبَّانِ).




قَرَّرَتْ أُمُّ هِشَامٍ أَنْ تَكْلِفَ خِيَاطَةً بِإِعْدَادِ زِيٍّ مُمَازِلٍ
لِذَلِكَ شَرَتْ 2 م مِنَ الْقَمَاشِ بِ 2 145 م فِي الْمِثْرِ الْوَاحِدِ، وَ6 أَزْرَ
بِ 230 م فِي الْزِرِّ الْوَاحِدِ، وَدَفَعَتْ 3 500 م فِي أَجْرَةِ الْخِيَاطَةِ.


2. أَحْسِبْ ثَمَنَ شِرَاءِ الْقَمَاشِ.




3. أَحْسِبْ ثَمَنَ شِرَاءِ الْأَزْرَارِ.



4. أَحْسَبُ ثَمَنَ كُفَّةِ الزِّيِّ .



5. أَحْسَبُ الْمَبْلَغَ الَّذِي وَفَّرْتَهُ الْأُمُّ بِالنِّسْبَةِ إِلَى ثَمَنِ الزِّيِّ جَاهِزًا .




أَعَدَّتِ الْخِيَاطَةُ 5 أَزْيَاءَ مُمَاتِلَةٍ .

6. أَحْسَبُ طُولَ الْقَمَاشِ اللَّازِمِ لِخِيَاطَةِ الْأَزْيَاءِ الْخَمْسَةِ ،
بِالدِّكْمِ . $5 \times 2 = \dots$ دكْم



وَقَرَّرَتْ إِدَارَةُ الْمَهْرَجَانِ لِلْحَاضِرِينَ 175 صَفِيحَةً مِنْ
الْعَصِيرِ سِبْعَةَ الْوَاحِدَةِ 4 ل .

7. أَحْسَبُ كِمِّيَّةَ الْعَصِيرِ الْجَمَلِيَّةِ بِاللِّتْرِ .

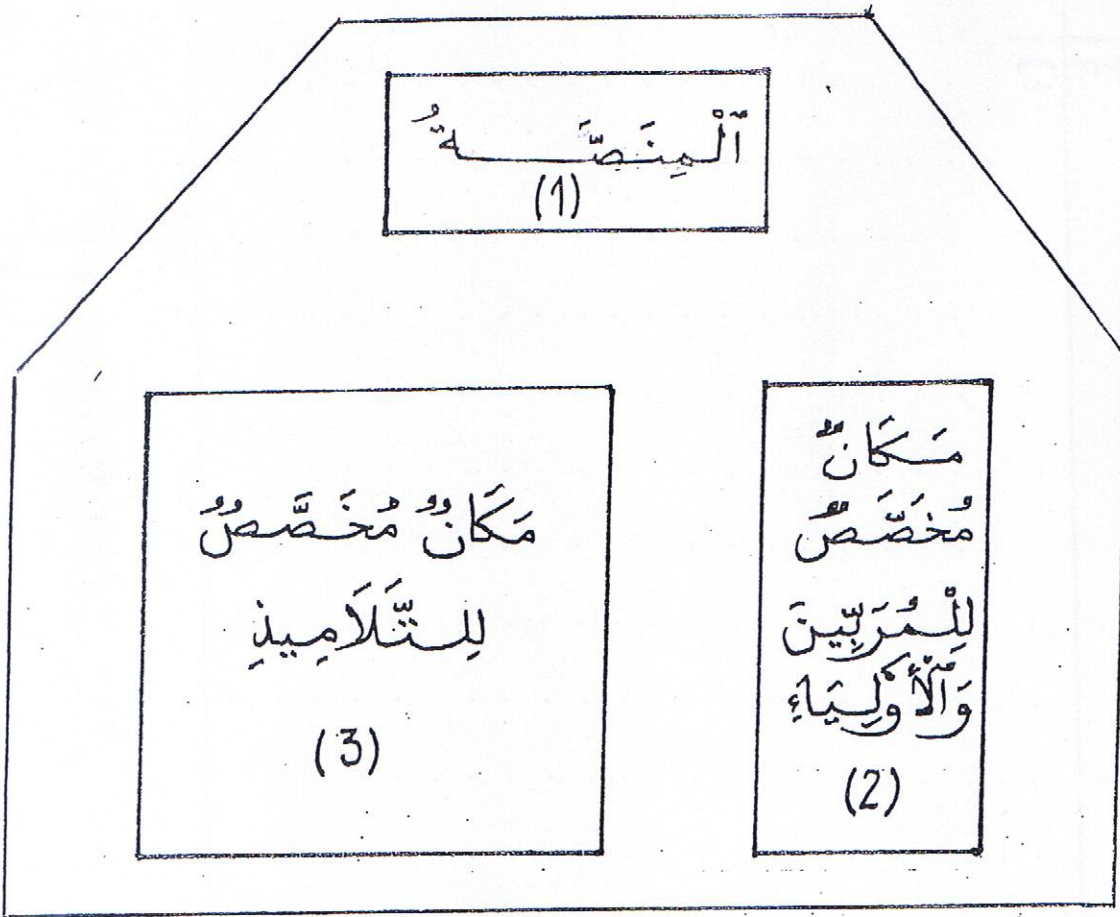


8. أُحْوِلُ النَّيِّجَةَ إِلَى الْمَلِ .
..... ل = هَل



انْتَضَمَتِ الْعُرُوضُ بِقَاعَةِ الْأَفْرَاحِ .
(أَنْظُرْ تَصْمِيمَ الْقَاعَةِ بِالصَّفْحَةِ الْمُوَالِيَةِ .)





9. أقيس محيطات الأشكال المرقمة، وأسجل النتائج في الجدول التالي.

الشكل	قيس طول محيطه بالصم
1	
2	
3	



لتجميل المنصة، شري المشرف على العروض 6 م من أشرطة الزينة بـ 640 مي المتر الواحد، وكيسا من التفاحات ثمنه يقل عن ثمن الأشرطة بـ 1750 مي.

10 ما هو المبلغ الجملي الذي أنفقه المشرف؟

بسم الله الرحمن الرحيم

5.

Blank writing area with horizontal lines and a dotted midline for handwriting practice.



بسم الله الرحمن الرحيم
 جامع التوبة