

ند 1  
صالح حفل به 3 أنواع من الأشجار  
جان الخوخ وعمدتها 289 شجرة  
جان التفاح وقفا أقل من الخوخ بـ 64 شجرة  
الأشجار المشمش قففي أكثر من أشجار  
شاح بـ 139 شجرة  
خليفة 1: أجب عن عمدة أشجار التفاح  
خليفة 2: أجب عن عمدة أشجار المشمش  
خليفة 3: أجب عن عمدة الأشجار في الجملة

العمل

الحل

120

120

120

120

120

120

120

مكتبة الخصال  
أمام جامع التوبة  
المنستير

سند 2: دَجَمْعُ الشَّابَةِ حَمَلُ الْعَمِّ صَالِحُ الصَّنَائِدِ  
الشَّابَةِ وَالَّتِي كَانَتْ عَدَدُهَا 468 مُنْدُوقًا  
وَدَ الْخَرِيفِ الْأَوَّلِ بِتَمْفِ الْكَيْتِيَّةِ  
وَدَ الْخَرِيفِ الثَّانِي بِ 204 مُنْدُوقًا  
لِيَمَّة 1: مَا هُوَ تَمْفُ الْخَرِيفِ الْأَوَّلِ ؟  
لِيَمَّة 2: أُنْحَسَا عَنْ عَدَدِ الصَّنَائِدِ الَّتِي تَبَاعَتْهَا  
لِيَمَّة 3: كَمْ تَبَقِيَ آتِي ؟

العمل

الحل


120  
120  
120  
120  
120  
120  
120

سند 3: الْخَرِيفُ الْأَوَّلُ الْكَبِيرُ عَن رَأْسِ الْوَأَجَدِ مَنْ كَانَتْ  
تَابَعَتْ كَسَالِ الثَّانِي



مكتبة الخدمات  
 أمام جامع التوبة  
 لتسليم

بأقل عدد ممكن  
 من القطع



للا  
 3

990 مبي

896 مبي


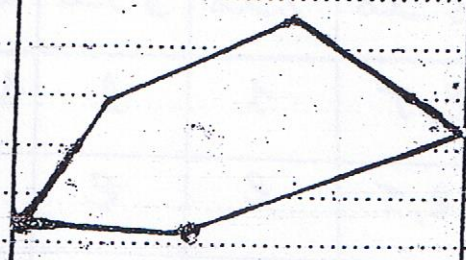
1 كغ من التفاح

1 كغ من الخوخ


من المشمش

ند 4  
 كتف الحم صالِح بِحِجْرِ اسك الأشجار المنيرة  
 سيب بل زرع تحض الحشور ايت كالفل  
 ظما يلج والفجل في أحوالها أشكال  
 تسيخ مختلفة

للا  
 4.90



أسماء  
 الأسماء



أسماء

مكتبة الخدمات

س  
م

السند 5 بساعة راسي جده في اعداد الأجر المأم الجامع

(1) شاعظه 3 فطاح تقديته من نفس الفئه قيتنما  
الجمليه أكثر من 100 وأخر من 200  
ماهو هذا المبلغ  
أرتسم الفطاح التقديته التي تمثل المبلغ

السند 6 أرتسم طلبت منه أن يبحث عن العدد المجهول

(2) عدد يتكون من 3 أرقام (مجموع أرقامه 12  
ورقم عشراته يساوي 3 أرقام أحاده أكثر  
من رقم مئاته ب 1  
ماهو هذا العدد



530	420	320	220	120
2,5	1	1	1 - 1/2	2 - 1
2,5	2	2	1,5	3
5	3	3	2,5 - 2 - 5 - 4 3	

