

المستوى: 7 إعدادي  
الزمن: 30 دقيقة  
الإسم: .....  
اللقب: ..... القسم: .....

فرض مراقبة عدد 1 في مادة

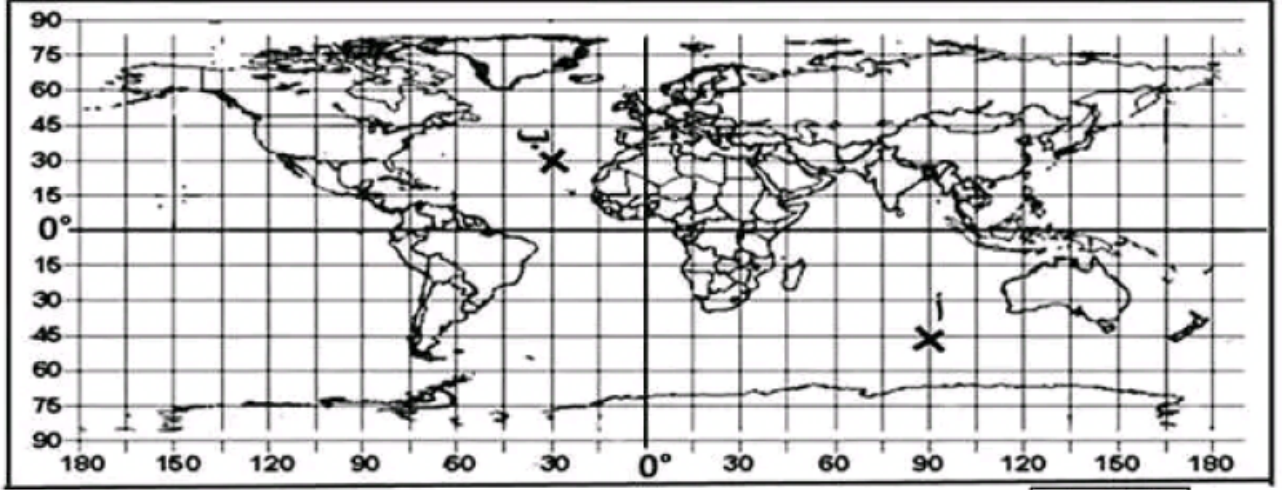


الجغرافيا



إعدادية العهد الجديد بالعالية  
السنة الدراسية: 23 - 2024  
الأستاذ: محمد الحبيب ألقاي

I - 1) تحديد إحداثيات و رسم مواقع على شبكة الإحداثيات الجغرافية (5 ن)



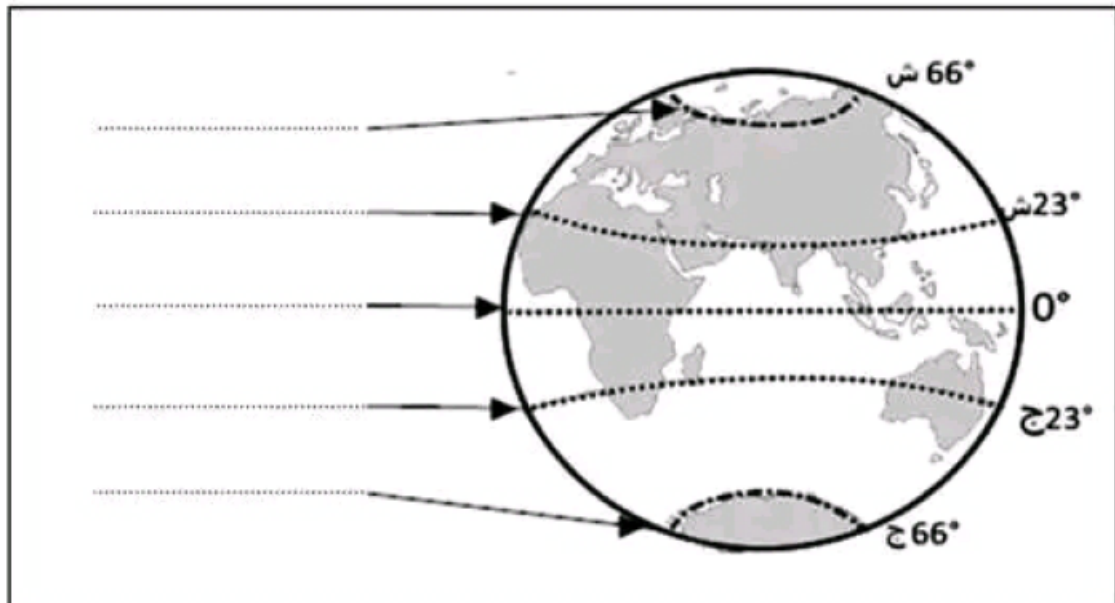
المطلوب:

أحدد الإحداثيات الجغرافية للموقعين أ و ب

\* أ : خط العرض ..... خط الطول .....  
\* ب : خط العرض ..... خط الطول .....

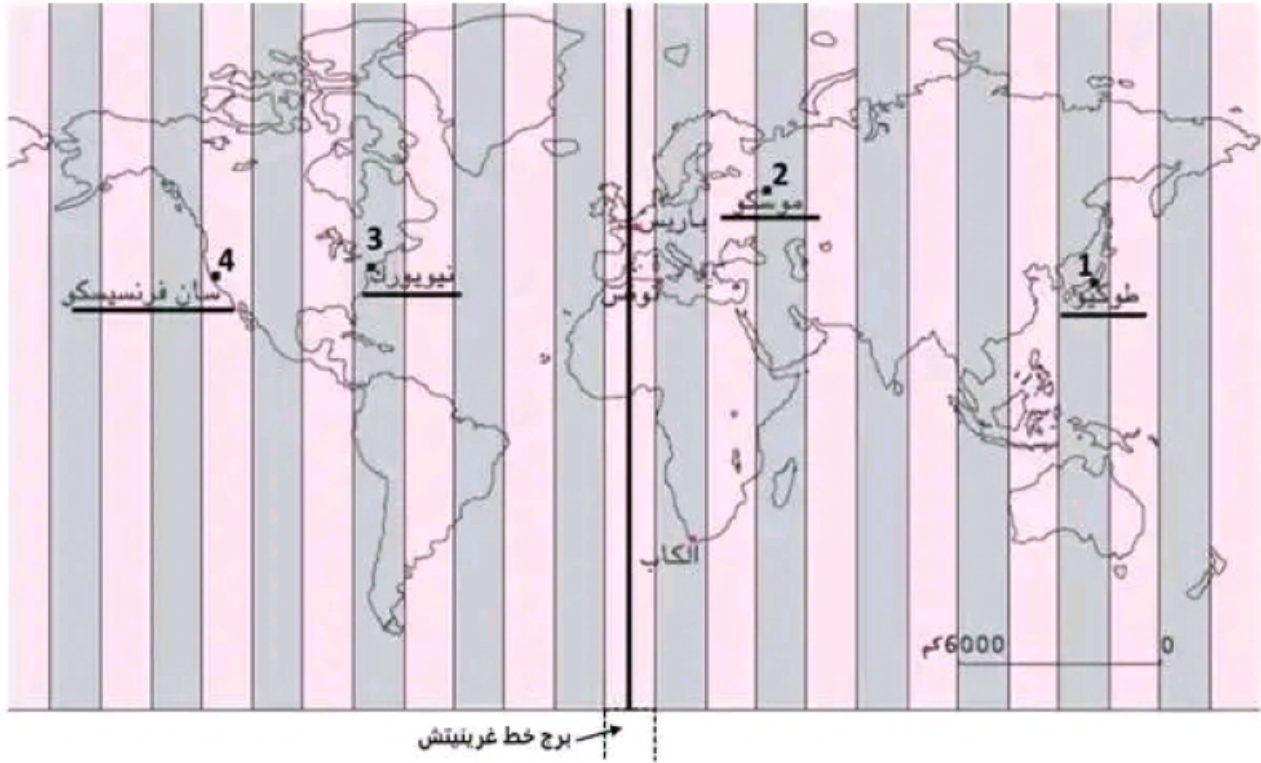
أرسم علامتين (X) على الشبكة للموقعين : ج = 60° شمالا ، 120° شرقا د = 30° جنوبا ، 150° غربا

I-2) أكتب في الفراغات الأسماء المناسبة لخطوط العرض الرئيسية (2.5 ن)



## -II التعامل مع وثيقة جغرافية (10.5 ن)

أتمعن في الخريطة ثم أجيب عن الأسئلة المرتبطة بها



1 - تستعمل الخريطة أعلاه لتحديد التوقيت ، أذكر التسمية الدقيقة لهذه الوثيقة (1.5 ن)

.....

2- أكمل الفراغات باختيار العبارات المناسبة ( يتقدم / يتأخر / شرق / غرب ) في علاقة باختلاف التوقيت على سطح الأرض (3 ن)

\* توقيت مدينة نيويورك ..... على توقيت برج خط غرينيتش لأنها تقع ..... هذا البرج

\* توقيت مدينة موسكو ..... على توقيت برج خط غرينيتش لأنها تقع ..... هذا البرج

3- أحدد توقيت المدن التالية اعتمادا على توقيت غرينيتش المرجعي = الساعة 13 (6 نقاط)

1 \* طوكيو : .....

2 \* موسكو : .....

3 \* نيويورك : .....

4 \* سان فرانسيسكو : .....