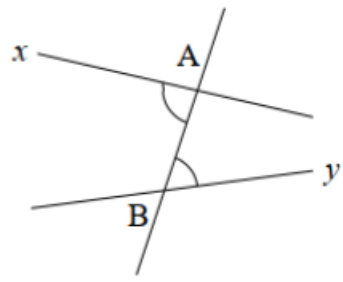


الدرس 2: الزوايا الحاصلة عن مستقيمتين متوازيين و قاطع لهما

1 الزوايا المتبادلة داخليًا

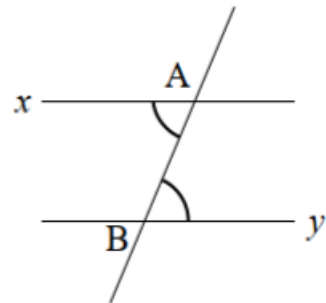
تعريف:



$x\hat{A}B$ و $y\hat{B}A$ هما زاويتان متبادلتان داخليًا.



قاعدة: كل زاويتين متبادلتين داخليًا و حاصلتين عن مستقيمتين متوازيين و قاطع لهما هما متقايستان.



و $x\hat{A}B$ و $y\hat{B}A$ هما زاويتان متقايستان لأنهما زاويتين متبادلتين داخليًا و حاصلتين عن مستقيمتين متوازيين هما (Ax) و (By) و قاطع لهما هو (AB) .

ملاحظة: زاويتان متتامتان هما زاويتان مجموع قيسهما 90° .

تطبيق:

- 1. ABC مثلث قائم في A بحيث $AB = 4\text{ cm}$ و $\hat{ABC} = 30^\circ$.
- (1) ارسم زاوية BCx مجاورة و متممة لـ \hat{ACB} .
- (2) بين أن $(AB) \parallel (Cx)$.
- (3) جد مع التعليل $x\hat{CB}$.

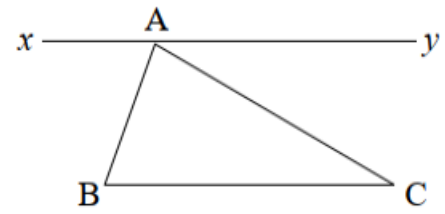
تمرين منزلي:

$ABCD$ متوازي أضلاع بحيث $AB = 4\text{ cm}$ ، $AD = 3\text{ cm}$ و $\hat{BAD} = 50^\circ$ ،
 $[Ax]$ منصف \hat{BAD} يقطع $[DC]$ في E .

- (1) جد مع التعليل الزاويتين \hat{EAB} و \hat{DEA} .
- (2) بين أن المثلث DAE متقايس الضلعين.



نشاط: في هذا الرسم: $(BC) // (xy)$



حدّد مع التعليل الزوايا المتقايسة.

قاعدة: مجموع أقيسة زوايا مثلث تساوي 180° .

مثال: إذا كان بمثلث زاويتان قيسهما 50° و 60°

فإنّ قيس زاويته الثالثة يساوي $180^\circ - (50^\circ + 60^\circ) = 180^\circ - 110^\circ = 70^\circ$.

تطبيق:

ABC مثلث بحيث $BC = 5\text{ cm}$ ، $\hat{ABC} = 20^\circ$ و $\hat{ACB} = 50^\circ$.

E نقطة من $[BA)$ لا تنتمي إلى $[AB]$ ،

جد مع التعليل الزاويتين \hat{BAC} و \hat{EAC} .

ملاحظة: زاويتان متكاملتان هما زاويتان مجموع قيسهما 180° .

قاعدة: مجموع زوايا رباعي تساوي 360° .

مثال: إذا كان برباعي ثلاث زوايا قيسها 40° ، 65° و 110°

فإنّ قيس زاويته الرابعة يساوي $360^\circ - (40^\circ + 65^\circ + 110^\circ) = 360^\circ - 215^\circ = 145^\circ$.

تمرين منزلي:

ABC مثلث بحيث $BC = 5\text{ cm}$ ، $\hat{ABC} = 50^\circ$ و $\hat{ACB} = 30^\circ$.

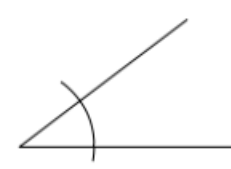
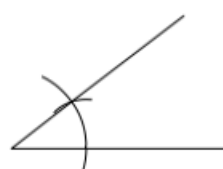
(1) احسب قيس \hat{BAC} .

(2) D بحيث $ABCD$ متوازي أضلاع،

جد مع التعليل قيس الزوايا \hat{ACD} ، \hat{DAC} و \hat{ADC} .

3

بناء زاوية مقياسة لزاوية أخرى:





ابن $[Bt]$ بحيث $\hat{A}Bt$ متبادلة داخليًا و مقايسة لـ $\hat{B}Ax$.

الخاصية العكسية: كل زاويتين متبادلتين داخليًا و متقايستين هما زاويتان حاصلتان عن مستقيمين متوازيين و قاطع لهما.

تطبيق:

ABC مثلث بحيث $BC = 5\text{ cm}$ ، $\hat{A}BC = 60^\circ$ و $\hat{A}CB = 50^\circ$ ،

(1) $[Ax]$ منصف $\hat{A}BC$ ، جد مع التعليل $\hat{x}AC$.

(2) D بحيث $ABCD$ متوازي أضلاع و $[Cy]$ منصف $\hat{A}CD$ ،

جد مع التعليل $\hat{A}Cy$.

(3) بين أن $(Ax) // (Cy)$.

تمرين منزلي:

xAy زاوية منفرجة قياسها 140° و $[Az]$ منصفها،

B من $[Ax]$ و C بحيث $[Az]$ بحيث $AB = BC$.

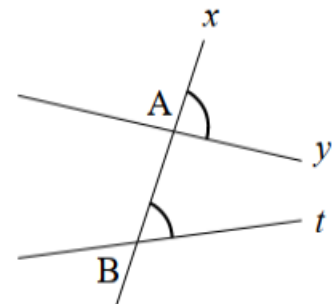
(1) جد مع التعليل $\hat{B}CA$ و yAz .

(2) بين أن $(BC) // (Ay)$.

— 4 —

2 الزوايا المتماثلة

تعريف:



$\hat{A}Bt$ و $x\hat{A}B$ هما زاويتان متماثلتان.



$x\hat{A}y$ و $AB\hat{t}$ هما زاويتان متقايستان.

تطبيق:

$ABCD$ متوازي أضلاع بحيث $AD = 3\text{ cm}$ ، $AB = 5\text{ cm}$ و $D\hat{A}B = 50^\circ$.

- (1) جد مع التعليل ABC .
- (2) منصف ABC يقطع $[AD]$ في E و (CD) في F .
- أ- جد مع التعليل الزوايا $F\hat{D}E$ ، $F\hat{E}D$ و $E\hat{F}D$.
- ب- حدد نوع المثلث FED .

تمرين منزلي:

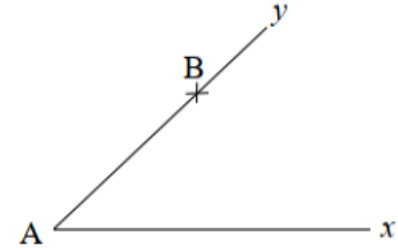
ABC مثلث بحيث $BC = 5\text{ cm}$ ، $A\hat{B}C = 70^\circ$ و $A\hat{C}B = 40^\circ$.

Δ المتوسط العمودي لـ $[BC]$ يقطع (AC) في E .

- (1) جد مع التعليل $E\hat{B}C$.
 - (2) $[Ey]$ بحيث $y\hat{E}B = 180^\circ$ ، و $[Ex]$ موازي لـ (BC) بحيث $x\hat{E}C$ مجاورة لـ $C\hat{E}B$.
- جد مع التعليل الزاويتين $y\hat{E}x$ و $x\hat{E}C$. استنتج.

5

تنشيط:



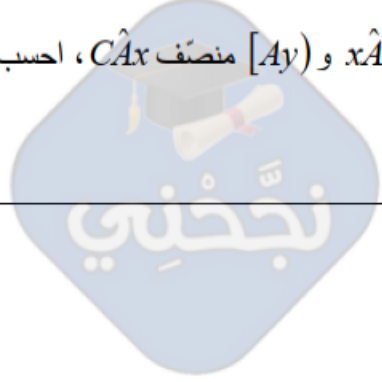
ابن (Bt) بحيث $yB\hat{t}$ متماثلة و مقايسة لـ $B\hat{A}x$.

الخاصية العكسية: كل زاويتين متماثلتان و متقايستان هما زاويتان حاصلتان عن مستقيمين متوازيين و قاطع لهما.

ABC مثلث متقايس الضلعين في A بحيث $BC = 4\text{ cm}$ و $\hat{ABC} = 50^\circ$ ،
 من $[AB]$ في E و من $[AC]$ في F بحيث $\hat{AEF} = 50^\circ$.
 بين أن $(EF) \parallel (BC)$.

تمرين منزلي:

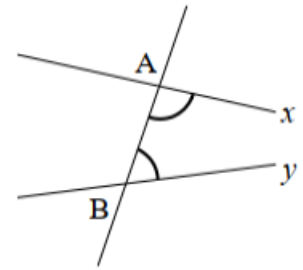
- ABC مثلث متقايس الضلعين في A بحيث $AB = 3\text{ cm}$ و $\hat{BAC} = 120^\circ$.
- (1) احسب \hat{ABC} .
 - (2) ليكن $[Ax]$ بحيث $\hat{xAB} = 180^\circ$ و $[Ay]$ منصف \hat{CAx} ، احسب \hat{yAx} .
 - (3) بين أن $(Ay) \parallel (BC)$.



6 —

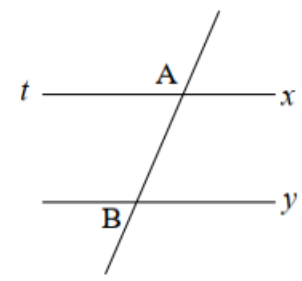
3 الزوايا الداخليّة من نفس الجهة

تعريف:



\hat{xAB} و \hat{ABy} هما زاويتان داخليّتان من نفس الجهة.

نشاط: في هذا الرّسم $(tx) \parallel (By)$.



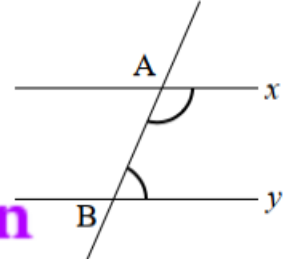
- (1) حدّد نوع الزاويتين \hat{yBA} و \hat{tBA} ؟ علّل إجابتك.
- (2) بين أن \hat{yBA} و \hat{BAx} متكاملتان.

قاعدة: كلّ زاويتين داخليّتين من نفس الجهة و حاصلتين عن مستقيمين متوازيين و قاطع لهما هما متكاملتان.

\hat{xAB} و \hat{ABy} هما زاويتان متكاملتان

لأنّهما داخليّتين من نفس الجهة و حاصلتين عن مستقيمين متوازيين

هما (Ax) و (By) و قاطع لهما هو (AB) .



$ABCD$ شبه منحرف بحيث $AB = 6 \text{ cm}$ ، $AD = 3 \text{ cm}$ ، $\hat{BAD} = 80^\circ$ و $\hat{ABC} = 60^\circ$.
احسب \hat{CDA} و \hat{BCD} .

و الخاصية العكسية: كل زاويتين داخليتان من نفس الجهة و متكاملتان هما زاويتان حاصلتان عن مستقيمين متوازيين قاطع لهما.

تطبيق:

$ABCD$ رباعي بحيث $AB = 4 \text{ cm}$ ، $\hat{BAD} = 110^\circ$ ، $AD = 3 \text{ cm}$ ، $\hat{ADC} = 70^\circ$ و $DC = 3 \text{ cm}$.
(1) بين أن $(AB) \parallel (DC)$.
(2) حدّد نوع الرباعي $ABCD$.

تمرين منزلي:

$ABCD$ متوازي أضلاع بحيث $AB = 5 \text{ cm}$ ، $AD = 3 \text{ cm}$ و $\hat{BAD} = 50^\circ$.
(1) احسب \hat{ABC} .
(2) E نقطة من $[DC]$ بحيث $\hat{ABE} = 60^\circ$ ، احسب \hat{EBC} .
(3) جد مع التعليل \hat{ECB} و \hat{BEC} .