

الإسم:..... اللقب:.....		الفرص التأليفي ع1 دد المادة: التربية التكنولوجية		المدرسة الإعدادية سهلول حمام سوسة
العدد المسند: 20	الرقم:..... القسم:9...	الضارب: أ	التوقيت: ساعة واحدة	التاريخ:.....

التمرين الأول:

1 - تتنوع آراء و اختيارات أفراد مكتب الدراسات في ترتيب وظائف الخدمات. فقرر مدير المؤسسة أن يستند الجميع إلى هذا الاختيار. ابحث عن القيمة و النسبة المئوية لكل وظيفة.

النسب المئوية	مجموع النقاط	وت5	وت4	وت3	وت2	وت1	ورا
		3) 1 ورا	3) 1 ورا	3) 1 ورا	2) 1 ورا	3) 1 ورا	ورا
		2) 1 ورا	3) 1 ورا	2) 1 ورا	3) 1 ورا	1 ورا	
		3) 2 ورا	2) 2 ورا	3) 3 ورا	2 ورا		
		3) 3 ورا	2) 3 ورا	3 ورا			
		3) 5 ورا	4 ورا				
		5 ورا					
		المجموع					

2 - أنجز الرسم البياني لترتيب الوظائف

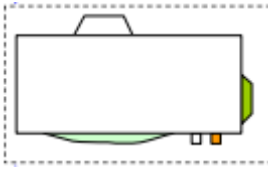


3 - كراس الشروط الوظيفي تحتوي على: (ضع في إطار العبارات الصحيحة)

- ✧ تقديم عام للمنتج
- ✧ التعبير عن الحاجة
- ✧ مستندات المؤسسة المصنعة
- ✧ تحديد خاصيات وظائف الخدمات
- ✧ شحن الشرط و الوظائف
- ✧ إطار الصنع
- ✧ تضخيم وظائف الخدمات
- ✧ ترتيب وظائف الخدمات
- ✧ التعبير الوظيفي
- ✧ قرارات لجان التأديب

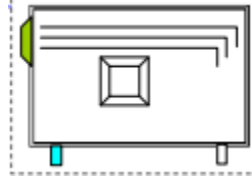


1- أذكر أسماء المساقط التالية منطلقين من الرسم رقم ①



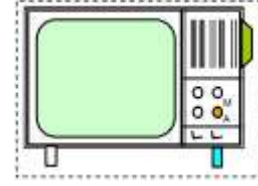
③

.....



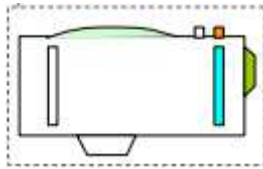
②

.....



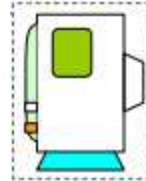
①

المسقط الأمامي



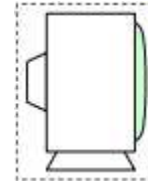
⑥

.....



⑤

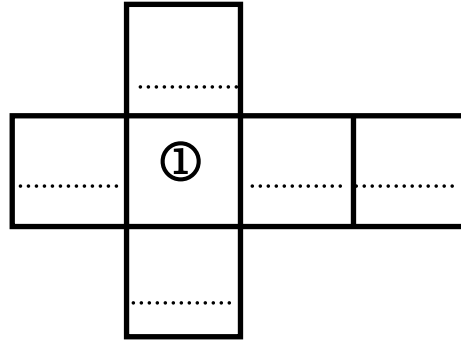
.....



④


.....

- حدد مواقع هذه المساقط حسب هذا المدرج بكتابة الرقم المناسب.

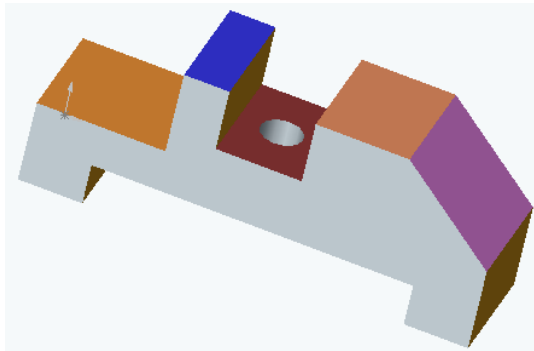
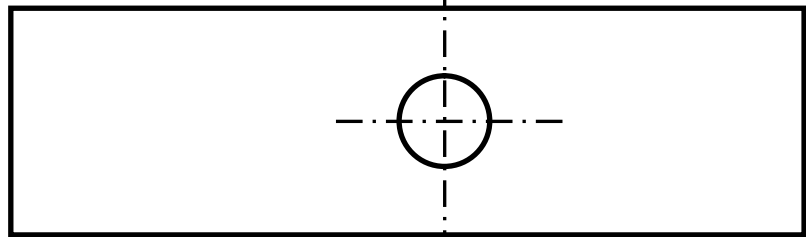
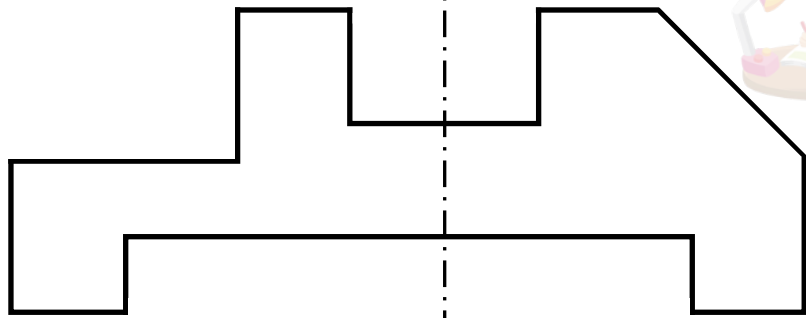



2 - أكمل رسم المساقط التالية:

- المسقط الأمامي
- المسقط اليساري
- المسقط العلوي



3 - أكمل رسم المساقط التالية:

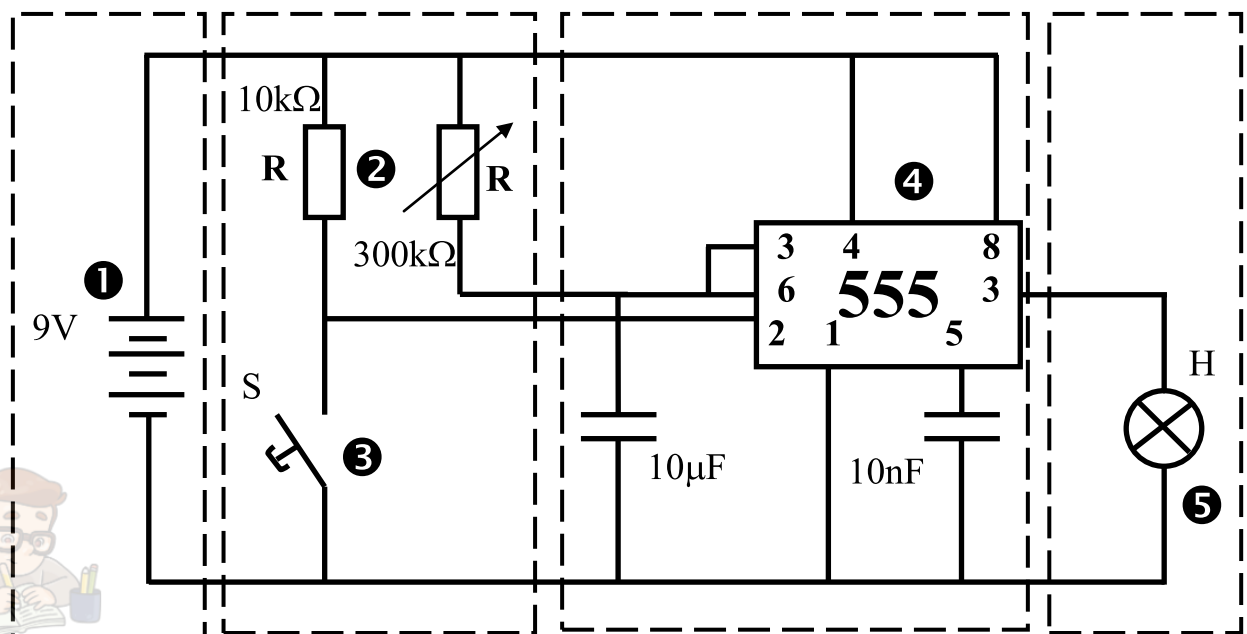


التمرين الثالث:

1 - ما هي نوع الإشارة المناسبة في هذه الأجهزة؟

نوع الإشارة	الأجهزة
.....	فرن
.....	مكواة
.....	غسالة
.....	الحاسوب

2 - حدد في هذا الرسم أسماء الأجزاء:



.....



3- اذكر أسماء المكونات المرقومة في الجدول:



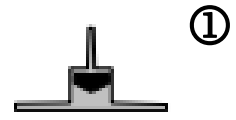
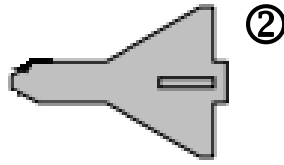
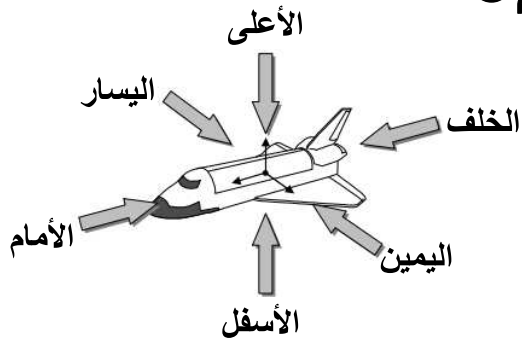
..... -1
..... - 2
..... -3
..... - 4
..... -5

4 - اذكر الأجهزة التي تستعمل عنصر التوقيت بوضع علامة في الخانة المناسبة

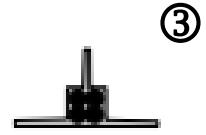

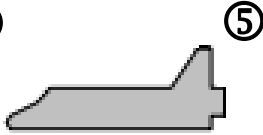

- | | |
|--|--|
| <input type="checkbox"/> مكيف | <input type="checkbox"/> تلفاز |
| <input type="checkbox"/> آلة ثقب كبيرة | <input type="checkbox"/> آلة قطع المعادن |
| <input type="checkbox"/> مصعد كهربائي | <input type="checkbox"/> فرن |



1- أذكر أسماء المساقط التالية منطلقين من الرسم رقم ①

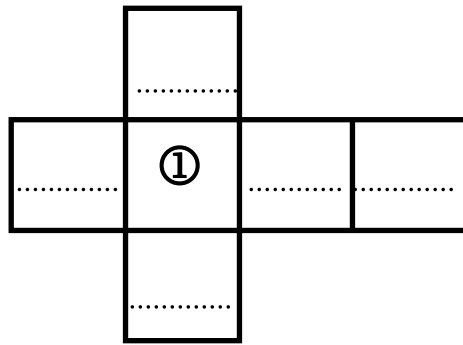


المسقط الأمامي



2.5

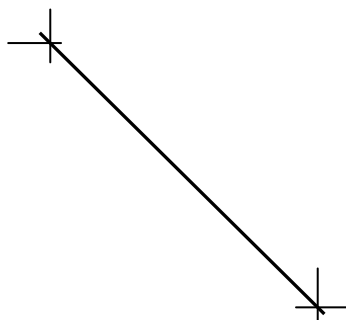
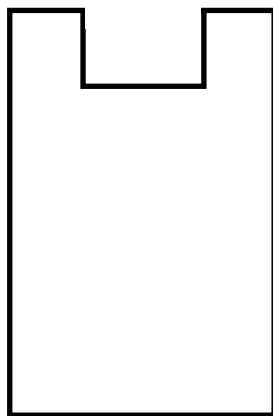
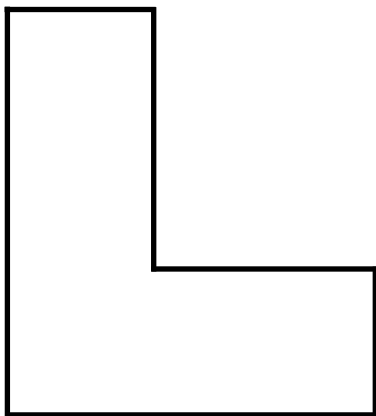
- حدد مواقع هذه المساقط حسب هذا المدرج بكتابة الرقم المناسب.



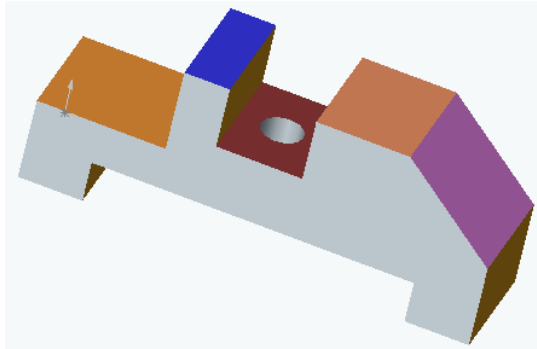
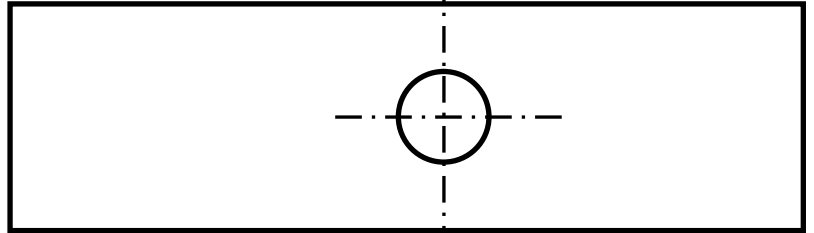
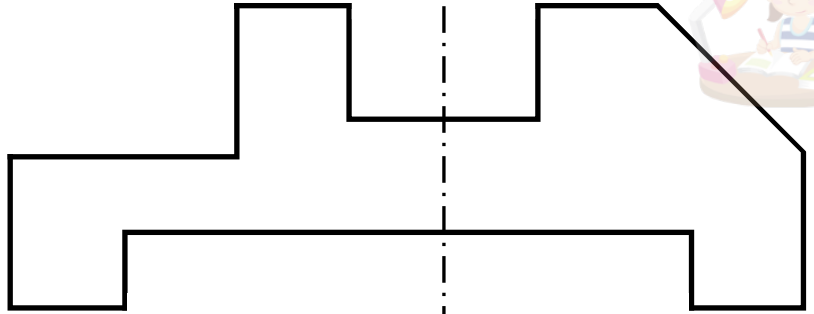

2 - أكمل رسم المساقط التالية:

- المسقط الأمامي
- المسقط اليساري
- المسقط العلوي

2.5



3 - أكمل رسم المساقط التالية:



التمرين الثالث:

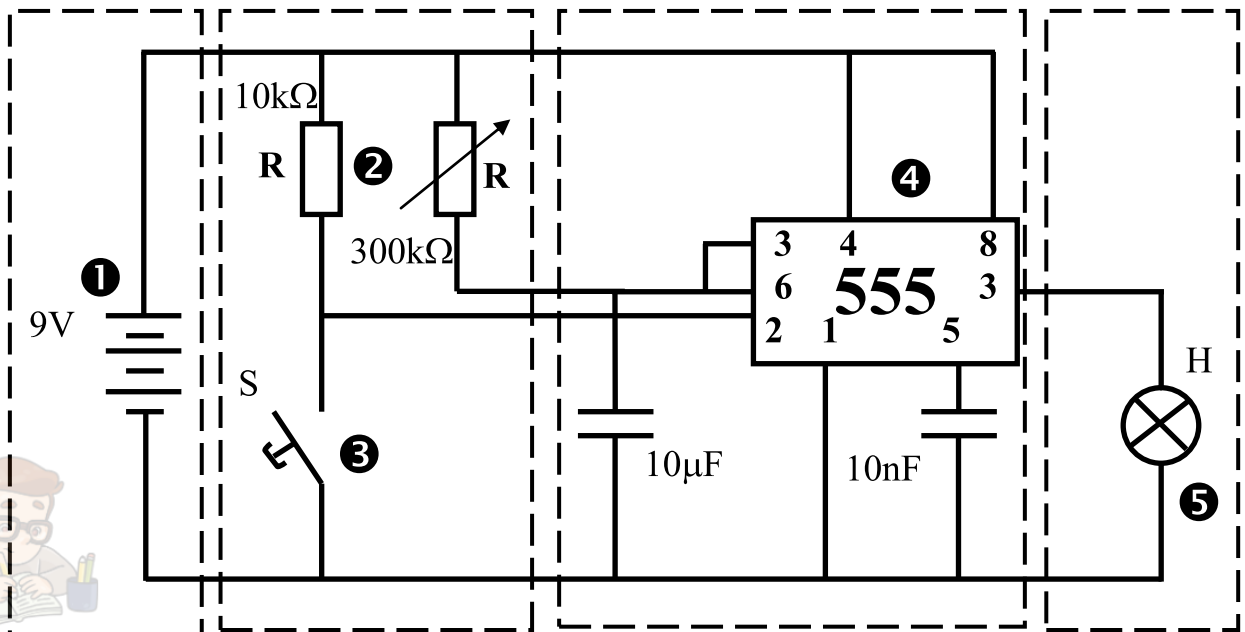
1 - ما هي نوع الإشارة المناسبة في هذه الأجهزة؟

1

نوع الإشارة	الأجهزة
.....	جهاز إنذار ضد تسرب الغاز
.....	دراجة عادية
.....	جهاز لشحن البطاريات
.....	جهاز المولتي متر لمعرفة الناقلية الكهربائية

2 - حدد في هذا الرسم أسماء الأجزاء:

2



.....



3- اذكر أسماء المكونات المرقومة في الجدول:



..... -1
..... - 2
..... -3
..... - 4
..... -5

4 – اذكر الأجهزة التي تستعمل عنصر التوقيت بوضع علامة في الخانة المناسبة

- | | |
|--|---|
| <input type="checkbox"/> ميزان الكتروني | <input type="checkbox"/> جهاز قيس حرارة الانسان |
| <input type="checkbox"/> آلة ثني البلاستيك | <input type="checkbox"/> آلة طهي المأكولات |
| <input type="checkbox"/> مصعد كهربائي | <input type="checkbox"/> آلة التشكيل الحراري |

