

/20

التوقيت: 60 دقيقة

## فرض تأليفي ك 2 عدد في مادة التكنولوجيا

المدرسة الإعدادية  
أولاد صالح  
2024 / 2023

الأستاذ: محمد المشرقي

الاسم: ..... اللقب: ..... القسم: 7 أساسي ... الرقم: ....



المنح:  
لائحة توجيه الطريق

تقديم:

تفتقد المدرسة الإعدادية لأولاد صالح لافتات توجيه الطريق. لحل هذا الإشكال و في إطار مشروع القسم، أراد تلاميذ 7 أساسي إنجاز هذه اللافتة مستعينين بما درسوه في مادة التكنولوجيا.

### أنواع الرسوم التقنية

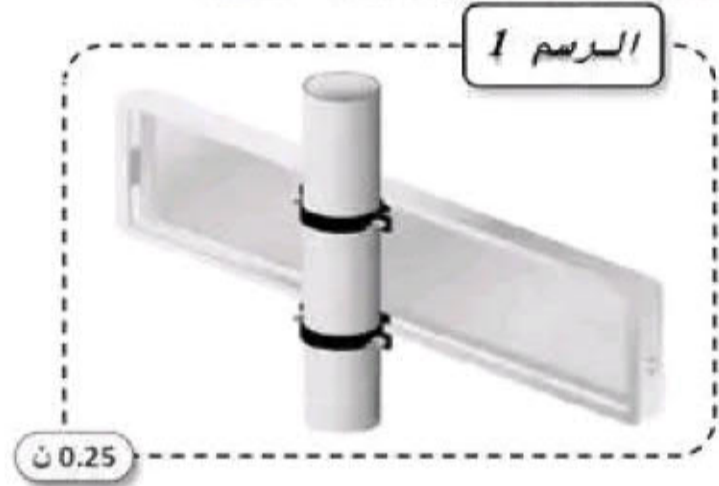
مخبر التكنولوجيا بإعدادية أولاد صالح  
Page Facebook

1- أكمل تسمية أنواع الرسمين التاليين:



0.25 ن

✓ الرسم عدد 2:



0.25 ن

✓ الرسم عدد 1:

2- أجب ب " صواب " أو " خطأ " مع إصلاح الخطأ إن وجد:

2 ن

4\*(0.25)

4\*(0.25)

.....

• يستعمل الخط الرقيق المستمر لرسم الجزئيات المخفية

الإصلاح:

.....

• سلم 1:2 هو سلم تكبير

الإصلاح:

.....

• وثيقة الرسم بقياس 210\*297 تسمى مقاس A3

الإصلاح:

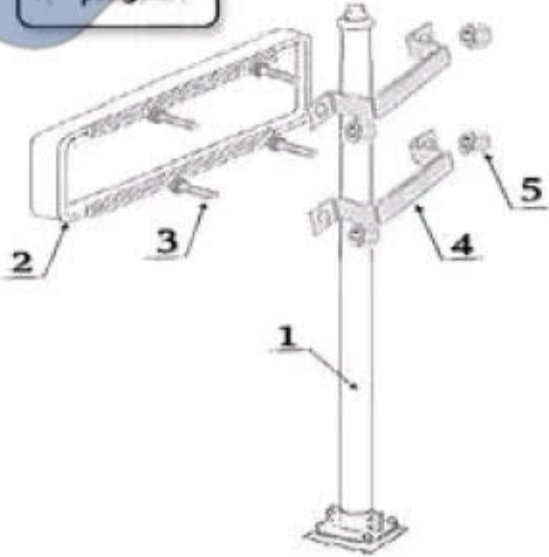
.....

• الوحدة المعتمدة في الرسم التقني هي المليمتر

الإصلاح:

التفكيك و التركيب

الرسم 3



0.5 ن

1- ماهو العدد الجملي للقطع المكونة للمنتج ;

2- تأمل الرسم عدد 3 ثم أتعرف على أشكال القطع وذلك

1.25 ن

بوضع أرقامها في المكان المناسب لها بالجدول :

5\*(0.25)

أشكال القطع		أرقام القطع
اسطوانية	موشورية	
.....	.....	

3- أحيط بدائرة أداة تركيب و تفكيك القطعة رقم (5) :

0.25 ن



4- أتمم مخطط التركيب لافتة توجيه الطريق :



1 ن

4\*(0.25)



الرسم ثلاثي الأبعاد

2.5 ن

أنجز على الشبكة رسم ثلاثي الأبعاد, انطلاقا من الوجه الأمامي , وحسب المعطيات التالية :

10\*(0.25)

مخبر التكنولوجيا بأعدادية أولاد صالح Page Facebook :

- اتجاه النظر : اليمين العلوي
- زاوية الإستهراب : 45°
- عامل الإستهراب : K=0.5
- السمك : 30 مم

0.75 ن

..... × ..... = طول الخط المائل

..... × ..... =

..... =



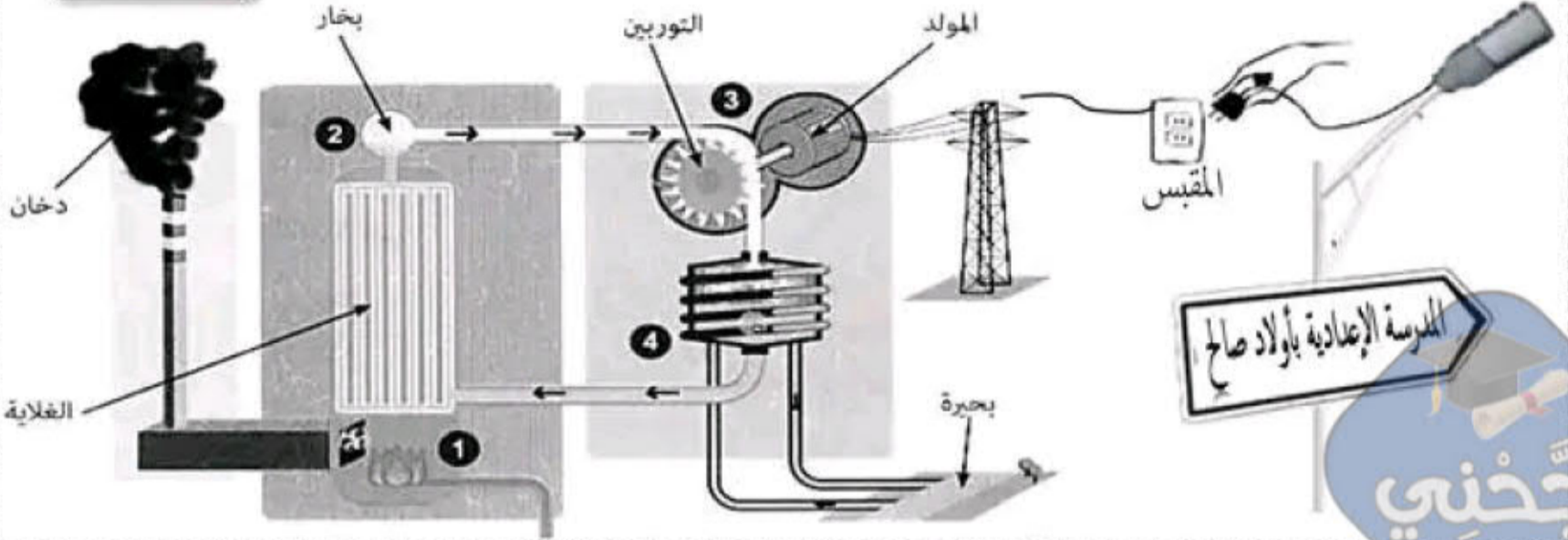
## ٤٣ الطاقة المستعملة ٤٣

أراد تلاميذ 7 أساسي تطوير لافتة توجيه الطريق بأن تصبح لافتة مضيئة، فكفروا في بعض الطرق التي يمكن إستعمالها :

**الطريقة الأولى: بإستعمال المقبس** مخبر التكنولوجيا بإعدادية أولاد صالح Page Facebook

❖ تمثل الصورة الموائية طريقة توليد الطاقة الكهربائية للمقبس

الرسم 4



❖ اعتماداً على الرسم عدد 4 أجب عن الأسئلة التالية :

2 ن

1. أكمل مراحل توليد الطاقة الكهربائية :

4\*(0.5)

..... 3

..... 4

..... 1

..... 2

0.25 ن

2. ما هي الطريقة المعتمدة لإنتاج الطاقة الكهربائية ؟

طاقة كهرومائية

طاقة نووية

طاقة حرارية

0.5 ن

3. ماهو المصدر الذي اعتمد لإنتاج هذه الطاقة ؟

0.25 ن

4. هل يمكن تصنيف هذا النوع من طاقة كطاقة متجددة أو غير متجددة : .....

0.5 ن

علل إجابتك : .....

0.25 ن

5. هل يمكن اعتبار هذا النوع من الطاقة صديقة للبيئة أو ملوثة للبيئة : .....

0.5 ن

علل إجابتك : .....

1.5 ن

6. أجب بـ " صواب " أو " خطأ " مع إصلاح الخطأ إن وجد :

3\*(0.25)  
3\*(0.25)

.....

• في المحطة الحرارية يقوم الماء بتدوير التوربين

الإصلاح : .....

.....

• يقوم التوربين بتحويل الطاقة الميكانيكية إلى طاقة كهربائية

الإصلاح : .....

.....

• هل كل المصادر المستخرجة من باطن الأرض لإنتاج الطاقة الكهربائية، هي مصادر قابلة للنفاد ؟

الإصلاح : .....

صفحة 3

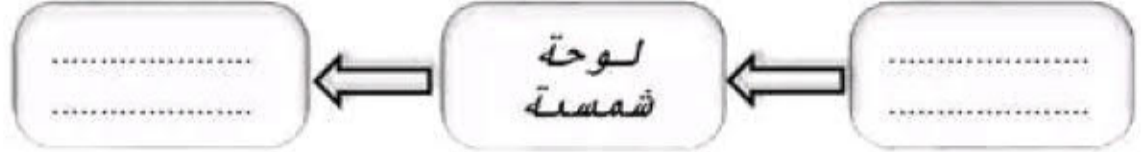
## الطريقة الثانية: بإستعمال ألواح شمسية



❖ تمثل الصورة الموائية طريقة توليد الطاقة الكهربائية بالشمس.

1 ن

2\*(0.5)



2. ماهو الحل لإضاءة اللافتة في الليل :

0.5 ن

3. أذكر أحد سلبيات الطاقة الشمسية :

0.5 ن

4. أجب ب " صواب " أو " خطأ " :

0.75 ن

3\*(0.25)



❖ تسمى طاقة الشمس بالطاقات المتجددة

❖ تُنتج ألواح الطاقة الشمسية تيار كهربائي مستمر

❖ يمكن إستعمال الطاقة الشمسية لإنتاج طاقة حرارية

## الطريقة الثالثة: بإستعمال توربين الرياح

❖ تمثل الصورة الموائية طريقة توليد الطاقة الكهربائية بالرياح

1. أكمل مخطط تحويل الطاقة بالإستعانة بالرسم التالي:

2 ن

4\*(0.5)



0.25 ن

0.5 ن

0.25 ن



200 □

20 □

2 □

0.2 □

0.5 ن

❖ أذكر طريقة رابعة تمكن من إنتاج الطاقة الكهربائية من خلال تحديد مصدرها و طريقة عملها ( مختلفة على الطرق السابقة )

0.25 ن

0.75 ن

❖ مصدر الطاقة :

❖ طريقة إنتاجها للطاقة الكهربائية ( المخطط ) :

/20

التوقيت: 60 دقيقة

## فرض تأسيسي 2 حد في مادة التكنولوجيا

المدرسة الإعدادية  
أولاد صالح  
2024 / 2023

الأستاذ: محمد المشرقي

الاسم: ..... اللقب: ..... القسم: 7 أساسي ... الرقم: ....



المنح:  
لافتة توجيه الطريق


تقديم:

تفتقد المدرسة الإعدادية لأولاد صالح لافتات توجيه الطريق. لحل هذا الإشكال و في إطار مشروع القسم، أراد تلاميذ 7 أساسي إنجاز هذه اللافتة مستعينين بما درسوه في مادة التكنولوجيا.

# الإصلاح

### أنواع الرسوم التقنية

مخبر التكنولوجيا بإعدادية أولاد صالح  
Page Facebook: 1- أكمل تسمية أنواع الرسمين التاليين:



✓ الرسم عدد 2: رسم مفكك

✓ الرسم عدد 1: رسم ثلاثي الأبعاد

2- أجب ب " صواب " أو " خطأ " مع إصلاح الخطأ إن وجد:

2 ن

4\*(0.25)

4\*(0.25)

خطأ

• يستعمل الخط الرقيق المستمر لرسم الجزئيات المخفية

الإصلاح: • يستعمل الخط الرقيق المتقطع لرسم الجزئيات المخفية

خطأ

• سلم 1:2 هو سلم تكبيري

الإصلاح: • سلم 1:2 هو سلم تصغيري

خطأ

• وثيقة الرسم بقياس 210\*297 تسمى مقاس A3

الإصلاح: • وثيقة الرسم بقياس 210\*297 تسمى مقاس A4

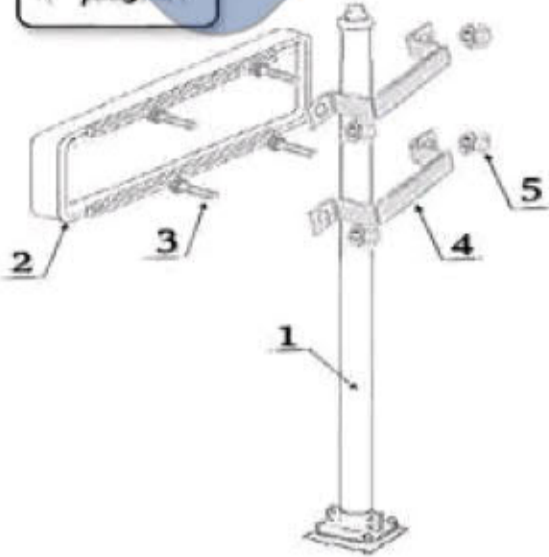
خطأ

• الوحدة المعتمدة في الرسم التقني هي المليمتر

الإصلاح: • الوحدة المعتمدة في الرسم التقني هي المليمتر

## التفكيك و التركيب

الرسم 3



0.5 ن

1- ماهو العدد الجملي للقطع المكونة للمنتج :

.....12. قطعة

2- تأمل الرسم عدد 3 ثم أتعرف على أشكال القطع وذلك

1.25 ن

بوضع أرقامها في المكان المناسب لها بالجدول :

5\*(0.25)

أشكال القطع		أرقام القطع
اسطوانية	موشورية	
.....5./3.....	....4./2./1....	

3- أحيط بدائرة أداة تركيب و تفكيك القطعة رقم (5) :

0.25 ن



4- أتمم مخطط التركيب لافئة توجيه الطريق :



1 ن

4\*(0.25)



## الرسم ثلاثي الأبعاد

2.5 ن

أنجز على الشبكة رسم ثلاثي الأبعاد, انطلاقا من الوجه الأمامي, وحسب المعطيات التالية :

10\*(0.25)

مخبر التكنولوجيا بأعدادية أولاد صالح : Page Facebook

- اتجاه النظر : اليمين العلوي
- زاوية الإستهراب : 45°
- عامل الإستهراب : K=0.5
- السمك : 30 مم

0.75 ن

طول الخط المائل = السمك × K ..

0.5 × ...30..... =

= ..15.. مم

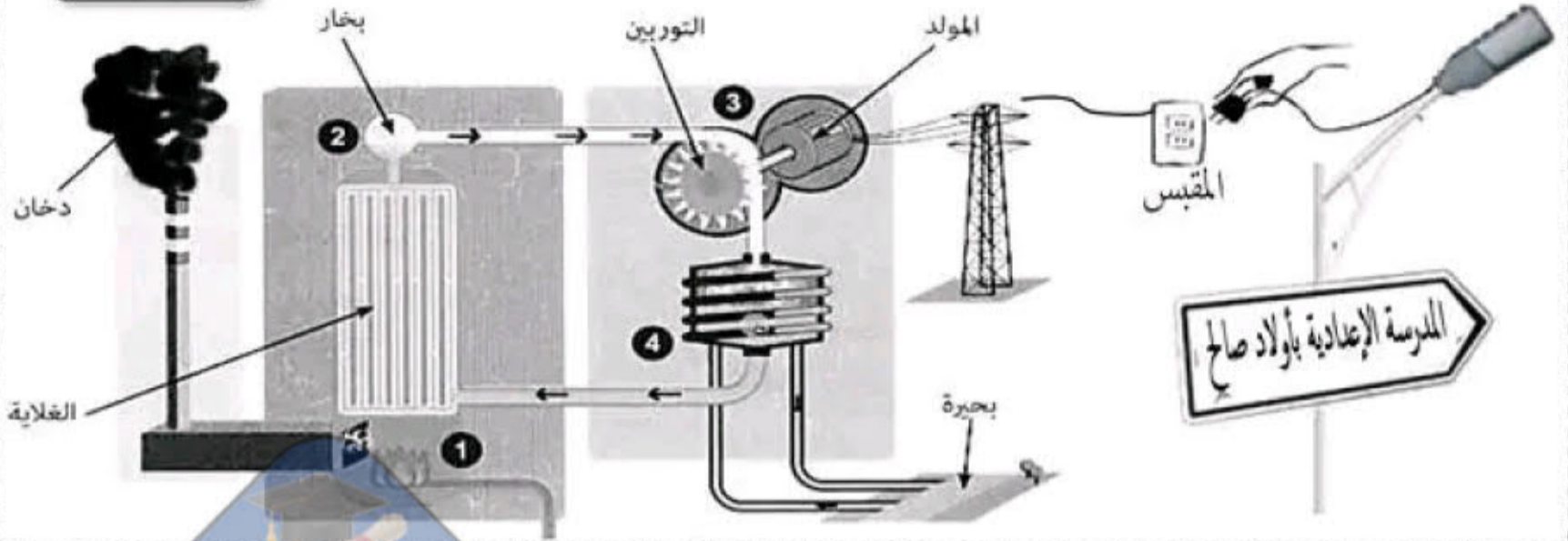


أراد تلاميذ 7 أساسي تطوير لافتة توجيه الطريق بأن تصبح لافتة مضيئة، فكفروا في بعض الطرق التي يمكن إستعمالها :

الطريقة الأولى: بإستعمال المقبس مخبر التكنولوجيا بإعدادية أولاد صالح Page Facebook

تمثل الصورة الموالية طريقة توليد الطاقة الكهربائية للمقبس

الرسم 4



إعتماداً على الرسم عدد 4 أجب عن الأسئلة التالية :

2 ن

1. أكمل مراحل توليد الطاقة الكهربائية :

4\*(0.5)

3 إنتاج الطاقة الكهربائية

1 عملية الإحتراق

4 عملية التبريد

2 إنتاج البخار

0.25 ن

2. ما هي الطريقة المعتمدة لإنتاج الطاقة الكهربائية ؟

طاقة كهرومائية

طاقة نووية

طاقة حرارية

0.5 ن

3. ماهو المصدر الذي اعتمد لإنتاج هذه الطاقة ؟ ..... المحروقات

0.25 ن

4. هل يمكن تصنيف هذا النوع من طاقة كطاقة متجددة أو غير متجددة : غير متجددة

0.5 ن

علل إجابتك : لأنها قابلة للنفاذ

0.25 ن

5. هل يمكن إعتبار هذا النوع من الطاقة صديقة للبيئة أو ملوثة للبيئة : ملوث للبيئة

0.5 ن

علل إجابتك : لأنها تصدر دخان خطير جدا

1.5 ن

6. أجب ب " صواب " أو " خطأ " مع إصلاح الخطأ إن وجد :

خطأ

• في المحطة الحرارية يقوم الماء بتدوير التوربين

الإصلاح : في المحطة الحرارية يقوم بخار الماء بتدوير التوربين

خطأ

• يقوم التوربين بتحويل الطاقة الميكانيكية إلى طاقة كهربائية

الإصلاح : يقوم المولد بتحويل الطاقة الميكانيكية إلى طاقة كهربائية

خطأ

• هل كل المصادر المستخرجة من باطن الأرض لإنتاج الطاقة الكهربائية، هي مصادر قابلة للنفاذ ؟

الإصلاح : حرارة الأرض هو مصدر مستخرج من باطن الأرض و غير قابل للنفاذ

## الطريقة الثانية: بإستعمال ألواح شمسية

❖ تمثل الصورة الموالية طريقة توليد الطاقة الكهربائية بالشمس.



1 ن

2\*(0.5)

.....تيار.....  
.....كهربائي.....

لوحة  
شمسية

.....الشمس.....

2. ماهو الحل لإضاءة اللافتة في الليل :

.....إستعمال بطاريات لتخزين الطاقة.....

3. أذكر أحد سلبات الطاقة الشمسية :

.....تأثر بالعوامل الطبيعية / تكلفة مرتفعة.....

4. أجب ب " صواب " أو " خطأ " :

.....صواب.....

❖ تسمى طاقة الشمس بالطاقات المتجددة

.....صواب.....

❖ تُنتج ألواح الطاقة الشمسية تيار كهربائي مستمر

.....صواب.....

❖ يمكن إستعمال الطاقة الشمسية لإنتاج طاقة حرارية

## الطريقة الثالثة: بإستعمال توربين الرياح

❖ تمثل الصورة الموالية طريقة توليد الطاقة الكهربائية بالرياح

1. أكمل مخطط تحويل الطاقة بالإستعانة بالرسم التالي:



2 ن

4\*(0.5)

طاقة الكهرباء

.....المولد.....

حركة دوران

.....توربين.....  
.....الرياح.....

طاقة الرياح

0.25 ن

2. ماهو نوع التيار الذي ينتجه المولد (مستمر أو متردد) : متردد

0.5 ن

3. ماهو الجهاز المستعمل لقيس الجهد الكهربائي للمولد : جهاز الفولطمتر

0.25 ن

4. عند تدوير المولد ظهر على الشاشة الجهاز القيمة 6.2V فما هو العيار الذي تم إستعماله ؟

200

20

2

0.2



5. لماذا تم اختيارك لهذا المعيار : لأنه العيار الأكبر والأقرب ل 6.2

0.5 ن

مخبر التكنولوجيا بإعدادية أولاد صالح : Page Facebook

أذكر طريقة رابعة تمكن من إنتاج الطاقة الكهربائية من خلال تحديد مصدرها و طريقة عملها ( مختلفة على الطرق السابقة )

0.25 ن

❖ مصدر الطاقة : طاقة المائية (تدفق ماء) / طاقة العضلية (عضلات) / طاقة النووية (اليورانيوم) ..

0.75 ن

❖ طريقة إنتاجها للطاقة الكهربائية (المخطط) :

• تدفق الماء ← توربين الماء ← المولد ← طاقة كهربائية

• عضلات ← المولد ← طاقة كهربائية

• يورانيوم ← مفاعل ← الغلاية ← المولد ← طاقة كهربائية

صفحة 4