

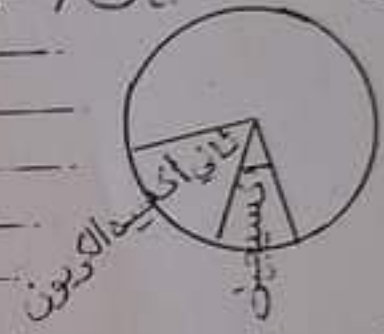
مدرسة  
حي السلام

تقييم توجيهي  
في مادة الإيقاظ العلمي

الاسم:  
اللقب:  
القسم: السنة السادسة

**التسند:** سمعت الأُم بما وقع لابنهما الوحيد أحمد فأسرعت إليه  
تَوَلَّوْا وَتَمَيَّعْ. دخلت المنزل لأهتته محمّرة الوجه وما أن رأت  
ابنهما جالسا على الأريكة حتى ضمتته إليها ومدّرتا يعلو ويخفي  
التعليمة 1: لماذا وصلت الأُم لأهتته؟

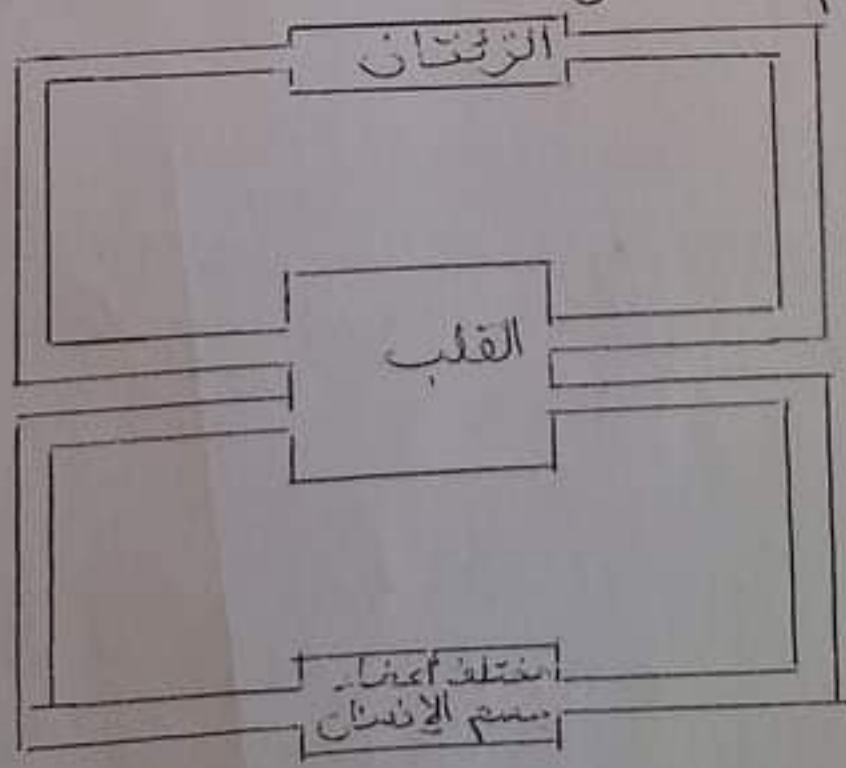
التعليمة 2: كان صدر الأُم يعلو ويخفي أكتب تحت كل فخط:  
حركة شهيقة / حركة زفير و أعلل سبب ذلك



التعليمة 3: ألون بالأحمر الدم الأحمر الثاني وبالأزرق  
الدم العاتم وأكمل:

الدورة الدموية

الدورة الدموية



التعليمة 4: أضع الإفادة الصحيحة في إطار وأصلح المعلومة الخاطئة  
الأوردة تنقل الدم من القلب إلى الجسم

• الشرايين تنقل الدم من الجسم إلى القلب


• يدور الدم في جسم الإنسان داخل أوعية دموية.

سؤال 5 = التعليمة 5 لماذا كان وجه الأتم معسراً؟


6) اكمل الجدول وامل:

التحليل	صالح للشرب (نعم/لا)
	ماء الحنفية
	ماء الوادي

7) اضع العناصر التالية (السواء - التربة - الماء) في المخطط المناسب مما يلي!



التعليمة 8: اضع الأسماء التالية في الخانات المناسبة:



اكتب الأسماء السابقة في الفراغ المناسب:

مستهلك من الدرجة (1) -----

مستهلك من الدرجة (2) -----

أحياء منتجة -----

التعليمة 9: اضع علامة (X) أمام الإجابة الصحيحة:

- + عملية الترشيح تجعل الماء صالحاً للشرب
- + عملية الترسيب تجعل الماء صالحاً للشرب
- + عملية التحقيم تقتل الجراثيم الموجودة في الماء.



مع 1 (10) اربط كل عملية بما ينتج عنها.

- الترسيب .
- التخليص الماء من الشوائب السابغة فيه .
- الترشيب .
- التخليص الماء من الأجسام الثقيلة .
- التعقيم .
- الترشيح .
- الترسيب .

11) أختار مما يلي العبارات المناسبة وأكمل بها

الفقرة للحصول على تعريف للماء الصالح للشرب .

الكبر - الطالبي - باكتساب - بوجود - المحتمل - الصافي -  
المليء - بانعدام

الماء الصالح للشرب هو الماء الذي يتميز  
باللون والرائحة والطعم و  
من الجراثيم .

مع 3 (12) أصلح الخطأ :  
فضلات المعامل والمياه المستعملة تُخلى بالتوازن البيئي

الجراثيم ليست من العوامل المتسببة في اختلال التوازن البيئي

## جدول إسناد الأعداد

معيّار التمييز	معايير الأعداد										المعايير	
	مع 3 ج		مع 2 ب		مع 1 أ		مع 1		مع 1			التملك
3	0		0		0		0		0		انعدام التملك	
2	1,5	0,75	1	0,75	0,5	0,25	0,5	2	1,5	1	0,5	دون التملك الأدنى
	3	2,25	2	1,75	1,5	1,25	1	4	3,5	3	2,5	التملك الأدنى
5	4,5	3,75	3	2,75	2,5	2,25	1,5	6	5,5	5	4,5	التملك الأقصى