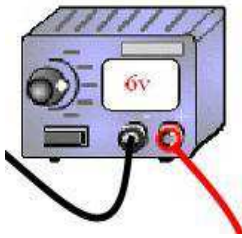
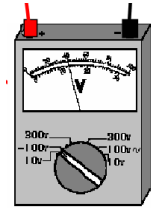



الاسم... اللقب الرقم	اختبار كتابي عدد 3 المادة تربية تكنولوجية	مدرسة الإعدادية 20 مارس المرناقية الأستاذ الهادي العبيدي 2011-2010
التاريخ.....	التوقيت 30 دق	8 أساسي
عدد 20 / .....		

### التمرين الأول

1 - أتمم بما يناسب

- يركب جهاز الامبيرمتر ..... مع مكونات الدارة (1)
- تقدر شدة التيار الكهربائي بوحدة تسمى ..... و نشير اليها بالحرف ..... (1)
- 2- تأمل المكونات التالية ثم
  - أ- اربط هذه المكونات للحصول على دارة كهربائية (2)
  - ب- ركب جهاز الفولتметр لقيس جهد المحرك (1)



ج- أحسب جهد المحرك اذا علمت أن (2)

$$C=10v$$


$$L=50$$

$$E=100$$

$$U= .....$$



د- أنجز رسماً مقنناً لهذه الدارة (3)



### التمرين الثاني

1- أذكر أسماء المساقط (3)

1-.....

2-.....

3-.....

2- لون المستطيل ABCD على الرسم المنظوري (1)

3- لون المستطيل ABCD في المساقط الثلاثة (6)

