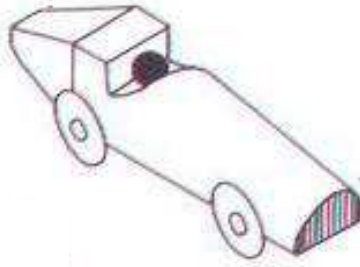


الإسم واللقب :	إختبار كتابي 3 📖 تربية تكنولوجية	إعدادية حي البساتين القصرين مخبر التكنولوجيا	
القسم : الفوج : ع/ر.....		التاريخ:	مدة الإنجاز: 30 د
/20		الضارب: 1	7 أساسي :

1 - ما هو نوع الرسم الموالي ؟



A	رسم تعريفي
B	رسم منظوري
C	رسم شامل
D	رسم مفكك

2- عرّف الرسم المعني بالسؤال 1 .

1

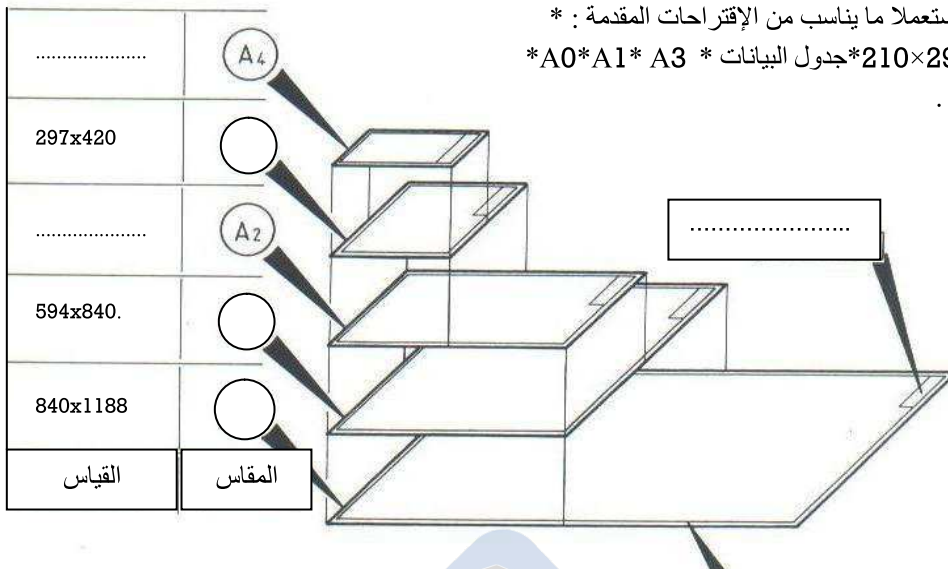
2.5

A	رسم تعريفي
B	رسم منظوري
C	رسم شامل
D	رسم مفكك

3 - ما هو الرسم الذي يمكن من تقديم قطع المنتج مرتبة ومتباعدة يرسم ثلاثي الأبعاد بهدف إبراز كيفية إشتغاله وتركيب أجزائه؟

1

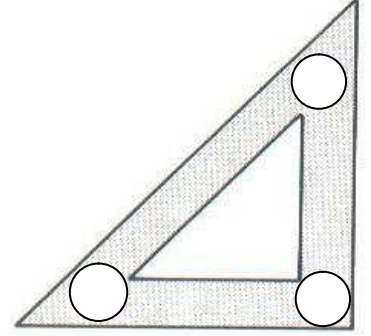
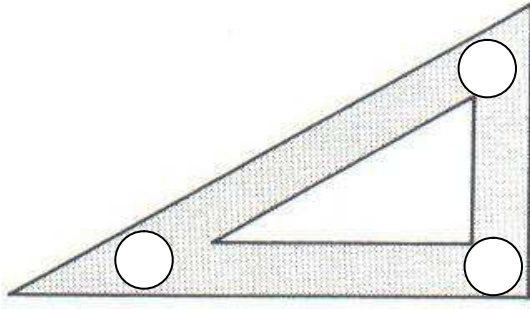
4- أكمل التالي مستعملا ما يناسب من الإقتراحات المقدمة :
*A0*A1*A3 *جدول البيانات *210×297*420×594
إطار وثيقة الرسم .



3.5

5- سجّل على الدوائر قيمة زوايا الكوسين .

3

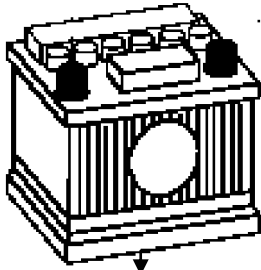


6- أكمل الفراغات بما يناسب من الإقتراحات المقدمة : * الحقيقي * الرسم * الحقيقية * $1/x * x/1$ * سلم * أصغر * أكبر .

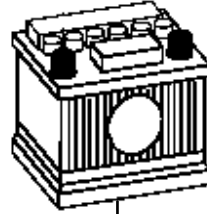
قياس الرسم من الرسم الحقيقي

قياس الرسم مساويا للرسم الحقيقي

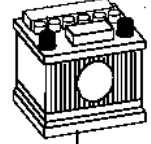
قياس الرسم من الرسم الحقيقي



سلم =



سلم = 1/1



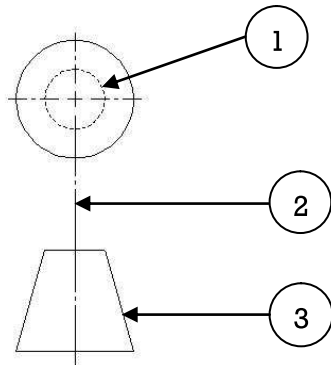
سلم =

6

قياس
السلم =
القياس للقطعة

- تسجل على الرسم الأبعاد للقطعة مهما كان المعتمد لرسمها .

3



7- سمّ الخطوط المرقمة على الرسم الموالي

حسب نوعها وسمكها .

- خط 1
- خط 2
- خط 3