


السنة الرابعة	المستقيم و نصف المستقيم و قطعة المستقيم	المربي: عبد اللطيف بوجناح
---------------	--	---------------------------

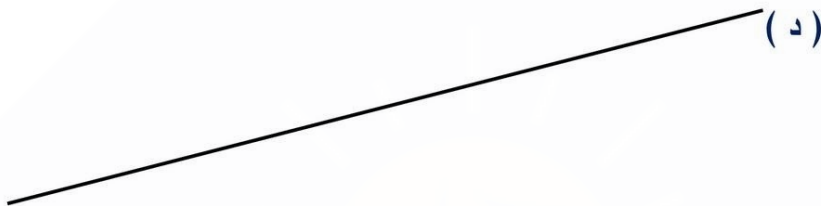
1- أتاَمَل الرّسَم التّالِي:



1. ألَوْن بالأحمر نصف المستقيم الذي مبدؤه " ب " و يمرّ من " أ "
2. ألَوْن بالأخضر نصف المستقيم الذي مبدؤه " ب " و يمرّ من " ج "
3. ألاحظ الرّسَم و أضع العلامة (×) في المكان المناسب من الجدول:

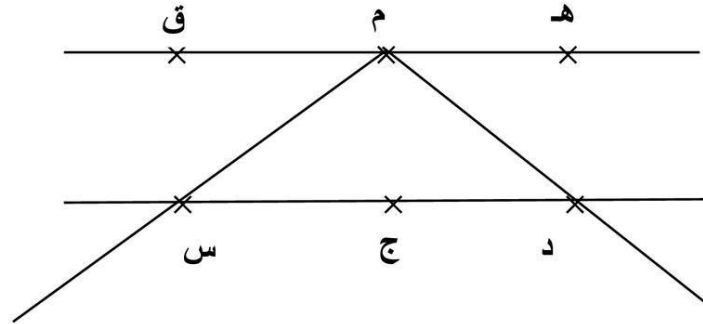
تنتمي إلى ←	قطعة المستقيم [أ ب]	المستقيم (أ ب)	نصف المستقيم (ب ج)	نصف المستقيم (ب أ)
" ن "				
" أ "				
" ب "				
" ج "				

-2



4. أعين نقطتين " ص " و " ع " تنتميان إلى المستقيم (د) و نقطة " م " لا تنتمي إليه.
5. أرسم بالأزرق قطعة المستقيم [ع م]
6. أرسم بالأحمر نصف المستقيم [م ص]

3- ألاحظ الرسم التالي:



7. أحسب عدد المستقيمات.

8. أحسب عدد قطع المستقيم.

9. أسمي جميع قطع المستقيم بالرسم:

.....

.....

الإصلاح

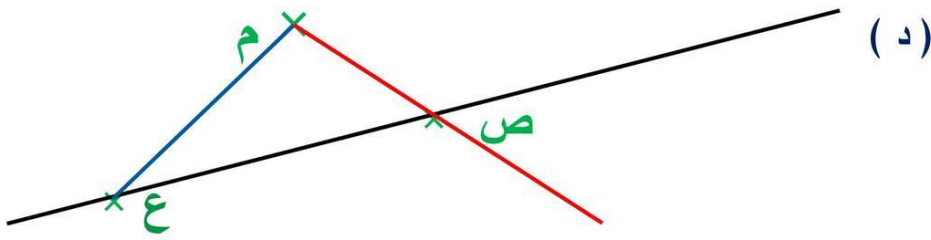
1- أتملّ الرسم التالي:



- ألون بالأحمر نصف المستقيم الذي مبدؤه " ب " و يمرّ من " أ "
- ألون بالأخضر نصف المستقيم الذي مبدؤه " ب " و يمرّ من " ج "
- ألاحظ الرّسم و أضع العلامة (×) في المكان المناسب من الجدول:

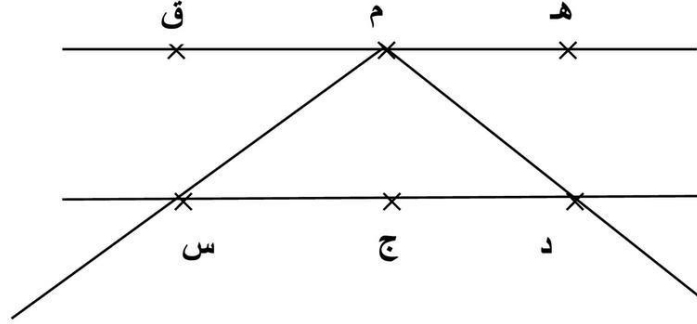
تنتمي إلى ←	قطعة المستقيم [أ ب]	المستقيم (أ ب)	نصف المستقيم (ب ج]	نصف المستقيم (ب أ]
" ن "		×		×
" أ "	×	×		×
" ب "	×	×	×	×
" ج "		×	×	

2-



- أعين نقطتين " ص " و " ع " تنتميان إلى المستقيم (د) و نقطة " م " لا تنتمي إليه.
- أرسم بالأزرق قطعة المستقيم [ع م]
- أرسم بالأحمر نصف المستقيم [م ص]

3- ألاحظ الرسم التالي:



2 - أحسب عدد المستقيمات.

8 - أحسب عدد قطع المستقيم.

- أسمي جميع قطع المستقيم بالرسم:

[هـ م] [م ق] [هـ ق] [م د] [م س]

[د ج] [ج س] [د س]