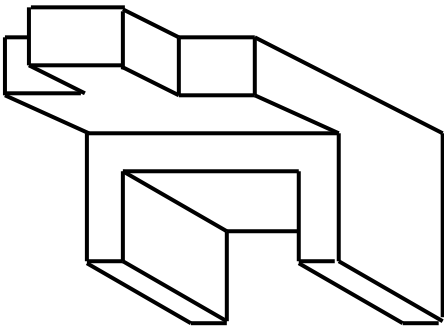


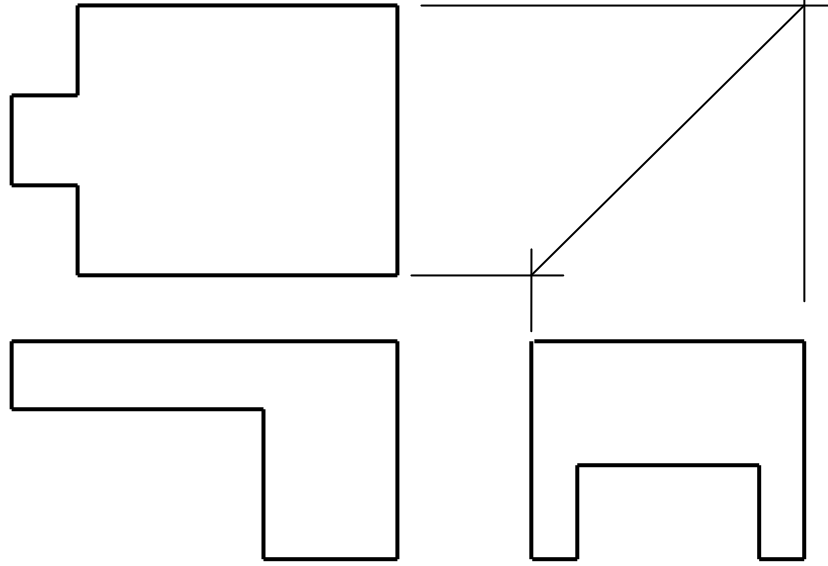
الاسم:.....	اختبار كتابي ع-02		المدرسة الإعدادية مصطفى خريف المحمدية
اللقب:.....	مادة التربية التكنولوجية		الأستاذ: هشام بن مكي
الرقم:.....	الضارب : 1	التوقيت: 30 دقيقة	التاريخ:...../...../2011
/20	القسم: 9 أساسي ...		

1- أتمم رسم المساقط بالاعتماد على الرسم الثلاثي الأبعاد مدرجا بعض عناصر الترقيم على المسقط السفلي فقط:

/12

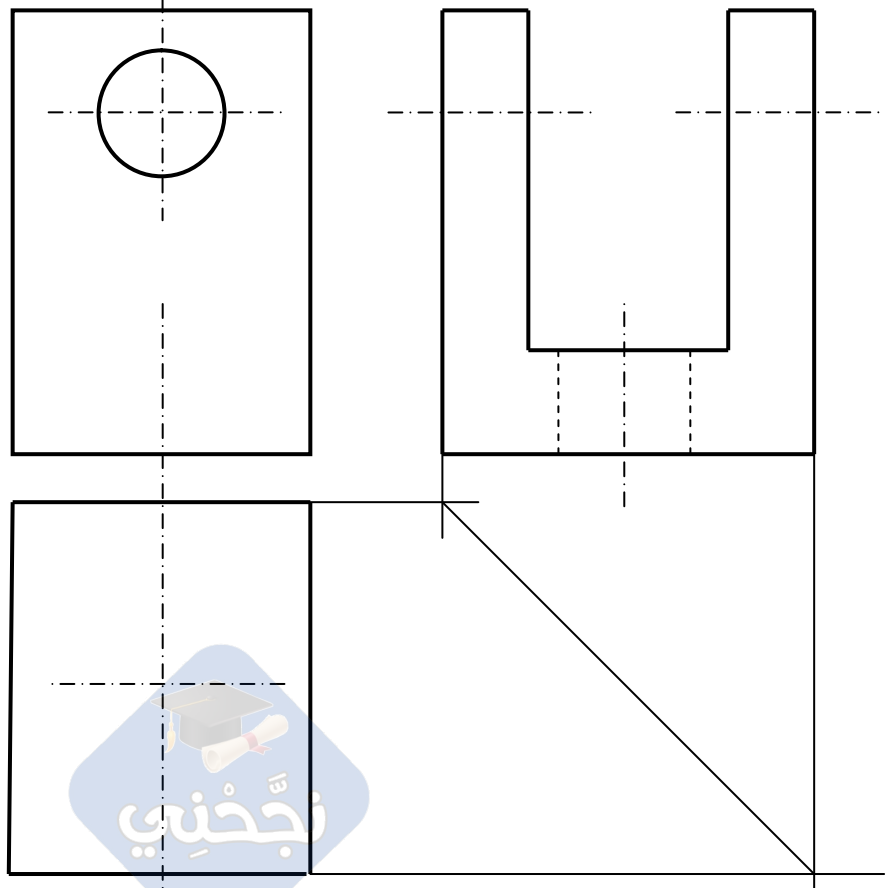
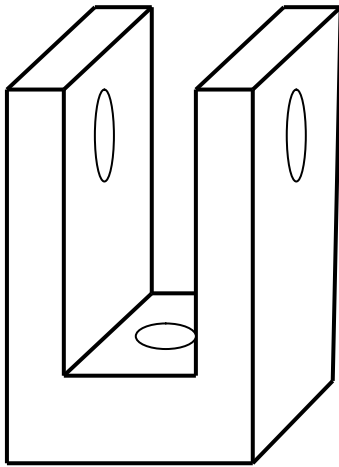


الرسم المنظوري



2- أتمم رسم المساقط بالاعتماد على الرسم المنظوري:

/8



عملا موقفا

زيجيني