

التاريخ: 2023 / 10 / 23

المدة: 30 دقيقة

فرض مراقبة ع.أ.د.

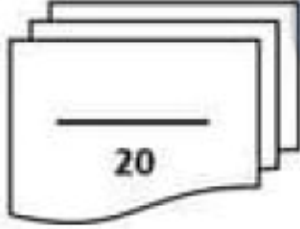
علوم فيزيائية

Physique TN

Z.Salem

القسم: الثامنة أساسي

الإسم واللقب: .....



نَجْهِنِي

تميزه ع.أ.د: ( 8 نقاط )

I - اختر الإجابة الصحيحة من بين البدائل المعطاة . ( 4 نقاط )

1- الوحدة العالمية لقياس الكتلة الحجمية:

$g.cm^3$       $Kg.cm^3$       $Kg.m^3$       $Kg.m^3$

2- أصغر كتلة حجمية من بين هذه القيم هي :

$7,8 g/cm^3$       $1000 Kg/m^3$       $2,7 g/cm^3$       $1600 Kg/m^3$

3- كل هذه القواعد صحيحة ما عدا:

$\rho = \frac{m}{V}$       $m = \rho \times V$       $V = \frac{m}{\rho}$       $V = \frac{\rho}{m}$

4- مكعب طول ضلعه 10 mm ، وكتلته 0,0089 Kg إذن كتلته الحجمية تساوي :

$8,9 g.cm^3$       $8,9 Kg.m^3$       $0,89 g.cm^3$       $8900 Kg.m^3$

II - أكمل الجمل التالية بما يناسبها من مفردات. ( 4 نقاط )

الزيت - الماء - الأخف - الأثقل - أكبر - أقل - الميزان - تطفو - المخبار المدرج

تقاس كتل الأجسام بجهاز يسمى ..... أما أحجام السوائل فيمكن قياسها بواسطة .....

الأجسام التي لها كتلة حجمية ..... من الكتلة الحجمية للماء فإنها .....

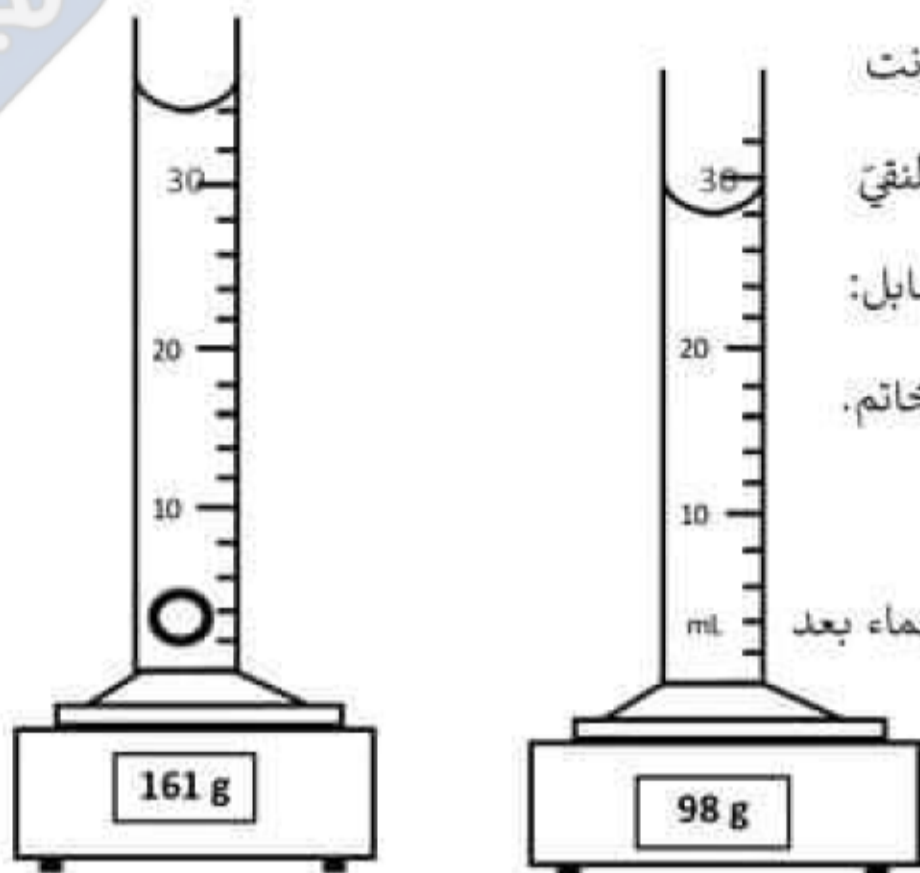
الأجسام التي لها كتلة حجمية ..... من الكتلة الحجمية للماء فإنها تغوص .....

..... لا يطفو فوق سطح ..... لأنه هو .....



## تمرين 2 عدد: (12 نقطة)

أرادت سلمى أن تقيس الكتلة الحجمية لخاتمها فاستعانت بمخبر مدرج ( كل درجة تساوي 2 mL ) وكمية من الماء النقي وميزان إلكتروني وقامت بوزنتين كما هو موضح بالرسم المقابل:



1/ أ) أكتب مقدار الحجم  $V_1$  لكمية الماء قبل وضع الخاتم.  
ب) أكتب مقدار الحجم  $V_2$  الذي استقر عنده مستوى الماء بعد وضع الخاتم في المخبر.

ج) أحسب حجم هذا الخاتم  $V$ .

2/ أ) احسب كتلة الخاتم  $m$ .  
ب) احسب الكتلة الحجمية لهذا الخاتم بالوحدة العالمية للقياس.

ج) من الجدول تعرّف على المادة التي صنع منها هذا الخاتم.

المادة	الذهب	الألماس	الفضة	الزئبق	البنزين	الكحول
الكتلة الحجمية $g \cdot cm^{-3}$	19,3	3,5	10,5	13,6	0,75	0,79

3/ بالاعتماد على الجدول، ماهو السائل الذي يمكن أن يطفو فوقه هذا الخاتم؟ علل.



التاريخ: 2023 / 10 / 23

المدة: 30 دقيقة

فرض مراقبة عدد

علوم فيزيائية

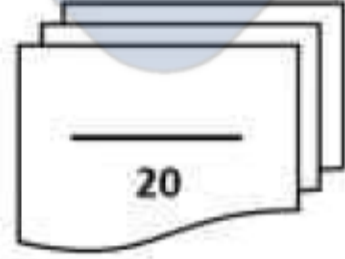
Physique TN

Z.Salem

نَجْحَنِي

القسم: الثامنة أساسي

الإسم واللقب: .....



20

تميز عدد: ( 8 نقاط )

I - اختر الإجابة الصحيحة من بين البدائل المعطاة . ( 4 نقاط )

1- الوحدة العالمية لقياس الكتلة الحجمية:

$g.cm^{-3}$       $Kg.m^{-3}$       $Kg.m$       $Kg.cm^{-3}$

2- أصغر كتلة حجمية من بين هذه القيم هي :

$7,8 g/cm^3$       $1000 Kg/m^3$       $2,7 g/cm^3$       $1600 Kg/m^3$

3- كل هذه القواعد صحيحة ما عدا:

$\rho = \frac{m}{V}$       $m = \rho \times V$       $V = \frac{\rho}{m}$       $V = \frac{m}{\rho}$

4- مكعب طول ضلعه 10 mm ، وكتلته 0,0089 Kg إذن كتلته الحجمية تساوي :

$8,9 g.cm^{-3}$       $8,9 Kg.m^{-3}$       $0,89 g.cm^{-3}$       $8900 Kg.m^{-3}$

II - أكمل الجمل التالية بما يناسبها من مفردات. ( 4 نقاط )

الزيت - الماء - الأخف - الأثقل - أكبر - أقل - الميزان - تطفو - المخبار المدرج

☒ تقاس كتل الأجسام بجهاز يسمى **الميزان** أما أحجام السوائل فيمكن قياسها بواسطة **المخبار المدرج**

☒ الأجسام التي لها كتلة حجمية **أقل** من الكتلة الحجمية للماء فإنها **تطفو**.

☒ الأجسام التي لها كتلة حجمية **أكبر** من الكتلة الحجمية للماء فإنها تغوص.


☒ **الماء** لا يطفو فوق سطح **الزيت** لأنه هو **الأثقل**.



تمرين عدد: (12 نقطة)

أرادت سلمى أن تقيس الكتلة الحجمية لخاتمها فاستعانت بمخبار مدرج ( كل درجة تساوي 2 mL ) وكمية من الماء النقي وميزان إلكتروني وقامت بوزنتين كما هو موضح بالرسم المقابل:

1/ أ) أكتب مقدار الحجم  $V_1$  لكمية الماء قبل وضع الخاتم.



$V_1 = 28 \text{ mL}$

ب) أكتب مقدار الحجم  $V_2$  الذي استقر عنده مستوى الماء بعد وضع الخاتم في المخبار.

$V_2 = 34 \text{ mL}$

ج) أحسب حجم هذا الخاتم  $V$ .

$V = V_2 - V_1 = 34 - 28 = 6 \text{ mL}$

2/ أ) احسب كتلة الخاتم  $m = m_2 - m_1 = 161 - 98 = 63 \text{ g}$

ب) احسب الكتلة الحجمية لهذا الخاتم بالوحدة العالمية للقياس.

$\rho = \frac{m}{V} = \frac{63}{6} = 10,5 \text{ g.cm}^{-3} = 10500 \text{ Kg.m}^{-3}$

ج) من الجدول تعرّف على المادة التي صنع منها هذا الخاتم.

المادة	الذهب	الألماس	الفضة	الزئبق	البنزين	الكحول
الكتلة الحجمية $\text{g.cm}^{-3}$	19,3	3,5	10,5	13,6	0,75	0,79

هذا الخاتم مصنوع من الفضة لأن الكتلة الحجمية للفضة تساوي

$10,5 \text{ g.cm}^{-3} =$  الكتلة الحجمية للخاتم

3/ بالاعتماد على الجدول، ماهو السائل الذي يمكن أن يطفو فوقه هذا الخاتم؟ علل.

السائل الذي يمكن أن يطفو فوقه هذا الخاتم هو الزئبق لأن كتلته الحجمية أكبر من

الكتلة الحجمية للفضة.  $13,6 > 10,5$