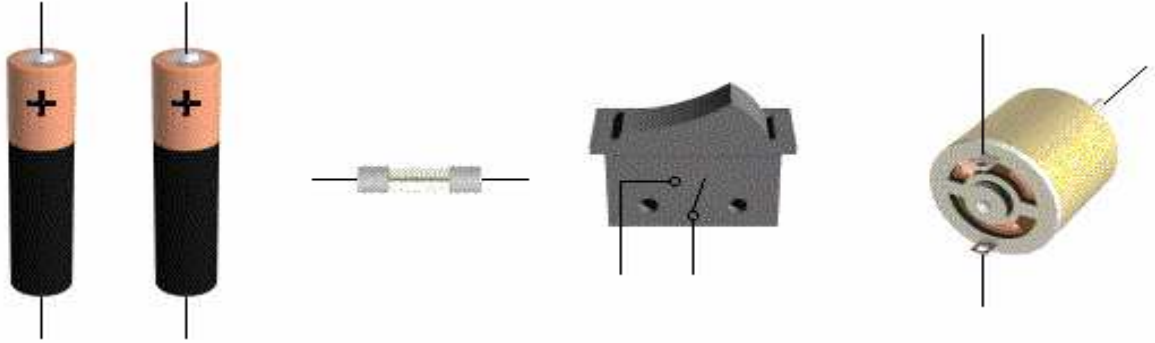
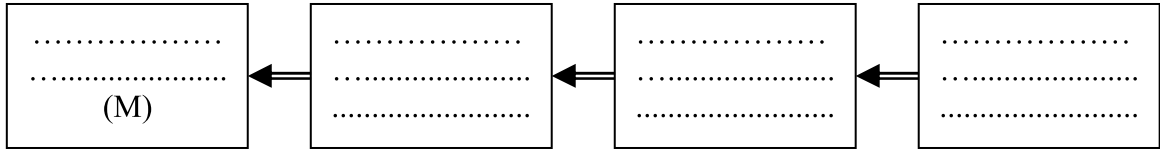


..... : الإسم	اختبار كتابي عدد 2	المدرسة الإعدادية
..... : اللقب	في مادة التربية التكنولوجية	حليمة الشعبوني-عقارب
..... : الرقم	التوقيت: 15 دق الضارب: 1	التاريخ.....
/20	الفصل: 8 أساسي.....	الأستاذ: معز السماوي

1- اربط مكونات الدارة: (2.5ن)




2- جزئ مكونات الدارة إلى كتل وظيفية: (4ن)



3- أكمل الجدول بما يناسب: (7.5ن)

المكونات	الكتلة	الوظيفة	الرسم المقنن
بطارية (3 V)	التغذية
.....	2 A
.....
محرك (M)

4- أكمل رسم الدارة الكهربائية باستعمال الرموز المقننة: (4ن)



5- ادرج « امبير متر » و « فولت متر » لقيس جهد القابل: (2 ن)

