




المادة: إيقاظ علمي	اختبار الثلاثي الثالث 2013/ 2012	المدرسة الابتدائية حي السعادة بالمنسستير
الاسم واللقب:.....	المستوى:2.....	العدد المسند:...../20

السند 1: قَصِدْ أَحْمَدُ الْبَحْرَ وَلَمَّا وَصَلَ أَرْتَمَى فِي الْمَاءِ

وَشَرَعَ يَسْبَحُ.

التعليمية 1: أَضِعْ عَلَامَةً فِي الْخَانَةِ الْمُنَاسِبَةَ:

الحيوان	يَتَنَفَّسُ فِي:	الماء	البر
			
			
			

التعليمية 2: أَكْمِلْ بِمَا يُنَاسِبُ:

الضفدعة تتنفس في البر ب..... وفي الماء ب.....

التعليمية 3: أَصْلِحِ الْخَطَأَ إِنْ وُجِدَ:

تتنفس الفقرة بجديها.

.....



السند 2: وَلَمَّا تَعِبَ أَحْمَدُ، اسْتَلْقَى فِي ظِلِّ الشَّمْسِيَّةِ وَاسْتَرَّاحَ قَلِيلًا ثُمَّ تَصَفَّحَ كِتَابًا عَنْ عَالِمِ الْحَيَوَانَ. التعليمة 4: أَصْلِحِ الْخَطَأَ إِنْ وُجِدَ: يَرْتَفِعُ صَدْرُ أَحْمَدَ فِي حَالَةِ خُرُوجِ الْهَوَاءِ مِنْهُ.

التعليمة 5: أَرْبُطِ الْحَيَوَانَ بِعِضْوِ النَّقْلِ الْمُنَاسِبِ لَهُ:



• الْقَوَائِمُ



• الزَّعَانِفُ



• الْأَجْنِحَةُ

• الْأَرْجُلُ



التعليمة 6: أَصْلِحِ الْخَطَأَ إِنْ وُجِدَ: تَنْتَقِلُ الضَّفَدَةُ فِي الْمَاءِ بِزَعَانِفِهَا.

السند 3: أَحَسَّ أَحْمَدُ بِالْجُوعِ فَتَنَاوَلَ طَعَامَهُ وَهُوَ يَفْكِرُ فِيمَا دَرَسَهُ فِي حِصَصِ الْإِقَاطِ الْعِلْمِيِّ.

مع 3

مع 1

مع 3

التعليمة 7: أَرْبُطْ بِسَهْمٍ:

* التَّفَاخَةُ *

* البُخَارُ *

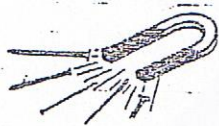
* المَشْرُوبَاتُ العَازِيَّةُ *

* مَحْتَوَى الكُرَّةِ *

التعليمة 8: أَشْطَبُ العِبَارَةِ الخَاطِئَةُ وَأَعْلَى:

يَأْخُذُ لَا يَأْخُذُ
العَصِيرُ شَكْلَ الكَأْسِ لِأَنَّهُ

التعليمة 9: أَذْكَرُ نَوْعِ القُوَّةِ المُسَلِّطَةِ:



جدول إسناد الأعداد

مع 3	مع 2	مع 1	المعايير	التمك
0	0	0		انعدام التملك
2	1.5 - 1 - 1/2	-5 - 4 - 3 - 2 - 1		التمك دون الأدنى
4	2	7 - 6		التمك الأدنى
5	3 - 2.5	12 - 11 - 10 - 9		التمك الأقصى