


④ جَمَعَ التَّلَامِيذُ مَبَالِغَ مَالِيَّةٍ لِصِنَاعَةِ أَفْنِجَةٍ لِعَرَضٍ



مَسْرُوحِيَّةٍ
- إِذْ خَرَّ سَمِيرٌ

- أَحْسَبُ هَذَا الْمَبْلَغَ مِي

- شَرَى سَمِيرٌ مِلْفَاتٍ مِنَ الْوَرَقِ الْمَقْوَى بِ 570 مِي


- أَمْتَلِ الْمَبْلَغَ بِأَقْلَ عَدَدٍ مُمَكِّنٍ مِنَ الْقِطْعِ النَّقْدِيَّةِ



- أَبْحَثْ عَنِ الْمَبْلَغِ الْمُتَبَقِّي لِسَمِيرٍ


- أُرْتَبِ أَعْدَادَ الْعَمَلِيَّةِ تَصَاعُدِيًّا

② قَصِّ التَّلَامِيذُ الْمِلْفَاتِ حَسَبِ الْأَشْكَالِ التَّالِيَةِ



التون كل فناع له 3 أضلاع
 أضع علامة (x) تحت القناع الذي له 6 أضلاع
 أكمل رسم القناع التافيس ليصبح ذا 7 أضلاع

3 سحبت سلمى من حَصَّالَتِهَا 894 مي:



أرسم القطع النقدية الناقصة

اشترت سلمى قارورة ليصق بـ 25.7 مي وأوراق مملوثة

بـ 48.6 مي كم صرفت؟

كم بقي لي سلمى؟

سحبت سلمى

بقي لي سلمى:

قال بإمكانها شراء بمحاة بـ 195 مي؟ أعلل جوابي

4 كان بحافظة نفود رامي 775 مي شري أريطة

ليشد الأقيعة بـ 235 مي وصلحاً ثمنه يفوق ثمن

الأريطة بـ 165 مي

ما هو ثمن الصلحال؟ ما هو ثمن المشتريات؟ كم بقي لرامي؟

مكتبة الخدمات
 إمام جامع التوبة بالمنستير



1 (أَعْمَلِيَّةُ الْمَكْتَبَةِ الْخِدْمَاتِ)

امام جامع التوبة بالمنستير

• اكتب أكبر عددٍ

معد
ل

1 (أَعْمَلِيَّةُ الثَّانِيَةِ)

• اكتب أصغر عددٍ

• الْمَسْأَلَةُ:

عَدَدُ التَّلَامِيذِ بِالْمَدْرَسَةِ 589 حَضَرَ مِنْهُمْ يَوْمَ
عَرِضِ الْمَسْرُوحِيَّةِ * 196 تَلْمِيذًا
* 274 تَلْمِيذَةً

• أَضَعُ عَلَامَةً (X) أَمَامَ التَّعْلِيْمَةِ الْمُنَاسِبَةِ:



* مَا هُوَ عَدَدُ الْأَقْسَامِ؟

* مَا هُوَ عَدَدُ الْأُمَمَاتِ؟

* مَا هُوَ عَدَدُ التَّلَامِيذِ الَّذِينَ حَضَرُوا الْعَرِضَ؟

* مَا هُوَ عَدَدُ الْمُعَلِّمِينَ؟

* مَا هُوَ عَدَدُ التَّلَامِيذِ الَّذِينَ تَغَيَّبُوا عَنِ الْعَرِضِ؟

معد
ل

• أَحَلُّ الْمَسْأَلَةَ:

معد
ل
ل



مكتبة الخدمات

امام جامع التوبة بالمنستير

