

التاريخ : 2011 / 5 /
المدة : 30 دقيقة

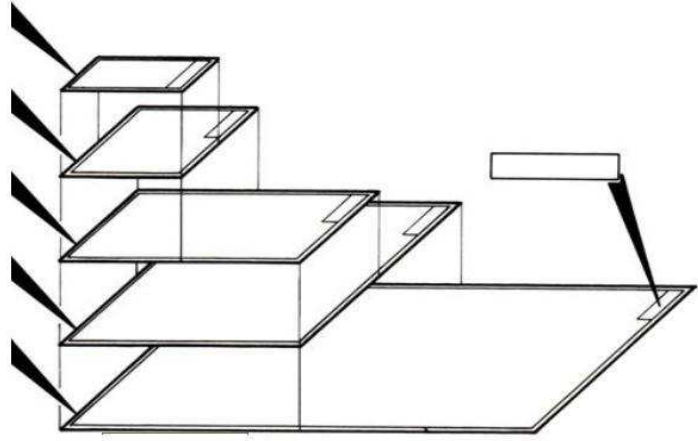
اختبار كتابي لمدة 3 حدد
المادة: التربية التكنولوجية

المدرسة الإعدادية دار فضال سكرة
الأستاذة: سعاد حمايدي

الاسم : اللقب : الرقم : القسم : 7 أساسي

السؤال الأول: لاحظ وثائق الرسم اكمل المطلوب بما يناسب :

| | | |
|----------------|-------------------|-------|
| A4 | | |
| | 420 | 297 |
| | 594 | 420 |
| A1 | | |
| | 1188 | 840 |
| وثيقة الرسم | الطول | العرض |
| | الأبعاد بالمليمتر | |

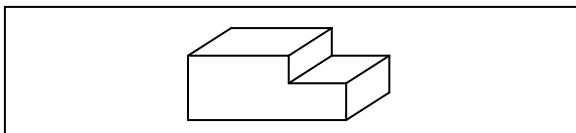


ب- أذكر تحت كل رسم اتجاه النظر و رمزه.

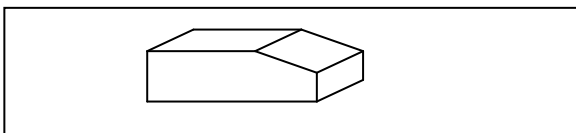
| | | |
|------------------------------|------------------------------|------------------------------|
| | | |
| اتجاه النظر: الرمز: | اتجاه النظر: الرمز: | اتجاه النظر: الرمز: |

التمرين الثاني :

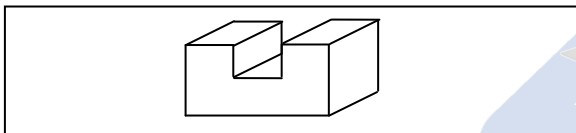
1) أربط بسهم العبارات والشكل المناسب؟



المجرى



الشطف



الحرّة



التمرين الثالث :

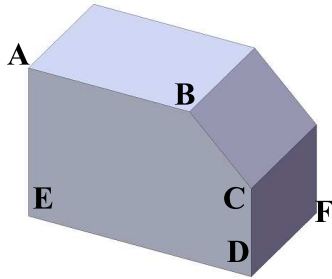
لنعتبر القطعة الموشورية التالية :
أنجز داخل الشبكة رسم ثلاثي الأبعاد لهذه القطعة حسب المعطيات التالية :

* الوجه الأمامي ABCDE

* زاوية الإستهراب 45°

* عامل الإستهراب $K=0.5$

* اتجاه النظر : اليمين العلوي




* مع العلم أن :

$$EA = 55 \text{ مم} \quad AB = 55 \text{ مم}$$

$$ED = 80 \text{ مم} \quad DC = 30 \text{ مم}$$

$$DF = 60 \text{ مم}$$

* شطف $25 \times 45^\circ$



حظ سعيد

