


أ. التكنولوجيا :

السؤال الأول : (6 نقاط)

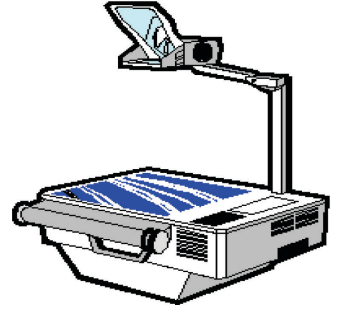
أكتب مكان النقاط اسم المجال الذي ينتمي إليه كل منتج من المنتجات التالية :




مجال



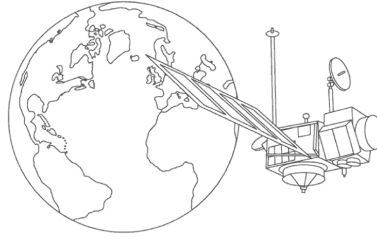
مجال



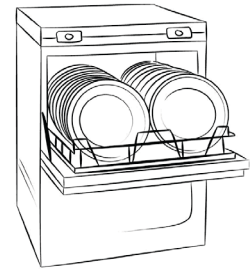
مجال



مجال



مجال

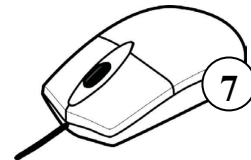
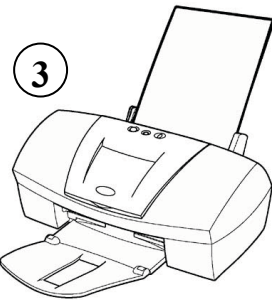
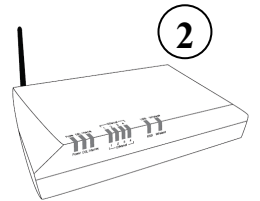
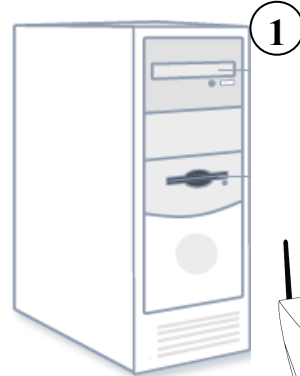



مجال

ب. استعمال الحاسوب :

السؤال الثاني : (6 نقاط)

أكتب اسم كل عنصر من عناصر الحاسوب أمام رقمه المناسب :



..... /3

..... /2

..... /1

..... /6

..... /5

..... /4


السؤال الثالث : (3 نقاط)

أربط كل صورة عنصر من العناصر التالية بالوظيفة المناسبة له .

تطبع النصوص أو الصور
المنشورة على الشاشة.

تنتشر كل المعلومات الخاصة
بالبرامج الموجودة بذاكرة الوحدة
المركزية

بإمكاننا النقر على ملامسها لكتابة
النصوص أو لإعطاء الأوامر.



III. دورة حياة المنتج :

السؤال الرابع : (5 نقاط)

أتمم الجدول التالي بما يناسب مستعينا بالمعطيات التالية :

يشترى المستهلك المنتج و يستعمله - A₅ - الإنتاج - تحليل الحاجة - A₃ - الاستعمال -
صناعة نموذج للمنتج و ذلك لتجربته - A₇ - البحث عن الحل الأفضل و الأقل ثمنا - A₁

الرّمز	اسم النشاط	تعريفه
.....	صنع المنتج بأعداد كبيرة مع المراقبة المستمرة للقياسات و جودة الصّنع.
.....	التصوّر
A ₉
.....	التأكد من أن هناك فعلا حاجة إلى ذلك المنتج.
.....	التصنيع



معملا موفّقا

