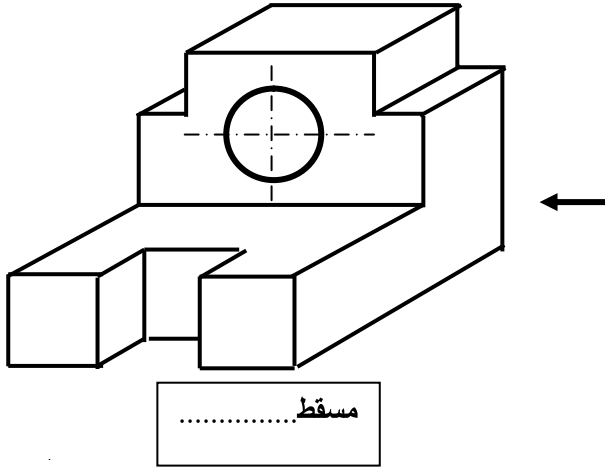
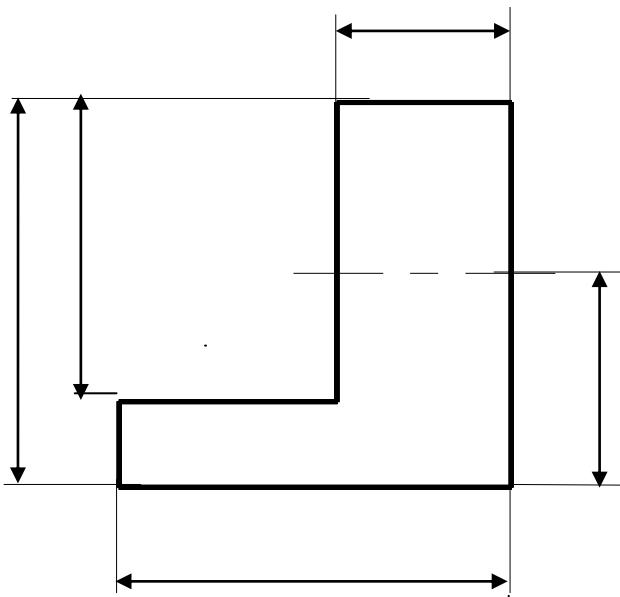


الاسم:..... اللقب:.....	اختبار كتابي عدد 2 المادة: التربية التكنولوجية	المدرسة الإعدادية الياسمين بالنفيضة
/20	9 أساسي	الأستاذ: طارق قسومي

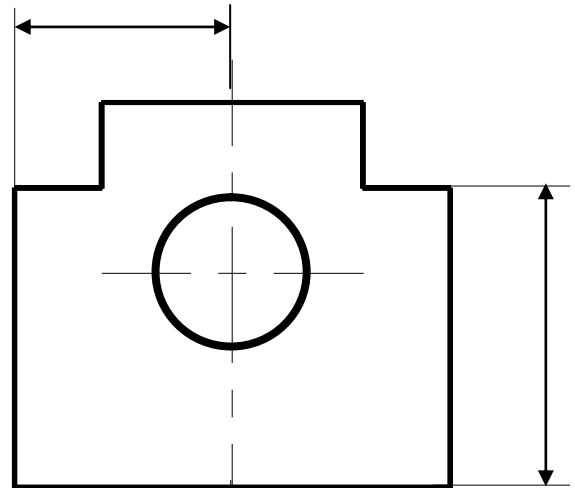
السؤال الأول: (8 نقاط)



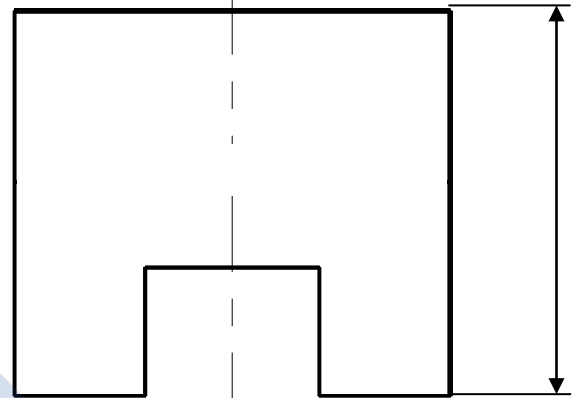
- 1- قم بتسمية المساقط على الرسم التعريفي.
- 2- اتمم رسم المساقط .
- 3- قم بترقيم القطعة .



مسقط.....



مسقط.....



مسقط.....



السؤال الثالث: (12 نقطة)

رسم منظوري لقطعة موشورية الشكل بها بعض الجزئيات :

1- اتمم رسم المساقط .

2- قم بترقيم القطعة .

