

تقييم توجيهي لبداية السنة
في مادة الرياضيات
المستوى السنة السادسة

السند 1

الوضعية عدد 1

باع فلاح قطعة أرض غي شكل مستطيل طوله بالمتر 70 و عرضه 53,6 م بحساب 3,2د للمتر المربع الواحد.

اشترى ب $\frac{3}{4}$ المبلغ المتحصل عليه 8 بقرات و الباقي علفا لها.

التعليمة 1 أحدد مساحة قطعة الأرض بالم المربع

التعليمة 2 أحدد ثمن بيع القطعتين بالد

التعليمة 3 أحدد ثمن شراء البقرات بالد

التعليمة 4 أحدد ثمن شراء البقرة الواحدة بالد

التعليمة 5 أحدد ثمن شراء العلف بالد

الوضعية عدد 2

ينطلق هذا الفلاح يوميا في الصباح بشاحنته ليوزع الحليب في القرية و يعود إلى منزله على الساعة العاشرة صباحا مقضيا 2س و 42 دق في عمله و يكون قد باع 5,2 دكل من الحليب بحساب 2,1د للتر الواحد

التعليمة 1 أحدد ساعة انطلاق الفلاح في عمله

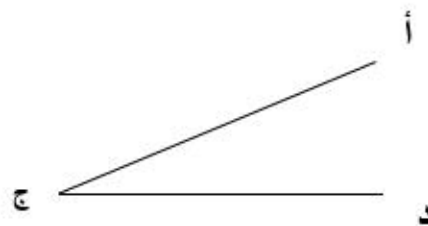
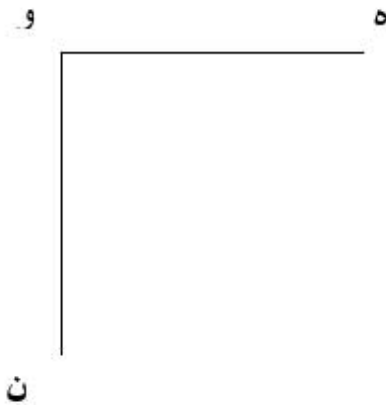
التعليمة 2 أحسب مدخوله اليومي من بيع الحليب

الوضعية 3

بعد سنوات من العمل تمكّن الفلاح من شراء أرضين الأولى مستطيلة والثانية مربعة الشكل

التعليمة 1 أكمل رسم الشكل المستطيل أ ب ج د

التعليمة 2 أتمم رسم الشكل المربع ه و ن ي



المسألة رقم 1

يعتزم صاحب مطعم انجاز أشغال تجديد لقاعة الأكل هذا الجدول يحوصل الأعمال التي سيقوم بها:

الأشغال	الكلفة	تصميم القاعة
تبليط أرضية المطعم	كلفة تبليط المتر المربع 40.250 دينار	
تغليف الجدران بالسيراميك الفاخر	كلفة تغليف المتر المربع 55.120 دينار	
تهيئة السقف بالجبس	$\frac{4}{3}$ كلفة تبليط القاعة	
تركيب واجهة بلورية	35% من كلفة تهيئة السقف	

1. - احسب كلفة الأشغال.

المسألة رقم 2

خزن عمال الديوان الوطني للحبوب نوعين من الشعير ونوع من القمح في أبراج ذات نفس السعة كما يوضحه الجدول:

نوع الحبوب	شعير صنف العرضاوي	شعير صنف ريحان	قمح لين صنف بيرصة
الكمية المخزنة	$\frac{1}{3}$	$\frac{1}{5}$	8250 كغ وهو ما يمثل 20% من سعة البرج

1. - احسب الكمية المخزنة من كل صنف من الحبوب.

خلال موسم البذر تم تعبئة 20% من الحبوب المخزنة في أكياس ذات 0.5 قنطار.

2. - احسب ثمن شراء الأكياس إذا علمت أن ثمن الكيس الواحد 0.750 د

المسألة رقم 3

انطلق تاجر من مدينة قابس نحو جربة عبر البطاح في الساعة الخامسة صباحا ، بمعدل سرعة 72 كم/س بعد أن ملأ خزان سيارته بـ 40 لتر من الوقود. فوصل إلى مرفأ الجرف على س 6 و 12 دق.

1. - ماهي كمية الوقود الباقية في السيارة إذا كان استهلاكها 7.5 ل في كل 100 كلم؟ استغرقت رحلة البطاح وإجراءات التفتيش 27 دقيقة ، ثم بدأ التاجر في توزيع بضاعته متنقلا بسرعة 60 كلم/س. امضى 4 س و 36 دق في تفريغ السلع ثم اتجه نحو البطاح . عند الصعود في البطاح كان العداد يشير إلى بقاء 15.52 ل من الوقود في السيارة
2. - حدد ساعة الخروج من جربة ؟
3. - متى يصل إلى قابس إذا علمت أنه رجع بنفس معدل السرعة عند الذهاب؟

www.najahni.tn

اختبار في الرياضيات

المسألة 1 عدد:

انطلقت سيارة من تونس على الساعة 7 و 45 دق وكان عدادها يُشير إلى 35 879 كم وخزانها ملاً بنزيناً. وصلت إلى صفاقس عند منتصف النهار؛ عند ذلك أشار العداد إلى 36 159 كم. ما هو معدل سرعة هذه السيارة علماً بأن السائق قد توقف طيلة 3 س لإصلاح عطب؟

4 ملاً الخزان ثانية. دفع 15 د فأرجع له البائع 0,200 د بعد أن طلب منه 40 مي. أبحث عن معدل استهلاك السيارة في 100 كم إذا علمت أن سعر اللتر الواحد من البنزين 1,830 د. استأنف السائق السير بعد راحة دامت 2 س ونصف فتوجه نحو القيروان فوصل إلى هذه المدينة على الساعة الرابعة و 30 دق بعد الزوال. احسب المسافة الفاصلة بين صفاقس والقيروان إذا كان معدل السرعة 68 كم / س.

المسألة 2 عدد:

- قررت لجنة حي يتكون من 50 عائلة القيام بتعهد شبكة التنوير العمومي وتشجير الساحات وتبليط الرصيف واقتناء حاويات لجمع الفضلات المنزلية. ورصدت لهذه المشاريع المبالغ التالية :
- 9 د مساهمة كل عائلة. 492 د تبرع من مؤسسة تجارية، ومنحة مالية من البلدية قدرها 750 د.
- ما هي جملة المداخل المتوقعة ؟
- بعد انتهاء العمل الذي تطلب صرف كل المداخل تبين أن تكاليف التنوير والتشجير معا بلغت
- 2 هذه المداخل وأن مصاريف التبليط تجاوزت مساهمة السكان بـ 164 د، أما باقي المداخل فقد خصص
- 5 لشراء الحاويات.
- فما هي كلفة تبليط الرصيف ؟
- ما هو عدد الحاويات التي أمكن شراؤها علماً بأن سعر الحاوية الواحدة هو 100.300 د وأن البائع منح لجنة الحي تخفيضاً قدره 20 بالمائة من ثمن الشراء ؟

اشترى فلاح أرضاً مستطيلة الشكل فدفع 2 560 د كمصاريف شتى. احسب ثمن هذه الأرض إذا علمت أن هذه المصاريف تمثل 20 % من ثمن الشراء. أبحث عن طول هذه الأرض علماً بأن ثمن شراء الأار 25 د وأن العرض 160 م.

يوجد في هذه الأرض 14 صفاً، بكل صفاً 15 شجرة زيتون. ما هي كتلة الصابة إذا كان معدل إنتاج الشجرة الواحدة في السنة الماضية 75 كغ من حب الزيتون؟

فكر الفلاح في بيع صابته بحساب 0,095 د الكغ لكنه تراجع فنقلها إلى المعصرة قصد تحويلها زيتاً حدد ربح هذا الفلاح

أو خسارته إذا علمت أن الزيتون قد أعطى 12 % من كتلته زيتاً وأنه قد باع الهل الواحد بـ 145,000 د بعدما أخذ صاحب المعصرة $\frac{1}{10}$ الزيت كمعلوم أجرته كما أن مصاريف الجني قد قدرت في كلتا الحالتين بـ 480,000 د.
(كتلة 1 ل من الزيت 0,900 كغ).



أَسْتَعِدُّ لِلْامْتِحَانِ النَّهَائِيِّ

1 أَكْمِلِ الْجَدْوَلَ :

مُعَدَّلُ السَّرْعَةِ	75 كم/س	24 كم/س	45 كم/س	78 كم/س
زَمَنُ السَّيْرِ	6 س	4 س	2 س	3 س
المِسَافَةُ الْمَقْطُوعَةُ

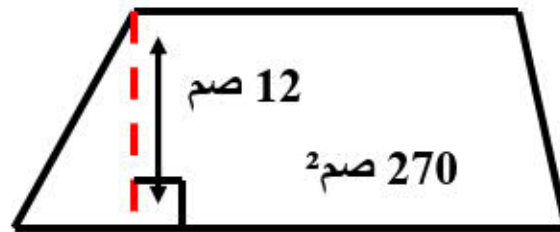
2

لِصْنَعِ طَبَقٍ مِنْ نَحَاسٍ قَامَ أَحَدُ عُمَالِ الصِّنَاعَاتِ التَّقْلِيدِيَّةِ

بِقِصِّ دَائِرَةٍ قَطْرُهَا 48 صم .

♣ أَحْسَبْ مِسَاحَةَ هَذَا الطَّبَقِ .

3



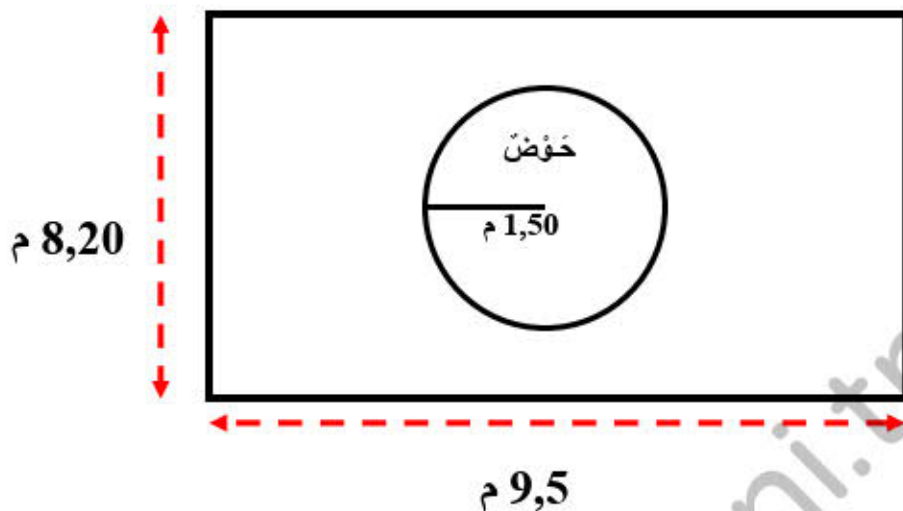
قِطْعَةٌ مِنَ الْخَشَبِ عَلَى شَكْلِ شِبْهِ مُنْحَرِفٍ ، قِيسُ مِسَاحَتِهَا 270 صم²

وَطَوَّلُ ارْتِفَاعِهَا 12 صم .

♣ اِبْحَثْ عَنْ مَجْمُوعِ الْقَاعِدَتَيْنِ .

القاعدة الكبرى أطول من القاعدة الصغرى بـ 9 صم .
 ما هو قيس طول كل من القاعدة الكبرى و القاعدة الصغرى ؟

4



أمام منزلنا ساحة مستطيلة الشكل طولها 9,5 م وعرضها 8,20 م ،
 أقيم داخلها حوض ماء دائري طول شعاعه 1,50 م .

1
 ما مثل الساحة والحوض بتصميم حسب السُّم
 100
 ما هي المساحة الباقية بعد إقامة الحوض ؟

5 أكمل تغمير الجدول :

المسافة المقطوعة	60 كم	320 كم	120 كم	120 كم	80 كم
زمن السير	4 س	5 س	2 س	1 س و 30 دق	1 س و 20 دق
معدل السرعة

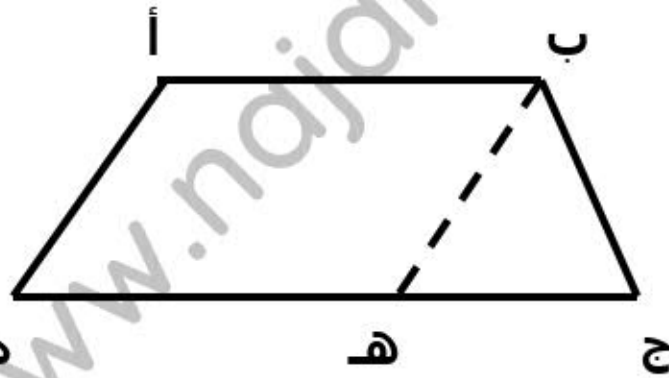
6 بيع بستان على شكل شبه منحرف بـ 8700 د وذلك بحساب 7500 د

الهِكْتَارِ الْوَاحِدِ .

♣ اِبْحَثْ عَنْ مِسَاحَةِ الْبُسْتَانِ .

♣ مَا هُوَ قَيْسُ طُولِ الْقَاعِدَةِ الْكُبْرَى عِلْمًا وَأَنَّ طُولَ الصَّغْرَى 115 م وَطُولَ
الْاِرْتِفَاعِ 80 م ؟

7 صَنَعَ رَمْزِي مُكَعَّبًا مِنْ الْوَرَقِ طُولُ حَرْفِهِ 15 صَم ثُمَّ رَسَمَ عَلَى كُلِّ
وَجْهِ مِنْهُ دَائِرَةً طُولَ شُعَاعِهَا 3 صَم . لَوَّنَ رَمْزِي كُلَّ الدَّوَائِرِ بِالْأَبْيَضِ
أَمَّا بَاقِي الْمِسَاحَةِ فَقَدْ لَوَّنَهَا بِالْأَحْمَرِ .
♣ اِبْحَثْ عَنْ الْمِسَاحَةِ الْمَلُونَةِ بِالْأَبْيَضِ .
♣ مَا هِيَ الْمِسَاحَةُ الْمَلُونَةُ بِالْأَحْمَرِ ؟



قِطْعَةٌ أَرْضٍ عَلَى شَكْلِ شِبْهِهُ مُنْحَرَفٍ طُولُ قَاعِدَتَيْهِ 120 م وَ 80 م وَطُولُ
اِرْتِفَاعِهِ 55 م .

♣ مَا هِيَ مِسَاحَةُ هَذِهِ الْقِطْعَةِ ؟

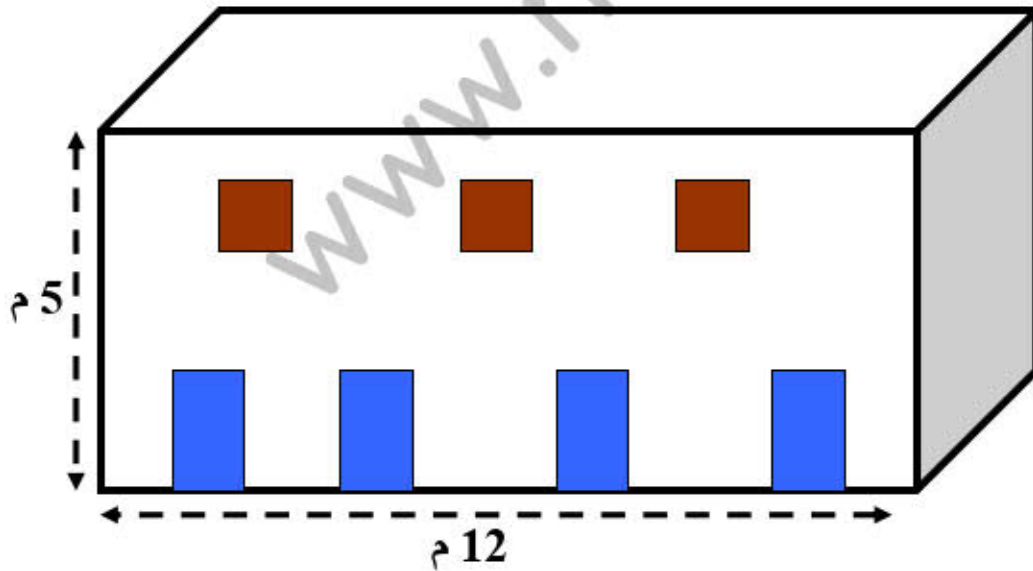
قَسَمْنَا قِطْعَةَ الْأَرْضِ بِقِطْعَةٍ مُسْتَقِيمِ [ب هـ] مُوَازِيَةٍ لِلضِّلَعِ [أ د] .
بِيعَ الْجُزْءُ (أ ب د هـ) بِحِسَابِ 300 د الْآرِ الْوَاحِدِ .

♣ اِبْحَثْ عَنْ ثَمَنِ بَيْعِ هَذَا الْجُزْءِ .

9 اكْمِلْ تَعْمِيرَ الْجَدْوَلِ :

المسافة المقطوعة	58 كم	63 كم	105 كم	62,5 كم	109,2 كم	148,5 كم
معدل السرعة	24 كم/س	18 كم/س	80 كم/س	50 كم/س	72 كم/س	54 كم/س
زمن السير

10 يملك فلاح حقلين لهما نفس المساحة ، أحدهما مثلث الشكل طول قاعدته 120 م وطول ارتفاعه 75 م ، والثاني على شكل شبه منحرف طول ارتفاعه 45 م .
 • ابحث عن طول كل من القاعدتين الكبرى والصغرى علماً وأن القاعدة الصغرى تمثل $\frac{3}{7}$ القاعدة الكبرى .



11 قاعة أفراح على شكل متوازي مستطيلات طوله 12 م وارتفاعه 5 م ، تحتل الأبواب والنوافذ مساحة 17 م² .
 بلغت كلفة طلاء جدران القاعة 640,500 د .

- ♣ مَا هِيَ الْمِسَاحَةُ الْمَطْلِيَّةُ عَلَمًا وَأَنْ كُفَّةَ طِلَاءِ الْمَدِّ الْوَاحِدَ 3,500 د ؟
- ♣ مَا هِيَ الْمِسَاحَةُ الْجَانِبِيَّةُ لِلْجُدْرَانِ ؟
- ♣ اِبْحَثْ عَنْ مُحِيطِ الْقَاعَةِ .
- ♣ مَا هُوَ قَيْسُ عَرْضِهَا ؟



الإختبار الجهوي في مادّة الرياضيات

المسألة عدد 1:

في دورة الصحراء لسباق الدراجات الثارية ، انطلقت المرحلة الأولى من الموقع "س" باتجاه الموقع "ص" في الساعة 9 و 10 دق صباحا. بعد قطع المتسابقين $\frac{5}{9}$ من المسافة ن أعلمهم المنظمون بأن عليهم قطع 116 كلم أخرى لإتمام المرحلة في الموقع "ص". وصل الدراج الفأز بالمرحلة الأولى إلى خطّ النهاية في الساعة 10 و 58 دقيقة.

1. ماهو قيس المسافة الجمالية الفاصلة بين "س" و "ص"؟
2. أحسب بالكم/س معدّل سرعة الدراج الفأز بالمرحلة الأولى.

المسألة عدد 2:

توقّف المتسابقون بالموقع "ص" وسط أرض مستطيلة الشكل قيس عرضها $\frac{3}{4}$ قيس طولها و الفارق بينهما 30 مترا.

1. ماهو قيس كلّ بعد من بعدي الأرض؟



2. أرسم قطعة الأرض وفق السلم $\frac{1}{2000}$.

المسألة عدد 3:

استعدادا للدورات اللاحقة طلب المنظمون إلى مالك الأرض تسييجها ببناء جدار حجري ارتفاعه 2 م على محيطها الذي يقيس 420 مترا على أن يترك مدخلا عرضه 8 أمتار ترغّب به بؤابة حديدية ، فأستدعى لذلك خبير بناء قدّر له ثمن كلفة المتر المربع الواحد من الجدار الحجري بـ 25 ديناراً و كلفة البؤابة و تركيبها بـ 5% من كلفة بناء الجدار. أدرك مالك الأرض إنّه لا يملك سوى $\frac{5}{7}$ الكلفة الجمالية مدخرة في البنك و 1180 دينار معلوم كراء الأرض للدورة الحالية و أنّه عليه اقتراض المبلغ التّاقص.

1. ماهو قيس مساحة الجدار الحجري؟
2. ماهي كلفة التسييج الجمالية؟
3. ابحت عن المبلغ الذي ينوي مالك الأرض اقتراضه.

1- أعبّر عن الجزء المخطط في كل شكل:



2- أكتب ما يلي في صورة عدد كسري:

خمس: نصف: خمسة أنصاف:
ثلاثة أثمان: ستة على أحد عشر: أربعة أضعاف:
ثلثان: ثلث: ثلاثة أرباع:

3 - أريد توزيع 9 بالتساوي على 4 أصدقاء.

أعبّر بعدد كسري عن مناب كل واحد:

أعبّر بكتابة أخرى عن مناب كل واحد:

4- عدد تلاميذ قسمنا 35 من بينهم 17 ولدا.

أعبّر بعدد كسري عن عدد البنات بالنسبة إلى عدد التلاميذ الجملي:

أعبّر بعدد كسري عن عدد الأولاد بالنسبة إلى عدد التلاميذ الجملي:

5- خرج فلاح إلى السوق و معه 27 خروفا و 8 نعاج و 6 عنزات. باع 17 خروفا و 6 نعاج و 4 عنزات.

- أعبّر بعدد كسري عن عدد الخرفان التي باعها من جملة حيواناته:

- أعبّر بعدد كسري عن عدد النعاج التي خرج بها من جملة حيواناته:

- أعبّر بعدد كسري عن عدد العنزات التي باعها من جملة عنزاته:

- أعبّر بعدد كسري عن عدد الرؤوس التي باعها من جملة حيواناته:

6- أفكك كل عدد كسري إلى عددين أو أكثر:

$$\dots\dots\dots = \frac{17}{8} \qquad \dots\dots\dots = \frac{12}{15}$$

$$\dots\dots\dots = \frac{18}{29} \qquad \dots\dots\dots = \frac{29}{65}$$

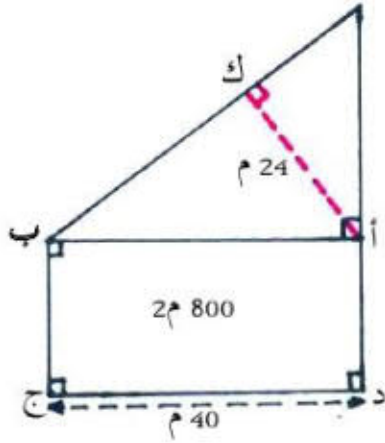
$$\dots\dots\dots = \frac{85}{15} \qquad \dots\dots\dots = \frac{41}{32}$$

7- اشترى ثلاثة اخوة قطعة أرض قسموها كما يلي: أخذ الأول $\frac{5}{19}$ و أخذ الثاني $\frac{7}{19}$

أبحث عن العدد الكسري الذي يمثل مناب الأخ الثالث.

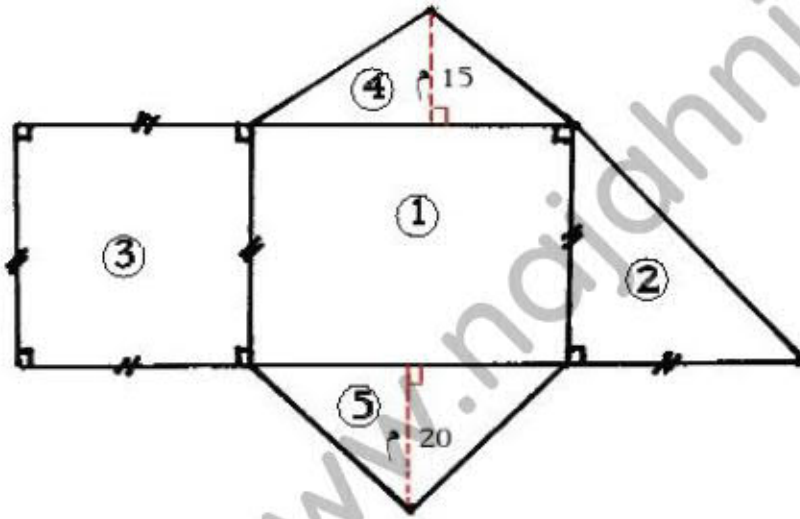
.....

www.najahni.tn



- 10 - يملك فلاح قطعة أرض في شكل مستطيل. شري
قطعة ملاصقة لها في شكل مثلث وقيس مساحتها $\frac{3}{4}$
قيس مساحة الأولى مثلما يبينه الرسم.
أ - أحدد قيس طول [أه].
ب - أحدد قيس محيط القطعة التي صار يملكها الفلاح بعد ضم
القطعتين إلى بعضهما.

2 - يمثل الرسم الآتي سوقا بلدية بإحدى المدن.



- 1 المنطقة للخضر والغلال قيس مساحتها 1200 م².
2 المنطقة للأسماك.
3 المنطقة للحوم.
4 المنطقة للحليب ومشتقاته.
5 المنطقة لنباتات الزينة والأزهار وقيس مساحتها 400 م².
بلغت مداخيل تأجير السوق سنة 2006 بالدينار 487 500.
ما معدل المعلوم السنوي لتأجير المتر المربع الواحد؟

عملا موفقا

التدريب على تأليف مسائل و حلها

المعطيات :	أ/ أربط ثم اكتب المطلوب
• ثمن الحاسوب : 1050,900 د	•
• ثمن الآلة الطابعة : 90,750 د	•
• ثمن الطاولة : ثلث ثمن الحاسوب	•
• ما ادخره الأب في الشهر : 75,500 د	•
• مدة الادخار : سنتان كاملتان	• السؤال النهائي
• التخفيض : 20 د	

ب/ أَلّف مسألة باستعمال المعطيات ثم اختر سؤالين تجعلهما مطلوباً صريحاً ج/ حل المسألة

مسألة 2 : يملك مواطن قطعة أرض مستطيلة الشكل قيس مساحتها 2550 م² و قيس طولها 85 م

❖ ابحث عن

• لإتمام بناء منزله باع من أرضه قطعة مربعة الشكل قيس ضلعها مساو لقيس عرض الأرض

❖ احسب

• تسلم البائع $\frac{1}{9}$ الثمن المتفق عليه كتسبقة فسيج به أرضه بعد ترك مدخل عرضه 3 م ، بلغ ثمن المتر من السياج 15 د

❖ ابحث عن

كم ثمن المتر المربع الواحد للأرض التي باعها

❖ ابحث عن كلفة السياج

المسألة 1—دد:

يملك مواطن ارضا مستطيلة الشكل، محاذية للطريق العام قيس محيطها 17,5م وقيس طولها 450م.
ماهو قيس عرضها؟

اقتطعت البلدية لتوسيع الطريق العام شريطا من هذه الأرض موازيا للطول حدّد ثمنه ب12600د بحساب 7د المتر المربع الواحد. كم أصبح عرض الأرض المتبقية؟

✓ اشطب الخطأ: يرتبط السؤال الأول ب: قيس المحيط
ثمن المتر المربع - قيس نصف المحيط

✓ يرتبط السؤال الثاني ب:
.....
.....
.....
.....

المسألة 2—دد

يملك مواطن أرضا مستطيلة الشكل قيس طولها 25م بحساب 8د للمتر المربع الواحد. وبعد عملية التسجيل التي بلغت 180د وجد أن الكلفة قد بلغت 3780د.

أحسب قيس مساحة الأرض؟

أحسب قيس عرضها؟

أكمل: يرتبط السؤال الأول ب وب.....

وب..... وب.....

يرتبط السؤال الثاني ب ب..... وب.....

أحرر حلا عدديا للمسألة الأول:

.....
.....
.....
.....

المعلم: مفتاح رحال

التدريب على حل المسائل
-المعطيات والأسئلة

المدرسة الابتدائية
بزاوية الحرث

اشترى أبي قطعة أرض مستطيلة الشكل قيس مساحتها 3850 م² وفكر في تسييجها ب 4 صفوف من الأسلاك تباع في لفائف قيس طول الواحدة 400 م وثمانها 25 د.

ما هو قيس طول الصف الواحد؟

ما هو قيس طول كل السلك اللازم؟

ما هو ثمن شراء الأعمدة التي يشد إليها السلك؟

ما هي كلفة تسييج الحقل؟

التعليمة أ) ما المعطيات الثلاثة التي تنقص المسألة حتى تتوافق والمسألة ؟

المسألة 2

اشترى بستاني 50 غ من الأدوية بثمان جملي قدره 2500 مي استعمالها كلها بالتساوي لمداداة 12 حوضا . أنتج الحوض 20 كغ جزرا وباع الكغ ب 300 مي.

ما هو وزن الدواء بكل حوض؟

ما هو مردود الأحواض من الجزر؟

ما هو ثمن بيع الجزر؟

ما هو الربح الذي حققه البستاني؟

أعمر الجدول :

السؤال	المعطيات

المسألة 3

حقل مستطيل الشكل قيس محيطه 360 م وقيس عرضه 65 م. ينتج في الهكتار 26 ق شعيرا باع الفلاح $\frac{5}{4}$ المحصول بحساب 5 . 20 د القنطار .

الأسئلة	المعطيات
قيس مساحة الحقل؟	
مردود الحقل من الشعير؟	
وزن الشعير المبيع؟	
ثمن بيع الشعير؟	

Math قواعد عملية في الحساب الذهني

- لأقسم عددا ما على 5 أضرب العدد في 2 ثم أقسم على 10
- لأقسم عددا ما على 50 أضرب العدد في 2 ثم أقسم على 100
- لأقسم عددا ما على 500 أضرب العدد في 2 ثم أقسم على 1000
- لأقسم عددا ما على 0.5 أضرب العدد في 2
- لأقسم عددا ما على 0.05 أضرب العدد في 20
- لأقسم عددا ما على 0.25 أضرب العدد في 4
- لأضرب عددا في 150 أجمع له نصفه ثم أضربه في 100

اختيار: سيرين جرتيلة- فراس بن مسعود- بلسم القشعي



- كيف أجد تربيع أعداد من منزلتين و رقم الأحاد 5 ؟
خذ العدد الذي على يسار 5 و زده 1 .
اضرب المجموع في رقم عشرات العدد .
ضع 25 على يمين العدد المتحصل عليه نتيجة عملية الضرب .

45×45	75×75	مثال: 35×35
$5 = 1 + 4$	$8 = 1 + 7$	$4 = 1 + 3$
$20 = 4 \times 5$	$56 = 7 \times 8$	$12 = 3 \times 4$
$45 \times 45 = 2025$	$75 \times 75 = 5625$	$35 \times 35 = 1225$

اختيار: أمين العابد



- ضرب الأعداد من 13 إلى 19 ببعضها :
مثال : 13×16
اجمع أحدهما مع أحاد الثاني : $16 + 3 = 19$
اضرب المجموع في 10 : $19 \times 10 = 190$
اضرب الأحاد في الأحاد : $6 \times 3 = 18$
اجمع : $190 + 18 = 208$
 $13 \times 16 = 208$

اختيار : يوسف راشد- سجير بو بطن

www.najahni.tn

سلسلة تمارين

ملاحظة: في كلّ تمرين من التمارين التالية يجب الإعتماد على رسم بياني

تمرين عدد 1:

يقطع ماهر و عماد مسافة 1680 م للذهاب إلى المدرسة . غير أنّ المسافة التي يقطعها ماهر أطول من المسافة التي التي يقطعها عماد بـ 120 م .
إبحث عن المسافة التي يقطعها كل منهما.

تمرين عدد 2:

يَزن يوسف وأخته بلسم معًا 65 كغ. غير أنّ وزن بلسم يقلّ عن وزن يوسف بـ 17 كغ.
إبحث عن وزن كل واحد منهما.

تمرين عدد 3:

تمكّن والدي خلال سنةٍ من ادّخار 3960 د وكانت مساهمة أمي أقل من مساهمة أبي بـ 360 د.
ما قيمة المبلغ المالي الذي ساهم به كلّ منهما؟

تمرين عدد 4:

سوار وخاتم ثمنهما 1800 د. فإذا كان ثمن السوار يبلغ 3 مرّات ثمن الخاتم.
فما هو ثمن كلّ قطعة؟

تمرين عدد 5:

لفلاح قطعة أرض مستطيلة الشكل قيس محيطها 258 م.
إذا علمت أن قيس عرضها نصف قيس طولها، فما هو قيس عرضها وما هو قيس طولها؟

تمرين عدد 6:

لفلاح قطعة أرض مستطيلة الشكل قيس محيطها 250 م.
إذا علمت أن قيس طولها يفوق قيس عرضها بـ 21 م، فما هو قيس عرضها وما هو قيس طولها؟

تمرين عدد 7:

ورّعت سيّدة على أبنائها الثلاث مبلغ مالي قيمته 550 د، فكان مناب الأول ضعف مناب الثاني ومناب الثالث يفوق مناب الثاني بـ 30 د.
فما هو مناب كلّ واحد من الأبناء.

تمرين عدد 8:

جرّتان من الزّيت تسعان معًا 273 ل. أخذنا من الأولى 123 ل، و من الثانية 74 ل، فَبَقِيََتْ نفس الكميّة بكلّ جرّة. إبحث عن سعة كلّ جرّة .

تمرين عدد 9:

أفرغ رجل 12,5 ل من الماء في سَطْلٍ، و 5 دسل في سَطْلٍ آخَرَ، وطلب من ابنه أن يُعدّل وزنيهما، كم لترا يجب أن يأخذ من الأوّل ويزيدها للثاني حتى تصبح نفس الكميّة في كلّ سطل؟

تمرين عدد 10 :

اشترت محفظة و قاموسا بـ 49600 مي لو كان سعر المحفظة أبخس بـ 12 د، وسعر القاموس أبهظ بـ 9600 مي لكانا متساويين في الثمن.
أحسب ثمن كل من المحفظة و القاموس.

تمرين عدد 11 :

ثلاثة إخوة مجموع أعمارهم 65 سنة حاليًا. قبل 10 سنوات كان عمر الأول ضعف عمر الثاني، وعمر الثاني ضعف عمر الثالث. ما هو عمر كل شاب حاليًا؟

تمرين عدد 12 :

لجدتي مجموعة من الأرناب ترغب في بيعها بحساب 19 د الأرناب الواحد. لو باعتها لي بحساب 17 د الأرناب الواحد لبق لي من المبلغ الذي أملكه 29 د وإن اشتريتها منها بالسعر الذي حدّته لأصبح ينقصني 57 د.

① ما هو عدد الأرناب؟

② أحسب بطريقتين مختلفتين المبلغ الذي أملكه.

تمرين عدد 13 :

باع صاحب مقهى 120 كرسيًا قديمًا بـ 381 د.

هذه الكراسي على نوعين، النوع الأول باعه بحساب 3,400 د الكرسي الواحد، النوع الثاني باعه بحساب 2,800 د الكرسي الواحد.

ابحث عن عدد الكراسي من كل نوع.

تمرين عدد 14 :

يمتلك أحمد مجموعة من الأرناب والدجاج، وكان كثير الحديث عنها، فسأله ابن عمه يوسف كم عدد كل صنف منها؟

فأجابه أحمد عدد رؤس المجموعة بصنفها 25 و عدد أرجلها 72 و بهذا المعطى يمكنك أن تتمكّن من الإجابة عن سؤالك يا يوسف بالإعتماد على رسم بياني.

ماهي الإجابة عن سؤال يوسف؟

تمرين عدد 15 :

دفع كتبي 548,400 د مقابل شراء صنفين من الكراسيات.

• الصنف الأول : كراسيات ذات 24 صفحة و ثمن الواحدة 5,480 د.

• الصنف الثاني : كراسيات ذات 48 صفحة و ثمن الواحدة 1,080 د.

فكان عدد الكراسيات من الصنف الثاني يقلّ عن عدد الكراسيات من الصنف الأول بـ 33 كراسيا.

ابحث عن عدد الكراسيات من كل صنف مستعينا برسم بياني.

الأولمبياد في الرياضيات

اختبار عدد 1

المدة = ساعتان

الوضعية رقم 1

أ - رتب ما يلي تنازليًا :

$$1 * \sqrt{\frac{5}{4}} * \sqrt{\frac{4}{7}} * \sqrt{\frac{11}{3}} \quad 2,4 * \sqrt{\frac{4}{9}} * \sqrt{\frac{6}{7}} * \sqrt{\frac{11}{2}}$$

ب - أوجد عددا كسريًا مكافئًا لـ $\frac{45}{72}$ ويكون مجموع حدّيه 26

** الوضعية رقم 2 **

لفلاح قطعة أرض ، زرع $\frac{5}{3}$ مساحتها قمحا ، واستغل ثلث ما تبقى من الأرض لزراعة الفول ، وخصّص المساحة الباقية وهي 9,6 آر لغراسة أشجار اللوز .
يقيس عرض هذه الأرض 45 م ، ما هو قيس طولها ؟

** الوضعية رقم 3 **

ابن بواسطة البركار والمسطرة مثلثا (أ ب ج) قائم الزاوية في " ب " ، يقيس [أ ج] 10 صم والزاوية ب أ ج = 30 ° .

** الوضعية رقم 4 **

انطلقت سيارة من مدينة " قصر هلال " على س 11 و 50 دق بسرعة معدّلها 90 كم / س ، وصلت إلى مدينة " صفاقس " على الساعة الواحدة و 25 دق بعد الزوال بدون توقّف ، بقي السائق بـ " صفاقس " مدة ساعتين وثلث الساعة ، ثمّ قفل راجعا إلى " قصر هلال " التي وصلها على الساعة 17 و 25 دق .
ما هو معدّل سرعته عند الرجوع إلى " قصر هلال " ؟

** الوضعية رقم 5 **

اشترى بقال 45 كغ من الخوخ بـ 0,900 د الكغ ، باع الخُمسَين بخسارة قُدّرت بـ 5 % .
بكم يجب أن يبيع الكغ الواحد من الخوخ الباقي لكي يربح في الجملة 20 % ؟

أولمبياد الحاج علي صوة للرياضيات : 2003 / 2004 - قصر هلال - المنستير

الأولمبياد في الرياضيات

اختبار عدد 2

المدة = ساعتان

الوضعية رقم 1

عدد ذو خمسة أرقام يحقق ما يلي : رقم مئاته يساوي مجموع رقمي عشراته وعشرات آلافه ، رقم أحاده ضعف رقم عشراته ، عدد آلافه 31 ، باقي قسمته على 5 يساوي 3 .

الوضعية رقم 2

تأمل الانتظام التالي ثم عمّر الفراغات في ما يلي :

.....	945	105	15	3	1
-------	-------	-----	-----	----	---	---

الوضعية رقم 3

عددان الفرق بينهما 538 ، لو قسمت أحدهما على الآخر لكان خارج القسمة 13 والباقي 22 .
أوجد هذين العددين .

الوضعية رقم 4

بإمكان الحنفية " أ " أن تملأ الحوض في 3 ساعات ، أما الحنفية " ب " فتملؤه في 5 ساعات . لو أردنا ملء الحوض باستعمال الحنفيتين معاً ، فكم سنقضيان من وقت ؟

الوضعية رقم 5

ضيعة مستطيلة الشكل يقيس عرضها $3/5$ طولها ، والفارق بين بعديها 60 متراً . اشتراها صاحبها بـ 298 د الأار الواحد . بعد تغطية مصاريف نقل الملكية والتسجيل ، بلغت الكلفة الجمالية لشراء هذه القطعة 42844,950 د .

(1) إبحث عن النسبة المئوية لمصاريف نقل الملكية والتسجيل بالنسبة لثمن شرائها .
خصّص صاحب الضيعة أقلّ من نصف مساحتها بـ 9 آر للمرعى و $5/3$ ما تبقى من الضيعة لزراعة الفول والباقي النهائي من الأرض لزراعة الحمص .

(2) إذا علمت أنّه وقع تقسيم الأرض حسب خطوط موازية للعرض ، فما هو عرض كلّ قطعة من القطع الثلاثة حسب تصميم سلّمه $1000 / 1$.

أولمبياد الحاج علي صوة للرياضيات : 2004 / 2005 - قصر هلال - المنستير

الأولمبياد في الرياضيات

اختبار عدد 3

المدة = ساعتان

الوضعية رقم 1

إبحث عن المقسوم في قسمة أقليدية ، إذا علمت أن القاسم يساوي 5 وأن الباقي يساوي خارج القسمة . أعط جميع الحلول .

الوضعية رقم 2

إشترت جهاز راديو بـ 21,600 د وقد ذكر التاجر أنه ربح 12,5 % فقط . فبكم اشتراه من المعمل ؟

الوضعية رقم 3

انطلق حلزون يوم الأحد على الساعة السادسة صباحا يتسلق عمود كهرباء ارتفاعه 11 م ، لاحظنا صباحا أنه تسلق 5 م طيلة النهار أي من السادسة صباحا إلى السادسة مساء ، ولكنه في الليل من السادسة مساء إلى السادسة صباحا ينزل 2 م .
ابحث عن زمن وصول الحلزون إلى أعلى العمود .

الوضعية رقم 4

واصل تعميم تربيعات الجدول ليكون سحريا (مجموع الأعداد في كل سطر وفي كل عمود وفي كل قطر يساوي 65) الأعداد من 1 إلى 25

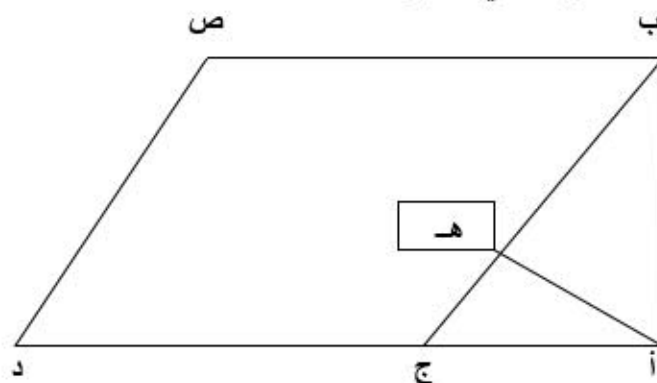
1	19			13
22		3		9
		24		5
14	2		8	
		11	4	17

الوضعية رقم 5

في أي عدد صحيح يجب أن تضرب العدد 13 حتى تحصل على عدد صحيح كل رقم من أرقامه 1

الوضعية رقم 6

يملك مواطن قطعة أرض في شكل مثلث قائم الزاوية (أ ب ج) (أنظر المثال المصاحب) ، وأراد أن يشتري القطعة المجاورة (ب ج د ص) وهي في شكل معين وذلك بحساب 33,750 د المتر المربع الواحد (1) ما هو ثمن شراء المعين (ب ج د ص) ؟
(2) أودع البائع كامل المبلغ المتحصل عليه في البنك مدة سنة ، تحصل على إثرها على فائض قدره 1984,500 د . ما هي النسبة المئوية التي منحها له البنك ؟



السلم = 250 / 1 أ ب = 11,2 صم أ ج = 8,4 صم أ ه = 6,72 صم

أولمبياد الحاج علي صوة للرياضيات : 2006 / 2005 - قصر هلال - المنستير

الأولمبياد في الرياضيات

اختبار عدد 4

المدة = ساعتان

الوضعية رقم 1

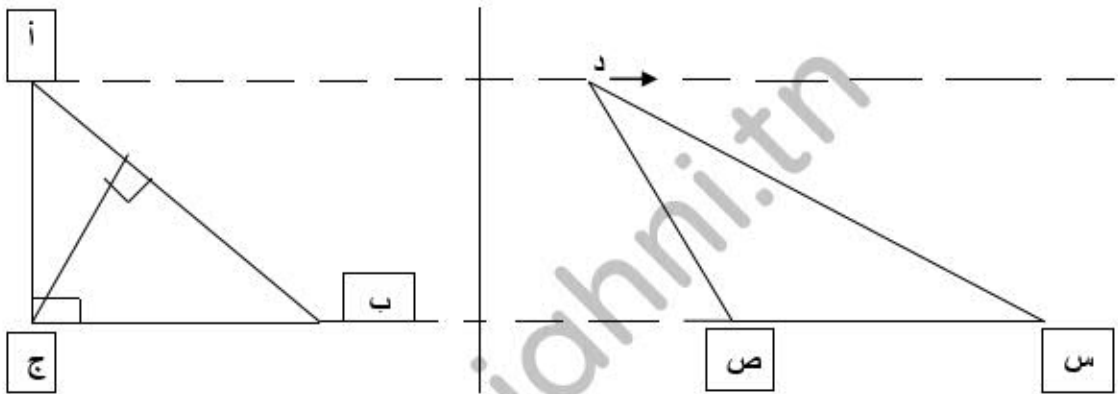
أ - رتب الأعداد التالية تصاعدياً دون المساس بالمقامات

$$0,3 * \frac{3}{7} * \frac{17}{2} * \frac{16}{5} * \frac{11}{8} * \frac{4}{7}$$

الوضعية رقم 2

أراد تلميذ أن يضرب عدداً في 60 ، فضربه في 6 ونسي أن يضيف الصفر على يمين الناتج ، قال له المعلم : " إن الفرق بين الجداء الصحيح والناتج الذي تحصلت عليه هو 40662 . " هل عرفت العدد الأول الذي أراد التلميذ ضربه في 60 ؟

الوضعية رقم 3



إعلم أن قيس مساحة المثلث (س ص د) يساوي 15 صم² وأن س ص = ب ج = 6 صم وأن الارتفاع الموافق للقاعدة [أ ب] يقيس 4 صم .
إبحث عن قيس محيط المثلث (أ ب ج) ؟

الوضعية رقم 4

لبناء مسكن ، شري مواطن قطعة أرض مستطيلة الشكل محيطها 61 م ، يفوق قيس عرضها ثلثي طولها بنصف متر .
احسب قيس مساحة القطعة بحساب الأرو .

الوضعية رقم 5

باع كتبي في مفتتح السنة الدراسية 7 / 4 كتبه بـ 2,375 د الكتاب الواحد محققاً بذلك ربحاً قيمته 25 % من ثمن الشراء . وبعد أيام ، باع كمية الكتب المتبقية بربح قدره 380 مي عن الكتاب الواحد ، فقبض 239,400 د . احسب المبلغ الجملي الذي دفعه الكتبي مقابل شراء كل الكتب .

الوضعية رقم 6

باع فلاح عجلاً محققاً ربحاً نسبته 15 % من ثمن شرائه . وقبل عودته إلى القرية ، أنفق هذا الرجل ما ربحه من بيع العجل كما يلي :

- صرف خمسي مقدار الربح في شراء العلف .
- شري شعيراً يفوق ثمنه 7 / 4 باقي الربح بـ 23 د .

احسب ثمن شراء العجل علماً وأن الباقي النهائي من مقدار الربح حدّد بـ 31 د .

أولمبياد الحاج علي صوة للرياضيات : 2007 / 2006 - قصر هلال - المنستير

الأولمبياد في الرياضيات

اختبار عدد 5

المدة = ساعتان

الوضعية رقم 1

أ - رتب ما يلي تصاعدياً دون المساس بالمقامات :

$$1 * \sqrt{\frac{6}{7}} * \sqrt{\frac{11}{2}} * \sqrt{\frac{4}{7}} * \sqrt{\frac{5}{4}} * 80\%$$

ب - أوجد عدداً كسرياً مكافئاً لـ $\frac{65}{104}$ ويكون مجموع حدّيه 26

الوضعية رقم 2

لبستاني أرض على شكل مستطيل ، زرع خمسي مساحتها جلبانا ، واستغل ثلث ماتبقى من الأرض لزراعة الفول ، وخصّص المساحة المتبقية وهي 16,8 آر لغراسة أشجار الخوخ .
إذا كان عرض هذه القطعة 50 م فما هو طولها ؟

الوضعية رقم 3

ابن مثلثا (أ ب ج) قائم الزاوية في " أ " يقيس وتره [ب ج] 6 صم والزاوية أ ب ج = 60 °

الوضعية رقم 4

انطلقت سيارة من مدينة " بنّان " على الساعة 11 و 50 دق بسرعة معدلها 90 كم / س متجهة إلى مدينة صفاقس التي وصلتها على الساعة الواحدة و 25 دق بعد الزوال دون توقف . بقي السائق بصفاقس مدة ساعتين وثلث الساعة ثم قفل راجعاً إلى " بنّان " التي وصلها على الساعة 17 و 25 دق .
ما هو معدل سرعته عند الرجوع إلى " بنّان "

الوضعية رقم 5

أقيم بمعهد حفل خصّصت مداخله لفائدة صندوق التضامن مع العائلات المعوزة ، وأحضرت لهذا الغرض 216 طاولة مستديرة الشكل قيس شعاع الواحدة منها 4 دسم ، والجالس حولها يحتاج لـ 62 و 8 صم من قيس محيطها .
عند بداية الحفل ، بقي 1 / 6 عدد الطاولات شاغراً .
(1) ما هو عدد الحاضرين في الحفل ؟
(2) بعد طرح 18 % من جملة مداخل الحفل ، كان نصيب الصندوق 2479,680 .
ابحث عن المبلغ المتجمّع من الحفل .
(3) إذا كان 7 / 5 مداخل الحفل قد حصل من بيع التذاكر من صنف 5 د والباقي من التذاكر من صنف 3 د ، ما هو عدد التذاكر من كلّ صنف ؟

أولمبياد الحاج علي صوة للرياضيات : 2007 / 2008 - قصر هلال - المنستير

الوضعية رقم 1

أ - اختزل مجموع الأعداد التالية إلى أقصى حدّ ممكن $\frac{1}{4} + 0,4 + 35\% = \dots\dots\dots$

ب - عدد صحيح لو أضفنا له مثله ثمّ ضعفه ثمّ نصفه وطرحنا منه 6 لتحصلنا على 75 . فما هو هذا العدد ؟

الوضعية رقم 2

قطعة أرض فلاحية مساحتها 24,3 أر ، يقيس عرضها 5 / 6 طولها .
ابحث عن قيس محيط هذه القطعة من الأرض .

الوضعية رقم 3

ابن مستطيلا يقيس عرضه بالصم 4 وقطره 12 صم .

الوضعية رقم 4

اشترى " إسلام " كتاب مطالعة وكراسا وقلما بثمن جملي قدره 2,260 د ، أما أخوه " ياسين " فقد
اقتنى 4 كتب مطالعة وكراسين وقلمين من نفس النوع الذي اشتراه أخوه بمبلغ 7,420 د .
ثمن الكراس يبلغ ضعف ثمن القلم .
1 (حدّ ثمن الكتاب الواحد بالدينار .
2 (ابحت عن ثمن القلم الواحد ثمّ عن ثمن الكراس الواحد .

الوضعية رقم 5

يبعد مسكن السيد " سامي " عن مقرّ عمله مسافة 12 كم . يغادر السيد " سامي " منزله ساعة قبل وقت
انطلاق عمله ، ويقطع المسافة على درّاجته بسرعة معدّلها 18 كم / س .
تأخّر السيد " سامي " يوما بسبب مرض ابنته فلم يغادر المنزل إلا قبل موعد انطلاق عمله بـ 24 دق فوصل
يومها متأخرا بـ 12 دق .
1 (متى تعود السيد " سامي " الوصول إلى مقرّ عمله بالنسبة إلى موعد انطلاق العمل ؟
2 (ما معدّل السرعة الذي تنقل وفقه السيد " سامي " يوم مرض ابنته ؟
3 (و فقا لأيّ معدّل سرعة كان عليه أن يتنقل يومها ليصل إلى مقرّ عمله عند موعد انطلاق العمل ؟

الوضعية رقم 6

نظمت جمعية العمل التنموي بمدرسة " الحاج علي صوة " بقصر هلال رحلة ترفيهية واستطلاعية إلى
مدينة أثرية بإحدى المناطق الداخلية . شارك في هذه الرحلة 2 / 7 عدد تلاميذ الدرجة الثانية و 4 / 9 عدد
تلاميذ الدرجة الثالثة و 4 مشرفين . مجموع تلاميذ الدرجتين يبلغ 161 ، وعدد تلاميذ الدرجة الثانية يفوق عدد
تلاميذ الدرجة الثالثة بـ 35 تلميذا . بلغت كلفة هذه الرحلة بالدينار 765 . ساهمت فيه الجمعية بنسبة 20 % .
تمتّع بمجانبة هذه الرحلة المشرفون الأربعة و 5 من التلاميذ المعوزين والمتميّزين في دراستهم ، وتقاسم
المشاركون الآخرون بقية تكاليف الرحلة بالتساوي .
تتكوّن تكاليف الرحلة من ثمن فطور المشاركين ومعلوم كراء الحافلة الذي يبلغ بالدينار 535,500 .
1 (حدّد العدد الجملي للمشاركين في هذه الرحلة .
2 (احسب النسبة المئوية لكلفة الفطور بالنسبة إلى كلفة الرحلة الفعلية .
3 (احسب بالدينار كلفة فطور المشارك الواحد .
4 (حدّد بالدينار قيمة مساهمة كلّ تلميذ ممن ساهموا في الرحلة .

التالي الثاني رياضيات
حساب ذهني: القسمة


مرحلة ثانية : 60 عملية قسمة التوقيت دق المحاولة عدد عدد الإجابات الصحيحة :

= 4 : 32	= 5 : 25	= 3 : 18	= 4 : 4
= 1 : 9	= 9 : 9	= 1 : 1	= 7 : 21
= 2 : 8	= 1 : 6	= 8 : 72	= 2 : 10
= 7 : 14	= 3 : 21	= 6 : 18	= 1 : 7
= 2 : 16	= 5 : 35	= 6 : 54	= 4 : 12
= 3 : 12	= 9 : 27	= 5 : 5	= 8 : 24
= 2 : 14	= 2 : 6	= 7 : 7	= 1 : 2
= 5 : 15	= 3 : 15	= 1 : 8	= 5 : 45
= 5 : 30	= 9 : 63	= 6 : 24	= 8 : 64
= 4 : 28	= 8 : 32	= 7 : 28	= 8 : 48
= 3 : 9	= 8 : 40	= 6 : 42	= 2 : 12
= 9 : 81	= 6 : 6	= 9 : 54	= 3 : 3
= 4 : 8	= 4 : 20	= 9 : 72	= 1 : 5
= 6 : 36	= 7 : 49	= 7 : 42	= 9 : 18
= 7 : 35	= 5 : 10	= 9 : 45	= 8 : 16

مرحلة ثانية : 60 عملية قسمة التوقيت دق المحاولة عدد عدد الإجابات الصحيحة :

= 4 : 32	= 5 : 25	= 3 : 18	= 4 : 4
= 1 : 9	= 9 : 9	= 1 : 1	= 7 : 21
= 2 : 8	= 1 : 6	= 8 : 72	= 2 : 10
= 7 : 14	= 3 : 21	= 6 : 18	= 1 : 7
= 2 : 16	= 5 : 35	= 6 : 54	= 4 : 12
= 3 : 12	= 9 : 27	= 5 : 5	= 8 : 24
= 2 : 14	= 2 : 6	= 7 : 7	= 1 : 2
= 5 : 15	= 3 : 15	= 1 : 8	= 5 : 45
= 5 : 30	= 9 : 63	= 6 : 24	= 8 : 64
= 4 : 28	= 8 : 32	= 7 : 28	= 8 : 48
= 3 : 9	= 8 : 40	= 6 : 42	= 2 : 12
= 9 : 81	= 6 : 6	= 9 : 54	= 3 : 3
= 4 : 8	= 4 : 20	= 9 : 72	= 1 : 5
= 6 : 36	= 7 : 49	= 7 : 42	= 9 : 18
= 7 : 35	= 5 : 10	= 9 : 45	= 8 : 16

القواعد الأساسية في الرياضيات



متوازي المستطيلات :

- المساحة الجانبية = محيط القاعدة \times الارتفاع
- المساحة الكلية = المساحة الجانبية + مساحة القاعدتين
- مساحة القاعدتين = (الطول \times العرض) \times 2
- حجم متوازي المستطيلات = الطول \times العرض \times الارتفاع

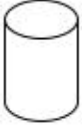


المكعب :

- المساحة الجانبية = مساحة القاعدة \times 4
- المساحة الكلية = مساحة القاعدة \times 6
- حجم المكعب = الحرف \times الحرف \times الحرف

الاسطوانة :

- المساحة الجانبية = محيط القاعدة \times الارتفاع
- المساحة الكلية = المساحة الجانبية + مساحة القاعدتين
- الحجم = مساحة القاعدة \times الارتفاع
- مساحة القاعدة = الحجم \div الارتفاع
- الارتفاع = الحجم \div مساحة القاعدة



الموشور القائم :

- الحجم = مساحة القاعدة \times الارتفاع
- المساحة الجانبية = محيط القاعدة \times الارتفاع

الكتلة الحجمية :

- الكتلة = الكتلة الحجمية \times الحجم
- الحجم = الكتلة \div الكتلة الحجمية
- الكتلة الحجمية = الكتلة \div الحجم

التناسبية :

- الفائدة السنوية = (الرأس مال \times السعر) \div 100
- الفائدة السنوية = (الفائدة لمدة ما \times 12) \div عدد الشهور
- الفائدة لمدة ما = (الفائدة السنوية \times عدد الشهور) \div 12
- السعر = (الفائدة السنوية \times 100) \div الرأس مال
- الرأس مال = (الفائدة السنوية \times 100) \div السعر

السرعة المتوسطة :


- السرعة المتوسطة = المسافة \div المدة
- المدة = المسافة \div السرعة المتوسطة
- المسافة = السرعة المتوسطة \times المدة

سلم الخرائط والتصاميم :

- حساب البعد الحقيقي = البعد المصغر \times مقام السلم
- حساب البعد المصغر = البعد الحقيقي \div مقام السلم
- حساب سلم التصاميم = البعد الحقيقي \div البعد المصغر

المربع :

- محيط المربع = الضلع \times 4
- ضلع المربع = المحيط \div 4
- مساحة المربع = الضلع \times الضلع



المعين :

- محيط المعين = الضلع \times 4
- مساحة المعين = (القطر الكبير \times القطر الصغير) \div 2
- القطر الكبير = (المساحة \times 2) \div القطر الصغير
- القطر الصغير = (المساحة \times 2) \div القطر الكبير



متوازي الأضلاع :

- محيط متوازي الأضلاع = (القاعدة + الساق) \times 2
- مساحة متوازي الأضلاع = القاعدة \times الارتفاع



المستطيل :

- محيط المستطيل = (الطول + العرض) \times 2
- طول المستطيل = (المحيط \div 2) - العرض
- عرض المستطيل = (المحيط \div 2) - الطول
- مساحة المستطيل = الطول \times العرض
- طول المستطيل = المساحة \div العرض
- عرض المستطيل = المساحة \div الطول



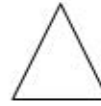
شبه المنحرف :

- المساحة = $2 \div [h \times (\text{القاعدة الكبرى} + \text{القاعدة الصغرى})]$
- الارتفاع = (المساحة \times 2) \div قياس مجموع القاعدتين
- قياس مجموع القاعدتين = (المساحة \times 2) \div الارتفاع



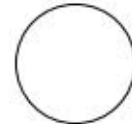
المثلث :

- المحيط = الضلع + الضلع + الضلع
- مساحة المثلث = (القاعدة \times الارتفاع) \div 2
- قاعدة المثلث = (المساحة \times 2) \div الارتفاع
- ارتفاع المثلث = (المساحة \times 2) \div القاعدة

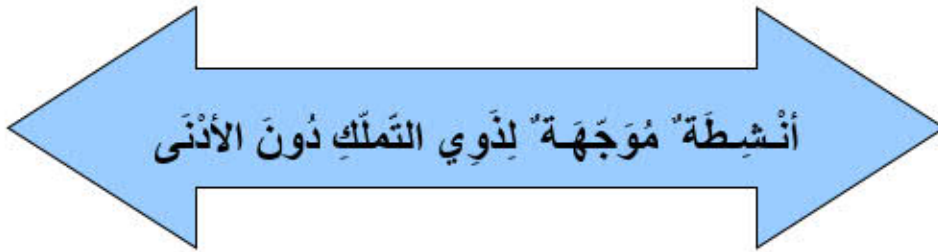


الدائرة والقرص :

- محيط الدائرة = القطر \times 3.14 (P=3.14)
- قياس قطر الدائرة = المحيط \div 3.14
- شعاع الدائرة = القطر \div 2
- قطر الدائرة = الشعاع \times 2
- مساحة القرص = (الشعاع \times الشعاع) \times 3.14



أنشطة للعلاج والدعم
(أنشطة منتقاة وفقاً لنتائج تقييم الثلاثي الأول)



أنشطة موجهة لذوي التملك دون الأذى

1 أضغ الآحاد في الأعداد الآتية في إطار :

* 1200 - 3,15 - 315 - 2758,8 - 1,005 - 1005 -

2 أنجز : * 4,10 + 3,51 + 6,25 =

* 0,5 + 2,10 + 12,65 =

* 12,50 - 1427 =

* 19,33 - 129,4 =

3 لفافة من الأسلاك الشائكة طولها 250 م ، استعمل منها على التوالي

113,6 م و 89,35 م .

كم أصبح طولها ؟

4 كلفت شركة 15 عاملاً لإنجاز رصيف طوله 5 كم و 9 دكم ، فأنهوا

في الأسبوع الأول 31 هم و 5 م وأكملوا بقية العمل في الأسبوع الموالي .

♣ أحول : * 5 كم و 9 دكم =

* 31 هم و 5 م =

♣ ما هو طول الرصيف المنجز في الأسبوع الثاني ؟

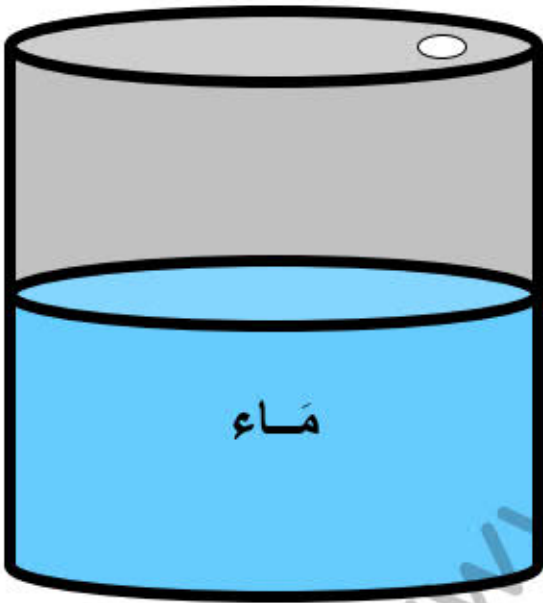
أنشطة موجهة لذوي التملك الأدنى

1 أنجز : * $0,87 \times 123 = \dots\dots\dots$

* $6896,36 = \dots\dots\dots - 7895,36$

* $996,05 = 191,3 + \dots\dots\dots$

* $\dots\dots\dots = 45,08 \times 1336,56$



2 صهريج سعة 24 هل مملوء إلى النصف بالماء : ❁ أحسب كمية الماء التي يخويها الصهريج باللتر ثم بالكيلو .
أفرغت كمية الماء في أوعية سعة الواحد منها 9,6 ل .
❁ ما هو عدد الأوعية التي وقع ملؤها ؟

3 دفع تاجر 1168,750 د ثمنًا لبزيملي زيت زيتون .

❁ ما هي سعة البزيملين علمًا وأن التاجر اشترى الهكتولتر الواحد بـ 425 د (بالهل ثم باللتر) ؟

أفرغ التاجر كمية الزيت في قوارير سعة الواحدة منها 1,25 ل ثم باعها بحساب 6,300 د الواحدة .

❁ ما هو الربح الذي حققه التاجر علمًا وأن كلفة الزجاجاة فارعة 180 مي ؟

أَنْشِطَةٌ لِلدَّعْمِ مُوجَّهَةٌ لِذَوِي التَّمَلُّكِ الأَقْصَى

1 أنجز: * 24 دق \times 8 = س و دق .

* 2 س و 6 دق \times 8 = س و دق .

* 3 س و 48 دق - س و دق = 1 س و 53 دق .

* س و دق + 12 س و 25 دق = 21 س و 16 دق .

2 تَعْمَلُ مُعِينَةٌ مَنْزِلِيَّةٌ كُلَّ أُسْبُوعٍ كَالآتِي :

* مِنَ الأَثْنَيْنِ إِلَى الجُمُعَةِ : - حِصَّةٌ صَبَاحِيَّةٌ مِنَ السَّاعَةِ 8 وَ 30 دَق إِلَى السَّاعَةِ 12 وَ 15 دَق .

- حِصَّةٌ مَسَائِيَّةٌ مِنَ السَّاعَةِ 14 إِلَى السَّاعَةِ 17 وَ 30 دَق .

* يَوْمَ السَّبْتِ تَعْمَلُ 2 س وَ 45 دَق بِدَايَةِ مِنَ السَّاعَةِ 9 وَ 20 دَق .

♣ مَتَى تُنْهِى المُعِينَةُ عَمَلَهَا يَوْمَ السَّبْتِ ؟

♣ مَا هِيَ أَجْرُهَا فِي الأُسْبُوعِ عِلْمًا وَأَنَّهَا تَتَقَاضَى 3,600 د عَنْ كُلِّ سَاعَةٍ عَمَلٍ ؟

تُنْفِقُ هَذِهِ المَرْأَةُ 80,900 د كُلَّ أُسْبُوعٍ وَتَدَّخِرُ البَاقِي .

♣ كَمْ يَلْزَمُهَا مِنَ أُسْبُوعٍ لِتَتَمَكَّنَ مِنْ شِرَاءِ تِلْفَازٍ ثَمَنُهُ 714 د ؟

3 اِنْتَقَلَتِ العَمَّةُ حَلِيمَةُ إِلَى سُوقِ القَرْيَةِ وَقَدْ حَمَلَتْ عَلَى عَرَبَتِهَا 11

بَطَّةً وَ 10 أَرَانِبَ وَ 15 دَجَاجَةً .

بَاعَتِ العَمَّةُ حَلِيمَةُ البَطَّاتِ وَالأَرَانِبَ بِ 225,450 د .

♣ اِبْحَثْ عَنْ ثَمَنِ البَطَّاتِ عِلْمًا وَأَنَّهُ يَقِلُّ عَنْ ثَمَنِ الأَرَانِبِ بِ 6,550 د .

♣ مَا هُوَ ثَمَنُ بَيْعِ الْبَطَّةِ الْوَاحِدَةِ ؟

♣ مَا هُوَ ثَمَنُ بَيْعِ الْأَرْزَبِ الْوَاحِدِ ؟

♣ اِبْحَثْ عَنْ ثَمَنِ بَيْعِ الدَّجَاجَةِ الْوَاحِدَةِ عِلْمًا وَأَنَّهَا قَبِضَتْ فِي الْجُمْلَةِ 332,550 د .

اِشْتَرَتْ الْعَمَّةُ حَلِيمَةَ بِمَا قَبِضَتْهُ عَسَالَةً بِ 174,150 د وَأَكْيَاسَ عَلْفٍ

لِخِرْفَانِهَا بِ 13,200 د الْكَيْسَ الْوَاحِدَ .

♣ كَمْ كَيْسًا مِنَ الْعَلْفِ اِشْتَرَتْ الْعَمَّةُ حَلِيمَةَ ؟



السنة السادسة	تقييم مكتسبات التلاميذ في نهاية الثلاثي الأول	المدرسة الابتدائية الخاصة "نور المعارف"
العدد 20	المادة : رياضيات	
الاسم و اللقب :		

السند 1 : توفي أب مخلفا تركه لأبنائه الأربعة قدرت قيمتها الجمالية بـ 655000د وتمثل في مقدار مالي قيمته 135000د ومنزل قيمته ثلاث مرات قيمة المقدار المالي وقطعة أرض.

التعليمة 1-1 : أحسب قيمة المنزل

1 مع

التعليمة 2-1 : أحسب القيمة المقدرة لقيمة الأرض

2 مع

التعليمة 3-1 : أحسب قيس مساحة قطعة الأرض إذا علمت أن الأر الواحد منها قدر ثمنه بـ 1250د.

5 مع

السند 2 : فكر الأخوة في بعث مشروع فلاحي على قطعة الأرض الموروثة بما تجمع لديهم من المقدار المالي الذي تركه لهم أبوهم وثمان بيع المنزل إلا أن أحد الأخوة لم يوافق وتسلم نصيبه كاملا من التركة نقدا.

التعليمة 1-2 : أحسب قيمة الاموال المتبقية لانجاز مشروع دون اعتبار الأرض.

1 مع

التعليمة 2-2 : ماهو المقدار المالي الذي سيساهم به كل مشارك في المشروع بعد انسحاب الاخ الرابع؟

5 مع

السند 3: انطلق الاخوة الثلاثة في انجاز المشروع بتسييج قطعة أرضهم المستطيلة الشكل تاركين مدخلا قيس عرضه 3,5 م وعملوا طيلة 5 أيام من الساعة 7 والربع إلى الثالثة و45 دق بعد الزوال

التعليمة 3-1: ابحث عن قيس طول السياج إذا علمت أن عرض الارض يقيس 80م.

.....
.....
مع 2

التعليمة 3-2: ابحث عن المدة الزمنية المستغرقة في تسييج قطعة الارض.

.....
.....
مع 2

السند 4: زخرف المدخل بأشكال هندسية

التعليمة 4-1: ابن شبه منحرف (أ ب ج د) القائم في A^* وقيس فتحة الزاوية ح ب أ = 60° و [أ ب] = 6,5 صم.

.....
.....
مع 3

التعليمة 4-1: ابحث عن قيس فتحة الزاوية ب ج د

.....
.....
مع 4

مع 5	مع 4	مع 3	مع 2	مع 1	
0	0	0	0	0	انعدام التملك
2	1	1	1,5	1,5	دون التملك الأدنى
3	2	2	3	3	التملك الأدنى
5	3	3	4,5	4,5	التملك الأقصى

السنة السادسة	تقييم مكتسبات التلاميذ في نهاية الثلاثي الأول 2010-2009	المدرسة الابتدائية الخاصة "نور المعارف"
العدد 20	المادة : رياضيات	
الاسم و اللقب :		

السند 1 : بإحدى واحات الجريد قامت مجموعة من العمّال بتعليب كمية من الدقلة بعد فرزها طيلة 5 أيام متتالية بمعدل 9 س و 15 دق عمل يوميًا علما و أنّ هذه الفترة تتخللها راحة تدوم 45 دق.

التعليمة 1-1 : أبحث عن مدة العمل الفعلي طيلة 5 أيام

مع 3

.....

.....

السند 2 : عدد الصناديق المعبأة 15 400 صندوقا يسع الواحد 2.5 كغ، نقلت هذه الصناديق إلى الميناء قصد تصديرها على متن شاحنة حملتها القصى 5 ط و نصف الطن.

التعليمة 1-2 : أبحث عن عدد السفرات التي قامت بها الشاحنة

مع 1

.....

.....

.....

مع 2

السند 3 : بلغ معدل انتاج النخلة الواحدة من الدقلة النقيّة 70 كغ.

التعليمة 1-3 : أثبت أنّ عدد أشجار النخيل بهذه الواحة هو 550 نخلة

مع 2

.....

.....

.....

السند 4: صدر الإنتاج بحساب 2.400 د الكغ الواحد.

التعليمة 4-1: أبحث عن ثمن بيع الدقلة بحساب الدينار.

ل ل ل
مع 1 ب

.....
.....

السند 5: سدّد صاحب الضيعة مصاريف الجني و التعهّد و شرى شاحنة بـ 40 000 و أذخر

21 600 د.

التعليمة 5-1: أثبت أن المصاريف الجني و التعهّد تمثل $3/1$ ثمن بيع الدقلة .

ل ل ل
مع 5

.....
.....
.....

التعليمة 5-2:

ل ل ل
مع 4

ألصقت على الصناديق ملصقات في شكل مثلثات متقايسة الأضلاع تعرّف باسم المصدر يقيس محيط الواحد منها 18 صم.

ارسم هذا المثلث تاركا آثار البركار.

السنة السادسة	تقييم مكتسبات التلاميذ في نهاية الثلاثي الأول 2010-2011	
العدد 20	المادة : رياضيات	
الاسم و اللقب :		

السند 1 : نظمت مدرسة ابتدائية رحلة دراسية و ترفيهية إلى منطقة قرطاج لفائدة تلاميذ السنة السادسة.

شارك 53 تلميذا في الرحلة و دفع كل تلميذ مساهمة قدرها 17.500 د
و أكملت إدارة المدرسة مبلغا قدره 272.500 د لتسديد كل تكاليف الرحلة.
التعليمة 1-1 : كم بلغت كل تكاليف الرحلة ؟

|||
مع 1

.....
.....
.....
.....
.....

|||
مع 2أ

السند 2 : هذه الأموال دفعت جميعها مقابل
* معلوم فطور التلاميذ المشاركين و 5 معلمين صاحبوا الأطفال في رحلتهم، ثمن
الفطور الواحد 6.500د.

* معلوم زيارة المتاحف و قدره 73 د
* معلوم كراء الحافلة .

التعليمة 2-1 : كم بلغت التكلفة الجمالية للفطور؟

|||
مع 1أ

.....
.....
.....
.....
.....

|||
مع 2أ

|||
مع 2ب

التعليمة 2-2 : أثبت أن المبلغ الذي دفع لكراء الحافلة بلغ 750 د

.....
.....
.....
.....

|||
مع 2ب

|||
مع 5أ

السند 3 : الطريق التي قطعها الحافلة في الذهاب تقيس 37.5 صم على خريطة

سُمها $\frac{1}{800000}$ وهي نفس الطريق التي سلكتها في الرجوع.

التعليمة 3-1: ماهي المسافة الحقيقية الفاصلة بين المدرسة و منطقة قرطاج؟

.....
.....

مع 3

مع 2

التعليمة 3-2: هل صحيح أن كلفة الكم الواحد الذي قطعته الحافلة تقدر بـ 1, 250 د

.....
.....
.....
.....

مع 5

السند 4: انطلقت صباحا على الساعة 5 و 45 دق ووصلت إلى منطقة قرطاج بعد 4 س و 15 دق .

التعليمة 4-1: متى وصل التلاميذ إلى منطقة قرطاج.

.....
.....

مع 1

مع 3

السند 5: شاهد أحد التلاميذ لوحة فسيفساء مثلثة الشكل فأراد رسمها و تزويقها لتكون

شبيهة بلوحة المتحف .

لنرسم الشكل حسب المعطيات المقدمة و نتعرّف على نوع المثلث.

[أ ب] قاعدة المثلث

التعليمة 5-1: ارسم العمودي (ص) على (س) و الذي يمر من أ.

التعليمة 5-2: ابن الزاوية التي رأسها "ب" و التي تقيس 30°. ضلعها الثاني يقطع


(ص) في "ج" .

التعليمة 5-3: ما نوع المثلث (أ ب ج)

مع 4

مع 4

مع 4



معد 5		معد 4	معد 3	معد 2		معد 1	
ب	أ			ب	أ		
		0	0	0	0	0	انعدام التملك
		1	1	1	1	0.5	دون التملك الأدنى
		2	2	2	1	1	التملك الأدنى
3	2	3	3	3	3	1.5	التملك الأقصى

السنة السادسة المدّة: ساعة و 30دق	تهيئة مكتسبات التلاميذ في نهاية الثلاثي الأول 2011-2012	
العدد 20	المادّة : رياضيات	
الاسم و اللقب :		

1- يفتح مصنع لتصبير و تصدير الأسماك أبوابه يوميا على الساعة 7 و 15دق و ينتهي العمل على الساعة السادسة مساء.

يستريح العمال 3 فترات في اليوم:

20 دق في الصباح، ثم 1س و 45دق للفطور و 25 دق في المساء.

* حدد مدة العمل اليومي الذي يقوم به كل عامل بالمصنع.

مهدي عامل بهذا المصنع، يعمل 28 يوما في الشهر مقابل 1,250د الساعة.

* كم يتقاضى في الشهر علما و أنه تُصرف له منحة انتاج تساوي 5% من دخله.

2- عدد العمال بالمصنع يتراوح بين 150 و 170 عاملا.

و العمال يعملون أمّا في فرق ذات 12 شخصا أو في فرق ذات 8 أشخاص.

كم عدد عمال المصنع؟

يعطي صاحب المصنع في بداية كل سنة بدلتين لكل عامل في زيّ موحد ثمن البدلتين

65,800د و يمنح التاجر تخفيضا بـ $\frac{1}{10}$ الثمن عند الشراء

بيّن أن صاحب المصنع قد دفع 9 948,960 د لشراء البدل.

3- أقيم المصنع على أرض بشكل شبه منحرف قائم (أ ب ج د)

قاعدته الكبرى [ج د] تقيس بالمتر 180.

و تقيس ارتفاعه 90 م.

و تقيس الزاوية أ ب ج = 60°

ارسم القاعدة [ج د] معتمدا السلم $\frac{1}{2000}$

ابن الارتفاع [ج ب] معتمدا نفس السلم.

ابن الزاوية أ د ج = 60°.

أكمل رسم تصميم الأرض.

Handwriting practice lines consisting of 25 horizontal dotted lines for tracing and writing.

www.najahni.tn



تقييم مكتسبات تلاميذ السنة السادسة من التعليم
الأساسي

الثلاثي الأول

رياضيات

الرقم:

القسم:

الاسم و اللقب:

المعايير	الوضعيّات
	<p>الوضعية الأولى</p> <p>السند: قررت عائلتنا شراء حاسوب فمناه الأصلي 981 د فقدم لنا صاحب المغازة المطوية التالية التي تتضمن عرضين:</p> <div style="display: flex; justify-content: space-around;"><div style="border: 1px solid black; padding: 10px; width: 45%;"><p>العرض الأول</p><p>الدفع بالحاضر</p><p>* تخفيض الثمن بمقدار الخمس</p><p>* الحصول مجاناً على حافظة أقراص ثمنها 19.350 د</p></div><div style="border: 1px solid black; padding: 10px; width: 45%;"><p>العرض الثاني</p><p>النفع بالتسيط</p><p>* نفع 342.750 د بالحاضر و تسديد باقي ثمن الحاسوب على 6 أقساط متساوية</p><p>* زيادة 5.750 د عن كل قسط</p></div></div>
	<p>التعليمات:</p> <p>1 - 1 أحدّد بالدينار ثمن كلفة الحاسوب في العرض الأول.</p> <p>.....</p> <p>.....</p> <p>1 - 2 أحدّد بالدينار ثمن كلفة الحاسوب في العرض الثاني.</p> <p>.....</p> <p>.....</p>
<input type="checkbox"/> مع 1 <input type="checkbox"/> مع 2	
<input type="checkbox"/> مع 1 <input type="checkbox"/> مع 2	

1 - 3 أتمم تعميم خانات الجدول بالمقادير الماليّة المناسبة كلّما أمكن ذلك.

--	--	--

مع 5

العرض الثاني	العرض الأوّل	يوقر لنا
		مقارنة بـ ..
		العرض الأوّل
		العرض الثاني

الوضعيّة الثانيّة

السند

نظّم صاحب المغازة عمله على النحو التالي:

- عدد ساعات العمل في اليوم: 8 ساعات و 30 دق موزّعة على فترتين.
 - فتح المغازة في السّاعة 8 و 30 دق صباحا.
 - عدد ساعات العمل الصّباحيّة 4 ساعات و 45 دق.
 - غلق المغازة في السّاعة 19
 - يوم الأحد راحة أسبوعيّة.
- التعليمة: أتمم البيانات النّاقصة على هذه المعلّقة لتكون جاهزة لتثبيتها على باب المغازة.

توقيت العمل

صباحا

- من السّاعة
- إلى السّاعة

بعد الزّوال

- من السّاعة
- إلى السّاعة

الراحة الأسبوعيّة

.....

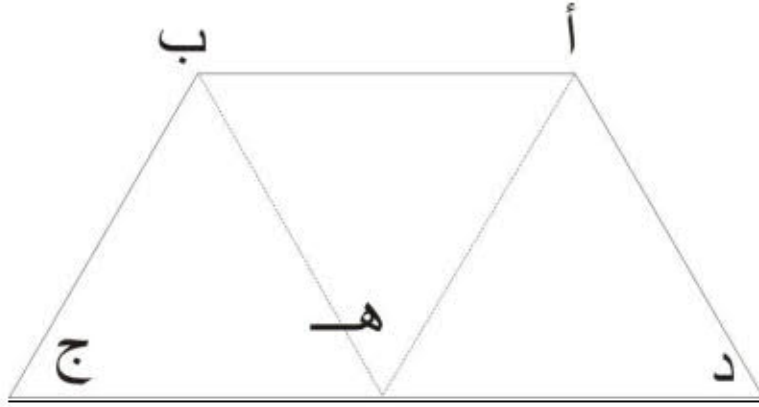
مع 1

--	--	--

مع 2

الوضعيّة الثالثة

يمثل الرسم التالي تصميمًا لحديقة مقسّمة إلى 3 أحواض موجودة أمام هذه المغارة.



التعليمات

3 - 1 أنقل هذا التصميم على ورقتي معتمدا نفس الأقيسة.

مع 4

3 - 2 ما نوع شكل كلّ حوض من الأنواع الثلاثة؟

مع 4

3 - 3 ما نوع شكل هذا المنبت أ ، ب ، ج ، د ؟

مع 4

أعلل إجابتي.

مع 5

جدول إسناد الأعداد

التميز	معايير الحد الأدنى					المعايير
	مع 5	مع 4	مع 2			مع 1
0	0	0			0	انعدام التملك
2	1	1.5	1	0.5	2.5	تملك دون الأدنى
			2.5	2		
4	2	3			5	تملك أدنى
5	3	4.5	4	3.5	7.5	تملك أقصى

www.najahni.tn

الوضعية 1: لشراء شاحنة كبيرة اضطرّ الفلاح إلى بيع 44 شاة بـ 190,500 د الواحدة ، و 22 عجلا بـ 340,500 د الواحد. وقطعة أرض مستطيلة الشكل قيس بعديها بالمتر 32,25 و 45 بحساب 28 د المتر المربع الواحد.

- أحدد ثمن بيع الشياه:

- أحدد ثمن بيع العجول:

- أحدد ثمن بيع الأرض:

- أبحث عن المبلغ الذي قبضه الفلاح في الجملة

الوضعية 2: بما أنّ الأموال التي قبضها لا تكفيه فقد اقترض من البنك مبلغا قدره 25000 د على أن يُرجعه 28500 د. واتفق مع البنك على تسديده على 20 شهرا.

- أحدد قيمة كل قسط:

الوضعية 3: نقل الفلاح على متن شاحنته كمية من التبغ من ضيعته إلى اقرب سوق أسبوعية تدوم السفرة ذهابا و إيابا 2 س و 25 دق.

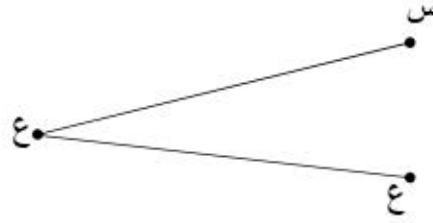
- أحدد الوقت اللازم للقيام بـ 3 سفرات:

الوضعية 4: قرّر الفلاح شراء سيورات يكتب عليها كميات التبغ التي باعها مساحتها كالآتي:

السيورة الأولى	السيورة الثانية	السيورة الثالثة
195 دسم	24000 صم	0,041 دكم
أحوّل.....ممم

الوضعية 5: شكل السبورات كالاتي:

1- مستطيل (س ص ه ع) تمثل قطعة المُستقيم [س ع] أحد قطريه



2- مربع (ك ل م ن) تمثل النقطة و تقاطع قطريه



أتمم رسم الشكلين



تقييم مُلتسبات التلاميذ بداية السنة الدراسية



رياضيات

الاسم و اللقب:

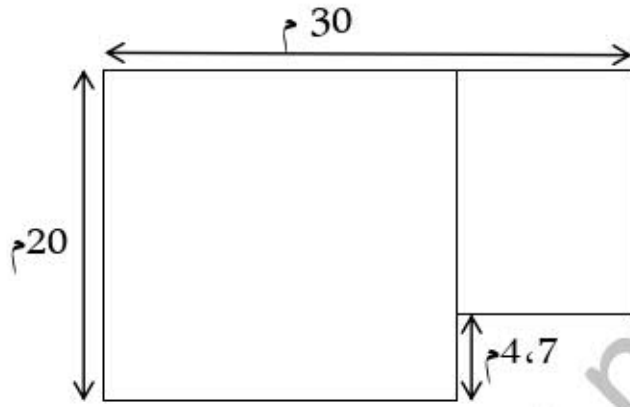
(1) اشترى سعيد قطعة أرض قيس طولها 3، 5 دك و قيس عرضها $\frac{2}{3}$ قيس طولها.
- احسب مساحتها بحساب الم².

مع 5ع 1

مع 2أ

مع 3

(2) قرّر أن يبنى على أرضه بيتًا كما يبين الرسم (مربع و مستطيل).



- احسب مساحته.

مع 5ع 2

مع 2أ

- احسب المساحة المتبقية من قطعة الأرض.

مع 1

مع 2أ

(3) اتجه سعيد إلى صفاقس على متن شاحنته لجلب أبواب و نوافذ. انطلق من مدينة جلمة على الساعة الرابعة صباحًا و قطع 130 كم ليصل على الساعة السادسة و 53 دق. كم دامت السفر؟

مع 1

مع 2ب

(4) قضى ساعتين و 14 دق بصفاقس ثم قفل راجعًا. أبحث عن زمن وصوله إلى جلمة مع العلم أنه أنه استغرق ساعتين و 50 دق في طريق العودة.

1 مع

2 مع

3 مع

(5) أبحاث عن المدة التي قضاها سيراً على الطريق ذهاباً وإياباً.

1 مع

2 مع

3 مع

(6) إذا علمت أن الشاحنة تستهلك 8,67 ل من البنزين لكل 100 كم. أبحاث عن كمية الوقود الذي استهلكته ذهاباً وإياباً بحساب اللتر (أستعين بجدول).

1 مع

2 مع

(7) جُلز البيت فبلغت تكلفته تجليزه 5,1935 د. أبحاث عن تكلفة تجليز الم² الواحد.

1 مع

2 مع

(8) بنى سعيد أمام داره أحواضاً مختلفة الأشكال. أرسوم تصاميم لها حسب ما هو مطلوب

معوّضاً كل متر بـ 1 صم على الرسم.


○ الحوض الأول له شكل

دائرة (س) قيس شعاعها 3 م.


4 مع

الحوّص الرّابع ك ل م مُثَلَّثُ الشَّكْلِ حَيْثُ
ك ل = 4 صم ، ك ل م = 45⁰
ل م = 3 صم

الحوّص الثّاني لَهُ شَكْلُ مُرَبَّعٍ أ ب ج د
قَيْسُ ضِلْعِهِ 4 م



مع 4



مع 5 1ع

الحساب الذهني: أحسب ذهنيًا العمليات المملاة و أكتب كلّ نتيجة في خانة مه خانات الجدول التالي:

جدول إسناد الأعداد

الحساب الذهني	معيّار التّميّز			معايير الحدّ الأدنى					مستويات التّمكّ
	عتبة 3	عتبة 2	عتبة 1	مع 4	مع 3	مع 2 ب	مع 2 أ	مع 1	
.	0	0	0	0	0	0	0	0	انعدام التّمكّ - - -
	0.5	0.5	0.5	1	0.5	1	1	0.5	دون التّمكّ الأدنى - + -
	1	0.75	0.75	2	1	2	2	1.5	التّمكّ الأدنى + + -
	1.5	1	1	3	1.5	3	3	2.5	التّمكّ الأقصى + + +

الحساب الذهني: إنجّاز تحويلات على وحدات قيس الكتل، المساحة و أعداد تقيس الزّمن / ضرب و قسمة الأعداد العشريّة على
1000 100 10 ضرب و قسمة الأعداد الصّحيحة و العشريّة على 0.1 0.01 0.001

الملاحظات

المعلم الأوّل خالد عكريبي
المدرسة الابتدائية الدهيسة- جلمة



3

معايير التقييم و مؤشراتها

المعيار	نصّ المعيار	بعض مؤشراته
1	التأويل الملائم	<ul style="list-style-type: none"> * تقديم مخطط ملائم لحلّ وضعية. * تمثيل الوضعية برسم أو مخطط. * صحة التمثيل في إنجاز مرحلة من مراحل الحلّ. * معالجة معطيات مقدّمة في شكل جدول إحصائيّ أو مخطط بيانيّ. * تحويل معطيات إلى جدول إحصائيّ أو مخطط بيانيّ. ...
2	صحة الحساب	<ul style="list-style-type: none"> * إنجاز العمليّات الأربع في مجموعة الأعداد الصحيحة الطبيعيّة. * إنجاز العمليّات الأربع في مجموعة الأعداد العشريّة. * إنجاز عمليّات الجمع و الطرح والضرب (عدد كسريّ في آخر عشريّ أو صحيح) في مجموعة الأعداد الكسريّة. * إنجاز عمليّات الجمع و الطرح والضرب على الأعداد التي تقيس الزمن. ...
3	الاستعمال الصحيح لوحدات القيس	<ul style="list-style-type: none"> * إجراء تحويلات متعلّقة بأنظمة القيس. * اختيار الوحدة المناسبة. ...
4	استعمال خاصيّات الأشكال الهندسيّة	<ul style="list-style-type: none"> * رسم مستطيل و/ أو مربع استنادا إلى خاصيّات القطرين. * رسم متوازي أضلاع. * رسم مثلث استنادا إلى أقيسة الزوايا والأضلاع. ...
5	الدقّة	<ul style="list-style-type: none"> * تقديم طريقة مختصرة للحلّ * التحقّق من صحة الحلّ * الإجابة عن سؤال متعدّد المراحل. * اقتراح حلول متعدّدة لوضعية إشكاليّة. ...

الرياضيات

أبحر طارق على شبكة الأنترنت فوجد الوضعيات التالية أساعده على حلها :

1/ اجري العمليات التالية :

$$= 300 : 2.5 = 8,7 - 3,5$$

$$= 750,5 : 1,5 = 2,5 \times 4,5$$

$$= 450 \times 22.7 = 15 \times 452,33$$

مع 2

2/ استأجر طارق جرارا لحرثه أرضه فانطلق العامل في العمل على الساعة 7 و30 دق وانتهي من الحرث على الساعة 17 و45 دق مع العلم أنه نال قسطا من الراحة دام 1س و15 دق

مع 1

ماهو الزمن المستغرق في حرث الأرض

ماهي أجره العامل إذا علمت أن أجره الساعة الواحدة 11,500 د

مع 3

3/ أساعد طارق على رسم تصميم لأرضه إذا علمت أنها على شكل مثلث متقايس الأضلاع طول ضلعها على التصميم 4 صم (أترك آثار البركار على الورقة)

مع 4

مع 1

4/ أراد طارق بناء منزل على أرضه التي تبلغ مساحتها 4,20 هـاً مساحته 190 م² وإسطبلاً مساحته 450 م²

أبحث عن المساحة المتبقية من الأرض

زرع الرجل المساحة المتبقية من الأرض قمحا . ابحث عن الكمية اللازمة إذا علمت أن 1 م² يحتاج 0,3 كغ من البذور وان كلفة 1 كغ من البذور 0,450 مي ماهي كلفة كمية البذور

مع 5

مع 1

معيير التمييز	معايير الحد الأدنى				
	مع 5	مع 4	مع 3	مع 2	مع 1
انعدام التملك (---)	0	0	0	0	0
التملك دون الأدنى (+)	2	1,5	1,5	1	1
التملك الأدنى (++)	3	3	3	2	2
التملك الأقصى (+++)	5	4,5	4,5	3	3

الاسم واللقب:
السنة السادسة:
الرقم:

تقييم مكتسبات التلاميذ
في نهاية الثلاثي الأول
المادة: الرياضيات

الأعداد	السندات والتعليمات	المعايير
	<p>الوضعية والسند ع1 دد: بمناسبة الحفل المدرسي، فكرت أسرة التعليم في تقديم مرطبات لمدعوها البالغ عددهم 350 شخصا، المديرية أمام 3 اختيارات لشراء المرطبات.</p> <p>الاختيار الأول: شراء المرطبات بـ 16,500 د الكغ علما وأن البائع يمنح تخفيضا بنسبة $\frac{1}{10}$ وأن المرطبات توزع بحساب قطعة واحدة لكل مدعو.</p> <p>التعليمة 1-1: أبحث عن ثمن المرطبات الجملي.</p> <p>.....</p> <p>.....</p>	1 مع <input type="text"/>
	<p>التعليمة 2-1: أبحث عن المبلغ الذي دفعته المديرية</p> <p>.....</p> <p>.....</p>	2 مع <input type="text"/>
	<p>الاختيار الثاني: شراء المرطبات بحساب 0,420 د القطعة الواحدة.</p> <p>التعليمة 3-1: أبحث عن ثمن شراء المرطبات.</p> <p>.....</p> <p>.....</p>	1 مع <input type="text"/>
	<p>التعليمة 4-1: أبحث عن ثمن اللوز.</p> <p>.....</p> <p>.....</p>	2 مع <input type="text"/>
	<p>التعليمة 5-1: أبحث عن كلفة المرطبات في هذا الاختيار.</p> <p>.....</p> <p>.....</p>	5 مع <input type="text"/>
	<p>التعليمة 6-1: أي الاختيارات أقل كلفة؟ علل جوابك.</p> <p>.....</p> <p>.....</p>	

السند 2-د: انطلق الحفل على الساعة الثالثة والنصف بعد الزوال، تخلّته 5 فقرات تنشيطية مدة كل فترة 15 دق ودام الحفل 4 س و 10 دق.
التعليمة 1-2: أحسب الزمن المستغرق في تقديم الفقرات التنشيطية.

مع 3

--	--	--

التعليمة 2-2: أبحث عن الزمن المستغرق في توزيع الجوائز.

التعليمة 3-2: أبحث عن ساعة نهاية الحفل.

السند 3-د: وقع اختيار المديرية على مرطبات ذات أشكال هندسية مختلفة: مربعات، مثلثات، مستطيلات، شبه منحرف.
التعليمة 1-3: أبنى مثلثا (أ ب ج) حيث:

* [أ ج] = 6 صم

* ب أ ج = 90°

* أ ج ب = 45°

(مع ترك آثار البركار في كل البناءات)

* ماهو نوع هذا المثلث؟

مع 4

--	--	--

التعليمة 2-3: أبنى مثلثا (أ ب ج) قمته الرئيسية "ج" حيث:

* ب ج أ = 60°

* [أ ج] = [ب ج] = 5 صم

* ماهو نوع هذا المثلث؟

التعليمة 3-3: أبنى شبه منحرف قائما (أ ب ج د) حيث:

* ارتفاعه [ج ب] = 4 صم

* قاعدته [ج د] = 6 صم.

* زاويته أ د ج = 60°.

السند ع-444: رصدت المدرسة مبلغا قيمته 338,500 د صرفته في شراء جوائز

لتكريم 84 تلميذا متميزا و المرطبات،

التعليمة 4-1: أختار مما يلي سؤالين و أجيب عنهما .

* ما هو المبلغ المخصص للحفل؟

* ما هو المبلغ المخصص لشراء الجوائز؟

* ما هو ثمن المرطبات؟

* ما هي قيمة الجائزة الواحدة؟

مع5

مع1

مع2

مع5	مع4	مع3	مع2			مع1			
0	0	0	0			0			انعدام التملك
2	1	1	1,5	1	0,5	1,5	1	0,5	التملك دون الأدنى
2	2	2	2			2			التملك الأدنى
4	3	3	3	2,5		3	2,5		التملك الأقصى



تقييم مُلتسبات التلاميذ بداية السنة الدراسية



رياضيات

الاسم و اللقب:

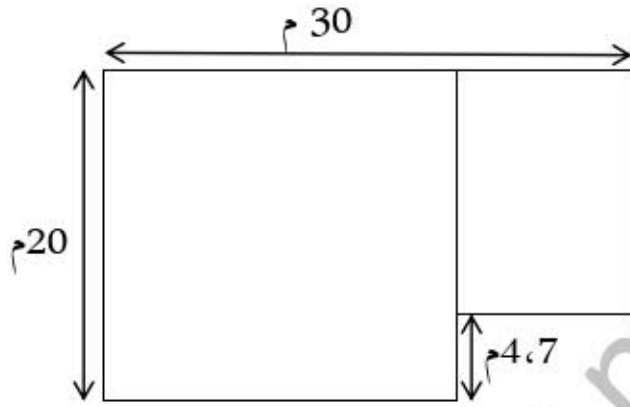
(1) اشترى سعيد قطعة أرض قيس طولها 3، 5 دك و قيس عرضها $\frac{2}{3}$ قيس طولها.
- احسب مساحتها بحساب الم².

مع 5ع 1

مع 2أ

مع 3

(2) قرّر أن يبنى على أرضه بيتًا كما يبين الرسم (مربع و مستطيل).



- احسب مساحته.

مع 5ع 2

مع 2أ

- احسب المساحة المتبقية من قطعة الأرض.

مع 1

مع 2أ

(3) اتجه سعيد إلى صفاقس على متن شاحنته لجلب أبواب و نوافذ. انطلق من مدينة جلمة على الساعة الرابعة صباحًا و قطع 130 كم ليصل على الساعة السادسة و 53 دق. كم دامت السفر؟

مع 1

مع 2ب

(4) قضى ساعتين و 14 دق بصفاقس ثم قفل راجعًا. أبحث عن زمن وصوله إلى جلمة مع العلم أنه أنه استغرق ساعتين و 50 دق في طريق العودة.

1 مع

2 مع

3 مع

(5) أبحاث عن المدة التي قضاها سيرًا على الطريق ذهابًا وإيابًا.

1 مع

2 مع

3 مع

(6) إذا علمت أن الشاحنة تستهلك 8,67 ل من البنزين لكل 100 كم. أبحاث عن كمية الوقود الذي استهلكته ذهابًا وإيابًا بحساب اللتر (أستعين بجدول).

1 مع

2 مع

(7) جُلز البيت فبلغت تكلفته تجليزه 5,1935 د. أبحاث عن تكلفة تجليز الم² الواحد.

1 مع

2 مع

(8) بنى سعيد أمام داره أحواضًا مختلفة الأشكال. أرسوم تصاميم لها حسب ما هو مطلوب

معوّضًا كل متر بـ 1 صم على الرسم.

○ الحوض الأول له شكل

دائرة (س) قيس شعاعها 3 م.


4 مع

الحوّص الرّابع ك ل م مُثَلَّث الشّكلِ حيثُ
 ك ل = 4 صم ، ك ل م = 45⁰
 ل م = 3 صم

الحوّص الثّاني لهُ شَكْلُ مُرَبَّعٍ أ ب ج د
 قَيْسُ ضِلْعِهِ 4 م



مع 4



مع 5

الحساب الذهني: أحسب ذهنيًا العمليات المملاة و أكتب كلّ نتيجة في خانة مه خانات الجدول التالي:

جدول إسناد الأعداد

الحساب الذهني	معيّار التّميّز			معايير الحدّ الأدنى					مستويات التّمكّ	
	عتبة 3	عتبة 2	عتبة 1	مع 4	مع 3	مع 2	مع 2 أ	مع 1		
$\frac{\cdot}{4}$	0	0	0	0	0	0	0	0	انعدام التّمكّ - - -	
	0.5	0.5	0.5	1	0.5	1	1	0.5	0.5	دون التّمكّ الأدنى - + -
	1	0.75	0.75	2	1	2	2	1.5	1	التّمكّ الأدنى + + -
	1.5	1	1	3	1.5	3	3	2.5	1.5	التّمكّ الأقصى + + +

الحساب الذهني: إنجز تحويلات على وحدات قيس الكتل، المساحة و أعداد تقيس الزمن / ضرب و قسمة الأعداد العشريّة على
 ضرب و قسمة الأعداد الصّحيحة و العشريّة على 0.1 0.01 0.001 10 100 1000

الملاحظات

المعلم الأوّل خالد عكريبي
 المدرسة الابتدائية الدهيسة- جلمة



معايير التقييم و مؤشراتها

المعيار	نصّ المعيار	بعض مؤشراته
1	التأويل الملائم	<ul style="list-style-type: none"> * تقديم مخطط ملائم لحلّ وضعية. * تمثيل الوضعية برسم أو مخطط. * صحة التمثيل في إنجاز مرحلة من مراحل الحلّ. * معالجة معطيات مقدّمة في شكل جدول إحصائيّ أو مخطط بيانيّ. * تحويل معطيات إلى جدول إحصائيّ أو مخطط بيانيّ. ...
2	صحة الحساب	<ul style="list-style-type: none"> * إنجاز العمليات الأربع في مجموعة الأعداد الصحيحة الطبيعيّة. * إنجاز العمليات الأربع في مجموعة الأعداد العشريّة. * إنجاز عمليات الجمع و الطرح والضرب (عدد كسريّ في آخر عشريّ أو صحيح) في مجموعة الأعداد الكسريّة. * إنجاز عمليات الجمع و الطرح والضرب على الأعداد التي تقيس الزمن. ...
3	الاستعمال الصحيح لوحدات القيس	<ul style="list-style-type: none"> * إجراء تحويلات متعلّقة بأنظمة القيس. * اختيار الوحدة المناسبة. ...
4	استعمال خاصيّات الأشكال الهندسيّة	<ul style="list-style-type: none"> * رسم مستطيل و/ أو مربع استنادا إلى خاصيّات القطرين. * رسم متوازي أضلاع. * رسم مثلث استنادا إلى أقيسة الزوايا والأضلاع. ...
5	الدقّة	<ul style="list-style-type: none"> * تقديم طريقة مختصرة للحلّ * التحقّق من صحة الحلّ * الإجابة عن سؤال متعدّد المراحل. * اقتراح حلول متعدّدة لوضعية إشكاليّة. ...

المدرسة الابتدائية ابن خلدون
حزوة
السنة السادسة :.....

تقييم مكتسبات التلاميذ في نهاية
الثلاثي الأول
المادة : رياضيات

المعلم : ناجح بالحاج

الاسم واللقب :.....العدد الرتبي

العدد...../20

التمرين -1:- انجز العمليات التالية وفقا للوضع العمودي

الانجاز (ضروري)	العملية	الانجاز (ضروري)	العملية
	120×17.25=		7.15×3.14=
	$412.97 - 316.75$=		$310 + 176.7$=
	$0.05 : 375$=		$0.3 : 280.02$=

مع 2

(3/ن)

التمرين -2-

أثناء موسم جني التمور قامت 3 شاحنات لنقل البضائع بنقل التمور الى تونس العاصمة انطلاقا من
حزوة .أكمل تعميم الجدول التالي: (انجاز العمليات عموديا ضروري)

ساعة الانطلاق من حزوة	ساعة الوصول الى تونس العاصمة	الزمن المستغرق للسفرة	
س 8 و 20 دق و 30 ث	س 16 و 10 دق و 20 ث	الشاحنة 1
.....	س 15 و 50 دق	س 7 و 40 دق و 50 ث	الشاحنة 2
س 9 و 30 دق و 50 ث	س 9 و 10 دق و 55 ث	الشاحنة 3

مع 3

انجاز العمليات عموديا ضروري

(3/ن)

.....
.....
.....
.....
.....
.....
.....
.....

التمرين-3-

ابن المثلث أب ج حيث : [أ ب] = 5 صم و ب أ ج = 60 ° و أ ب ج = 30 °

مع 4

(2/ ن)

ما قيس الزاوية أ ج ب ؟ علل إجابتك.

مع 5

(1/ ن)

ما نوع المثلث أ ب ج ؟

التمرين-4 - أرسم المثلث أ ب ج قائم الزاوية في "أ"

حيث [أ ب] = 5 صم و [أ ج] = 3 صم

أعين على [أ ج] النقطة "ن" حيث [أ ن] = 2 صم .

ثم ارسم مستقيما موازيا لـ [أ ب] يمر من " ن " ويقطع [ج ب] في " و " .

مع 4

(1/ ن)

مع 5

(1/ ن)

- ما نوع الرباعي أ ن و ب ؟ أعلل إجابتك .

الوضعية -1-

لتسييج حديقته اشترى سعيد 3 لفائف من الأسلاك الشائكة . طول الأولى 61.5 م . وطول الليفة الثانية يزيد عن طول الأولى بـ 8.25 م . و طول الثالثة أقصر من الليفة الثانية بـ 10.5 م .

-ابحث عن الثمن الجملي للفايف الأسلاك الشائكة . إذا علمت أن ثمن المتر الواحد من الأسلاك الشائكة 8.500 د .

(العمل)

(الحل)

.....

.....

.....

.....

.....

.....

.....

.....

.....

.....

مع 1

(1/)

مع 5

(1/)

الوضعية -2-

انطلق عمال جني التمور في العمل بإحدى واحات مدينة حزوة على س6 و 30 دق و 50 ث وانتهت على س 15 و 20 دق و 10 ث وقد تخللتها فترة للراحة دامت 45 دق . وتبلغ أجرة الساعة الوحدة 1.500 د .

ابحث عن مدة العمل الفعلي في 6 أيام .

(العمل)

(الحل)

.....

.....

.....

.....

.....

.....

.....

.....

.....

.....

مع 1

(1/)

الوضعية – 3 -

نظمت مدرسة ابن خلدون رحلة إلى حديقة الحيوانات بمدينة توزر فبلغت التكلفة الجمالية للرحلة 302.200 د. ساهمت إدارة المدرسة بمبلغ قدره 120.950 د والباقي دفعه التلاميذ المشاركين في الرحلة والبالغ عددهم 25 تلميذا .

- ابحث عن المبلغ الذي دفعه كل تلميذ .

(العمل)

(الحل)

.....

.....

.....

.....

.....

.....

مع 1

(1/ن)

مع 5

(5/ن)

جدول إسناد الأعداد

معيير التميز	معايير الحد الأدنى				
	مع 4	مع 3	مع 2	مع 1	
مع 5	0	0	0	0	- - -
	1	1	1	1	- - +
	2	2	2	2	- + +
4	3	3	3	3	+ + +

عمل موفق

العدد	السنة السادسة		اختبار الثلاثي الاول		مدرسة وادي العكارمة	
	الاسم	اللقب	الحساب الذهني		المربي: حسن ضيف الله	
	الحل			الوضعية	نمر	
0.5			2 ----- 1000	1	
0.5			معين قطره الأول 15 صم و الثاني ضعف الاول. أبحث عن مساحته	2	
0.5			ش=6صم أبحث عن المحيط	3	
0.5			2 3 = + 6 5	4	
0.5			6 1 = + 8	5	
0.5			أضع العلامة 9 1 5	6	
0.5 28 + = . . 20	7	
0.5			أكبر عدد يتكون من 3 أرقام يقبل القسمة على 3 و 9	8	

المدرسة الابتدائية

تقييم مكتسبات التلاميذ
الثلاثي الأول

السادسة ج

2016/2015

الاسم واللقب:

السند 1	المعيار														
<p>يملك فلاح قطعة أرض يبلغ طول محيطها 864 م ويزيد طولها على عرضها بـ 54 م .</p> <p>أبحث عن قياس المساحة.</p> <p>- قيس نصف المحيط بالم:</p> <p>- قيس العرض بالم:</p> <p>- قيس المساحة بالم²:</p>	<table border="1"> <tr> <td>مع 1</td> <td>مع 2</td> </tr> <tr> <td>0</td> <td>0</td> </tr> <tr> <td>0.5</td> <td>0.5</td> </tr> <tr> <td>1</td> <td>1</td> </tr> <tr> <td>2</td> <td>2</td> </tr> <tr> <td>3</td> <td>3</td> </tr> </table>	مع 1	مع 2	0	0	0.5	0.5	1	1	2	2	3	3		
مع 1	مع 2														
0	0														
0.5	0.5														
1	1														
2	2														
3	3														
<p>السند 1أ</p> <p>وقع تسييجها بـ 4 صفوف من الأسلاك الشائكة مع ترك باب عرضه 6 م . إذا علمت أن السلك الشائك يباع لفائف طول الواحدة 625،53 م بـ 125،89 د .</p> <p>أثبت أن ثمن اللفائف يساوي بالدينار 5704 .</p> <p>طول السياج بالم:</p> <p>عدد اللفائف :</p> <p>أثبت أن ثمن اللفائف يساوي بالدينار 5704 .</p> <p>.....</p>	<table border="1"> <tr> <td>مع 1أ</td> <td>مع 2أ</td> </tr> <tr> <td>0</td> <td>0</td> </tr> <tr> <td>1</td> <td>1</td> </tr> <tr> <td>2</td> <td>2</td> </tr> <tr> <td>3</td> <td>3</td> </tr> <tr> <td colspan="2">مع 5</td> </tr> <tr> <td>1</td> <td>0.5</td> </tr> </table>	مع 1أ	مع 2أ	0	0	1	1	2	2	3	3	مع 5		1	0.5
مع 1أ	مع 2أ														
0	0														
1	1														
2	2														
3	3														
مع 5															
1	0.5														

السند 2

قسّم الفلاح أرضه إلى 3 مثلثات ،أبناها وفق المعطيات والبيانات التالية .
مثلث (ق م ل) حيث ق م = 8صم، ق ل = 7 صم،م ل = 6 صم .

<p>مثّلت (ض ي ش) قائم الزاوية في 'ي' حيث ض ي = 5 صم و ض ش = 6 صم.</p>	<table border="1"> <tr><td>مع 4</td></tr> <tr><td>0</td></tr> <tr><td>1</td></tr> <tr><td>2</td></tr> <tr><td>3</td></tr> </table>	مع 4	0	1	2	3
مع 4						
0						
1						
2						
3						

<p>أبني مناظر الشكل التالي حسب ب ج (اترك آثار البركار).</p>							
<p>أنتج الحقل 30 هكتار من القمح اللين فنقله صاحبه إلى مركز تجميع الحبوب قصد تصديره بمعدل 75 طن في السفرة الواحدة. أبحث عن عدد السفرات</p> <p>.....</p>	<table border="1"> <tr><td></td><td></td></tr> <tr><td></td><td></td></tr> <tr><td></td><td></td></tr> </table>						

لو اكثرى شاحنة أوسع ونقل ضعف ما حملته في السفرة الواحدة فابحث عن عدد
السفرات التي تفادها؟

.....
.....
.....

عند التسييج شغل الفلاح مجموعة من العمال وفق الجدول التالي

الفترة المسائية	الفترة الصباحية	
.....	س 7 و 45 دق	ساعة البداية
س 16 30 دق	س 15 و 5 دق	ساعة الانتهاء
س 4 و 30 دق	مدة العمل
أحسب فترة كامل اليوم:.....		

مع 4

0

1

2

3

www.najahni.tn

السنة السادسة

امتحان الثلاثي الأول
في الرياضيات

الوضعية 1 : (4.5 نقاط)

خرج مورع البريد من المركز إثر القيام بالفرز على الساعة الثامنة صباحًا و 55 دق و عاد إليه قبل منتصف النهار برُبْع ساعة .

ما هي المدة التي قضاها في توزيع الرسائل إذا علمت أنه توقّف ثلث ساعة لإصلاح عَطَبٍ أصاب دراجته ؟

الوضعية 2 - : (4.5 نقاط)

ابن مثلثًا (أ ب ج) بحيث :

$$[أ ب] = 6 \text{ صم}$$

$$أ ب ج = ب أ ج = 60^\circ$$

ابن منصفات الزوايا الثلاث حيث تقطع هذه المنصفات على التوالي :

[أ ب] في النقطة " س " و [ج ب] في النقطة " ع " و [أ ج] في النقطة " ص " تتقاطع المنصفات في النقطة " م " .

اذكر نوع الزاوية [ب م ، م ج] .

الوضعية 3 - (11 نقطة)

أراد الفلاح أن يشتري جرراً ثمنه 18350 د فقدم صاحب الشركة ثلاثة عروض :

العرض الأول : أن يدفع الثمن بالحاضر مع التمتع بتخفيض قدره ثمن الثمن ($\frac{1}{8}$)

العرض الثاني : أن يدفع 11062،800 د عند تسلّم الجرار و يسدّد باقي الثمن على 5 أقساط متساوية مع زيادة 78،450 د عن كلّ قسط .

العرض الثالث : أن يسدّد ثمن الجرار بالتساوي على 12 قسطاً مع زيادة جمليّة تقدّر بعششر ($\frac{1}{10}$) ثمنه

الأصلي .

1. احسب كلفة الجرار في العرض الأول .
2. ابحث عن كلفة الجرار في العرض الثاني .
3. احسب قيمة القسط الواحد في العرض الثاني .
4. احسب ثمن كلفة الجرار في العرض الثالث .
5. اتّبع الفلاح العرض الثاني . كم ربح و كم خسر لو اتّبع أحد العرضين الآخرين؟

- من جدّ وجد ومن زرع حصد

الإسم: اللقب: القسم: 6.. العدد المسند: .. 20	تقييم مكتسبات التلاميذ في نهاية الثلاثي الأول السنة الدراسية:	المادة رياضيات	المدرسة الابتدائية المستوى: سنة 6 إعداد:
--	---	-------------------	---

الوضعية 1:

السند 1: لفلاح قطعنا أرض متجاورتان، الأولى على شكل مثلث (أ ب س) قائم في «س» و الثانية على شكل شبه منحرف (س ب ج د) حيث [س د] تمثل القاعدة الكبرى و [ب ج] تمثل القاعدة الصغرى.

التعليمة 1: أتم رسم تصميم القطعة الأولى.



1

2

1

التعليمة 2: أتم رسم تصميم القطعة الثانية حيث ج د س = 75°

السند 2: وفترة هذا الفلاح في الموسم الفلاحي الفارط من القطعة الأولى 3.09 ط من الفلفل باعه بـ 0.760 د الكيلوغرام الواحد، و أنتجت له القطعة الثانية معدل 30 ق من الشعير في الهكتار الواحد باعه في أكياس ذات 50 كغ بحساب 9.350 د الكيس الواحد.

التعليمة 3: أحسب ثمن بيع الشعير علما و أنّ قيس مساحة القطعة الثانية بالآر 730

1.5

1.5

1

التعليمة 4: أبحث عن المدخول الذي وفره هذا الفلاح من القطعتين.

التعليمة 5: بلغت مصاريف هذا الفلاح 1443.7 د

1-5: أطرّح سؤالا مناسباً للوضعية

1.5

2-5: أجب عن هذا السؤال

مع3

0.5

مع5

1

الوضعية 2

يقوم سائق سيارة أجرة بـ7سفرات (ذهابا و إيابا) يوميا بين العاصمة و إحدى الضواحي. تدوم الرحلة بين المدينتين 30 دق و يتطلب ركوب المسافرين مدة 2 دق كما يتوقف السائق مدة

مع5

1

62دق

للإستراحة.

التعليمة 1: أبحث عن المدة الزمنية التي تستغرقها سفرة واحدة (ذهابا و إيابا)

2

التعليمة 2: أبحث عن ساعة بداية عمل هذا السائق علما و أنّ ساعة نهايته يكون على الساعة الخامسة و النصف مساءً.

مع2

جدول إسناد الأعداد

معايير التميز مع5	معايير الحد الأدنى				المعايير مستوى التملك
	مع4	مع3	مع2	مع1	
1	0	0	0	0	انعدام التملك
1	1	1.5	1	1.5	دون التملك
2	2	3	2	3	التملك الأدنى
5	3	3	4.5	4.5	التملك الأقصى

مع3

0.5

مع1

1.5

مع2

1

مع3

1

--	--	--

www.najahni.tn

السنة الدراسية	تقييم مكتسبات التلاميذ في نهاية الثلاثي الأول في الرياضيات	مدرسة
السنة السادسة " "		الاسم واللقب :

<p>السند 1</p> <p>جنى فلاح محصوله من الزيتون كتلته الجمالية بالقنطار من مضاعفات المشتركة ل 7 و 3 محصور بين 200 و 230</p> <p>التعليمة 1</p> <p>احسب الكتلة الجمالية للزيتون بالكغ</p> <p>.....</p> <p>.....</p> <p>.....</p>	<p>مع 1</p> <p><input type="text"/></p> <p>مع 2</p> <p><input type="text"/></p>
<p>السند 2</p> <p>تصدق الفلاح ب 3409,012 كغ على الفقراء و المساكين وحول 849,988 كغ إلى زيت و باع الباقي ب 0,925 الكغ الواحد</p> <p>التعليمة 1</p> <p>احسب ثمن كمية الزيتون المباعة :</p> <p>.....</p> <p>.....</p> <p>.....</p>	<p>مع 3</p> <p><input type="text"/></p> <p>مع 1</p> <p><input type="text"/></p> <p>مع 2</p> <p><input type="text"/></p> <p>مع 1</p> <p><input type="text"/></p> <p>مع 2</p> <p><input type="text"/></p>
<p>التعليمة 2</p> <p>احسب المداخل الصافية إذا علمت أن المصاريف بلغت 6080,425د</p> <p>.....</p> <p>.....</p> <p>.....</p>	<p>مع 1</p> <p><input type="text"/></p> <p>مع 2</p> <p><input type="text"/></p>

السند 3 أ

انطلقت الشاحنة من الحقل على الساعة 6 و45 دق ووصلت إلى تونس العاصمة بعد سفرة دامت 2س و5 دق.

التعليمة

احسب ساعة الوصول.

مع 3

السند 3 ب

دخل الفلاح المعصرة على الساعة 10 و13 دق وغادروه على الساعة 12 و11 دق

التعليمة

كم دامت الفترة التي قضاها الفلاح بالمعصرة ؟

مع 3

السند 4

شاهد الفلاح أحواضا مختلفة لها شكل مثلث.....

التعليمة

ارسم أمثلة لهذه الأحواض بالاعتماد على البيانات التالية :

المثلث (ك ل هـ)	المثلث (ع ن ص)	المثلث (أ ب ج)
ك ل م = 45°	ع ن ص = 90°	[أ ب] = 6 صم
ل ك هـ = 30°	[ع ن] = 5 صم	[أ ج] = 3 صم
[ك ل] = 6 صم	[ن ص] = 6 صم	[ب ج] = 5 صم

مع 4

مع 5

السند 5

اشترى بالمبلغ المتحصل عليه خرفانا للتسمين ب 99د الخروف الواحد باعها بعد شهر بثمان يزيد عن ثمن الشراء ب 50د

مع 5

التعليمة

احسب ثمن بيع الخرفان

.....
.....
.....

مع 5

مع 5		مع 4		مع 3		مع 2			مع 1			المعايير
0		0		0		0			0			مستويات التملك
0		0		0		0			0			انعدام التملك - - -
1	1,5	1	1,5	1	1,5	0,5	1	1,5	0,5	1	1,5	التملك دون الأدنى - - +
1,5	1,5	2	2	2	2	2	2	2	2	2	2	التملك الأدنى - + +
4	4	3	3	3	3	2,5	3	2,5	3	3	2,5	التملك الأقصى + + +

□ رياضيات سنة سادسة

□ لوضعية 1

□ حديقة منزلنا مستطيلة الشكل قيس نصف محيطها مضاعف لـ 6 و 8 محصور بين 356م و 374م.

□ قيس طولها ضعف قيس عرضها .

□ كم ابحت عن قيس مساحة هذه الحديقة ؟

□ لوضعية 2

□ نظمت مدرسة رحلة إلى منطقة جبلية مثلت المسافة المقطوعة على خريطة سلمها $\frac{1}{200000}$ كما يلي:

□ المسافة المقطوعة ذهابا \longleftrightarrow 77.5 صم

□ المسافة المقطوعة إيابا \longleftrightarrow 91.5 صم

□ ① ماهي كلفة كراء الحافلة مقابل 0.850 د للكيلومتر الواحد ؟

□ ② احسب المزايع التي تحصل عليها صندوق المدرسة إذا كان عدد التلاميذ 70 و معلوم المشاركة 8.500د

□ لم تغط هذه المزايع بالاضافة الى مزايع أخرى مائتية من بعض المبيعات والمقدرة بـ 450د إلا $\frac{1}{3}$ المبلغ المطلوب

□ لبناء سياج لهذه المدرسة .

□ ③ ابحت عن ثمن كلفة هذا المشروع ؟

لوضية 3

- انطلق عرض مسرحي على الساعة 9 و 15 دق ليلا . تشتمل المسرحية على 4 فصول . يدوم الفصل الاول 23دق
- و15 ث ، الفصل الثاني يدوم أكثر من الفصل الأول بـ 2دق و30ث أما الفصل الثالث فيدوم 28 دق و 45 ث .
- انتهى عرض المسرحية في الساعة 11 و 11 دق و55 ث .
- كم دام عرض الفصل الرابع من المسرحية علما وأن فترة الاستراحة بين الفصل والفصل الذي يليه تدوم 3دق .
- قاعة العرض على شكل شبه منحرف قائم قيس قاعدته الصغرى 15 م ، قيس قاعدته الكبرى 24 م
- وقيس ارتفاعه 12م .
- كم اعدّ تصميمها لهذه القاعة وفق السلم $\frac{1}{3000}$

تقييم مكتسبات التلاميذ في نهاية الثلاثي الأول

النشاط: رياضيات * مارس 2016 * الحصة: 60 دقيقة

السند 1: يملك مبارك قطعة أرض في مدينة جرجيس قيس طولها 240 مترا وقيس عرضها $\frac{3}{4}$ قيس طولها.
التعليمة 1: أحسب قيس عرضها.

مع 1 مع 2

التعليمة 2: أحسب قيس مساحتها بالآر.

مع 1 مع 2

مع 3

مع 3

السند 2: أنجز مهندس تصميمها لهذه القطعة وفق السلم $\frac{1}{4000}$

التعليمة 3: حوّل : الطول : م = صم

العرض : م = صم

التعليمة 4: أبحث عن الأبعاد على التصميم:

مع 1

مع 2

قيس الطول على التصميم:
قيس العرض على التصميم:

السند 3: ترك مبارك 32 آرا لبناء اسطبل وإقامة للعمال و زرع المساحة البقية بعد تقسيمها إلى مقاسم كما يلي:

التعليمة 5: أبحث عن النسبة المئوية الممثلة لمساحة كلّ مقسم بالنسبة لمساحة الأرض.

شكل المقسم	نوع الزراعة	مساحته بالآر	النسبة المئوية لمساحة المقسم بالنسبة لمساحة الأرض
مستطيل	علف	192	
معيّن	خضروات	108	
متوازي أضلاع	نبات زينة	100	

مع 2

السند 4: أنتج مقسم الخضروات كمية من الخضروات كمها عدد يقبل القسمة على 2 و 3 و 5 و 9 محصور بين 6746 و 6755.

التعليمة 6: أبحث عن كمية الخضروات المنتجة.

مع 2

التعليمة 7: أبحث عن الكمية المنتجة من كلّ نوع من الخضروات مستعينا بالنسب المئوية كما هو مبين في الجدول.

نوع المنتج	نسبته من الكمية الجملة	كتلته بالكغ
جزر	40%	
لفت	35%	
بطاطا	25%	

مع 2

السند 5: بني مبارك اسطبلًا دائريًا لخيوله قيس قطره 120 مترا. سيجه تاركا مدخلا عرضه 4 متر.

التعليمة 8: ماهي كلفة التسييج إذا علمت أنّ كلفة المتر الطولي 86 دينارًا و كلفة الباب 490 دينارًا.

مع 5

--	--	--

التعليمة 9: أكمل بناء شكل المقاسم:

مستطيل	طوله: 4 صم / عرضه: 3 صم	
معيّن	قطره الكبير: 5 صم / قطره الصغير: 2 صم	
متوازي أضلاع	قيس فتحة زاويته: ب أ ج = 45 درجة أ ب: 4 صم / أ ج: 2 صم	

مع 4

--	--	--

حساب ذهني

العدد المسند	الإجابة	
0.5		1
0.5		2
0.5		3
0.5		4
0.5		5
0.5		6
0.5		7
0.5		8

جدول توزيع الأعداد

حساب ذهني	مع 5	مع 4	مع 3	مع 2		مع 2		مع 1	
	0								---
$\frac{1}{4}$	1	1	1	1	0.5	1	0.5	0.5	---
	2	2	2	1.5		1.5		1	++
	3	3	3	3	2.5	2	2.5	2	1.5

الاسم و اللقب:	امتحان الثلاثي الأول في الرياضيات	المدرسة الابتدائية بن عيسى صبرين الميعادي 2019-2018
ج - د		

<p>السند 1 : اشترى باعث عقاري أرضا مستطيلة الشكل بُعدها على تصميم وفق سلم 250/1 بالصم 14,4 و 16,2 بحساب 15 ألف دينار الار الواحد</p> <p>التعليمة 1-1 : أحسب بعدا الأرض الحقيقيين.</p> <p>.....</p> <p>.....</p> <p>.....</p>	<p>مع 1</p> <table border="1"> <tr> <td></td> <td></td> </tr> </table>		
<p>التعليمة 1-2 : أحسب قيس مساحة الأرض.</p> <p>.....</p> <p>.....</p>	<p>مع 2</p> <table border="1"> <tr> <td></td> <td></td> </tr> </table>		
<p>التعليمة 1-3 : أحسب ثمن الأرض بالألف دينار.</p> <p>.....</p> <p>.....</p>	<p>مع 3</p> <table border="1"> <tr> <td></td> <td></td> </tr> </table>		
<p>السند 2 : قام الباعث ببناء عمارات على الأرض بعد أن ترك 1,7 ار للممرات و 0,88 ار للحديقة العمومية.</p> <p>التعليمة 2-1 : أحسب المساحة التي تحتلها العمارات بالار.</p> <p>.....</p> <p>.....</p>	<p>مع 2</p> <table border="1"> <tr> <td></td> <td></td> </tr> </table>		
<p>السند 3 : تمثلت كلفة هذا المشروع كما يلي:</p> <ul style="list-style-type: none"> - كلفة البناء تساوي ثمن الأرض مرتان و نصف. - كلفة تهيئة الممرات و الحديقة تساوي 9/1 ثمن الأرض . - كلفة تسجيل الأرض تساوي 100/1 من ثمن الأرض. - معلوم ضرائب تساوي 17,213 ألف دينار. 			



مع 1

--	--	--

التعليمة 1-3 : أحسب الكلفة الجمليّة للمشروع (مع ثمن الأرض) .

.....

.....

.....

.....

.....

.....

.....

مع 2

السند 4 : باع هذا الباعث الشقّة الواحدة ب 65750 دينار.

التعليمة 1-4 : أحسب مدخوله من بيع كلّ الشقق إذا كان عددها مضاعفا مشتركا ل 11 و 3 و محصور بين 30 و 60 .

.....

.....

.....

مع 1

--	--	--

مع 2

مع 3

--

التعليمة 2-4 : أحسب ربح الباعث من المشروع بالألف دينار.

.....

.....

السند 5 : اقتنى شاب شقّة من هذه الشقق فدفع 12500د كتسبقة و اقترض المبلغ الناقص من البنك بزيادة 5700د كفائض على 6 سنوات .
أطرح سؤالا مناسباً للوضعية يتطلب حلّه أكثر من مرحلتين.

.....*

.....*

.....

.....

.....

.....

مع 5



السند 6 : أبني تصميمًا للحديقة العمومية على شكل مثلث أ ب ج حيث:

$$* [أ ب ، أ ج] = 45^\circ$$

$$* [أ ج ، ج ب] = 30^\circ$$

$$* [أ ج] = 5 \text{ صم}$$

ثم أبني (م) المستقيم الموازي ل [أ ج] و المار من النقطة "ب"

مع 4

--	--	--

البناء :

مع 5	مع 4	مع 3	مع 2				مع 1			
0	0	0	0				0			انعدام التملك
2	1	0.25	2	1.5	1	0.5	0.75	0.5	0.25	دون التملك الأدنى
2	2	0.5	4	3.5	3	2.5	1.5	1.25	1	التملك الأدنى
	3	0.75	6	5.5	5	4.5	2.25	2	1.75	التملك الأقصى



2018/2017 السنة السادسة	تقييم مكتسبات التلاميذ في نهاية السداسي الأول في الرياضيات	مدرسة ابن رشد المعلم: كمال خليفي
العدد: 20/.....	القسم: 6 الرقم:	الاسم واللقب:

السند 1:

نظمت مدرسة رحلة كشفية إلى مدينة عين دراهم . شارك فيها عدد من التلاميذ . هذا العدد هو مضاعف مشترك للعددين 6 و7 وهو أكبر من 40 و أصغر من 90 ومجموع أرقامه 12.

التعليمة 1-1:

ابحث عن مضاعفات الرقم 6 الأكبر من 40 والأصغر من 90
* {.....}

مع 2

ابحث عن مضاعفات الرقم 7 الأكبر من 40 والأصغر من 90
* {.....}

ابحث عن عدد التلاميذ المشاركين في الرحلة :
* {.....}

مع 2

السند عدد 2:

في اليوم المحدد انطلقت الحافلة من أمام باب المدرسة على الساعة 7 و 30 دق لتصل إلى مدينة عين دراهم بعد سفرة دامت 5س و 45 دق علما وان الحافلة توقفت 4 مرات لمدة ربع ساعة في كل مرة .

التعليمة 1-2:

ابحث عن ساعة وصول الحافلة إلى مدينة عين دراهم:

.....

مع 3

ابحث عن مدة سير الحافلة :

.....

مع 3

السند عدد 3:

نُصبت المخيمات على أرض مستطيلة الشكل قيس محيطها بالمتر 204 وقيس طولها يفوق قيس عرضها ب38م .

التعليمة 1-3:

احسب قيس بعدي الأرض بالمتر :

.....

.....

.....

مع 1

احسب عدد الخيام التي نُصبت علما وان الخيمة الواحدة تحتل مساحة معدلها 112 م²:

.....

.....

مع 1ع5

مع 2

السند عدد 4:

قصد المشرف على المخيم إحدى الفضاءات الكبرى واشترى بعض المستلزمات الناقصة كما يبينه الجدول التالي :

دلاع	فلافل	طماطم	
60	20	كتلة البضاعة بالكغ
.....	2.050	1.170	ثمن شراء الكغ الواحد بالد
16.620	41	ثمن الشراء الجملي بالد

مع 1

التعليمة 1-4:

أنجز العمليات حسب الوضع العمودي في الخانات التالية:

--	--	--

مع 2

السند عدد 5:

أعد المشاركون في الرحلة أحواضا أمام المخيمات مختلفة الأشكال (مثلث ..شبه منحرف)

* ابني مثلثا (أ ب ج) حيث أ ب = 5 صم و ج أ ب = أ ب ج = 30°

مع 4

مع 2ع5

* ابني مثلثا متقايس الأضلاع (أب ج) قيس ضلعه بالصم 4

* ابني شبه منحرف (أب ج د) حيث قاعدته الكبرى = 6 صم وقاعدته الصغرى = 3 صم والارتفاع = 3 صم و دأب = 45°

مع 5	مع 4	مع 3	مع 2			مع 1		
1 = ع 1	0	0	0	0	0	0	0	انعدام التملك
	0.5	1	1.5	1	0.5	1	0.5	دون التملك الأدنى
3 = ع 2	1	2	3	2.5	2	2	1.5	التملك الأدنى
4	1.5	3	4.5	4	3.5	3	2.5	التملك الأقصى

السند 1

لفلاح حقل مستطيل الشكل به نوعان من الأشجار المثمرة تفاح و خوخ .
العدد الجملي للأشجار يأتي مباشرة قبل 400 وهو مضاعف مشترك للرقمين
8 و 7 و الفرق بين عدد أشجار التفاح و الخوخ 16.

1- أبحث عن عدد أشجار التفاح.

.....

.....

2- أبحث عن عدد أشجار الخوخ.

.....

السند 2

معدل إنتاج الشجرة الواحدة من الخوخ قدر ب 37.6 كغ أما إنتاج الّوز الجملي
فيزيد عن إنتاج الخوخ الجملي ب 457.2 كغ

3- أبحث عن الإنتاج الجملي من الخوخ.

.....

4- أبحث عن الإنتاج الجملي من التفاح.

.....

مع 1

--	--

مع 2

--	--

مع 1 مع 2

--	--

مع 1 مع 2

--	--

مع 1 مع 2

--	--

السند 3

احتفظ الفلاح ب $\frac{1}{5}$ إنتاج اللوز للاستهلاك العائلي و تصدق ب $\frac{1}{8}$ الانتاج و باع ما تبقى بحساب 2.4 د للكغ الواحد .

5- أبحث عن ثمن بيع اللوز الجملي

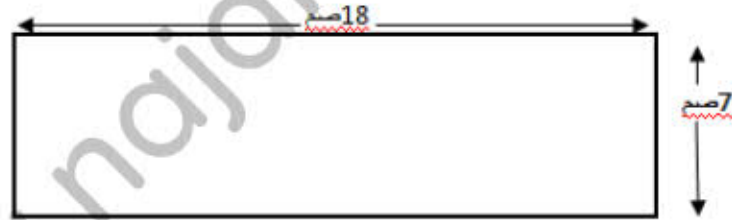
.....
.....
.....

مع 5

--	--	--

السند 4

الرسم التالي يمثل تصميمًا لأرض الفلاح حسب السلم $\frac{1}{500}$



6- أبحث عن طول الأرض الحقيقي.

.....

مع 1م 2

--	--

7- أبحث عن عرض الأرض الحقيقي.

.....

مع 1م 2

--	--

السند 5

لحرت $\frac{1}{4}$ مساحة أرضه بدأ الفلاح الحرث على الساعة السابعة و الربع صباحا و أنهى منتصف النهار إلا خمس ساعة بعد التمتع براحة دامت 34 دق.

8- أبحث عن الوقت المستغرق في الحرث.

.....
.....
.....

مع 1 مع 2

--	--

مع 3

--	--

9- أبحث عن الوقت اللازم لحرث كامل الأرض.

.....
.....

مع 1 مع 2 مع 3

--	--	--

السند 6

أراد الفلاح بناء مستودع على شكل معين محاذ لمأوى على شكل مربع .
أساعده على وضع تصميم له.

ألاحظ [أ ت] قطر المعين

-أبني المعين أ ب ت ث حيث أ ت ث قيس فتحتها 30 °

-أبني المربع ت ث ج ح

مع 4

--	--	--

أ _____ ت

الحساب الذهني

.....	- ما هو المضاعف المشترك الأصغر ل 7 و 9
.....	- ما هو العدد الذي إذا قسمته على 8 و 3 بقي 1 وأنه أقل من 30.
.....	- أحسب 0.001×875
.....	- أحسب $10:6,25 =$
.....م2	- مربع قيس محيطه 24 م ما قيس المساحة
.....م2	ربع هم 2
.....دق	ثلث ساعة
.....م2	نصف آر

		معايير الحد الأدنى													
		معايير التميز			مع 2				مع 1				مستويات التماك		
		مع 5	مع 4	مع 3									إندام التماك		
المجموع	حساب ذهني	0	0	0	0				0				دون التماك الأدنى		
		1	1	0,75	2,5	2	1,5	1	0,5	1,25	1	0,75	0,5	0,25	التماك الأدنى
		2,5	2	1,5	3				1,5				التماك الأدنى		
	20	4	4	3	2,25	4,5	4	3,5	2,25	2	1,75	التماك الأقصى			

بالتوفيق

المستوى: السنة السادسة	تقييم الثلاثي الأول في مادة	المدرسة الابتدائية بالزواوين
السنة الدراسية: 2019-2020	الرياضيات	المدرّس: إلياس عبد النبي
القسم: السادسة	الاسم واللقب:

المعايير	الأسناد
----------	---------

السند 1: جنى فلاح محصوله من الزيتون كتلته الجمليّة بالقنطار من المضاعفات المشتركة ل 7 و 3 مخصور بين 200 و 230.
التعليمة 1: علما وأن المضاعف المشترك الأصغر المخالف للصفر ل 7 و 3 هو 21 أثبت أن الكتلة الجمليّة للزيتون 210 قنطارا.

العمل	الحل

مع 1 مع 2

مع 5

السند 2: تصدق الفلاح ب 3409,012 كغ على الفقراء والمساكين وحول 849,988 كغ إلى زيت وبيع الباقي ب 1 د للكغ الواحد.
التعليمة 1-2: أحدد ثمن كمية الزيتون المباعة.

العمل	الحل

مع 3

مع 1 مع 2

مع 1 مع 2

مع 1 مع 2

التعليمة 2-2: أحسب المداخل الصافية التي تحصل عليها الفلاح إذا علمت أن مصاريفه بلغت 6090,550 د.

العمل	الحل

مع 1 مع 2

السند 3: اشترى بالمبلغ الذي تحصل عليه (الصافي) 25 خروفا للتسمين.
التعليمة 3-1: أحسب ثمن الخروف الواحد.

العمل	الحل

مع 1 مع 2

السند 4: خرج الفلاح إلى السوق على الساعة 4 صباحا و30 دق و23 ث فتوقف في الطريق مدة ثلاث ساعة لإصلاح عطب في السيارة ووصل إلى السوق على الساعة 6 صباحا و40 دق و33 ث.
التعليمة 4-1: أحسب المدة الزمنية للسير.

العمل	الحل

مع 3 مع 3

السند 5: بنى الفلاح إسطبلًا للخرفان على شكل شبه منحرف أبعاده على التصميم:
القاعدة الكبرى 6 صم والارتفاع 3 صم والقاعدة الصغرى 4 صم.
التعليمة 1-5: أساعد الفلاح على بناء شبه منحرف (أ ب ج د) قائم الزاوية في أ.

مع 4 مع 4

مع 4

مع 5

☆ حَظًا مَوْفَقًا ☆

جدول إسناد الأعداد

معيار 5		معيار 4	معيار 3	معيار 2			معيار 1			مستويات التملك
2ع	1ع									
		0	0	0			0			انعدام التملك
		1	1	1.5	1	0.5	1.5	1	0.5	دون التملك الأدنى
		2	2	2			2			التملك الأدنى
2	2	3	3	3	2.5		3	2.5		التملك الأقصى

العدد المسند = _____

20

المستوى: السنة السادسة	تقييم الثلاثي الأول في مادة الرياضيات	المدرسة الابتدائية بالزواوين
السنة الدراسية: 2019-2020		المدرّس: إلياس عبد النبي
القسم: السادسة	الإصلاح	

المعايير	السندات				
	<p>السند 1: جنى فلاح محصوله من الزيتون كتلته الجمليّة بالقنطار من المضاعفات المشتركة ل 7 و 3 محصور بين 200 و 230.</p> <p>التعليمة 1: علما وأن المضاعف المشترك الأصغر المخالف للصفر ل 7 و 3 هو 21 أثبتت أن الكتلة الجمليّة للزيتون 210 ق.</p>				
	<table border="1"> <thead> <tr> <th>العمل</th> <th>الحل</th> </tr> </thead> <tbody> <tr> <td></td> <td> <p>*تحديد مضاعف 21 المحصور بين 200 و 230:</p> $200 : 21 = (9 \times 21) + 11$ <p>مضاعف 21 المحصور بين 200 و 230 $210 = 10 \times 21 = 230$</p> <p>*يعني المضاعف المشترك ل 7 و 3 المحصور بين 200 و 230 هو 210.</p> <p>إذا الكتلة الجمليّة للزيتون = 210 ق.</p> </td> </tr> </tbody> </table>	العمل	الحل		<p>*تحديد مضاعف 21 المحصور بين 200 و 230:</p> $200 : 21 = (9 \times 21) + 11$ <p>مضاعف 21 المحصور بين 200 و 230 $210 = 10 \times 21 = 230$</p> <p>*يعني المضاعف المشترك ل 7 و 3 المحصور بين 200 و 230 هو 210.</p> <p>إذا الكتلة الجمليّة للزيتون = 210 ق.</p>
العمل	الحل				
	<p>*تحديد مضاعف 21 المحصور بين 200 و 230:</p> $200 : 21 = (9 \times 21) + 11$ <p>مضاعف 21 المحصور بين 200 و 230 $210 = 10 \times 21 = 230$</p> <p>*يعني المضاعف المشترك ل 7 و 3 المحصور بين 200 و 230 هو 210.</p> <p>إذا الكتلة الجمليّة للزيتون = 210 ق.</p>				
مع 1 مع 2					
مع 5					
	<p>السند 2: تصدق الفلاح ب 3409,012 كغ على الفقراء والمساكين وحول 849,988 كغ إلى زيت وبيع الباقي ب 1 د للكغ الواحد.</p> <p>التعليمة 1-2: أحدد ثمن كمية الزيتون المباعة.</p>				
	<table border="1"> <thead> <tr> <th>العمل</th> <th>الحل</th> </tr> </thead> <tbody> <tr> <td></td> <td> <p>*الكتلة الجمليّة للزيتون = 210 ق = 21000 كغ.</p> <p>*الكتلة المباعة = $21000 - (849.988 + 3409.012)$</p> $= 21000 - 4259 = 16741 \text{ كغ.}$ <p>*ثمن الكتلة المباعة = $16741 \times 1 = 16741 \text{ د.}$</p> </td> </tr> </tbody> </table>	العمل	الحل		<p>*الكتلة الجمليّة للزيتون = 210 ق = 21000 كغ.</p> <p>*الكتلة المباعة = $21000 - (849.988 + 3409.012)$</p> $= 21000 - 4259 = 16741 \text{ كغ.}$ <p>*ثمن الكتلة المباعة = $16741 \times 1 = 16741 \text{ د.}$</p>
العمل	الحل				
	<p>*الكتلة الجمليّة للزيتون = 210 ق = 21000 كغ.</p> <p>*الكتلة المباعة = $21000 - (849.988 + 3409.012)$</p> $= 21000 - 4259 = 16741 \text{ كغ.}$ <p>*ثمن الكتلة المباعة = $16741 \times 1 = 16741 \text{ د.}$</p>				
مع 3					
مع 1 مع 2					
مع 1 مع 2					
مع 1 مع 2					
	<p>التعليمة 2-2: أحسب المداخل الصافية التي تحصل عليها الفلاح إذا علمت أن مصاريفه بلغت 6090,550 د.</p>				

الحل	العمل
	المداخل الصافية = 16741 - 6090.550 = 10650.450 د

السند 3: اشترى بالمبلغ الذي تحصل عليه (الصافي) 25 خروفا للتسمين.
التعليمة 1-3: أحسب ثمن الخروف الواحد.

مع 1 مع 2

الحل	العمل
	ثمن الخروف الواحد = 10650.450 : 25 = 426.018 د

السند 4: خرج الفلاح إلى السوق على الساعة 4 صباحا و30 دق و23 ث فتوقف في الطريق مدة ثلاث ساعة لإصلاح عطب في السيارة ووصل إلى السوق على الساعة 6 صباحا و40 دق و33 ث.
التعليمة 1-4: أحسب المدة الزمنية للسير.

مع 1 مع 2

الحل	العمل
	*المدة الزمنية المستغرقة في السفر = س6 و40دق و33ث - س4 و30دق و23ث = س2 و10دق و10ث. *المدة المستغرقة في السير = س2 و10دق و10ث - س2 و20دق = س1 و50دق و10ث.

السند 5: بنى الفلاح إسطبلا للخرفان على شكل شبه منحرف أبعاده على التصميم:
القاعدة الكبرى 6 صم والارتفاع 3 صم والقاعدة الصغرى 4 صم.
التعليمة 1-5: أساعد الفلاح على بناء شبه منحرف (أ ب ج د) قائم الزاوية في أ.

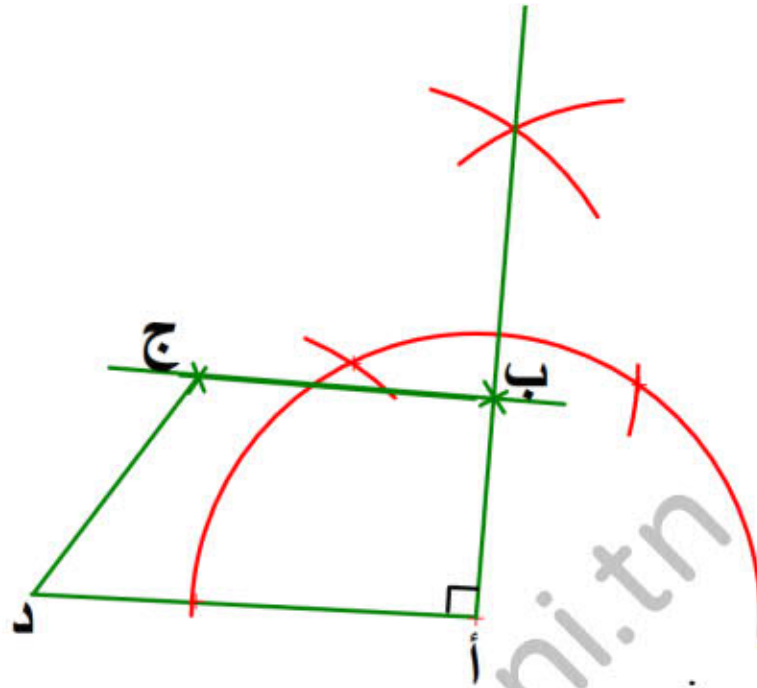
مع 3 مع 3

	*يرسم القاعدة الكبرى ج د = 6 صم. *يبني الزاوية القائمة المنطلقة من ج (توظيف بناء الوسط العمودي). *يحدد قيس طول الارتفاع ب ج = 3 صم.
--	---

* يبني قطعة المستقيم [أ ب] المتوازية مع [ج د].

* يحدّد قيس طول أ ب = 4 صم.

* يصل النقطة أ بالنقطة د.



مع 4 مع 4

مع 4

مع 5

www.najahni.tn

☆ حظّ موفق ☆

جدول إسناد الأعداد

معيّار 5		معيّار 4		معيّار 3		معيّار 2			معيّار 1			مستويات التملك
		0		0		0			0			انعدام التملك
		1		1	1	0.5		1	0.5			دون التملك الأدنى
		2		2	1.5			1.5			التملك الأدنى	
2	2	3		3	3	2.5	2.25	3	2.5	2		التملك الأقصى

العدد المسند = _____

20

المستوى: السنة السادسة	تقييم الثلاثي الأول في مادة الرياضيات	المدرسة الابتدائية بالزواوين
السنة الدراسية: 2019-2020		المدرّس: إلياس عبد النبي
القسم: السادسة		الاسم واللقب:

المعايير	الأسناد																
	<p>السند 1: جنى فلاح مَحْصُولُهُ مِنَ الرَّمَانِ كَتَلْتُهُ الْجَمَلِيَّةُ بِالْقَنْطَارِ مِنَ الْمَضَاعِفَاتِ الْمُشْتَرَكَةِ لـ 8 وَ 9 مَحْصُورٌ بَيْنَ 140 وَ 150.</p> <p>التعليمة 1: أبحث عن المضاعف المشترك الأصغر المخالف للصفر لـ 8 و 9 وأثبت أن الكتلة الجمليّة للرّمَانِ تساوي 144 قنطاراً.</p>																
	<table border="1"> <thead> <tr> <th>العمل</th> <th>الحلّ</th> </tr> </thead> <tbody> <tr> <td></td> <td>.....</td> </tr> <tr> <td></td> <td>.....</td> </tr> <tr> <td></td> <td>.....</td> </tr> <tr> <td></td> <td>.....</td> </tr> <tr> <td></td> <td>.....</td> </tr> <tr> <td></td> <td>.....</td> </tr> <tr> <td></td> <td>.....</td> </tr> </tbody> </table>	العمل	الحلّ	
العمل	الحلّ																
																
																
																
																
																
																
																

مع 1 مع 2

مع 5

السند 2: تبرّع الفلاح بـ 1440 كغ من الرّمَانِ لِبِنِكَ التَّغْذِيَّةِ وَحَوْلَ 4783.750 كغ إِلَى عَصِيرِ وَبَاعَ الْبَاقِي بـ 2.5 د لِكُغِ الْوَاحِدِ.

التعليمة 1-2: أحدد ثمن كمية الرّمَانِ المبيّعة.

العمل	الحلّ

مع 3

مع 1 مع 2

مع 1 مع 2

مع 1 مع 2

التعليمة 2-2: أحسب المداخل الصافية التي تحصل عليها الفلاح إذا علمت أن مصاريفه بلغت 6091,151 د.

الحل	العمل
.....	
.....	
.....	
.....	

مع 1 مع 2

السند 3: اشترى بالمبلغ الذي تحصل عليه (الصافي) 877 شجرة رمان لتعويض التألف منها.
التعليمة 3-1: أحسب ثمن شجرة الرمان الواحدة.

الحل	العمل
.....	
.....	
.....	
.....	

مع 1 مع 2

السند 4: خرج الفلاح إلى السوق على الساعة 4 صباحا و30 دق و33 ث فتوقف في الطريق مدة ثلاث ساعة لإصلاح عطب في السيارة ووصل إلى السوق على الساعة 6 صباحا و15 دق و13 ث.
التعليمة 4-1: أحسب المدة الزمنية للسير.

الحل	العمل
.....	
.....	
.....	
.....	
.....	
.....	

مع 3 مع 3

السند 5: بنى الفلاح مستودعا لتخزين الرمان على شكل شبه منحرف قائم الزاوية أبعاده الحقيقية: القاعدة الكبرى 35 م والارتفاع 22.5 م والقاعدة الصغرى 25 م.
التعليمة 1-5: أثبت أن أبعاد شبه المنحرف على التصميم ووفق السلم $\frac{1}{500}$ ، 7 صم للقاعدة الكبرى، 4.5 صم للارتفاع و5 صم للقاعدة الصغرى.

.....
.....
.....
.....

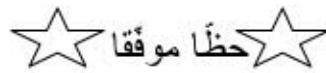
مع 5

أساعد الفلاح على بناء شبه منحرف (أ ب ج د) قائم الزاوية في أ.

--	--

مع 4 مع 4

مع 4



جدول إسناد الأعداد

معيار 5		معيار 4	معيار 3	معيار 2			معيار 1			مستويات التملك
2ع	1ع									
		0	0	0			0			انعدام التملك
		1	1	1.5	1	0.5	1.5	1	0.5	دون التملك الأدنى
		2	2	2			2			التملك الأدنى
2	2	3	3	3	2.5		3	2.5		التملك الأقصى

العدد المسند = _____

المستوى: السنة السادسة	تقييم الثلاثي الأول في مادة	المدرسة الابتدائية بالزواوين
السنة الدراسية: 2019-2020	الرياضيات، الإصلاح	المدرس: إلياس عبد النبي
القسم: السادسة	الاسم واللقب:	

المعايير	الأسناد
----------	---------

السند 1: جنى فلاح مَحْصُولُهُ مِنَ الرَّمَانِ كَتَلْتُهُ الْجَمَلِيَّةَ بِالْقَنْطَارِ مِنَ الْمُضَاعَفَاتِ الْمُشْتَرَكَةِ لـ 8 وَ 9 مَحْصُورٌ بَيْنَ 140 وَ 150.

التعليمة 1: أبحث عن المضاعف المشترك الأصغر المخالف للصفر لـ 8 و 9 وأثبت أن الكتلة الجمليّة للرمان تساوي 144 قنطارا.

العمل	الحل
	<p>*المضاعف المشترك الأصغر المخالف لـ 8 و 9 = ؟</p> <p>$8 = 1 \times 8$ ؛ $16 = 2 \times 8$ ؛ $24 = 3 \times 8$ ؛ $32 = 4 \times 8$ ؛ $40 = 5 \times 8$ ؛ $48 = 6 \times 8$ ؛</p> <p>$56 = 7 \times 8$ ؛ $64 = 8 \times 8$ ؛ $72 = 9 \times 8$.</p> <p>$9 = 1 \times 9$ ؛ $18 = 2 \times 9$ ؛ $27 = 3 \times 9$ ؛ $36 = 4 \times 9$ ؛ $45 = 5 \times 9$ ؛ $54 = 6 \times 9$ ؛</p> <p>$63 = 7 \times 9$ ؛ $72 = 8 \times 9$.</p> <p>إذا المضاعف المشترك الأصغر المخالف لـ 8 و 9 = 72.</p> <p>*مضاعف 72 المحصور بين 140 و 150 = ؟</p> <p>$140 = (1 \times 72) + 68$ ؛ $144 = (1 + 1) \times 72 = 2 \times 72$</p> <p>إذا مضاعف 72 المحصور بين 140 و 150 = 144 وبالتالي:</p> <p>المضاعف المشترك لـ 8 و 9 المحصور بين 140 و 150 = 144 والكتلة الجمليّة للرمان = 144 قنطارا.</p>

مع 1 مع 2

مع 5

السند 2: تبرّع الفلاح بـ 1440 كغ من الرمان لبنك التغذية وحول 4783.750 كغ إلى عصير وباع الباقي بـ 2.5 د للكغ الواحد.

التعليمة 1-2: أحدد ثمن كمية الرمان المباعة.

العمل	الحل
	<p>* $144 \text{ ق} = 14400 \text{ كغ}$</p> <p>* <u>كمية الرمان المباعة = الكمية الجمليّة - (كمية التبرّع + الكمية المحولة عصيرا)</u></p> <p>$(4783,750 + 1440) - 14400 =$</p> <p>$6223,750 - 14400 = 8176,250 \text{ كغ}$</p> <p>* <u>ثمن كمية الرمان المباعة = كمية الرمان المباعة × ثمن الكغ الواحد</u></p> <p>$20440.625 = 2.500 \times 8176,250 = \text{د}$</p>

مع 3

مع 1 مع 2

مع 1 مع 2

مع 1 مع 2

التعليمة 2-2: أحسب المداخل الصافية التي تحصل عليها الفلاح إذا علمت أن مصاريفه بلغت 6091,151 د.

العمل	الحل
	<p><u>*المداخل الصافية = ثمن بيع الرمان - المصاريف</u></p> <p>$14349,474 = 6091,151 - 20440,625 =$ د</p>

مع 1 مع 2

السند 3: اشترى بالمبلغ الذي تحصل عليه (الصافي) 877 شجرة رمان لتعويض التالف منها. التعليمة 1-3: أحسب ثمن شجرة الرمان الواحدة.

العمل	الحل
	<p><u>*ثمن شراء شجرة الرمان الواحدة = المداخل الصافية : عدد الأشجار</u></p> <p>$16,362 = 877 : 14349,474 =$ د</p>

مع 1 مع 2

السند 4: خرج الفلاح إلى السوق على الساعة 4 صباحا و30 دق و33 ث فتوقف في الطريق مدة ثلاث ساعات لإصلاح عطب في السيارة ووصل إلى السوق على الساعة 6 صباحا و15 دق و13 ث.

التعليمة 1-4: أحسب المدة الزمنية للسير.

العمل	الحل
	<p><u>*المدة الزمنية للرحلة = ساعة الوصول - ساعة الانطلاق</u></p> <p>$= 6 \text{ س و } 15 \text{ دق و } 13 \text{ ث} - 4 \text{ س و } 30 \text{ دق و } 33 \text{ ث}$</p> <p>$= 1 \text{ س و } 44 \text{ دق و } 40 \text{ ث}$</p> <p><u>*المدة الزمنية للسير = المدة الزمنية للرحلة - مدة التوقف</u></p> <p>$= 1 \text{ س و } 44 \text{ دق و } 40 \text{ ث} - 20 \text{ دق}$</p> <p>$= 1 \text{ س و } 24 \text{ دق و } 40 \text{ ث}$</p>

مع 3 مع 3

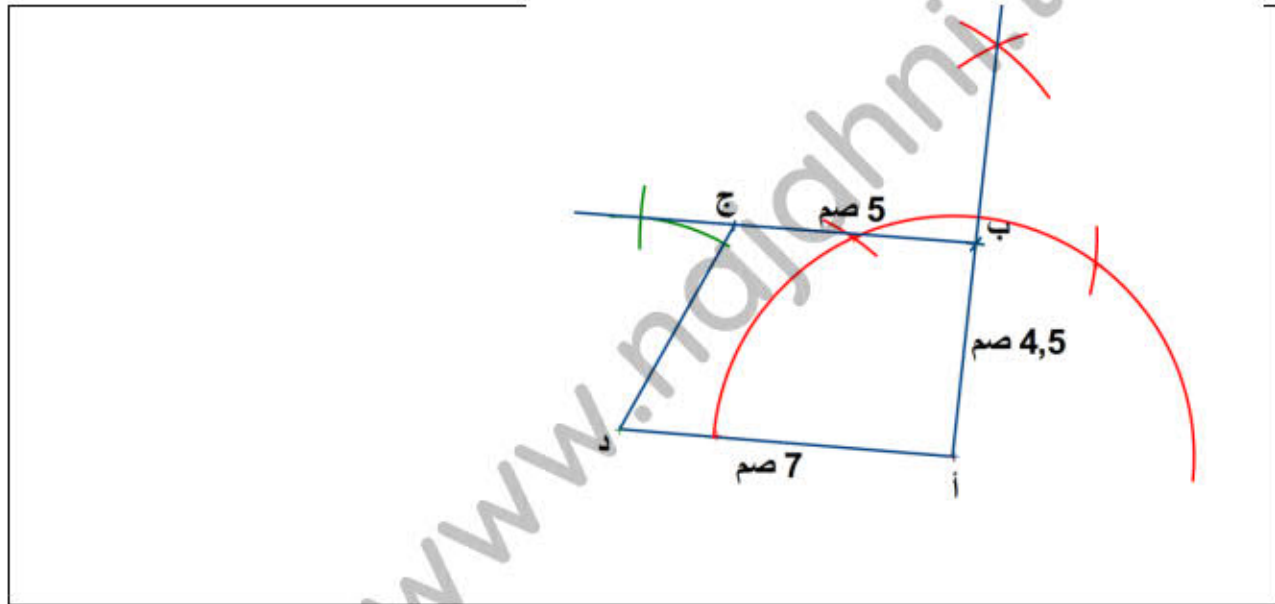
السند 5: بنى الفلاح مستودعا لتخزين الرمان على شكل شبه منحرف قائم الزاوية أبعاده الحقيقية: القاعدة الكبرى 35 م والارتفاع 22.5 م والقاعدة الصغرى 25 م.

التعليمة 1-5: أثبت أن أبعاد شبه المنحرف على التصميم ووفق السلم $\frac{1}{500}$ ، 7 صم للقاعدة الكبرى، 4.5 صم للارتفاع و5 صم للقاعدة الصغرى.

العمل	الحل
	<p>*أبعاد شبه المنحرف على التصميم = ؟</p> <p>- <u>قيس القاعدة الكبرى على التصميم = قيس القاعدة الكبرى الحقيقي : مقام السلم</u></p> <p>$3500 \text{ صم} : 500 = 7 \text{ صم}$</p> <p>- <u>قيس القاعدة الصغرى على التصميم = قيس القاعدة الصغرى الحقيقي : مقام السلم</u></p> <p>$2500 \text{ صم} : 500 = 5 \text{ صم}$</p> <p>- <u>قيس الارتفاع على التصميم = قيس الارتفاع الحقيقي : مقام السلم</u></p> <p>$2250 \text{ صم} : 500 = 4.5 \text{ صم}$</p>

مع 5

أساعد الفلاح على بناء شبه منحرف (أ ب ج د) قائم الزاوية في أ.



مع 4 مع 4

مع 4

☆ حظًا موفقًا ☆

جدول إسناد الأعداد

معيار 5		معيار 4	معيار 3	معيار 2			معيار 1			مستويات التملك
2ع	1ع									
		0	0	0			0			انعدام التملك
		1	1	1.5	1	0.5	1.5	1	0.5	دون التملك الأدنى
		2	2	2			2			التملك الأدنى
2	2	3	3	3	2.5		3	2.5		التملك الأقصى

العدد المسند =

20

المدرسة الابتدائية بالزواوين المدرّس: إلياس عبد النبي	تقييم الثلاثي الأول في الحساب الذهني	المستوى: السنة السادسة السنة الدراسية: 2019-2020
الاسم واللقب: -----		القسم: السادسة -----

ع.ر	الوضعية: أساعد حلمي في الإجابة على هذه الأسئلة.	الإجابة	العدد
1	$=100 \times 354$		0.5
2	$=10 : 354$		0.5
3	$=0.01 \times 987$		0.5
4	$=0.001 : 987$		0.5
5	أحصر العدد 13 بين مضاعفين متتاليين للعدد .4		0.5
6	حوّل 1.5 هآ إلى الم ²		0.5
7	ماهو مكمل 7.25 لـ8؟		0.5
8	ماهي مساحة مربع ضلعه = 15 صم؟		0.5

العدد المسند = _____

4

المدرسة الابتدائية بالزواوين المدرّس: إلياس عبد النبي	تقييم الثلاثي الأول في الحساب الذهني، الإصلاح	المستوى: السنة السادسة السنة الدراسية: 2018-2019
الاسم واللقب: -----		القسم: السادسة -----

ع.ر	الوضعية: أساعد حلمي في الإجابة على هذه الأسئلة.	الإجابة	العدد
1	$=100 \times 354$	35400	0.5
2	$=10:354$	35.4	0.5
3	$=0.01 \times 987$	9.87	0.5
4	$=0.001:987$	987000	0.5
5	أحصر العدد 13 بين مضاعفين متتاليين للعدد .4	$16 > 13 > 12$	0.5
6	حوّل 1.5 هأ إلى الم ²	15000 م ²	0.5
7	ماهو مكمل 7.25 لـ8؟	0.75	0.5
8	ماهي مساحة مربع ضلعه = 15 صم؟	225 صم ²	0.5

العدد المسند = _____

4

المستوى: السنة السادسة	وضعية إدماجية خاصة بالثلاثي	المدرسة الابتدائية بالزواوين
السنة الدراسية: 2019-2020	الأول في الرياضيات	المدرس: إلياس عبد النبي

الوضعية

*السند 1: جنى فلاح محصوله من البرتقال كُتلتُه الجمليّة بالقنطار مضاعف مشترك لـ 9 و 6 مَحْصُورٌ بَيْنَ 240 و 260.

<التعليمة 1: علما وأنّ المضاعف المشترك الأصغر المخالف للصفر لـ 9 و 6 هو 18 أثبتت أنّ الكتلة الجمليّة للبرتقال 252 قنطارا.

*السند 2: تصدّق الفلاح بـ عشر محصوله على الفقراء والمساكين، وصدر 15345 كغ إلى البرازيل بحساب 2 دولار أمريكي للكغ الواحد، وباع الباقي للسوق الداخليّة بـ 1.750 د للكغ الواحد.

<التعليمة 1-2: أحسب ثمن بيع كتلة البرتقال المبّيعة بالسوق الداخليّة.

<التعليمة 2-2: أحسب ثمن بيع كتلة البرتقال المصدّرة للبرازيل بالدينار التونسي علما وأنّ 1 دولار أمريكي = 2.850 دينار تونسي.

<التعليمة 2-3: أحسب المداخل الصّافية التي تحصل عليها الفلاح إذا علمت أنّ مصاريفه بلغت 25572,500 د.

*السند 3: في إطار تدعيم استثماره الفلاحي اشترى بالمبلغ الذي تحصل عليه (المداخل الصّافية) 35 عجلا للتسمين.

<التعليمة 1-3: أحسب ثمن شراء العجل الواحد المعد للتسمين.

*السند 4: خرج الفلاح إلى معرض المنتوجات الفلاحيّة ببنزرت على السّاعة 5 صباحا و25 دق و 29 ث

فتوقّف في الطّريق مدّة ثلث ساعة لإصلاح عطب في السيّارة ووصل إلى المعرض على

السّاعة 7 صباحا و 47 دق و 37 ث.

<التعليمة 4-1: أحسب المدة الزمنية للسفرة.

<التعليمة 4-2: أحسب المدة الزمنية للسير.

*السند 5: بنى الفلاح إسطبلا للعجول على شكل شبه منحرف (أ ب ج د) قائم الزوايا في أ، وهياً قطعتي

أرض لغرسة نوع جديد من البرتقال لغرض البحث الأولى على شكل مثلثين الأول (س ص ض) والثاني

(ر ز و)، الأبعاد الحقيقية لهذه الأشكال الثلاثة موجودة في الجدول التالي:

الأبعاد الحقيقية بالمتري	الأشكال
أد = 350، ب ج = 200، أب = 175	شبه المنحرف (أ ب ج د)
ض س = 1800، س ص = 1350	المثلث (س ص ض)
ز و = ر ز = و ر = 1625	المثلث (ر ز و)

<التعليمة 5-1: ابن تصميمي لشبه المنحرف (أ ب ج د) وفقاً للسلم $\frac{1}{5000}$.

<التعليمة 5-2: أ- ابن تصميمي للمثلث (س ص ض) وفقاً للسلم $\frac{1}{18000}$ ، متبعا المرحلتين التاليتين:

1- ابن الزاوية [س ص ض] = 120° .

2- أكمل رسم المثلث.

ب- ما نوع هذا المثلث؟ أعلل.

ج- في نقطة التقاء ارتفاعات هذا المثلث (المركز القائم) سيتم وضع عمود للإشارة، أرسم ارتفاعات

المثلث الثلاثة وعين نقطة التقائهم على التصميم.

<التعليمة 5-3: ابن تصميمي للمثلث (ر ز و) وفقاً للسلم $\frac{1}{25000}$.

أسأل الله أن يوفقكم في الدنيا والآخرة

المندوبية الجهوية للتربية بالقصرين دائرة اللغة العربية القصرين 7 - النور - القصرين 6 ⦿⦿⦿ مناظرة الدخول إلى المدارس الإعدادية النموذجية ⦿ دورة تجريبية 2016 ⦿	
الإختبار : رياضيات	الحصة : من 8 إلى 9

المسألة رقم ①

نقل فلاح إنتاجه من البطاطا في أكياس كتلة الكيس الواحد 50 كغ على متن شاحنة حمولتها القصوى 5 أطنان . بعد ثلاث سفرات تبين له أنه لم ينقل سوى $\frac{5}{9}$ إنتاجه . باع الفلاح كامل المنتج بسعر 69.500 د القنطار الواحد .

- 1- ما هي كتلة منتج البطاطا بالطن ؟
- 2- ما هو مدخول الفلاح الصافي ، إذا علمت أن جملة المصاريف تقدر بـ 40% من ثمن بيع كامل المنتج ؟

المسألة رقم ②

اتفق صالح و أحمد على تبادل قطعتي أرض بينهما . قطعة صالح مثلثة الشكل قاعدتها 52م وارتفاعها 48 م على تصميم حسب السلم $\frac{1}{2500}$. أما قطعة أحمد فشكلها شبه منحرف ارتفاعه 100م و قاعدته الصغرى 75 م وهي تمثل $\frac{3}{5}$ القاعدة الكبرى . قُدر سعر الهأ الواحد بالنسبة للقطعتين بـ 9500 د .

- 1- ما هي مساحة كل من القطعتين ؟
- 2- ما هو المبلغ المالي الواجب على صالح دفعه لأحمد علما بأن الفارق يضاف إليه مقدار 8% حتى تتم المبادلة ؟

المسألة رقم ③

خزان سيارة أجرة يسع 30ل من البنزين .انطلقت من القصرين على الساعة 7 و 45 دق
و كان بالخزان 75% من سعته .
قطعت السيارة مسافة 360 كم ، عندئذ أصبح الخزان لا يشتمل إلا على $\frac{2}{10}$ الكمية .
وصلت السيارة إلى مدينة بنزرت على الساعة 12 و 15 دق ، بعد أن توقّف السائق لمدة 30 دق
للراحة .

- 1- احسب معدّل استهلاك السيارة من البنزين في 100 كلم .
- 2- احسب معدّل سرعة السيارة .
- 3- ما هي المسافة التي يمكن للسيارة قطعها إذا كان خزانها مملوء بنزينا ؟

تقييم في مادة الرياضيات السنة السادسة الثلاثي الأول

السند 1 : قام أحد الصّناعيين بشراء أرض مستطيلة الشكل بعدها على التّصميم وفقا للسّلم $\frac{1}{3500}$ ، 4.6 صم و 2.8 صم بلغ ثمن الآر الواحد 1500د.

مع 1

التعليمة 1 : ما هو قيس البعدين الحقيقيين لهذه القطعة ؟

مع 2

التعليمة 2 : أحسب ثمن شراء الأرض بالدينار .

مع 3

مع 1

السند 2 : عند تقسيم أرضه ، خَصَّ الصّناعي سبعي² المساحة لورشة و 4164.5 م² لمستودع وترك بقية المساحة لمأوى السيّارات وإدارة تمثّل مساحتها نصف مساحة المستودع .

مع 2

مع 3

التعليمة 3 : أحسب مساحة الإدارة و المأوى معا بطريقتين مختلفتين .

مع 1

مع 2

التعليمة 4 : أحسب مساحة مأوى السيّارات .

مع 5

السند 3 : يشغّل المصنع 140 عاملا و 25 فنّيّا ، يتقاضى العامل والفنّيّ معا يوميّا 54.250 د ، وتقلّ أجرة العامل عن الفنّيّ بـ 11.850 د .

مع 1

مع 2

التعليمة 5 : أحسب الأجرة اليوميّة للعَمّال :

التعليمة 6 : أحسب الأجرة اليومية للعمال والفنيين معا.

مع 1

مع 2

مع 5

السند 4 : ينطلق العامل في عمله على الساعة السابعة إلا 10 دقيقة صباحا إلى حدود الساعة الرابعة مساء علما و أنه يرتاح $\frac{3}{4}$ س .

التعليمة 7 : أحسب ساعات العمل في الأسبوع (يوم الأحد راحة أسبوعية).

مع 3

التعليمة 8 : أبني مثلثا أم ع بحيث أم = 6 صم .

مع 4

مع 5

التعليمة 9 : أعيّن نقطة "و" على المستقيم (ص) ثم أبني المستقيم (هـ) العمودي على (ص) والمار من "و".

جدول إسناد الأعداد

مع 5	مع 4	مع 3	مع 2	مع 1	المعايير مستويات التملك
0	0	0	0	0	إنعدام التملك (- - -)
1	1	0.5	0.5	2.5-2-1.5-1-0.5	التملك نون الأدنى (- - +)
2	1	1	3	3	التملك الأدنى (- + +)
4	1.5	1.5	4.5-4-3.5	4.5-4-3.5	التملك الأقصى (+ + +)

تقييم في مادة الرياضيات السنة السادسة الثلاثي الأول

قيس الطول الحقيقي لقطعة الأرض :

$$4.6 \text{ صم} \times 3500 = 16100 \text{ صم} = 161 \text{ م}$$

قيس العرض الحقيقي للقطعة :

$$2.8 \text{ صم} \times 3500 = 9800 \text{ صم} = 98 \text{ م}$$

قيس مساحة الأرض:

$$161 \times 98 = 15778 \text{ م}^2 = 157.78 \text{ آر}$$

ثمن الشراء بالد :

$$1500 \times 157.78 = 236670 \text{ د}$$

مساحة الإدارة والمأوى معا بالم²

طريقة 1 : مساحة المستودع والإدارة والمأوى معا بالم²:

$$15778 \times 5 = 11270 \text{ م}^2$$

مساحة الإدارة⁷ والمأوى معا بالم²

$$4164.5 - 11270 = 7105.5$$

مساحة الورشة بالم²

$$15778 \times \frac{2}{7} = 4508 \text{ م}^2$$

مساحة الإدارة والمأوى معا بالم² :

$$15778 - (4164.5 + 4508) = 7105.5$$

مساحة مأوى السيارات :

الرسم البياني

7105.5

مساحة الإدارة

مساحة المأوى

مساحة مأوى السيارات بالم² :

$$4773 = \frac{2}{3} \times 7105.5$$

الرسم البياني :

أجرة العامل : ————
 54.250 { ———— : أجرة الفني
 11.850 { الأجرة اليومية للعمال بالبد

$$x 140) 54.250 - 11.850 (: 2 (= 2968$$

$$x 140 12.2 =$$

الأجرة اليومية للعمال والفنيين معا بالبد :

$$x 25 + 2968) 21.2 + 11.850 (= 3794.25$$

عدد ساعات العمل في اليوم الواحد :

ساعة الإنتهاء ← 16.00 | 45 د | 6.50

زمن الانطلاق راحة

$$= 16 \text{ س} - (6 \text{ س} + 50 \text{ دق} + 45 \text{ دق})$$

$$= 16 \text{ س} - 7 \text{ س} - 35 \text{ دق} = 8 \text{ ساعات} + 25 \text{ دق}$$

عدد ساعات العمل في الأسبوع :

$$= 8 \text{ س} + 25 \text{ دق} = 48 = 6 \times \text{س} + 150 \text{ دق}$$

$$= 48 \text{ س} + 20 \text{ و} 30 \text{ دق}$$

$$= 50 \text{ س} + \text{نصف}$$

المثلث م و ك متقايس الضلعين في و

حيث (هـ) المتوسط العمودي ل [م ك]

"و" تنتمي إلى (هـ) ← و م = وك

1) ابحث عن الكسر الناقص في العملية التالية :

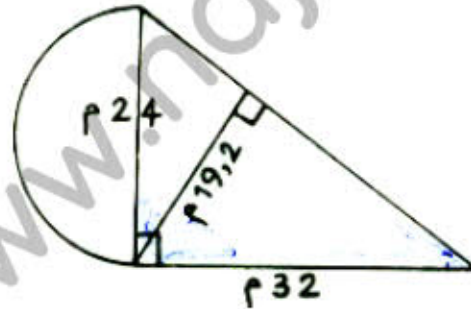
$$\frac{7}{12} = \frac{2}{5} \times \frac{\bullet}{\bullet}$$

2) لربة بيت قطعة قماش صنعت منها غطاء لطاولة دائرية الشكل قيس طول قطرها بالمتر 1,70 ما هو ثمن السفيغة التي تحيط بالغطاء اذا علمنا أن 25 صم منه تتدلى على جوانب الطاولة وأن ثمن المتر من هذه السفيغة قدره بالدينار 0,5 م.

3) قطعة أرض مستطيلة الشكل. أحيطت بـ 48 شجرة تبعد الواحدة عن الأخرى بـ 3 م، ما هو قيس مساحتها علما وأن قيس طولها يساوي $\frac{5}{3}$ قيس عرضها ؟

4. البعدان التمثيليان لنافذة 3 صم و 2 صم والبعدان الحقيقيان لها 1,5 م و 1 م. حسب أي سلم وقع رسمها على التصميم ؟

5) ابحث عن قيس محيط الشكل التالي :



6) عجل وكبش يزنان معا 252 كغ. ما هي كتلة كل منهما اذا علمت أن كتلة الكبش تمثل $\frac{1}{5}$ كتلة العجل ؟

7) يمكن ملء خزان بأوعية سعتها 8ل أو 10ل أو 12ل.
ما هي سعة هذا الخزان اذا علمت أنها محصورة بين 230ل و 260ل ؟

8- تريد أم شراء كؤوس فعرض عليها التاجر الاول 6 كؤوس بـ 1320 م وعرض عليها تاجر ثان 4 كؤوس بـ 920 م. كم تدفع الأم في شراء 24 كأسا باعتبار الحل الأنسب.

9) أكمل المعادلة التالية بما يناسب :

$$1320 : (60 - \dots) = 60 + 60$$

10) تشارك شخصان في شراء قطعة أرض مشجرة. فدفع الأول 12,000 د. ودفع الثاني 9000 د. بعد ستة تجتمع لديهما من بيع اللمار 2618 د.
ما هو نصيب كل واحد منهما من هذا الدخل ؟

بَيْعُ أَرْضٍ فِلاحيَّةٍ بِطَبْرِبَةِ

أَرْضٌ فِلاحيَّةٌ فِي شَكْلِ مُسْتَطِيلٍ وَبُعْدَاهَا بِالْمِثْرِ 425 وَ 370 وَقَيْسُ
مِساحتِهَا 15 هِكْتارًا وَ 72 آرا وَ 50 صِنْتارًا.
الِاتِّصَالَ بِالوَكالَةِ العُقارِيَّةِ "الفلاح" بِطَبْرِبَةِ.

أ - أَحْسَبُ قَيْسَ مِساحَةِ هَذِهِ الأَرْضِ بِالْم².

ب - أَكْتُبُ هَذَا القَيْسَ فِي الجَدْوَلِ التَّالِي :

.....
م ²	م ²	دك ²	م ²	دسم ²	صم ²	م ²
آ ع	آ ع	آ ع	آ ع	آ ع	آ ع	آ ع

ج - ألاحظ الجدول وأعوض كل وحدة بأخرى مناسبة.

4- أ- ألون في كل قيس عدد الآرات بالأصفر.

دك² 1 7 0 5

م² 2 0 7 6 8

م² 1 3 0 7

ب- ألون في كل قيس عدد الهكتارات بالأخضر.

م² 6 2 8 6 5

آ 4 7 3

دك² 3 6 0 5

3- أكتب في كل فراغ منقط العدد المناسب.

$$* 16 \bar{آ} = \dots\dots\dots م^2$$

$$* 73 هآ = \bar{آ} \dots\dots\dots$$

$$* 6400 م^2 = \bar{آ} \dots\dots\dots$$

$$* 7500 \bar{آ} = \dots\dots\dots هآ$$

$$* 375 م^2 = \dots\dots \bar{آ} \dots\dots$$

$$* 785 \bar{آ} = \dots\dots هآ \dots\dots$$

$$* 3078 دكم^2 = \dots\dots هآ \dots\dots \bar{آ}$$

$$* 15735 م^2 = \dots\dots هآ \dots\dots \bar{آ} \dots\dots صآ$$

2- اِفتتِ الْوِكَالَةُ الْعَقَارِيَّةُ لِلسَّكَنِ قِطْعَةً اَرْضٍ صَالِحَةً لِلْبِنَاءِ قَيْسُ مِسَاحَتِهَا 4 هآ و 20 آ وَقَامَتْ بِتَهْيِئَتِهَا عَلَي النَّحْوِ التَّالِيِ :

$$\bullet \frac{1}{4} \text{ مِسَاحَةِ الْاَرْضِ لِلطَّرْفَاتِ.}$$

$$\bullet \frac{1}{10} \text{ مِسَاحَةِ الْاَرْضِ لِلْفَضَاءَاتِ الْخَضْرَاءِ.}$$

• الْمِسَاحَةُ الْمَتَبَقِيَّةُ مَقْسَمَةٌ اِلَى صِنْفَيْنِ مِنَ الْقِطْعِ الْمَخْصُصَةِ لِلْبِنَاءِ :

$$\underline{\text{الصَّنْفُ ①}} : \frac{2}{5} \text{ هَذِهِ الْمِسَاحَةُ مَقْسَمَةٌ اِلَى 26 قِطْعَةً قَيْسُ مِسَاحَةِ كُلِّ مِنْهَا 4 آ و 20 صآ.}$$

$$\underline{\text{الصَّنْفُ ②}} : 42 \text{ قِطْعَةً قَيْسُ مِسَاحَةِ كُلِّ مِنْهَا 3 آ و 90 صآ.}$$

أ- اُثِبْتُ اَنْ قَيْسَ الْمِسَاحَةِ الْمَخْصُصَةِ لِلطَّرْفَاتِ وَالْفَضَاءَاتِ الْخَضْرَاءِ 147 آ.

ب - اُثِبْتُ بِطَرِيقَتَيْنِ مُخْتَلِفَتَيْنِ اَنْ عَدَدَ الْقِطْعِ مِنَ الصَّنْفِ الْاَوَّلِ فِي هَذَا التَّقْسِيمِ 26.

ج - اُثِبْتُ بِطَرِيقَتَيْنِ مُخْتَلِفَتَيْنِ اَنْ مِسَاحَةَ الْقِطْعَةِ مِنَ الصَّنْفِ الثَّانِي فِي هَذَا التَّقْسِيمِ 3 آ و 90 صآ.

اختبار تجريبي للمتميزين : رياضيات س6

المسألة الأولى: (6 ن)

أدخر مواطن مبلغا من المال أنفق منه $\frac{7}{3}$ لشراء ثلاثية متمتعا بتخفيض نسبته 10% من الثمن الأصلي ثم أنفق $\frac{5}{1}$ المبلغ لشراء دراجة لابنه ثم أراد أن يشتري بالباقي طاولة و 6 كراسي . ثمن الطاولة 25 د . فلاحظ أنه لا يمكنه شراء ما يريد بل إن المبلغ المتبقي من مذكراته لا يبقى منه شيء إذا اشترى الكراسي فقط أو طاولة و 4 كراسي فقط .

أحسب المقدار المالي الذي يدخره .

أحسب ثمن الثلاثية قبل التخفيض .

أحسب النسبة المئوية التي يمثلها المبلغ المتبقي من مذكراته بالنسبة لثمن الطاولة والكراسي الستة .

المسألة الثانية: (6 ن)

يمثل الرسم التالي كيفية استغلال فلاح لأرضه .

جمع الفلاح صابة الفول فكان معدل إنتاج الآر

الواحد $\frac{1}{2}$ ق من الفول الأخضر .

بعد أن جفت الفول وفقد $\frac{7}{2}$ وزنه باع الفلاح الفول المجفف

بحساب 800 مي الكغ الواحد فبلغ ثمن البيع الجملي 600 د .

- أحسب كتلة الفول الأخضر

- ما هو قيس المساحة المستغلة للفول ؟

- ما هو قيس المساحة الجمالية للأرض بالها ؟

إذا علمت أن هذه الأرض مثلثة الشكل قيس قاعدتها 175 م فما هو قيس ارتفاعها بالم ؟

- ما هو معدل إنتاج الها الواحد من المساحة المزروعة قمحا بالطن إذا كانت الكتلة الجمالية لصابة

القمح 7,35 ق ؟

المسألة الثالثة : (8 ن)

تعمل كوثر في مصنع للملابس حيث تخطط بدلات للأطفال و لها أن تختار أجرتها وفق أحد الخيارين

التاليين

الخيار الأول	الخيار الثاني
- معلوم الساعة الواحدة من العمل العادية 2,080 د	تنقاضي 1,250 د عن كل
- تنقاضي عن كل ساعة عمل إضافية أجرة معدلها $\frac{4}{5}$ ما تنقاضاه	بدلة تخطيطها .
عن الساعة الواحدة العادية .	
- منحة تشجيعية مقدارها 0,400 مي عن كل بدلة تخطيطها	

إذا علمت أن كوثر قد شرعت في عملها ذات يوم على الساعة 7 و 45 دق و واصلت العمل حتى الساعة

17

و لم تتوقف سوى $\frac{1}{2}$ ساعة . فما هو الخيار الأوفر دخلا لكوثر إذا كانت تخطط بدلة كل 25 دق علما و أن

ساعة

مدة العمل القانونية في المصنع 7 ساعات ؟

أجمع واطرح الأعداد التي تقيس الزمن

1 (صباح يوم الأحد غادرت 4 حافلات محطة الخطوط البعيدة بالعاصمة حسب المواعيد المقررة لها في هذا الجدول:

السفرات	ساعة الانطلاق من تونس	مدة السفر	ساعة الوصول إلى المقصد
تونس / صفاقس	س 7 و 10 دق	4 س و 30 دق
تونس / نابل	س 9 و 15 دق	س 10 و 40 دق
تونس / القيروان	س 10 و 45 دق	1 س و 45 دق
تونس / قفصة	5 س 45 دق	س 17 و 30 دق

أتم المعطيات الناقصة في الجدول

2) حضرت عرضا لمسرحية ذات فصلين دامت على التوالي 1 س و 30 دق و 1 س و 15 دق وتخللتها استراحة بثلاث ساعة. انتهى العرض عند منتصف الليل. أحدد الساعة التي بدأ فيها هذا العرض.

3) قال أحمد: « ركبت من تونس القطار المتجه نحو قابس فتوقف في كل من سوسة وصفاقس مدة زمنية طويلة لأسباب فنية »

أستعين بهذا الرسم البياني للوصول إلى المعلومة المطلوبة.

س 20 و 10 دق

س 13 و 10 دق

قابس

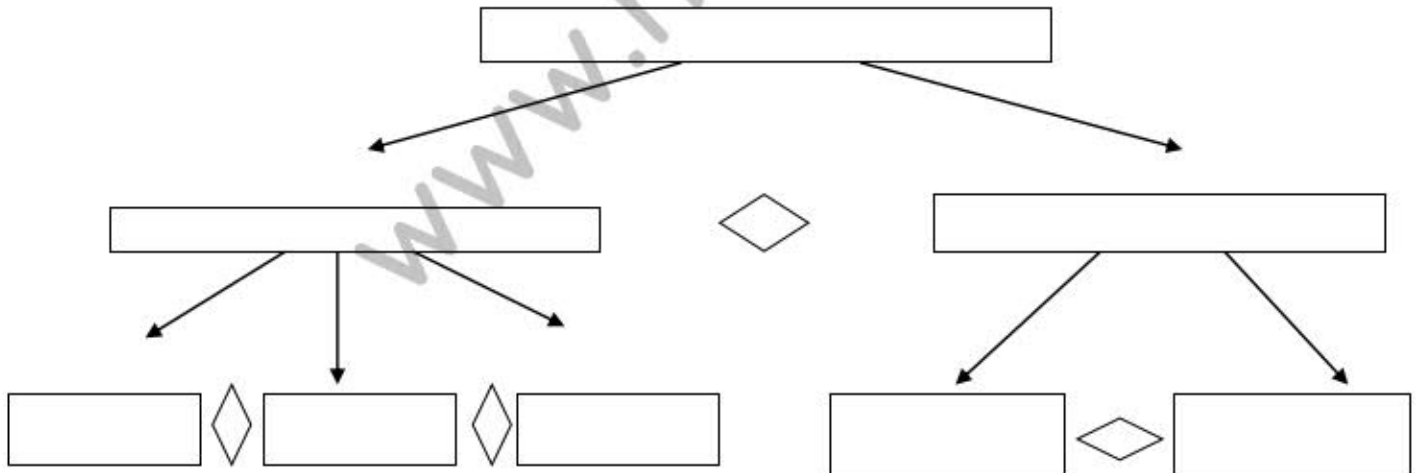
س 1 و 55 دق

صفاقس

س 1 و 30 دق

سوسة

تونس س 2 و 5 دق



أحرر الحل.....

الاسم:	اختبار في مادة	المدرسة الابتدائية
اللقب:	الحساب الذهني
السنة السادسة		

أنجز العمليات التالية :

..... = 0,001 × 175.08

..... = 0,0001 × 5,9

..... = 0,01 : 9,009

..... = 0,0001 : 0,72

أنجز ما يلي

45 دق × 3 = دق = س و دق

9 ث × 11 = ث = دق و ث

12 س × 12 = س = يوم و س

أحول

..... 14,5 = 1450000 صم

..... 1,2 = 12000 صا

19 ها = م²

0.25

0.25

0.25

0.25

0.5

0.5

0.5

0.5

0.5

0.5

www.najahni.tn

الاسم:	اختبار في مادة	المدرسة الابتدائية تليل العجلة
اللقب:	الحساب الذهني	
السنة السادسة		

أنجز العمليات التالية :

$$\dots\dots\dots = 0,001 \times 17508$$

$$\dots\dots\dots = 0,0001 : 0,72$$

أنجز ما يلي

$$45 \text{ دق} \times 2 = \dots\dots\dots \text{ دق} = \dots\dots\dots \text{ س و} \dots\dots\dots \text{ دق}$$

$$9 \text{ ث} \times 11 = \dots\dots\dots \text{ ث} = \dots\dots\dots \text{ دق و} \dots\dots\dots \text{ ث}$$

أحول

$$\dots\dots\dots 12000 \text{ صا} = 1,2 \dots\dots\dots$$

$$19 \text{ ها} = \dots\dots\dots \text{ م}^2$$

أضع اسم متوازي الأضلاع المناسب

*متوازي أضلاع له قطران متعامدان وغير متقايسان :

.....

*متوازي أضلاع له أربعة زوايا قائمة وقطران متقايسان

يتقطعان في النصف :

0.5

0.5

0.5

0.5

0.5

0.5

0.5

0.5

الاسم و اللقب	اختبار في مادة الحساب الذهني	مدرسة العذابة
العدد.....	السنة الخامسة	سليانة الجنوبية

1 - أحول كل كسر عشري الى عدد عشري (1.5 ن)

$$\dots\dots\dots = \frac{512}{100}$$

$$\dots\dots\dots = \frac{7}{10}$$

$$\dots\dots\dots = \frac{1258}{1000}$$

2 - أحول إلى الوحدة المناسبة : (1.5 ن)

$$7 \text{ هـ} = \dots\dots\dots \text{ م}$$

$$7954324 \text{ ص} = \dots\dots\dots \text{ هـ}$$

$$45782 \text{ أر} = \dots\dots\dots \text{ هـ}$$

3 - اكتب العدد المناسب: (1 ن)

$$\dots\dots\dots \text{ دق} = \frac{1}{10} \text{ ساعة}$$

$$\dots\dots\dots \text{ دق} = \frac{1}{3} \text{ ساعة}$$

الاسم و اللقب	اختبار في مادة الحساب الذهني	مدرسة العذابة
العدد	السنة السادسة	سليانة الجنوبية

1- اعبّر عن القيس بعدد كسري عشري

$$0.5 \quad 35 \text{ أ ر} = \dots \text{ هـ}$$

$$0.5 \quad 18 \text{ ق} = \dots \text{ ط}$$

2- أكتب عددا مكان الفراغ ليكون العدد الكسري مساويا للعدد الصحيح المشار إليه :

$$0.5 \quad 3 = \frac{\quad}{3}$$

$$0.5 \quad 5 = \frac{\quad}{9}$$

$$0.5 \quad 3 = \frac{\quad}{33}$$

3- أحصر الأعداد التالية بين عددين صحيحين طبيعيين

$$0.5 \quad \dots > 92.6242 > \dots$$

$$0.5 \quad \dots > 125.1 > \dots$$

$$0.5 \quad \dots > \frac{75}{100} > \dots$$

www.najahni.tn

مقاييس الإصلاح وإمضاء الأعداد

المسألة رقم 1 : 6 نقاط

1 (السؤال الأول : 3 نقاط

الطريقة الأولى

قيس طول المسافة الجمالية على التصميم بالصم : $9,5 = 4,1 + 5,4$ _____ 1 نقطة
قيس طول المسافة الحقيقية: $9,5 \text{ صم} \times 4000 \text{ 000} = 38 \text{ 000 000 صم} = 380 \text{ كم}$ _____ 2 نقاط

الطريقة الثانية

قيس طول المسافة الحقيقية بين أ و ج : $5,4 \text{ صم} \times 4000 \text{ 000} = 21 \text{ 600 000 صم} = 216 \text{ كم}$ _____ 1 نقطة
قيس طول المسافة الحقيقية بين ب و ج : $4,1 \text{ صم} \times 4000 \text{ 000} = 16 \text{ 400 000 صم} = 164 \text{ كم}$ _____ 1 نقطة
قيس طول المسافة الحقيقية بين المدينتين أ و ب بالصم : $380 = 164 + 216$ _____ 1 نقطة

2 (السؤال الثاني : 3 نقاط

الطريقة الأولى

الزمن المستغرق في السير : $380 : 80 = 4 \text{ س و } 45 \text{ دق}$ _____ 1 نقطة
الزمن المستغرق في السير : $4 \text{ س و } 45 \text{ دق} + 30 \text{ دق} = 5 \text{ س و } 15 \text{ دق}$ _____ 1 نقطة
ساعة الانطلاق من المدينة " أ " : $11 \text{ س و } 10 \text{ دق} - 5 \text{ س و } 15 \text{ دق} = 5 \text{ س و } 55 \text{ دق}$ _____ 1 نقطة

الطريقة الثانية

الزمن المستغرق في السير : $380 : 80 = 4 \text{ س و } 45 \text{ دق}$ _____ 1 نقطة
ساعة الانطلاق من المدينة " أ " : $11 \text{ س و } 10 \text{ دق} - (4 \text{ س و } 45 \text{ دق} + 30 \text{ دق}) = 5 \text{ س و } 55 \text{ دق}$ _____ 2 نقاط
ملاحظة : يمكن تقسيم عملية البحث عن الزمن المستغرق في السير إلى 3 عمليات كما يلي :

الزمن المستغرق لقطع [ج د] : $164 : 80 / 60 \times 80 = 2 \text{ س و } 3 \text{ دق}$ _____ 0,25 نقطة
الزمن المستغرق لقطع [أ ج] : $216 : 80 / 60 \times 80 = 2 \text{ س و } 42 \text{ دق}$ _____ 0,25 نقطة
الزمن المستغرق لقطع [أ ج] : $2 \text{ س و } 3 \text{ دق} + 2 \text{ س و } 42 \text{ دق} = 4 \text{ س و } 45 \text{ دق}$ _____ 0,50 نقطة

المسألة رقم 2 : 6 نقاط

1 (السؤال الأول : 3 نقاط

الطريقة الأولى

قيمة التخفيض عند العارض الأول بالد : $(20 \times 1050) : 100 = 210$ _____ 1 نقطة
ثمن شراء الحاسوب بعد التخفيض بالد : $1050 - 210 = 840$ _____ 1 نقطة
العارض الأول أفضل من العارض الثاني لأن $840 \text{ د} > 866,250 \text{ د}$ _____ 1 نقطة

الطريقة الثانية

ثمن الحاسوب عند العارض الأول في شكل نسبة مائوية : $100\% - 20\% = 80\%$ _____ 1 نقطة
ثمن الحاسوب بعد التخفيض عند العارض الأول بالد : $(80 \times 1050) : 100 = 840$ _____ 1 نقطة
العارض الأول أفضل من العارض الثاني لأن $840 \text{ د} > 866,250 \text{ د}$ _____ 1 نقطة

الطريقة الثالثة

ثمن الحاسوب عند العارض الثاني في شكل نسبة مائوية : $(100 \times 866,250) : 1050 = 82,5\%$ _____ 1 نقطة
ثمن الحاسوب عند العارض الأول في شكل نسبة مائوية : $100\% - 20\% = 80\%$ _____ 1 نقطة
العارض الأول أفضل من العارض الثاني لأن $82,5\% > 80\%$ _____ 1 نقطة

الطريقة الرابعة

- مقدار التخفيض عند العارض الثاني بالد : $1050 - 866,250 = 183,750$ _____ 1 نقطة
نسبة التخفيض عند العارض الثاني: $(100 \times 183,750) : 1050 = 17,5\%$ _____ 1 نقطة
العارض الأول أفضل من العارض الثاني لأن $20\% > 17,5\%$ _____ 1 نقطة

(2) السؤال الثاني : 3 نقاط

الطريقة الأولى : إذا اختار المترشح الطريقة الأولى للإجابة عن السؤال الأول فالحل هو

- ثمن الطابعة بعد التخفيض بالد : $981,200 - 840 = 141,200$ _____ 1 نقطة
ثمن شراء الطابعة بعد التخفيض في شكل نسبة مائوية : $100\% - 20\% = 80\%$ _____ 1 نقطة
الثمن الحقيقي للطابعة بالد : $(100 \times 141,200) : 80 = 176,500$ _____ 1 نقطة

الطريقة الثانية أ) : إذا اختار المترشح الطريقة الثانية أو الثالثة للإجابة عن السؤال الأول فالحل هو

- ثمن شراء الحاسوب بعد التخفيض عند العارض الأول بالد : $(80 \times 1050) : 100 = 840$ _____ 1 نقطة
ثمن شراء الطابعة بعد التخفيض بالد : $981,200 - 840 = 141,200$ _____ 1 نقطة
الثمن الحقيقي للطابعة بالد : $(100 \times 141,200) : 80 = 176,500$ _____ 1 نقطة

الطريقة الثانية ب) إذا اختار المترشح الطريقة الثانية أو الثالثة للإجابة عن السؤال الأول فالحل هو

- ثمن شراء الحاسوب والطابعة بعد التخفيض في شكل نسبة مائوية : $100\% - 20\% = 80\%$ _____ 1 نقطة
الثمن الحقيقي للحاسوب والطابعة بالد : $(100 \times 981,200) : 80 = 1226,500$ _____ 1 نقطة
الثمن الحقيقي للطابعة بالد : $1050 - 1226,500 = 176,500$ _____ 1 نقطة

المسألة رقم 3 : 8 نقاط

(1) السؤال الأول : 2 نقاط

الطريقة الأولى

- قيس مساحة الجزء المثلث من الضيعة : $(150 \times 200) : 2 = 15000$ م² = 1,5 هـا _____ 0,50 نقطة
قيس مساحة الجزء شبه المنحرف : $[250 \times (75 + 125)] : 2 = 25000$ م² = 2,5 هـا _____ 0,50 نقطة
قيس مساحة كامل القطعة : $15000 + 25000 = 40000$ م² = 4 هـا _____ 1 نقطة

الطريقة الثانية : إذا اختار المترشح تقسيم شبه المنحرف إلى مستطيل ومثلث فالحل هو :

- قيس مساحة المثلث الأول : $(150 \times 200) : 2 = 15000$ م² = 1,5 هـا _____ 0,50 نقطة
قيس مساحة المستطيل : $75 \times 250 = 18750$ م² = 1,875 هـا _____ 0,25 نقطة
طول قاعدة المثلث الثاني بالم : $125 - 75 = 50$ _____ 0,25 نقطة
قيس مساحة المثلث الثاني : $(250 \times 50) : 2 = 6250$ م² = 0,625 هـا _____ 0,25 نقطة
قيس المساحة الجمالية بالها : $1,5 + 1,875 + 0,625 = 4$ _____ 0,75 نقطة

الطريقة الثالثة : إذا اختار المترشح زيادة مثلث لشبه المنحرف ليصبح مستطيلا فالحل هو :

- قيس مساحة المثلث الأول : $(150 \times 200) : 2 = 15000$ م² = 1,5 هـا _____ 0,25 نقطة
قيس مساحة المستطيل : $125 \times 250 = 31250$ م² = 3,125 هـا _____ 0,25 نقطة
طول قاعدة المثلث المضاف بالم : $125 - 75 = 50$ _____ 0,25 نقطة
قيس مساحة المثلث المضاف : $(50 \times 250) : 2 = 6250$ م² = 0,625 هـا _____ 0,25 نقطة
قيس مساحة شبه المنحرف : $31250 - 6250 = 25000$ م² = 2,5 هـا _____ 0,25 نقطة
قيس المساحة الجمالية بالها : $2,5 + 1,5 = 4$ _____ 0,75 نقطة

(2) السؤال الثاني : 3 نقاط

الطريقة الأولى

- عدد الأشجار في الضيعة : $40000 : 40 = 1000$ _____ 1 نقطة
كتلة المحصول من البرتقال بالكغ : $1000 \times 70 = 70000$ _____ 1 نقطة
ثمن بيع كامل المحصول بالد : $70000 \times 0,350 = 24500$ _____ 1 نقطة

الطريقة الثانية

عدد الأشجار في الضيعة : $40 : 40\ 000 = 1000$ **1** نقطة
ثمن بيع كامل المحصول بالبد : $24500 = 1000 \times 70 \times 0,350$ **2** نقطة

الطريقة الثالثة

عدد الأشجار في الضيعة : $40 : 40\ 000 = 1000$ **1** نقطة
ثمن بيع محصول الشجرة الواحدة بالبد : $24,500 = 70 \times 0,350$ **1** نقطة
ثمن بيع كامل المحصول بالبد : $24500 = 1000 \times 24,500$ **1** نقطة

(2) السؤال الثالث : 3 نقاط

الطريقة الأولى

مصاريف السقي والمداواة والتسميد بالبد : $(20 \times 24500) : 100 = 4900$ **1** نقطة
المصاريف الجمالية بالبد : $8500 = 3600 + 4900$ **1** نقطة
الدخل الصافي للفلاح بالبد : $1600 = 8500 - 24500$ **1** نقطة

الطريقة الثانية

المصاريف الجمالية بالبد : $[100 : (20 \times 24500)] + 3600 = 8500$ **2** نقطة
الدخل الصافي للفلاح بالبد : $1600 = 8500 - 24500$ **1** نقطة

الطريقة الثالثة

مصاريف السقي والمداواة والتسميد بالبد : $(20 \times 24500) : 100 = 4900$ **1** نقطة
الدخل الصافي للفلاح بالبد : $1600 = (3600 + 4900) - 24500$ **2** نقطة

الوضعية رقم 1

أ - للمقارنة والترتيب دون المساس بالمقامات نعتمد على :
* المقارنة بالوحدة أي 1 * الخارج التقريبي
* الزائد عن الوحدة ومكمل الوحدة

$$\frac{4}{9} < \frac{4}{7} < \frac{6}{7} < 1 < \frac{5}{4} < 2,4 < \frac{11}{3} < \frac{11}{2}$$

ب -

قسمة الحدين أولاً على 9 ثم ضرب الحدين في 5 (10 + 16 = 26)

$$\frac{10}{16} = \frac{5}{8} = \frac{45}{72}$$

الوضعية رقم 2

العدد الكسري الذي يمثل قيس المساحة المتبقية بعد زراعة القمح

$$\frac{2}{5} = \frac{3}{5} - \frac{5}{5}$$

العدد الكسري الذي يمثل قيس المساحة المخصصة لزراعة الفول

$$\frac{2}{15} = \frac{2}{5} \text{ ثلث}$$

العدد الكسري الممثل لقيس المساحة المخصصة لخراسة أشجار اللوز

$$\frac{4}{15} = \frac{11}{15} - \frac{15}{15} = \left(\frac{2}{15} + \frac{3}{5} \right) - 1$$

قيس مساحة قطعة أرض الفلاح بالم²

$$3600 = \frac{15 \times 960}{4}$$

قيس طول هذه القطعة من الأرض بالم = 3600 : 45 = 80

الوضعية رقم 3

بناء مثلث المعلوم فيه :

- قيس زاويتين : 90° في "ب" و 30° في "أ"
- قيس ضلع : الوتر أ ج = 10 صم .

البحث أولاً عن قيس الزاوية [ج أ ، ج ب] باعتبار أن رأسها " ج " محدد على إثر بناء الوتر

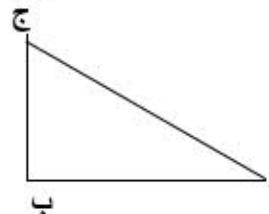
$$\text{أ ج ب} = 180^\circ - (90^\circ + 30^\circ) = 60^\circ$$

مراحل بناء المثلث : رسم مستقيم بالمسطرة وتعيين النقطة " أ "

- بناء الضلع [أ ج] ببناء قوس من دائرة رأسها " أ " وسعاعها 10 صم يقطع المستقيم في " ج "

- بناء قوسين من دائرتين رأسهما على التوالي " أ " و " ج " وسعاعهما متقابلتان يتقاطعان في نقطة للحصول على تقايس الأضلاع أي تقايس الزوايا أي 60° لكل منها .

- بناء منتصف الزاوية التي رأسها " أ " ويقطع الضلع المقابل الذي ينطلق من " ج " في النقطة " ب " للحصول على ج أ ب = 30° و ج ب أ = 90°



الوضعية رقم 4

زمن السير للوصول إلى صفاقس =

$$13 \text{ س و } 25 \text{ دق} - 11 \text{ س و } 50 \text{ دق} =$$

$$12 \text{ س و } 85 \text{ دق} - 11 \text{ س و } 50 \text{ دق} =$$

$$1 \text{ س و } 35 \text{ دق} = 95 \text{ دق}$$

المسافة الفاصلة بين المدينتين بالكم =

$$142,5 = \frac{95 \times 90}{60}$$

ساعة الانطلاق من صفاقس للعودة إلى قصر هلال =

$$13 \text{ س و } 25 \text{ دق} + 2 \text{ س و } 20 \text{ دق} = 15 \text{ س و } 45 \text{ دق}$$

زمن السير للوصول إلى قصر هلال =

$$17 \text{ س و } 25 \text{ دق} - 15 \text{ س و } 45 \text{ دق} =$$

$$16 \text{ س و } 85 \text{ دق} - 15 \text{ س و } 45 \text{ دق} =$$

$$1 \text{ س و } 40 \text{ دق} = 100 \text{ دق}$$

معدل السرعة عند الرجوع إلى قصر هلال بالكم / س =

$$85,5 = \frac{60 \times 142,5}{100}$$

الوضعية رقم 5

ثمن شراء كامل الخوخ بالذ = 45 × 0,900 = 40,500

كتلة الخوخ المباعة في المرحلة الأولى بالكغ =

$$18 = \frac{2 \times 45}{5}$$

ثمن شراء هذه الكتلة بالذ = 18 × 0,900 = 16,200

النسبة المئوية لثمن البيع عند الخسارة

$$100\% - 5\% = 95\%$$

ثمن بيع الكتلة الأولى من الخوخ بالذ =

$$15,390 = \frac{95 \times 16,200}{100}$$

$$27 = 18 - 45 = \text{الكتلة المتبقية من الخوخ بالكغ}$$

ثمن بيع كامل الخوخ مع الربح 20% بالذ =

$$48,600 = \frac{120 \times 40,500}{100}$$

ثمن بيع الكتلة الثانية بالذ =

$$33,210 = 15,390 - 48,600$$

ثمن بيع الكغ الواحد من الخوخ الباقي بالذ =

$$1,230 = 27 : 33,210$$

$$40230 = 135 \times 298 = \text{ثمن شراء الضيعة بالمد} \\ = \text{مصاريف نقل الملكية والتسجيل بالمد} \\ 2614,950 = 40230 - 42844,950$$

النسبة المئوية لمصاريف نقل الملكية والتسجيل بالنسبة إلى ثمن الشراء =

$$\% 6,5 = \frac{100 \times 2614,950}{40230}$$

(2)

قيس المساحة المخصصة للمرعى بالم²

$$5850 = 900 - (2 : 13500)$$

قيس المساحة المتبقية بالم²

$$7650 = 5850 - 13500$$

$$4590 = \frac{3 \times 7650}{5} \text{ قيس المساحة المخصصة} \\ \text{لزراعة الفول بالم}^2 =$$

قيس المساحة المخصصة لزراعة الحمص بالم²

$$3060 = (4590 + 5850) - 13500$$

قيس طول القطعة من الضيعة المخصصة

$$65 = 90 : 5850 = \text{للمرعى بالم}$$

قيسها على التصميم =

$$65 \text{ م} : 1000 = 6500 \text{ صم} : 1000 = 6,5 \text{ صم}$$

قيس طول القطعة من الضيعة المخصصة

$$51 = 90 : 4590 = \text{لزراعة الفول بالم}$$

قيسها على التصميم =

$$51 \text{ م} : 1000 = 5100 \text{ صم} : 1000 = 5,1 \text{ صم}$$

قيس طول القطعة من الضيعة المخصصة

$$34 = 90 : 3060 = \text{لزراعة الفول بالم}$$

قيسها على التصميم =

$$34 \text{ م} : 1000 = 3400 \text{ صم} : 1000 = 3,4 \text{ صم}$$

قيس عرض الضيعة على التصميم =

$$90 \text{ م} : 1000 = 9000 \text{ صم} : 1000 = 9 \text{ صم}$$

الرسم على التصميم

صم 3,4

صم 5,1

صم 6,5

صم 9		

الوضعية رقم 1

العدد هو 31 748

- الانطلاق بكتابة عدد آلافه 31

- كتابة رقم أحاده انطلاقاً من باقي قسمة العدد على 5 يساوي 3 ،
إما أن يكون رقم الأحاد 3 أو 8 ، وبما أن رقم الأحاد ضعف رقم

العشرات ، فيكون رقم الأحاد 8 ورقم العشرات 4

- كتابة رقم المئات الذي يساوي مجموع رقمي العشرات
وعشرات الآلاف أي $7 = 3 + 4$ فيكون رقم المئات 7

الوضعية رقم 2

135135	10395	945	105	15	3	1
--------	-------	-----	-----	----	---	---

يتمثل انتظام الأعداد في ضرب العدد في الأعداد الفردية بالترتيب

(1 ، 3 ، 5 ، 7 ، 9 ، 11 ، 13 ، ...) بدءاً بـ :

($1 = 1 \times 1$) ، ($3 = 3 \times 1$) ، ($15 = 5 \times 3$) ،

($105 = 7 \times 15$) ($945 = 9 \times 105$)

($10395 = 11 \times 945$) ، ($135135 = 13 \times 10395$)

الوضعية رقم 3

• أ - ب = 538 إذا أ + 538 = ب ، ب = أ - 538

• أ = ب + 13 × 22

• أ = (أ - 538) + 13 × 22

أ = (أ × 13) - (13 × 538) + 22

أ = 12 × 6994 - 22

أ = 12 × 6972 إذا أ = 12 : 6972 = 581

ب = 538 - 581 = 43

الوضعية رقم 4

* ما تملؤه الحنفية " أ " في ساعة واحدة : $3/1$ ساعة الحوض

* ما تملؤه الحنفية " ب " في ساعة واحدة : $5/1$ ساعة الحوض

* ما تملؤه الحنفيّتان معاً في ساعة واحدة

$$\frac{8}{15} = \frac{3}{15} + \frac{5}{15} = \frac{1}{5} + \frac{1}{3}$$

الوقت المقضى من الحنفيّتين معاً لملء الحوض ($15/15$)

$15 : 8 = 1 \text{ س و } 52 \text{ دق و } 30 \text{ ث}$

الوضعية رقم 5

(1)

$$\text{ط} - \text{ع} = 60 \text{ م}$$

$$\text{ط} - \text{ع} = 60 \text{ م}$$

$$\text{ع} = \frac{5}{3} \times \text{ط}$$

$$\text{ع} = \frac{5}{3} (\text{ع} + 60 \text{ م})$$

$$\text{ع} = \frac{5}{3} \times 36 + \text{ع}$$

$$36 = \text{ع} \times (\frac{5}{3} - \frac{5}{5})$$

$$36 = \text{ع} \times \frac{5}{2}$$

إذا قيس العرض = 90 م

قيس الطول = 150 م

قيس مساحة الضيعة = $150 \text{ م} \times 90 \text{ م} = 13500 \text{ م}^2 = 135 \text{ آر}$

الوضعية رقم 1

في قسمة أفليدية القاسم فيها 5 إذا البواقي الممكنة 0 أو 1 أو 2 أو 3 أو 4 ، وبما أن في هذه الوضعية خارج القسمة مساو للباقي فالقيم الممكنة للمقسوم هي : $m = q \times x + b$

- $24 = 4 + 4 \times 5$
- $18 = 3 + 3 \times 5$
- $12 = 2 + 2 \times 5$
- $6 = 1 + 1 \times 5$

الوضعية رقم 2

النسبة المئوية لثمن بيع الراديو =

$$112,5\% = 12,5\% + 100\%$$

$$19,200 = \frac{100 \times 21,600}{112,5} = \text{ثمن شراء الراديو من المعمل بالبد}$$

الوضعية رقم 3

المسافة التي يتسلفها الحلزون في اليوم بالمد = $3 = 2 - 5$
عدد الأيام التي تتطلب من الحلزون لتسلق العمود = $3 = 3 : 11$
والباقى 2 م يتسلفها في اليوم الرابع
المدة الزمنية لتسلق 2 م =

(12 س : 5) $\times 2 = 4$ س و 48 دق
ساعة الوصول بعد تسلق 2 م =
6 س + 4 س و 48 دق = 10 س و 48 دق
زمن وصول الحلزون إلى أعلى العمود سيكون يوم الأربعاء على الساعة 10 و 48 دق صباحا

الوضعية رقم 4

1	19	7	25	13
22	15	3	16	9
18	6	24	12	5
14	2	20	8	21
10	23	11	4	17

الوضعية رقم 5

البحث عن عدد يكون مضاعفا لـ 13 ويكون كل رقم من أرقامه 1
هذا المضاعف هو 111 111
إذ العدد المطلوب هو $8547 = 13 : 111 111$

الوضعية رقم 6

(1) الأبعاد الحقيقية لـ :

- [أ ب] : $11,2 \text{ صم} \times 250 = 2800 \text{ صم} = 28 \text{ م}$
- [أ ج] : $8,4 \text{ صم} \times 250 = 2100 \text{ صم} = 21 \text{ م}$
- [أ هـ] : $6,72 \text{ صم} \times 250 = 1680 \text{ صم} = 16,8 \text{ م}$

$$294 = \frac{21 \times 28}{2} = \text{قيس مساحة المثلث بالمد}^2$$

$$35 = \frac{2 \times 294}{16,8} = \text{قيس الضلع [ب ج] بالمد}$$

$$980 = 28 \times 35 = \text{قيس مساحة المعين بالمد}^2$$

$$= \text{ثمن شراء قطعة الأرض معينة الشكل بالبد}$$

$$33075 = 980 \times 33,750$$

(2)

$$\% 6 = \frac{100 \times 1984,5}{33075} = \text{النسبة المئوية للفائض التي منحها البنك}$$

الوضعية رقم 1

للمقارنة والترتيب دون المساس بالمقامات نعتمد على :
* المقارنة بالوحدة أي 1 * الخارج التقريبي
* الزائد عن الوحدة ومكمل الوحدة

$$\frac{17}{2} > \frac{16}{5} > \frac{11}{8} > \frac{4}{7} > \frac{3}{7} > 0,3$$

الوضعية رقم 2

$$40662 = (6 \times \text{أ}) - (60 \times \text{أ})$$

$$40662 = (6 - 60) \times \text{أ}$$

$$40662 = 54 \times \text{أ}$$

$$753 = 54 : 40662 = \text{أ}$$

العدد الأول الذي أراد التلميذ في 60 = 753

$$\text{التحقق : } 45180 = 60 \times 753$$

$$4518 = 6 \times 753$$

الفرق بين الجداء الصحيح والنتائج المتحصل عليه خطأ =

$$40662 = 4518 - 45180$$

الوضعية رقم 3

قيس الارتفاع الموافق للقاعدة [س ص] يساوي قيس الضلع [أ ج] بالصم =

$$5 = \frac{2 \times 15}{6} \quad \text{قيس الضلع [أ ج] بالصم} = \frac{2 \times 15}{4} = 7,5$$

قيس محيط المثلث (أ ب ج) بالصم = 7,5 + 6 + 5 = 18,5

الوضعية رقم 4

قيس نصف المحيط بالم = ط + ع بالم = 61 : 2 = 30,5

$$\text{ع} + \text{ط} = 30,5 \text{ م إذا } \text{ع} = 30,5 \text{ م} - \text{ط} \text{ و } \text{ط} = 30,5 \text{ م} - \text{ع}$$

$$\text{ع} - \frac{3}{2} \text{ط} = 0,5 \text{ م}$$

$$30,5 \text{ م} - \text{ط} - \frac{3}{2} \text{ط} = 0,5 \text{ م}$$

$$30,5 \text{ م} - (\text{ط} + \frac{3}{2} \text{ط}) = 0,5 \text{ م}$$

$$30,5 \text{ م} - \frac{5}{2} \text{ط} = 0,5 \text{ م}$$

$$\frac{3}{5} \text{ط} = 30,5 \text{ م} - 0,5 \text{ م} = 30 \text{ م}$$

$$\text{إذا قيس الطول بالم} = \frac{5}{3} \times 30 = 18$$

$$\text{قيس العرض بالم} = 0,5 + \frac{3}{2} \times 18 = 12,5$$

$$\text{قيس مساحة قطعة الأرض} = 18 \times 12,5 \text{ م} = 225 \text{ م}^2 = 2,25 \text{ آر}$$

الوضعية رقم 5

النسبة المئوية لثمن البيع في المرحلة الأولى =

$$100\% = 25\% + 125\%$$

$$1,900 = \frac{100 \times 2,375}{125} = \text{ثمن شراء الكتاب الواحد بال}$$

ثمن بيع الكتاب الواحد في بال =

$$2,280 = 0,380 + 1,900$$

عدد الكتب المباعة في المرحلة الثانية =

$$105 = 2,280 : 239,400$$

$$\frac{3}{7} = \frac{4}{7} - \frac{7}{7} \quad \text{العدد الكسري الممثل لعدد الكتب المباعة في المرحلة الثانية}$$

$$245 = \frac{7 \times 105}{3} \quad \text{عدد كل الكتب المباعة}$$

المبلغ الذي دفعه الكتبي مقابل شراء كل الكتب بال =

$$465,5 = 245 \times 1,900$$

الوضعية رقم 6

$$\frac{3}{5} = \frac{2}{5} - \frac{5}{5} \quad \text{العدد الكسري الممثل لباقي الربح بعد شراء العلف}$$

$$\frac{12}{35} = \frac{3}{5} \times \frac{4}{7} \quad \text{العدد الكسري الممثل لثمن الشعير بعد طرح 23 د}$$

العدد الكسري الممثل للمبلغين 23 د و 31 د أي لـ 54 د

$$= \left(\frac{12}{35} + \frac{3}{5} \right) - 1$$

$$\frac{4}{35} = \left(\frac{12}{35} + \frac{21}{35} \right) - \frac{35}{35}$$

$$472,5 = \frac{35 \times 54}{4} = \text{مقدار الربح بال}$$

$$3150 = \frac{100 \times 472,5}{15} \quad \text{ثمن شراء العجل بال}$$

الوضعية رقم 1

أ - للمقارنة والترتيب دون المساس بالمقامات نعتمد على :
* المقارنة بالوحدة أي 1 * الخارج التقريبي
* الزائد عن الوحدة ومكمل الوحدة

$$\frac{11}{2} > \frac{11}{3} > 2,4 > \frac{5}{4} > 1 > \frac{6}{7} \% 80 > \frac{4}{7}$$

ب -

$$\frac{10}{16} = \frac{5}{8} = \frac{65}{104}$$

قسمة الحزب أولاً على 13 ثم ضرب الحزب في 5 (26 = 16 + 10)

الوضعية رقم 2

العدد الكسري الذي يمثل قيس المساحة المتبقية بعد زراعة الجلبان

$$\frac{3}{5} = \frac{2}{5} - \frac{5}{5}$$

العدد الكسري الذي يمثل قيس المساحة المخصصة لزراعة الفول

$$\frac{1}{5} = \frac{3}{5} - \frac{3}{5}$$

العدد الكسري الممثل لقيس المساحة المخصصة لخراسة أشجار الخوخ

$$\frac{2}{5} = \frac{3}{5} - \frac{5}{5} = \left(\frac{1}{5} + \frac{2}{5} \right) - 1$$

قيس مساحة قطعة أرض البستاني بالـ²

$$4200 = \frac{5 \times 1680}{2}$$

قيس طول هذه القطعة من الأرض بالـ

$$84 = 50 : 4200 =$$

الوضعية رقم 3

بناء مثلث المعلوم فيه :

- قيس زاويتين : 90° في " أ " و 60° في " ب "

- قيس ضلع : الوتر ب ج = 6 صم .

البحث أولاً عن قيس الزاوية [ج أ ، ج ب] باعتبار أن رأسها " ج " محدد على إثر بناء الوتر

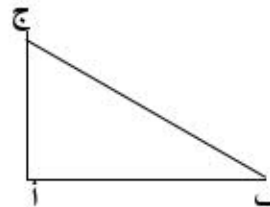
$$\text{أ ج ب} = 180^\circ - (90^\circ + 60^\circ) = 30^\circ$$

مراحل بناء المثلث : رسم مستقيم بالمسطرة وتعيين النقطة " ب "

- بناء الضلع [ب ج] بناء قوس من دائرة رأسها " ب " وسعاعها 6 صم يقطع المستقيم في " ج "

- بناء قوسين من دائرتين رأسهما على التوالي " ب " و " ج " وسعاعهما 6 صم أيضاً يتقاطعان في نقطة للحصول على تقايس الأضلاع أي تقايس الزوايا أي 60° لكل منها .

- بناء منصف الزاوية التي رأسها " ج " ويقطع الضلع المقابل الذي ينطلق من " ب " في النقطة " أ " للحصول على أ ج ب = 30° و ج أ ب = 90°



الوضعية رقم 4

زمن السير للوصول إلى صفاقس =

$$13 \text{ س و } 25 \text{ دق} - 11 \text{ س و } 50 \text{ دق} =$$

$$12 \text{ س و } 85 \text{ دق} - 11 \text{ س و } 50 \text{ دق} =$$

$$1 \text{ س و } 35 \text{ دق} = 95 \text{ دق}$$

$$142,5 = \frac{95 \times 90}{60} = \text{المسافة الفاصلة بين المدينتين بالكم}$$

ساعة الانطلاق من صفاقس للعودة إلى بنّان =

$$13 \text{ س و } 25 \text{ دق} + 2 \text{ س و } 20 \text{ دق} = 15 \text{ س و } 45 \text{ دق}$$

زمن السير للوصول إلى بنّان =

$$17 \text{ س و } 25 \text{ دق} - 15 \text{ س و } 45 \text{ دق} =$$

$$16 \text{ س و } 85 \text{ دق} - 15 \text{ س و } 45 \text{ دق} =$$

$$1 \text{ س و } 40 \text{ دق} = 100 \text{ دق}$$

$$85,5 = \frac{60 \times 142,5}{100} = \text{معدل السرعة عند الرجوع إلى بنّان بالكم / س}$$

الوضعية رقم 5

1 قيس محيط الطاولة بالصم =

$$251,2 = 3,14 \times (2 \times 40)$$

* التمشي الأول لإيجاد عدد الطاولات المستغلة

$$\frac{5}{6} = \frac{1}{6} - \frac{6}{6} = \text{العدد الكسري الممثل لعدد الطاولات المستغلة}$$

$$180 = \frac{5 \times 216}{6} = \text{عدد الطاولات المستغلة}$$

* التمشي الثاني لإيجاد عدد الطاولات المستغلة

$$36 = \frac{216}{6} = \text{عدد الطاولات الشاغرة}$$

$$180 = 36 - 216 = \text{عدد الطاولات المستغلة}$$

$$720 = \frac{180 \times 251,2}{62,8} = \text{عدد الحاضرين في هذا الحفل}$$

ملاحظة : يمكن اتباع تمشيات أخرى لإيجاد عدد الحاضرين بالحفل .

2 (النسبة المئوية الممثلة لنصيب الصندوق =

$$100 \% - 18 \% = 82 \%$$

$$3024 = \frac{100 \times 2479,680}{82} = \text{المبلغ المتجمع من الحفل بالـد}$$

$$2160 = \frac{5 \times 3024}{7} = \text{ثمن بيع التذاكر من صنف 5 د بالـد}$$

$$432 = 5 : 2160 = \text{عدد التذاكر من صنف 5 د}$$

ثمن بيع التذاكر من صنف 3 د بالـد =

$$864 = 2160 - 3024$$

$$288 = 3 : 864 = \text{عدد التذاكر من صنف 3 د}$$

الوضعية رقم 6 : 8 نقاط

الرسم البياني :

تلاميذ الدرجة الثانية : / / / /

الفارق: 35

161

تلاميذ الدرجة الثالثة : / /

0,5

1

$$63 = 2 : (35 - 161) = \text{عدد تلاميذ الدرجة الثالثة}$$

1

$$98 = 2 : (35 + 161) = \text{عدد تلاميذ الدرجة الثانية}$$

$$98 = 35 + 63$$

أو

0,5

$$28 = \frac{2 \times 98}{7}$$

عدد تلاميذ الدرجة الثانية

= المشاركين في الرحلة

0,5

$$28 = \frac{4 \times 63}{9}$$

عدد تلاميذ الدرجة الثالثة

= المشاركين في الرحلة

العدد الجملي للمشاركين في هذه الرحلة =

0,5

$$60 = 4 + 28 + 28$$

قيمة كلفة الفطور بالـد =

0,5

$$229,500 = 535,500 - 765$$

0,5

$$\% 30 = \frac{100 \times 229,500}{765} \text{ النسبة المئوية لكلفة الفطور}$$

= كلفة الفطور للمشارك الواحد بالـد

0,5

$$3,825 = 60 : 229,500$$

= مساهمة الصندوق في الرحلة بالـد

0,5

$$153 = \frac{1 \times 765}{5} = \frac{20 \times 765}{100}$$

= مساهمة التلاميذ في الرحلة بالـد

0,5

$$612 = 153 - 765$$

أو مساهمة التلاميذ في الرحلة بالـد =

0,5

$$612 = \frac{4 \times 765}{5} = \frac{80 \times 765}{100}$$

= مساهمة التلاميذ في الرحلة بالـد =

0,5

$$612 = \frac{4 \times 153}{1} = \frac{80 \times 153}{20}$$

= عدد التلاميذ المساهمين في الرحلة

0,5

$$51 = (4 + 5) - 60$$

$$51 = 5 - (28 + 28) \text{ أو}$$

= مساهمة كل تلميذ ممن ساهموا في الرحلة بالـد

1

$$12 = 51 : 612$$

20

المجموع

التوجيهات

السندات والتعليقات

لاحظ أننا لا نعرف قيمة التخفيض ونعرف فقط نسبته.
قد يساعدك هذا في الحل.

لاحظ أننا نعرف قيمة الثمن الأصلي = 80د ونعرف نسبته = 100%
قد يساعدك هذا في الحل.

الوضعية 1:

أراد محمد شراء مدفأة ثمنها 80د، فمنحه البائع تخفيضا نسبته 12%. كم يدفع؟
الطريقة الأولى للحل:

.....
.....
.....

الطريقة الثانية للحل: استعن بالمخطط التالي:

الثمن الأصلي = 100% = 80د	
المبلغ المدفوع = ؟%	نسبة التخفيض = 12%

.....
.....
.....
.....

التوظيف:

3 - بِمُنَاسِبَةِ شَهْرِ التَّسْوِيقِ تَبَّتْ أَحَدُ التُّجَّارِ عَلَى وَاجِهَةِ مَعَارِزِهِ هَذِهِ الْمَعْلَقَةَ :

تخفيض بـ 25% على جميع مبيعاتنا

هذه بعضُ معروضات هذه المعازة :

~~587,600~~ د
د

~~985~~ د
د

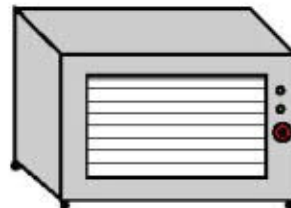
~~120~~ د
د



تلفاز



ثلاجة



فرن كهربائي

الْمَبْلَغُ الْمَشْطُوبُ هُوَ الثَّمَنُ الْأَصْلِيُّ (قَبْلَ التَّخْفِيزِ)
أَمُّ كُلِّ لَافِتَةٍ بِكِتَابَةِ الثَّمَنِ الْجَدِيدِ (بَعْدَ التَّخْفِيزِ) فِي الْفَرَاغِ الْمُنْقَطِ.

الوضعية II: (عكس المثال الأول)

اشترى محمد مدفأة فدفع 70,400د، بعد أن تمتع بتخفيض نسبته 12% ما هو الثمن الأصلي للمدفأة؟
الحل: استعن بالمخطط التالي:

نسبة الثمن الأصلي = 100%

نسبة التخفيض =
12%

المبلغ المدفوع = 70,400د؟%

لاحظ أننا نعرف قيمة المبلغ المدفوع = 70,400د ولكننا لا نعرف نسبته. قد يساعدك هذا في الحل

يستحسن القيام بعملية الضرب قبل القيام بعملية القسمة.

التوظيف:

الثمن الأصلي :د

نسبة التخفيض : 25%

الثمن الجديد : 300د

السندات والتعليقات

التوجيهات

الوضعية III:

أراد محمد أن يشتري مدفأة ثمنها 80د. وبعد مساومة مع البائع تمتع بتخفيض فدفع 70,400د. ماهي نسبة التخفيض التي تمتع بها؟

الثمن الأصلي = 80د

نسبة التخفيض؟

المبلغ المدفوع = 70,400د

لاحظ أننا نريد البحث عن نسبة التخفيض ونحن لا نعرف قيمته!! قد يساعدك هذا في الحل.

~~337,500~~

26,250د

– أعجب أنيس بحذاء علقت عليه هذه اللافتة :

* أساعده على حساب النسبة المئوية للتخفيض في الثمن الأصلي للحذاء.

الوضعية الرابعة:

أراد محمد أن يشتري مدفأة فتمعه البائع بتخفيض قدره بالدينار 9,600 د.
إذا عرفت أن نسبة التخفيض تساوي 12% فما هو الثمن الأصلي للمدفأة، وكم دفع؟

لاحظ أننا نعرف قيمة
التخفيض = 9,6 د ونعرف
نسبته = 12%
قد يساعدك هذا في الحل

الثمن الأصلي؟

التخفيض = 9,6 د
12%

المبلغ المدفوع؟

التوظيف:

الثمن الأصلي :

نسبة التخفيض : 25%

قيمة التخفيض : 50 د

ما الثمن الأصلي؟

أقيم مكتسباتي:

قام تاجر بتخفيض أثمان بعض مبيعاته فأعد هذه الآلآفات لتعليقها عليها.

معطف	قميص	كسوة
الثمن الأصلي :	الثمن الأصلي : 27,500 د	الثمن الأصلي : 185 د
نسبة التخفيض : 40 %	نسبة التخفيض :	نسبة التخفيض : 30 %
الثمن الجديد : 144 د	الثمن الجديد : 22 د	الثمن الجديد :

* أتم آليانات الناقصة في هذه الآلآفات.

الوضعية الخامسة:

موظف يتقاضى 320 د وارتفعت أجرته بنسبة 15%. كم صار يتقاضى؟

الأجر الجديد؟

الزيادة=15%

الأجر القديم=720 د

لاحظ أن هناك نسبة زيادة
فنحن نزيد ولا نطرح.

الطريقة الأولى للحل:

.....
.....

الطريقة الثانية للحل:

.....
.....

الوضعية السادسة:

باع تاجر قميصا ب 17,7 د فحقق ربحا نسبته 18% من ثمن الشراء.
كم يبلغ ثمن الشراء؟

تذكر أن ثمن البيع =
ثمن الشراء + الربح

ثمن البيع = 17,7 د = ؟%

الربح = 18%

ثمن الشراء = 100 %

الوضعية السابعة:

تنفق عائلة شهريا 35% من مدخولها للتغذية و 20% للملبس و 12% للأدوية و 15% لمصاريف مختلفة و تقتصد 135 د. ماهو مدخولها الشهري؟

المدخول الشهري = 100%

اقتصاد 135 د

مختلفة 15%

أدوية 12%

الملبس 20%

التغذية 35%

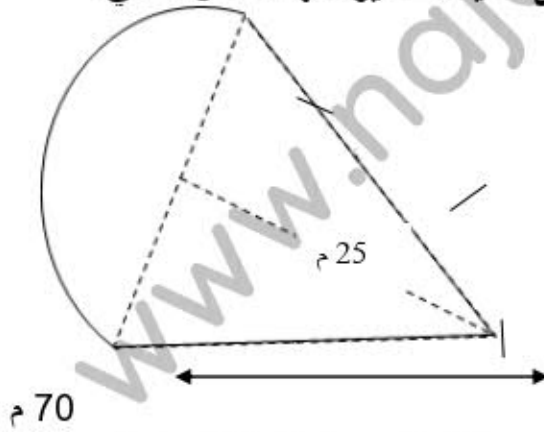
%.....

%.....

السندات والتعليقات

المعايير

يطلّ متجر محمد على حديقة صغيرة لها الشكل التالي:



تعليمة 8. أحسب قيس مساحتها في عبارة عددية واحدة.

.....

.....

.....

.....

.....

- 1 مع
- 2 مع
- 5 مع

جدول إسناد الأعداد:

مع5	مع4	مع3	مع2				مع1		
0	0	0	0				0		عدم التملك
1	1	1	2	1,5	1	0,5	1	0,5	تكون التملك الأدنى
3	2	2	4	3,5	3	2,5	2	1,5	التملك الأدنى
5	3	3	6	5,5	5	4,5	3	2,5	التملك الأقصى

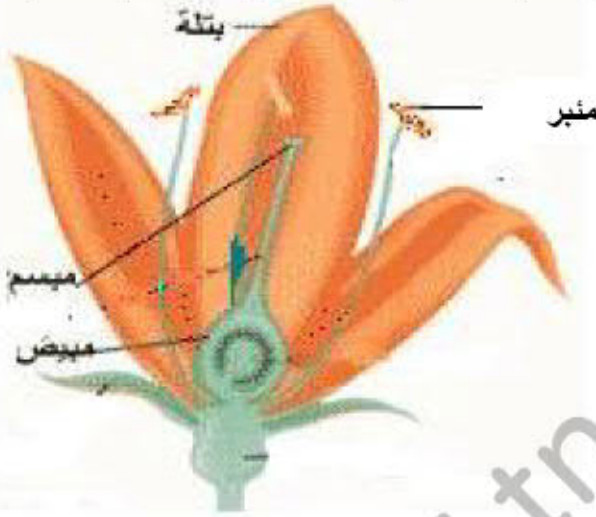
العدد $\frac{.}{20}$	الإسم: اللقب: القسم:	إختبار في الإيقاظ العلمي لتلاميذ السنة السادسة الثلاثي الثالث: جوان 2008	المدرسة الإبتدائية الجمهورية برج العامري
-------------------------	--	--	--

السنّات والتّعليمات	المعايير
---------------------	----------

<p>الوضعية الأولى:</p> <p>أكون سلاسل غذائية يكون فيها الإنسان:</p> <p>- مستهلكا من الدرجة 3:</p> <p>.....</p> <p>- مستهلكا من الدرجة 2:</p> <p>.....</p> <p>- مستهلكا من الدرجة 1:</p> <p>.....</p> <p>الوضعية الثانية:</p> <p>أصلح الخطأ:</p> <p>من أعراض مرض الكوليرا، اصفرار الجلد والعينين وفقدان شهية الأكل.</p> <p>.....</p> <p>نحمي الأوساط المائية والتربة من التلوث بالاستعمال المفرط للمواد الكيميائية ووردم</p>	<p>مع2</p> <p><input type="text"/></p> <p>مع3</p> <p><input type="text"/></p>
--	---

النفايات في التربة.

الوضعية الثالثة: تأمل الصورة وأسطب ما ليس مسؤولاً على التكاثر الزهري:



1 مع



السندات والتعليقات

المعايير

الوضعية الرابعة: أعمّر الجدول بوضع العلامة (x) في الخانة المناسبة:

يكتسب الجسم مناعة ويستعمل للوقاية	يستعمل للعلاج ومقاومة المرض	يصنع ضادات	اللقاح	1 مع
			سل	<input type="checkbox"/>

الوضعية الخامسة:

للتيار الكهربائي تأثيرات عديدة، أقرأ وأذكر نوع كل تأثير:

صعود الزئبق بالمحرار إذا ربطناه بدارة كهربائية

تحليل الماء إلى هيدروجين وأكسجين.

انحراف إبرة ممغنطة بجانب دارة كهربائية.

تشغيل هاتف جوال.

الوضعية السادسة:
أصلح المنحى الخاطي لسقوط الأجسام:

تفاحة

كرة



ممحاة

1 مع



3 مع

السندات والتعليقات

المعايير

الوضعية السابعة:

1- أرتب الدارات الكهربائية حسب شدة التأثير المغناطيسي التصاعدي:

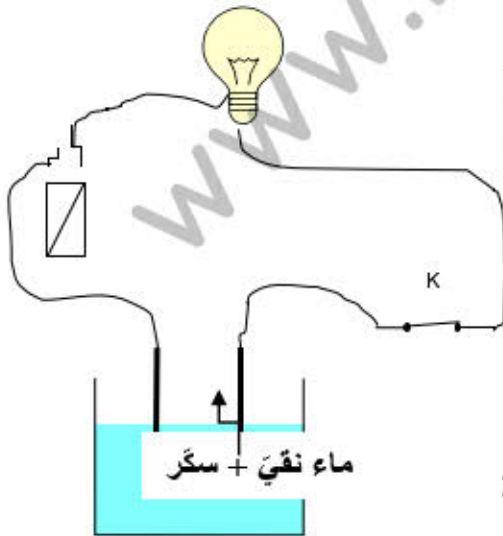


1 مع

2- أراد الأب أن يستعمل البوصلة داخل سيارته لكنه لم يتحصل على اتجاه صحيح.
أعلل ذلك:

2 مع

3- أبتين أسباب عدم إضاءة المصباح علما وأن المصباح والأسلاك والخلية سليمة:



جدول إسناد الأعداد:

2 مع

3 مع		2 مع		1 مع			
0		0		0		انعدام التملك	
2	1	2	1	3	2	1	دون التملك الأدنى
4	3	4	3	6	5	4	التملك الأدنى
5		6	5	9	8	7	التملك الأقصى

العدد 20	الإسم: اللقب: القسم:	إختبار في التّربية المدنيّة لتلاميذ السنّة السّادسة الثّلاثي الثّالث: جوان 2008	المدرسة الإبتدائيّة الجمهوريّة برج العامري
السّند			المعايير
<p>السّند 1. شاع في المدرسة خبر انتخاب ممثّلين عن تلاميذ أقسام السنوات الخامسة والسادسة. فتساءل الأطفال عن ماهية الإنتخاب وأهميته وكيفية إجراءه..</p> <p>التّعليمة 1. أكمل بـ « واجب » أم « حق »:</p> <p>الإنتخاب هو..... يفرضه الدّستور التّونسي لكلّ مواطن وهو أيضا واجب تفرضه الوطنيّة وحبّ الخير للبلاد كما هو..... للذكور والإناث سواسية و..... للمساهمة في تطوير البلاد وتسيير شؤونها.</p> <p>السّند 2. أراد تلاميذ السنوات الأولى والثّانية المشاركة في الإنتخابات لكنّ المعلم المشرف بيّن لهم أنّه لا تتوفّر فيهم الشّروط المناسبة للتمتّع بحقّ الإنتخاب وحدّد لهم مختلف هذه الشّروط.</p> <p>التّعليمة 2. أكتب « يحقّ له الإنتخاب » ، « لا يحقّ له الإنتخاب »:</p> <p>.....أجنبي متحصّل على الجنسيّة التّونسيّة منذ ثلاث سنوات.</p> <p>.....شاب يقضي مدّة في الخدمة العسكريّة.</p> <p>.....امرأة تتمتّع بكامل قواها العقليّة لكنّها ربّة بيت.</p> <p>.....شاب يبلغ من العمر 20 سنة.</p> <p>.....رجل قضى حكما بالسّجن لمدّة سنة واحدة.</p> <p>.....رجل يعمل في الحماية المدنيّة.</p> <p>التّعليمة 3. أربط بما يناسب:</p> <p>يصطحب النّائب بطاقة تعريفه..لأنّ الإنتخاب سريّا.</p> <p>يدخل النّائب الخلوة..للتأكّد من هويّة النّائب.</p> <p>يتسلّم النّائب جميع القائمات المشاركة..لأنّ الإنتخاب حرّ.</p>			<p>مع2</p> <p>□□□</p> <p>مع2</p> <p>□□□</p> <p>□□□</p> <p>مع1</p> <p>□□□</p>

السند	المعايير
<p>السند 3. عند عودته من المدرسة وجد حازم على طاولة التلّافز بطاقات جميلة كتب عليها بخطّ واضح «بطاقة ناخب» فقرأ ما كتبت عليها من أسماء فلم يجد اسمه على إحداهما.</p> <p>التعليمة 4. أضع العلامة (X) أمام الإجابة الصحيحة: لم يُستدعى حازم للقيام بعملية الانتخاب لأنه: لم يبلغ السن القانونيّة. <input type="checkbox"/> لم يرسم اسمه في الدائرة التي ينتمي إليها. <input type="checkbox"/> لا يعمل. <input type="checkbox"/></p>	<p>1 مع <input type="checkbox"/></p>
<p>السند 4. إن نظام الحكم في تونس نظام جمهوري رئاسي، ف رئيس الجمهورية هو أعلى سلطة في البلاد وهذا الموقع يسمح له بامتلاك نفوذ وصلاحيات من خلال المهام الموكولة له.</p> <p>التعليمة 5. أكتب (صواب) أو (خطأ) أمام كلّ إفادة: يحافظ رئيس الجمهورية على سيادة الوطن وحرّيته. يقوم رئيس الجمهورية بالتنسيق بين أعضاء الحكومة. رئيس الجمهورية هو الموجّه للسياسة العامّة للبلاد.</p>	<p>1 مع <input type="checkbox"/></p>
<p>التعليمة 6. أربط المهام التالية بالشخص المناسب: المنسق بين الوزراء القائد الأعلى للقوات المسلّحة. رئيس الدولة الضامن لاستقلال البلاد. المساعد على ممارسة السلطة التنفيذية . القائم بمهام رئاسة الحكومة . الوزير الأول الموجّه للسياسة العامّة للبلاد.</p>	<p>2 مع <input type="checkbox"/></p>
<p>التعليمة 7. أحدّد 3 حالات يتحمّل فيهما الوزير الأول مسؤولية تعويض رئيس الجمهورية: الحالة الأولى: الحالة الثانية: الحالة الثالثة:</p>	<p>4 مع <input type="checkbox"/></p>

العدد 20	الإسم: اللقب: القسم:	إختبار في الجغرافيا لتلاميذ السنة السادسة الثلاثي الثالث: جوان 2008	المدرسة الابتدائية الجمهورية برج العامري
-------------	----------------------------	---	--

السند	المعايير
<p><u>السند 1</u> نظم تلاميذ السنوات السادسة بمدريتنا رحلة إلى إحدى ولايات الشمال. وفي الحافلة تبادل الأطفال المعلومات حول إنتاج الحبوب وتربية الماشية في البلاد التونسية.</p> <p>التعليمة 1. أربط كل منطقة أو إقليم بالإنتاج الفلاحي المناسب له:</p> <p>الوطن القبلي .. الزياتين الشريط الساحلي .. الحبوب والخضر سهول الشمال .. تربية الماشية الوسط الشرقي .. القوارص الشمال والوسط .. النخيل واحات الجنوب .. صيد الأسماك</p> <p>التعليمة 2. ضع العلامة (x) أمام ما يناسب من الإفادات لتطوير الإنتاج الفلاحي بالبلاد التونسية:</p> <p>تعزيز طرق وأدوات العمل الفلاحي. <input type="checkbox"/></p> <p>تشجيع الشبان على خدمة الأرض وتنويع المنتج. <input type="checkbox"/></p> <p>توسيع المناطق السكنية والصناعية على حساب الأراضي الفلاحية. <input type="checkbox"/></p> <p>التعليمة 3. تتركز زراعة الحبوب بشمال البلاد التونسية لأسباب عديدة. أذكر سببين منها:</p> <p>السبب الأول:</p> <p>السبب الثاني:</p> <p><u>السند 2</u> أثناء الرحلة قام الأطفال بزيارة أحد المعامل بأجهة وأمام ضخامة المبنى وتطور الآلات تساءل الأطفال عن مدى تطور الصناعة التونسية وعن آفاقها وطرق النهوض بها.</p> <p>التعليمة 4. أكتب « صواب » أم « خطأ » أمام كل إفادة:</p> <p>توجد مناجم الفسفاط في جهة قفصة.</p> <p>توجد مناجم الزنك والرصاص بجهة جندوبة وسليانة.</p> <p>توجد مناجم الحديد التونسية بجنوب البلاد.</p>	<p>2 مع</p> <p><input type="checkbox"/><input type="checkbox"/></p> <p><input type="checkbox"/><input type="checkbox"/></p> <p>3 مع</p> <p><input type="checkbox"/><input type="checkbox"/><input type="checkbox"/></p> <p>4 مع</p> <p><input type="checkbox"/><input type="checkbox"/></p> <p>1 مع</p> <p><input type="checkbox"/><input type="checkbox"/><input type="checkbox"/></p>
السند	المعايير
التعليمة 5. أربط بما يناسب:	

تكرير النفط..قابس.

النسيج والملابس..بنزرت.

الكيمياويات..قصر هلال.

التعلّمة 6. من خلال مناقشات التلاميذ تفتن المعلم المشرف على الرحلة إلى أخطاء ارتكبها البعض منهم. فم بإصلاحها.
تتركز صناعة الفخار خاصة بالقيروان.

مع2
□□

تتركز الأنشطة الصناعيّة الغذائيّة بالجنوب التونسي.

مع4
□□

التعلّمة 7. أصنف المنتوجات التالية حسب الجدول:

منتجات مصنّعة: سيارات، شاحنات.. مواد طاقية: نفط

مواد أوليّة: فسفاط، زنك، رصاص.. تجهيزات إلكترونية وأدوية

مواد غذائيّة: تمر، قوارص، زيت زيتون..

مواد مصنّعة: نسيج وملابس..

مع2
□□□

الواردات التونسيّة	الصّادرات التونسيّة
.....
.....
.....
.....

السند 3. العطلة الصيفية على الأبواب وعائلة ألفة في حيرة ولمتستقر على رأي في كيفية قضائها إلى أن أتفق الجميع على قضاء أسبوع في الوطن القبلي بمدينة نابل وآخر بالجنوب في جزيرة الأحلام جربة.

التعلّمة 8. أكمل بـ « أثرية » أو « واحات » أو « ساحلية »:

توفّر مناطق دوز وتوزر وقبلي سياحة.....

توفّر مناطق سبيطلة ومطماطة والجم سياحة.....

توفّر مناطق نابل وجربة وطبرقة سياحة.....

مع1
□□□

السند

المعايير

التعلّمة 9. تنعكس السياحة إيجابيا على البلاد التونسيّة.

أذكر انعكاسا إيجابيًا لكل واحد من المجالات التالية:

-: التشغيل.
-: البنية الأساسية.
-: الإقتصاد عموما.

مع3

جدول إسناد الأعداد

مع4		مع3		مع2				مع1		
0		0		0				0		انعدام التملك
1	1	0,5	3	2	1,5	1	0,5	1	0,5	دون التملك الأدنى
4	2	2	6	5	4,5	4	3,5	2	1,5	التملك الأدنى
5	3	2,5	9	8	7,5	7	6,5	3	2,5	التملك الأقصى

www.najahni.tn

المدرسة الابتدائية
الجمهورية برج
العامري

إختبار في التاريخ
لتلاميذ السنة السادسة
الثلاثي الثالث: جوان 2008

العدد
20

الإسم:

اللقب:

القسم:

السند 1 بمناسبة عيد الإستقلال تابع المهدي برنامجا وثائقيا عنشاشة التّلفاز بكلّ شغف ليتعرّف على مرحلة هامّة من تاريخ تونس... فأبهر بمسيرة النّضال الوطني للبلاد التّونسيّة ضدّ الإستعمار الفرنسي.

التّعليمية 1. أعمّر فراغات الفقرة التّالية بما يناسب من الكلمات التّالية:

علي باي - بول كامبون - باردو - محمّد الصّادق باي -

فرضت فرنسا على البلاد التّونسيّة نظام الحماية بمقتضى معاهدة

في 12 ماي 1881 التي أمضاها ثمّ اتّفاقيّة المرسى

التي فُرِضَتْ على ولقي هذا الإحتلال مقاومة شديدة

من التّونسيين وذلك رغم مساواة المقيم العام

التّعليمية 2. أعمّر الجدول التّالي وأضع كلّ إفادة من الإفادات التّالية فيالوادي

المناسب لها لتعرّف مظاهر الهيمنة الفرنسيّة على تونس:

✧ استحواد المعمّرين الفرنسيين على أراضي التّونسيين.

✧ تحكّم المقيم العامّ في سياسة الباي.

✧ استغلال المناجم التّونسيّة لصالح فرنسا فقط.

✧ الهيمنة على الإدارة المركزيّة التّونسيّة.

✧ فرض تداول العملة الفرنسيّة (الفرنك) في تونس.

✧ تكفّل فرنسا بإجراء المعاهدات بين تونس والدّول الأخرى.

مع2



مظاهر الهيمنة الإقتصاديّة

مظاهر الهيمنة الإداريّة والسياسيّة

.....
.....
.....
.....
.....
.....

.....
.....
.....
.....
.....
.....

مع3



السند 2. قام التّلاميذ بإنجاز ملفّ في مادة الفرنسيّة حول وسائل الإعلام

فبحث المهدي في الجرائد والمجلّات وعلم أنّ أوّل جريدة صدرت في عهد

الإستعمار هي جريدة «التّونسي» التي أصدرتها حركة الشّباب التّونسي تحت

إشراف علي باش حامبة.

التّعليمية 3. أربط كلّ حدث بما يناسبه من التّواريخ:

تأسيس حركة الشّباب التّونسي..نوفمبر 1911م

مع1

حادثة الزلاّج.. فيفري 1907م

حادثة التّرامواي.. مارس 1912م

التّعليمية 4. حسب رأيك لماذا طالبت حركة الشّباب التّونسيين بإجباريّة التّعليم وإصلاحه؟

مع4

السّند 3. دخلت حركة الشّباب التّونسيين مرحلة رُكُودٍ إثر حوادث الزلاّج والتّرامواي إلى أن كانت سنة 1920 التي شهدت تأسيسًا أول حزبٍ سياسيٍّ بالبلاد التّونسيّة.

التّعليمية 5. أربط كلّ إفادة بما يناسبها حول الحزب الحرّ الدّستوريّ التّونسيّ:

طريقة نشاط الحزب

مشاركة التّونسيين في الحياة السياسيّة ونشر التّعليم

بعض مطالب الحزب

الشيخ عبد العزيز الثّعالبي

مؤسس الحزب

إرسال الوفود للتّعريف بقضيّة تونس

مع2

السّند 4. على إثر الخلاف الذي حصل بين أعضاء اللّجنة التّنفيذيّة للحزب الحرّ الدّستوريّ التّونسيّ وجماعة العمل التّونسيّ انعقد مؤتمر قصر هلال حضره نوابٌ عن سائر شُعَبِ الحزب. ثمّ تتالت الأحداث سريعة لتفضي إلى قيام الثّورة التي أدت إلى حصول تونس على استقلالها...

التّعليمية 6. أعيد كتابة الإفادات التّالية مع إصلاح الأخطاء الواردة بها: تمّ قبول جماعة العمل التّونسيّ في اللّجنة التّنفيذيّة للحزب في مؤتمر قصر هلال.

مع4

تمّ تأسيس الحزب الحرّ الدّستوريّ الجديد في مؤتمر نهج الجبل.

أدى تأسيس الحزب الجديد إلى حلّ اللّجنة التّنفيذيّة وتعويضها بلجنة أخرى.

السّند

المعايير

التّعليمية 7. أرّتب الأحداث التّالية حسب تسلسلها الزّمني بوضع الأرقام من 1 إلى 6:
إعلان إمّ الجمهوريّة وإلغاء النّظام الملكي.
اندلاع ثورة والكفاح المسلّح.

مع2

• تأسيس لإتحاد العام التونسي للشغل.

• إعلان استقلال التّام.

• اغتيال حات حشاد.

السند 5 بعد حصول تونس على استقلالها التّام ولاستكمال سيادتها حرصت الدولة حكومة وشعبا على توثيق رموزها...

التعليمة 8. أربط كل إجراء بألغاية من إصداره وتاريخ الشروع في تطبيقه:

إصدار الدينار التونسي ..تونس الإدارة ..18 أفريل 1956

بعث وحدات الحرس الوطني ..تونس الأمن ..18 أكتوبر 1958

إحداث سلك الولاية والمعتمدين ..تونس العملة ..21 جوان 1956

مع 1

جدول إسناد الأعداد

مع 4		مع 3		مع 2				مع 1		
0		0		0				0		انعدام التملك
2	1	1	0,5	3	2	1	0,5	1	0,5	دون التملك الأدنى
4	3	2	1,5	6	5	4	3,5	2	1,5	التملك الأدنى
5		3	2,5	9	8	7	6,5	3	2,5	التملك الأقصى

www.najahni.tn

1 - أحسب الجداء في كل مرة متبعا للمراحل المقترحة.
 - أ

..... = • x (• x 7) = 30 x 7

30 x 7

..... = • x (• x 7) = 300 x 7

300 x 7

• = • x (• x 8) = 70 x 8 - ب

• = • x (• x 8) = 700 x 8

• = • x (• x 43) = 200 x 43 - ج

• = 100 x (• x •) = 300 x 325

2 - أتم في كل مرة الكتابة ثم أنجز العمليتين.

100 x (• x 254) = 300 x 254 ■

2 5 4
 × 3 0 0

 • • •
 • • •
 • • •
 • • •
 • • •

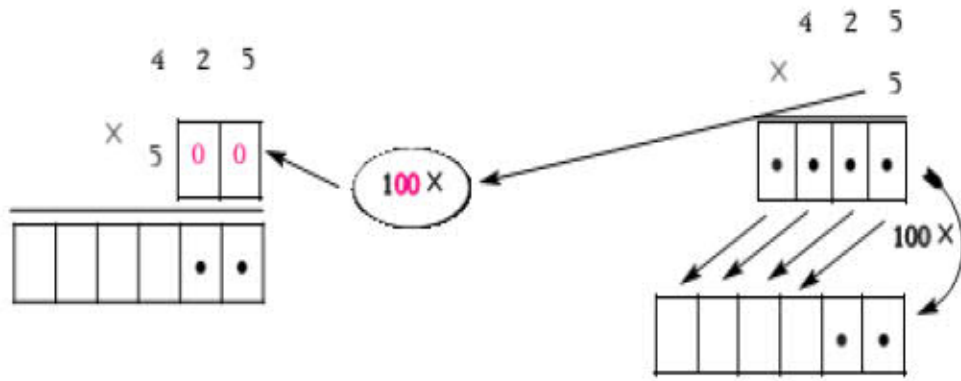
2 5 4
 × 3

 • • •
 • • •
 • • •
 • • •

100 x

100 x

$$\bullet \times (\bullet \times \bullet) = 500 \times 425 \quad \blacksquare$$



هـ - أنجز العمليات التالية

$$\begin{array}{r} 645 \\ \times 5 \\ \hline \end{array} \begin{array}{|c|c|} \hline 0 & 0 \\ \hline \end{array}$$

.....

$$\begin{array}{r} 407 \\ \times 6 \\ \hline \end{array} \begin{array}{|c|c|} \hline 0 & 0 \\ \hline \end{array}$$

.....

$$\begin{array}{r} 365 \\ \times 4 \\ \hline \end{array} \begin{array}{|c|c|} \hline 0 & 0 \\ \hline \end{array}$$

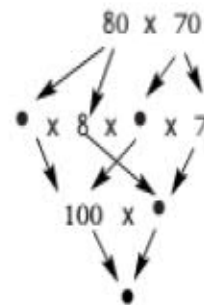
.....

$$\begin{array}{r} 243 \\ \times 2 \\ \hline \end{array} \begin{array}{|c|c|} \hline 0 & 0 \\ \hline \end{array}$$

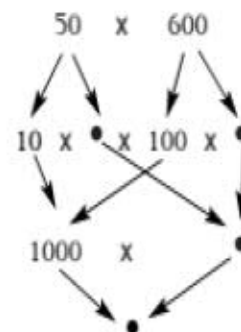
.....

3- أ- أحسب الجداء في كل مرة متبعا المراحل المقترحة

$$\dots = 100 \times (\bullet \times \bullet) = 80 \times 70$$



$$\dots = 1000 \times (\bullet \times \bullet) = 50 \times 600$$



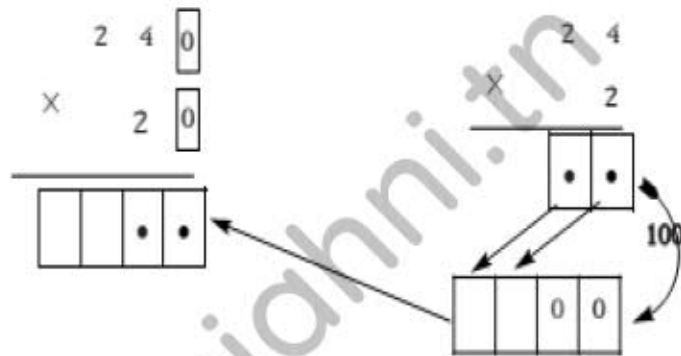
ب - أَعْمُرُ الْجَدُولَ التَّالِيَّ مُعْتَمِدًا الْحِسَابَ الذَّهْنِيَّ

400	70	800	30	X
				60
				500

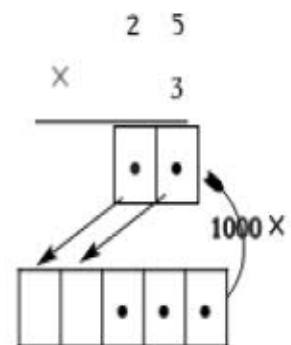
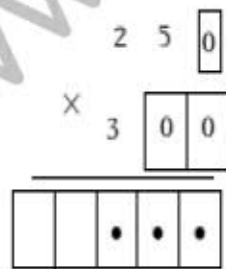
ج - أَيْمٌ فِي كُلِّ مَرَّةٍ الْكِتَابَةَ ثُمَّ أَنْجِزِ الْعَمَلِيَّتَيْنِ:

$$(10 \times 10) \times (\bullet \times 24) = 20 \times 240 \quad \blacksquare$$

100



$$(\bullet \times \bullet) \times (\bullet \times 25) = 300 \times 250 \quad \blacksquare$$



د - أَنْجِزِ الْعَمَلِيَّاتِ التَّالِيَةَ

$$\begin{array}{r} 2800 \\ \times 240 \\ \hline \end{array}$$

$$\begin{array}{r} 270 \\ \times 400 \\ \hline \end{array}$$

$$\begin{array}{r} 450 \\ \times 230 \\ \hline \end{array}$$

$$\begin{array}{r} 360 \\ \times 70 \\ \hline \end{array}$$

4 - هذه أخطاء ارتكبتها بعض التلاميذ أثناء إنجاز عملية.

أ - ألاحظ كل خطأ وأصلحه.

(3)	(2)	(1)	↖
$\begin{array}{r} 346 \\ \times 300 \\ \hline 103800 \end{array}$	$\begin{array}{r} 346 \\ \times 300 \\ \hline 10380 \end{array}$	$\begin{array}{r} 346 \\ \times 300 \\ \hline 1038 \end{array}$	العملية
			الخطأ
			إصلاح الخطأ

ب - اقدم نصيحة لمرتكب كل خطأ حتى لا يعود إليه مرة أخرى.

5 - أفكك العامل الثاني في كل عملية إلى صيغته القانونية ثم أنجزها على السطر.

$$(\bullet + \bullet + \bullet) \times 235 = 324 \times 235 \quad \blacksquare$$

$$\begin{array}{c} \bullet \times 235 + \bullet \times 235 + \bullet \times 235 = \\ \swarrow \quad \searrow \quad \swarrow \quad \searrow \quad \swarrow \quad \searrow \\ \bullet + \bullet + \bullet = \end{array}$$

..... =

$$\begin{aligned}
 & (\bullet + \bullet + \bullet) \times \bullet = 243 \times 356 \blacksquare \\
 & \bullet \times \bullet + \bullet \times \bullet + \bullet \times \bullet = \\
 & \bullet + \bullet + \bullet = \\
 & \dots\dots\dots =
 \end{aligned}$$

6- أَنْجِزْ وَأَتَمَّلْ

$$245 \times 375$$

$$\begin{array}{r}
 375 \\
 \times \quad 5 \\
 \hline
 \bullet \bullet \bullet \bullet
 \end{array}$$

$$\begin{array}{r}
 375 \\
 \swarrow \quad \searrow \\
 200 + 40 + 5
 \end{array}$$

- أ

$$\begin{array}{r}
 375 \\
 \times \quad 40 \\
 \hline
 \bullet \bullet \bullet \bullet
 \end{array}$$

+

$$\bullet \times 375 \rightarrow \bullet \bullet \bullet \bullet$$

①

$$\begin{array}{r}
 375 \\
 \times \quad 200 \\
 \hline
 \bullet \bullet \bullet \bullet
 \end{array}$$

+

$$\bullet \times 375 \rightarrow \bullet \bullet \bullet \bullet$$

②

$$\begin{array}{r}
 375 \\
 \times \quad 200 \\
 \hline
 \bullet \bullet \bullet \bullet
 \end{array}$$

+

$$\bullet \times 375 \rightarrow \bullet \bullet \bullet \bullet$$

③

$$(200 + 40 + 5) \times 375 \dots\dots\dots ④$$

$$245 \times 375$$

$$\begin{array}{r}
 375 \\
 \times 245 \\
 \hline
 \bullet \bullet \bullet \bullet \\
 + \bullet \bullet \bullet \bullet 0 \\
 + \bullet \bullet \bullet 00 \\
 \hline
 \bullet \bullet \bullet \bullet \bullet
 \end{array}$$

- ب

$$\bullet \bullet \bullet \bullet \leftarrow \bullet \times 375 : ①$$

+

$$\bullet \bullet \bullet \bullet 0 \leftarrow \bullet \times 375 : ②$$

+

$$\bullet \bullet \bullet 00 \leftarrow \bullet \times 375 : ③$$

+

$$\bullet \bullet \bullet \bullet \bullet \leftarrow \bullet \times 375 : ④$$

■ أتم الاستنتاجين التاليين

■ كلما ضربت المضروب في رقم عشرات الضارب تركت منزلة

■ كلما ضربت المضروب في رقم مئات الضارب تركت منزلتين

7- أنجز العمليات التالية

$$\begin{array}{r} \times 2536 \\ 253 \\ \hline \dots\dots \\ \dots\dots \\ \dots\dots \\ \hline \dots\dots \end{array}$$

$$\begin{array}{r} \times 508 \\ 317 \\ \hline \dots\dots \\ \dots\dots \\ \dots\dots \\ \hline \dots\dots \end{array}$$

$$\begin{array}{r} \times 465 \\ 256 \\ \hline \dots\dots \\ \dots\dots \\ \dots\dots \\ \hline \dots\dots \end{array}$$

$$\begin{array}{r} \times 214 \\ 125 \\ \hline \dots\dots \\ \dots\dots \\ \dots\dots \\ \hline \dots\dots \end{array}$$

8- أ- أفكك العامل الثاني في العملية وفقا لصيغته القانونية ثم أنجزها على السطر.

$$(\dots + \dots) \times \dots = 203 \times 234$$

$$\begin{array}{r} \dots + \dots + \dots \times \dots = \\ \downarrow \quad \downarrow \quad \downarrow \\ \dots + \dots = \\ \dots = \end{array}$$

ب- أستثمر ما سبق لإنجاز العملية وفقا للوضع العمودي.

$$\begin{array}{r}
 234 \\
 \times \\
 203 \\
 \hline
 \end{array}$$

$$\begin{array}{r}
 234 \\
 \times \quad \swarrow \searrow \\
 200 + 3 \\
 \hline
 \end{array}$$

$$\begin{array}{r}
 \bullet \bullet \bullet \\
 + \bullet \bullet \bullet \boxed{\bullet} \boxed{\bullet} \\
 \hline
 \bullet \bullet \bullet \bullet \bullet
 \end{array}
 \leftarrow
 \begin{array}{l}
 3 + 234 \rightarrow \\
 200 \times 234 \rightarrow \\
 203 + 234 \rightarrow
 \end{array}
 \begin{array}{r}
 \bullet \bullet \bullet \\
 + \bullet \bullet \bullet \boxed{\bullet} \boxed{\bullet} \\
 \hline
 \bullet \bullet \bullet \bullet \bullet
 \end{array}$$

9- أنجز العمليات التالية

$ \begin{array}{r} 1620 \\ \times \\ 306 \\ \hline \dots\dots\dots \\ \dots\dots\dots \\ \hline \dots\dots\dots \end{array} $	$ \begin{array}{r} 702 \\ \times \\ 507 \\ \hline \dots\dots\dots \\ \dots\dots\dots \\ \hline \dots\dots\dots \end{array} $	$ \begin{array}{r} 546 \\ \times \\ 402 \\ \hline \dots\dots\dots \\ \dots\dots\dots \\ \hline \dots\dots\dots \end{array} $	$ \begin{array}{r} 436 \\ \times \\ 205 \\ \hline \dots\dots\dots \\ \dots\dots\dots \\ \hline \dots\dots\dots \end{array} $
--	---	---	---

10 - عرّض معلم على تلاميذه هاتين اللوحتين بكل واحدة خطأ في إنجاز العملية وطلب منهم البحث عنه وإصلاحه.

$$\begin{array}{r}
 346 \\
 \times \\
 205 \\
 \hline
 1730 \\
 + \\
 692 \\
 \hline
 8650
 \end{array}$$

$$\begin{array}{r}
 346 \\
 \times \\
 205 \\
 \hline
 1730 \\
 + \\
 692 \\
 \hline
 2422
 \end{array}$$

■ أبحث عن كل خطأ وأصلحه.

1 - صنع أحد منتجي الصابون 23 كيساً من الصابون بكل منها 50 كغ.
بيع هذا المنتج الصابون قبل تجفيفه بـ 805 مي للكيلوغرام الواحد بينما تفقد الكمية المصنوعة عند
تجفيفها 43 كغ فيبيع الكيلوغرام الواحد بـ 875 مي.
■ أي الطريقتين توفر دخلاً أكبر لهذا المنتج؟ أعلل إجابتي.

2 - نظّم فرع منظمة التربية والأسرة بمدرستنا حفلاً فنياً باع خلاله 392 تذكرة مصنفة كالتالي :
الصنف 1 : 127 تذكرة بـ 3750 مي الواحدة.
الصنف 2 : 105 تذاكر بـ 2500 مي الواحدة.
الصنف 3 : التذاكر الباقية بـ 1500 مي الواحدة.

■ بلغت مصاريف الحفل 235 د، وتبرعت المنظمة للمدرسة بالمبلغ الذي وفرته لشراء جهاز إعلامية.

- أ - ما عدد التذاكر من الصنف الثالث ؟
ب - ما ثمن بيع التذاكر من كل صنف ؟
ج - هل يمكن المبلغ المتبرع به المدرسة من شراء جهاز إعلامية ثمنه 990 د ؟ أعلل إجابتي.

المختصر المفيد في قواعد الرياضيات

برنامج السنة السادسة من التعليم الأساسي

من انتاج : نورالدين بن خضر

1- ضرب الأعداد العشرية في 0.1 - 0.01 - 0.001.....

• عندما نضرب عدد عشري في 0.1 فكأننا قسمناه على 10 فنقوم بتحويل الفاصل منزلة نحو اليسار.

$$\text{مثال : } 1,656 = 0,1 \times 16,56$$

$$1,656 = 10 : 16,56$$

• عندما نضرب عدد عشري في 0,01 فكأننا قسمناه على 100 فنقوم بتحويل الفاصل منزلتين نحو اليسار.

$$\text{مثال : } 1,3250 = 0,01 \times 132,50$$

$$1,3250 = 100 : 132,50$$

2- قسمة عدد عشري على 0,1 - 0,01 - 0,001.....

• عندما نقسم عدد عشري على 0,1 فكأننا ضربناه في 10 فنقوم بتحويل الفاصل منزلة نحو اليمين.

$$\text{مثال : } 102,5 = 0,1 : 10,25$$

$$102,5 = 10 \times 10,25$$

• عندما نقسم عدد عشري على 0,01 فكأننا ضربناه في 100 فنقوم بتحويل الفاصل منزلتين نحو اليمين.

$$\text{مثال : } 2157,1 = 0,01 : 21,571$$

$$2157,1 = 100 \times 21,571$$

372,05	32
- 32	
52	11,62
- 32	
200	
- 192	
85	
- 85	
64	
- 64	
21	

3- قسمة عدد عشري على عدد صحيح :

لقسمة عدد عشري على عدد صحيح ننجز العملية بصفة عادية وعندما نصل إلى الفاصل نضعه في خارج القسمة. (أي قسمة الجزء العشري يكون بعد وضع الفاصل في خارج القسمة).

4. / قسمته عدد عشري على عدد عشري:

لقسمته عدد عشري على عدد عشري يجب تحويل القاسم الى عدد صحيح بضربه في 10 - 100 - أو 1000.....
حسب عدد الأرقام الموجودة على يمين الفاصل وكذلك نفعل بالمقسوم ...

*مثال 1:

$$\begin{array}{r} 494,2 \\ \hline 28 \end{array} \quad \begin{array}{r} 49,42 \\ \hline 2,8 \end{array}$$

*مثال 2:

$$\begin{array}{r} 8740 \\ \hline 158 \end{array} \quad \begin{array}{r} 87,4 \\ \hline 1,58 \end{array}$$

النسبة المئوية

المثال الأول:

- أراد أخي أن يشتري دراجة ثمنها 80 د ، فمنحه البائع تخفيضا نسبته 12% .
- السؤال 1: كم قيمة التخفيض ؟
- السؤال 2: كم يدفع ؟

حل السؤال 1:

بما أن الـ 80 د تمثل بالنسبة المئوية 100% ساقسم المبلغ على 100 لمعرفة قيمة الجزء الواحد ، ثم أضرب العدد المتحصل عليه في 12 جزءا التي خفضها لي البائع وذلك لمعرفة قيمة التخفيض .

- قيمة التخفيض بالدينار $9.600 = \frac{12 \times 80}{100}$ كما تكتب: $100 : (12 \times 80)$ أو $12 \times (100 : 80)$
- استعين بجدول التناسب

؟.....	80 د
% 12

حل السؤال 2 :

نبحث أولا عن المبلغ الذي يمثل التخفيض والمتمثل في نسبة 12% من الثمن الأصلي:

$$\text{قيمة التخفيض بالدينار} = \frac{12 \times 80}{100} = 9.600$$

ثم نطرح قيمة التخفيض من الثمن الأصلي للدراجة:

$$\text{المبلغ المدفوع بالدينار: } 80 - 9.600 = 70.400$$

أو الثمن الأصلي الذي هو 80 د يمثل 100% وبما أن البائع منحه تخفيضا نسبته 12% فالمبلغ المدفوع بالنسبة المئوية يتمثل في:

$$100\% - 12\% = 88\%. \text{ وهذه النسبة تساوي بالدينار}$$

$$\text{المبلغ المدفوع بالدينار: } \frac{88 \times 80}{100} = 70.400$$

كما يمكن كتابتها: (80 x 88) : 100 أو (80 : 100) x 88 = 70.400

استعين بجدول التناسب

80 د	؟
.....	12%

تمارين تطبيقية :

1. اشترى ابي كسوة ثمنها الأصلي 150 د فخفض له البائع 20% من ثمنها . كم دفع ؟
2. تقدر صابئة الزيتون لفلاح بـ 1200 كغ احتفظ صاحبها لنفسه بـ 15% من الكمية . كم باع ؟
3. لمربي أبقار كمية من الحليب بلغت 750 لترا حول 25% منها جينا . كم بقي معه ؟
4. مساحة أرض 1500 مترا مربعا باع صاحبها 90% كم مساحة الجزء المتبقي ؟
5. شارك في المناظرة 250 تلميذا نجح منهم 70% كم عدد الراشدين ؟

المثال الثاني :

أراد أخي أن يشتري دراجة فمنحه البائع تخفيضا نسبته 12% وهذه النسبة تساوي 9.600 د

السؤال 1 : ما هو الثمن الأصلي للدراجة ؟

السؤال 2: كم دفع أخي بعد التخفيض ؟

الحل 1:

الثمن الأصلي كما هو معروف يتمثل في نسبة 100% وللتعرف على قيمته نقسم 9.600 د على 12 لنعرف قيمة 1% ثم نضرب في

100% كما يلي :

$$\text{الثمن الأصلي للدراجة بالدينار: } 80 = \frac{100 \times 9.600}{12}$$

استعين بجدول التناسب

9.600 د	؟.....
12%

الحل 2:

الثن الأصلي كما هو معروف يتمثل في نسبة 100% نسبة التخفيض 12% وبالتالي لن يدفع الا 88% من ثمن الدراجة (100% - 12% = 88%) وللتعرف على هذه قيمته نقسم 9.600 د على 12 لنعرف قيمته 1% ثم نضرب في 88 لنعرف 88% كما يلي :

$$\text{المبلغ المدفوع بالدينار: } \frac{88 \times 9.600}{12} = 70.400$$

وتكتب (88 x 9.600) : 12 أو : 80 - 9.600 - 70.400

استعين بجدول التناسب

.....؟	9.600 د
.....	12%

تمارين تطبيقية :

1. خفض لي الكتيبي 12,500 د من ثمن القصص وهم ما يمثل 15%. كم دفعت ؟
2. نصيب أبي من أرض جدي 1350 مترا مربعا وهو ما يمثل 25% من مساحتها. ما هي المساحة المتبقية لأعمامي وعماتي للأرض ؟
3. حول الفلاح 20% من صابرة الزيتون زيتا وهو ما يمثل 350 كغ. وباع الباقي. ما هي كتلة الكمية المباعة ؟
4. 30% من كمية المياه أي 39600 ل تتبخروا والبقية يتم استغلالها. كم تبلغ كمية الماء المستغلة ؟
5. 250 طنا من الغلال المخزنة تستهلك يوميا وهو ما يمثل 40% من الكمية. كم تبلغ كتلة الكمية المتبقية ؟

المثال الثالث :

- أراد أخي أن يشتري دراجة ، فدفعت 70.400 بعد أن خفض له البائع 12% من ثمنها الأصلي .
- السؤال 1 : ما هو الثمن الأصلي للدراجة ؟
السؤال 2 : ما هي قيمة التخفيض ؟

الحل 1:

الثن الأصلي كما هو معروف يتمثل في نسبة 100% وبما أن أخي تمتع بتخفيض نسبه 12% فلن يدفع سوى 88% (100% - 12% = 88%) وللتعرف على قيمته :

بما أن 88% قيمتها 70.400 د فإننا نقسم هذا العدد د على 88 لنعرف قيمته 1% ثم نضرب في 100%

$$\text{الثن الأصلي للدراجة بالدينار بالدينار: } \frac{100 \times 70.400}{88} = 80 \text{ وتكتب (} 100 \times 70.400 \text{): } 88$$

استعين بجدول التناسب

70.400؟
.....	12%

الحل 2 :

التمن الأصلي كما هو معروف يتمثل في نسبة 100% وبما أنه أخي تمتع بتخفيض نسبه 12% فلن يدفع سوى 88% (100%-12%) وبما أن 88% قيمتها 70.400 د فإننا نقسم هذا العدد على 88 لنعرف قيمة 1% ثم نضرب في 12%

$$\text{قيمة التخفيض بالدينار: } \frac{12 \times 70.400}{88} = 9.600 \text{ أو } 80 - 70.400 = 9.600$$

استعين بجدول التناسب

70.400	؟.....
.....	%12

تمارين تطبيقية:

- اشترى أبي ثلاجة، فدفع 680 د بعد أن خفض له البائع 15% من ثمنها الأصلي. ما هو الثمن الأصلي للثلاجة؟
- أحتفظ أبي بـ 1080 كغ من الصابون بعد أن وزع على العمال 10% منها. كم بلغت الصابون؟
- نجح في المناظرة 416 تلميذا بعد أن رسب منهم 20% كم عدد المشاركين في المناظرة؟
- باع فلاح 70% من مساحة حقله بعد أن احتفظ لنفسه بـ 3600 مترا مربعا. ما هي المساحة الأصلية للأرض؟
- حول مربى ابقار 660 لترا من الحليب جبنا بعد أن باع 40% من الإنتاج سائلا. كم بلغت الكمية المنتجة؟

المثال الرابع :

أراد أخي أن يشتري دراجة ثمنها 80 د فتمعه التاجر بتخفيض قدره 9.600 د فقط.

السؤال : كم نسبة التخفيض ؟

لمعرفة نسبة التخفيض أطبق القاعدة التالية : (قيمة التخفيض x 100) : الثمن الأصلي

$$\text{نسبة التخفيض } (9.600 \times 100) : 80 = 12\%$$

80 د	9.600 د.
.....	؟.....

تمارين تطبيقية :

- اشترت موسوعة ثمنها 120 دينارا. فخفض لي البائع 24 د. كم نسبة التخفيض؟
- جفنا 48 كغ من التين فنقص من وزنها 4,8 كغ. كم بلغت نسبة الكمية المتبقية؟
- تاجر اشترى 620 كغ من السمك لبيعها. فلم يبيع منها الا 520 كغ. ما هي نسبة الكمية المباعة؟
- ينتج معمل 1400 سروالا يوميا يوزع للسوق الداخلية 70 سروالا فقط. ما هي نسبة التوزيع المحلي؟
- يقطع عداء مسافة 15000 م أسبوعيا منها 3000 م يوح الأحد. ما هي نسبة المسافة المقطوعة يوم الأحد؟

المثال الخامس :

أراد أخي أن يشتري دراجة ثمنها 80 د فتمتعه التاجر بتخفيض دفع على إثره 70.400 د فقط.
السؤال : كم نسبة التخفيض ؟

قبل البحث عن نسبة التخفيض لا بد من البحث عن المبلغ الذي وقع تخفيضه وهو :

قيمة التخفيض بالدينار : 80 - 70.400 = 9.600

ولعرفة نسبة التخفيض أطبق القاعدة التالية : (قيمة التخفيض x 100) : الثمن الأصلي

نسبة التخفيض (9.600 x 100) : 80 = 12 %

70.400 د	80 د
.....	!.....

تمارين تطبيقية :

1. اشترى أبي تلفازا بـ 1200 د، لكنه لم يدفع سوى 1080 د . كم نسبة التخفيض ؟
2. حولنا 860 كغ من الغلال إلى عصير فتحصلنا على 731 كغ . كم بلغت نسبة الفضلات ؟
3. لمربي دواجن 880 طيرا ارتفعت درجة الحرارة فلم يبق منهم سوى 836 طيرا . كم نسبة الوفيات ؟
4. تنتج شركة 450 زوج حذاء يوميا تصدر منها 315 زوجا . ما هي نسبة التوزيع المحلي ؟
5. تعطي 500 كغ من الزيتون 200 لترا زيتا . ما هي نسبة الفضلات ؟

المثال السادس :

إذا كانت هناك نسبة زيادة فنحن نزيد لا نطرح :

موظف يتقاضى 600 د ارتقى إلى درجة أعلى فارتفعت أجرته بنسبة 15 % .
كم صار يتقاضى ؟

الطريقة الأولى :

نبحث عن المبلغ الذي وقعت زيادته :

قيمة الزيادة بالدينار : (600 x 15) : 100 = 90

ثم نزيد المبلغ إلى أجرته الأصلية :

المرتب الجديد للموظف بالدينار : 600 + 90 = 690 .

الطريقة الثانية :

المرتب القديم الذي هو 600 د يمثل نسبة 100% إذن فإن النسبة المئوية التي تمثل الأجر الجديد هي : 100% + 15% = 115%

الأجرة الجديدة للموظف بالدينار : (600 x 115) : 100 = 690 .

أستعين بجدول التناسب

.....	600 د
.....	15 %

تمارين تطبيقية :

1. ادخر فلاح مبلغا ماليا يقدر بـ 2400 د بالبنك وعند سحبه اتضح له أن البنك متعه بفائض قدره 5% . كم سحب هذا الفلاح من البنك ؟
2. اشترى تاجر غلال بـ 175 دينار تفاحا وقرر أن يبيع فيها 12 % . بكم سيبيعها ؟
3. تبللت كمية من الخشب بالماء فزاد وزنها بنسبة 7% . كم أصبحت كتلتها إذا علمت أن وزنها الأصلي 475 كغ.
4. أسلاك كهربائية طولها 2500 م تمددت بمفعول الحرارة بنسبة 3% كم أصبح طولها ؟
5. ارتفع ثمن البنزين بنسبة 8% . فكم أصبح ثمن اللتر الواحد بعد ان كان 1150 مي

المثال السابع :

▪ باع تاجر محفظة بـ 8.850 د فحقق ربحا نسبته 18% من ثمن الشراء. كم يبلغ ثمن الشراء

الحل : نعرف أن ثمن البيع - ثمن الشراء + الربح

وبما أن نسبة الربح تساوي 18% من ثمن الشراء فإن ثمن الشراء يتمثل في نسبة

$$100\% + 18\% = 118\% \text{ وهذه النسبة تساوي } 8.850 \text{ د}$$

إذن فإننا نقسم 8.850 د على 118 لنعرف 1% ونضرب في 100 لنعرف 100% أي:

$$\text{ثمن الشراء بالدينار: } \frac{100 \times 8,850}{118} - 7,500 \text{ (التحقيق: } \frac{18 \times 7,500}{100} - 1,350 \text{)}$$

8.850 د	؟.....	أستعين بجدول التناسب
.....	18%	

• التمارين التطبيقية :

1. باع أب سيارته بـ 13000 د محققا ربحا نسبته 15% من ثمن الشراء. بكم اشترى السيارة؟
2. أصبح طول أخي 120 صم سادسة من عمره وذلك بزيادة قدرت بـ 5% في سنتين. كم كان طوله عندما كان عمره أربع سنوات؟
3. أرجع موظف للبنك مبلغ 3920 د بفاتض قدر بـ 12%. كم اقترض من البنك؟
4. زاد وزن الغلال 20% عند تحويلها إلى مربى. فأصبحت 3,600 كغ. ما هو الوزن الأصلي؟
5. نجح 132 تلميذا بزيادة قدرت بـ 10%. ما هو عدد الناجحين في السنة المنقضية؟

المثال السابع:

▪ تنفق عائلة شهريا 35% من مدخولها للتغذية و 20% للملبس و 12% للأدوية و 15% لمصاريف أخرى وتقتصد 72د. ما هو مدخولها الشهري؟

الحل

للبحث عن المدخول الشهري يجب أن نعرف النسبة المئوية التي تمثل جملة المصاريف:

$$\text{النسبة المئوية للمصاريف: } 35\% + 20\% + 12\% + 15\% = 82\%$$

وبما أن النسبة المئوية التي تمثل جملة المدخول الشهري هي 100%

فإن هذه العائلة تقتصد

$$\text{النسبة المئوية للمبلغ المقتصد: } 100\% - 82\% = 18\%$$

إذن فإن 72 - 18%

$$\text{المدخول الشهري بالدينار: } \frac{100 \times 72}{18} = 400 \text{ د}$$

وهكذا نستطيع أن نبحث عن المبلغ الذي يصرف للتغذية ذلك وهو: $\frac{35 \times 400}{100} = 140$ د

كما يمكنك البحث عن المبلغ الذي يصرف للملبس والأدوية ...

▪ أستعين بجدول التناسب

72 د	؟.....
.....	15%	12%	20%	35%

المسافة والسرعة والزمن

معدل السرعة - طول المسافة : الزمن

• مثال : قطعت سيارة مسافة 360 كم في 4 ساعات . ما معدل سرعتها؟

• الحل : معدل سرعتها - 360 : 4 = 90 كم / س

أما إذا كان الزمن بحساب الساعات والدقائق فيجب تحويله إلى الدقائق .
وعند ذلك فإننا نضرب المسافة $\times 60$ دق ثم نقسم على الزمن المحول إلى دقائق .

• مثال : قطع دراج مسافة 50 كم في 1 س و 45 دق . ما معدل سرعته؟

• الحل : 1 / تحويل الزمن إلى دقائق : 1 س و 40 دق - 100 دقيقة .

2 / معدل سرعته : $(60 \times 50) : 100 = 30$ كم / س

طول المسافة - معدل السرعة \times الزمن

• مثال : قطع سائق شاحنة المسافة الفاصلة بين مدينتين في 5 س .
ما هو طول هذه المسافة إذا علمت إذا علمت أنه يسير بسرعة معدلها 65 كم / س .

• الحل : طول المسافة - $5 \times 65 = 325$ كم .

أما إذا كان الزمن بحساب الساعات والدقائق فيجب تحويله إلى الدقائق أولاً ثم نضربه في معدل السرعة ونقسم على 60 .

• مثال : قطعت دراجة نارية مسافة بين مدينتين في 2 س و 15 دق . ما هو طول المسافة إذا علمت أن معدل سرعتها 42 كم / س

• الحل : 1 / تحويل الزمن إلى دقائق : 2 س و 15 دق - 135 دق

2 / طول المسافة - $(135 \times 40) : 60 = 90$ كم

الزمن - طول المسافة : معدل السرعة

• مثال : يسير دراج بسرعة معدلها 30 كم / س . ما هو الزمن الذي يقطع فيه مسافة 45 كم؟

• الحل : الزمن الذي يقطع فيه مسافة 45 كم هو : 45 : 30 = 1 س و 30 دق .


كما يمكن أن نضرب المسافة $\times 60$ دق ثم نقسم على معدل السرعة ويكون الزمن في هذه الحالة بحساب الدقائق :
(45 كم $\times 60$) : 30 = 90 دق - 1 س و 30 دق .

قواعد في الهندسة

القاعدة	المعطيات	المطلوب	المربع
طول الضلع $4 \times$	طول الضلع	المحيط ؟	
طول المحيط : 4	طول المحيط	الضلع ؟	
طول الضلع \times طول الضلع	طول الضلع	المساحة ؟	
القاعدة	المعطيات	المطلوب	المستطيل
$2 \times$ (الطول+العرض)	الطول و العرض	المحيط ؟	
المحيط : 2	المحيط	نصف المحيط ؟	
الطول + العرض	الطول و العرض	المساحة ؟	
الطول \times العرض	الطول و العرض	العرض ؟	
(المحيط : 2) - الطول	المحيط و الطول	الطول ؟	
(المحيط : 2) - العرض	المحيط و العرض	العرض ؟	
المساحة : الطول	المساحة و الطول	الطول ؟	
المساحة : العرض	المساحة و العرض	العرض ؟	
القاعدة	المعطيات	المطلوب	المثلث
مجموع الأضلاع	قيس الأضلاع	المحيط ؟	
(القاعدة \times الارتفاع) : 2	القاعدة و الارتفاع	المساحة ؟	
(المساحة $\times 2$) : الارتفاع	المساحة و الارتفاع	القاعدة ؟	
(المساحة $\times 2$) : القاعدة	المساحة و القاعدة	الارتفاع ؟	
القاعدة	المعطيات	المطلوب	الدائرة
طول الشعاع $2 \times$	طول الشعاع	القطر ؟	
طول القطر : 2	طول القطر	الشعاع ؟	
$\Pi \times$ طول القطر	طول القطر	المحيط ؟	
طول المحيط : Π	طول المحيط	القطر ؟	
شعاع \times شعاع $\times \Pi$	طول الشعاع	المساحة ؟	


ملاحظة: هذا الرمز Π يقرأ Pi وقيمته 3.14 أو $\frac{22}{7}$

المعین	المطلوب	المعطيات	القاعدة
	المحيط؟	طول الضلع	طول الضلع $\times 4$
	المساحة؟	الضلع والارتفاع	طول الضلع \times طول الارتفاع
	الضلع؟	المساحة والارتفاع	المساحة : طول الارتفاع
	الارتفاع؟	المساحة والضلع	المساحة : طول الضلع
	المساحة؟	القطر الكبير والصغير	القطر الكبير \times القطر الصغير : 2
	القطر الصغير	المساحة والقطر الكبير	(المساحة $\times 2$) : القطر الكبير
	القطر الكبير؟	المساحة / القطر الصغير	(المساحة $\times 2$) : القطر الصغير

متوازي الأضلاع	المطلوب	المعطيات	القاعدة
	المساحة؟	القاعدة والارتفاع	طول القاعدة \times طول الارتفاع
	الارتفاع؟	المساحة والقاعدة	المساحة : طول القاعدة
	القاعدة؟	المساحة والارتفاع	المساحة : طول الارتفاع

شبه المنحرف	المطلوب	المعطيات	القاعدة
	المساحة	مجموع القاعدتين والارتفاع	مجموع القاعدتين \times الارتفاع : 2
	مجموع القاعدتين	القاعدة الكبرى والقاعدة الصغرى	القاعدة الكبرى + القاعدة الصغرى
	الارتفاع؟	مجموع القاعدتين والمساحة	(المساحة $\times 2$) : مجموع القاعدتين
	مجموع القاعدتين	المساحة والارتفاع	(المساحة $\times 2$) : طول الارتفاع
	القاعدة الصغرى؟	المساحة والارتفاع والقاعدة الكبرى	(المساحة $\times 2$) : طول الارتفاع - القاعدة الكبرى
	القاعدة الكبرى؟	المساحة والارتفاع والقاعدة الصغرى	(المساحة $\times 2$) : طول الارتفاع - القاعدة الصغرى

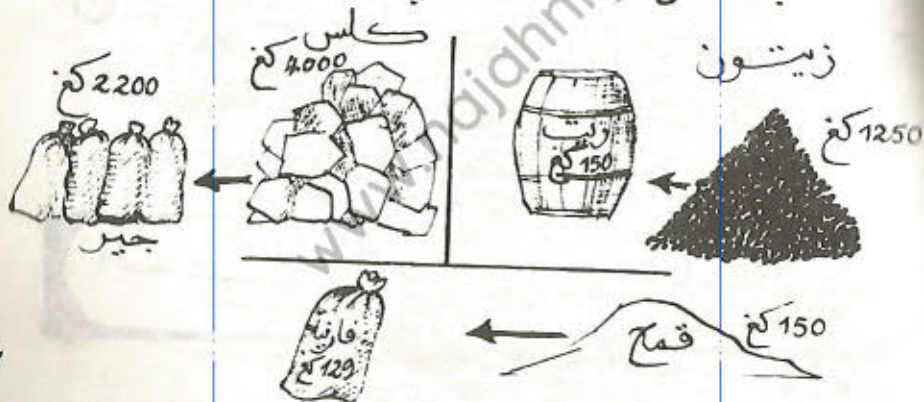
المكعب	المطلوب	المعطيات	القاعدة
	مساحة وجه؟	طول الضلع	طول الضلع \times طول الضلع
	مساحة القاعدتين	مساحة الوجه	مساحة الوجه $\times 2$
	المساحة الجانبية	مساحة وجه	مساحة وجه $\times 4$
	المساحة الجمليّة	مساحة وجه	مساحة وجه $\times 6$

متوازي المستطيلات	المطلوب	المعطيات	القاعدة
	محيط القاعدة؟	الطول والعرض	(طول + عرض) $\times 2$
	المساحة الجانبية	محيط القاعدة والارتفاع	محيط القاعدة \times الارتفاع
	المساحة الجمليّة؟	المساحة الجانبية ومساحة القاعدتين	المساحة الجانبية + مساحة القاعدتين

① اشترى بقال 300 كغ من التفاح بـ 180 كغ ما هي النسبة المئوية
للباعة؟ كم بقي له بحسب النسبة المئوية؟

180
300

② أبحث عن النسبة المئوية في كل حالة



③ ثَمَّنُ قِصَّةً 600 مِي. اشْتَرَيْتُهَا بِ400 مِي. مَا هِيَ نِسْبَةُ التَّخْفِيزِ
الْمَأْثُورِيَّةِ ؟

④ لِإِفْلَاحٍ حَقْلٌ طَوْلُهُ 372 م وَعَرْضُهُ 150 م حَرَّتَهُ قَمَحًا فَنُوقِعَ أَنَّ
يَنْبُغَ لَهُ الْهِكْمَارُ الْوَاحِدُ 35 ق. لَكِنْ إِثْرًا عَصَارٍ عَنِيفٍ لَمْ يَحْتَصِلْ إِلَّا
عَنْ 18, 117 ق. مَا هِيَ النِّسْبَةُ الْمَأْثُورِيَّةُ لِلْحَسَارَةِ ؟

⑤ اشْتَرَيْتُ سَيِّدَةً قَمِيصَيْنِ بِ 12 الْوَاحِدِ وَ 6 م مِنَ الْقَمَاشِ بِ 250
الْمِثْرِ وَ 5 مِئْشَفَاتٍ بِ 1,250 الْوَاحِدَةِ، فَمَتَّعْتُ بِتَخْفِيزٍ قَدْرُهُ 3,190.
أَحْسَبُ النِّسْبَةَ الْمَأْثُورِيَّةَ لِهَذَا التَّخْفِيزِ ؟

⑥ بِمَدْرَسَةٍ نَحَى 75% مِنَ الْمُرْتَبِحِينَ وَرَسَبَ 29 تَلْمِيذًا. كَمْ عَدَدُ
الْمُرْتَبِحِينَ ؟ بِمَدْرَسَةٍ أُخْرَى كَانَ عَدَدُ الْمُرْتَبِحِينَ 70 نَحَى 42 تَلْمِيذًا.
مَا هِيَ النِّسْبَةُ الْمَأْثُورِيَّةُ لِلتَّلَامِيحِينَ ؟ لِلرَّاسِبِينَ ؟

⑦ حَقْلٌ مُسْتَطِيلٌ الشَّكْلُ مُحِيطُهُ 400 م وَعَرْضُهُ $\frac{1}{3}$ طَوْلِهِ.
اشْتَرَيْتُ بِ 15 الْمِثْرِ الْمُرَبَّعَ ثُمَّ بَيْعَهُ بِ 1740 الْأَكْر.
مَا هِيَ نِسْبَةُ الرَّبْحِ الْمَأْثُورِيَّةِ ؟

ضرب عدد عشري في عدد عشري تمارين امتياز

التمرين الأول

امتياز 1

ذهب مواطن إلى السوق فاشترى 30 بيضة بحساب 0,380 د " الحارة " و 1,5 كغ من السمك بـ 8 د الكغ الواحد وزينا بـ 3,500 د وبقي ينقصه 0,350 لشراء $\frac{1}{2}$ كغ من الشاي بـ 7,600 د الكغ.

1- ما هو المبلغ الذي يملكه المواطن؟

2- كم كان يبقى له لو كان ثمن " الحارة " من البيض 0,320 د؟

التمرين الثاني

امتياز 2

باعت فلاح 4,500 كغ من الزبدة بـ 8,500 د الكغ الواحد و 6 أرانب بـ 7,500 د الأرنب الواحد.

1- ما هو المبلغ المتحصل عليه؟

2- شرت بدلة لإبنها بـ 63,500 د و 4 فوانيس كهربائية بـ 1,250 د الفانوس. ابحث عن المبلغ المتبقي لها علما وأنها كانت تملك 25 د.

التمرين الثالث

امتياز 3

أصدر تلاميذ مدرسة 500 نسخة من مجلتهم. وقع إهداء 50 نسخة وبيع الباقي بحساب 0,750 د النسخة.

1- ما هو الربح الجملي الذي تحصلوا عليه إذا علمت أن المصاريف تقدر بـ 0,280 د للنسخة الواحدة؟

2- قرّر فرع منظمة التربية والأسرة التابع للمدرسة تشجيع التلاميذ فنظم لهم رحلة دراسية إلى إحدى المدن التونسية شارك فيها 45 تلميذا. بلغت تكاليف كراء الحافلة 511,500 د. دفع صندوق الفرع المربح المتأتمنة من المجلة المدرسية وتم إعفاء 5 تلاميذ معوزين من معلوم الرحلة.

- ما هو مقدار مساهمة كل تلميذ؟

التمرين الرابع

امتياز 4

يملك فلاح ضيع مغروسة شجر زيتون على النحو التالي:

عدد الأشجار بالصف الواحد 90

عدد الصفوف 40

تحصل هذا الفلاح على 432 ط من الزيتون. ما هو بالقنطار معدل إنتاج الشجرة الواحدة؟

وجد الفلاح نفسه أمام اختيارين:

الاختيار الأول: يبيع صابته زيتونا بـ 0,650 د الكغ الواحد.

الاختيار الثاني: يبيع صابته زيتا بـ 2,800 د الكغ مع العلم أن الزيتون يعطي $\frac{1}{4}$ كتلته زيتا وأن مصاريف العصر والنقل تبلغ 4900 د.

أي الاختارين أنسب للفلاح؟ علل جوابك.

المادة رياضيات الثلاثي الثاني	ضرب عدد عشري في عدد عشري إصلاح تمارين امتياز	المدرسة زاوية الحرث السنة السادسة
إصلاح امتياز 1		
المبلغ الذي يملكه بالد $19,800 = 0,350 - 20,150$	1- ثمن البيضة الواحدة بالد $0,95 = 4 : 0,380$	ثمن البيض بالد $2,850 = 30 \times 0,095$
2- ثمن البيضة الواحدة بالد $0,080 = 4 : 0,320$	ثمن السمك بالد $12 = 8 \times 1,5$	ثمن الشاي بالد $1,800 = 2 : 3,600$
ثمن البيض بالد $2,400 = 30 \times 0,080$	مقدار الانخفاض بالد $0,400 = 2,400 - 2,800$	ثمن المشتريات بالد $20,150 = 3,500 + 1,800 + 12 + 2,850$
المبلغ الباقي بالد $0,050 = 0,350 - 0,400$		

إصلاح امتياز 2		
ثمن الفوانيس بالد $5 = 1,250 \times 4$	ثمن بيع الزبدة بالد $38,250 = 8,500 \times 4,500$	ثمن بيع الأرناب بالد $45 = 6 \times 7,500$
ثمن المشتريات بالد $68,500 = 63,500 + 5$	المبلغ المتحصل عليه بالد $83,250 = 38,250 + 45$	
المبلغ الباقي بالد $39,750 = 25 + (68,500 - 83,250)$		

إصلاح امتياز 3		
الربح الجملي بالد $197,500 = 140 - 337,500$	1- عدد النسخ المباعة $450 = 500 - 500$	ثمن بيع المجلات بالد $337,500 = 0,750 \times 450$
2- مقدار مساهمة التلاميذ بالد $314 = 197,500 - 511,500$	جملة المصاريف بالد $140 = 500 \times 0,280$	
مقدار مساهمة التلميذ الواحد بالد $7,850 = 40 : 314$		

إصلاح امتياز 4		
الاختيار الثاني: كتلة الزيت بالكغ $108\ 000 = 4 : 432\ 000$	عدد الأشجار $3\ 600 = 40 \times 90$	التحويل 432 ط = 4 320 ق معدل إنتاج الشجرة الواحدة بالفنطار $1,2 = 3\ 600 : 4\ 320$
ثمن بيع الزيت بالد $302\ 400 = 2,800 \times 108\ 000$	الدخل الصافي بالد	الاختيار الأول:

$$297\,500 = 4\,900 - 302\,400$$

الاختيار الثاني أنسب لأنَّ

$$297\,500 > 280\,800$$

التحويل ط 432 000 = كغ

ثمن بيع الصابنة بالد

$$280\,800 = 0,650 \times 432\,000$$

مفتاح

www.najahni.tn

ضرب عدد عشري في عدد عشري

علاج 1

التمرين الأول

نظمت مدرسة رحلة شارك فيها 114 تلميذا دفع الواحد 5,750 د.

- 1- احسب مقدار مساهمة التلاميذ.
- 2- اكتبى المدير حافلة مقابل 0,780 د الكم الواحد. احسب معلوم كراء الحافلة علما أن المدينة المقصودة تبعد 175,5 كم.
- 3- احسب المبلغ الباقي بعد كراء الحافلة.

علاج 2

التمرين الثاني

اشترى فلاح قطعة أرض مستطيلة الشكل أبعادها بالمتر 175,8 و 65,5

- 1- احسب مساحة الأرض بالم².
- 2- احسب ثمن شراء الأرض بالـ إذا علمت أن ثمن شراء المتر المربع الواحد قدر بـ 3,450 د.

علاج 3

التمرين الثالث

باع فلاح منتوجه من المشمش خلال اسبوع كما يلي:

اليوم	1	2	3	4	5	6	7
الكمية بالكغ	75	36	17	32.5	25.8	16.25	42
ثمن الكغ بالـ	0,625	0,940	1,020	0,920	0,750	1,200	0,775
الثمن الجملي بالـ

- 1- أكمل تعمير الجدول.
- 2- ما هو ثمن بيع الصابنة؟

علاج 4

التمرين الرابع

خلال إحدى السنوات كان إنتاج الحديقة المدرسية كما يلي:

- 172.5 كغ من البطاطا بيعت بـ 0,550 د الكغ الواحد.
- 12,8 كغ من العسل بيع بـ 12,250 د الكغ الواحد.
- 1- احسب ثمن بيع المنتج بالـ.
- 2- سدد التلاميذ معلوم الأشغال البالغ 12,750 د واشتروا 124 قصة بـ 1,250 د الواحدة وأودعوا الباقي بصندوق الجمعية. احسب المبلغ المودع بالصندوق.

الأولمبياد في الرياضيات

اختبار عدد 2

المدة = ساعتان

الوضعية رقم 1

عدد ذو خمسة أرقام يحقق ما يلي : رقم مئاته يساوي مجموع رقمي عشراته وعشرات آلافه ، رقم أحاده ضعف رقم عشراته ، عدد آلافه 31 ، باقي قسمته على 5 يساوي 3 .

الوضعية رقم 2

تأمل الانتظام التالي ثم عمّر الفراغات في ما يلي :

.....	945	105	15	3	1
-------	-------	-----	-----	----	---	---

الوضعية رقم 3

عددان الفرق بينهما 538 ، لو قسمت أحدهما على الآخر لكان خارج القسمة 13 والباقي 22 .
أوجد هذين العددين .

الوضعية رقم 4

بإمكان الحنفية " أ " أن تملأ الحوض في 3 ساعات ، أما الحنفية " ب " فتملؤه في 5 ساعات . لو أردنا ملء الحوض باستعمال الحنفيتين معاً ، فكم سنقضيان من وقت ؟

الوضعية رقم 5

ضيعة مستطيلة الشكل يقيس عرضها $3/5$ طولها ، والفارق بين بعديها 60 متراً . اشتراها صاحبها بـ 298 د الأار الواحد . بعد تغطية مصاريف نقل الملكية والتسجيل ، بلغت الكلفة الجمالية لشراء هذه القطعة 42844,950 د .

(1) إبحث عن النسبة المئوية لمصاريف نقل الملكية والتسجيل بالنسبة لثمن شرائها .
خصّص صاحب الضيعة أقلّ من نصف مساحتها بـ 9 آر للمرعى و $5/3$ ما تبقى من الضيعة لزراعة الفول والباقي النهائي من الأرض لزراعة الحمص .

(2) إذا علمت أنّه وقع تقسيم الأرض حسب خطوط موازية للعرض ، فما هو عرض كلّ قطعة من القطع الثلاثة حسب تصميم سلّمه $1000 / 1$.

أولمبياد الحاج علي صوة للرياضيات : 2004 / 2005 - قصر هلال - المنستير

$$40230 = 135 \times 298 = \text{ثمن شراء الضيعة بالمد} \\ = \text{مصاريف نقل الملكية والتسجيل بالمد}$$

$$2614,950 = 40230 - 42844,950$$

النسبة المئوية لمصاريف نقل الملكية والتسجيل بالنسبة إلى ثمن الشراء =

$$\% 6,5 = \frac{100 \times 2614,950}{40230}$$

(2)

قيس المساحة المخصصة للمرعى بالم²

$$5850 = 900 - (2 : 13500)$$

قيس المساحة المتبقية بالم²

$$7650 = 5850 - 13500$$

$$4590 = \frac{3 \times 7650}{5} \quad \text{قيس المساحة المخصصة} \\ \text{لزراعة الفول بالم}^2 =$$

قيس المساحة المخصصة لزراعة الحمص بالم²

$$3060 = (4590 + 5850) - 13500$$

قيس طول القطعة من الضيعة المخصصة

$$65 = 90 : 5850 = \text{للمرعى بالم}$$

قيسها على التصميم =

$$65 \text{ م} : 1000 = 6500 \text{ صم} : 1000 = 6,5 \text{ صم}$$

قيس طول القطعة من الضيعة المخصصة

$$51 = 90 : 4590 = \text{لزراعة الفول بالم}$$

قيسها على التصميم =

$$51 \text{ م} : 1000 = 5100 \text{ صم} : 1000 = 5,1 \text{ صم}$$

قيس طول القطعة من الضيعة المخصصة

$$34 = 90 : 3060 = \text{لزراعة الفول بالم}$$

قيسها على التصميم =

$$34 \text{ م} : 1000 = 3400 \text{ صم} : 1000 = 3,4 \text{ صم}$$

قيس عرض الضيعة على التصميم =

$$90 \text{ م} : 1000 = 9000 \text{ صم} : 1000 = 9 \text{ صم}$$

الرسم على التصميم

3,4 صم

5,1 صم

6,5 صم

9 صم		

الوضعية رقم 1

العدد هو 31 748

- الانطلاق بكتابة عدد آلافه 31

- كتابة رقم أحاده انطلاقاً من باقي قسمة العدد على 5 يساوي 3 ،
إما أن يكون رقم الأحاد 3 أو 8 ، وبما أن رقم الأحاد ضعف رقم

العشرات ، فيكون رقم الأحاد 8 ورقم العشرات 4

- كتابة رقم المئات الذي يساوي مجموع رقمي العشرات
وعشرات الآلاف أي $3 + 4 = 7$ فيكون رقم المئات 7

الوضعية رقم 2

135135	10395	945	105	15	3	1
--------	-------	-----	-----	----	---	---

يتمثل انتظام الأعداد في ضرب العدد في الأعداد الفردية بالترتيب

(1 ، 3 ، 5 ، 7 ، 9 ، 11 ، 13 ،) بدءاً بـ :

($1 = 1 \times 1$) ، ($3 = 3 \times 1$) ، ($15 = 5 \times 3$) ،

($105 = 7 \times 15$) ($945 = 9 \times 105$)

($10395 = 11 \times 945$) ، ($135135 = 13 \times 10395$)

الوضعية رقم 3

• أ - ب = 538 إذا أ + 538 = ب ، ب = أ - 538

• أ = ب + 22

• أ = 22 + 13 × (أ - 538)

• أ = 22 + (13 × 538) - (13 × أ)

• أ = 22 + 6994 - 12 × أ

• أ × 12 = 6972 إذا أ = 6972 : 12 = 581

• ب = 538 - 581 = 43

الوضعية رقم 4

* ما تملؤه الحنفية " أ " في ساعة واحدة : $3/1$ ساعة الحوض

* ما تملؤه الحنفية " ب " في ساعة واحدة : $5/1$ ساعة الحوض

* ما تملؤه الحنفتان معاً في ساعة واحدة

$$\frac{8}{15} = \frac{3}{15} + \frac{5}{15} = \frac{1}{5} + \frac{1}{3}$$

الوقت المقضى من الحنفتين معاً لملء الحوض ($15/15$)

$15 : 8 = 1 \text{ س و } 52 \text{ دق و } 30 \text{ ث}$

الوضعية رقم 5

(1)

ط - ع = 60 م ط = ع + 60 م

ع = $5/3 \times$ ط

ع = $5/3 \times (ع + 60 \text{ م})$

ع = $36 + ع \times 5/3$

$36 = ع \times (5/3 - 5/5)$

$36 = ع \times 5/2$

إذاً قيس العرض = 90 م

قيس الطول = 150 م

قيس مساحة الضيعة = $150 \text{ م} \times 90 \text{ م} = 13500 \text{ م}^2 = 135 \text{ آر}$

الأولمبياد في الرياضيات

اختبار عدد 3

المدة = ساعتان

الوضعية رقم 1

إبحث عن المقسوم في قسمة أقليدية ، إذا علمت أن القاسم يساوي 5 وأن الباقي يساوي خارج القسمة .
أعط جميع الحلول .

الوضعية رقم 2

إشترت جهاز راديو بـ 21,600 د وقد ذكر التاجر أنه ربح 12,5 % فقط .
فبكم اشتراه من المعمل ؟

الوضعية رقم 3

إنطلق حلزون يوم الأحد على الساعة السادسة صباحا يتسلق عمود كهرباء ارتفاعه 11 م ، لاحظنا صباحا أنه تسلق 5 م طيلة النهار أي من السادسة صباحا إلى السادسة مساء ، ولكنه في الليل من السادسة مساء إلى السادسة صباحا ينزل 2 م .
إبحث عن زمن وصول الحلزون إلى أعلى العمود .

الوضعية رقم 4

واصل تعميم تربيعات الجدول ليكون سحريا (مجموع الأعداد في كل سطر وفي كل عمود وفي كل قطر يساوي 65) الأعداد من 1 إلى 25

1	19			13
22		3		9
		24		5
14	2		8	
		11	4	17

الوضعية رقم 5

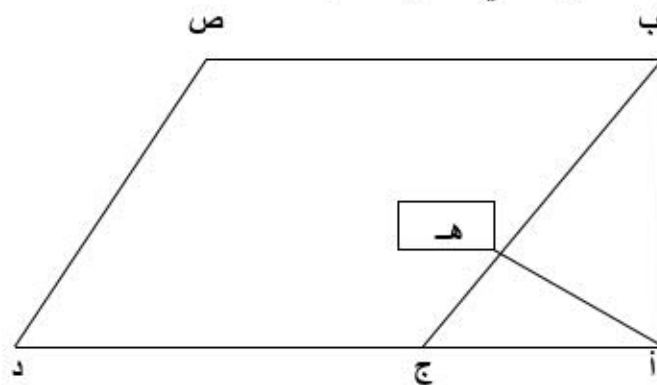
في أي عدد صحيح يجب أن تضرب العدد 13 حتى تحصل على عدد صحيح كل رقم من أرقامه 1

الوضعية رقم 6

يملك مواطن قطعة أرض في شكل مثلث قائم الزاوية (أ ب ج) (أنظر المثال المصاحب) ، وأراد أن يشتري القطعة المجاورة (ب ج د ص) وهي في شكل معين وذلك بحساب 33,750 د المتر المربع الواحد

(1) ما هو ثمن شراء المعين (ب ج د ص) ؟

(2) أودع البائع كامل المبلغ المتحصل عليه في البنك مدة سنة ، تحصل على إثرها على فائض قدره 1984,500 د . ما هي النسبة المئوية التي منحها له البنك ؟



أ ه = 6,72 صم

أ ج = 8,4 صم

أ ب = 11,2 صم

السلم = 1 / 250

www.najahni.tn

الأولمبياد في الرياضيات

اختبار عدد 3

المدة = ساعتان

الوضعية رقم 1

إبحث عن المقسوم في قسمة أقليدية ، إذا علمت أن القاسم يساوي 5 وأن الباقي يساوي خارج القسمة . أعط جميع الحلول .

الوضعية رقم 2

إشترت جهاز راديو بـ 21,600 د وقد ذكر التاجر أنه ربح 12,5 % فقط . فبكم اشتراه من المعمل ؟

الوضعية رقم 3

انطلق حلزون يوم الأحد على الساعة السادسة صباحا يتسلق عمود كهرباء ارتفاعه 11 م ، لاحظنا صباحا أنه تسلق 5 م طيلة النهار أي من السادسة صباحا إلى السادسة مساء ، ولكنه في الليل من السادسة مساء إلى السادسة صباحا ينزل 2 م .
ابحث عن زمن وصول الحلزون إلى أعلى العمود .

الوضعية رقم 4

واصل تعميم تربيعات الجدول ليكون سحريا (مجموع الأعداد في كل سطر وفي كل عمود وفي كل قطر يساوي 65) الأعداد من 1 إلى 25

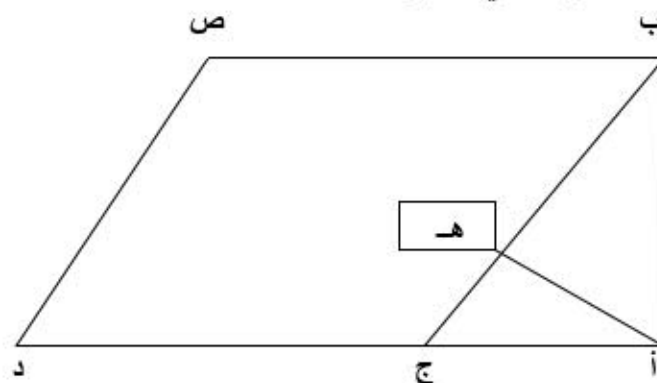
1	19			13
22		3		9
		24		5
14	2		8	
		11	4	17

الوضعية رقم 5

في أي عدد صحيح يجب أن تضرب العدد 13 حتى تحصل على عدد صحيح كل رقم من أرقامه 1

الوضعية رقم 6

يملك مواطن قطعة أرض في شكل مثلث قائم الزاوية (أ ب ج) (أنظر المثال المصاحب) ، وأراد أن يشتري القطعة المجاورة (ب ج د ص) وهي في شكل معين وذلك بحساب 33,750 د المتر المربع الواحد (1) ما هو ثمن شراء المعين (ب ج د ص) ؟
(2) أودع البائع كامل المبلغ المتحصل عليه في البنك مدة سنة ، تحصل على إثرها على فائض قدره 1984,500 د . ما هي النسبة المئوية التي منحها له البنك ؟



السلم = 250 / 1 أ ب = 11,2 صم أ ج = 8,4 صم أ هـ = 6,72 صم

أولمبياد الحاج علي صوة للرياضيات : 2006 / 2005 - قصر هلال - المنستير

الوضعية رقم 1

في قسمة أفليدية القاسم فيها 5 إذا البواقي الممكنة 0 أو 1 أو 2 أو 3 أو 4 ، وبما أن في هذه الوضعية خارج القسمة مساو للباقي فالقيم الممكنة للمقسوم هي : م = ق × خ + ب

$$\begin{aligned} 24 &= 4 + 4 \times 5 \\ 18 &= 3 + 3 \times 5 \\ 12 &= 2 + 2 \times 5 \\ 6 &= 1 + 1 \times 5 \end{aligned}$$

الوضعية رقم 2

النسبة المئوية لثمن بيع الراديو =

$$100\% + 12,5\% = 112,5\%$$

$$19,200 = \frac{100 \times 21,600}{112,5} = \text{ثمن شراء الراديو من المعمل بالبد}$$

الوضعية رقم 3

المسافة التي يتسلفها الحزرون في اليوم بالمد = 5 - 2 = 3
عدد الأيام التي تتطلب من الحزرون لتسلق العمود = 11 : 3 = 3
والباقى 2 م يتسلفها في اليوم الرابع
المدة الزمنية لتسلق 2 م =

(12 س : 5) × 2 = 4 س و 48 دق
ساعة الوصول بعد تسلق 2 م =
6 س + 4 س و 48 دق = 10 س و 48 دق
زمن وصول الحزرون إلى أعلى العمود سيكون يوم الأربعاء على الساعة 10 و 48 دق صباحا

الوضعية رقم 4

1	19	7	25	13
22	15	3	16	9
18	6	24	12	5
14	2	20	8	21
10	23	11	4	17

الوضعية رقم 5

البحث عن عدد يكون مضاعفا لـ 13 ويكون كل رقم من أرقامه 1
هذا المضاعف هو 111 111
إذ العدد المطلوب هو 111 111 : 13 = 8547

الوضعية رقم 6

(1) الأبعاد الحقيقية لـ :

$$\begin{aligned} - [أ ب] : 11,2 \text{ صم} \times 250 = 2800 \text{ صم} = 28 \text{ م} \\ - [أ ج] : 8,4 \text{ صم} \times 250 = 2100 \text{ صم} = 21 \text{ م} \\ - [أ هـ] : 6,72 \text{ صم} \times 250 = 1680 \text{ صم} = 16,8 \text{ م} \end{aligned}$$

$$294 = \frac{21 \times 28}{2} = \text{قيس مساحة المثلث بالمد}^2$$

$$35 = \frac{2 \times 294}{16,8} = \text{قيس الضلع [ب ج] بالمد}$$

$$\begin{aligned} 980 = 28 \times 35 = \text{قيس مساحة المعين بالمد}^2 \\ = \text{ثمن شراء قطعة الأرض معينة الشكل بالبد} \\ 33075 = 980 \times 33,750 \end{aligned}$$

(2)

$$6\% = \frac{100 \times 1984,5}{33075} = \text{النسبة المئوية للفائض التي منحها البنك}$$

الأولمبياد في الرياضيات

اختبار عدد 4

المدة = ساعتان

الوضعية رقم 1

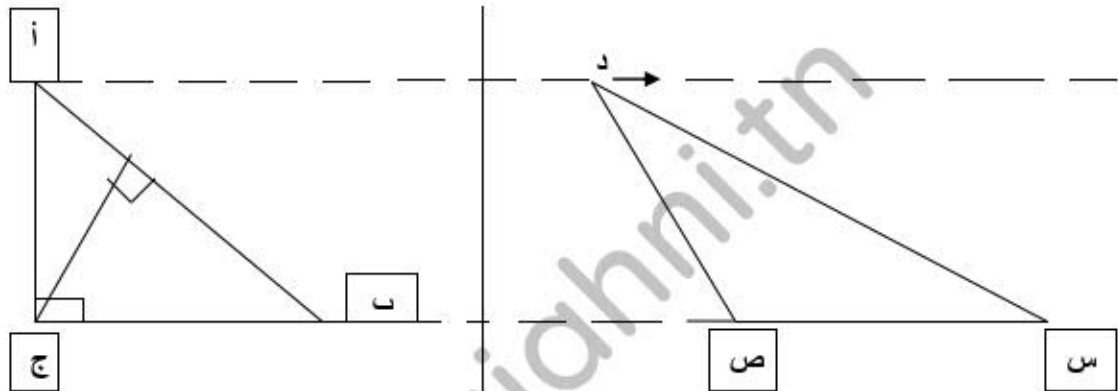
أ - رتب الأعداد التالية تصاعدياً دون المساس بالمقامات

$$0,3 * \sqrt{\frac{3}{7}} * \sqrt{\frac{17}{2}} * \sqrt{\frac{16}{5}} * \sqrt{\frac{11}{8}} * \sqrt{\frac{4}{7}}$$

الوضعية رقم 2

أراد تلميذ أن يضرب عدداً في 60 ، فضربه في 6 ونسي أن يضيف الصفر على يمين الناتج ، قال له المعلم : " إن الفرق بين الجداء الصحيح والناتج الذي تحصلت عليه هو 40662 . " هل عرفت العدد الأول الذي أراد التلميذ ضربه في 60 ؟

الوضعية رقم 3



إعلم أن قيس مساحة المثلث (س ص د) يساوي 15 صم² وأن س ص = ب ج = 6 صم وأن الارتفاع الموافق للقاعدة [أ ب] يقيس 4 صم .
إبحث عن قيس محيط المثلث (أ ب ج) ؟

الوضعية رقم 4

لبناء مسكن ، شري مواطن قطعة أرض مستطيلة الشكل محيطها 61 م ، يفوق قيس عرضها ثلثي طولها بنصف متر .
احسب قيس مساحة القطعة بحساب الأرو .

الوضعية رقم 5

باع كتيبي في مفتتح السنة الدراسية 7 / 4 كتبه بـ 2,375 د الكتاب الواحد محققاً بذلك ربحاً قيمته 25 % من ثمن الشراء . وبعد أيام ، باع كمية الكتب المتبقية بربح قدره 380 مي عن الكتاب الواحد ، فقبض 239,400 د . احسب المبلغ الجملي الذي دفعه الكتيبي مقابل شراء كل الكتب .

الوضعية رقم 6

باع فلاح عجلاً محققاً ربحاً نسبته 15 % من ثمن شرائه . وقبل عودته إلى القرية ، أنفق هذا الرجل ما ربحه من بيع العجل كما يلي :

- صرف خمسي مقدار الربح في شراء العلف .
- شري شعيراً يفوق ثمنه 7 / 4 باقي الربح بـ 23 د .

احسب ثمن شراء العجل علماً وأن الباقي النهائي من مقدار الربح حدّد بـ 31 د .

أولمبياد الحاج علي صوة للرياضيات : 2006 / 2007 - قصر هلال - المنستير

قواعد في الرياضيات

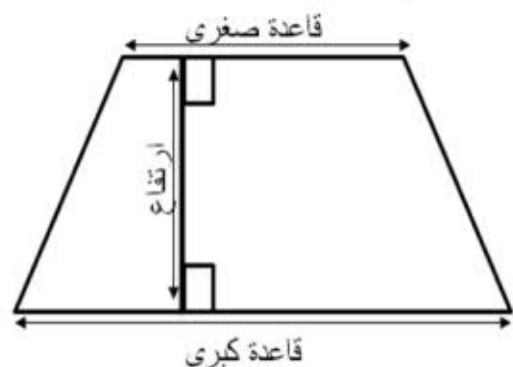
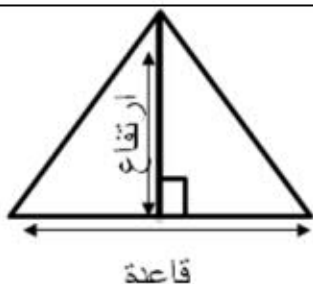
			كم	هم	دكم	م	دسم	صم	مم	الأطوال
	ق	ط	كغ	هغ	دكغ	غ	دسغ	صغ	مغ	الكتل
				هل	دكل	ل	دسل	صل	مل	السعات
			كم ²	هم ²	دكم ²	م ²	دسم ²	صم ²	مم ²	المساحة
				ها	أر	صأ				

$$1 \text{ كم} = 10 \text{ هم} = 100 \text{ دكم} = 1000 \text{ م} = 10\,000 \text{ دسم} = 100\,000 \text{ صم} = 1\,000\,000 \text{ مم}$$

$$1 \text{ م}^2 = 100 \text{ دسم}^2 / 1 \text{ ها} = 10\,000 \text{ صأ} / 1 \text{ كم}^2 = 1\,000\,000 \text{ دسم}^2$$

المعين	متوازي الأضلاع	المستطيل	المربع
ضلع $\times 4$	مجموع الأضلاع	(طول + عرض) $\times 2$	ضلع $\times 4$
ضلع \times ارتفاع	قاعدة \times ارتفاع	طول \times عرض	ضلع \times ضلع
$\frac{\text{قطر كبير} \times \text{قطر صغير}}{2}$			

<p>شبه المنحرف هو رباعي له ضلعان فقط متوازيان</p> <p>الارتفاع في شبه المنحرف: هو البعد بين القاعدتين ويكون عموديا عليهما</p> <p>الارتفاع في المثلث: هو البعد بين رأس زاوية والضلع المقابل لها ويكون عموديا على القاعدة.</p>	المثلث	شبه المنحرف	
	$\frac{\text{قاعدة} \times \text{ارتفاع}}{2}$	$\frac{(\text{قاعدة صغيرة} + \text{قاعدة كبرى}) \times \text{ارتفاع}}{2}$	المساحة
	$\frac{\text{المساحة} \times 2}{\text{القاعدة}}$	$\frac{\text{المساحة} \times 2}{(\text{قاعدة صغيرة} + \text{قاعدة كبرى})}$	الارتفاع
	$\frac{\text{المساحة} \times 2}{\text{الارتفاع}}$		القاعدة
		$\frac{\text{المساحة} \times 2}{\text{الارتفاع}} - \text{القاعدة الكبرى}$	القاعدة الصغيرة
		$\frac{\text{المساحة} \times 2}{\text{الارتفاع}} - \text{القاعدة الصغيرة}$	القاعدة الكبرى





الدائرة والقرص الدائري			
القطر	الشعاع	المحيط	المساحة
شعاع $\times 2$	القطر : 2	قَطْر $\times 3,14$	شعاع \times شعاع $\times 3,14$

حساب عددين أو أكثر مجموعهما والفرق بينهما معلوم:

مثال: كتابان ثمنهما 8400 مي، ما ثمن كل كتاب إذا كان ثمن الأول يفوق ثمن الثاني بـ 3000 مي؟

ثمن الكتاب الأول ←

ثمن الكتاب الثاني ←

الحل الأول: طرح الفرق والقسمة على 2 لنجد العدد الأصغر: $(3000 - 8400) : 2 = 2700 =$ ثمن الكتاب الثاني

ولنجد ثمن الكتاب الأول نزيده الفرق: $5700 = 3000 + 2700$

الحل الثاني: زيادة الفرق والقسمة على 2 لنجد العدد الأكبر: $(3000 + 8400) : 2 = 5700 =$ ثمن الكتاب الأول

ولنجد ثمن الكتاب الثاني نطرح الفرق: $2700 = 3000 - 5700$

الإعداد الكسرية :

جمع وطرح ومقارنة:

$$\frac{25}{28} = \frac{4}{28} + \frac{21}{28} = \frac{4 \times 1}{4 \times 7} + \frac{7 \times 3}{7 \times 4} = \frac{1}{7} + \frac{3}{4} \quad / \quad \frac{6}{9} = \frac{5}{9} + \frac{1}{9}$$

لجمع أو طرح أعداد كسرية يجب توحيد المقامات ثم نجمع البسوط ونحتفظ بالمقامات لمقارنة عددين كسريين نوحّد المقامات أو البسوط:

$$\frac{9}{11} > \frac{5}{11} \quad \text{عدنان كسريان لهما نفس المقام أكبرهما ما كان بسطه أكبر}$$

$$\frac{3}{4} > \frac{3}{7} \quad \text{عدنان كسريان لهما نفس البسط أكبرهما ما كان مقامه أصغر}$$

ضرب وقسمة :

مثال: عرض المستطيل = 6 صم والطول يمثل $\frac{5}{3}$ العرض

كيف نجد الطول؟ نضرب العرض في البسط ونقسم على المقام: $10 = \frac{5 \times 6}{3}$

مثال2: قدر مقدار الزكاة بـ 7 ق وهو ما يعادل $\frac{1}{10}$ الصّابة، ما كتلة صابة القمح؟

نضرب مقدار الزكاة في مقلوب الكسر: $70 = \frac{10 \times 7}{1}$



معدل السرعة والمسافة والزمن :

$$\frac{\text{المسافة}}{\text{معدل السرعة}} = \frac{\text{المسافة}}{\text{الزمن}} \quad / \quad \text{المسافة} = \text{معدل السرعة} \times \text{الزمن} \quad / \quad \text{الزمن}$$

مثال: المسافة 180 كم، الزمن 2 س: 180 : 2 = 90 كم/س

النسبة المئوية:

المثال الأول: أراد أخي أن يشتري دراجة ثمنها 80 د ، فمنحه البائع تخفيضا نسبته 12% . السؤال: كم قيمة التخفيض ؟
 قيمة التخفيض بالدينار $9.600 = \frac{12 \times 80}{100}$
 المثال الثاني :

أراد أخي أن يشتري دراجة ، فدفع 70.400 بعد أن خفض له البائع 12% من ثمنها الأصلي .
 السؤال 1 : ما هو الثمن الأصلي للدراجة ؟ السؤال 2 : ما هي قيمة التخفيض ؟

الحل

الثمن الأصلي كما هو معروف يتمثل في نسبة 100% وبما أن أخي تمتع بتخفيض نسبته 12% فلن يدفع سوى 88% (100% - 12% = 88%)
 وللتعرف على قيمته : بما أن 88% قيمتها 70.400 د فإننا نقسم هذا العدد د على 88 لنعرف قيمة 1% ثم نضرب في 100%

$$\begin{aligned} & \bullet \text{ الثمن الأصلي للدراجة بالدينار بالدينار :} \\ & \bullet \text{ } 80 = \frac{100 \times 70.400}{88} \text{ وتكتب } (100 \times 70.400) : 88 \end{aligned}$$

المثال الثالث:

▪ تنفق عائلة شهريا 35% من مدخولها للتغذية و 20% للملبس و 12% للأدوية و 15% لمصاريف أخرى و تقتصد 72. ما هو مدخولها الشهري ؟

الحل

للبحث عن المدخول الشهري يجب أن نعرف النسبة المئوية للمصاريف

▪ النسبة المئوية للمصاريف : $35\% + 20\% + 12\% + 15\% = 82\%$
 و بما أن النسبة المئوية التي تمثل جملة المدخول الشهري هي 100% فإن هذه العائلة تقتصد بالنسبة المئوية :

▪ النسبة المئوية للمبلغ المقتصد : $100\% - 82\% = 18\%$
 إذن فإن $72 = 18\%$

$$\bullet \text{ المدخول الشهري بالدينار : } 400 = \frac{100 \times 72}{18}$$

و هكذا نستطيع أن نبحث عن المبلغ الذي يصرف للتغذية و هو : $140 = \frac{35 \times 400}{100}$

مسائل إدماجية

المسألة عدد 1 - يتقاضى مواطن مرتباً شهرياً يبلغ 480 د ، يدخر منه نسبة 25 % . بعد 3 أشهر ، اشترى تلفازاً بالألوان ودفع كامل المبلغ المدخر الذي يمثل $\frac{9}{4}$ (أربعة أضعاف) ثمن التلفاز .

- 1 (ابحث عن ثمن التلفاز .
- 2 (أضيف إلى المبلغ المتبقي من ثمن التلفاز نسبة فائض قُدرت بـ 5 % منه مقابل البيع بالتقسيط .
أ - كم يلزمه من شهر يدخر بنفس الطريقة ليدفع باقي ثمن التلفاز ؟
ب - ما هي قيمة القسط الأخير ؟
ج - ما هو ثمن كلفة التلفاز ؟

المسألة عدد 2 - انطلق سائق بشاحنته في الساعة 8 و 25 دق بعد أن ملأ خزّانها وقوداً وقرأ في عدادها 45897 . توقّف هذا السائق للاستراحة في الساعة 12 و 10 دق وقرأ في العداد من جديد فوجده 46104 .

- 1 (ما هو معدل سرعة الشاحنة إذا كان السائق قد توقف مدة 25 دق لإصلاح عطب ؟
- 2 (واصل السائق رحلته في الساعة الواحدة و 30 دق بعد الزوال وملأ الخزان من جديد بإضافة 18 ل من الوقود . ما هو معدل استهلاك الشاحنة من الوقود كل 100 كم ؟
- 3 (ما هو معدل السرعة الذي يجب أن يعتمد السائق ليصل في الساعة 16 إذا بقي له أن يقطع مسافة 180 كم .

المسألة عدد 3 - زرع فلاح ثلث أرضه مستطيلة الشكل قمحا ورُبّعها شعيراً وترك المساحة المتبقية للمرعى والتي قيسها بالها 1,25 .

- 1 (ابحث عن قيس مساحة هذه الأرض .
- 2 (مُثلت هذه الأرض على تصميم وفق السلم $\frac{1000}{1}$ حيث كان أحد بُعديها 20 صم . ابحث عن بعدها الآخر .
- 3 (أراد صاحب هذه الأرض إحاطتها بسياج من الأسلاك الشائكة فاشترى 3 لفافات بـ 136,500 د الواحدة . إذا علمت أن كلفة اليد العاملة قُدرت بـ 20 % من ثمن الأسلاك . احسب كلفة السياج .

المسألة عدد 4 - يقيس طول قطريّ بستان في شكل معين 24 م و 36 م ويقيس ارتفاعه 20 م .

- 1 (ابحث عن قيس محيطه .
- 2 (أحيط هذا البستان بـ 3 صفوف من الأسلاك الشائكة بعد ترك مدخل عرضه 3,4 م . إذا علمت أن ثمن المتر الواحد من هذه الأسلاك قُدر بـ 0,450 د . احسب ثمن شرائها .
- 3 (لإقامة هذه الأسلاك ، وقع استعمال 20 عموداً ثمن الواحد منها 3,600 د وتطلّب 9 أيام عمل أجرة اليوم الواحد 8 د . احسب ثمن كلفة السياج .

المسألة عدد 5 - تقيس مساحة قطعة أرض على شكل شبه منحرف 1996,5 م . احسب أقيسة أبعادها علماً وأن قيس قاعدتها الصغرى يمثل $\frac{7}{4}$ (أربعة أسباع) قيس قاعدتها الكبرى وأن قيس ارتفاعها يمثل $\frac{3}{4}$ قيس القاعدة الصغرى

(من كتاب الحساب الراقى)

أتذكر...



لضرب عدد يقيس الزمن في عدد
صحيح نضرب الساعات في العدد
الصحيح ثم الدقائق. وإذا كان عدد
الدقائق أكبر من 60 نحوله إلى
الساعات بقسمته على 60.

أتذكر...



لقسمة عدد عشري

على 10 - 100 - 1000

أنقل الفاصل إلى اليسار برقم

أو رقمين أو ثلاثة....

أتذكر...



لضرب عدد عشري

في 10 – 100 – 1000 ...

أنقل الفاصل إلى اليمين برقم

أو رقمين أو ثلاثة...

أتذكر...



لقسمة عدد عشري على عدد
عشري أضرب القاسم والمقسوم

في 10 - 100 - 1000

قصد حذف الفاصل ثم أنجز

العملية

أتذكر . . .



لحساب جذاء عددين عشريين أنجز
العملية دون اعتبار الفاصل ثم أترك
على يمين الفاصل في **النتيجة** عددا
من الأرقام **على قدر** الأرقام الموجودة
على يمين الفاصل في العددين

أتذكر...



لحساب مجموع عددين
عشريين أو الفارق بينهما أجعل
الجزء الصحيح تحت الجزء
الصحيح والجزء العشري تحت
الجزء العشري

المادة : رياضيات التوقيت: 60 دق المستوي: السادسة	الاختبار التجريبي لتلاميذ السنة السادسة 24ماي 2016	مدرسة الغزالي 2016/2015 المعلم : وحيد الشرميطي
--	--	--

المسألة 1 :

انطلقت سيارة من مدينة "أ" على الساعة 6 و 45 دق متجهة نحو المدينة "ب" بمعدل سرعة 75 كم/س . و لكن بعد زمن سير دام 40 دق تعطلت السيارة.

وبعد إصلاح العطب الذي استغرق 1 س وعشرون دقيقة. تبين للسائق أن المسافة المتبقية تمثل $\frac{3}{5}$ المسافة الجمالية.

فواصل سيره و قد زاد السرعة بمعدل 15 كم/س

- (1) أحسب المسافة الفاصلة بين المدينتين بالكم .
- (2) متى وصلت السيارة إلى المدينة "ب"

المسألة 2 :

تملك شركة عقارية قطعة أرض مستطيلة الشكل قيس محيطها 4.8 هم و قيس طولها يمثل $\frac{5}{3}$ قيس عرضها .

- (1) أحسب مساحة الأرض بالأر .

بنت الشركة مجموعة من المساكن وعرضتها للبيع حسب الطريقة التالية :

- يدفع الشاري 28000 عند تسلّم المفاتيح و هذا المبلغ يمثل 35 % من ثمن المسكن كما يدفع 6 % من ثمنها لمصاريف العقد و التسجيل و نقل الملكية .
- (2) أحسب كلفة شراء المسكن الواحد بطريقتين .

المسألة 3 :

قررت شراء دراجة نارية جديدة لأنتقل بها إلى المعهد الذي يبعد عن منزلنا مسافة 6 كم . فسحبت مذكراتي و قدرها 180 د و ساهم أبي بـ $\frac{1}{4}$ ثمن الدراجة أما أمي فساهمت بـ 60% من ثمن الدراجة .

(1) أحسب المبلغ المتجمّع بالدينار .

عند شراء الدراجة متّعني البائع بتخفيض قدره 8% فأضفت له 34 د حتى أتمكّن من شراء خوذة و دفع معلوم التأمين .

(2) أحسب ثمن الخوذة إذا كان ثمنها يقلّ عن قيمة معلوم التأمين بـ 20 د

- يحافظ البائع على نفس قيمة التخفيض في كامل منتوجاته. فقرّر أبي شراء دراجة هوائية لأخي الصغير ودفع 147,200 د ثمنها .

(3) أحسب الثمن الأصلي للدراجة الهوائية بالدينار .

وفقكم الله

المسألة عـ 1 دد :

قرّر تلاميذ السادسة في إطار مشروع القسم القيام برحلة إلى إحدى المدن الآتية : القيروان أو زغوان أو بنزرت حسب الموارد المالية المتوفرة لديهم أخذوا خريطة الجمهورية التونسية لتحديد بعد كل مدينة عن مدينتهم فوجدوها كالآتي :

- القيروان 11.4 صم - بنزرت 13.2 صم - زغوان 6.6 صم

1- أبحث عن البعد الحقيقي لهذه المدن بالكم إذا كان سلم الخريطة المستعملة $\frac{1}{1000000}$.
إتصل التلاميذ بالشركة الجهوية للنقل للسؤال عن معلوم الكراء فأعلمهم المسؤول بالشركة أن المعلوم يتناسب مع المسافة، و أن المسافة تحسب ذهابا و إيابا. وفق الآتي :

- المسافة أقل من 150 كم : 3,500 د الكم الواحد

- المسافة من 150 كم إلى 250 كم : 3,200 د الكم الواحد

2- أحسب معلوم كراء الحافلة إلى المدن الثلاثة.

. يبلغ عدد تلاميذ السادسة 72 تلميذا، سيعفى منهم 10 تلاميذ من الدفع، و سيدفع البقية معلوما قدره 10 د تخصص منها 4 د للأكل.

3- أ - ما هي المدن التي يمكن زيارتها إذا علمت أن المدرسة تمثعت بمنحة قدرها 150 د ؟

ب- أجب عن السؤال بطريقة مختصرة.

المسألة عـ 2 دد :

انطلق العم صالح بسيارته من مدينة قابس يوم الثلاثاء على الساعة 22 و 30 دق قاصدا مدينة تطاوين التي تبعد 200 كم و أثناء السفر توقف للاستراحة لمدة 15 دق .

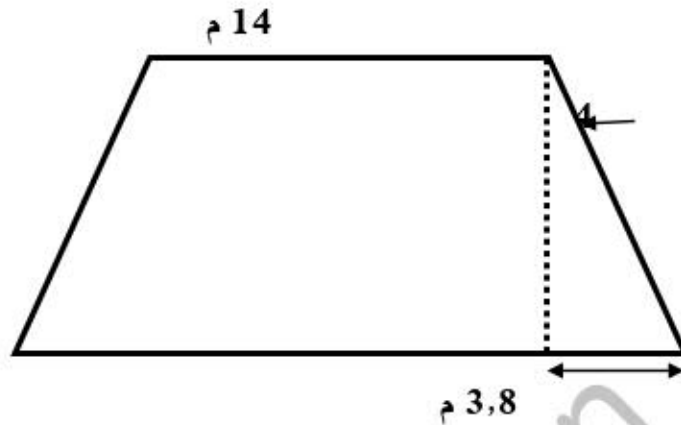
1- حدد يوم وساعة وصول العم صالح إلى مدينة تطاوين إذا علمت أن معدل سرعة سيارته 80 كم/س.

2- عند الانطلاق كانت كمية الوقود بالخزان 12 لتر وتزود السائق في الطريق ب 15 لتر.

ماهي كمية الوقود المتبقية بالخزان عند الوصول إذا علمت أن معدل استهلاك السيارة هو 110 ل في كل 100 كم ؟

المسألة عـ 3 دد :

تسوّغ شاب من حاملي الشهادات الجامعية في إختصاص الإعلامية محلاً مبيّن على الرسم التالي :



(1) أحسب قيس محيطه بالمتر.

(2) أرسم تصميم لهذا المحل بإعتماد السلم $\frac{1}{400}$

اتفق هذا الشاب مع صاحب المحل على معلوم الكراء الشهري الذي حدّد بـ 176 د بعد أن خفض مالك المحل من قيمة الإيجار الذي حدّده في البداية بنسبة الـ $\frac{1}{5}$ تشجيعاً لهذا المستثمر الشاب

(3) ما هو معلوم الإيجار قبل التخفيض (شهرياً)؟

(4) ما هو المبلغ الذي سيسلمه الشاب لصاحب المحل؟

يبلغ التمويل الذاتي في هذا المشروع 3780 د و ساهم أبويه بمبلغ $\frac{8}{5}$ قيمة التمويل الذاتي.

(5) أحسب المبلغ الذي صار بحوزة هذا الشاب بعد دفع إيجار المحل.

لتثبيت المحل إقتنى هذا الشاب 6 حواسيب ثمن الواحد 897,660 د و آلة ناسخة ثمنها $\frac{6}{9}$ ثمن الحاسوب

و 5 مناخذ و 8 كراسي يبلغ ثمن الكرسي و المنضدة الواحدة معا 96,250 د و يزيد ثمن الطاولة عن

الكرسي بـ 39,350 د . كما إقتنى لفيفة من "الموكات" ليبسطها على الأرضية بها 54 متراً بحساب 9,8 د المتر الواحد.

(6) أحسب جملة المصاريف علماً و أنّ بقية الأشغال المستوجبة الأخرى كلفتها 450 د.

إعداد السيدة : هيام بوجمعة - مدرسة زقراطة

(7) أحسب المبلغ المتبقي له بعد ذلك (إذا غطت الإعتمادات المصاريف)

قبل الشروع في إستقبال رواد محله من المولعين بالانترنت و الإتصال عن بعد علق على واجهة المحل
اللافتة التالية :

* بداية العمل : - من الساعة 7 و 30 دق إلى س 13 و 15 دق

- و من الساعة 14 إلى س 22 و 30 دق

* الساعة الواحدة (بحث و عمل على الانترنت) 1200 مي

* النسخ المنسوخة عن الانترنت 400 مي

(8) فكم سيدفع وليد علما و أنه بدأ العمل على حاسوب بهذا المحل على الساعة 14 و 30 دق و أنهاء
على الساعة 16 و استنسخ بحثا يتألف من 13 ورقة.

حل المسألة ع 1 عدد :

(1) البعد الحقيقي للقيروان : $114 \text{ كم} = 1\,000\,000 \times 11,4$

البعد الحقيقي لبنزرت : $132 \text{ كم} = 1\,000\,000 \times 13,2$

البعد الحقيقي لزغوان : $66 \text{ كم} = 1\,000\,000 \times 6,6$

(2) معلوم كراء الحافلة :

- إلى القيروان : $729,600 \text{ د} = 3,200 \times 228$

- إلى بنزرت : $844,800 \text{ د} = 3,200 \times 264$

إلى زغوان : $462 \text{ د} = 3,500 \times 132$

(3) أ- المدن أو المدينة التي يمكن زيارتها :

$620 \text{ د} = 10 \times (10 - 72)$

$332 \text{ د} = 288 - 620 = (4 \times 72) - 620$

$482 \text{ د} = 150 + 332$

يمكنهم الذهاب إلى زغوان

ب- $462 < 482 = 150 + [(4 \times 72) - 10 \times (10 - 72)]$ (معلوم كراء حافلة إلى زغوان)

حل المسألة ع 2 عدد :

(1) يوم وساعة وصول العم صالح :

$200 : 80 = 2 \text{ س و } 30 \text{ دق}$

س 22 و 30 دق + 2 س و 30 دق = س 1 بعد منتصف الليل

العم صالح وصل يوم الإربعاء على الساعة الواحدة بعد منتصف الليل

(2) كمية الوقود المتبقية

$5 \text{ ل} = 22 - 27 = (2 \times 11) - (15 + 12)$

حل المسألة عـ 3 دد :

(1) طول القاعدة الكبرى بالمتر : $21,6 = (2 \times 3,8) + 14$ م

محيط المحلّ بالمتر : $60,4 = 12,4 + 12,4 + 14 + 21,6$ م

(2) الأبعاد على التصميم :

$3,5 = 0,035 = 400 : 14$ صم

$5,4 = 0,054 = 400 : 21,6$ صم

$3,1 = 0,031 = 400 : 12,4$ صم

(3) معلوم الكراء قبل التخفيض : $220 = 4 : (5 \times 176)$ د

(4) المبلغ الذي سيسلمه الشاب : $528 = 3 \times 176$ د

(5) قيمة مساهمة الوالدين : $6048 = 5 : 8 \times 3780$ د

أصبح بحوزة الشاب : $9300 = 528 - 9828 = 528 - (6048 + 3780)$ د

(6) ثمن الآلة الناسخة : $598,440 = 9 : 6 \times 897,660$ أو $598,440 = 3 : 2 \times 897,660$ د

ثمن المناضد : $54,300 = 2 : 108,600 = 2 : (39,350 + 69,250)$ د

$271,500 = 5 \times 54,300$ د

ثمن الكراسي : $119,600 = 8 \times 14,950$ د

ثمن المكونات : $529,200 = 54 \times 9,800$ د

ثمن الحواسيب : $385,960 = 6 \times 897,660$ د

جملة المصاريف :

$7 \mid 354,700 = 5 \times 385,960 + 450 + 529,200 + 119,600 + 271,500 + 598,440$ د

(7) بقي له : $1 \mid 945,300 = 7 \times 354,700 - 9 \times 300$ د

(8) المبلغ الذي دفعه وليد للإبحار على الأنترنت : $1800 = (2 : 1200) + 1200$ مي

ثمن طبع الأوراق : $5 \times 200 = 400 \times 13$ مي

المبلغ الجملي الذي سيدفعه وليد : $7 \mid 000 = 1 \times 800 + 5 \times 200$ مي

إعداد السيدة : هيام بوجمعة - مدرسة زقراطة

www.najahni.tn

مسألة إدماجية جامعة
لحلّ دروس برنامج السنة 6 من التعليم الابتدائي

من إعداد " محمد بن عبودة "
معلم تطبيق بمدرسة 2 مارس 34 - عقارب - صفاقس

- اشترى فلاح حقلا على شكل شبه منحرف قائم مجموع قاعدته الصغرى و ارتفاعه يمثلان طول القاعدة الكبرى الذي يبلغ 175 م كما تمثل القاعدة الصغرى $\frac{4}{3}$ الارتفاع بكلفة جمالية قدرها 15 093,750 د .
- 1 - ما هي النسبة المئوية لمصاريف التسجيل علما وأنه اشترى الهكتار الواحد بـ 11500 د .
زرع هذا الفلاح الجزء المثلث بطيخا فأنتج الأر الواحد معدّل 2,5 ق باع الكغ الواحد بـ 0,850 د .
 - 2 - حدد دخله الصافي منه إذا كانت مصاريف العناية و الجني تمثل $\frac{5}{2}$ ثمن البيع .
أما الجزء المستطيل فقد زرعه قمحا فلم يكن إنتاجه في مستوى تطلعات الفلاح إذ بلغ 6 ط فقط لنقص في المياه .
 - 3 - احسب معدل إنتاج الأر الواحد من القمح .
 - 4 - احسب عدد الأكياس التي تحصل عليها هذا الفلاح علما وأنه وضع في كل كيس 75 كغ .
نقل هذا الفلاح القمح إلى ديوان الحبوب الذي يبعد عن الحقل 95 كم على متن شاحنة حمولتها القصوى 1,5 ط و تسير في الذهاب عندما تكون محمّلة بسرعة 60 كم / س أما عندما تكون فارغة أثناء العودة فتمكث في الطريق 1 س و 16 دق فقط .
 - 5 - احسب الزمن الذي تستغرقه الشاحنة للوصول إلى الديوان .
 - 6 - احسب معدل سرعة الشاحنة أثناء العودة ؟
 - 7 - احسب عدد السفرات اللازمة لنقل كامل كمية الحبوب المنتجة .
 - 8 - ما هو عدد الأكياس المنقولة في كل سفرة ؟
 - 9 - ما هي كلفة الوقود المستهلكة في الجملة إذا كانت هذه الشاحنة تستهلك 10 ل في كل 100 كم وأن اللتر الواحد منه يباع بـ 1.270 د
باع الفلاح قمحه بـ 80 د القطار الواحد و سدد مصاريفه التي بلغت هذا الموسم 40 % من ثمن البيع
 - 10 - احسب دخله الصافي .
- جمع هذا الفلاح مداخله الصافية من بيع البطيخ و بيع القمح و فكر في وضع حد لمشكل الماء في حقله بحفر بئر و تجهيزها بأحدث الآلات و طرق الري فلم يوفر بذلك إلا 75 % من كلفة حفر البئر و تجهيزها .
- 11 - ما هي كلفة كلّ من حفر البئر و تجهيزها علما و أن كلفة الحفر مثلت $\frac{3}{2}$ كلفة التجهيزات ؟
اقترض الفلاح المبلغ الذي ينقصه من البنك الوطني الفلاحي على أن يرجعه على أقساط متساوية قيمة الواحد منها 169,675 د بفائض نسبته 10 . %
 - 12 - ما هو عدد الأقساط ؟
- ليضفي الفلاح نجاعة على مشروعه استعان بمهندس مختص ليساعده على تحديد موقع البئر و كيفية تقسيم الأرض فرسم لها تصميمًا حسب السلم 1/2500 .
- 13 - أوجد أبعاد الحقل على التصميم و ارسمه .
 - 14 - حدد موقع البئر على التصميم بالنقطة " ب " التي تمثل تقاطع الوسط العمودي للقاعدة الكبرى و الوسط العمودي للارتفاع .
جهز الفلاح بئره بمضخة تخرج الماء بمعدل 2,8 هل في الدقيقة و تستهلك 2,5 ل من البنزين في الساعة بحساب 1,570 د اللتر الواحد ، و في أول استعمال للمضخة ملأ الفلاح خزانها بما قيمته 34,540 د .
 - 15 - احسب سعة خزان البنزين .
 - 16 - احسب كمية الماء المستخرجة إلى حد نفاد الخزان .

القواعد الرياضية الموطّعة :

1 - قيس مساحة المستطيل =

الطول × العرض

2 - استعمال جدول وحدات قيس المساحة المستعملة في الفلاحة :

صاً	أر	ها
م ²	دكـم ²	هم ²
0	0	0
0	5	7

3 - قسمة عدد صحيح على عدد صحيح والخارج عدد عشري

3 - احسب معدل إنتاج الأرز الواحد من القمح

2 - معدل إنتاج الأرز الواحد من القمح = كتلة الإنتاج الجملي : قيس مساحة القطعة المستطيلة

1 - قيس مساحة القطعة المستطيلة = طول المستطيل × عرضه

أو

1 - قيس مساحة القطعة المستطيلة = قيس مساحة كامل القطعة - قيس مساحة القطعة المثلثة

ملاحظة : بُعدا المستطيل (الطول والعرض) هما نفسهما

ارتفاع شبه المنحرف القائم ، وقاعدته الصغرى .

إنجاز حلّ السؤال 3

1 - قيس مساحة القطعة المستطيلة بالم² = $7500 = 75 \times 100$

أو

1 - قيس مساحة القطعة المستطيلة بالم² = $7500 = 5000 - 12500$

التحويل : $7500 \text{ م}^2 = 75 \text{ آر}$

2 - معدل إنتاج الأرز الواحد من القمح بالطن = $0,08 = 75 : 6 = 80 \text{ أي كغ}$

القواعد الرياضية الموطّعة :

1 - العلاقة بين وحدات قيس الكتل

كـغ	ع كـغ	ق	ط
0	0	0	6

4 - احسب عدد الأكياس التي تحصل عليها هذا الفلاح . التخطيط لحلّ السؤال 4

عدد الأكياس التي تحصل عليها الفلاح = كتلة كامل الإنتاج من القمح : كتلة الكيس الواحد

إنجاز حلّ السؤال 4

التحويل : $6000 \text{ كـغ} = 6 \text{ ط}$

عدد الأكياس التي تحصل عليها الفلاح = $80 = 75 : 6000$

القواعد الرياضية الموطّعة :

1 - المسافة = السرعة × الزمن

2 - السرعة = المسافة : الزمن

3 - الزمن = المسافة : السرعة

ملاحظة : الزمن هو زمن السير الفعلي

5 - احسب الزمن الذي تستغرقه الشاحنة للوصول إلى الديوان التخطيط لحلّ السؤال 5

الزمن الذي تستغرقه الشاحنة للوصول إلى الديوان = المسافة : معدل السرعة

إنجاز حلّ السؤال 5

الزمن الذي تستغرقه الشاحنة للوصول إلى الديوان = $95 : 60 = 1 \text{ س و } 35 \text{ دق}$

6 - احسب معدل سرعة الشاحنة أثناء العودة . التخطيط لحلّ السؤال 6

معدل سرعة الشاحنة أثناء العودة = المسافة : على الزمن

إنجاز حلّ السؤال 6

معدل سرعة الشاحنة أثناء العودة بالكـم / س =

$95 : 1 \text{ س و } 16 = (60 \times 95) : 76 \text{ دق} = 75$

القواعد الرياضية الموطّعة :

قسمة عدد صحيح على عدد عشري : يتم

أولا ضرب العدد العشري (القاسم) في 10

100 ، بحسب عدد الأرقام على يمين

الفصل ليصبح عددا صحيحا ، ويمثل ذلك

يتم ضرب المقسوم أيضا كي لا يتغير خارج

القسمة ، ثم تنجز عملية القسمة المقررة

ملاحظة

عدد شيء ما (مثلا : عدد السفرات ، عدد

الأكياس ...) لا يكون إطلاقا عددا عشريا ،

وفي صورة ما إذا كانت عملية القسمة غير

مستوفاة ، يُضاف 1 إلى خارج القسمة

الصحيح المتحصل عليه

7 - احسب عدد السفرات اللازمة لنقل كامل كمية الحبوب . التخطيط لحلّ السؤال 7

عدد السفرات لنقل كامل الكمية = كتلة كامل الكمية : حمولة الشاحنة القصوى

إنجاز حلّ السؤال 7

عدد السفرات لنقل كامل الكمية = $4 = 1,5 : 6$

8 - ما هو عدد الأكياس المنقولة في كل سفرة ؟ التخطيط لحلّ السؤال 8

عدد الأكياس المنقولة في كل سفرة = العدد الجملي للأكياس : عدد السفرات

أو

عدد الأكياس المنقولة في كل سفرة = الحمولة القصوى للشاحنة : كتلة الكيس الواحد

إنجاز حلّ السؤال 8

عدد الأكياس المنقولة في كل سفرة = $20 = 4 : 80$

أو

عدد الأكياس المنقولة في كل سفرة = $1,5 \text{ ط} = 75 : 1500 \text{ كـغ} = 75 \text{ كـغ} = 20$

12 - ما هو عدد الأقسام ؟

التخطيط لحل السؤال 12

4 - عدد الأقسام = المبلغ المطلوب بتسديده : قيمة القسط الواحد

3 - المبلغ المطلوب بتسديده = المبلغ المقرض + قيمة الفائض

2 - قيمة الفائض = المبلغ المقرض × النسبة المئوية الممثلة لقيمة الفائض

1 - المبلغ المقرض = كلفة حفر البئر وتجهيزه - المداخل الصافية من بيع البطيخ والقمح
أو

4 - عدد الأقسام = المبلغ المطلوب بتسديده : قيمة القسط الواحد

3 - المبلغ المطلوب بتسديده = المبلغ المقرض × النسبة المئوية الممثلة للمبلغ المطلوب بتسديده

2 - النسبة المئوية الممثلة للمبلغ المطلوب بتسديده =

النسبة المئوية الممثلة للمبلغ المقرض + النسبة المئوية لقيمة الفائض

1 - المبلغ المقرض = كلفة حفر البئر وتجهيزه - المداخل الصافية من بيع البطيخ والقمح

إنجاز حل السؤال 12

1 - المبلغ المقرض (المبلغ الذي ينقصه) بالذ = $3085 = 9255 - 12340$

2 - قيمة الفائض بالذ = $308,500 = 10 \times (100 : 3085)$

3 - المبلغ المطلوب بتسديده بالذ = $3393,500 = 308,500 + 3085$

4 - عدد الأقسام = $20 = 169,675 : 3393,500$

أو

1 - المبلغ المقرض (المبلغ الذي ينقصه) بالذ = $3085 = 9255 - 12340$

2 - النسبة المئوية الممثلة للمبلغ المطلوب بتسديده = $10\% + 100\% = 110\%$

3 - المبلغ المطلوب بتسديده = $3393,500 = 110 \times (100 : 3085)$

4 - عدد الأقسام = $20 = 169,675 : 3393,500$

القواعد الرياضية الموطّفة :

قسمة عدد عشري على عدد عشري : يتم
أولا ضرب العدد العشري (القاسم) في
10 ، 100 ، 1000 بحسب عدد الأرقام على
يمين الفاصل ليصبح عددا صحيحا ، ويمثل
ذلك يتم ضرب المقسوم أيضا كي لا يتغير
خارج القسمة ، ثم تنجز عملية القسمة
المقرّرة

ملاحظة

*عندما تتعدّد طرق البحث عن الحل ، يتم
اختيار الطريقة التي تتميز بأقل مراحل
وبأقل تعقيد في إجراء العمليات العددية .

القواعد الرياضية الموطّفة :

*من تطبيقات التناسب : السلم

* البعد الحقيقي =

البعد على التصميم × مقام السلم

*البعد على التصميم =

البعد الحقيقي : مقام السلم

*تطبيق هذه القواعد تكون بهذه الكيفية
في حال بسط السلم هو 1 وهو المتعارف
عليه والمعمول به (مثلا : 1 / 1000)
إذا كان غير ذلك ، يتم الاختزال العدد
الكسري الممثل للسلم لجعل البسط = 1
*عند البحث عن البعد على التصميم الذي
يكون عادة بالصم ، من المستحسن تحويل
البعد الحقيقي إلى الصم ثم تتم القسمة على
مقام السلم .
*عند البحث عن البعد الحقيقي يتم تحويل
النتيجة المتحصّل عليها بعد الضرب في
مقام السلم إلى الكم إذا كان البعد يخص
المسافة وإلى الم إذا كان البعد يخص قطعة
أرض وغيرها .

13 - أوجد أبعاد الحقل على التصميم و ارسمه

قيس البعد على التصميم = قيس البعد الحقيقي : مقام السلم

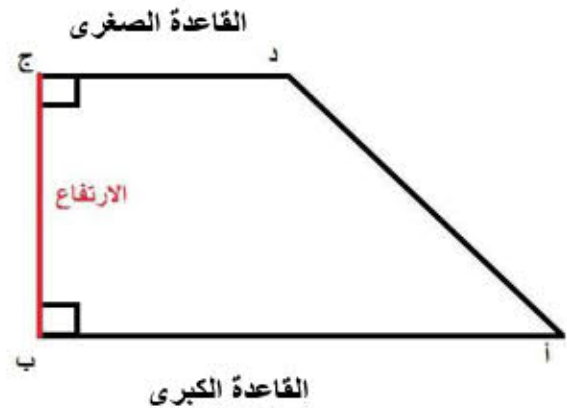
إنجاز حل السؤال 13

قيس القاعدة الكبرى على التصميم = 175 م : 2500 = 17500 صم : 2500 = 7 صم

قيس القاعدة الصغرى على التصميم = 75 م : 2500 = 7500 صم : 2500 = 3 صم

قيس القاعدة الكبرى على التصميم = 100 م : 2500 = 10000 صم : 2500 = 4 صم

الرسم



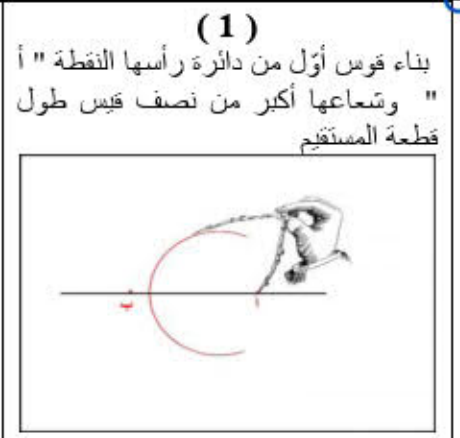
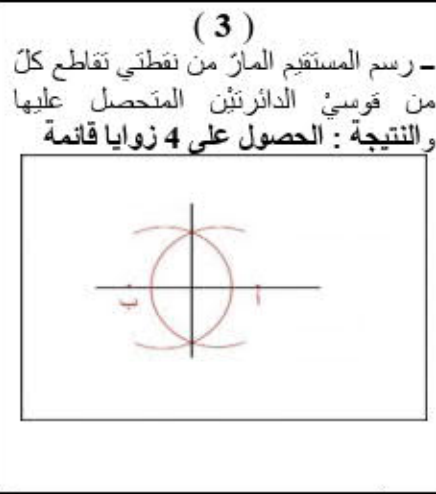
14 - حدد موقع البئر على التصميم بالنقطة " ب " التي تمثل تقاطع المتوسط العمودي للقاعدة الكبرى و المتوسط العمودي للارتفاع

التخطيط لحل السؤال 14

*المتوسط العمودي هو المستقيم العمودي على قطعة مستقيم في منتصفها

إنجاز حل السؤال 14

*بناء متوسط عمودي لقطعة مستقيم [أ ب] القاعدة الكبرى ثم بناء المتوسط العمودي لقطعة المستقيم [ب ج] (الارتفاع) ، يتم
ذلك باتباع الخطوات التالية :



القواعد الرياضية الموطّعة :

قسمة عدد عشري على عدد عشري : يتم أولاً ضرب العدد العشري (القاسم) في 10 ، 100 ، بحسب عدد الأرقام على يمين الفاصل ليصبح عددا صحيحا ، ويمثل ذلك يتم ضرب المقسوم أيضا كي لا يتغير خارج القسمة ، ثم تنجز عملية القسمة المقررة

التخطيط لحلّ السؤال 15

15 - احسب سعة خزّان البنزين

سعة خزّان البنزين = القيمة الجمالية للبنزين بالخزّان : قيمة اللتر الواحد من البنزين

إنجاز حلّ السؤال 15

$$22 = 1,570 : 34,540 = \text{سعة خزّان البنزين باللتر}$$

16 - احسب كمية الماء المستخرجة إلى حدّ نفاذ الخزّان. التخطيط لحلّ السؤال 16

2 - كمية الماء المستخرجة إلى حدّ نفاذ الخزّان =

كمية الماء المستخرجة في الدقيقة \times الزمن المستغرق لاستهلاك كامل البنزين بالخزّان

1 - الزمن المستغرق لاستهلاك كامل البنزين بالخزّان =

سعة خزّان البنزين : كمية البنزين المستهلكة في ساعة

إنجاز حلّ السؤال 16

1 - الزمن المستغرق لاستهلاك كامل البنزين بالخزّان =

$$22 : 2,5 = 2,8 : 8 = 25 : 220 = \text{دق } 528$$

2 - كمية الماء المستخرجة إلى حدّ نفاذ الخزّان بالهـل = $1478,4 = 528 \times 2,8$

220	25		
20	ث	دق	س
×		48	8
60			
1200			
200			
000			

* عند البحث عن الزمن عن طريق عملية قسمة ، لا يكون خارج القسمة عددا عشريا بل يكون بالضرب الباقي في 60 للمرور من زمن إلى زمن كما يوضحه الجدول .

إنجاز الإصلاح : الطيب الكرو

مساعد بيداغوجي بدائرة مارث 3 للغة العربية

ملاحظة : هذا العمل هو اجتهاد بشري قد يحتمل الخطأ ، وهو منطلق لتبادل الأفكار وتلاقح التجارب باقتراح طرق أخرى للحلول المقترحة .

وما توفيقنا جميعا إلا بالله العليّ القدير

1) وضعيّات دعم وعلاج خاصّة بالمضاعفات المشتركة لعددین صحیحین طبيعيين:

1- تقاضى 5 عمال عن كل يوم مبلغا ماليا قيمته بالدينار عدد مضاعف للعددین 15 و 20 محصور بين 210 و 250.

♣ أبحث عن المبلغ المالي الذي يتقاضاه العمال الخمسة يوميا بطريقتين مختلفتين.

♣ ماهو المبلغ الذي يتقاضاه العامل الواحد يوميا؟

2- اشترت خياطة قطعة قماش مستطيلة الشكل قيس طولها بالصم عدد من مضاعفات 35 ومحصور بين 260 و 300 وعرضها بالصم عدد من مضاعفات 25 ومحصور بين 260 و 290.

♣ ابحث على أبعاد القطعة.

3- غرس صالح بستانه زيتاين منظمة في صفوف بكل صف 18 شجرة وعددها محصور بين 100 و 150.

♣ كم عدد الأشجار في الحقل؟

4- في مدرسة التفوق عدد التلاميذ محصور بين 200 و 220 لو وزعوا على مجموعات ذات 35 و 42 تلميذا لبقى في كل مرة 5 تلاميذ غير موزعين.

♣ ماهو عدد هؤلاء التلاميذ؟

5- تنتج مدجنة يوميا كمية من البيض عددها محصور بين 7000 و 7100 لو جمعت في أطباق من نفس النوع ذات 18 أو 24 بيضة لقيت في كل حالة 9 بيضات.

♣ ماهو عدد البيض التي تنتج هذه المدجنة يوميا؟

2) وضعيّات دعم وعلاج خاصّة بتوظيف التّناسب في السّلم:

1- اشترى باعث عقاري قطعة أرض بعدها على التصميم بالصم 6 و 5 و 4 وفق السّلم $\frac{1}{2000}$.

♣ أحسب الأبعاد الحقيقية لهذه الأرض بالم.

♣ ماهي مساحتها؟

2- تبعد تونس العاصمة عن الحمّامات 64 كم، على خريطة للبلاد التّونسيّة سلّمها $\frac{1}{200000}$ ماهي

المسافة التي تفصل هاتين المدينتين بالصم؟

3- حقل على شكل شبه منحرف قائم الزاوية قيس قاعدتيه الكبرى والصغرى 90 م والفارق بينهما 30 م وقيس ارتفاعه $\frac{3}{4}$ قيس قاعدته الكبرى.

♣ ابحث عن أبعاده على التصميم بالمم وفق السّلم $\frac{1}{1000}$.

أسأل الله لكم التّوفيق في الدّنيا والآخرة

1) وضعيّات دعم وعلاج خاصّة بالمضاعفات المشتركة لعددین صحیحین طبيعيين:

1- تقاضى 5 عمال عن كل يوم مبلغا ماليا قيمته بالدينار عدد مضاعف للعددین 15 و 20 محصور بين 210 و 250.

♣ أبحث عن المبلغ المالي الذي يتقاضاه العمال الخمسة يوميًا بطريقتين مختلفتين.

*المبلغ المالي الذي يتقاضاه العمال الخمسة يوميًا بطريقتين مختلفتين.

< الطريقة 1: البحث عن مضاعفات كل عدد على حدة ومن ثمّ تحديد المضاعفات المشتركة.

- البحث عن مضاعفات 15 المحصورة بين 210 و 250:

$210 : 15 = 14 \rightarrow 14 \times 15 = 210$ ولكن حسب الشرط أول مضاعف لـ 15 يجب أن يكون أكبر من

210 بالتالي سيكون $225 = 15 \times (1 + 14) = 15 \times 15 = 225$

$210 < 225 < 250$ مضاعفات 15

- البحث عن مضاعفات 20 المحصورة بين 210 و 250:

$210 : 20 = 10$ وباقى القسمة 10 $\rightarrow 10 \times 20 = 210$ ولكن حسب

الشرط أول مضاعف لـ 20 يجب أن يكون أكبر من 210 بالتالي سيكون:

$220 = 20 \times (1 + 10) = 20 \times 11 = 220$

$210 < 220 < 250$ مضاعفات 20

- البحث عن المضاعف المشترك لـ 15 و 20 المحصور بين 210 و 250:

$210 > 240 > 250$ المضاعف المشترك لـ 15 و 20

إذا المبلغ المالي الذي يتقاضاه العمال الخمسة يوميًا = 240 د

< الطريقة 2: البحث عن المضاعفات المشتركة لعددین انطلاقا من البحث عن مضاعفات المضاعف

الأصغر المخالف لـ 0 لكليهما.

- البحث عن المضاعف المشترك الأصغر المخالف لـ 0 لـ 15 و 20:

$15 = 1 \times 15$ ، $30 = 2 \times 15$ ، $45 = 3 \times 15$ ، $60 = 4 \times 15$

$20 = 1 \times 20$ ، $40 = 2 \times 20$ ، $60 = 3 \times 20$

إذا المضاعف المشترك الأصغر المخالف لـ 0 لـ 15 و 20 = 60

- البحث عن مضاعف 60 المحصور بين 210 و 250:

$210 : 60 = 3$ وباقى القسمة 30 $\rightarrow 30 + 3 \times 60 = 210$ ولكن حسب الشرط

أول مضاعف لـ 60 يجب أن يكون أكبر من 210 بالتالي سيكون: $240 = 4 \times 60 = 60 \times (1 + 3)$

إذا $210 < 240 < 250$ مضاعف 60 $\rightarrow 240 = 60 \times (1 + 3) = 240$ المضاعف المشترك لـ 15 و 20

والمبلغ المالي الذي يتقاضاه العمال الخمسة يوميًا = 240 د

♣ ماهو المبلغ الذي يتقاضاه العامل الواحد يوميًا؟

المبلغ الذي يتقاضاه العامل الواحد يوميًا = المبلغ المالي الذي يتقاضاه العمال الخمسة يوميًا : 5

$240 : 5 = 48$ د

2- اشترت خياطة قطعة قماش مستطيلة الشكل قيس طولها بالصم عدد من مضاعفات 35 ومحصور بين 260 و 300 وعرضها بالصم عدد من مضاعفات 25 ومحصور بين 260 و 290.

♣ ابحث على أبعاد القطعة.

*أبعاد القطعة:

- الطول = 260 > مضاعف 35 > 300 = {?} =

260 : 35 = 7 وبقي القسمة 15 $\leftarrow 260 = 15 + (7 \times 35)$ ولكن حسب الشرط أول مضاعف

لـ 35 يجب أن يكون أكبر من 260 بالتالي سيكون: $280 = 8 \times 35 = (1 + 7) \times 35$

إذا الطول = 260 > مضاعف 35 > 300 = {صم 280}

- العرض = 260 > مضاعف 25 > 290 = {?} =

260 : 25 = 10 وبقي القسمة 10 $\leftarrow 260 = 10 + (10 \times 25)$ ولكن حسب الشرط أول

مضاعف لـ 25 يجب أن يكون أكبر من 260 بالتالي سيكون: $275 = 11 \times 25 = (1 + 10) \times 25$

إذا العرض = 260 > مضاعف 25 > 290 = {صم 275}

3- غرس صالح بستانه زياتين منظمة في صفوف بكل صف 18 شجرة وعددها محصور بين 100 و 150.

♣ كم عدد الأشجار في الحقل؟

* عدد الأشجار في الحقل = 100 > مضاعف 18 > 150 = {?} =

100 : 18 = 5 وبقي القسمة 10 $\leftarrow 100 = 10 + (5 \times 18)$ ولكن حسب الشرط أول مضاعف

لـ 18 يجب أن يكون أكبر من 100 بالتالي سيكون: $108 = 6 \times 18 = (1 + 5) \times 18$

إذا عدد الأشجار في الحقل = 100 > مضاعف 18 > 150 = {شجرة 108}

4- في مدرسة التفوق عدد التلاميذ محصور بين 200 و 220 لو وزعوا على مجموعات ذات 35 و 42 تلميذا لبقى في كل مرة 5 تلاميذ غير موزعين.

♣ ماهو عدد هؤلاء التلاميذ؟

* عدد التلاميذ = {200 > المضاعف المشترك لـ 35 و 42 > 220} + 5

- البحث عن مضاعفات 35 المحصورة بين 200 و 220:

200 : 35 = 5 وبقي القسمة 25 $\leftarrow 200 = 25 + (5 \times 35)$ ولكن حسب الشرط أول مضاعف

لـ 35 يجب أن يكون أكبر من 200 بالتالي سيكون $210 = 6 \times 35 = (1 + 5) \times 35$

200 > مضاعف 35 > 220 = { 210 }

- البحث عن مضاعفات 42 المحصورة بين 200 و 220:

200 : 42 = 4 وبقي القسمة 32 $\leftarrow 200 = 32 + (4 \times 42)$ ولكن حسب الشرط

أول مضاعف لـ 42 يجب أن يكون أكبر من 200 بالتالي سيكون:

$210 = 5 \times 42 = (1 + 4) \times 42$

200 > مضاعفات 42 > 220 = { 210 }

- البحث عن المضاعف المشترك لـ 35 و 42 المحصور بين 200 و 220:

200 > المضاعف المشترك لـ 35 و 42 > 220 = { 210 }

إذا عدد التلاميذ = {200 > المضاعف المشترك لـ 35 و 42 > 220} + 5 = 215

5- تنتج مدجنة يوميًا كميةً من البيض عددها محصور بين 7000 و7100 لو جمّعت في أطباق من نفس النوع ذات 18 أو 24 بيضة لبقيت في كلّ حالة 9 بيضات.

♣ ماهو عدد البيض التي تنتجه هذه المدجنة يوميًا؟

* عدد البيض التي تنتجه هذه المدجنة يوميًا = $\{7000 > \text{المضاعف المشترك لـ } 18 \text{ و } 24 > 7100\} + 9$

- البحث عن المضاعف المشترك الأصغر المخالف لـ 0 لـ 18 و 24:

$$18 = 1 \times 18, 36 = 2 \times 18, 54 = 3 \times 18, 72 = 4 \times 18$$

$$24 = 1 \times 24, 48 = 2 \times 24, 72 = 3 \times 24$$

إذا المضاعف المشترك الأصغر المخالف لـ 0 لـ 18 و 24 = 72

- البحث عن مضاعف 72 المحصور بين 7000 و7100:

$$7000 : 72 = 97 \text{ و باقي القسمة } 16 \leftarrow 7000 = (97 \times 72) + 16 = 6984 + 16 \text{ ولكن}$$

حسب الشرط أول مضاعف لـ 72 يجب أن يكون أكبر من 7000 بالتالي سيكون:

$$7056 = 98 \times 72 = (1 + 97) \times 72$$

إذا $7000 > 72 > 7100 = \{7056\} = 7100 > 72 > 7100$ المضاعف المشترك لـ 18 و 24

$$\{7056\} =$$

عدد البيض التي تنتجه هذه المدجنة يوميًا = $9 + \{7056\} = 7065$ بيضة

2) وضعيات دعم وعلاج خاصة بتوظيف التّناسب في السّلم:

* تذكير:

< السّلم = $\frac{1}{\text{عدد مرّات التّصغير}}$ ، إذا السّلم عدد كسري بسطه 1 ومقامه يساوي عدد مرّات التّصغير.

البسط يمثّل 1 صم على التّصميم والمقام يمثّل الطول أو المسافة التي تناسب 1 صم في الحقيقة، مثال:

السّلم = $\frac{1}{2000}$ ، يعني أنّ 1 صم على التّصميم (ورقة، خريطة، مثال تهيئة ...) يناسبه 2000 صم في الحقيقة.

< عدد مرّات التّصغير = مقام السّلم = $\frac{\text{البعد الحقيقي}}{\text{البعد على التّصميم}}$ ، ويجب أن تكون وحدة قيس البعد الحقيقي هي نفسها وحدة قيس البعد على التّصميم.

< البعد الحقيقي = البعد على التّصميم \times عدد مرّات التّصغير (أو)

$$= \text{البعد على التّصميم} \times \text{مقام السّلم}$$

< البعد على التّصميم = $\frac{\text{البعد الحقيقي}}{\text{عدد مرّات التّصغير}}$ (أو)

$$= \frac{\text{البعد الحقيقي}}{\text{مقام السّلم}}$$

1- اشتري باعث عقاري قطعة أرض بعدها على التّصميم بالصم 6 و 4,5 وفق السّلم $\frac{1}{2000}$.

♣ أحسب الأبعاد الحقيقيّة لهذه الأرض بالم.

- الطول الحقيقي = الطول على التّصميم \times مقام السّلم

$$= 6 \text{ صم} \times 2000 = 12000 \text{ صم} = 12000 : 100 = 120 \text{ م}$$

- العرض الحقيقي = العرض على التّصميم \times مقام السّلم

$$= 4.5 \text{ صم} \times 2000 = 9000 \text{ صم} = 9000 : 100 = 90 \text{ م}$$

♣ ماهي مساحتها؟

مساحة قطعة الأرض المستطيلة = طول × عرض

$$= 90 \times 120 = 10800 \text{ م}^2$$

2- تبعد تونس العاصمة عن الحمّات 64 كم، على خريطة للبلاد التونسية سلّمها $\frac{1}{200000}$ ماهي

المسافة التي تفصل هاتين المدينتين بالصم؟

المسافة بين تونس والحمّات على الخريطة = المسافة الحقيقيّة : مقام السّلم

$$= 640000 \text{ صم} : 200000 = 32 \text{ صم}$$

3- حقل على شكل شبه منحرف قائم الزاوية قيس قاعدتيه الكبرى والصغرى 90 م والفارق بينهما 30 م

وقيس ارتفاعه $\frac{3}{4}$ قيس قاعدته الكبرى.

♣ إبحث عن أبعاده على التصميم بالمم وفق السّلم $\frac{1}{1000}$.

* قيس الأبعاد الحقيقيّة لشبه المنحرف القائم:

- تذكير: قاعدة حساب عددين مجهولين مجموعهما معلوم والفارق بينهما معلوم؛

العدد الأكبر = (مجموع العددين + الفارق) : 2

العدد الأصغر = (مجموع العددين - الفارق) : 2

- القاعدة الكبرى (العدد الأكبر) = (مجموع قيس القاعدتين + الفارق بينهما) : 2

$$= (90 + 30) : 2 = 120 : 2 = 60 \text{ م}$$

- القاعدة الصغرى (العدد الأصغر) = (مجموع قيس القاعدتين - الفارق بينهما) : 2

$$= (90 - 30) : 2 = 60 : 2 = 30 \text{ م (أو)}$$

القاعدة الصغرى = القاعدة الكبرى - الفارق

$$= 60 - 30 = 30 \text{ م.}$$

- الارتفاع = $\frac{3}{4}$ قيس القاعدة الكبرى

$$= 60 \times \frac{3}{4} = 180 : 4 = 45 \text{ م}$$

* قيس الأبعاد على التصميم لشبه المنحرف القائم:

- قيس القاعدة الكبرى على التصميم = قيس القاعدة الكبرى في الحقيقة : مقام السّلم

$$= 60000 \text{ مم} : 1000 = 60 \text{ مم}$$

- قيس القاعدة الصغرى على التصميم = قيس القاعدة الصغرى في الحقيقة : مقام السّلم

$$= 30000 \text{ مم} : 1000 = 30 \text{ مم}$$

قيس الارتفاع على التصميم = قيس الارتفاع في الحقيقة : مقام السّلم

$$= 45000 \text{ مم} : 1000 = 45 \text{ مم}$$

أسأل الله لكم التّوفيق في الدّنيا والآخرة

وضعية ادماجية لتلاميذ السنة السادسة الفترة الثالثة

السند 1 = يملك فلاح قطعة ارض على شكل مستطيل قيس محيطها 420م وقيس طولها
يزيد عن عرضها ب 52,12 م

احسب مساحة الارض بالار.....

.....
.....

السند 2 = زرع ثلث مساحتها فولاً و خمسي مساحتها قمحا و الباقي شعيراً
ما العدد الكسري الذي يمثل المساحة المزروعة شعيراً

.....
.....
.....

احسب المساحات المزروعة بالم2

.....
.....
.....

باع الفلاح صابة الفول ب 5400د

احسب الانتاج الجملي للفول اذا علمت ان ثمن الكغ الواحد = 0,625د

.....
.....
.....

احسب ثمن القمح اذا علمت انه يمثل نسبة 80% من ثمن الفول

