

أوجد الناتج مع الثاني عند الحل حتى لا  
تخطئ في الناتج



$$\begin{array}{r} 72 \\ 36 + \\ \hline \end{array}$$

$$\begin{array}{r} 54 \\ 28 + \\ \hline \end{array}$$

$$\begin{array}{r} 49 \\ 12 + \\ \hline \end{array}$$

$$\begin{array}{r} 35 \\ 28 + \\ \hline \end{array}$$

$$\begin{array}{r} 36 \\ 46 + \\ \hline \end{array}$$

$$\begin{array}{r} 20 \\ 89 + \\ \hline \end{array}$$

$$\begin{array}{r} 33 \\ 59 + \\ \hline \end{array}$$

$$\begin{array}{r} 68 \\ 24 + \\ \hline \end{array}$$

$$\begin{array}{r} 47 \\ 25 + \\ \hline \end{array}$$

$$\begin{array}{r} 27 \\ 67 + \\ \hline \end{array}$$



CURSO:

ALUMNA:



أتأمل وأتحدث ص 72:

• تُجْرَى مَبَارَاةُ كُرَّةِ

الْقَدَمِ عَلَى مَلْعَبٍ مُسْتَطِيلٍ

بَيْنَ فَرِيقَيْنِ ، يَتَأَلَّفُ كُلُّ فَرِيقٍ مِنْ 11 لَاعِبًا

بَيْنَهُمْ حَارِسُ مَرْمَى . يَسْعَى كُلُّ فَرِيقٍ لِتَحْقِيقِ

أَكْبَرَ عَدَدٍ مِنَ الْأَهْدَافِ لِيَفُوزَ . يُحْتَسَبُ الْهَدَفُ

عِنْدَمَا يُدْخِلُ الْمُهَاجِمُ الْكُرَّةَ فِي مَرْمَى الْخَصْمِ .



CURSO:

ALUMNA:

أتأمل وأتحدث ص 72:

• رِيَاضَةُ الْجُودُو مِنْ

الرِّيَاضَاتِ الْقِتَالِيَّةِ الدَّفَاعِيَّةِ

الْمَشْهُورَةِ. يَرْتَدِي كُلُّ لَاعِبٍ زِيَا خَاصًا: سِرْوَالٌ

مِنَ الْقَمَاشِ الْأَبْيَضِ وَسُتْرَةٌ فَضْفَاضَةٌ، يَتَوَسَّطُهَا

حِزَامٌ أَسْوَدٌ.

\_ لِلْجُودُو فَوَائِدٌ كَثِيرَةٌ ، فَهِيَ تَشَدُّ عَضَلَاتِ

الْجِسْمِ وَ تَجْعَلُهُ قَوِيًّا مُتَنَاسِقًا ، كَمَا

السنة (2)  
ابتدائي



# تقويم (3) في الرياضيات

1) ضع كل عدد في خانته المناسبة :

100 - 96 - 99 - 91 - 93 - 90 - 95

.	.	92	.	94	.	.	97	98	.	.	101
---	---	----	---	----	---	---	----	----	---	---	-----

2) فكل الأعداد التالية =

531 = .....

984 = .....

102 = .....

460 = .....

3) أكمل ما يلي =

## خديجة قلاب

.....	6 مئات و 3 عشرات و 4 وحدات	634
.....	3 مئات و 7 عشرات و 5 وحدات	375
.....	.....	.....
.....	7 مئات و 9 عشرات و 5 وحدات	.....

4) لاحظ الشكل ثم أكمل =



اسمه ← .....


عدد الزوايا القائمة ← .....

الوصفية الإدماجية = يملك حسام 65 كرتية ،

أعطته أخيه الرضوف .

كم كرتية يملك الآن ؟

5 أَكْتُبِ الْكَلِمَةَ الْمُنَاسِبَةَ تَحْتَ كُلِّ صُورَةٍ



6 أَمَلِ الْفَرَاغَ بِالْكَلِمَةِ الْمُنَاسِبَةِ

أَنْتُمْ      لَيْسَ      أَنْتَنْ      لَنْ

• ..... أَشْوَدَ مَنْظَرَ الشَّارِعِ.

• ..... تُشَارِكُنِ فِي تَنْظِيفِ الْحَيِّ

• ..... تَخْدُمُونَ الْأَرْضَ.

• ..... الطَّرِيقَ مَكَانًا لِلْعَبِّ.

7 أَكْتُبِ الْجُمْلَةَ الْمُنَاسِبَةَ لِكُلِّ صُورَةٍ ثُمَّ قُمْ بِرَتْبِهَا.

— فَاجْتَهَدْتُ وَنَجَحْتُ وَدَرَسْتُ الْعِلْمَ

— كَانَتْ سَلْمَى تَحْلُمُ بِأَنْ تَكُونَ طَبِيبَةً

— وَلَمَّا أَصْبَحَتْ طَبِيبَةً عَادَتْ إِلَى قَرْبَتِهَا وَعَالَجَتْ الْأَطْفَالَ.

Three large empty boxes with dashed lines for writing the sentences.



## واجب 6 الأسبوع لمجموعة

### مسنجر للدروس

قسم الثانية ابتدائي

النص: الشِّتَاءُ فَصَلَّ مِنْ فَصُولِ السَّنَةِ تَهْطِلُ فِيهِ الْأَمْطَارُ وَالنَّلُوجُ وَيَزْدَادُ الْجَوُّ بُرُودَةً وَتَهْبُ الرِّيَّاحُ وَتُهَاجِرُ فِيهِ الطُّيُورُ مِنْ بِلَادٍ إِلَى بِلَادٍ ، فَصَلَّ الشِّتَاءُ فَصَلَّ الْخَيْرُ وَالْعَطَاءُ.

أختر عنوانا مناسباً للنص  النظافة  الشِّتَاءُ  العيد  المتخف

أضغ علامة على الإجابة الصحيحة : في فصل الشِّتَاءِ:

تتفتح الأزهار  تتساقط أوراق الأشجار  تهاجر الطيور  تخوم الفراشات

أكمل الجمل بالكلمات التالية: ( جميع ، كل ، انتم ، نحن ، انتما ، هم )

- \* يذهب أبي ..... جمعة للصلاة في المسجد  
\* ..... يجاهنون الاستعمار  
\* ..... نتناول فطور الصباح لأنه مفيد  
\* قال لنا المعلم..... تحبون وطنكم  
\* اعتبر..... أصدقائي إخوة  
\* ....., تزوران أقاربكم في الأعياد

إملاء:


رتب الجمل التالية مكونا فقرة:

- فشكرتني ودعت لي بالنجاح  
- كنت ذاهبا إلى المدرسة  
- أعطيتها النقود التي كنت سأشتري  
بها الحلوى  
- فوجدت عجوزا تطلب صدقة

.....
.....
.....
.....
.....
.....
.....
.....
.....

## مراجعة في الرياضيات

التمرين الأول: أنجز العمليات التالية:

$$\begin{array}{r} 796 \\ - \\ \hline 285 \end{array}$$

$$\begin{array}{r} 581 \\ - \\ \hline 421 \end{array}$$

$$\begin{array}{r} 346 \\ + \\ \hline 371 \end{array}$$

$$\begin{array}{r} 235 \\ + \\ \hline 623 \end{array}$$

التمرين الثاني: لون الزوايا القائمة وسم المضلعات التالية:



.....



.....



.....

التمرين الثالث: أكتب بالحروف الأعداد التالية:

.....:45  
.....:189

.....:97  
.....:425

التمرين الرابع: قارن بوضع (> أو < أو =)

$$70 \quad . \quad 10+50 \quad - \quad 99 \quad . \quad 9+90 \quad - \quad 69 \quad . \quad 96$$

\* رتب الأعداد التالية ترتيبا تصاعديا ( من الصغير الى الكبير )

76 -80-66-13 -35- 53

.....


بالتوفيق

واجب الأسبوع  لمجموعة

مسنجر للدروس



- ..... أَنْتِ .
- ..... أَنْتِ .
- ..... أَنْتُمَا .
- ..... أَنْتُمْ تَزُورُونَ الْمَتْحَفَ .
- ..... أَنْتُنَّ .




- ..... أَنْتَ .
- ..... أَنْتِ تَحْتَرِمِينَ إِشَارَةَ الْمُرُورِ .
- ..... أَنْتُمَا .
- ..... أَنْتُمْ .
- ..... أَنْتُنَّ .



- ..... أَنْتَ تَضَعُ النِّقَايَاتِ فِي الْخَاوِيَةِ .
- ..... أَنْتِ .
- ..... أَنْتُمَا .
- ..... أَنْتُمْ .
- ..... أَنْتُنَّ .



- ..... أَنْتِ .
- ..... أَنْتِ .
- ..... أَنْتُمَا تَنْظِفَانِ الْحَدِيقَةَ .
- ..... أَنْتُمْ .
- ..... أَنْتُنَّ .



- ..... أَنْتَ .
- ..... أَنْتِ .
- ..... أَنْتُمَا .
- ..... أَنْتُمْ تَتَجَوَّلُونَ فِي السُّوقِ .
- ..... أَنْتُنَّ .



- ..... أَنْتَ تُسَاعِدُ الْجَارَ .
- ..... أَنْتِ .
- ..... أَنْتُمَا .
- ..... أَنْتُمْ .
- ..... أَنْتُنَّ .





أَنْتِ تَزْرَعُ الْخُضَرَ •

..... أَنْتِ •

..... أَنْتُمَا •

..... أَنْتُمْ •

..... أَنْتُنَّ •



..... أَنْتِ •

أَنْتِ تَقْطِيفِينَ الثَّمَارَ •

..... أَنْتُمَا •

..... أَنْتُمْ •

..... أَنْتُنَّ •



أَنْتِ تُطْعِمُ الدَّجَاجَ •

..... أَنْتِ •

..... أَنْتُمَا •

..... أَنْتُمْ •

..... أَنْتُنَّ •



أَنْتِ تَحْرَثُ الْحَقْلَ •

..... أَنْتِ •

..... أَنْتُمَا •

..... أَنْتُمْ •

..... أَنْتُنَّ •




أَنْتِ تَجْمَعُ الْحَلِيبَ •

..... أَنْتِ •

..... أَنْتُمَا •

..... أَنْتُمْ •

..... أَنْتُنَّ •



..... أَنْتِ •

..... أَنْتِ •

أَنْتُمَا تَغْرِسَانِ شَجَرَةً •

..... أَنْتُمْ •

..... أَنْتُنَّ •

النشاط : 1 على كراس المحاولات انجز العمليات عموديا

$35+12=$	$20+20=$	$15+14=$	$87+10=$
$78+14=$	$45+45=$	$39+24=$	$19+11=$
$25-12=$	$30-30=$	$89-45=$	$65-11=$

النشاط 2- اكتب بالحروف

	40
	45
	81
	90

	5
	15
	20
	23

النشاط 3 اقارن

	19		48		35		25
	56		65		80		80
	78		82		99		13
	10		10		41		14

النشاط 4 افكك

$$105 = . + . + .$$

$$100+80+9 =$$

$$142 = . + . + .$$

$$100+00+4 =$$

$$140 = . + . + .$$

$$100+70+7 =$$

النشاط 5 اكمل

م	ع	و	م	ع	و	م	ع	و	م	ع	و

النشاط 6 اجد الضعف باستعمال العمليات العمودية

ضعف 10 =	ضعف 11 =	ضعف 12 =	ضعف 13 =	ضعف 14 =
----------	----------	----------	----------	----------

النشاط 7 اجد النصف باستعمال الجدول

نصف 10 =	نصف 28 =	نصف 46 =	نصف 80 =	نصف 22 =
----------	----------	----------	----------	----------

$196 = 100 + 90 + 6$

$165 = . + . + .$

$180 = . + . + .$

$105 = . + . + .$

$142 = . + . + .$

$140 = . + . + .$

$111 = . + . + .$

$137 = . + . + .$

$119 = . + . + .$

$100 = . + . + .$

$191 = . + . + .$

$175 = . + . + .$

$141 = . + . + .$

$122 = . + . + .$

$105 = . + . + .$

$160 = . + . + .$

$169 = . + . + .$

$100 + 30 + 5 = 135$

$100 + 20 + 4 =$

$100 + 20 + 0 =$

$100 + 80 + 9 =$

$100 + 00 + 4 =$

$100 + 70 + 7 =$

$100 + 60 + 6 =$

$100 + 80 + 9 =$

$100 + 50 + 5 =$

$100 + 00 + 0 =$

$100 + 10 + 1 =$

$100 + 30 + 8 =$

$100 + 00 + 4 =$

$100 + 50 + 1 =$

$100 + 30 + 0 =$

$100 + 60 + 7 =$

$100 + 10 + 9 =$