

الاسم: .....

اللقب: .....

# تقييم توجيهي

## الرياضيات

السنة الخامسة  
2022-2021

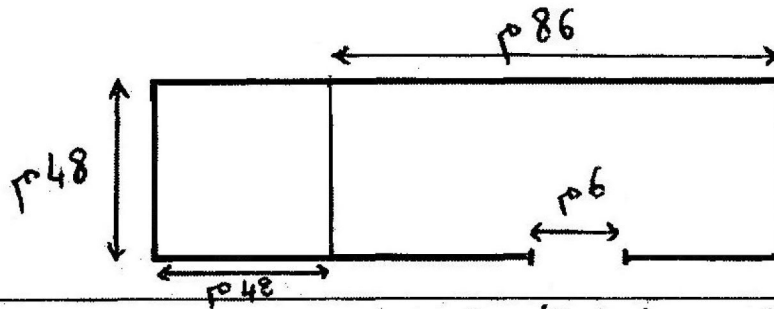
الأنشطة	المعايير
<p><b>السند 1:</b> اشترى فلاح قطعتي أرض متجاورتين الأولى مستطيلة الشكل قيس طولها 86 م و قيس محيطها 268 م و بها 245 شجرة رمان و الثانية مربعة الشكل بها 126 شجرة إجاص. في هذه السنة أنتجت كل شجرة رمان معدل 58 كغ في حين أنتجت كل شجرة إجاص معدل 104 كغ .</p>	
<p><b>تعلیمة 1:</b> ماهي كتلة الرمان المنتج هذه السنة؟</p> <p>.....</p> <p>.....</p>	مع 2 <input type="checkbox"/> 1
<p><b>تعلیمة 2:</b> ماهي كتلة الإجاص المنتج هذه السنة؟</p> <p>.....</p> <p>.....</p>	مع 2 <input checked="" type="checkbox"/> 1
<p><b>تعلیمة 3:</b> ماهي قيس مساحة القطعة الأولى؟</p> <p>.....</p> <p>.....</p> <p>.....</p> <p>.....</p>	مع 2 <input type="checkbox"/> 0,5 مع 5 1 <input type="checkbox"/>
<p><b>السند 2:</b> باع الفلاح خمس إنتاجه من الرمان بحساب 325 مي الكغ الواحد و باع سبع إنتاجه من الإجاص بحساب 475 مي الكغ الواحد.</p>	
<p><b>تعلیمة 1:</b> ماهو ثمن بيع الرمان ؟</p> <p>.....</p> <p>.....</p> <p>.....</p> <p>.....</p>	مع 1 <input type="checkbox"/> 0,5 مع 2 ب <input type="checkbox"/> 1
<p><b>تعلیمة 2:</b> ماهو ثمن بيع الإجاص ؟</p> <p>.....</p> <p>.....</p> <p>.....</p> <p>.....</p>	مع 1 <input type="checkbox"/> 0,5 مع 2 ب <input type="checkbox"/> 1

تعليمة 3: أمتلِ قطعتي الأرض بمستطيل قيس طوله 5صم وقيس عرضه 4صم و مرتب مجاور له من جهة العرض قيس ضلعه 4صم أيضا.

مع 4  
 1

مع 4  
 0.5

السند 3: أحاط الفلاح أرضه الممتلئة على الرسم التالي بأقيسة حقيقية بسياج تاركا مدخلا قيس طوله 6م.



تعليمة 1: ماهو قيس محيط هذه الأرض؟


مع 3ب  
  
1

تعليمة 2: ماهو ثمن شراء السياج؟ علما أن ثمن شراء المتر الواحد هو 2345 صي.


مع 1  
 0.5  
مع 2  
 1

السند 4: استيقظ الفلاح كعادته على الساعة الخامسة و 35 دق صباحا. توضأ و صلى ثم تناول فطوره. بعد هذه الأعمال نظر إلى الساعة الحائطية فوجدها تشير إلى السادسة و ثلث عندها انطلق قاصدا المغازة.

\* تعليمة 1: أحتد ساعة استيقاظ الفلاح



مع 3ج  
 0.5



\* تعليمة 2: أحتد ساعة خروج الفلاح من المنزل

مع 3ج  
 0.5

\* تعليمة 3: أحتد المدة الزمنية التي قضها الفلاح في وضوئه و صلاته و تناول فطوره.

.....  
.....

مع 3ج  
 1

**السند 5:** اشترى الفلاح من المغازة أسمدة بـ 29586 مي وفأسا ثمنه ثلث ثمن الأسمدة و مجموعة أكياس. قَدِّم للعامل ورقة نقدية من فئة 50 د فارجع له 3675 مي.

**تعلية 1:** أبحث عن ثمن الفأس:

مع 2  
1

**تعلية 2:** أطرح سؤالا آخر لهذا السند يكون ذا مرحلتين على الأقل ثم أجيب عنه:

مع 5  
1

السؤال:

الجواب:

مع 5  
1,5

### جدول إسناد الأعداد

معيار التمييز	معايير الحد الأدنى						
	مع 5	مع 4	مع 3ج	مع 3ب	مع 2ب	مع 2	مع 1
0	0	0	0	0	0	0	العدم التملك
1	0.5	0.5	0	0.5	0.5	0.5	دون التملك الأدنى
2	1	1	0.5	1.5	2.5	1	التملك الأدنى
3.5	1.5	2	1	2	4.5	1.5	التملك الأقصى