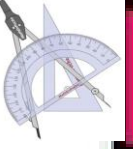


تقديم محترسات التلاميذ في زهارة الولاية الأولى



الاسم و اللقب:

السنة الخامسة

❖ التمرين الأول:
أنجز العمليات الآتية.

$$\begin{array}{r} 9678 \\ 6 \end{array}$$

$$\begin{array}{r} 25\ 345 \\ \times \quad 67 \\ \hline \end{array}$$

$$\begin{array}{r} 906\ 780 \\ - \quad 432\ 865 \\ \hline = \end{array}$$

❖ التمرين الثاني:

اشترى السيد حازم و السيدة نور أرضاً ليقميا عليه منزلاً ثمنها 13 200 د.
✓ ما هو قيس مساحتها إذا علمت أن ثمن المتر المربع الواحد 48 د.

.....

.....

.....

.....

.....

مع 1

مع 2 ب

ساهم السيد حازم بمبلغ يفوق مساهمة زوجته بما قدره 1 400 د.
✓ أحسب مساهمة كل من الزوجين.

.....

.....

.....

.....

.....

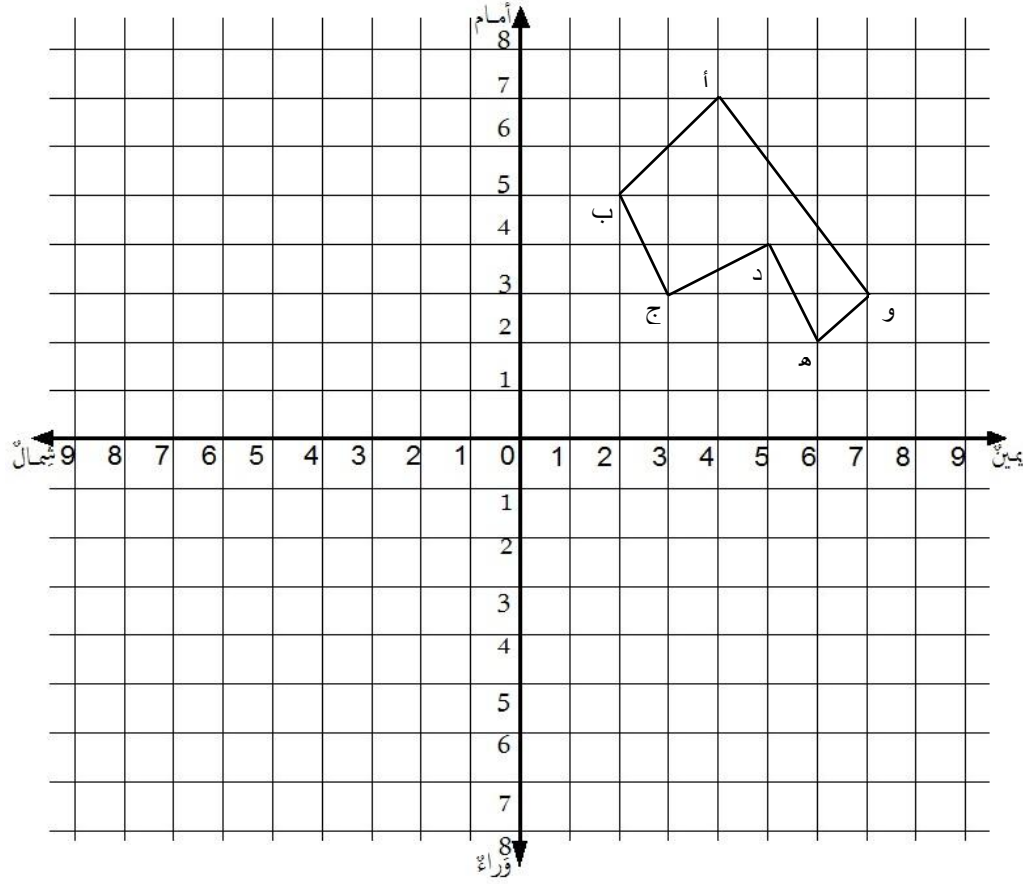
مع 1

مع 2 ب

مع 5

❖ التمرين الثالث:


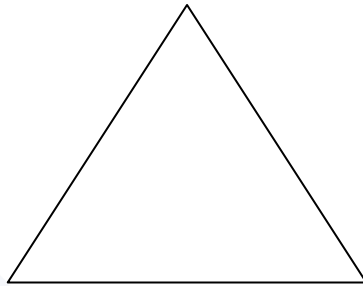
ألاحظ شكل الأرض على الشبكة. أرسُم صورتها وفقًا للمحور العمودي.



مع 4أ

مع 4ب

أرسُم محاور التناظر في هذه الأشكال.



جدول إسناد الأعداد

معايير التميز
مع 5
5

معايير الحد الأدنى				
مع 3	مع 3أ	مع 2ب	مع 2أ	مع 1
0	0	0	0	0
1	1	1	1	1
2	2	2	2	2
3	3	3	3	3

مستويات التملك
انعدام التملك (---)
دون التملك الأدنى (---)
التملك الأدنى (---)
التملك الأقصى (---)



نَجْحَنِي