

## تنوع الكائنات الـدمية

مقدمة:

توجد في الطبيعة كائنات دمية لا يمكن ملاحظتها إلا  
بالمجهر وهي تلعب دوراً هاماً في تفكيك المواد العضوية

المجهر الضوئي:

هو جهاز يـكـبـر خيـال الأـجسام التي لا يمكن ملاحظتها

بالعين المجردة



Mr Aymen Salhi

Education en ligne  
tel:53080851

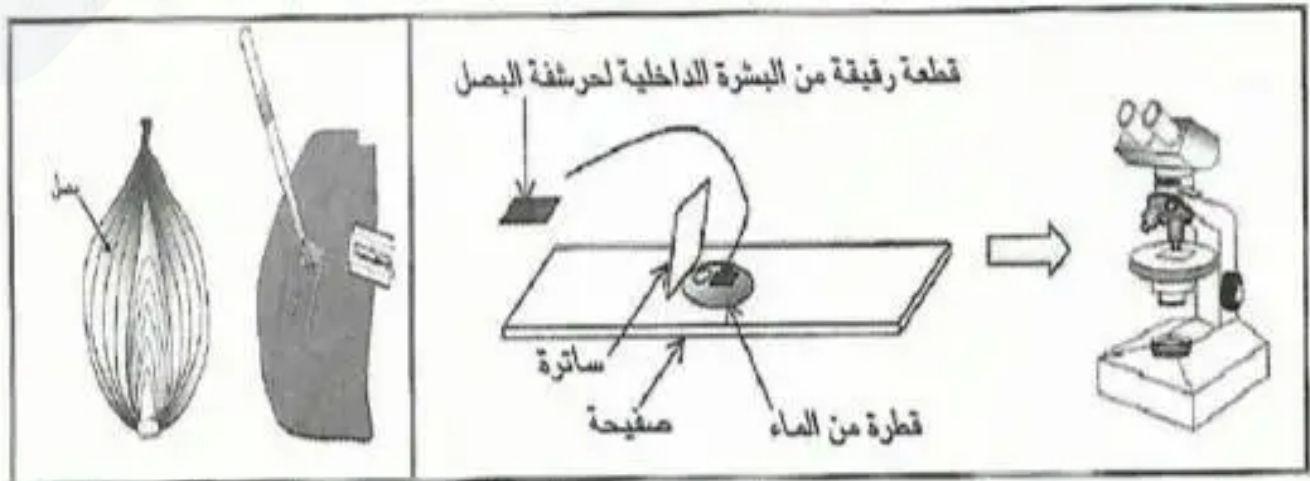


Classe ; 7e pilote

Matiere ; sciences

fb:ETUDE MATH-chbedda

## تعضير السريحة أدر المحضر المجهري

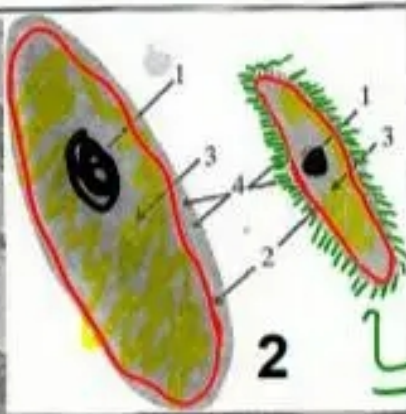


قوة التكبير = قوة تكبير العدسة العينية × قوة تكبير العدسة الشيئية

ملاحظة: مجهرية لبعض الكائنات الدقيقة

مساعدة ابراهيم

(1) مشاهدة البراميسيوم

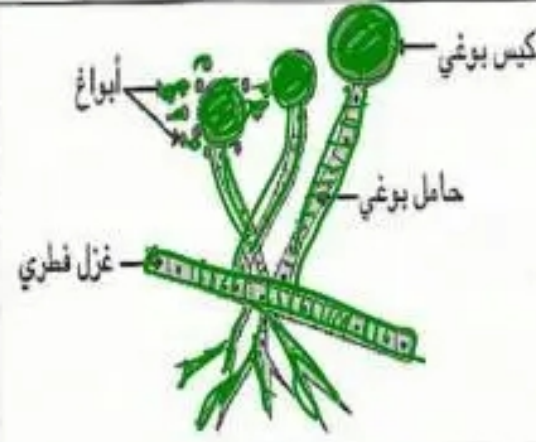
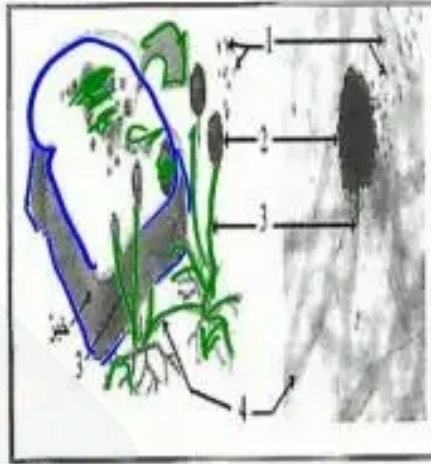


البراميسيوم هو حيوان متكون من  
جزئية واحدة والتي تتكون من 3  
عناصر أساسية وهي  
\* النواة (1)  
\* الغشاء الخلوي (2)  
\* السيتوبلازم (3)  
تحتوي البراميسيوم على أهداب  
اهتزازية تمكنها من الحركة

الأهداب



(3) مشاهدة عفن الخبز



عفن الخبز يتكون من خيوطا متشابكة تحمل في أطرافها أكياسا بوغية تحتوي على أبواغ للتكاثر

- \* أبواغ (1)
- \* كيس بوغي (2)
- \* حامل بوغي (3)
- \* غزل فطري (4)

خلاصة

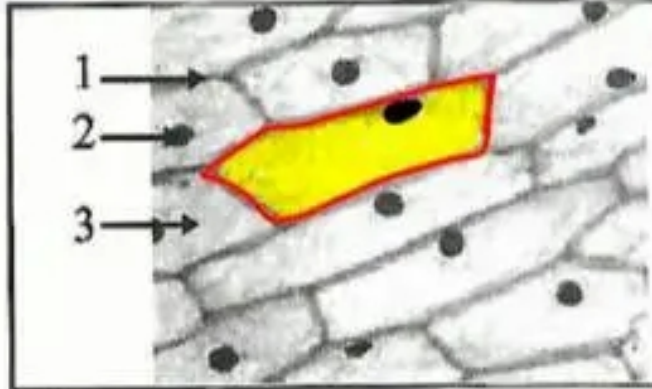
الكائن الحي اله قيع هو كائن مجهرى يتركب من جزئية واحدة أو من عدة جزئيات متماثلة مثل عفن الخبز

الكائنات الدقيقة متعددة ومتنوعة وهي تنقسم إلى مجموعات



### III. مشاهدة مجهرية لبعض الكائنات النباتية

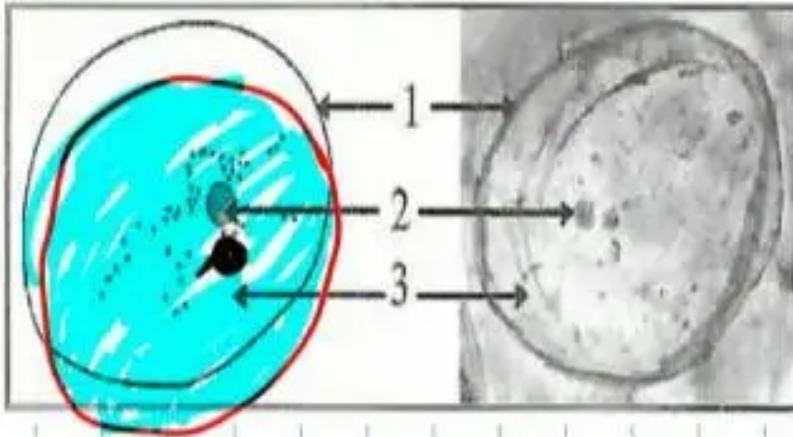
#### (1) مشاهدة مجهرية حشفة البصل



تبرز المشاهدة المجهرية نسيجا متكونا من عدة جزئيات متماثلة، متلاصقة ومستطيلة الشكل. تتكون كل جزئية من 3 عناصر أساسية وهي

- ❖ الغشاء الخلوي (1)
- ❖ النواة (2)
- ❖ السيتوبلازم (3)

#### (2) مشاهدة مجهرية لللب الطماطم

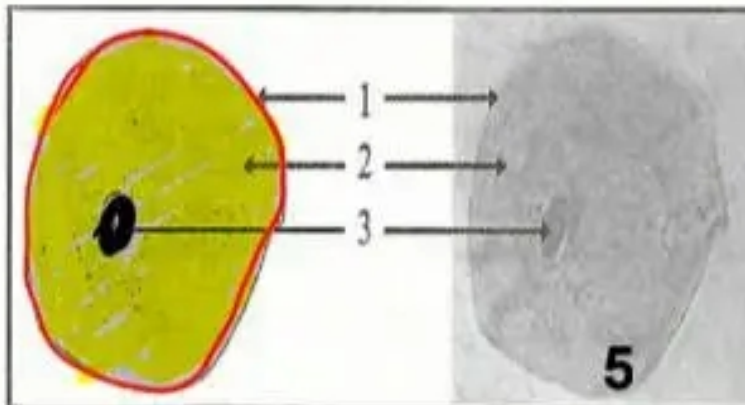


تبرز المشاهدة المجهرية نسيجا متكونا من عدة جزئيات متماثلة. تتكون كل جزئية من 3 عناصر أساسية وهي

- ❖ الغشاء الخلوي (1)
- ❖ النواة (2)
- ❖ السيتوبلازم (3)

### IV. مشاهدة مجهرية لبعض الكائنات الحيوانية

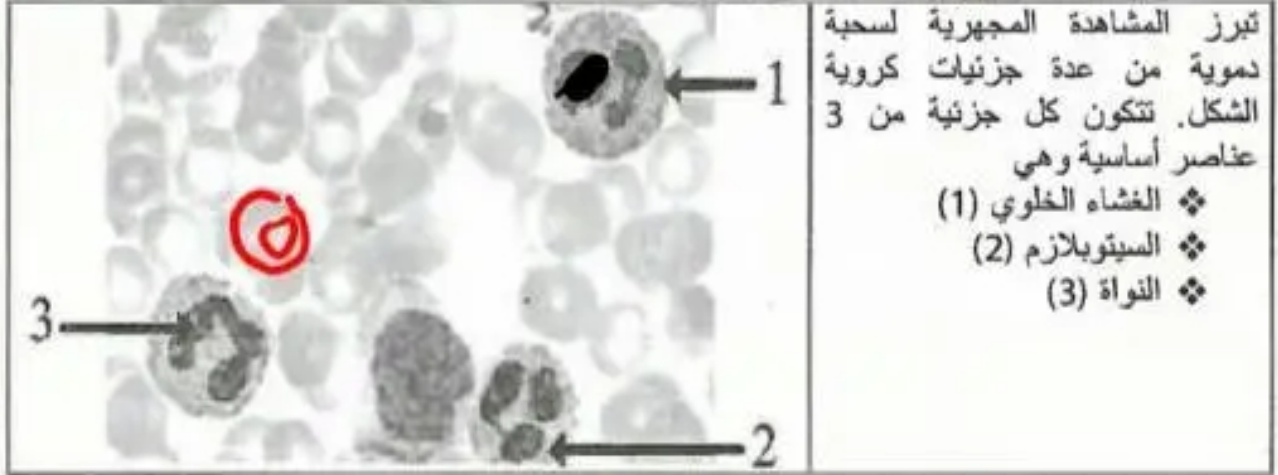
#### (1) مشاهدة مجهرية للوجه الداخلي للخد



تبرز المشاهدة المجهرية نسيجا متكونا من عدة جزئيات متماثلة، متلاصقة وكروية الشكل. تتكون كل جزئية من 3 عناصر أساسية وهي

- ❖ الغشاء الخلوي (1)
- ❖ السيتوبلازم (2)
- ❖ النواة (3)

(2) مشاهدة مجهرية لسحبة دموية ملونة



**استنتاج :** تتكون أجسام الكائنات الميتة من جزئيات أو مجموعة جزئيات متعادلة تتكون كل واحدة منها من

وتسمى هذه الجزئيات بالخلايا

- نواة
- سيتوبلازم
- غشاء خلوي

**تصنيف الكائنات الحية**

كائنات متعددة الخلايا

تتكون من خلايا متعددة تؤمن الوضائف الأساسية للحياة مثل الحيوانات / النباتات

6

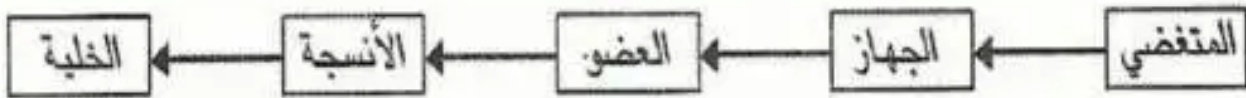
كائنات أحادية الخلية

تتكون من خلية واحدة تقوم بالوظائف الأساسية للحياة مثال :  
البرامسيوم  
الأميبيا  
الخميرة  
البكتيريا

يكون جسم الكائنات متعددة الخلايا منظما على النحو التالي:

- ❖ المتعضي وهو مجموعة الأجهزة (جهاز تنفسي، جهاز هضمي، جهاز عصبي .....
- ❖ الجهاز هو مجموعة أعضاء
- ❖ العضو هو مجموع أنسجة
- ❖ النسيج هو مجموعة خلايا متشابهة وتؤدي نفس الوظيفة

خلاصة



\* تمرين عدد 3

يمثل الرسم الموالي جزءا من المجهر الضوئي



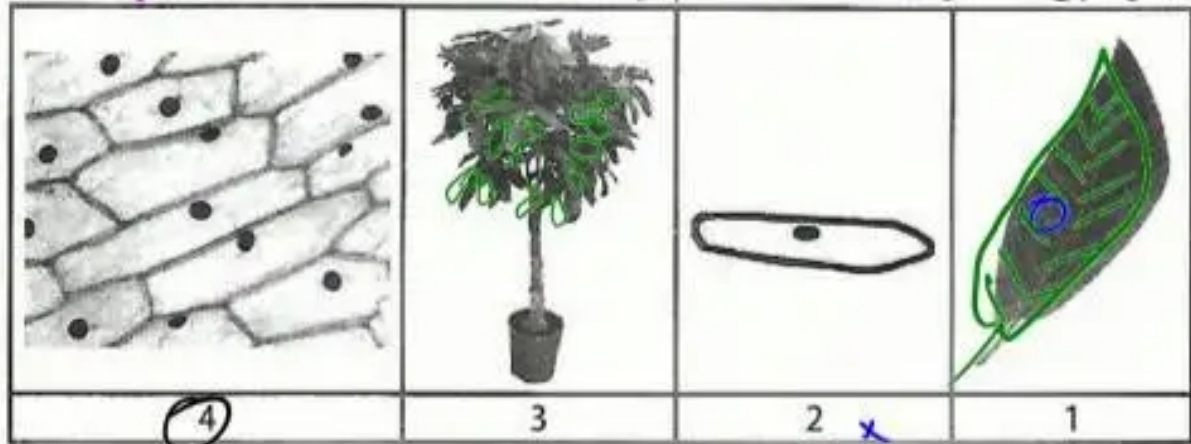
1. ضع البيانات المناسبة مكان الأرقام





## \* تمرين عدد 5

للتعرف إلى البنية التركيبية للكائنات الحية نقدم الوثيقة التالية



1. رتب هذه العناصر التالية باستعمال الأرقام حسب التسلسل المنطقي لتركيب الكائنات الحية

..... 2 ← 1 ← 3

2. عرف بالعنصر رقم 4

النسيج هو مجموعة خلايا متشابهة وتؤدي نفس الوظيفة

3. أتمم الجمل التالية بما يناسب من الكلمات

(أ) **النسج** هو مجموعة أجهزة يتكون كل منها من عدة أعضاء التي

تتكون بدورها من مجموعة **النسج**.....

(ب) تعتبر **الخلية** الوحدة **التركيبية** و **الوظيفية** للكائنات الحية

\* تمرين ع 6 دد

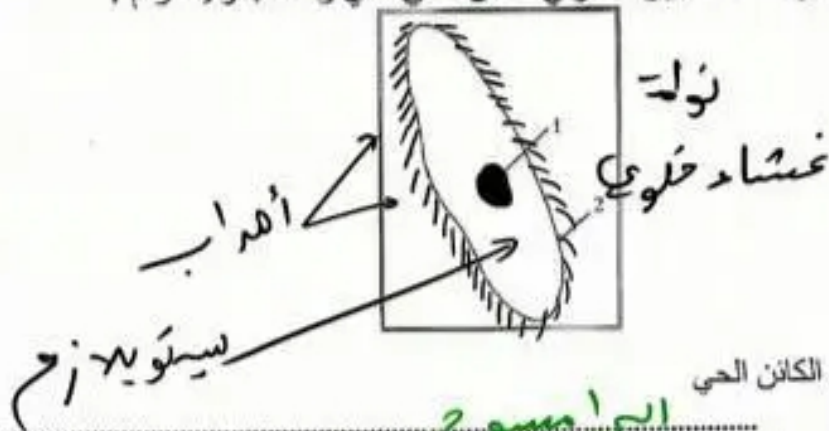
وضع أحمد أوراق البقدونس في وعاء به ماء لمدة أسبوع ولما أراد مشاهدة الكائنات الحية الموجودة بهذا المنقوع استعمل المجهر الضوئي

(1) عرف بالمجهر الضوئي. \* هو جهاز لتكبير حيال الأقسام التي لا يمكن ملاحظتها بالعين المجردة

(2) فسّر كيف أعد أحمد المحضر المجهري. نضع بين يدينا منقوع البقدونس

(3) شاهد أحمد بواسطة المجهر الضوئي الكائن الحي الذي رسمه بالوثيقة رقم 1

مماز  
آلاء



(أ) ما اسم الكائن الحي

البرامسيوم

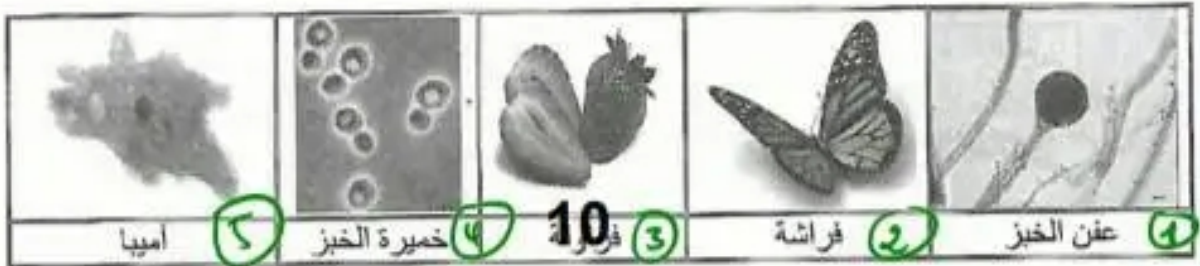
(ب) ضع أمام الأرقام ما يناسب من البيانات  
(ت) عندما قام أحمد برسم هذا الكائن نسي جزئين هاميين من مكوناته، أتمم على الرسم هذين الجزئين مع وضع البيانات المناسبة

(4) عند المشاهدة المجهرية استعمل أحمد عدسة عينية تحمل (15 X). ابحث عن قوة تكبير العدسة الشيئية التي اختارها للمشاهدة المجهرية إذا علمت أن قوة تكبير المجهر (600 X) مع كتابة القاعدة والعملية

قوة تكبير المجهر = قوة تكبير العدسة x قوة تكبير العدسة الشيئية

$$\text{قوة تكبير العدسة الشيئية} = \frac{600}{15} = 40 \text{ (x)}$$

(5) تمثل الوثيقة التالية رسوما لكائنات حية مختلفة



أميبا

5

خميرة الخبز

4

10

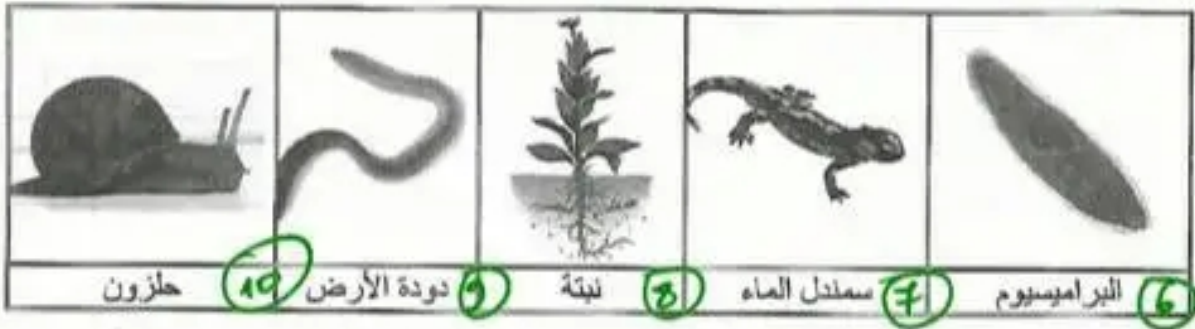
3

فراشة

2

عن الخبز

4



حلزون (19) دودة الأرض (9) نبتة (8) سمندل الماء (7) البراميسيوم (6)

❖ صنف هذه الكائنات الحية في الجدول الموالي حسب معيار عدد الخلاياها وأذكر اسم

اسم المجموعة	كل مجموعة	كائنات متعددة الخلايا	كائنات احادية الخلية
الكائنات الحية	1, 2, 3, 4, 5, 6, 7, 8, 9, 10	8, 9, 10	1, 2, 3, 4, 5, 6, 7

(6) يتكون جلد الضفدعة من خلايا بيضاوية الشكل متشابهة ومتلاصقة تقوم بحماية الجسم أما  
أمعاؤها فتتكون من خلايا مستطيلة الشكل متشابهة ومتلاصقة وهي مسؤولة عن عملية  
الهضم وامتصاص الغذاء  
❖ انطلاقاً من النص اشرح سبب اختلاف شكل خلايا الجلد عن خلايا الأمعاء

اختلاف شكل خلايا الجلد عن خلايا الأمعاء يعود  
إلى اختلاف وظيفته كل خلية

خلية الجلد تلعب دوراً هاماً في حماية جسم الضفدعة ←

خلايا الأمعاء تلعب دوراً هاماً في عملية الهضم وامتصاص الغذاء ←