



السند 1: وَصَلَ الْأَطْفَالَ أَحْمَدُ وَسَلَمَى وَرَبَابُ إِلَى الْكُتَيْبَةِ
وَمَعَ كُلِّ وَاحِدٍ مَبْلَغًا مِنَ الْمَالِ كَمَا يُبَيِّنُهُ الْجَدْوَلُ التَّالِي.

تَمَلِكُ رَبَابُ	تَمَلِكُ سَلَمَى	يَمَلِكُ أَحْمَدُ
		
985 مي	885 مي

3
L
L
L

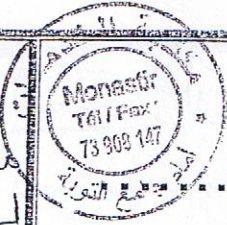
التعليمة 1:

- * أَحْسَبُ الْمَبْلَغَ الَّذِي يَمْلِكُهُ أَحْمَدُ
- * أَمِلُ الْمَبْلَغَ الَّذِي تَمَلِكُهُ سَلَمَى بِأَقْلٍ عَدَدٍ مُمَكِّنٍ مِنَ الْقِطْعِ النَّقْدِيِّ
- * أَكْمِلُ تَمَثِيلَ مَبْلَغِ رَبَابُ.

السند 2: اشترت سلمى أوراقاً ملونة بـ 475 مي وأقلاماً

شمعية بـ 385 مي.

واقبتت رباباً أشرطةً يقل ثمنها عن ثمن الأوراق الملونة بـ 125 مي.



التعليمة 2: أَحْسَبُ ثَمَنَ مُشْتَرِيَاتِ سَلْمَى.

التعليمة 3: أَحْسَبُ الْمَبْلَغَ الْمَتَّبِعِي لِسَلْمَى.

التعليمة 4: كَمْ ثَمَنُ الْأَشْرِطَةِ؟

التعليمة 5: كَمْ بَقِيَ لِرَبَابٍ؟

السند 3: وَأَشْتَرَى أَحْمَدُ شَرِيظًا لَاصِقًا لِتَجْمِيلِ لَوْحَةٍ ثَمَنُهُ

450 مِي وَمَجْمُوعَةَ صُورٍ وَبَقِيَ لَهُ 15 مِي.

التعليمة 6: أَبْحَثُ عَنِ ثَمَنِ الْمُسْتَرِيَاتِ.

التعليمة 7: أَبْحَثُ عَنِ ثَمَنِ مَجْمُوعَةِ الصُّورِ.





السند 4: أرادت ألينتان سلمى ورَبَابُ شِرَاءِ غِلَافَيْنِ بِمَا
بَقِيَ لَهُمَا، تَمَنُّ الْغِلَافِ الْوَاحِدِ 475 مي.
* أَطْرَحُ سُؤَالَاً مُنَاسِبًا لِلْوَضْعِيَّةِ وَأَجِيبُ عَنْهُ.



محرر

ل
ل
ل
ل
ل

* رَسْمٌ عَلَى الْغِلَافِ مُضَلَّعَاتٍ:

<p>أَرْسَمُ خَطًّا دَاخِلًا الْمُضَلَّعَ لِلْحُصُولِ عَلَى مُثَلَّثٍ وَخُمْاسِي:</p> 	<p>أَرْسِمُ مُضَلَّعًا سَدَاسِيًّا:</p>	<p>أَكْمِلُ رَسْمَ مُضَلَّعٍ رُبَاعِي:</p> 
--	---	--

محرر

ل
ل
ل
ل

جدول أسناد الأعداد

مستويات التملك	محرر 1	محرر 2	محرر 3	محرر 4	محرر 5
انعدام التملك	0	0	0	0	0
التملك دون الأدنى	1/05	1/05	1	1	1
التملك الأدنى	1,5	1,5	2	2	3/2
التملك الأقصى	2,5/2 3	2,5/2 3	3	3	4

نَجْهِي