

Ministère de l'éducation Ecole Préparatoire Rue Karatchi Enseignante : Dhouha Tlili	Devoir de Synthèse N°1 en informatique	Année Scolaire : 2014/2015 Date : Décembre 2015 Durée : 1 heure
Nom : Prénom : Classe : 7 B ... Numéro:		
Appréciation :		NOTE : /20

Exercice 1 : (...../5 pts)

1. Compléter le paragraphe en utilisant les mots de la liste suivante : (2,5)

sauvegarder /permanente /périphériques/ ordinateur / CD / flash disque/
windows / unité centrale /disquette/ Linux.

Chaque ordinateur est composé d'uneet des

Un support de stockage permet dedes informations d'une façon.....exemple :..... ;..... ;.....

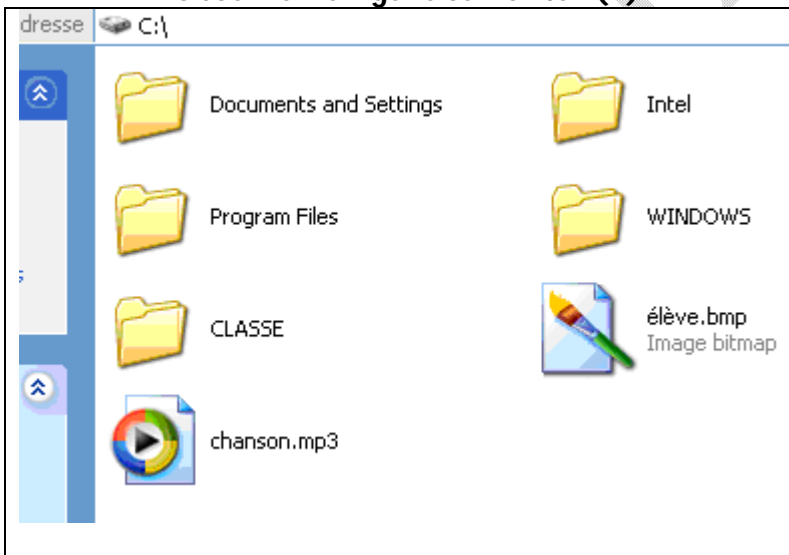
Un système d'exploitation est un ensemble de programme nécessaire au démarrage et l'utilisation de l'..... commeXP et

2. Mettre une croix (X) dans la bonne case : (2,5)

Phrases	Vrai	Faux
Un ordinateur peut fonctionner sans système d'exploitation.		
Le système d'exploitation installé sur les ordinateurs de notre salle est Windows XP.		
Le microphone est un périphérique de sortie.		
Je peux changer le système d'exploitation installé sur mon ordinateur si j'en ai besoin.		
L'unité centrale est un périphérique.		

Exercice 2 : (...../5 pts)

1- Observer la figure suivante : (2)



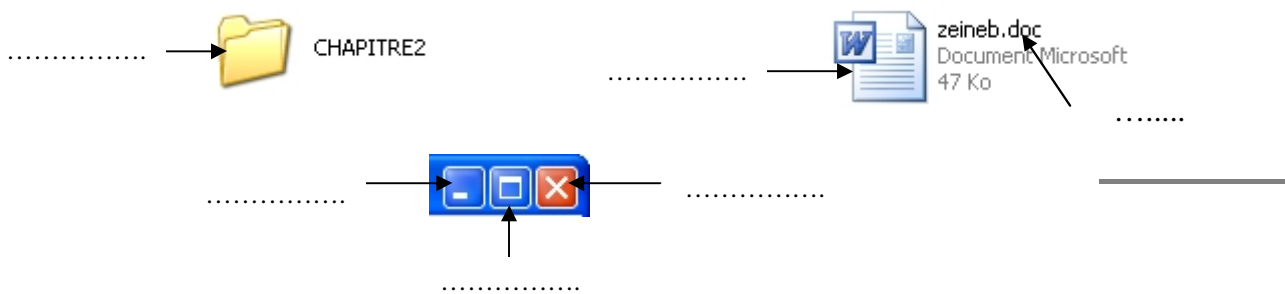
- a)- Combien de dossiers ?
- b)- Combien de fichiers ?.....
- c)- Quel est l'emplacement de ces dossiers et fichiers ? (Où sont ils enregistrés ?)
- d)- Quel est l'extension du fichier image ?
.....

2- Mettre en ordre ces étapes permettant de créer le dossier « CLASSE » : (3)

- Choisir la commande «Nouveau ».
- Saisir le nom du dossier « CLASSE ».
- Double cliquer sur l'icône « Poste de travail ».
- Cliquer sur le menu « Fichier ».
- Double cliquer sur l'icône «Disque local (C:) ».
- Choisir la commande «Dossier ».

Exercice 3 : (...../3 pts)

Compléter ces schémas par les mots convenables:



Exercice 4 : (...../4 pts)


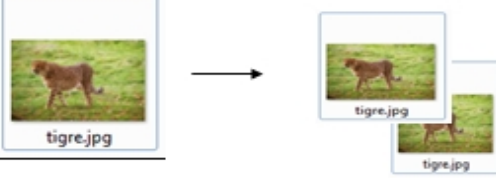
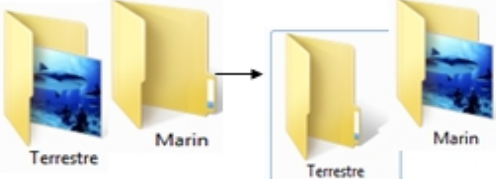
Nommer les matériels suivants :

			
1-.....	2-.....	3-.....	4-.....
			
5-.....	6-.....	7-.....	8-.....

Exercice 5 : (...../3 pts)

Relier par une flèche, la colonne A à l'opération correspondante dans la colonne B :



<u>A</u>		<u>B</u>
		<p>Copier ce fichier</p>
		<p>Renommer ce fichier</p>
		<p>Déplacer ce fichier</p>

Dhouha TUNISIA

