

## فرض المراقبة الثاني

الاسم: .....

اللقب: .....

القسم: .....

### II الجزء الأول: (7 نقاط)

14

1. استعن بهذه المعطيات للتعرف على بعض شخصيات النهضة الأوروبية: (أفياً)				
عالم فلك بولوني خالف الكنيسة بنظرية الشمس مركز الكون		←		
سياسي ومؤرخ ومفكر إيطالي صاحب كتاب "الأمير"		←		
طبيب بلجيكي اهتم في علم التشريح		←		
(عودياً) حدد مجال نشاط هذه الشخصية		←		

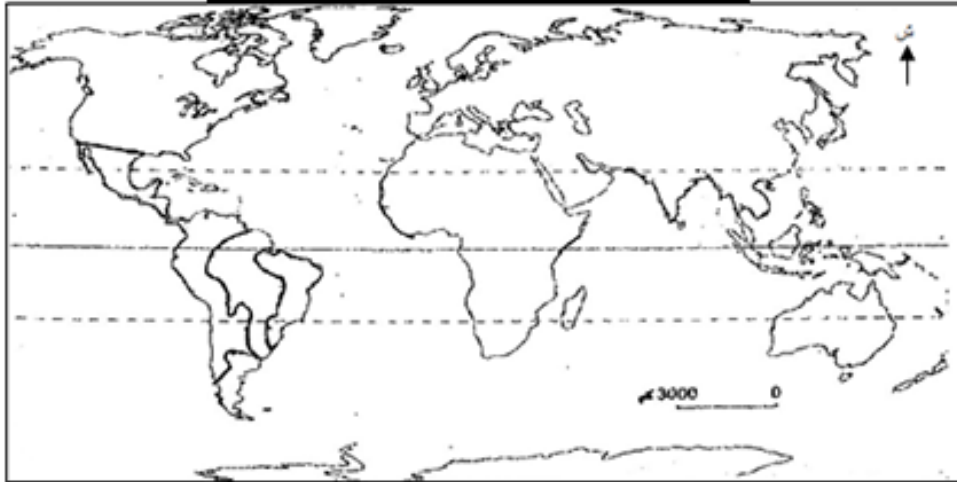
ا
ر
م

ل				
	ل			

13

### العنوان: خريطة الاكتشافات الجغرافية الكبرى

2. أكمل الخريطة ومفتاحها بما يناسب :



#### المفتاح:

..... < رحلة كريستوف

كولومب سنة .....14م.

المستعمرات البرتغالية  
سنة 1550



### III الجزء الثاني : (11 نقطة) تحرير فقرة :

الموضوع: حلل من خلال فقرة تغيير نظام الحكم وإعلان حقوق الإنسان والمواطن كأهم نتائج الثورة الفرنسية.

في المقدمة: الإشارة إلى تاريخ قيام الثورة الفرنسية وتعدد نتائجها ثم طرح إشكالية الفقرة.

1.5 .....

في الجواهر: تحليل نتائج هذه الثورة على مستويي تغيير نظام الحكم وإعلان حقوق الإنسان والمواطن.

8 .....

في الخاتمة: استنتاج وفتح آفاق بخصوص إصلاحات شملت مجالات أخرى.

1.5 .....

### 12 الصياغة والتنظي

المادة: التاريخ  
المدة: 30 دقيقة  
المستوى التعليمي: 8 أساسي

## فرض المراقبة الثاني

الاسم: .....  
اللقب: .....  
القسم: .....

### القسم الأول : (6 نقاط)

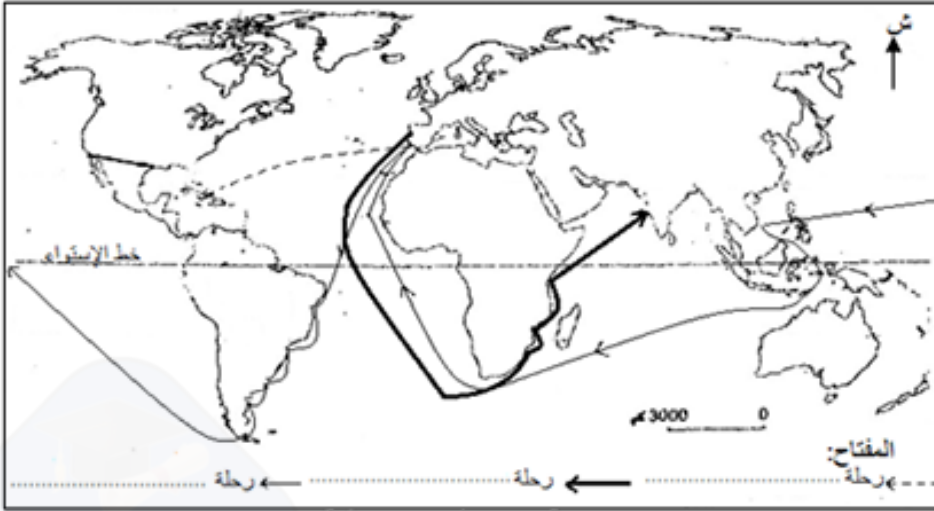
1. أذكر اسم اللوحة وصاحبها

وجنسيته: /3

- هذه لوحة .....  
- للرسام .....



2. أكمل مفتاح الخريطة بما يناسب من أسماء المستكشفين: ماجلان - كريستوف كولومب - فاسكو دي قاما. /3



العنوان: خريطة الاكتشافات الجغرافية الكبرى

### القسم الثاني : (12 نقطة) تحليل وثيقة :

مطالب الطبقة الثالثة في فرنسا في بداية 1789

"إن إقصاء الطبقة الثالثة الأكثر عددا ونفعا من الوظائف هو خنق للعبرية وللمواهب حيث يتمتع النبلاء بكل الامتيازات فهم يفرغون الخزينة الملكية تلك الخزينة التي تملؤها الطبقة الثالثة وفي نهاية الأمر تمول الطبقة الثالثة كل شيء ولا تتمتع بأي شيء."

من كراسات مطالب الطبقة الثالثة في بداية سنة 1789

أجب على الأسئلة بالاعتماد على الوثيقة ومستعينا بالدرس:

1. قدم نوع الوثيقة وموضوعها وإطارها التاريخي العام ثم سطر العنوان الذي تراه مناسباً لها:

/3 .....  
استغلال البرجوازيين للطبقة الثالثة - استغلال النبلاء للطبقة الثالثة - معاناة الطبقة الثالثة في فرنسا خلال ق XIX

/5 .....  
2. عرف بمكونات الطبقة الثالثة في فرنسا ووزنها الاجتماعي قبيل الثورة الفرنسية

/4 .....  
3. أذكر مظلمتين للطبقة الثالثة ودعم إجابتك بأدلة واضحة من الوثيقة:

المظلمة 1:	الدليل من الوثيقة: "....."
.....	"....."
المظلمة 2:	الدليل من الوثيقة: "....."
.....	"....."

### الصياغة والتنظير /2

نحني

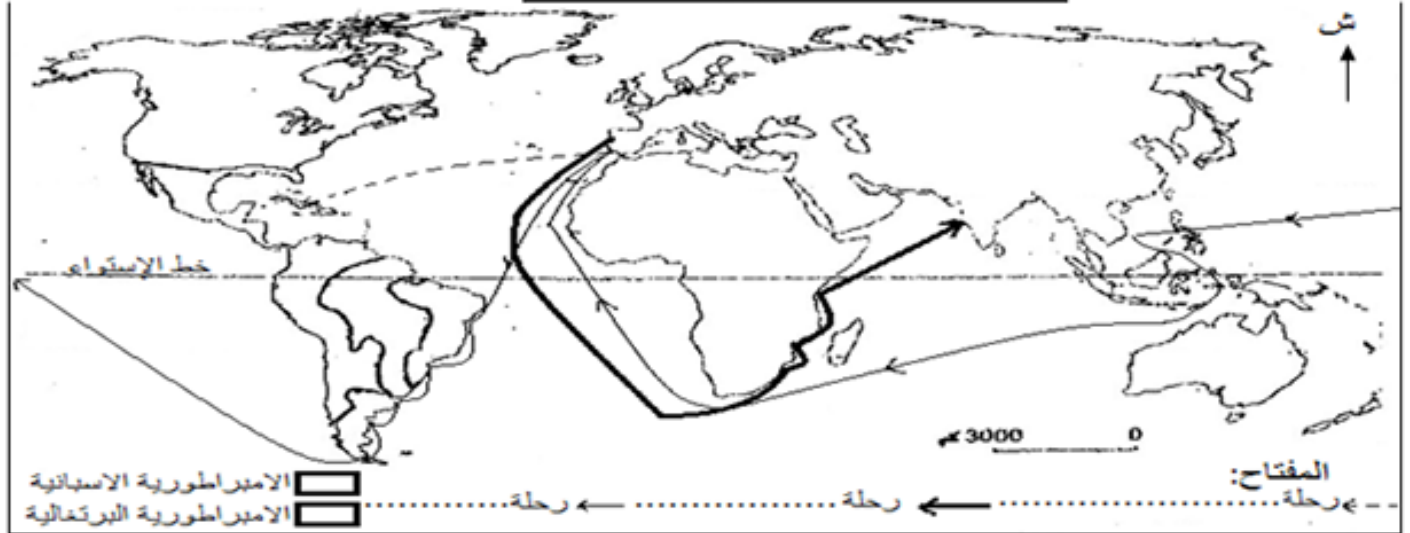
## فرض المراقبة الثاني

الاسم: .....  
اللقب: .....  
القسم: .....

### II الجزء الأول : (6 نقاط)

1. اربط رواد حركة التنوير بفرنسا بفترة حياتهم وأهم مؤلفاتهم:
- |              |               |
|--------------|---------------|
| ● فولتير ●   | ● 1778 - 1712 |
| ● مونتيكيو ● | ● 1778 - 1694 |
| ● روسو ●     | ● 1755 - 1689 |
2. أكمل الخريطة ومفتاحها بما يناسب :

### العنوان: خريطة الاكتشافات الجغرافية الكبرى



### II الجزء الثاني : (2 نقطة) تحليل وثيقة :

العنوان: لوحة " ..... " ل.....

1. قدم الإطار الزمني والمكاني العامين الذين رسمت فيهما هذه اللوحة:

/2

2. أكمل الفراغات في الوثيقة وعنوانها: (رافائيل - أثينا - إقليدس - ابن رشد - أبولون - أفلاطون - مدرسة أثينا - ميكائيل أنج)

/4

3. قدم من خلال فقرة قصيرة بقية المعلومات الخاصة بهذه اللوحة (قياساتها - مكان وجودها - تاريخ رسمها - موضوعها - خصائصها الفنية)



/6

الصياغة والتنظيغ /2