

المدرسة الإعدادية  
 ببنى خيار  
 التاريخ: 2010/02/.....  
 الفرض العادي الثاني  
 المادة: التربية التكنولوجية  
 الضارب: 1  
 التوقيت: 30 دقيقة  
 الإسم: .....  
 اللقب: .....  
 الرقم: .....  
 القسم: .....

/20

الأستاذ:



بديع بالشيف

تمرين 1  
 ضع علامة في الخانة المناسبة للجواب الصحيح:

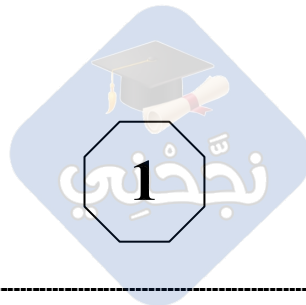
\* يميز القاطع الإلكتروني الخاصيتين:

	جهد كهربائي قويّ مقابل شدة تيارٍ مرتفعة
	جهد كهربائي ضعيف نسبياً مقابل تيارٍ كهربائي مرتفع
	جهد كهربائي و شدة تيارٍ كهربائي ضعيفين
	جهد كهربائي و شدة تيارٍ كهربائي مرتفعين

تمرين 2  
 أكتب اسم جهاز الحماية أو ارسم الرمز المقنن لجهاز الحماية المذكور:

			
.....	قاطع فارقي	.....	صهيرة

تمرين 3  
 أتمم الجدول التالي بما ينبغي:



الرمز	الطاقة المولدة	الطاقة المتقبلة	الجهاز
			مصباح كهربائي
			محرك كهربائي
			الجرس
			قفل كهربائي
			الفولطمتر
			الأمبرمتر

تمرين 4  
أربط بسهم الإجابة الصحيحة:

يركب بالتسلسل مع  
المكوّنات الكهربائيّة

الفولطمتر

يركب بالتوازي مع  
المكوّنات الكهربائيّة

الأمبرمتر

