

الأستاذ: حسن الخطراوي

فرض تأليفي عدد 3

المدرسة الإعدادية بالكساسة

2015/2014

المادة: التربة التكنه له حبة

الضارب: 1

اسم ولقب التلميذ: القسم: 8 أساسي الرقم:

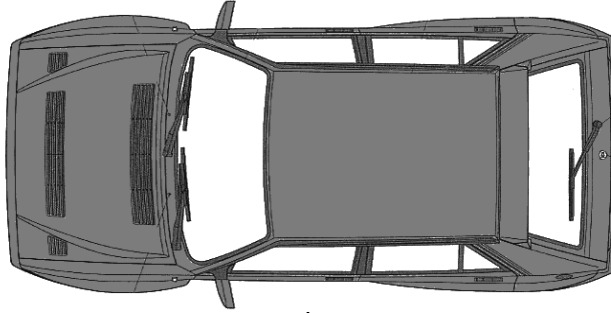
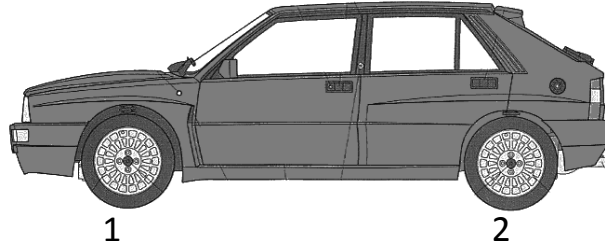
العدد المسند:

...../20

النشاط 1

مسقط أمامي

1. اكمل تسمية المساقط للسيارة



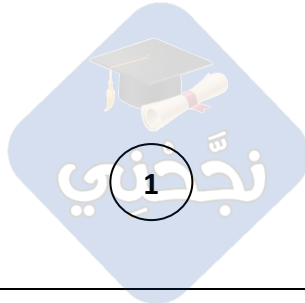
.....مسقط

.....مسقط

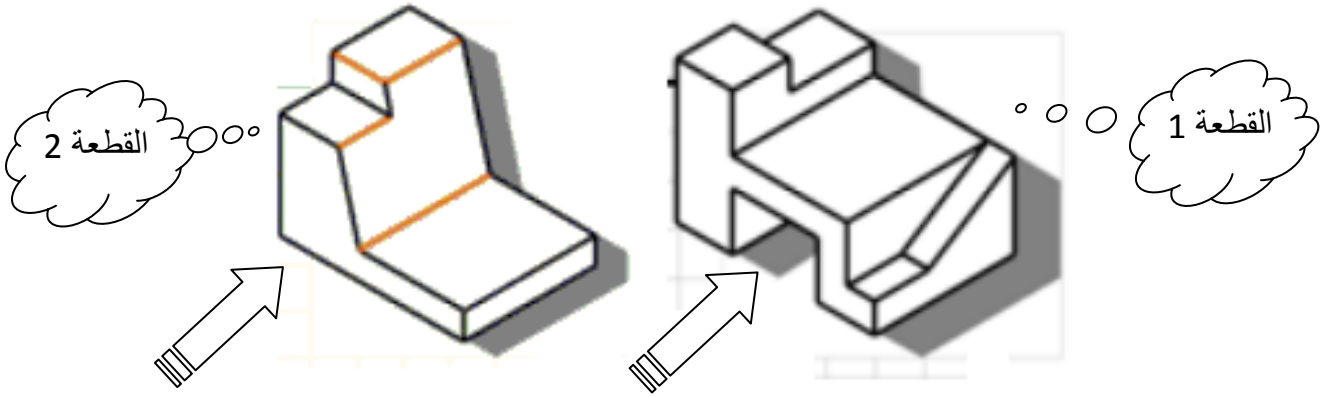
.....مسقط

2. قم بترقيم القطع التالية في جميع المساقط ان كانت ظاهرة.

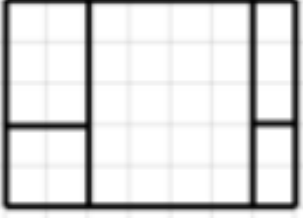
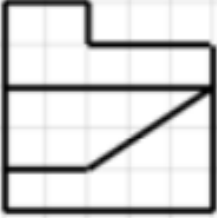
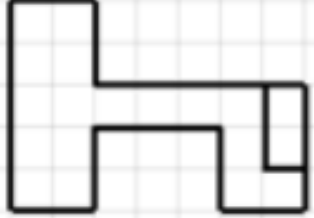
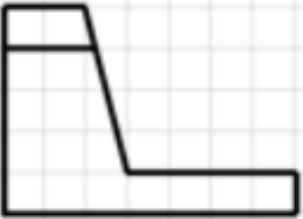
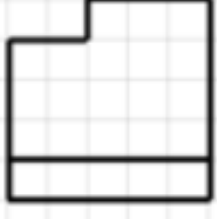

القطعة رقم 1
القطعة رقم 2
القطعة رقم 3
القطعة رقم 4

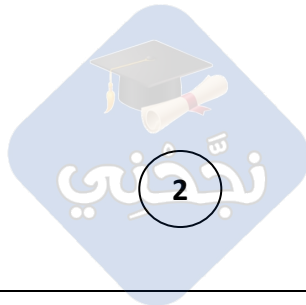


النشاط 2

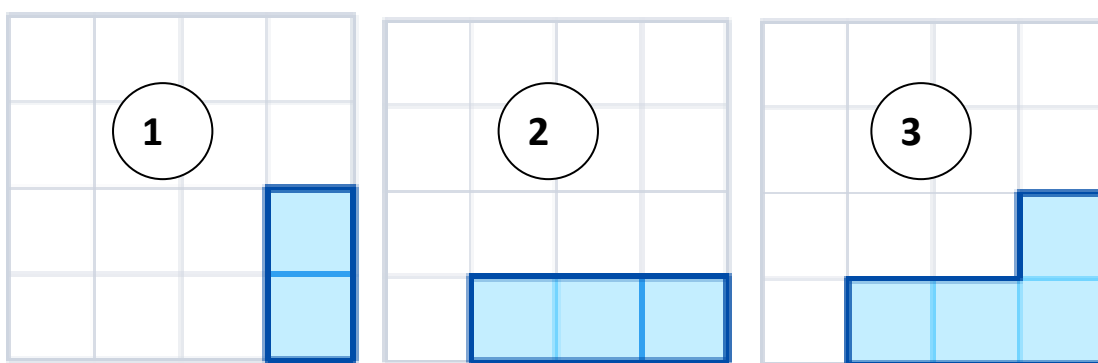
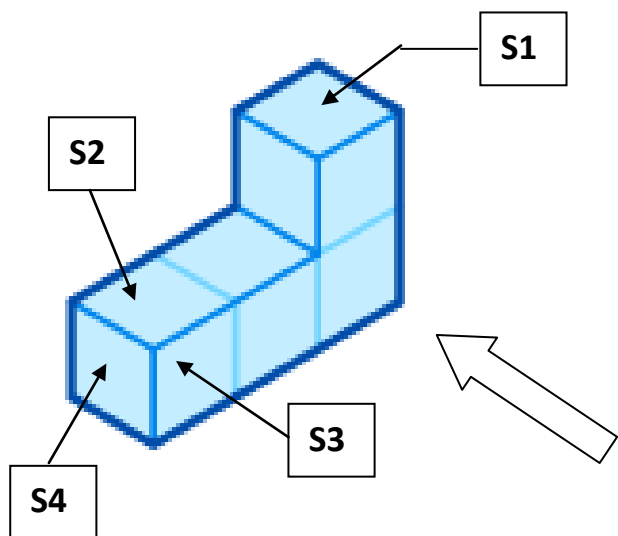


1. اكمل في الجدول التالي اسم المسقط و رقم القطعة المناسب له

		
مسقط للقطعة رقم....	مسقط للقطعة رقم....	مسقط للقطعة رقم....
		
مسقط للقطعة رقم....	مسقط للقطعة رقم....	مسقط للقطعة رقم....



النشاط 3



1- قم بتحديد المساحات التالية في الرسم 1 و 2 و 3

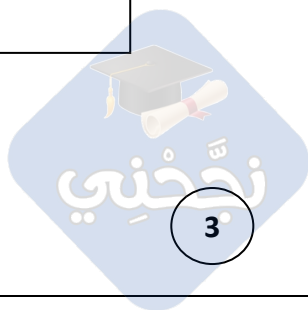
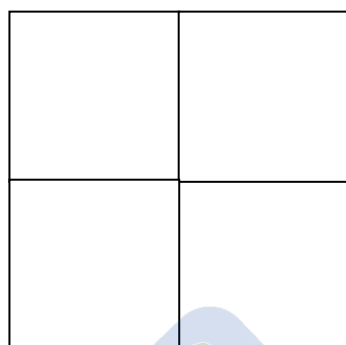
S4

S3

S2

S1

2 - أكتب أرقام المساقط في المكان المناسب



النشاط 4

قم بتحديد الأضلع التالية في كل المساقط

إن كانت ظاهرة

AB

BK

KH

HG

EF

CD

