

إختبار كتابي 3

تربية تكنولوجية

إعدادية المساتون
القصرين
مخبر التكنولوجيا

الإسم واللقب :

القسم : الفوج : ع/ر

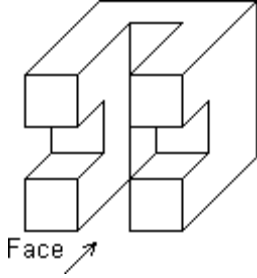
/20

8 أساسي :

الضارب: 1

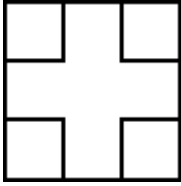
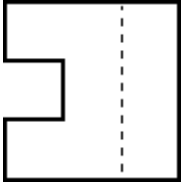
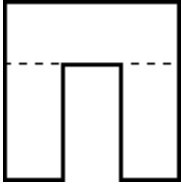
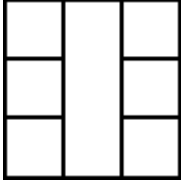
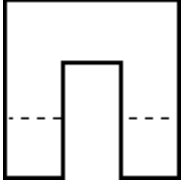
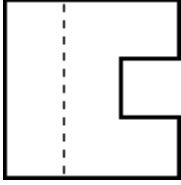
مدة الإنجاز : 60 min

التاريخ :



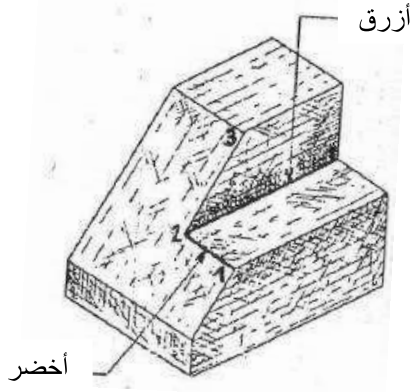
نقترح عليك قطعة مصنعة ممثلة برسم ثلاثي الأبعاد و عدة مساقط مبعثرة البعض منها غير ذو صلة بالقطعة .

- 1- أضف على الرسم المنظوري السهام التي تشير إلى أماكن المشاهدة المطلوبة
- 2- سجل في الخانات المناسبة أرقام المساقط المنتمية للقطعة على الطريقة الأوروبية

--	--	--

--	--	--

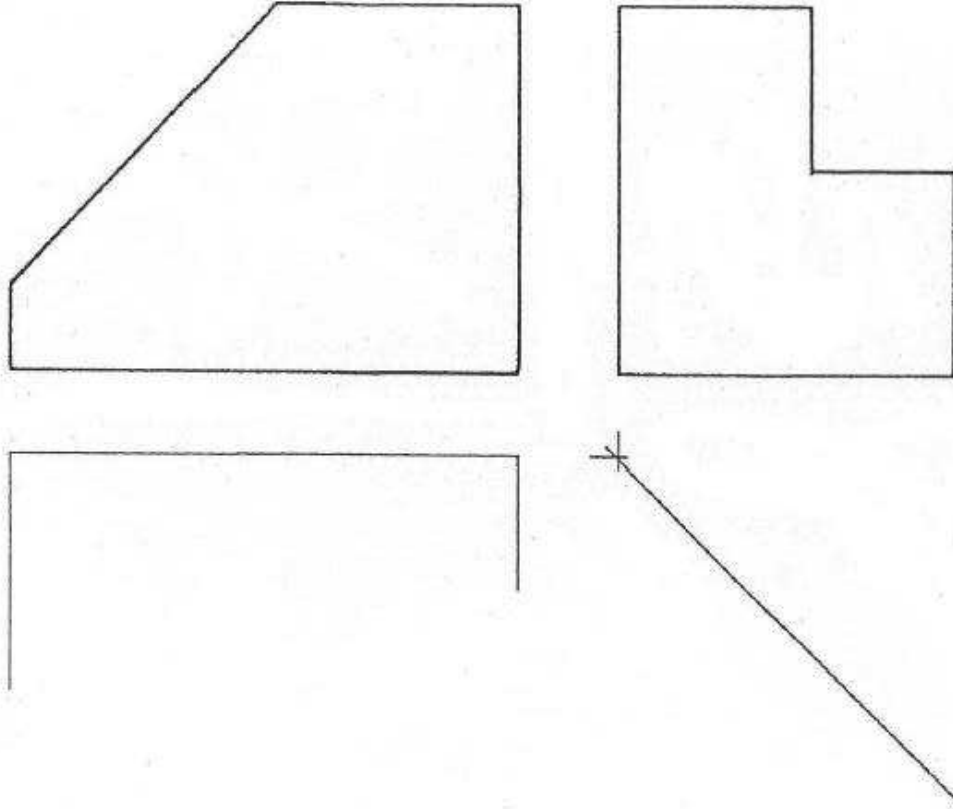


3- نقترح عليك قطعة مصنعة ممثلة برسم ثلاثي الأبعاد وثلاثة مساقط غير كاملة .

1-3- أكمل ما ينقص من حواف ظاهرة ومخفية على كل المساقط .

2-3- أبرز الأركان (1-2-3) على المساقط التي تكون فيها ظاهرة .

3-3- أبرز الحواف بالألوان المشار إليها عندما تكون ظاهرة على المساقط .



سلم :		A4	قطعة مصنعة	وزارة التربية / الإدارة الجهوية للتعليم بالقصرين / المدرسة الإعدادية حي البساتين القصرين	
القسم :	الإسم :		
التاريخ :	اللقب :		