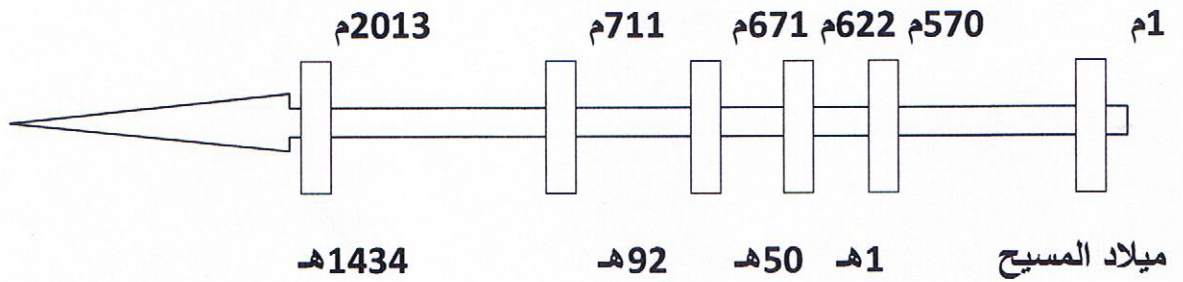


الوضعية 1 : أتأمل السلم الزمني الآتي :



04

مع 1

--	--	--

التعليمة :

أعين كل حدث من الأحداث التالية في المكان المناسب من السلم: انتشار الإسلام بالأندلس – ولادة الرسول محمد – تأسيس القيروان.

الوضعية 2: أقرأ الجمل التالية :

06

- 1- أول سورة نزلت من القرآن هي سورة العلق
- 2- لقي الرسول محمد معارضة شديدة من سكان مكة و قاوموه بشدة.
- 3- دعا الإسلام إلى الأنانية و التفاخر بين الناس
- 4- كان سكان الجزيرة العربية قبل مجيء الإسلام يعبدون الأصنام.
- 5- ساعد أهل مكة الرسول على نشر الإسلام.
- 6- نظم الإسلام العلاقات بين المسلمين و وحد العرب

التعليمة :

أعمر الجدول الآتي بوضع رقم كل إفادة في الواد المناسب :

مع 2

--	--	--

إفادات خاطئة	إفادات صحيحة

الوضعية 3 : أقرأ الجدول التالي:

04

أهم إنجازاتها	الشخصية
أسس مدينة القيروان	
قادت المقاومة البربرية ضد حسان ابن النعمان	
نشر الإسلام بالأندلس	
أسس مدينة المهديّة سنة 303 هـ	

مع 3

--	--	--

التعليمة : أكمل تعبير الجدول بذكر الشخصية المناسبة.

06

الوضعية 4 : اربط كل معلم بالمدينة التي يوجد بها:

مع 2ب

--	--	--

- | | | |
|------------------|------------|-----------------------|
| ● بيت الحكمة | ● القيروان | ● فسقية الأغالبة |
| ● جامع القصبة | ● المهديّة | ● جامع الزيتونة |
| ● السقيفة الكلاء | ● تونس | ● جامع عبدالله المهدي |

التمرين 1:

بمناسبة الحفل المدرسي فكر مدير المدرسة في شراء 65 قصة لتكريم النجباء من التلاميذ فوصله العرض التالي.

العرض	المعلوم	الرقم	سنة القصة الواحدة بالدينار	سنة الواحدة بالدينار	المبلغ الجملي المطلوب
العرض 1			40.625د
العرض 2			27.950د
العرض 3			37.310د

التعليمة: اءول بتحديد القصة الواحدة لكل عرض.

2. مء

--	--	--

التمرين 2:

نظر في تكاليف الحفل فقررءوا أن يدفع كل واحد 8.4د لتغطيته، مع العلم أنه وقع إعفاء 7 أولياء من المساهمة.

التعليمة 2: ما هو المبلغ المءنوع من طرف الأولياء بالدينار:

1. مء

--

2. مء

--

التمرين 3: وقع اختيار المدير على العرض الثاني لمنحة الكبي تخفيضا جمليا لبيته 4750مي

التعليمة 3: ما هو ثمن شراء القصص:

1. مء

--


التمرين 4: جلس المدعءون إلى طارءات تختلف من حيث الشكل .


• الطاولة الأولى شكلها رباعي اءدى زواياه قيسها 60°

التعليمة 4: أتم رسم هذه الزاوية و التي رأسها "أ" ثم أبى عليها مثلثا متقايس الأضلاع قيس ضلعه 3صم

4. مء

--	--	--





4. مع | التعليمة 5: أرسم محاور تناظر في هذا الشكل

4. مع

التمرين 5: دام الحفل 2س و 35دق إذا علمت أنه انتهى على الساعة 18 و 25دق

6: ما هو وقت انطلاق الحفل؟

3. مع

2. مع

التمرين 6: أثناء الحفل غنى طفلان عدة أغاني :

المشترك	عدد الأغاني	عدد الأغاني	الوقت المحض لكل أغنية	الوقت الجملي
الأول	5	1دق و 15ث
الثاني	4	1دق و 25ث

6: أتمّ تعميم الجدول .

2. مع

3. مع

ج جدول المعايير

مع4	مع3	مع2	مع1	
0	0	0	0	-
2	2	2	2	+
3	3	3	3	++
5	5	5	5	+++