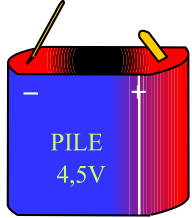
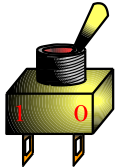
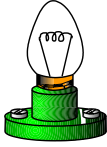
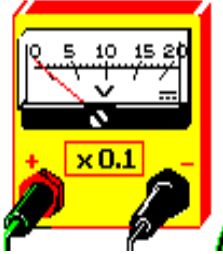



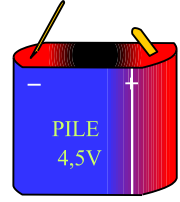
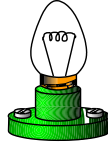
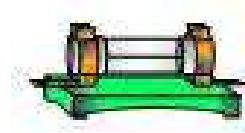

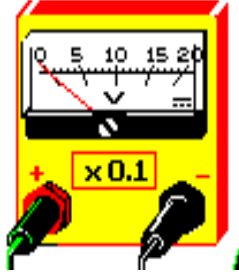
الإسم و اللقب:	إختبار كتابي 2		إعدادية البساتين القصرين مخبر التكنولوجيا
القسم : الفوج : ع/ر	تربية تكنولوجية		
/20	7 أساسي:	الضارب: 1	مدة الإنجاز : 30 د
			التاريخ : / / 2008

1- أكمل الجدول بما يناسب (تسمية المكونات الإلكترونية ' وظائفها ' وإنجاز الرموز المقننة) .

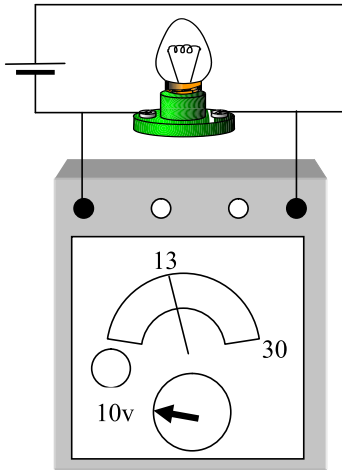
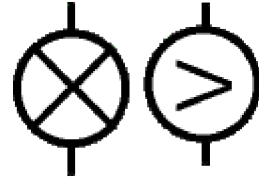

خاص
بالأستاذ

الرمز	الوظيفة	إسم المكون	صورة المكون
	
	
	
	
	

2- أربط المكونات بالأسلاك الناقلة للتيار الكهربائي .



3- أكمل الرسم المقنن التالي بما يناسب :



4- لاحظ المعطيات على جهاز القياس وحدد قيمة الجهد الكهربائي بين طرفي المصباح .
