

الجمهورية التونسية
وزارة التربية والتعليم

الرياضيات المشوقة

مجموعة تمارين مصحوبة بحلولها
لثلاميذ السنة السادسة من التعليم الابتدائي

تأليف

مجموعة من المربين
بسوسة

المركز القومي للبيداغوجي



www.najahni.tn



www.najahni.tn

مقاي

الرياضيات المشوقة
مجموعة تمارين مصحوبة بحلولها
السنة السادسة ابتدائي

فن البيع
للعموم
0,850د

طبعة أولية للنشر 1986

الحساب

www.najahni.tn



www.najahni.tn

المقدمة

هذه مجموعة تمارين ومشاكل قدمناها في كتاب يتوج سلسلة الرياضيات المشوقة وقد راعينا في عرضها التسلسل الوارد بالبرامج الرسمية حتى يتمكن المتعلمون من دعم مكتسباتهم تدريجياً خلال كامل السنة الدراسية .

وقد صنفنا محتوى هذا الكتاب الى تمارين ومشاكل وأوردنا في الجزء الأخير منه مجموعة من الاختبارات التي قدمت في مناظرة الدخول الى السنة الأولى من التعليم الثانوي خلال السنوات الماضية . كما قسمنا الكتاب الى جزئين : يحتوي الجزء الأول على التمارين والمشاكل والجزء الثاني على حلولها .

وقد رأينا أن تقديم الحلول يمكن التلميذ من التثبت من صحة ما يتوصل إليه من حل بعد الاعتماد على نفسه في البحث والتفكير فإن أصاب اكتشاف قدراته وفاز بلذة النصر وازداد ثقة في نفسه وإن أخطأ وجد في الحل المقترح عليه ما يقوم خطأه وينير سبيله ويكسبه طريقة تساعد على حل بقية المسائل هذا وقد يتوصل التلميذ أحياناً الى حل بعض المشاكل بطريقة مغايرة للطريقة المقترحة فذلك فيه إثراء لمعلوماته وتنمية لقدرته على التفكير والاستدلال . وإتينا اذ نشكر مسبقاً كل من سيوافينا بملاحظاته حول كل ما ورد بهذا الكتاب نأمل أن نكون بعملمان هذا قد ساهمنا في تيسير مهمة المربي وافادة التلميذ والله الموفق .

المؤلفون

www.najahni.tn



www.najahni.tn

1 - أكمل تعميم الجدول التالي :

قيمة اللقافة بالدينار	طول اللقافة بالمتر	ثمن المتر من القماش بالدينار
52ر500	؟	3ر500
؟	12ر5	1ر800
88ر200	21	؟

2 - أكمل تعميم الجدول التالي :

سعة الوعاء بالتر	عدد القوارير	سعة القارورة بالتر
210	280	؟
288	360	؟
؟	80	0ر45
158ر4	؟	0ر72

3 - ابحث عن كل الأعداد ذوات رقمين بحيث يكون مجموع رقمي كل منهما 8 .

4 - تملك زينب 493 مي وأرادت شراء أقلام تلوين بسعر 37 مي القلم الواحد وجفاف ب 12 مي بدون أن يبقى لها شيء .
أ - ابحث عن عدد الأقلام .
ب - اكتب العلاقة التي تربط بين الأعداد الأربعة .

www.najahni.tn

11 - ما هو عدد صفحات كراسي إذا علمت أنني كتبت 216 رقما لترقيمها؟

12 - رقم الأحاد في عدد ذي رقمين هو 6 ، إذا وضعنا صفرا بين رقميه يزداد ذلك العدد بـ 630 ، فما هو ذلك العدد؟

13 - خارج عملية قسمة اقليدية يساوي 13 .

ابحث عن القاسم مع العلم أن المقسوم هو 305 وأن الباقي هو 6 .

14 - أ - اكتب عددا عشريا به رقم واحد على يمين الفاصل ، أحذف الفاصل واكتب العدد الصحيح الحاصل ثم ابحث عن الفرق بين العدد الصحيح والعدد العشري .

ب - كم مرة يحوي العدد الصحيح العدد العشري؟

15 - يبلغ ثمن قطعة من لحم الخروف 6750 د . فإذا انقصنا منها 1ر275 كغ يصبح ثمن ما تبقى منها 4,455 د ، فما هو وزن قطعة اللحم؟

16 - لديك عدد ذو 4 أرقام تجهل منها رقم الأحاد ورقم المئات ، ابحث عن هذين الرقمين ليكون ذلك العدد قابلا للقسمة على 3 و 5 في نفس الوقت مع العلم أن الرقمين الآخرين للعددهما :

رقم العشرات 1

رقم الآلاف 2

اذكر كل الحلول وعددها 7 .

17 - يتكوّن فريق رياضيّ من عدد من اللاعبين منهم 12 لاعبا يحسنون لعبة الكرة الطائرة و 19 يحسنون لعبة كرة السلة و 6 يحسنون اللعبتين في نفس الوقت .

أ - ما هو عدد اللاعبين بهذا الفريق؟

ب - ارسم مخططا للأصناف الثلاثة من اللاعبين .

5 - أ - ما هي القيمة الموقعية للرقم 5 في العدد 53 ؟

ب - ماذا يصبح العدد 53 إذا وضعنا صفرا بين رقميه ؟ ما هي في هذه الحالة القيمة الموقعية للرقم 5 ؟

ج - كم زاد العدد في الحالة الثانية ؟ ابحث عن تلك الزيادة ذهنيا .

6 - فكر أنيس في عدد ثم أضاف إليه 95 ثم أضاف الى المجموع الحاصل ضعف العدد الذي فكر فيه فوجد 236 . ابحث عن العدد الذي فكر فيه أنيس .

7 - عند البحث عن سطح العددين 143 و 206 ارتكب تلميذ هفوة تتمثل في عدم اعتبار الضفر في العدد 206 .

أ - ما هو السطح الذي وجدته ؟

ب - ما هو السطح الذي ينبغي أن يجده ؟

8 - شري فلاح حقلًا مربع الشكل قيس محيطه 288 م بـ 210 د الأرواح الواحد ، ثم باع الحقل بـ 2ر450 د المتر المربع الواحد . فما هو مقدار ربحه ؟

9 - ضع العلامة المناسبة من بين العلامات التالية (+ أو - أو × أو ÷) مكان النقط لتتحصل على النتيجة المذكورة مستعملا الأقواس .

$$0 = 2 \cdot 2 \cdot 2 \cdot 2$$

$$1 = 2 \cdot 2 \cdot 2 \cdot 2$$

$$2 = 2 \cdot 2 \cdot 2 \cdot 2$$

$$3 = 2 \cdot 2 \cdot 2 \cdot 2$$

10 - أردت ترقيم صفحات كراسي يحتوي على 128 صفحة . فما هو العدد الجملي لكل الأرقام التي كتبت ؟

- 25 - عوّض الأحرف بأرقام مناسبة في العملية التالية وابحث عن كل الحلول الممكنة .

$$\begin{array}{r} \text{ه س ط ل} \\ \text{ل ط س ه} \\ \hline = 5 \ 5 \ 5 \ 5 \end{array}$$

- 26 - عوّض الأحرف بأرقام مناسبة في العمليتين التاليتين مع ذكر كل الحلول الممكنة .

$$\begin{array}{r} \text{ق ك ع} \\ \text{ق ق 1} \\ \hline = 10 \text{ ك ع} \end{array} \quad \begin{array}{r} \text{أ ب أ ج} \\ \text{3 أ ج 1} \\ \hline = 5 \ 1 \ 2 \ 0 \end{array}$$

- 27 - ج و د هما عدنان صحيحان يحققان العلاقة ج < د والفرق بينهما هو 37 .
أ - ابحث عن العدد د إذا علمت أن ج = 37
ب - ابحث عن العدد ج إذا علمت أن د = 37

- 28 - ضع الأرقام المناسبة مكان النقاط في العمليتين التاليتين :

$$\begin{array}{r} 273 \cdot \\ + 9 \cdot 4 \\ + 7 \cdot 03 \\ \hline = 10 \cdot 95 \end{array} \quad \begin{array}{r} 24 \cdot 8 \\ - \cdot \cdot 92 \\ \hline = 066 \cdot \end{array}$$

ملاحظة : هناك 4 حلول ممكنة بالنسبة للعملية الثانية يجب ذكرها .

- 18 - يتقاضى عامل 1ر875 د في اليوم وفي نهاية السنة حيث اشتغل 298 يوما ادخر 102ر500 د ، احسب معدل ما ينفقه هذا العامل في اليوم .

- 19 - يوجد بمدرستك 91 تلميذا و 42 تلميذة ، أراد المدير أن يكون فرقا متساوية العدد من نفس الجنس في حصص الرياضة .
أ - كم تلميذا بكل فريق ؟
ب - ما هو عدد الفرق ؟

- 20 - يتقاضى عاملا نسيج معا 6ر700 د في اليوم ، وبعد عدد معين من الأيام تحصل الأول على 43ر200 د وتحصل الثاني على 37ر200 د ، احسب الأجرة اليومية لكل عامل .

- 21 - أراد خمسة عشر طالبا أن يقوموا برحلة دراسية فمرض منهم اثنان يوم الرحلة وأصبح من المفروض على كل واحد من البقية أن يساهم في الرحلة بزيادة قدرها 0ر600 د .
فما هو ثمن كلفة هذه الرحلة ؟

- 22 - أمي أصغر من أبي ب 5 أعوام وكان عمرها 29 سنة عند ولادة أختي مريم ، أما أنا عادل فأنني ولدت 6 سنوات قبل مريم . يبلغ عمر أبي حاليا 38 سنة ، فهل لك أن تساعدني على تحديد عمري وعمر مريم وعمر أمي حاليا ؟

- 23 - احسب المجاميع التالية بتجميع الأعداد اثنين اثنين بأذكى طريقة :

$$\begin{array}{l} \text{أ - } 1 + 2 + 3 + 4 + 5 + 6 + 7 + 8 + 9 \\ \text{ب - } 1 + 3 + 5 + 7 + 9 + 11 + 13 + 15 + 17 + 19 \\ \text{ج - } 3 + 6 + 9 + 12 + 15 + 18 + 21 + 24 + 27 \end{array}$$

- 24 - اكتب الأعداد الفردية العشرة الأولى ثم ابحث عن مجموعها بأذكى طريقة .

37 - ابحث عن بواقي القسمة الاقليدية للأعداد التالية على 9 بدون اجراء العمليات :
100018 ، 837169 ، 173110 ، 3227 ، 143003 ، 21966

38 - صب سائق سيارة 40 ل من البنزين في خزان سيارته فمكنته تلك الكمية من البنزين من قطع مسافة طولها 500 كم . فما هو معدل استهلاك سيارته من البنزين في 100 كم ؟

39 - ابحث عن ثلاثة أعداد صحيحة متتالية بحيث يكون مجموعها 990 .

40 - ابحث عن عددين صحيحين بحيث يكون مجموعهما 42 والفرق بينهما 8 .

41 - اقسم المبلغ 3497 د على شخصين بحيث يأخذ أحدهما 847 مي أكثر من الآخر .

42 - ابحث عن عددين صحيحين بحيث يكون الفرق بينهما 40 والخارج الصحيح لقسمة الأكبر على الأصغر هو 5 .

43 - تقاسم 3 أشخاص 3 د على النحو التالي :
● أخذ الأول 700 مي أكثر من الثاني
● أخذ الثالث 400 مي أقل من الثاني .
ما هو مناب كل واحد ؟

44 - يملك طفلان معا 34 مي ، فإذا كان للأول 5 مي أكثر مما لديه وللثاني 7 مي أقل مما لديه كذلك لأصبح لكل منهما نفس المبلغ .
ابحث عن مبلغ كل من الطفلين .

45 - لكريم ونجلاء معا 190 مي ، لو كان لكريم 20 مي أكثر مما تملكه نجلاء لكان له 4 أضعاف ما تملكه نجلاء .
ابحث عن المقدار الذي يملكه كل من كريم ونجلاء .

46 - ابحث عن 3 أعداد صحيحة بحيث يكون مجموع الأول والثاني 23 ومجموع الثاني والثالث 40 ومجموع الأول والثالث 33 .

47 - اكتب الاعداد الناقصة للحصول على كور متكافئة :

$$\frac{18}{\cdot} = \frac{15}{\cdot} = \frac{3}{17}$$

48 - ابحث عن كسرين بحيث يكون مجموعهما $\frac{3}{4}$ والفرق بينهما $\frac{2}{9}$.

49 - أنفقت ريم $\frac{1}{5}$ و $\frac{3}{4}$ ما تملكه من نقود في شراء حنويات وبقي لها 14 مي ، فما هو المبلغ الذي كان بحافضة نقود ريم عند خروجها من المنزل ؟

50 - يملك محمد 18960 د دفع منها الزبغ لشراء قطعة أرض صالحة للبناء وقام ببناء منزل بلغت تكاليفه $\frac{2}{3}$ ما يملكه .

كم بقي له ؟

51 - لو أضفنا 21 كم الى ثلثي مسافة لتحصلنا على $\frac{7}{9}$ تلك المسافة

فما هي تلك المسافة ؟

- 58 - تحتاج خياطة الى 13ر75 م من القماش لصنع 5 فساتين ، فكم مترا يلزم لصنع 22 فستانا ؟
كم فستانا يمكنها أن تصنع بـ 22 م ؟

59 - نعتبر الكسر $\frac{2}{5}$

أ - أضف 14 الى البسط و 35 الى المقام ثم قارن بين الكسر المتحصل عليه والكسر $\frac{2}{5}$

ب - ما هو العدد الذي تضيفه الى مقام الكسر $\frac{2}{5}$ لتتوصل

على كسر مقامه 150 ؟

ج - ما هو العدد الذي تضيفه الى بسط الكسر $\frac{2}{5}$ حتى

يبقى الكسر السابق (أي الذي مقامه 150) مكافئا للكسر $\frac{2}{5}$ ؟

60 - أكمل الجدول التالي :

1980	4000	.	5400	700	.	ثمن الكلفة بالدينار
99	.	150	1620	.	10	الربح بالدينار
.	%11	% 8	.	%13	% 5	النسبة المئوية للربح

- 52 - الفرق بين عددين صحيحين هو 9 ، ابحث عن العددين مع العلم أن أحدهما يساوي $\frac{2}{3}$ الآخر .

53 - اقتسم 3 أشخاص 1416 د بحيث أخذ الثاني نصف ما أخذه الأول و $\frac{4}{3}$ ما أخذه الثالث .

ابحث عن مناب كل شخص .

54 - اشترت إيناس تنورة و قميصا بـ 15 د . ابحث عن ثمن التنورة مع العلم أن ثمن القميص يبلغ $\frac{1}{4}$ ثمن التنورة .

55 - معمل للنسيج يشغل رجالا ونساء .

عدد النساء يساوي $\frac{3}{7}$ عدد الرجال .

عدد الرجال يفوق عدد النساء بـ 84 .

ما هو عدد الرجال وما هو عدد النساء ؟ .

56 - تزن قطعة من البلور 900 غ وهي مستطيلة الشكل بعدها 25 صم و 18 صم .

فما هو وزن قطعة من هذا البلور بعدها 15ر2 م و 90 صم ؟

57 - قدر تاجر ثمن قطعة قماش طولها 3ر2 م بـ 280ر5 د .

1) ابحث عن ثمن القطعتين التاليتين من نفس القماش إذا علمت أن :

● طول الأولى 10ر2 م

● طول الثانية 4ر74 م

2) ابحث عن أطوال القطعتين التاليتين من نفس القماش إذا علمت أن :

● ثمن الأولى 590ر7 د

● ثمن الثانية 5775ر5 د

61 - أكمل الجدول التالي :

كمية السكر المستهلكة بالكغ			عدد الأشخاص
في تونس	في أوروبا	في العالم	
235ر3	370	190	10
			2
			16
			6
			18
			12
			8
			22

www.najahni.tn

62 - يعمل 250 عاملا وعاملة بمعمل للنسيج فإذا كان عدد العاملات 80 فما هي النسبة المئوية لكل من العاملين والعاملات ؟

63 - قررت ادارة المغازة العامة انخفاضا لكل المواد الغذائية يتناسب مع السعر .

اكمل بناء على ذلك الجدول التالي :
(لا نعتبر اجزاء المليمات)

السعر القديم	0ر250	0ر375		0ر960	1ر460
السعر الجديد	0ر240		0ر480		

64 - ساهم ثلاثة اشخاص في رأس مال شركة بما قدره بالذنانير 120 و 95 و 159 وفي آخر السنة كانت أرباحهم 74ر800 د . قسّم هذه الأرباح تقسيما يتناسب مع مقدار مساهمتهم .

65 - إذا علمت أنّ 12 عاملا ينجزون عملا في مدة 8 أشهر كم عاملا يجب أن نضيف إليهم لانجاز ذلك العمل في ظرف 6 أشهر فقط .

66 - إذا علمت أن عدد السكان بالجمهورية التونسية كن سنة 1975 . 5 588 000 وأن نسبة الزيادة في كـ عام 2ر30 % أكمل الجدول الآتي :

السنة	عدد السكان في أول السنة	نسبة الزيادة	الزيادة
1975	5 588 000	2ر30 %	128 524
1976		2ر30 %	
1977		2ر30 %	
1978		2ر30 %	
1979		2ر30 %	
1980		2ر30 %	
1981		2ر30 %	
1982		2ر30 %	
1983		2ر30 %	
1984		2ر30 %	
1985		2ر30 %	

67 - من شهر أكتوبر الى شهر ماي سجلت كميات الأمطار بالمليمترات شهريا كما يلي :

أكتوبر	15	مم
نوفمبر	22	مم
ديسمبر	90	مم
جانفي	160	مم
فيفري	45	مم
مارس	30	مم
افريل	15	مم
ماي	2	مم

ارسم مخططا في شكل مستطيلات أطوالها مناسبة لكميات الأمطار .

70+

أراد عليّ ومحمد ومنير ومصطفى أن يقوموا برحلة .
دفع عليّ مصاريف النقل أي 5ر200 د
ودفع محمد مصاريف الأكل أي 4ر500 د
ودفع منير 1ر300 د ثمن كرتة ليلعبوا بها جميعا أما مصطفى فلم يدفع شيئا .
كيف تتم المحاسبة بينهم إذا علمت أن المصاريف تقسم فيما بينهم بالتساوي ؟

71+

قرز صالح ومحمود القيام بنزهة فاشتركا في إعداد الفطور .
اشترى صالح خبزة ب 80 مي وحقّة جبن ب 185 مي وبيضتين مسلوقتين ب 100 مي
واشترى محمود رطلا من التفاح ب 380 مي الكغ وبطيخة تزن 2ر750 كغ بسعر 180 مي الكغ .
من الذي سيدفع للاخر لتكون مشاركتهما في المصاريف بالتساوي ؟
وكم ؟

www.najahni.tn

72+

ورث ثلاث إخوة أحمد ومحمد وعليّ دارا مقدرة ب 5 500 د وبستانا مقدرا ب 4 500 د ، وأسهم بشركة مقدارها 8 000 د .
قبل أحمد الدار ومحمد البستان وعليّ الأسهم بالشركة . احسب المقدارين الواجب تسليمهما الى كل من أحمد ومحمد من طرف عليّ لتكون القسمة عادلة .

73+

اشترك رجل وابنه في تجارة فاشترى 1ر6 ط من البطاطا بسعر 80 د الطن الواحد و 8ر5 ق من الطماطم بسعر 4ر500 د القنطار الواحد ودفعوا 12ر500 د مقابل نقل الخضر .
باعا بعد ذلك البطاطا ب 115 مي الكغ والطماطم ب 75 مي الكغ .
ابحث عن المقدار الذي ربحه كل منهما .

73+

يملك فلاح 7 بقرات حلوبا تعطي كل بقرة 7ر5 ل من الحليب في اليوم الواحد .
إذا علمت أن 25 ل من الحليب تنتج 1 كغ من الزبدة و 20 ل من اللبن ويمكن لهذا الفلاح بيع حليبه ب 0ر140 د اللتر الواحد أو بيع الزبدة بدينار الكلف الواحد ، وبيع اللبن ب 0ر115 د اللتر الواحد فما هو الحل الأنسب لهذا الفلاح .
كم قد يكون ربحه بعد ثلاثين يوما إذا توخى ذلك الحل ؟

73+

استخرج فلاح من برميل به 220 ل من الزيت ما ملأ به 95 قارورة من فئة 0ر75 ل و 120 قارورة من فئة 0ر80 ل ثم باع جملة ما استخرجه من الزيت ب 33ر450 د
أ - ابحث عن كمية الزيت الباقية بالبرميل
ب - ابحث عن ثمن بيع اللتر الواحد من الزيت
ج - ابحث عن ثمن بيع قارورة الزيت من النوعين .

74 - اشترى تاجر خرفانا ب 1715 د ودفع 47500 د لنقلها الى السوق وفي أثناء الطريق مات منها 8 فباع الباقي ب 39500 د الخروف الواحد وتحصل هكذا على مرابيح تقدر ب 173 د .
ابحث عن عدد الخرفان التي اشتراها هذا التاجر .

75 - اشترى تاجر 3 قطع من القماش من نفس النوع . طول القطعة الأولى هو 45 م ، طول الثانية يفوق طول الأولى ب 7 م ، طول الثالثة يفوق طول الثانية ب 5 م فإذا كان ثمن القطعة الأولى ينقص ب 13200 د عن ثمن القطعة الثالثة احسب :
أ - ثمن شراء القطع الثلاث .

ب - ثمن بيع المتر الواحد من القماش إذا أراد التاجر أن يربح في كل القطع 30800 د .

76 - تمت نقلة الموظف أبو علي إلى تونس العاصمة فاضطر لكرام مسكن وعليه أن يختار بين حلين اثنين إما أن يكتري شقة في وسط المدينة ب 90 د شهريا وإما أن يكتري دارا خارج المدينة ب 55 د شهريا إلا أنه في الحل الثاني يجب على الأب أن يركب الحافلة يوميا ويدفع 290 م بمعدل 270 يوما في السنة ويدفع أيضا اشتراكين سنويين لابنيه في الحافلة المدرسية ب 48 د الاشتراك الواحد .
ما هو الحل الأفضل لهذا الأب المقتصد ؟

77 - باع تاجر خلال شهر 80 بدلة نسائية من نفس النوع وبنفس الثمن و 60 بدلة رجالية من نفس النوع وبنفس الثمن ب 3840 د ثم باع في الشهر الموالي نفس العدد من البدلات النسائية و 40 بدلة رجالية فقط ب 3040 د

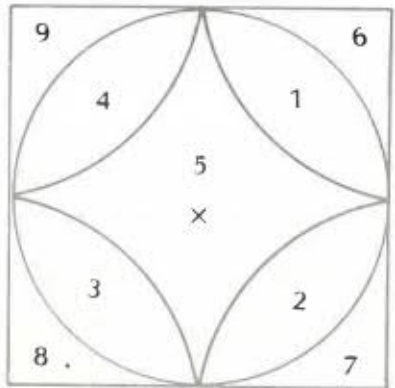
أ - ابحث عن ثمن بيع البدلة الواحدة من كل نوع .
ب - اشترى التاجر بالمبلغ المتحصل عليه خلال الشهرين قطعة أرض بحساب 10750 د الهكتار الواحد فما هو قيس مساحة هذه الأرض ؟

ج - إذا كان شكل قطعة الأرض شبه منحرف ارتفاعه 40 م فما هو قيس كل من القاعدتين مع العلم أن طول القاعدة الكبرى يفوق طول القاعدة الصغرى ب 40 م ؟

78 - عوض فلاح قطعة أرض شكلها شبه منحرف طول قاعدته الكبيرة 167 م وطول قاعدته الصغيرة 142ر5 م وطول ارتفاعه 31ر75 م بقطعة أخرى مستطيلة الشكل بعدها 115ر5 م و 96ر25 م . ما هو المبلغ الذي ينبغي أن يزيده صاحب القطعة الصغيرة إلى صاحب القطعة الكبيرة إذا قدر ثمن الار ب 175 د ؟

79 - بيعت أرض فلاحية متكونة من أرض صالحة للزراعة قيس مساحتها 30 ها وأرض غابية قيس مساحتها 10 ها ب 84000 د . ثمن الهكتار الواحد من الأرض الصالحة للزراعة هو ضعف ثمن الهكتار الواحد من الأرض الغابية فما هو ثمن كل قطعة على حدة ؟

80 - أراد بستاني أن يزرع بحديقة منزل أزهارا فربس لهذا الغرض مربعا بالحديقة طول ضلعه 2ر8 م ودائرة داخله قطرها 2ر8 م ثم 4 أربع دائرة يمثل مركز كل منها رأسا من رؤوس المربع (انظر الشكل الاتي) ويبلغ قطر كل منها 2ر8 م أيضا :



أ - ابحث عن قيس مساحة كل من الاجزاء التسعة المعينة بالشكل

ب - أخذ البستاني 12ر800 د مقابل عمله الذي دام أربعة أيام كاملة فما هو ثمن كلفة هذا العمل في اليوم مع العلم أن البستاني استهلك في تلك المدة 200 غ من الشاي بحساب 2ر600 د الكغ و 500 غ من السكر بحساب 0ر240 د الكغ على حساب صاحب الحديقة ؟

81 - شارك 19 طبيبا في ملتقى وأقاموا بنزل بداية من يوم الثلاثاء عند منتصف النهار الى صباح يوم السبت الموالي .
حرر قائمة الحساب معتمدا المعطيات التالية (بالنسبة لكل الأطباء) :

● الاقامة و فطور الصباح : 7ر200 د عن كل ليلة بالنسبة للشخص الواحد .

الفداء : 2ر450 د بالنسبة للشخص الواحد .

العشاء : 2ر150 د بالنسبة للفرد الواحد .

82 - ينوي فلاح بيع أكباشه التتة ب 252 د . إلا أن كبش مات قبل البيع .

أ - بكم ينبغي أن يبيع الكبش الواحد ليتحصل على نفس المقدار ؟

ب - ما هي النسبة المئوية الناتجة عن الزيادة في ثمن الكبش الواحد ؟

83 - اتصل صاحب مكتبة ب 12 كتابا جديدا لبيعها بثمن 980 مي الكتاب الواحد وقد زوده الناشر بنسخة إضافية مجانا ومكّنه إذا من ربح 325 مي عند بيع كل كتاب .

أ - ابحث عن المقدار الذي يمكن أن يربحه صاحب المكتبة إذا باع كل الكتب .

ب - بعد أن باع الکتبي 4 كتب بالثمن المذكور لاحظ أن الحرفاء أحجموا عن طلب الكتاب فخض في ثمنه وبيع كامل النسخ الباقية بخسارة جملية قدرت ب 340 مي .

84 - ما هو ثمن بيع النسخة الواحدة بعد التخفيض في الثمن ؟
بنيت قاعتان مستطيلتان ومتجاورتان يفصل بينهما حائط مشترك يبلغ ارتفاعه 4ر5 م
بعدا القاعة الاولى هما 12 م و 4 م وبعدا القاعة الثانية هما 15 م و 4 م

أ - ما هو قيس المساحة الجانبية المبنية في كل من القاعتين إذا علمت أن لكل منهما بابا طوله 2ر40 م وعرضه 1 م ونافتين طول كل منهما 1ر60 م وعرضها 2 م ؟

ب - يستلزم المتر المربع من الحائط استعمال 15 أجرة ، فما هو عدد الأجر الأزم ؟

ج - بكم يتكلف المتر المربع من الحائط إذا كانت جملة مصاريف البناء تقدر ب 900ر977 د بدون اعتبار السقف ؟

85 - أفرغ دَن مملوء زيتا في قوارير ذوات 75 صل وأخرى ذوات 58 صل وقوارير من فئة 90 صل وكان هناك 89 قارورة من كل نوع

أ - كم لترا من الزيت يحوي هذا الدن مع العلم أن هناك كمية من الزيت غير صالحة للاستعمال ولم توضع في القوارير وهي تقدر ب 2 ل ؟

ب - ما هو ثمن بيع كل قارورة ملاءى مع العلم أن ثمن بيع اللتر من الزيت هو 500 مي وأن ثمن القارورة فارغة هو 75 مي ؟

86 - إن عدد تلاميذ فصلك أصغر من 50 فإذا عددتهم مثنى مثنى كان الباقي 1 وإذا عددتهم ثلاثة ثلاثة كان الباقي 2 أما إذا عددتهم خمسة خمسة كان الباقي 4 .

أ - ما هو رقم الاحاد في عدد تلاميذ قسمك ؟

ب - كم يمكن أن يكون مجموع أرقام هذا العدد ؟

ج - ما هو حينئذ عدد تلاميذ فصلك ؟

- 87 - شاركت مريم صديقاتها في لعبة بالأقراص وكان معها 200 قرص . لعبت مريم مرّة أولى فربحت ولعبت مرّة ثانية فخسرت 300 قرص أما ربح مريم في المرّة الأولى فهو ضعف ما تبقى لها في الثانية . هل ربحت مريم في النهاية أم خسرت وكم ؟
- 92 - اشتغل عامل مدة 30 يوما . أنفق ذلك العامل نصف دخله للمعيشة و 7 د للكراء بقي له من مرتبه الشهريّ 41 د فما هو دخله اليومي بالدينار ؟
- 88 - لاحظ مدير مدرستك أنه إذا كوّن من تلاميذ السنوات السادسة فرقا ذوات 4 تلاميذ كان الباقي 2 وإذا كوّن منهم فرقا ذوات 5 تلاميذ كان الباقي 2 أيضا وإذا كوّن منهم فرقا ذوات 6 تلاميذ كان الباقي 2 كذلك . فإذا علمت أن عدد التلاميذ أصغر من 70 فما هو هذا العدد ؟
- 93 - يعمل شخص 282 يوما في السنة بأجر يومي قدره 200ر د . ينفق هذا الشخص معدلا شهريّا قدره 82 د للسكنى والمعيشة .
أ - ما هو دخله السنويّ ؟
ب - كم ينفق سنويّا ؟
ج - كم يدخر في الشهر ؟
- 89 - اشترى نزار 1200ر كغ من البرتقال بـ 220 مي الكغ الواحد و 600ر كغ من اللّفت بسعر 90 مي الكغ الواحد و 940ر كغ من التفّاح ودفع في الجملة 600ر د . ابحث عن ثمن الكغ من التفّاح .
- 94 - يدخن رجل 3 علب من السجائر كلّ يومين بثمان 210 مي العلبه الواحدة
أ - ما هو ثمن السجائر التي يستهلكها هذا الرجل من 17 ماي صباحا الى 27 سبتمبر بدخول الغاية ؟
ب - لو كف عن التدخين في هذه المدة لاستطع بثمان السجائر شراء قميصين بـ 650ر د القميص الواحد ودرّاجة لابنه بـ 185ر د ومجموعة من الكتب ثمن الكتاب الواحد 825ر د
ما هو عدد الكتب التي كان بالامكان شراؤها ؟
- 90 - نريد بناء عمارة ذات 8 طوابق (باعتبار الطابق الأرضي) يبلغ ارتفاعها 24 م يفصل بين كلّ طابقين متتاليين سقف سمكه 20 صم
ما هو ارتفاع الطابق الواحد بدون اعتبار السقف ؟
- 91 - اشترى أبوك أثاثا خشبيّا بـ 870 د يوم 15 ماي 1980 اتفق أبوك مع البائع على أن يدفع له نصف المبلغ حالا والنصف الآخر على 4 أقساط متساوية المبلغ وبعد كلّ 35 يوما .
أ - ما هو مقدار كلّ قسط ؟
ب - ما هو تاريخ خلاص كلّ قسط ؟
- 95 - يوجد بمستودع للسيّارات بالعاصمة 129 سيّارة منها 25 من نوع « رينو » و 27 من نوع « سيمكا » أما باقي السيّارات فهي من نوع « بيجو » بيضاء وحمراء وسوداء وهي متساوية العدد وأخرى زرقاء وعددها نصف عدد الحمراء . فما هو عدد السيّارات الزرقاء ؟

99 - نظمت جمعية ثقافية رحلة لعدد معين من الأشخاص كان من المقرر أن يدفع كل شخص 1ر250 د كمعلوم للمشاركة غير أنه نظرا لتخلي 4 منهم اضطر كل من البقية لدفع 1ر500 د . فكم كان عدد المشاركين فعليا في هذه الرحلة ؟

100 - بمطعم من مطاعم العاصمة يقع توزيع معدّل 50 أكلة في اليوم بسعر 1ر600 د الأكلة الواحدة و 35 أكلة بسعر 1ر200 د الواحدة .

أ - ما هو الدخل الشهري لهذا المطعم ؟
ب - إذا كان ما يدفعه صاحب المطعم لكراء المحلّ 105 د في الشهر و 60 د لكل من عاملي المطعم الإثنين في الشهر أيضا و 150 د للطباخ في الشهر كذلك ، فما هي جملة المصاريف السنوية المخصصة لإعداد الأكلات إذا كان ربحه السنوي الصافي يقدر ب 17 880 د ؟

101 - يمكن لأمك أن تخطط 4 ستائر ب 16 م من القماش بسعر 3ر500 د المتر الواحد .

أ - ما هو عدد الستائر التي يمكن أن تخططها أمك إذا اشترت لفيفة بها 96 م ؟
ب - احب جملة المصاريف مع العلم أنّ خياطة الستار الواحد تتكلف ب 1ر900 د .
ج - هل يكون من الأفضل أن تشتري أمك الستائر جاهزة بسعر 15ر800 د الواحد ؟ لماذا ؟

102 - قام 26 تلميذا من قسمنا بإنجاز تمرين النحو وقام 15 تلميذا بإنجاز تمرين الحساب .

كل تلميذ من قسمنا أنجز أحد التمرينين على الأقل بينما قام 8 من التلاميذ بإنجاز التمرينين معا . فما هو عدد التلاميذ بقسمنا ؟

96 - اضطرت البلدية لانتزاع أرض من أحد الخواص وعوضتها له بقطعة أخرى قيس مساحتها 1250 م² واعطته زيادة على ذلك 1650 د . يفوق قيس المساحة المنتزعة قيس مساحة القطعة الثانية ب 1700 م²

ما هو ثمن المتر المربع من القطعة المنتزعة إذا علمت أن ثمن المتر المربع من القطعة الثانية هو 5ر052 د ؟

97 - أراد شخص أن يطلي منزله الجديد فقدرت مدة انجاز ذلك العمل ب 88 ساعة بالنسبة لعامل واحد . شغل هذا الشخص عاملين لربح الوقت شرعا في العمل يوم الإثنين على الساعة الثامنة صباحا .

أ - في أي يوم وفي أي ساعة ينتهي هذا العمل إذا كان كل من العاملين يقضي 8 ساعات في العمل يوميا ؟
ب - يبلغ ثمن المواد اللازمة للطلاء 130 د وتكلف ساعة العمل الواحدة ب 2ر200 د .
فما هي جملة المصاريف ؟
ج - إذا كان مناب العامل الأول يفوق مناب العامل الثاني ب 16 د ، فكم أخذ كل من العاملين ؟

98 - قزر تلاميذ معهد القيام برحلة الى مكان أثري يبعد عن المعهد ب 108 كم .

اتفق المعهد وشركة النقل التي ستخصص حافلة للقيام بهذه الرحلة على أن يكون سعر الكيلومتر 180 مي .
يدفع كل تلميذ دينارا مقابل غذائه زيادة على قسطه في مصاريف النقل .

أ - ما هو عدد المشاركين إذا علمت أنّ التكاليف الجملية للرحلة تقدر ب 83ر880 د ؟

ب - تغيب يوم الرحلة 5 تلاميذ فما هو المبلغ الذي سيدفعه كل تلميذ من الحاضرين يوم الرحلة ؟

103 - عند العودة الى المدرسة شري جلال 3 كتب بـ 1800 د. ، يبلغ ثمن الكتاب الأول 3 مرات ثمن الكتاب الثاني الذي يبلغ ثمنه ضعف ثمن الكتاب الثالث .

أ - فما هو ثمن كل كتاب ؟

ب - شري جلال بعد ذلك نوعين من الكراسات يبلغ ثمنها الجملي 2010 د على النحو التالي :

6 كراسات من النوع الأول بثمن 95 مي الواحدة وبقية الكراسات من النوع الثاني بثمن 120 مي الواحدة ؟
فما هو عدد الكراسات من النوع الثاني ؟

ج - كم أرجع الكتبي الى جلال إذا علمت أنه أعطاه ورقة نقدية من فئة 5 دنانير ؟

104 - يبلغ الدخل الأقصى للعرض الواحد بقاعة سينما 145800 د وتباع التذاكر بثمن موحد وهو 300 مي .

أراد مدير القاعة ذات ليلة أن يحصي عدد البقاع الشاغرة فلاحظ بقعة شاغرة بالصف الأول ، ونصف البقاع شاغرة بكل من الصفين الثالث والسابع ، كما لاحظ بقعتين شاغرتين بالصف العاشر وبقعة واحدة شاغرة بالصف الأخير ، وتأكد بعد ذلك أن الدخل الأقصى سينقص بـ 6600 د .

ابحث عن :

أ - عدد البقاع بهذه القاعة .

ب - عدد البقاع الشاغرة أثناء هذا العرض .

ج - عدد البقاع بكل صف مع العلم أن الصفوف تحوي نفس العدد من البقاع .

د - عدد الصفوف بهذه القاعة .

105 - ادخر أمين 12600 د وادخرت إيمان 11200 د وبمناسبة عيد الأمهات قرّر كل منهما أن يشتري هدية لأمه وبعد الاطلاع على الهدايا المعروضة بالمغازة المجاورة للبيت فكر الطفلان في الهدايا التالية :

- قارورة عطر ثمنها 14600 د .

- فستان ثمنه 19100 د

- مجموعة اسطوانات ثمنها 12500 د

- كتاب ثمنه 1800 د

قفازان ثمنهما 10200 د

أ - ما هي الهدايا التي يمكن لأمين شراؤها ؟

ما هي أثن هدية يمكنه شراؤها ؟

ب - ما هي الهدايا التي يمكن لإيمان شراؤها ؟

ما هي أثن هدية يمكنها شراؤها ؟

ج - إذا جمع الأخ وأخته جملة ما ادخراه فما هي أثن هدية يمكن أن يشتريها معا ؟

كم سيبقى لكل منهما من نقود إذا ساهما في شراء الهدية بالتساوي ؟

د - قرّر أمين في النهاية أن يشتري الأسطوانات وقررت إيمان أن تشتري القفازين ، فكم سيبقى لكل منهما من نقود ؟

106 - توفي أب وترك لابنائه الثلاثة الإرث التالي :

● منزل يقدر بـ 45 000 د

● قطعة أرض صالحة للبناء قيس مساحتها 2 هـ و 56 و 25

صا قدر ثمن المتر المربع منها بـ 2 د

● 1 000 د بصندوق الادخار

● حلي قدر بـ 3 652 د .

أخذ الأول المنزل وأخذ الثاني قطعة الأرض وأخذ الثالث الحلي والمبلغ الموجود بصندوق الادخار ، فكم سيدفع كل من الأخوين الأول والثاني للأخ الثالث حتى تكون مناباتهم متساوية ؟

107 - بدأ في نفس اليوم فريقان في حفر خندق لوضع أنابيب لجلب المياه الصالحة للشرب لقرية جديدة وعندما حضر مراقب الأشغال لاحظ أن الفريق الأول الذي بدأ الأشغال من نقطة الانطلاق قد أتم حفر 5ر250 كم وأن الفريق الثاني الذي بدأ الأشغال من نقطة الوصول قد أتم حفر 3ر375 كم وأن المسافة التي تفصل بين الفريقين هي 1ر125 كم .

أ - ابحث عن طول الخندق .

ب - يتكوّن الفريق الأول من 50 عاملا شرعوا في العمل بداية من يوم 7 أكتوبر الى يوم 5 نوفمبر بدخول الغاية . ابحث عن معدّل طول ما حفره العامل الواحد في اليوم .

ج - يتكوّن الفريق الثاني من 30 عاملا عملوا نفس المدة ابحث عن معدّل طول ما حفره العامل الواحد في اليوم .

د - أراد مراقب الأشغال تكليف أنشط فريق بإتمام العمل في الفريقين سيختار وكم يوما يلزم لإتمام ذلك العمل ؟

108 - اكرى سائح سيارة من شركة خاصة واستعملها لأغراضه السياحية لمدة 3 أيام وذلك وفق الشروط التالية :

يدفع السائح كل يوم 10 د مع زيادة 50 مي لكل كيلو متر يقطعه بالسيارة ويكون ثمن البنزين المستهلك على حسابه .

وعند تسلّم السائح السيارة كان عداد المسافة بها يشير إلى 21565 ولما أرجعها الى الشركة أصبح هذا العداد يشير إلى

22015 .

أ - ما هو المبلغ الذي دفعه السائح للشركة عند إرجاع السيارة ؟

ب - ما هي جملة مصاريف السائح طيلة الأيام الثلاثة مع العلم أن السيارة تستهلك 9 ل من البنزين في 100 كم وأن ثمن اللتر من البنزين يبلغ 210 مي .

ج - بكم يتكلف الكيلو متر المقطوع بهذه السيارة ؟

109 - تبلغ تذكرة ركوب القطار بالدرجة الممتازة من سوسة الى تونس 2ر200 د .

أ - ماذا يكون ثمن التذكرة بالنسبة لمسافة 350 كم مع العلم أن المسافة سوسة - تونس تبلغ 140 كم ؟

ب - ابحث عن المسافة التي يمكن قطعها في هذا القطار بمبلغ قدره 13ر200 د .

110 - اتفق ثلاثة أشخاص على بعث مشروع يتمثل في بناء ورشة نجارة وتجهيزها .

تكلّف الأول بالبحث عن الأرض فاشترى قطعة قيس مساحتها 216 م² بسعر 3ر500 د المتر المربع الواحد وتكلّف الثاني

بالبناء فاشترى بقيمة 419 د مواد للبناء وأعطى أجرة 11 عاملا عملوا 8 ساعات في اليوم مدة 11 يوما بسعر 365 مي للساعة

الواحدة . أما الثالث فقد اشترى الآلات بـ 675ر260 د وقام بتجهيز الورشة بالتيار الكهربائي فصرف لذلك الغرض 76ر720 د

أ - ابحث عن جملة ما صرفه كل واحد .

ب - ابحث عن المقدار الذي سيدفعه كل واحد للآخر لتكون جملة المصاريف موزعة على الأشخاص الثلاثة بالتساوي .

111 - يوم السوق باعت ليلي 244 بيضة بـ 115 مي الأربع بيضات و 4 دجاجات بـ 5ر345 د .

أ - ابحث عن المقدار الذي تحصلت عليه ليلي .

ب - بعد أن اشترت ليلي بثلاث ما لديها من نقود خضرا وغلالا وقفت أمام بائع القماش لشراء قطعة من القماش فاقترح

عليها البائع قطعة ثمنها 7ر605 د فلم توافق على الثمن ولكنها عندما طافت في السوق لاحظت أن أثمان القماش

مرتفعة عند بقينة الباعة فرجعت الى البائع الأول فقال لها : لقد بعثت من القطعة التي قدمتها إليك أنفا 3 أمتار

ولذلك فإني سأسلمك ما بقي منها بـ 5ر070 د فوافقت .

ابحث عن ثمن الخضر والغلال .

ج - ابحث عن ثمن المتر من القماش .

د - ابحث عن طول قطعة القماش التي اشتريتها ليلى .

هـ - ابحث عن المبلغ الذي رجعت به ليلى الى المنزل .

112 - يسجل عداد سيارة الاجرة عند ركوب الحريف 100 مي ثم يزداد هذا المبلغ بـ 80 مي لكل 1 كم تقطعه السيارة و 20 مي لكل وقفة تستغرق دقيقتين .

أ - ما هي المبالغ التي يسجلها عداد السيارة عند قطع كل من المسافتين التاليتين على حدة : 2 ر 3 كم و 9ر5 كم ؟

ب - امتطت مريم سيارة أجرة وقطعت مسافة 1 800 م في مرحلة اولى مع توقف دام 8 د ق ثم انطلقت من جديد في نفس السيارة في مرحلة ثانية قطعت خلالها 2ر5 كم مع توقف دام دقيقتين واصلت إثره مريم طريقها حتى وصلت مقر سكنها بعدما قطعت في تلك المرحلة الثالثة 0ر5 كم ، فما هي تكاليف هذا التنقل ؟

113 - اتفق موظف وفلاح على أن يشتركا في تربية البقر حسب الشروط التالية :

- يدفع الموظف ثمن شراء البقر .

- يعتنى الفلاح بتربية البقر ويسهر على إنتاجه وبيع ذلك الإنتاج .

- عندما يسترجع الموظف كامل رأس ماله يصبح للفلاح الحق في نصف الإنتاج . وعلى هذا الأساس اشترى الموظف 18 بقرة بـ 76ر500 د الواحدة .

وفي نهاية السنة الأولى باع الفلاح 11 عجلا بـ 65ر500 د الواحد وفي نهاية السنة الثانية باع 14 عجلا بـ 51ر200 د الواحد .

وفي نهاية السنة الثالثة باع 9 عجول بـ 71 د الواحد .

أ - متى كان للفلاح أن يطالب بحقه في نصف الذخر ؟

ب - ما هو نصيبه من الدخل نقدا عندئذ ؟

ج - ما هو نصيبه من الدخل إثر السنوات الثلاث ؟

114 - اشترى علي سيارة بمبلغ 4 400 د واستعملها لمدة 3 سنوات كاملة فكان يدفع سنويا 125 د للتأمين و 40 د كمعلوم جبائي وقد قطع بها مسافة 63 000 كم في تلك المدة . كانت السيارة تستهلك معدّل 10ر2 ل من البنزين في 100 كم و 4 ل من الزيت كلّ 3 000 كم وبلغت جملة مصاريف الاصلاح 262ر640 د .

أ - احسب ثمن البنزين والزيت لتلك المدة مع العلم أن ثمن لتر البنزين هو 220 مي و ثمن لتر الزيت هو 460 مي .

ب - احسب جملة المصاريف لمدة 3 سنوات .

ج - باع علي سيارته بـ 2 137 د . فما هي تكاليف الكيلومتر الواحد ؟

115 - نريد دفع مبلغ مالي قدره 135 مي بـ 36 قطعة نقدية منها قطع من فئة 2 مي والأخرى من فئة 5 مي . فما هو عدد القطع من كل نوع ؟

116 - قام ثلاثة أصدقاء علي وحمزة ومجدي برحلة على متن سيارة وقطعوا مسافة طولها 266ر5 كم .

خرجوا في الساعة الثامنة والنصف صباحا وعادوا في الساعة الرابعة و 15 د ق مساء وقد توقفوا مدة 4 ساعات و 20 د ق للراحة والأكل والتجول مشيا على الأقدام .

أ - ما هو معدّل سرعة السيارة ؟

ب - اتفق الاصدقاء الثلاثة على قسمة المصاريف بالتساوي

120 - شري شخص قطعة أرض ودفع 399ر024 د كمعلوم التسجيل

فلاحظ أن ذلك المبلغ يمثل $\frac{3}{20}$ من ثمن شراء قطعة الأرض

أ - ما هو قيس مساحة تلك القطعة إذا علمت أن ثمن الهكتار هو 1600 د ؟

ب - شكل القطعة مستطيل طوله 163 م ، ابحث عن عرض القطعة .

121 - يحتوي دَن على ماء إلى ثلثي سعتة ، صب فيه عادل وعاء سعتة 6 ل وأعاد ذلك ثلاث مرّات حتّى أصبح الماء يحتل $\frac{3}{4}$ سعة الدَن .

أ - ما هو الكسر الذي يقدر الفرق بين ارتفاع الماء في الحاليتين ؟
ب - ما هي سعة الدَن ؟

122 - أردت شراء قصة أعجبتني وكان ثمنها يساوي $\frac{3}{4}$ المبلغ

الذي أكسبه ولكنني شريت قبل ذلك قلما حبريا بـ 700 مي فصار ينقصني 0ر250 د لاقتناء القصة .

أ - ما هو المبلغ الذي أكسبه ؟
ب - ما هو ثمن القصة ؟

123 - وزن وعاء مملوء ماء 14ر5 كغ ، عندما أفرغنا منه ثلثي ما يحويه من الماء أصبح يزن 6ر5 كغ .

أ - ما هو قيس حجم الماء الذي وقع إفراغه مع العلم أن اللتر من الماء يزن 1 كغ ؟
ب - ما هي سعة الوعاء بالدمم³ ؟

بينهم وقبل بدء الرحلة دفع علي 8ر700 د وحمزة 4ر500 د ومجدي 3ر250 د وعند انتهاء الرحلة بقي مبلغ مقداره 2ر350 د لم يقع إنفاقه .
ما هو مقدار المصاريف ؟

ج - كيف سيقع اقتسام المصاريف بالتساوي ؟

117 - اشترى تاجر 3 أوعية من العسل ، يزن الأوّل 18ر6 كغ والثاني 21ر15 كغ والثالث 16ر65 كغ .

أ - ما هو وزن العسل إذا علمت أن الوعاء يزن فارغا 2ر600 كغ ؟

ب - كم علبة يمكن له ملؤها إذا أفرغ 200 غ من العسل في كل واحدة ؟

ج - دفع التاجر 1ر600 د ثمن الكيلو غرام من العسل و 20 مي ثمن العلبة فارغة ثم باع العلبة الواحدة بـ 500 مي فما هي مراهيجه ؟

118 - رغبت تعاضدية مدرسية في شراء آلة عرض سينمائي ثمنها 761 د و 6 أشرطة بـ 30 د الشريط الواحد وقد ادخرت لهذا الغرض 225 د كما تلقت مساعدة إضافية مقدارها 191 د .

أ ما هو المبلغ الذي ينقصها لإنجاز هذا المشروع ؟

ب - قرّرت التعاضدية إقامة حفل مدرسي حتّى تتمكّن بفضله الأرباح الناتجة عن الحفل من تسديد باقي المبلغ ، فكم تذكرة بـ 750 مي الواحدة ينبغي عليها بيعها ؟

119 - تغيب يوم الخميس $\frac{1}{8}$ تلاميذ القسم وفي اليوم الموالي

تغيب كذلك $\frac{1}{5}$ الباقي زيادة على المتغيبين يوم الخميس

فلم يبق بالقسم يوم الجمعة إلا 28 تلميذا ، ابحث عن العدد الجملي لتلاميذ القسم .

ج - ما هو وزن الوعاء فارغا ؟

د - نضغ كامل الماء ثم نملأ الوعاء زيتا إلى ثلاثة أرباعه فما هو وزن الزيت مع العلم أن لتر الزيت يزن 0ر9 كغ ؟

هـ - إذا كان ثمن الزيت الموجود بالوعاء يقدر بـ 4ر455 د فما هو ثمن الديكالتر من هذا الزيت ؟

124 - باع فلاح الكميات التالية مما تحصل عليه من القمح والشعير

المرّة الأولى : 100 ق من القمح و 60 ق من الشعير بـ 940 د
المرّة الثانية : 100 ق من القمح و 40 ق من الشعير بـ 860 د

أ - ابحث عن ثمن القنطار من القمح و ثمن القنطار من الشعير

ب - هل يمكن لهذا الفلاح أن يشتري بما تحصل عليه من أموال
حديقة مستطيلة الشكل طولها 5ر196 م وعرضها $\frac{2}{3}$
طولها بحساب 1 000 د الهكتار الواحد ؟

125 - اشترك تلميذان من السنة الثامنة في عزق بيت مكيف طولها

64ر25 م وعرضه 8 م ، فعزق الأول $\frac{2}{5}$ المساحة وعزق

الثاني $\frac{3}{8}$

أ - أي التلميذين عزق أكثر ؟

ب - ما هو الكسر الذي يمثل قيس المساحة الباقية بدون عزق ؟

ج - ما هو قيس تلك المساحة ؟

126 - قطعتا أرض لهما نفس طول المحيط إحدهما مربعة والأخرى

مستطيلة طولها 120 م وعرضها $\frac{2}{3}$ طولها

أ - ما هي أبعاد كل من القطعتين ؟

ب - ما هو قيس مساحة كل منهما بالآر ؟

ج - يفوق ثمن شراء القطعة المربعة ثمن شراء القطعة المستطيلة بـ 1560 د .

ابحث عن ثمن شراء الار الواحد من هذه الارض .

د - ما هو ثمن شراء كل من القطعتين ؟

127 - تعطى بقرة 8 ل من الحليب كمعدل يومي في الأشهر الخصة

الثلاثة مارس وأفريل وماي ، يبيع صاحبها $\frac{3}{4}$ هذه الكميّة

بشمن 0ر120 د اللتر الواحد ، أما الباقي فيحتفظ به لاستخراج

الزبدة مع العلم أن لتر الحليب يزن 1ر030 كغ ويعطي $\frac{1}{8}$

وزنه زبدة تباع بشمن 0ر900 د الكغ الواحد .

أ - ابحث عن مداخير صاحب هذه البقرة خلال أشهر مارس وأفريل وماي .

ب - هل يكون الدخل أوفر إذا تم تحويل كامل كميّة الحليب إلى زبدة . علّل جوابك .

128 - أنفق محمد بالمغازه العامّة $\frac{3}{5}$ ما يملكه من نقود لشراء

بعض الملابس ثم تحول إلى السوق المركزيّة فأنفق نصف ما بقي له وأخيرا أراد شراء حذاء ثمنه 6ر090 د ولكنه

لاحظ أنه ينقصه 1ر090 د .

أ - كم كان يملك محمد قبل الخروج من المنزل ؟

ب - كم أنفق بالمغازه العامّة ؟

ج - كم أنفق بالسوق المركزيّة ؟

د - كم بقي له قبل شراء الحذاء ؟

129 - اشترك شخصان في بناء حائط مشترك بينهما طوله 22 م وارتفاعه

2ر10 م وسمكه 0ر50 م فاشترى لهذا الغرض 20 كيسا من الأسمنت

133 - ينتج المتر المربع من أرض فلاحية 2ر6 كغ من الطماطم ، ما هو وزن الطماطم التي تنتجها قطعة أرض قيس مساحتها 2 ها و 4 أو 60 صاً ؟

ما هو المدخول السنوي لصاحب تلك القطعة إذا قدر ثمن الطن من الطماطم بـ 120 د مع العلم أن المصاريف تبلغ $\frac{2}{5}$ ثمن بيع الإنتاج ؟

134 - نقل فلاح إنتاجه من البطاطا في أكياس ذوات 50 كغ على متن شاحنة أقصى حمولتها 5 أطنان .

أ - كم كيسا يستطيع نقله في المرة الواحدة ؟
 ب - تبين له أنه بعد ثلاث سفرات لم ينقل إلا $\frac{5}{9}$ إنتاجه ، فما هو الوزن الجملي لإنتاجه بالطن ؟
 ج - كم سفرة أخرى تلزمه لنقل باقي الإنتاج ؟
 د - وقع بيع البطاطا بسعر 9ر500 د القنطار الواحد ، فما هو مقدار الربح الذي حصل للفلاح إذا كانت مصاريف الفلاحة والنقل تقدر بـ $\frac{1}{3}$ مجموع المداخيل ؟

135 - اشترى بائع غلال 250 كغ من الخوخ بـ 120 د وباعها على مرحلتين :
 ● باع $\frac{3}{10}$ الكمية بـ 520 مي الكغ .

● ربح في البقية 250ر120 د .
 أ - ما هو ثمن شراء الكغ الواحد من الخوخ ؟
 ب - ما هو ربحه في الكغ الواحد مما تبقى من الخوخ بعد بيع $\frac{3}{10}$ كامل الكمية ؟

ج - بكم باع كامل كمية الخوخ ؟
 د - كم ربح في النهاية ؟ وما هو ربحه في الكغ الواحد ؟

بـ 1ر400 د الكيس الواحد و 6م³ من الرمل بثمان 2ر500 د المتر المكعب الواحد وكمية من الحجارة يقدر قيس حجمها بـ $\frac{5}{6}$

قيس حجم العائط بثمان 2ر500 د المتر المكعب الواحد و 16 قضيبا حديديا بـ 1ر800 د القضيب الواحد .

أ - ما هو قيس حجم الحجارة المستعملة ؟ وما هو ثمن الحجارة ؟

ب - كم دفع كل شخص مع العلم أن تكاليف حمل الأسمت والرمل والحجارة بلغت 21ر500 د وأن ثمن كلفة اليد العاملة بلغ 86ر875 د ؟

130 - أخذ صادق نصف مبلغ مالي وأخذ كذلك ثلث النصف الآخر أما باقي المبلغ فقد قسمه بالتساوي بين ولديه .

أ - عبّر بكسر عن مناب صادق .
 ب - عبّر بكسر عن نصيب كل من الولدين .
 ج - إذا كان نصيب صادق يقدر بـ 4938ر240 د فما هو مناب كل من الولدين .
 د - ما هو المبلغ الجملي ؟

131 - يتناول 3 عمال فطورهم في مطعم شركتهم الذي يعد أكلة موحدة وقد دفع الأول في نهاية الشهر 14ر625 د ودفع الثاني الذي تخلف أيام 10ر530 د ودفع الثالث $\frac{2}{3}$ ما دفعه الثاني .

أ - ابحث عن ثمن الأكلة .
 ب - ابحث عن عدد الأكلات التي تناولها كل واحد .

132 - اشترى والدك جهاز تلفزة بالألوان ثمنه 451ر500 د وكان قد سلم للبائع عند الطلب $\frac{2}{5}$ الثمن ثم دفع $\frac{1}{3}$ ما بقي من

الثمن عند تسليم الجهاز والتزم بتسديد البقية في مدة 6 أشهر . فكم سيدفع كل شهر ؟

136 - شرت أمك صندوقا به اجاص وكان وزن الصندوق والاجاص 12ر5 كغ ، شرت ذلك الاجاص ب 650 مي الكغ بغية صنع مربى .

أ - احسب ثمن كلفة المربى مع العلم أن وزن الصندوق فارغا هو 1ر500 كغ وأن الكيلو غرام من الاجاص يتطلب 800 غ من السكر بحساب 240 مي الكيلو غرام الواحد وأن تكاليف الطبخ بلغت 0ر638 د .
ب - ما هو ثمن كلفة الكغ من هذا المربى إذا علمت أن عملية الطبخ تنقص $\frac{1}{6}$ وزن الخليط ؟

137 - يتقاضى أجير 245 مي عن كل ساعة عمل وهو يعمل 8 ساعات في اليوم طيلة 25 يوما في الشهر .

أ - ابحث عن جملة ما يتقاضاه في الشهر .
ب - ينفق هذا العامل $\frac{4}{5}$ ما يتقاضاه في التغذية والكرام

واللباس ، ابحث عن المقدار الذي يذخره في السنة .
ج - أراد هذا العامل أن يشتري ثلاجة ثمنها 156ر800 د ، فما هي بالأشهر المدة التي سيقضيها في الانتظار لادخار ثمن الثلاجة ؟

138 - يملك فلاح أرضا شكلها معين طول قطره الكبير 180 م وطول قطره الصغير $\frac{5}{9}$ طول القطر الكبير .

أ - ابحث عن قيس مساحة هذه الأرض بالهكتار .
ب - باع منها الفلاح جزءا ب 14 300 د بحساب 275 د الآر الواحد فما هو قيس مساحة ذلك الجزء ؟

ج - زرعت المساحة المتبقية قمحا فكان إنتاج الهكتار الواحد 2 480 كغ ، ما هو وزن القمح الحاصل ؟ عبّر عن ذلك القيس بالقنطار .

د - باع الفلاح $\frac{3}{4}$ منتوج القمح بحساب 140 د بالنسبة للطن الواحد وادّخر الباقي ، فما هو ثمن بيع القمح ؟

139 - بيعت أرض صالحة للبناء على ثلاثة مراحل :
وقع بيع 1 840 م² منها في المرحلة الأولى بسعر 4ر200 د بالنسبة للمتر المربع الواحد .

في المرحلة الثانية وقع بيع $\frac{3}{5}$ ما تبقى بسعر 4ر800 د بالنسبة للمتر المربع الواحد .

أما في المرحلة الثالثة فقد وقع بيع ما تبقى من تلك الأرض وهو ما قيّسه بالمتر المربع 2 800 .

أ - ابحث عن قيس المساحة الجمالية لهذه الأرض وعبر عنه بالآر .

ب - ما هو قيس محيطها إذا علمت أن شكلها مستطيل يبلغ طوله 104 م ؟

ج - ابحث عن ثمن بيع المتر المربع في المرحلة الثالثة مع العلم أن الثمن الجملي لبيع كامل الأرض هو 42 868 د .

140 - خزان للماء اسطوانتي الشكل قيس مساحته الجانبية الداخلية 84ر78 م² وقيس محيط قاعدته 18ر84 م .

أ - ما هي سعة هذا الخزان بالهكتولتر ؟

ب - يمكن لمضخة أولى أن تفرغ الخزان في مدة 12 ساعة بينما تفرغه مضخة ثانية في مدة 6 ساعات .

ما هو الكسر الذي يمثل الجزء الذي تفرغه المضختان الأولى والثانية معا في ساعة واحدة ؟ ما هي كمية الماء الموافقة التي أفرغت من الخزان ؟

ج - ما هو الوقت اللازم لافراغ الخزان عند استخدام المضختين معا ؟

141 - حديقة مثلثة الشكل طول قاعدتها 150 م وارتفاعها 80 م .

أ - ابحث عن قيس مساحتها .

ب - يستعمل صاحب الحديقة للزبي حوضا على شكل متوازي مستطيلات طوله 80ر2 م وعرضه 50ر2 م وعمقه 2 م ابحث عن سعة الحوض بالهبل .

ج - ابحث عن الوقت اللازم لتفريغ $\frac{3}{4}$ كميّة الماء

المتجمعة بالحوض بمضخة تفرغ 7000 ل في الساعة .

د - ينوي صاحب الحديقة بيع نصفها بثمن 120 د الآر لشراء جزار ، فما هو ثمن الجزار إذا كان ما تحصل عليه هذا الفلاح يمثل $\frac{4}{5}$ ثمن الجزار ؟

142 - لفلاح حقل مستطيل الشكل طوله 50 م زرع $\frac{2}{5}$ مساحته

بطاطا و $\frac{2}{9}$ فلفلا و $\frac{1}{3}$ بصلا وبقي من الحقل 70 م²

خصصها للممرات وقد تحصل على المداخيل التالية بعد خصم جميع المصاريف :

بطاطا : 660 د

فلفل : 230 د

بصل : 224 د

فقرّر تسييج الحديقة وذلك بوضع 3 صفوف من الأسلاك شتت بواسطة أعمدة حديدية تاركا بابا عرضه 3 م .

● ثمن الأعمدة : 160 د

● ثمن لفافة السلك ذات 200 م هو 6 د

● أجره العامل : 56 د

ابحث عن المقدار الذي بقي لذلك الفلاح من مدخول فلاحته بعد التسييج .

143 - ينفق عامل $\frac{5}{9}$ مرتبه الشهري في التّغذية و $\frac{1}{4}$ هذا

المرتب في الكراء والباقي وهو 21 د في مصاريف شتى .

أ - عبّر بكسر واحد عما يصرفه العامل من مرتبه في التّغذية والكراء .

ب - عبّر بكسر عن باقي مرتبه ثم ابحث عن هذا المرتب .

ج - كم يدفع العامل شهريا للتغذية والكراء ؟

د - إذا تمكّن العامل من ادخار $\frac{3}{7}$ باقي مرتبه لمدة 5

أشهر في السنة طيلة 3 سنوات فهل بإمكانه بعد انقضاء تلك المدة أن يشتري لزوجته آلة خياطة بـ 132 د ؟

144 - تحصل عامل مختص على 100ر98 د أجره عمله خلال شهر مارس

ولو لم يتخلف 4 أيام خلال هذا الشهر لتحصل على 900ر119 د

أ - ابحث عن عدد الأيام التي عمل فيها خلال شهر مارس .

ب - أنفق $\frac{2}{3}$ ما تحصل عليه في شؤونه العائلية وسدد معلوم

الكراء بـ $\frac{3}{5}$ ما بقي له ، ابحث عن المبلغ الذي أمكن له

ادخاره خلال هذا الشهر .

145 - اشترت شركة عقارية أرضا قيس مساحتها 5ر24 أ بسعر 635 مي

المتر المربع ثم قسمتها الى 3 قطع على النحو التالي :

● قيس مساحة القطعة الأولى يساوي $\frac{2}{7}$ قيس مساحة كامل الأرض .

● قيس مساحة القطعة الثانية يزيد عن قيس المساحة الأولى بـ 85 م²

أ - ابحث عن قيس مساحة كل قطعة .

ب - باعت الشركة بعد ذلك القطع الثلاث وسجلت ربحا يساوي 250ر119 د

ابحث عن ثمن بيع كل قطعة .

149 - أ - كفل تعميم الجدول التالي الخاص بنتائج مناظرة الذخول الى السنة الاولى من التعليم الثانوي بإحدى المدارس الابتدائية .

النسبة المئوية	عدد الناجحين	عدد المترشحين	
.	17	34	السادسة أ
% 40	14	.	السادسة ب
.	7	28	السادسة ج
% 75	.	28	السابعة
.	.	.	المجموع

ب - إذا كان عدد المترشحين الذكور يفوق عدد المترشحين الإناث ب 27 فما هو عدد المترشحين وعدد المترشحات ؟
ج - إذا كان عدد الناجحات في المناظرة 14 فما هو عدد الناجحين من الذكور ؟
د - ما هي نسبة النجاح عند الذكور وعند الإناث ؟

150 - خرجت الى السوق لشراء معطف وكان معي مبلغا ماليا أطلب منك أن تبحث عنه وسأساعدك على ذلك بمذك بالمعلومات التالية :
كنت أنوي تخصيص $\frac{3}{4}$ ذلك المبلغ لشراء المعطف لكنني فوجئت لحسن حظي بتخفيض قدره 10 % وبعد شراء المعطف تبين لي أنني ربحت 900 د من جراء التخفيض .

151 - اشترت ضيعة قيس مساحتها 12 ها و 48 اب 12ر500 د الذك² أفقت 230 د في بعض الإصلاحات ثم كريتها ب 955ر200 د في السنة .
ما هي النسبة المئوية للأرباح التي أتحصل عليها سنويا إذا علمت أن مقدار الضريبة السنوية التي أدفعها هو 90 د ؟

146 - قام ببناء جدار طوله 21 م وارتفاعه 2ر80 م وسمكه 0ر50 م .
أ - احسب قيس حجم الجدار .
ب - ما هو قيس حجم الحجارة اللازمة لبناء هذا الحائط إذا علمت أنها تحتل $\frac{5}{6}$ ذلك القيس ؟

ج - احسب ثمن المواد التي استعملت في بناء هذا الجدار إذا علمت أن بناء الحائط تطلب 21 كيسا من الأسمنت ب 1ر400 د الكيس الواحد و 4ر5 م³ من الرمل ب 2ر200 د المتر المكعب الواحد وأن ثمن المتر المكعب من الحجارة هو 2ر500 د .

د - ما هو ثمن كلفة بناء هذا الحائط إذا كانت تكاليف اليد العاملة تقدر ب $\frac{2}{5}$ تكاليف المواد الأخرى ؟

147 - ذهب أبي الى المدينة ومعه 12ر375 د فأففق 2ر310 د في شراء بعض الخضرو 2ر640 د في شراء اللحم بحساب 2ر400 د الكغ الواحد ومقدارا آخر في شراء محفظة وكتاب لأخي منير .

أ - ما هو وزن اللحم ؟
ب - ما هو ثمن المحفظة والكتاب إذا علمت أن المبلغ الباقي لأبي بعد كل هذه المصاريف هو $\frac{1}{5}$ ما كان يملكه عند خروجه الى المدينة ؟

ج - ما هو ثمن كل من الكتاب والمحفظة مع العلم أن ثمن الكتاب هو $\frac{1}{8}$ ثمن المحفظة ؟

148 - لصنع 12 قميصا للأطفال اشترت خيطة 9 م من القماش سعر المتر الواحد 890 مي ودفعت مقابل الخيط والازرار 2ر050 د ، وعند البيع أرادت أن تربح 20 % زيادة على ثمن الكلفة . فبكم ستبيع القميص الواحد ؟

- 156 - أزداد موظف شراء دراجة نارية جديدة ثمنها 520 د وفي الأثناء أخبرته الصحف اليومية أن إدارة القمارق قررت توظيف زيادة 2ر5% على ثمن الدراجات النارية المستوردة .
- أ - ما هو ثمن الدراجة النارية الجديد ؟
- ب - اتفق الموظف مع بائع الدراجات على أن يسلمه دراجته القديمة مقابل 150 د وأن يدفع له الباقي ، فكم سيدفع الموظف للتاجر ؟
- ج - لا يملك الموظف من هذا المقدار سوى $\frac{3}{4}$ فما هو المقدار الذي سيستعيده ؟

- 157 - ~~أ~~ شري ثلاثة أشخاص أرضا واقتسموها كما يلي ~~أ~~ أخذ الأول $\frac{2}{5}$ القطعة وأخذ الثاني ثلثها وأخذ الثالث $\frac{1}{5}$ م² 664
- أ - ما هو قيس مساحة هذه الأرض ؟
- ب - ابحث عن قيس مساحة كل جزء من الأجزاء الثلاثة بحساب الأ.ر.
- ج - ما هو ثمن كلفة كل قطعة من القطع الثلاث إذا علمت أن ثمن شراء المتر المربع هو 6ر500 د وأن مصاريف التسجيل بلغت 15% من ثمن الشراء ؟

- 158 - ضيعة قيس مساحتها 60 هـ أصنفت مزرعاتها كما يلي :
- 1 200 شجرة زيتون تمسح كل شجرة 225 م²
- 750 شجرة مشمش تمسح كل شجرة 160 م²
- 10 هـ مزرعة كروما و 6 هـ بقولا والباقي حشائش لتربية الماشية
- 1 - احسب قيس المساحة المزرعة زيتونا بالهكتار
- 2 - احسب قيس المساحة المزرعة مشمشا
- 3 - ما هي النسب المئوية لكل أصناف المزروعات
- 4 - مثل كل أصناف المزروعات على قرص دائري تقسم مساحته إلى أجزاء مناسبة لأقيسة مساحات أصناف المزروعات .

- 152 - تعد ولاية المهديّة في أوائل سنة 1977 ، 218 000 ساكنا وفي تلك السنة كان عدد الولادات 14170 وعدد الوفيات 8720
- 1 - احسب الزيادة في عدد السكّان في آخر سنة 1977
- 2 - ما هي النسبة المئوية للزيادة ؟
- 3 - احسب ما قد يكون عليه عدد السكّان بتلك الولاية في أواخر سنوات 1978 ، 1979 ، 1980 إذا احتفظ بنفس النسبة المئوية للزيادة . مثل ذلك بجدول .

- 153 - حقل مستطيل الشكل يبلغ عرضه ثلث طوله أحيط بسيّاج قدرت تكاليفه بـ 1459ر200 د بحساب 1ر200 د المتر الواحد .
- أ - ما هو طول السيّاج ؟
- ب - ما هو الثمن الجملي لشراء هذا الحقل بما في ذلك السيّاج إذا كان ثمن شراء الأ.ر يقدر بـ 60 د ومصاريف التسجيل تبلغ 8% من ثمن الشراء ؟

- 154 - يقدر الدّخل السنوي لموظف بـ 1.745ر800 د ويقدر معدل ما يصرفه في شؤون عائلته بـ 98 د شهريا إلا أن جملة مصاريفه في شهر أوت بمناسبة العطلة السنوية بلغت 141ر200 د .
- أ - ابحث عن جملة ما ادخره هذا الموظف في السنة .
- ب - ما هو مقدار الفائض الذي سيتحصّل عليه بعد عام إذا ادخر أمواله بالبنك بفائض قدره 6% ؟

- 155 - اشترت شركة عقارية أرضا بـ 1728 د بسعر 50 د الأ.ر الواحد .
- أ - ابحث عن قيس مساحة تلك الأرض بالمتر المربع .
- ب - كلفت الشركة مقاولا لتهيئتها وتقسيمها فبلغت المصاريف ضعف ثمن شراء الأرض . ابحث عن ثمن كلفة العقار .
- ج - قررت الشركة تحقيق 60% من الربح زيادة عن ثمن الكلفة . ابحث عن ثمن بيع المتر المربع الواحد .

159 - تعد مدرسة ابتدائية 420 تلميذا موزعين على مختلف السنوات كما هو مبين بالجدول التالي :

سنوات التعليم	عدد التلاميذ		الجملة
	ذكور	إناث	
السنة الأولى	44		90
السنة الثانية		42	
السنة الثالثة	38		74
السنة الرابعة		28	76
السنة الخامسة		24	
السنة السادسة	12		
الجملة			420

أ - أتمت تعبئة الجدول مع العلم أن عدد التلاميذ المرسمين بالسنة السادسة هو $\frac{1}{12}$ من مجموع التلاميذ وهو كذلك نصف عدد تلاميذ السنة الخامسة .

ب - نجح من بين هؤلاء التلاميذ في مناظرة الدخول الى السنة الأولى من التعليم الثانوي 21 تلميذا ، فما هي النسبة المئوية للنجاح ؟

160 - اشترى بائع سيارات قديمة سيارة مستوردة ب 618 د مع توظيف 20 % لإدارة القمارق وقام بإصلاحها وتجديد بعض قطعها مقابل 400ر256 د .

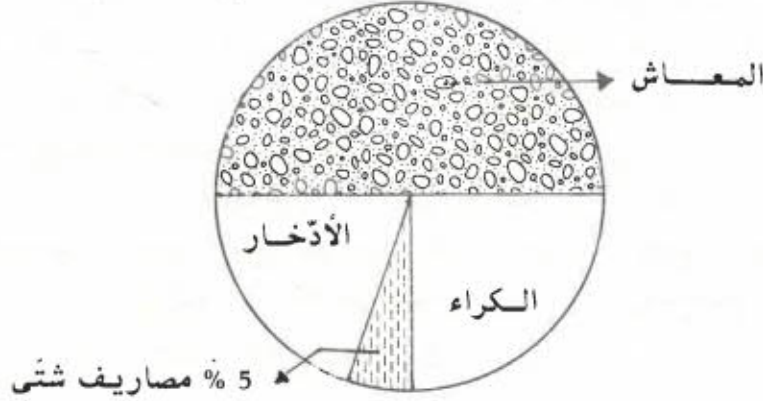
أ - ابحث عن ثمن كلفة السيارة .

ب - قبل عرضها للبيع أخذ يفكر بين أمرين :
● إما أن يربح 25 % من ثمن الشراء

● وإما أن يربح 20 % من ثمن الكلفة . فأى الأمرين سيختار ؟ ولماذا ؟

161 - يتقاضى موظف مرتبا شهريا مقداره 240 د .

أ - تأمل المخطط التالي وابحث عن النسبة المئوية لكر من مصاريف المعاش والكرء وكذلك نسبة الادخار .



ب - كم ينفق في المعاش ؟ وفي الكراء ؟ وفي المصاريف الشتى ؟
ج - كم يدخر شهريا ؟
د - هل بإمكان هذا الموظف أن يشتري بعد مضي سنة جهاز تلفزة بثمن 450 د ؟

162 - الثمن العادي لآلة غسل الثياب هو 298 د .

يعمل أبي بشركة « الرفاهة » فهو يتمتع بتخفيض في أسعار هاته الشركة بما قدره 12 % . بلغت تكاليف نقل الآلة من مقر الشركة الى منزلنا 5 % من السعر المخفض فما هو ثمن كلفة هذه الآلة ؟

163 - يتقاضى نائب شركة تجارية 500ر7 د في اليوم يضاف الى ذلك نسبة 5 % من قيمة الصفقات التي يبرمها أثناء تجولاته . شرع في العمل صباح يوم 24 مارس وانهاه مساء يوم 4 أفريل وباع أثناء تلك الفترة بما قدره 5564 د . فكم ستدفع له الشركة طيلة تلك المدة ؟

- 164 - باع كتيب 100 كتاب و 6 محافظ بمبلغ قدره 138 د .
 أ - ابحث عن ثمن الكتاب الواحد إذا علمت أن ثمن محفظتين يعادل ثمن 5 كتب .
 ب - ما هو ربح الكتيب إذا قدر هذا الربح بـ 25 % بالنسبة للكتب و 18 % بالنسبة للمحافظ ؟ .
- 165 - خرجت مرة أولى السوق فاشتريت 5 ل من الزيت ثم عدت ثانية الى السوق لشراء 8 ل من نفس الزيت و 4 ل من المشروبات الغازية ثمن اللتر الواحد منها 130 مي . دفعت في المرة الثانية مبلغا يفوق المبلغ الأول بـ 170ر2 د
 أ - كم دفعت مقابل اللتر الواحد من الزيت ؟
 ب - يقدر ربح التاجر بـ 10 % من ثمن بيع الزيت فكم يدفع هذا التاجر مقابل طن من الزيت مع العلم أن لتر الزيت يزن 900 غ ؟
- 166 - يملك فلاح 20 بقرة حلوبا تنتج كل منها 12 ل من الحليب في اليوم وذلك لمدة 250 يوما في السنة .
 أ - كم لترا من الحليب تعطي الأبقار في هذه المدة ؟
 ب - ما هو المحصول السنوي لهذا الفلاح إذا علمت أن ثمن بيع اللتر هو 140 مي وأن المصاريف تقدر بـ 32ر5 % من ثمن بيع كامل منتوجه ؟
- 167 - يشتغل عامل مع ولديه في معمل للنسيج .
 الأجرة اليومية للأب هي 2ر400 د وأجرة ابنه الكبير تفوق نصف أجرة أبيه بـ 600ر0 د ، أما أجرة الابن الصغير فهي $\frac{1}{3}$ مجموع أجرتي أبيه وأخيه .
 أ - ما هي أجرة كل من الولدين ؟
 ب - ما هو الدخل السنوي لهذه العائلة ؟
 ج - إذا كانت المصاريف السنوية لهذه العائلة تقدر بـ 65 % من الدخل السنوي فما هو المبلغ المالي المدخر سنويا ؟

- 168 - لبناء مدرسة شرت البلدية أرضا قيس مساحتها 3600 م² بـ 120 د الار الواحد .
 أ - ما هو ثمن شراء الأرض ؟
 ب - ما هو ثمن الكلفة مع العلم أن مصاريف التسجيل تقدر بـ 5 % من ثمن الشراء ؟
 ج - شرعت البلدية في بناء 4 قاعات للدرس بعدا الواحدة 5ر9 م و 7 م وكذلك في بناء مسكن للمدير بعداه 12 م و 10 م . فقدرت المصاريف بـ 40 د للمتر المربع المبني ، فما هي تكاليف البناء ؟
 د - تدفع الدولة للبلدية 62 % من جملة مصاريف شراء الأرض والبناء فما هو قسط البلدية ؟
- 169 - اشترى شخص أرضا مستطيلة الشكل طول محيطها 420 م .
 أ - احب قيس مساحة هذه الأرض مع العلم أن الطول يفوق العرض بـ 50 م .
 ب - ما هو ثمن كلفة الأرض إذا علمت أن ثمن شراء الار هو 300 د وأن مصاريف التسجيل بلغت 15 % من ثمن الشراء ؟
 ج - إذا كان هذا الشخص قد دفع ثلثي الثمن بالحاضر والثلث الباقي بزيادة 6 % بعد مضي سنة كاملة ، فما هو الثمن الحقيقي لشراء الأرض ؟

- 170 - قسمت قطعة أرض صالحة للبناء على ثلاثة أشخاص على النحو التالي :

- أخذ الأول $\frac{1}{3}$ قيس مساحة القطعة أي 600 م²
- أخذ الثاني $\frac{2}{3}$ مناب الأول .
- أخذ الثالث ضعف مناب الثاني

أ - ابحث عن مناسبي الثاني والثالث .

- ب - ما هو ثمن شراء هذه الأرض إذا علمت أن ثمن الار هو 750 د وأن تكاليف التسجيل بلغت 14 % ؟
- ج - كم دفع كل شخص ؟

171 - باع فلاح أرضا مربعة الشكل يبلغ طول ضلعها 124 م بثمن 3500 د الهكتار الواحد وذلك قصد شراء جرار غير أنه لم يتمكن من تسديد إلا $\frac{4}{5}$ ثمن الجرار واضطر الى دفع الباقي بزيادة 8 % وعلى 6 أقساط شهرية .

- أ - ابحث عن الثمن الحقيقي للجرار أي بدون زيادة .
- ب - كم يدفع الفلاح في القسط الواحد ؟
- ج - ما هو ثمن كلفة الجرار ؟

172 - نظم المكتب المحلي للمصائف والجولات مصيفا بالسّوم دام 10 أيام وشارك فيه 60 طفلا ، يوم الإختتام ضبط المقتصد حساباته كما يلي :

مصارييف التّغذية : 432ر604 د

مصارييف النّقل : 89ر007 د

مصارييف مختلفة : 369ر389 د

الباقي بالصندوق : 9 د

- أ - ابحث عن جملة ما صرفه المقتصد .
- ب - ابحث عن معدّل ما صرفه المقتصد يوميا .
- ج - ابحث عن معدّل تكاليف الطّفّل الواحد في اليوم الواحد .
- د - ابحث عن المقدار الذي ساهم به كلّ طفل إذا كانت جملة المداخليل متأتية من مشاركة الأطفال بنسبة 20 % ومن صندوق المكتب المحلي للمصائف والجولات بنسبة 80 % .

173 - أراد أب أن يشتري لأولاده الأثاث التالي :

- 3 مكاتب صغيرة بحساب 14ر500 د الواحد .
- 3 كراسي بسعر 5ر500 د الواحد .
- خزانة أثاث بسعر 48 د
- مكتبة بسعر 36 د .

أ - كم سينفق هذا الأب ؟

ب - هل بإمكان الأب شراء هذا الأثاث بعد 9 أشهر إذا كان يذخر 12 د في الشهر ؟

ج - في صورة عدم الإمكان ما هي الأشياء التي يستطيع شراءها وما هي المدة اللازمة لاقتناء بقية الأثاث ؟

د - يتمتع هذا الأب بتخفيض قدره 20 % إذا ما دفع ثمن كامل الأثاث دفعة واحدة ، فما هي المدة اللازمة لجمع ثمن هذا الأثاث ؟

174 - اضطرّ أحمد لبيع قطعة أرض قيس مساحتها 22050 د² لتسديد بعض الديون . شكل قطعة الأرض شبه منحرف طول قاعدته الكبرى 420 م وطول قاعدته الصغرى هو $\frac{2}{3}$ طول القاعدة الكبرى .

أ - ابحث عن ارتفاع القطعة .

ب - باع أحمد تلك الأرض ب 77 175 د ، فما هو ثمن بيع الار الواحد ؟

ج - لاحظ أحمد أن هذا المبلغ لم يسدّد إلا $\frac{5}{6}$ دينه ، فما هو مقدار هذا الدين ؟

د - دفع أحمد باقي دينه بزيادة 15 % وعلى 5 أقساط متساوية المبلغ ، فما هو مقدار كلّ قسط ؟

175 - يشتغل عامل من الثامنة و 30 د ق صباحا الى منتصف النهار و 30 د ق ومن الثانية و 30 د ق بعد الزوال الى السادسة و 30 د ق مساء ما عدا عشية الجمعة وكامل يوم الأحد .

أ - كم ساعة يشتغل هذا العامل أسبوعيا ؟

178 - وقعت قسمة أرض قيس مساحتها 11ر5248 هـ بين ثلاثة أشخاص فكان نصيب الأول قطعة مربعة الشكل طول ضلعها 196 م ونصيب الثاني قطعة مستطيلة الشكل بعدها 400 م و 96ر04 م أما الثالث فكان نصيبه قطعة مستطيلة الشكل أيضا بعدها 200 م و 192ر08 م .

أ - فهل وقعت هذه القسمة بالتساوي ؟

ب - سلم الثالث قطعه للأول بحساب 1650 د الهكتار الواحد واشترى بذلك المبلغ منزلا جاهزا قدرت مصاريف تسجيله ب 15% من ذلك المبلغ، فما هو ثمن شراء المنزل بدون اعتبار مصاريف التسجيل ؟

179 - اشترى تاجر 225 ل من ماء زهر البرتقال بسعر 20ر800 د الهكتولتر الواحد .

أ - ما هو ثمن كمية ماء الزهر ؟

ب - وضع التاجر هذه الكمية في قوارير سعة الواحدة 0ر75 ل ، فكم قارورة يلزمه ؟

ج - إذا كان التاجر قد اشترى القوارير الفارغة ب 2ر500 د المائة والأسدة ب 9رالألف، فما هو ثمن كلفة القوارير المملأ ؟

د - بكم سيبيع القارورة الواحدة إذا أراد أن يربح 20% من ثمن الكلفة ؟

180 - اشترى صاحب معمل 1ر200 م من القماش بحساب 2ر100 د المتر

الواحد لخياطة 1000 سروال أما مصاريف لوازم الخياطة من أزرار وخيوط فكانت قيمتها 180 م بالنسبة للسروال الواحد وأما اليد العاملة فكانت بنسبة 40% من قيمة المواد الأولية

1 - ما هي تكاليف السروال الواحد ؟

2 - اشترى محمد سروالا من المغازة بثمن قدره 4ر914 د

فما هي النسبة المئوية لربح التاجر ؟

ب - يتقاضى هذا العامل 425 م بالنسبة للساعة الواحدة فكم دخله في الأسبوع بعد خصم 6% من دخله الخام لفائدة صندوق الضمان الاجتماعي و 1% للتأمين على الحياة .

ج - تقدر مصاريفه الأسبوعية ب 9ر450 د ، فكم يدخر هذا العامل في السنة ؟

176 - خزان للبنزين شكله متوازي مستطيلات طوله 4 م وعرضه 1ر80 م وارتفاعه 2 م ، ملاً صاحب المستودع هذا الخزان الى $\frac{1}{5}$ ارتفاعه بنزينا .

أ - احسب كمية البنزين الموجودة بالخزان وعبر عنها باللتر .

ب - أضيفت للخزان كمية ثانية من البنزين مقدارها 45 هل ، كم صار ارتفاع البنزين بالخزان ؟

ج - ما هو ربح صاحب المستودع بعد بيع كل البنزين إذا علمت أن ثمن بيع اللتر الواحد منه 220 م وأن ربح صاحب المستودع يقدر ب 2% من ثمن البيع ؟

177 - كان بخزان سيارة 10 ل من البنزين أراد صاحبها أن يقطع مسافة 175 كم فاشترى كمية أخرى من البنزين ب 4ر400 د بحساب 220 م اللتر الواحد .

أ - ما هي كمية البنزين المستهلكة بعد قطع تلك المسافة مع العلم أنه بقي بالخزان 9 ل ؟

ب - كم تستهلك هذه السيارة من البنزين في 100 كم ؟

ج - احسب المسافة التي يمكن أن تقطعها السيارة بكمية البنزين المتبقية .

181 - دخل محمد الى السوق لشراء بعض الغلال والبقول فشهد لوحة صغيرة على كل بضاعة كتب عليها بالقباشير عددان العدد الأول يشير الى ثمن الشراء والعدد الثاني يشير الى ثمن البيع للعموم وهذه بعض أزواج من الأعداد التي تذكرها :

(0r480 ، 0r528) (0r320 ، 0r352)

1) ما هي النسبة المئوية لربح التاجر ؟

2) اشترى محمد 1ر5 كغ من البطاطا ودفع 0ر240 د .

ما هو ثمن بيع الكغ من البطاطا وما هو ثمن شرائه من طرف التاجر ؟

3) ثم اشترى 3ر200 كغ من السمك كتب على لوحته العددان (1ر900 ، 1ر520)

أ - ما هي النسبة المئوية لربح بائع السمك ؟

ب - قبل بائع السمك انخفاضا قدره 80 مي

كم ربح بائع السمك إذا ؟

182 - يصرف أبو علي مرتبه الشهري بالكيفية التالية :

48 % لمصاريف الأكل والتنقل

22 % لكراء المسكن

8 % لمصاريف الغاز والكهرباء والماء .

والباقى يدخره للسكن

إذا علمت أن كراء المسكن يبلغ 55 د شهرياً .

1 - احب مرتبه وكل أصناف المصاريف مبيتنا ذلك بجدول .

2 - في الشهر الموالي تحصل أبو علي على زيادة في مرتبه قدرها

25 د لكن طلب منه صاحب المسكن زيادة في الكراء قدرها 5 % .

أ - احسب مصاريف الكراء .

ب - ما هي النسبة المئوية للكراء من مرتبه الجديد ؟

ج - ما هي قيمة الأذخار الشهري للسكن إذا أراد أن يحافظ على

نفس النسب المئوية بالنسبة لكل المصاريف الأخرى ؟

استعمل جدولاً لذلك .

183 - أراد شخص بيع أرض صالحة للبناء لشركة على أن تتعهد هذه الشركة بدفع مصاريف التسجيل التي تقدر ب 15 % من ثمن شراء تلك الأرض شكل تلك الأرض شبه منحرف قائم طول قاعدته الكبرى 108 م وطول قاعدته الصغرى 96 م وطول ارتفاعه 48 م

أ - ما هو بالهكتار قيس مساحة تلك الأرض ؟

ب - قسمت هذه الأرض بسياج مواز للارتفاع الى قطعتين . القطعة الأولى مربعة الشكل وثمانها يقل عن ثمن القطعة الثانية

ب 200 7 د . فما هو ثمن بيع المتر المربع من هذه الأرض ؟

ج - بكم تكلفت هذه الأرض على الشركة ؟

184 - أقامت مدرسة حفلاً في آخر السنة بقاعة الأفراح حضره 1120 متفرجاً دفعوا ثمن تذاكر دخولهم .

أ ما هو مقدار الربح الذي تحصلت عليه المدرسة إذا علمت

أن المدرسة قد باعت في هذا الحفل 350 تذكرة سعر

الواحدة 300 مي و 220 تذكرة ب 250 مي الواحدة

وبقية التذاكر الأخرى ب 200 مي الواحدة وأن قيمة

مصاريف إقامة الحفل تقدر ب 20 % من الدخل ؟

ب - سلم مدير المدرسة هذه المرائب لتعاضدية المدرسة بعد

أن أخذ منها 15 % لصندوق المدرسة و $\frac{3}{5}$ لشراء

وسائل تعليمية فهل ما تبقى لتعاضدية كاف للقيام

برحلة مدرسية لـ 40 تلميذاً إذا كان ثمن كراء الحافلة

يقدر ب 60 د ؟

ج - كم ينبغي أن يدفع كل تلميذ مشارك حتى تتمكن

التعاضدية من تسديد ثمن كراء الحافلة ؟

185 - اشترى محمد بيتاً كبيراً بـ 355ر000 د وقرّر إدخال

بعض التغييرات عليه لجعله روضة للأطفال فاستدعى لهذا

الغرض مهندسا لتقدير المصاريف اللازمة وكانت نتيجة الدراسة

كما يلي :

350 د للترميم

196 د للنجارة

95 د للتقوف

106ر500 د للطلاء

60ر500 د مصاريف شتى

اتفق محمد بعد ذلك مع مقاول للقيام بهذه الخدمات مع منح محمد تخفيضا قدره 4% من مصاريف الترميم .

أ - ابحث عن تكاليف هذه الاصلاحات مع العلم أن أجرة المهندس قدرت بـ 5% من المبلغ الجملي للإصلاحات .

ب - منحت منظمة التربية والأسرة مساعدة مالية لصاحب الروضة قدرها 15% من تكاليف الإصلاح . فما هو المبلغ الذي سيدفعه محمد من عنده ؟

ج - عرض محمد الروضة على البلدية للكراء بمبلغ سنوي قدره 3ر5% من ثمن كلفة المنزل الذي دفعه من عنده . فما هو المبلغ السنوي لكراء الروضة ؟

186 - لفلاح حقلان شكل الاول شبه منحرف طول قاعدته الكبرى 180 م وطول القاعدة الصغرى $\frac{2}{3}$ طول الكبرى وارتفاعه

80 م أما الحقل الثاني فإن شكله مستطيل بعدها 130 م و 70 م زرع الحقل الأول قمحا وأنتج الهكتار الواحد 36 ق وزرع الثاني شعيرا فأنتج الهكتار الواحد منه 24 ق .

أ - ما هي قيمة هذا الإنتاج مع العلم أن ثمن القنطار من القمح هو 9 د و ثمن القنطار من الشعير يقل بـ 2ر500 د عن ثمن قنطار القمح ؟

ب - أمن الفلاح هذه الضابة من الحرائق والكوارث بمبلغ قدره 5% من قيمة الضابة فما هو المبلغ الزاجع لشركة التأمين ؟

ج - صادف أن نزلت كميات من الثلج أتلفت $\frac{1}{3}$ الضابة

فعوضت شركة التأمين للفلاح 80% من قيمة الضرر ، فما هو المبلغ المالي الذي تسلمه الفلاح من شركة التأمين ؟

187 - أجريت بمصحة عملية جراحية على مريض بلغت تكاليفها باعتبار مدة الإقامة والأدوية 687ر395 د .

أ - احسب تكاليف العملية مع العلم أن هذا المريض قد قضى 20 يوما بالمصحة بحساب 15 د لليوم الواحد وأن مصاريف الأدوية أقل من تكاليف العملية بـ 145ر162 د

ب - إذا علمت أن هذا المريض منخرط في الصندوق القومي للضمان الاجتماعي فما هو المبلغ الذي سيرجعه إليه الصندوق مع العلم أن هذا الأخير يرجع 80% من تكاليف الإقامة والأدوية و 100% من مصاريف العملية الجراحية ؟

ج - لو عالج المريض بالمستشفى الجهوي لأرجع إليه الصندوق القومي 540 د وهذا المبلغ يمثل 90% مما كان عليه أن يدفعه ، فما هو المبلغ الذي سيقتصده المريض في هذه الحالة بالمقارنة مع ما دفعه بالمصحة ؟

188 - اشترى طبيب سيارة جديدة فدفع في بداية الأمر 30% من ثمنها ثم بقي له أن يدفع 5 600 د .

أ - ابحث عن ثمن السيارة .

ب - كم دفع الطبيب في بداية الأمر ؟

ج - إذا كان قد دفع الباقي بزيادة 5% وفي مدة 12 شهرا فما هو مقدار ما يدفعه في الشهر الواحد ؟

د - ما هو ثمن كلفة هذه السيارة مع العلم أنه قد دفع لتأمينها 60 د بالنسبة للسنة الواحدة و 50 د كمعلوم للجولان ؟

189 - في بيضة وزنها 57 غ نجد 7 غ من القشور و 18 غ من المخ والباقي من الاح الذي يحتوي على 12ر5 % من وزنه مواد غذائية . أما المخ فهو يحتوي على 50 % من وزنه مواد غذائية كذلك .

أ - ما هو ثمن كلفة 2ر6 هغ من المواد الغذائية المتأتية من البيض مع العلم أن ثمن 12 بيضة هو 0ر360 د ؟
ب - احسب ثمن كلفة 2ر6 هغ من المواد الغذائية المتأتية من اللحم مع العلم أن اللحم يحتوي على 25 % من وزنه مواد غذائية وأن ثمن الكغ من اللحم يبلغ 1ر400 د . ماذا تلاحظ ؟

190 - بمناسبة زفاف أختك أهدى لها والدك أثاث بيت الفطور وأثاث بيت النوم وعند شراء هذا الأثاث منحه التاجر تخفيضا قدر ب 61ر875 د بحساب 5ر5 % .

أ - كم كان على والدك أن يدفع لصاحب المغازة بدون اعتبار التخفيض ؟
ب - ما هو المبلغ الحقيقي الذي سلمه والدك الى التاجر ؟
ج - احسب الثمن المسجل على كل من أثاث غرفة الأكل مع العلم أن ثمن أثاث الغرفة الثانية يقل عن ثمن أثاث الغرفة الأولى ب 225 د .
د - بكم يتكلف كل من أثاث غرفة النوم وأثاث غرفة الأكل ؟

191 - يعمل عامل 225 ساعة في الشهر ويتقاضى مرتبه على النحو التالي :

- 168 ساعة عادية بحساب 280 مي للساعة الواحدة .
- 38 ساعة إضافية بزيادة 25 % عن أجره الساعة العادية
- 19 ساعة إضافية أخرى بزيادة 50 % عن أجره الساعة العادية .

ما هي أجره العامل إذا علمت أنه يتمتع بمنحة قدرها 4 د ويدفع لصندوق الضمان الاجتماعي 5 % من مرتبه كل شهر ؟

192 - ذهب أبو علي الى محطة بيع البنزين لشراء كمية من هذا السائل وعجلة مطاطية وفوانيس وكذلك لتشحيم سيارته وغسلها وتغيير زيت محركها .
أكمل قائمة المصاريف التالية بما فيها تكاليف الساعة الواحدة لزيد العاملة .

نوع الخدمات وقطع الغيار	العدد	ثمن الوحدة	الجملة
عجلة مطاطية	1	200ر24 د	
فوانيس	2		1ر560 د
زيت	4 ل	0ر460 د	
بنزين	40 ل	0ر220 د	
يد عاملة	1 س و 15 دق		1ر500 د
غسل وتشحيم	/	/	2ر500 د
الجملة		
التخفيض 5 %		
الدفع		

193 - اشترى كتيب من المركز القومي البيداغوجي 60 نسخة من كتاب الرياضيات المشوقة للسنة الخامسة بانخفاض قدره 20 % من السعر الحقيقي للكتاب والذي هو 0ر960 د مع هدية تتمش في زيادة نسخة مجانية لكل 12 نسخة يشتريها الكتيب .

- أ - كم نسخة أخذ الكتيب في الجملة ؟
- ب - كم دفع هذا الكتيب ؟
- ج - ما هو ربح الكتيب إذا علمت أنه باع 80 % من الكتب التي تحصل عليها ؟

194 - قريتان متجاورتان قررتا بناء مسجد مشترك حددت تكاليف بنائه بـ 25 000 د .

تعد القرية الأولى 15 050 ساكنا وتعد القرية الثانية 17 250 ساكنا .

بلغت مساهمة الحكومة في هذا الإنجاز 35ر4 % أما بقية التكاليف فقد دفعها مواطنو البلديتين حسب نسبة السكّان بكلّ منهما .

أ - ما هو المبلغ الذي دفعته الحكومة ؟

ب - ما هو المبلغ الذي دفعه المواطنون ؟

ج - ما هي النسبة المئوية من تكاليف البناء التي يمثلها هذا المبلغ الأخير ؟

د - ما هو معدّل ما دفعه كلّ متساكن من القريتين ؟

هـ - بكم ساهمت كلّ قرية ؟ عبّر عن تلك المساهمة بالنسبة المئوية الموافقة لها .

195 - ليلتحق عامل بعمله يجب عليه أن يقطع كلّ يوم جزءا من المسافة الفاصلة بين مسكنه والمعمل راجلا وأن يقطع الجزء الباقي راكبا حافلة وتستغرق هذه الرحلة 45 دق .

أ - كم تدوم الرحلة بالحافلة إذا علمت أنّ معدّل سرعة الحافلة هو 20 كم / س وأن المسافة التي تقطعها الحافلة تقدر بـ 9 كم ؟

ب - ما هي المسافة التي يقطعها العامل راجلا إذا عرفت أنه يسير بسرعة معدّلها 6 كم / س ؟

ج - يتمتع هذا العامل بتخفيض يقدر بـ 10 % . إذا علمت أنّ معلوم النقل بالنسبة للكيلو متر الواحد يبلغ 10 مي فكم تبلغ مصاريفه اليومية ذهابا وإيابا ؟

د - بإمكان العامل أن يقتني اشتراكا شهريًا بسعر 2ر650 د عوض أن يشتري تذكرتين كلّ يوم لركوب الحافلة .

فما هو الرّبح الذي سيحصل للعامل ، إذا استعمل بطاقة الاشتراك الشهريّ مع العلم أنه يشتغل 25 يوما في الشهر ؟

196 - اراد أبي شراء جهاز تلفزة ثمنه كالاتي :

● ثمن الجهاز : 134ر600 د

● ثمن معدّل الطاقة الكهربائية : 16 د

● ثمن هوائي الالتقاط : 5ر400 د

● ثمن الطاولة : 15 د

● تكاليف وضع الجهاز : 5 د

عرض البائع على أبي اختيار أحد الحليين التاليين :

- يمكن لأبي أن يدفع كامل الثمن دفعة واحدة مع التمتع بتخفيض قدره 5 % من ثمن الشراء .

- كما يمكن له أن يدفع $\frac{1}{4}$ الثمن عند الطلب و 20 د

عند تسلّم الجهاز ثمّ يدفع البقية على 4 أقساط بزيادة 3 % .

أ - ابحث عن ثمن الجهاز ولوازمه في الحالة الأولى ؟

ب - ما هو ثمن كلفة الجهاز ولوازمه في الحالة الثانية ؟

ج - ما هو مقدار القسط الواحد ؟

د - ما هو الرّبح الحاصل لأبي عند اختياره الحلّ المناسب ؟

197 - إنّ المسافة الفاصلة بين مدينتي سوسة وتونس على الخريطة تساوي 17ر5 صم

أ - ابحث عن الطول الحقيقي لهذه المسافة مع العلم أنّ سلم الخريطة هو $\frac{1}{800\ 000}$ وعبّر عن ذلك الطول بالكيلومتر .

ب - خرجت سيارة من سوسة في الساعة السادسة و 50 دق صباحا قاصدة تونس حيث وصلتها في الساعة الثامنة و 35 دق صباحا ، فما هو معدّل سرعتها بالكم / س

ج - إذا كانت هذه السيارة تستهلك 8ر5 ل من البنزين في 100 كم فما هي كمية البنزين المستهلكة ذهابا وإيابا؟

د - ما هي تكاليف هذه النقرة إذا علمت أن ثمن لتر البنزين هو 0ر220 د وأن مصاريف العناية بالسيارة من زيت للمحرك وغسل وتشحيم وإصلاحات مختلفة تقدر ب 25 مي عن الكيلومتر الواحد؟

198 - تقطن عائلة بمدينة تونس وتتكون من أب وزوجته وطفلهما الصغير الذي لا يتجاوز عمره 5 سنوات. قررت هذه العائلة قضاء العطلة السنوية بأحد نزل مدينة المنستير لمدة 15 يوما وللوصول الى النزل المقصود ركب أعضاء العائلة القطار الى سوسة ثم واصلوا سيرهم الى مدينة المنستير بواسطة سيارة أجرة.

أ - بكم يتكلف ركوب العائلة ذهابا وإيابا إذا علمت أن ثمن كلفة الكم بالقطار 10 مي وثمان كلفة الكم بسيارة الأجرة 15 مي بالنسبة للشخص الواحد وأن المسافة بين تونس وسوسة تقدر ب 140 كم وبين سوسة والمنستير ب 20 كم مع العلم أن الطفل يتمتع بتخفيض 50% عند ركوب القطار؟

ب - ما هي تكاليف إقامة هذه العائلة بالنزل إذا علمت أن تكاليف إقامة الشخص الواحد في اليوم تقدر ب 4ر500 د مع زيادة 10% للخدمات وتخفيض 50% بالنسبة للأطفال الصغار؟

ج - إذا كان معدّل المصاريف الشهرية لهذه العائلة في بقية أيام السنة 80 د فما هو المدخول السنوي للأب مع العلم أنه يقتصد 175 د في نهاية السنة بعد خصم كل هذه المصاريف؟

199 - بمناسبة العودة الى المدارس احتج امين اى سروال جديد واحتاجت ايمان الى فستان جديد ايضا. في مكن مهم شراء السروال والفستان من المغازة او خياطتهم بالبيت.

أ - إذا اختارت الشراء من المغازة فون ثمن السروال يدوي 10ر500 د وثمان الفستان 6ر200 د إلا أنه عند دفع الثمن حاضرا تتمتع الأم بتخفيض في الثمن قدره 5%.

ابحث عن ثمن السروال في المغازة وكذلك عن ثمن الفستان.

ب - أما إذا اختارت الأم أن تخطيط السروال والفستان بالبيت فإنها تحتاج الى شراء 0ر75 م من القماش لخططة السروال بثمن 6ر400 د المتر الواحد والى دفع 630 مي مقادير ثمن الخيط والأزرار كما تحتاج الى شراء 1ر20 د من القماش لخططة الفستان بثمن 2ر800 د المتر الواحد والى دفع 510 مي مقادير ثمن الخيط والأزرار.

ابحث عن ثمن كلفة كل من السروال والفستان.

ج - أي الحلين أنسب الى هذه الأم؟ علل جوابك.

200 - صمم حقل على شكل مثلث قائم الزاوية حسب السلم $\frac{1}{2500}$ فكان طولاً ضلعيه المتعامدين 4ر6 صم و 34 م وقع شراء ذلك الحقل ب 194 د الار الواحد وبلغت المصاريف 18% من ثمن الشراء.

فما هو ثمن كلفة الحقل؟

201 - اشترى محمد أرضاً مستطيلة الشكل بعدها 168 م و 12 صم على مثال صمم حسب السلم $\frac{1}{400}$.

أ - احب قيس المساحة الحقيقية لهذه الأرض بالار.

ب - ما هو ثمن شراء هذه الأرض إذا علمت أن ثمن المتر المربع منها يبلغ 2ر800 د وأن مصاريف التسجيل بلغت 15% من ثمن الشراء؟

- أ - ارسم تصميمًا لهذه الأرض حسب السلم $\frac{1}{1000}$ بعد تهيئتها
- ب - احسب قيس المساحة المعدة للبناء .
- ج - ما هو ثمن قطعة من الأرض يبلغ قيس مساحتها 475 م² ؟

205 - اشترى العم صالح حديقة مستطيلة الشكل بـ 720 د بسعر 12ر500 د الار .

- أ - ابحث عن قيس مساحة الحديقة بالمتر المربع
- ب - ابحث عن عرض الحديقة مع العلم أن طولها يبلغ 120 م
- ج - شرع العم صالح في تسييج الحديقة وذلك بوضع 3 صفوف من السلك شدت بواسطة أعمدة حديدية يبعد العمود عن الذي يليه بـ 3 م .
- ابحث عن ثمن كلفة السياج إذا كان ثمن المتر من السلك المستعمل يقدر بـ 30 مي و ثمن العمود الحديدي يبلغ 235 مي .

206 - اصطف تلاميذ قسمك في حصة الرياضة في صف واحد وكان عددهم 28 .

- أ - ما هو طول الصف إذا علمت أن المجال الفاصل بين تلميذين متتاليين يبلغ 50 صم ؟
- ب - طلب المعلم من التلاميذ أن يكون المجال بين تلميذين متتاليين 70 صم بدون أن يغير التلميذ الأول مكانه .
- ما هي المسافة التي أصبحت تفصل بين المكان القديم والمكان الجديد للتلميذ العاشر ؟
- ج - ما هي كذلك المسافة التي أصبحت تفصل بين المكان القديم والمكان الجديد للتلميذ الأخير ؟

- ج - إذا علمت أن محمدا لا يملك إلا $\frac{3}{4}$ ثمن شراء الأرض وأنه اقتترض باقي المبلغ من البنك بزيادة 7% ، فما هو مقدار ما اقتترضه ؟
- د - ابحث عن المبلغ الذي سيرجعه محمد الى البنك
- هـ - ما هي كلفة شراء الأرض بالدينار ؟

202 - مثلت ضيعة على تصميم أعد حسب السلم $\frac{1}{5000}$ بمستطيل بعده 9 صم و 7 صم .

- أ - ما هو قيس مساحة الضيعة بحساب الارثم بحساب الهكتار؟
- ب - بلغ إنتاج الهكتار الواحد 22 ق من القمح الصلب في السنة فما هو الزبح السنوي لصاحب الضيعة مع العلم أن ثمن القنطار الواحد من القمح الصلب هو 8ر600 د وأن المصاريف تقدر بـ $\frac{2}{5}$ محصول الإنتاج .

203 - تستهلك سيارة 8ر5 ل من البنزين لقطع مسافة 100 كم أراد صاحب السيارة قطع مسافة ممثلة على خريطة صممت حسب السلم $\frac{1}{200\ 000}$ بـ 81 صم غير أن الرياح كانت مضادة لاتجاه سيره مما جعل السيارة تستهلك 9ر5 ل من البنزين في المائة كيلومتر .

- أ - ما هي المسافة الحقيقية المقطوعة ؟
- ب - كم استهلكت السيارة من البنزين زيادة عن استهلاكها الطبيعي بعد قطع تلك المسافة ؟

204 - اشترت الوكالة العقارية أرضا صالحة للبناء شكلها مستطيل طوله 120 م وعرضه 78 م بما قدره 25000 د وقامت بتقسيمه الى قطع بعد تهيئة طريقتين موازيين للطول عرض كل منهما 6 م وطريقتين أخريين موازيين للعرض عرض كل منهما 5 م وقد بلغت تكاليف تهيئة هذه الأرض 2582 د

- 207 - نريد غرس أشجار حول حديقة مستطيلة الشكل بعدها 693 م و 756 م بحيث تكون المجالات متقاية .
نريد أن يكون طول المجال الفاصل بين شجرتين متتاليتين عددا صحيحا من الامتار محصورا بين 7 و 21 .
أ - ابحث عن طول المجال الواحد مع العلم أنه توجد شجرة في كل ركن من أركان الحديقة .
ب - كم شجرة يمكن غرسها ؟
- 208 - عربة لها 4 عجلات قطر كل من العجلتين الاماميتين 60 سم وقطر كل من العجلتين الخلفيتين 90 سم .
أ - ما هي المسافة التي تقطعها العربة عند قيام عجلتها الاماميتين بـ 30 دورة ؟
ب - ما هو عدد دورات العجلتين الخلفيتين ؟
- 209 - لاحظ أبي أن المبلغ السنوي الذي ندفعه لشركة توزيع المياه مقابل الماء الذي نستهلكه في الشرب والاستحمام وتنظيف المنزل والثياب وسقي حديقة المنزل صار مرتفعا ففكر في بناء صهريج في حديقة المنزل تتجمع فيه مياه الامطار وكانت أبعاده كالآتي : الطول 5 م ، العرض 4 م ، والارتفاع 4 م ، أما تكاليف بنائه فهي تقدر بـ 468 د أصبحنا ندفع ثمن 100 م³ من الماء فقط لشركة توزيع المياه مقابل ماء الشرب والاستحمام أما بقية استهلاكنا فهي متأتية من الصهريج ففي أي مدة تكون تكاليف بناء الصهريج قد سددت إذا علمت أن ثمن المتر المكعب من الماء هو 130 مي وأن الصهريج يمتلئ 5 مرات في السنة ؟
- 210 - أراد تاجر نقل بضاعته في صناديق مكعبة الشكل طول حرف كل منها 40 سم فاكترى لهذا الغرض شاحنة نقل طول صندوقها 3ر05 م وعرضه 2ر05 م
أ - كم صندوقا يمكنه أن ينقل على هذه الشاحنة إذا علمت أن أقصى ارتفاع الحمولة هو 2 م ؟
ب - ما هو عدد السفرات اللازمة لنقل 1570 صندوقا ؟

- 211 - يبيع تاجر البيض بحساب 28 مي البيضة الواحدة ولكي يتهل عليه تقدير ثمن البيض عند البيع أراد أن يرسم جدولا ذا سطرين يحتوي الأول منهما على عدد البيض من 1 الى 12 ويحتوي الثاني على ثمن البيض الموافق .
أ - ارسم ذلك الجدول .

ب - كيف يمكن للتاجر استغلال ذلك الجدول ليحس بسرعة ثمن 16 بيضة وثمان 19 بيضة ؟ وثمان 22 بيضة ؟

- 212 - تحصل تلاميذ قسمك الذي يعد 40 تلميذا على الأعداد الآتية في مادة الإنشاء :

10 - 10 - 6 - 8 - 11 - 10 - 8 - 12 - 13 - 13

11 - 12 - 13 - 14 - 6 - 8 - 11 - 10 - 9 - 9

10 - 11 - 9 - 10 - 13 - 12 - 12 - 9 - 10 - 9

11 - 11 - 10 - 9 - 12 - 8 - 9 - 9 - 11 - 9

- 1 - حوصل ذلك في جدول ذي وادين : انواد الأول يكتب فيه الأعداد المتحصل عليها ، الواد الثاني عدد التلاميذ الذين تحصلوا على العدد المناسب .

2 - مثل ذلك بمخطط مستعملا فيه الأعمدة

3 - ما هي رتبة تلميذ تحصل على 10 في تلك المادة

4 - كم تلميذا تحصل على أقل من المعدل ؟

- 213 - قرية تعد 150 عائلة إذا اعتبرنا عدد الأطفال بكر عائلة تحصد على الأعداد المسجلة بالجدول الآتي :

عدد الأطفال بكل عائلة	0	1	2	3	4	5	6	7	8
عدد العائلات	3	6	26	30	34	22	17	9	3

- 1 (مثل ذلك بمخطط على شكر أعمدة طولها يتناسب مع عدد العائلات (تمش عشرة عائلات بـ 1 صم)
2 (قارن عدد العائلات التي لها أقل من 4 أو 4 أطفال بعدد العائلات التي لها أكثر من 4 أطفال .
3 (سب عدد الأطفال بتلك القرية .

الهندسة

www.najahni.tn

- 214 - ارسم مستقيما (أ ب) وعين عليه نقطتين ج و د
 أ - ما رأيك في المستقيمين (أ ب) و (ج د)؟
 ب - عين نقطتين ه و و خارجتين عن المستقيم (أ ب)
 ما رأيك في المستقيمين (أ ب) و (ه ك)؟
 هناك حلان يجب ذكرهما.

- 215 - مسطرتي مدرجة من 0 الى 30 . يعين كل صم بخط أحمر
 طوله 9 مم ويعين كل نصف صم بخط أسود طوله 6 مم
 ويعين كل 1 مم بخط أسود طوله 4 مم .
 أ - ابحث عن العدد الجملي لكل أنواع الخطوط
 ب - ما هو عدد الخطوط من كل نوع؟

- 216 - بدأ حلزون يتسلق جدارا يبلغ ارتفاعه 4 م في صباح يوم
 الإثنين وكان ذلك الحلزون يتسلق مترين اثنين في النهار وينزل
 مترا واحدا في الليل .
 متى يبلغ ذلك الحلزون قمة الجدار؟

- 217 * أ - درج نصف مستقيم [أس] بحيث تكون وحدة قياس
 الطول 12 مم .

- ب - عين النقاط ب، ج، د من نصف المستقيم السابق مع
 العلم أن:

$$\text{طول [د ب]} = 4 \text{ وطول [ب ج]} = 3$$

$$\text{و } [د ب] \cap [ب ج] = \{ب\}$$

- ج - ابحث عن طول [ج د] بالوحدة المذكورة ثم
 بالمليمتر .

- د - ارسم النقاط ه، ك، ي، ل بحيث كون:

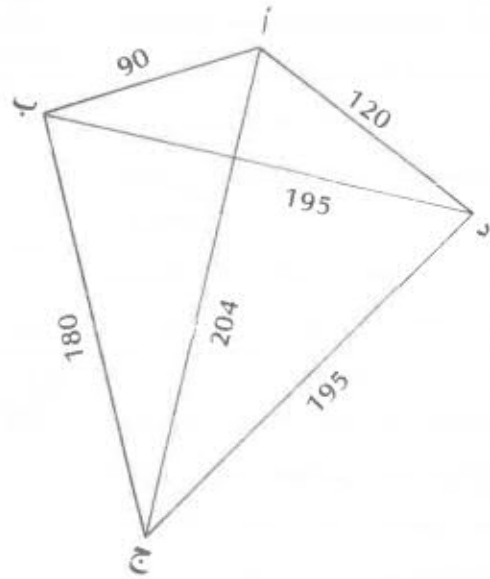
$$[ي ه] \cap [ك ل] = [ك ه]$$

$$\text{وطول [ي ه]} = 8 \text{ وطول [ك ل]} = 4 \text{ وطول [ه ك]} = 2$$

- ه - ابحث عن طول $([ي ه] \cup [د ل])$

www.najahni.tn

220 - أربعة فرق رياضية تنتمي الى المدن أ ، ب ، ج ، د المبينة بالشكل التالي مع تعيين المسافات بينها بالكم .



تريد هذه الفرق التباري من أجل الحصول على الكأس وذلك بأن يتقابل كل فريق مع كل منافس مرتين : الأولى فوق ميدانه والأخرى فوق ميدان المنافس .

أ - احسب بالكم المسافة التي سيقطعها كل فريق ذهابا وإيابا للقيام بكامل المقابلات مع العلم أن كل فريق سيسلك أقصر طريق للوصول الى الفريق المنافس .

ب - ما هي تكاليف النقل الجمالية لكل الفرق مع العلم أن الكم الواحد يتكلف ب 75 مي ؟

221 - يريد سامي تعليق 6 صور طول الواحدة 30 سم على طول جدار بيته الذي يبلغ طوله 20ر4 م .

إن المجالات الفاصلة بين كل الصور متقايسة في حين أن المجال الذي يفصل بداية الجدار على الصورة الأولى متقايس مع المجال الذي يفصل الصورة الأخيرة عن نهاية الجدار وطوله يساوي نصف طول أحد المجالات الأولى

- ابحث عن عدد المجالات ؟

- ما هو قيس طول المجال اندرس بين جدار والصورة الأولى .

222 - ارسم زاويتين متجاورتين بحيث يكون قيس فتحة احداهما

25° وقيس فتحة الأخرى 65°

218 - * ارسم نصف مستقيم [أ س] وعين عليه نقطتين ب و ج بحيث يكون طول [أ ب] مساويا لـ 75 مم وطول [ب ج] مساويا لـ 45 مم .

أ - درج نصف المستقيم [أ س] بحيث يعين الضفر النقطة « أ » وتكون وحدة القيس 15 مم .

ب - ابحث عن العددين اللذين يعينان النقطتين ب و ج . هناك حلان يجب ذكرهما .

ج - ما هو بالمليمتر طول القطعة [أ د] إذا علمت أن النقطة د معينة بالعدد 11 ؟

219 - * نعتبر مستقيما م ونقطتين ب و ج منه . نرسم نقطة أ \notin م ثم نرسم نصف المستقيم [أ ب] وكذلك نصف المستقيم [أ ج] .

نرسم مستقيما ك مواز للمستقيم م ويقطع [أ ب] في النقطة د و [أ ج] في النقطة هـ . نرسم القطعتين [ب هـ] و [ج د] اللتين تتقاطعان في النقطة ل .

نرسم أخيرا نصف المستقيم [أ ل] الذي يقطع المستقيم م في النقطة ع والمستقيم ك في النقطة ي .

- حقق أن ع هي منتصف [ب ج] وأن ي هي منتصف [د هـ]

- ارسم المستقيم ق الموازي للمستقيم م والماز من ل فهو يقطع [أ ب] في النقطة س و [أ ج] في النقطة ص . حقق أن ل هي منتصف القطعة [س ص] .

226 - فلاح مزرعة مستطيلة الشكل زرع بها 120 صفاً من الأشجار حسب العرض و 40 صفاً آخر حسب الطول كانت الأشجار تبعد عن بعضها وعن أضلاع المزرعة بـ 45 م ابحث عن طول محيط المزرعة .

227 - ارسم مربعاً طول ضلعه 12 سم ثم عين المنتصفات أ . ب . ج . د لأضلاعه من تلك النقاط في الترتيب أ ب ج د واذكر نوع الرباعي (أ . ب . ج . د)

228 - أ - ارسم مستقيمين (س ص) و (هـ ك) متقاطعين في م . عين نقطتين أ و ج على (س ص) ونقطتين ب و د على (هـ ك) بحيث يكون طول [م ب] = طول [م أ] = طول [م ج] = طول [م د] = 3 سم ب - ما هو نوع الرباعي (أ . ب . ج . د) الحاصل ؟

229 - ارسم في مخطط واحد مجموعة المثلثات العامة ومجموعة المثلثات المتقايسة الضلعين ومجموعة المثلثات المتقايسة الأضلاع ومجموعة المثلثات القائمة الزاوية وضح على المخطط تقاطع كل هاته المجموعات .

230 - حقل مستطيل الشكل عرضه 35 م فإذا ضعفنا كلاً من بعديه ازداد قياس محيطه بـ 250 م . ما هو قياس مساحته بالأر ؟

231 - يبلغ قياس مساحتي مزرعتين 9 ها و 24 أ و 98 صاً أما الفرق بين قيسي المساحتين فهو 3 502 م² شكل المزرعة الكبيرة مستطيل طوله 250 م فما هو عرضه ؟

223 - ما هو عدد الجليز اللازم لتبليط قاعة مستطيلة الشكل بعدها 6 م و 45 م مع العلم أنّ طول ضلع الجليزة الواحدة هو 25 سم ؟

224 - لتسييج حديقة مستطيلة الشكل عرضها 55 م بثلاثة صفوف من الأسلاك الشائكة اشترى فلاح 17 لفافة من ذلك السلك بكلّ واحدة 50 م .

وإثر الإنتهاء من التسييج بقي 10 م من السلك غير المستعمل .

ابحث عن طول الحديقة مع العلم أنّه ترك لها باب غير مسيج عرضه 3 م .

225 - ليصبح مطبخ منزلنا جاهزاً قرر أبي تبليطه بجليز مربع طول ضلع الجليزة الواحدة 20 م

استعمل البناء 238 جليزة كاملة لتبليط المطبخ

أ - ابحث عن بعدي المطبخ إذا علمت أنّ عدد الجليز حسب الطول يفوق بـ 3 عدد الجليز حسب العرض .

ب - يتطلّب وضع الجليز التكاليف التالية :

$$\frac{1}{7} \text{ م}^3 \text{ من الرمن في المتر المربع الواحد}$$

$$\frac{1}{7} \text{ م}^3 \text{ من الحجارة في المتر المربع الواحد}$$

$$\frac{1}{2} \text{ كيس من الأسمنت في المتر المربع الواحد}$$

1500 د لليد العاملة بالنسبة للمتر المربع الواحد

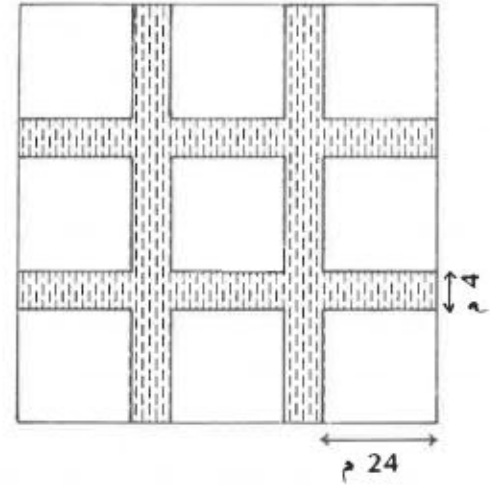
ثمان الجليزة هو 150 مي . ثمن المتر المكعب من الرمن

هو 2100 د ثمن متر مكعب من الحجارة هو 450 د

ثمان الكيس من الأسمنت هو 1750 د .

ابحث عن تكاليف تبليط المطبخ .

232 - احسب قيس مساحة الممرات الموجودة بالحديقة الممثلة على التصميم التالي :



233 - ابحث عن أبعاد كل المستطيلات التي قيس مساحة كل منها 81 سم² ثم احسب أطوال محيطاتها .
ماذا تلاحظ مع العلم أن الأبعاد هي أعداد صحيحة من الضنتمرات ؟

234 - أ - ابن معين (أ ، ب ، ج ، د) قطراه يبلغان 8 سم و 6 سم
ثم احسب قيس مساحته بالضم²
ب - ما هو طول ارتفاع المعين مع العلم أن طول ضلعه هو 5 سم ؟

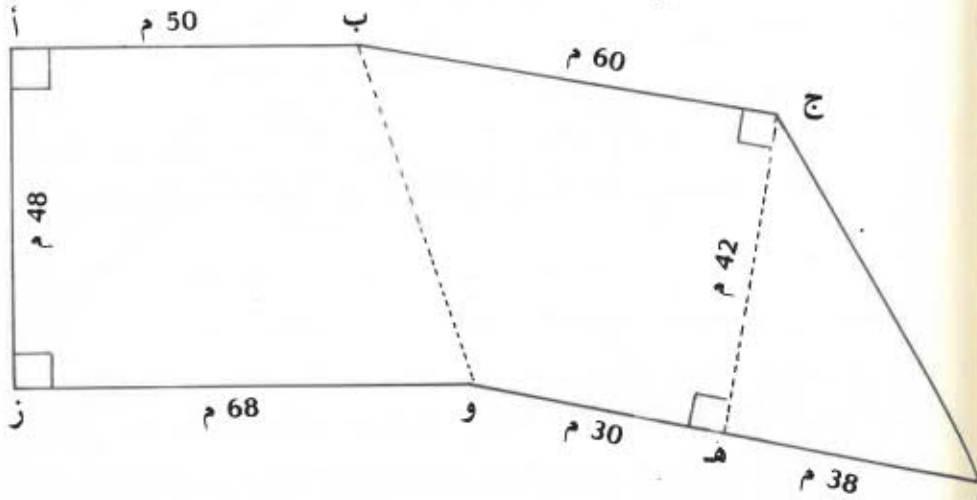
235 - منزلنا شكله مربع يحيط به ممران متتاليان ومتعامدان عرض كل منهما 4 م وقيس مساحتهما معا 80 م²
ابحث عن طول ضلع المنزل .

236 - أراد فلاح تسييج حديقة مستطيلة الشكل طولها ضعف عرضها وقيس مساحتها 12 800 م² وذلك بوضع 4 صفوف من السلك الشائك .

ترك الفلاح مدخلا عرضه 2ر5 م بدون سياج وشرى 25 مطوى من السلك الشائك طول الواحد 75 م .
فهل تكفيه هذه الكمية من السلك ؟

237 - اشترى صالح قطعة أرض مربعة الشكل لبناء مستودع تبلغ تكاليف شراء الأرض 118ر400 د بحساب 1ر850 د المتر المربع الواحد .
أ - ابحث عن قيس مساحة الأرض ؟
ب - ابحث عن طول ضلعها ؟

238 - ورث أخوان حقلا ممثلا بالرسم أسفله
أ - إذا قدر الهكتار الواحد من هذا الحقل ب 6 000 د فما هو ثمنه ؟
ب - اتفق الأخوان على أن يأخذ الكبير الحقل وأن يعطي الى أخيه الصغير مبلغا ماليا مقابل منابه ، فما هو هذا المبلغ ؟



239 - صفيحة من الزنك مستطيلة الشكل طول محيطها 2ر20 م وطولها يفوق عرضها ب 9ر4 دسم . نريد أن نقص من هذه الصفيحة قطعا

من الزنك شكل الواحدة منها معين قطراه 8 صم و 6 صم
بكيفية تكون فيها الأقطار الكبيرة عمودية على طول الضفيحة
أ - ما هو عدد المعينات التي يمكن الحصول عليها ؟
ب - ما هو القيس الجملي لمساحتها ؟
ج - ما هو بالصم² قيس مساحة الجزء المهمل من الضفيحة ؟

240 - قطعة المستقيم [ك ل] التي تصل بين منتصفى طولي مستطيل
(أ. ب. ج. د) قيسها بالمم 70 وهي تقسم المستطيل الى مربعين
متقايسين .

أ - ارسم المستطيل بعد البحث عن طوله
ب - ما هو قيس مساحة كل من المربعين الحاصلين ؟
ج - احسب بطريقتين مختلفتين قيس مساحة المستطيل
د - ارسم القطر [أ ج] لذلك المستطيل وعبر عن قيس
مساحة كل من المثلثين الحاصلين مع تحليل الجواب
وبدون إجراء العمليات .

241 - * ارسم قطعة مستقيم [أ د] طولها 13 صم وعين عيها
نقطة ج بحيث يكون طول [ج د] = 3 صم ثم عين
المنتصف ب للقطعة [أ ج]
ارسم القطعة [ه د] العمودية على [أ د] وأنتي ضونها
4 صم ثم صل النقطتين ج و ه .
ارسم مستقيما موازيا ل (ج ه) ومازا من ب ثم مستقيما
ثانيا موازيا ل (أ د) ومازا من ه .
صل النقطة أ بنقطة تقاطع المستقيمين السابقين
المعينة ب ك .

أ - ابحث عن قيس مساحة شبه المنحرف (أ. د. ه. ك) .
ب - ابحث بطريقتين مختلفتين عن قيس مساحة المثلث
(أ. ب. ك) .
ج - هل المساحات (أ. ب. ك) و (ب. ج. ك) .
(و. ه. ج. ك) متكافئة؟ لماذا؟

242 - * ارسم قطعة مستقيم [أ ب] طولها 5 صم وموسطها العمودي
(س ص) . في نصف المستوى المحدود بالمستقيم (أ ب)
والمار من النقطة س ارسم نصف المستقيم [أ ه] الذي
يقطع (س ص) في النقطة ج بحيث يكون ب أ ج = 60°

أ - صل النقطتين ب و ج . ما هو نوع المثلث
(أ. ب. ج)؟ علل جوابك .

ب - ارسم النقطة د المناظرة للنقطة ج بالنسبة للمستقيم
(أ ب) ثم صلها بالنقطتين أ و ب . ما هو نوع
الزباعي (أ. ج. ب. د)؟ علل جوابك .

ج - ابحث عن طول [ج د] مع العلم أن قيس مساحة
(أ. ج. ب. د) يساوي 2165 صم² .

243 - اشترى فلاح أرضا مستطيلة الشكل طولها 160 م وعرضها
90 م . يبلغ ثمن شراء الار الواحد 500ر17 د .

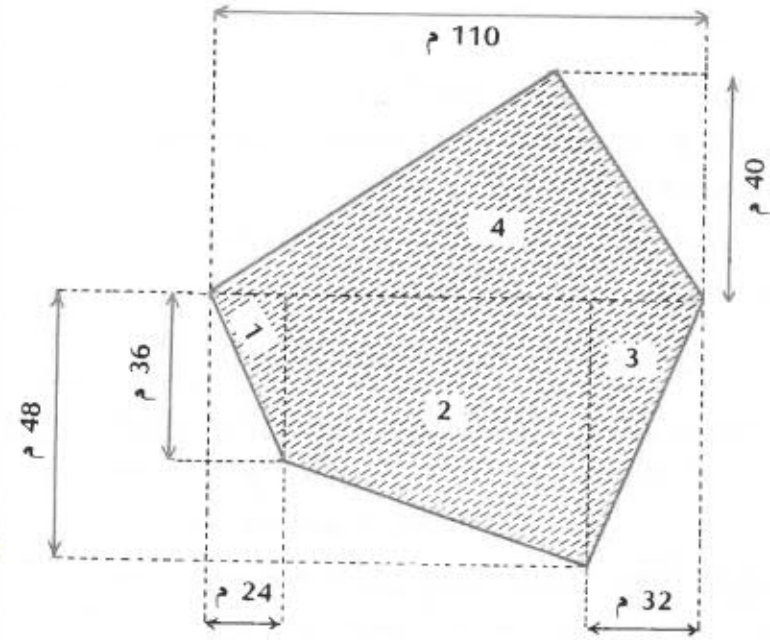
أ - ما هو ثمن شراء الأرض ؟
ب - تعبر تلك الأرض طريق موازية للطول عرضها 2ر50 م .
ابحث عن قيس المساحة المتبقية والصانحة للزراعة
بحساب الهكتار .

ج - ينتج الار 1ر080 ق من البطاطا . فما هو ثمن كامل
المحصول إذا علمت أن الفلاح باع الكغ الواحد ب 85 مي ؟

244 - يمثل الشكل التالي مزرعة وقع تقسيمها الى 4 أجزاء كما
هو مبين بالشكل . زرع الجزء 1 عدد فلفلا والجزء
2 عدد طماطم والجزء 3 عدد بصلا والجزء 4 عدد بطاطا .

أ - احسب قيس مساحة كل جزء بالهكتار .
ب - ما هو إنتاج كل جزء مع العلم أن الهكتار الواحد
يعطي

- 30 ط من الطماطم أو
- 20 ط من الفلفل أو
- 7 ط من البصل أو
- 15 ط من البطاطا



245 - يبلغ طول محيط أرض مستطيلة الشكل 432 م ويبلغ عرضها

$$\frac{1}{3} \text{ طولها}$$

- أ - ابحث عن بعدي تلك الأرض .
- ب - أحيطت هذه الأرض بسياج ثم قُتمت بسياج آخر مواز للعرض الى قطعتين إحداهما مربعة الشكل . ابحث عن قياس مساحة كل قطعة .
- ج - ما هو ثمن شراء كامل السياج الذي يبلغ ثمن المتر الواحد منه 325ر0 د ؟

246 - كلف فلاح شخصين بقيس بعدي حقله المستطيل الشكل . صرح الشخص الأول بأن طول الحقل يفوق عرضه ب 50 م وأن طول محيط الحقل يساوي 900 م . وصرح الشخص الثاني بأن طول الحقل هو $\frac{5}{4}$ عرضه وأن طول محيطه يساوي 900 م .

- أ - احسب بطريقتين مختلفتين بعدي الحقل اعتمادا على ما صرح به الشخصان .
- ب - يريد الفلاح بيع قطعة من الحقل فقسمه بواسطة سياج مواز للعرض الى قطعتين باع منهما قطعة قياس مساحتها 400 أرا بحساب 2ر100 د المتر المربع ، فما هو شكل القطعة التي باعها وما هو ثمن بيعها ؟
- ج - عبّر بكر عن قياس مساحة القطعة التي باعها الفلاح بالنسبة لقيس مساحة الحقل .
- د - ما هو شكل القطعة المتبقية ؟

247 - قاعة مستطيلة الشكل طولها 5ر6 م وعرضها 8ر4 م وارتفاعها 20ر3 م لها نافذتان مستطيلتان بعدا كل منهما 60ر1 م و 20ر1 م نريد طلاء السقف والجدران الأربعة والباب

- أ - ما هو قياس المساحة التي سيقع طلاؤها ؟
- ب - نريد تغطية أرضية القاعة بغلاف خاص ثمن المتر المربع الواحد منه يبلغ 800ر3 د وتكاليف وضعه 800ر0 د بالنسبة للمتر المربع الواحد كذلك . فما هو ثمن كلفة التغليف ؟

248 - مزرعتان لهما نفس طول المحيط ، الأولى مستطيلة الشكل طولها 90 م وعرضها $\frac{5}{9}$ طولها والثانية مربعة الشكل .

- أ - ابحث عن قياس مساحة كل من المزرعتين
- ب - بيعت المزرعة الكبيرة بسعر 350 مي المتر المربع بينما بيعت المزرعة الصغيرة بثمن يزيد عن ثمن الكبيرة ب 445 د ، ابحث عن ثمن بيع المزرعة

- 250 - شرت أمك زربية بـ 301 د لتفرشها بقاعة الاستقبال ثمن المتر المربع منها يساوي 21500 د .
- أ - ما هو قيس مساحة الزربية ؟
- ب - يبلغ طول الزربية 5 م فما هو عرضها ؟
- ج - عندما فرشت أمك الزربية لا حظت أنه بقي بينها وبين كل جدار 40 سم .
- ابحث عن بعدي قاعة الاستقبال وعن قيس مساحتها .

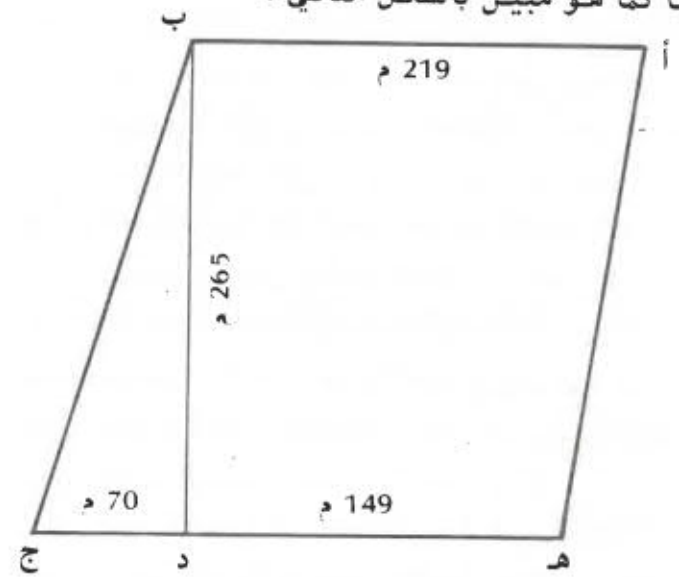
- 251 - يملك فلاح قطعتي أرض لهما نفس طول المحيط . القطعة الأولى مربعة الشكل والثانية مستطيلة الشكل طولها 75 م وعرضها $\frac{3}{5}$ طولها .
- أ - ما هو قيس مساحة كل من القطعتين ؟
- ب - يبلغ ثمن المتر المربع من القطعة الكبيرة 920 مي وهو يقل عن ثمن المتر المربع من القطعة الصغيرة بـ 130 مي
- فما هو ثمن القطعة الصغيرة ؟

- 252 - اشترى أخوان حقلا مستطيل الشكل بـ 506ر250 د واقتسامه بالتساوي فتحصل كل منهما على قطعة مربعة الشكل طول ضلعها 45 م .
- أ - ما هو قيس مساحة كل مربع ؟
- ب - ابحث بطريقتين مختلفتين عن قيس مساحة كامل الحقل .
- ج - كم دفع كل من الأخوين ؟

- 253 - ألصقت سارة فوق مربع طول ضلعه 5 سم قرصا دائريا قطره 5 سم .
- ابحث عن قيس المساحة غير المغطاة من المربع .

- الكبيرة وعن ثمن بيع المتر المربع من المزرعة الصغيرة .
- ج - بالمزرعة الكبيرة 242 شجرة رمان وزيتون . عدد شجر الزيتون يفوق عدد شجر الرمان بـ 62
- ابحث عن عدد الأشجار من كل نوع .

- 249 - لفلاح أرض تتكون من مثلث قائم الزاوية وشبه منحرف قائم أيضا كما هو مبين بالشكل التالي :

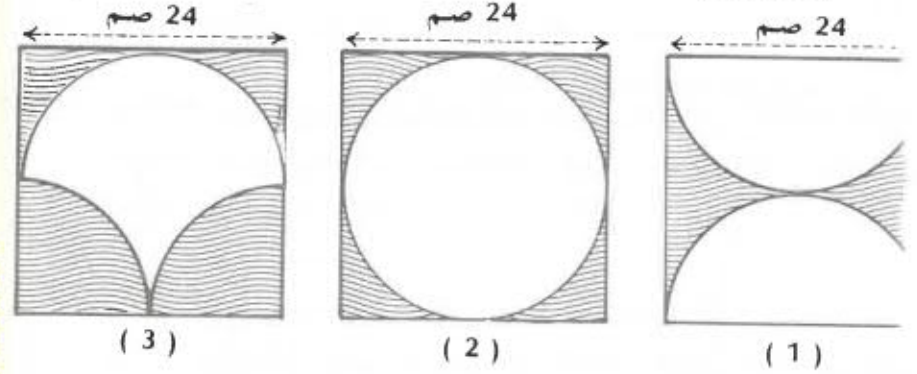


- زرعت هذه الأرض لفتا سكريا فكان إنتاج الهكتار الواحد 36 ط

- أ - احسب قيس مساحة الارض بطريقتين مختلفتين .
- ب - ابحث عن كمية السكر التي ينتجها الحقل مع العلم أن اللفت السكري يعطي 7 % من وزنه سكرًا .
- ج - كم جولة يجب أن تقود بها شاحنة حمولتها 7 ط لنقل تلك الكمية من السكر ؟

2 1 - يبلغ قطر حوض دائري 3 م ويحيط بذلك الحوض رصيف يبلغ عرضه 3 م .
ابحث بطريقتين مختلفتين عن الفرق بين طول المحيط الخارجي للرصيف وطول محيط الحوض .

2 5 - احسب قيس المساحة الملونة في كل من الأشكال التالية ماذا تلاحظ ؟

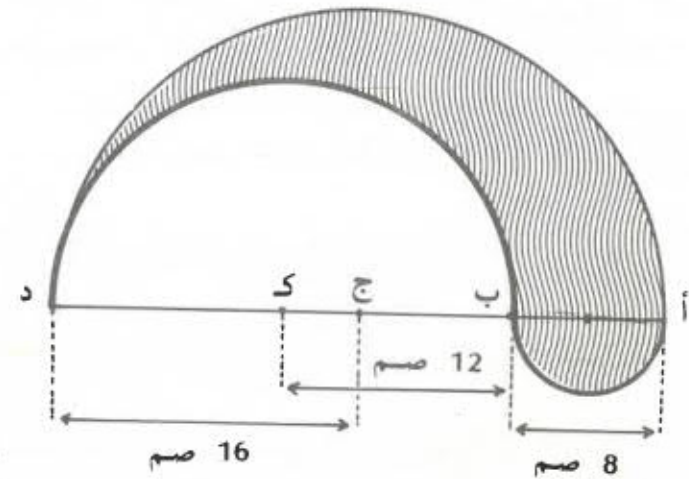


(3)

(2)

(1)

25 - تأمل الشكل أسفله المحدود بـ 3 أنصاف دوائر .
أ - ابحث عن قيس المساحة الملونة وعن محيطها .



257 - ارسم مربعاً (أ ، ب ، ج ، د) طول ضلعه 6 سم ثم ارسم قطره [أ ج] ارسم قوساً مركزه ب ويمر من أ و ج داخل المربع .

ارسم قوساً آخر مركزه د ويمر من أ و ج داخل المربع كذلك . ابحث عن قيس المساحة المحصورة بين القوسين .

258 - لك مربع وقرص دائري طول محيط كل منهما 75ر36 سم ، قارن بين قيسي مساحتهما .

259 - يبلغ قطر عجلة دراجة 72 سم .

أ - احسب بالمتر المسافة التي تقطعها الدراجة عندما تقوم بعجلتها بـ 10 دورات .

ب - احسب عدد الدورات التي تقوم بها تلك العجلة عندما تقطع مسافة 3ر051 كم .

260 - بغرفة الأكل في منزلنا طاولة سطحها مستدير قطره متران إثنان (2 م) وهو متركب من جزأين متقايسين يمكن إبعادهما عن بعضهما لوضع مستطيلين متقايسي الأبعاد بينهما .
بمناسبة عيد ميلاد أمي جلس 12 شخصاً حول تلك الطاولة لتناول الفطور .

أ - ما هو بالصنمتر عرض كل من المستطيلين الإضافيين إذا علمت أن كل شخص يحتاج لـ 76ر5 سم من طول المحيط الجملي للطاولة ؟

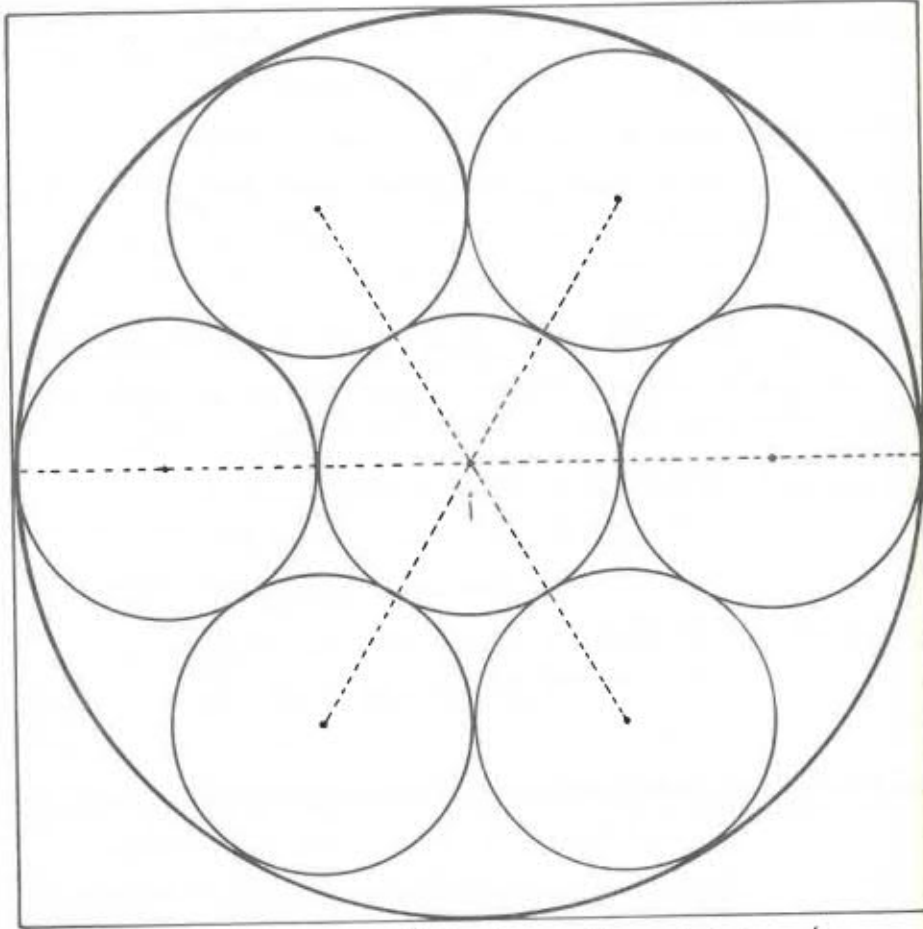
ب - ارسم تصميمًا للطاولة بمستطيلها حسب السلم $\frac{1}{25}$

261 - ملعب رياضي شكله مستطيل نهايتاه نصفاً قرصاً دائرياً قطر نصف القرص عرض المستطيل .

أ - ما هو قيس مساحة الملعب إذا علمت أن طول محيطه 522ر6 م وعرضه 90 م .

ب - تحيط بالملعب حلبة سباق عرضها 30 م ، ابحث عن قيس مساحة الحلبة ؟

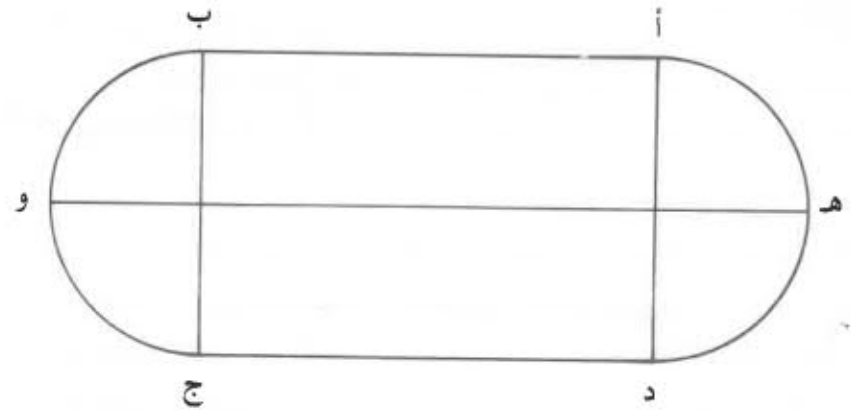
- 264 - نعتبر ورقة مربعة الشكل قيس محيطها 48 سم رسمت داخلها دائرة شعاعها 6 سم ومركزها أ كما رسمت داخل تلك الدائرة 7 دوائر أخرى شعاع الواحدة منها 2 سم كما هو مبين بالشكل التالي :



- أ - ابحث عن قيس مساحة الأقراص الصغيرة .
 ب - ابحث عن قيس المساحة المتبقية من الورقة بعد قص القرص الكبير .
 ج - نريد إحاطة كل من الأقراص الصغيرة بسلك حديدي فما هو طول السلك اللازم لذلك ؟
 د - ابحث عن قيس المساحة المتبقية من القرص الكبير بعد قص الأقراص الصغيرة .

- 262 - يتكوّن باب مسجد من جزأين متماثلين شكل كل جزء مستطيل يعلوه نصف قرص دائري وارتفاعه 2ر40 م وعرضه 0ر90 م
 أ - ابحث عن قيس مساحة هذا الباب بالمتري المربع .
 ب - نريد طلاء وجهي الباب بطلاء تبلغ تكاليف المتر المربع منه 1ر200 د .
 فما هو ثمن كلفة الطلاء ؟

- 263 - يتكوّن ملعب رياضي من مستطيل ونصفي دائرة كما يظهر بالصورة التالية :



$$\begin{aligned} \text{طول [أ ب]} &= 90 \text{ م} \\ \text{طول [أ د]} &= \frac{2}{3} \text{ طول [أ ب]} \end{aligned}$$

- أ - ابحث عن قيس مساحة هذا الملعب .

ب - ابحث عن طول محيطه

ج - ابحث عن طول [هـ و]

أ - ابحث عن قيس المساحة المشطوبة والتي سيقوم الحداد بقصها مع العلم أن هـ و ك هما منتصف القطعتين [ون] و [وص]

ب - يريد الحداد أن يقص أقراصا قطر الواحد منها 5 سم داخل المستطيل (س، و، ق، د) فكم قرصا يمكنه قصها؟

ج - ابحث عن قيس المساحة المتبقية من الصفيحة بعد قص الجزء المشطوب وقص الأقراص.

268 - نريد بناء صهريج يسع 100 000 ل على شكل متوازي مستطيلات تكون أبعاده أعدادا صحيحة من الأمتار، فما هي كل الحلول الممكنة لمعرفة أبعاده؟

269 - مكعب ومتوازي مستطيلات لهما نفس الحجم 216 سم³ ابحث عن طول حرف المكعب؟

ب - قاعدة متوازي المستطيلات شكلها مربع وقيس مساحتها هو عدد صحيح من الصنتمرات المربعة محصور بين 6 و 18

ابحث عن أبعاد متوازي المستطيلات.

270 - لأمين 84 مكعبا صغيرا طول حرف الواحد منها 6 سم يلعب بها فوق طاولة طولها 72 سم وعرضها 48 سم.

أ - بنى بها أمين مكعبا كبيرا طول حرفه 24 سم، ابحث عن عدد المكعبات الصغيرة التي استعملها.

ب - وضع جميع مكعباته الواحد بجانب الآخر في صفوف موازية لطول الطاولة بحيث تكون المكعبات متلاصقة

ابحث عن عدد الصفوف التي كونها وعن قيس المساحة المغطاة بالمكعبات.

ج - وضع أمين المكعبات على أحرف الطاولة حتى غطى حاشيتها، ابحث عن عدد المكعبات المستعملة.

265 - يبلغ طول محيط مستطيل 628 م

أ - ابحث عن قيس مساحة هذا المستطيل مع العلم أن عرضه يساوي $\frac{2}{3}$ طوله.

ب - ابحث عن قيس مساحة مربع طول محيطه يساوي طول محيط المستطيل.

ج - ابحث عن قيس مساحة قرص دائري طول محيطه يساوي طول محيط المستطيل.

د - رتب الأقيسة الثلاثة السابقة من الأكبر الى الأصغر.

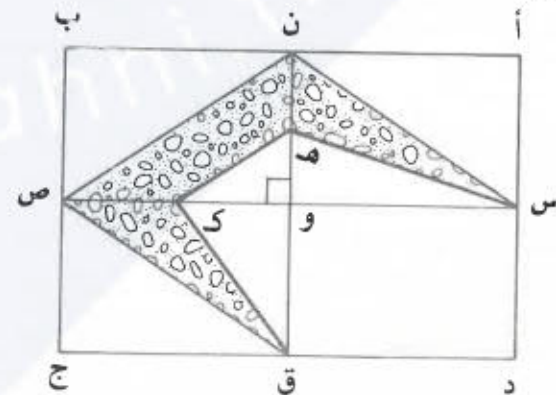
266 - كلف عامل في مصنع بقص أكبر عدد ممكن من الأقراص الدائرية من 100 صفيحة معدنية مستطيلة الشكل بعدا كل منها 3م و 5م و 20م و 1م

أ - إذا كان شعاع القرص الواحد 5 سم فما هو أكبر عدد من الأقراص التي يمكن الحصول عليها؟

ب - ما هو قيس مساحة الفضلات؟

ج - ما هو وزن تلك الفضلات مع العلم أن المتر المربع من هذا المعدن يزن 93 كغ؟

267 - يمثل الشكل أسفله صفيحة حديدية مستطيلة الشكل بعدها 60 سم و 40 سم.



275 - ساحة معهد ثانوي مستطيلة الشكل بعدها 109 م و 85 م يريد مدير المعهد أن يخصص مكانا للقفز في تلك الساحة شكله متوازي مستطيلات بعدها 6 م و 3 م وعمقه 0.50 م يتصل به ممر للعدو طوله 15 م وعرضه 1.2 م .

أ - ابحث عن قيس المساحة المتبقية من الساحة .

ب - ابحث عن أجرة العامل الذي سيقوم بحفر المكان المخصص للقفز مع العلم أنه يقوم بحفر 0.9 م³ في الساعة وأن عملية إزالة كامل التراب تتطلب 4 ساعات عمل وأنه يتقاضى 225.0 م من كل ساعة عمل .

ج - قام مقاول بتجهيز المكان وملئه رملا مقابل 800 و 274 د ، فما هو ثمن المتر المكعب من الرمل إذا علمت أن تكاليف التجهيز بلغت 500 و 250 د .

276 - خزان للماء قيس حجمه الداخلي 148 و 8 م³ تملؤه مضخة في ظرف 10 س و 20 دق

أ - احسب قيس حجم الماء بالهليل التي تعطيه المضخة في الدقيقة ثم في الساعة .

ب - إذا ملأنا خزاننا آخر على شكل متوازي مستطيلات بعدها قاعدته 20 و 3 م و 2 و 4 م و ارتفاعه 80 و 0 م بواسطة نفس المضخة فما هي المدة اللازمة لكي يمتلئ تماما ؟

ج - إذا وقع استهلاك 1 و 536 م³ من الماء الموجود بالخزان الثاني فما هو الانخفاض الحاصل في ارتفاع الماء في هذا الخزان ؟

271 - صناديق من الطباشير على شكل متوازيات مستطيلات بعد كل منها 10 سم و 12 سم و 15 سم نريد وضعها في صناديق مكعبة الشكل .

أ - ماذا يكون طول حرف الصندوق المكعب إذا أردناه أن يكون أصغر ما يمكن ؟

ب - كم صندوقا من الطباشير يمكن أن نضع في الصندوق المكعب ؟

272 - صندوق على شكل متوازي مستطيلات وحقنة اسطوانية لهما نفس قيس الحجم 785 سم³ ونفس الارتفاع 10 سم

أ - قارن بين طول محيط قاعدة متوازي المستطيلات وطول محيط قاعدة الاسطوانة مع العلم أن عرض قاعدة الصندوق يساوي شعاع الاسطوانة .

ب - قارن كذلك بين قيس المساحة الجانبية للصندوق وقيس المساحة الجانبية للحقنة .

ج - قارن أخيرا بين قيس المساحة الجسمية للصندوق وقيس المساحة الجسمية للحقنة .

273 X - حوض على شكل متوازي مستطيلات طوله 5 م وارتفاعه 3 م ملئ الى $\frac{3}{5}$ ارتفاعه ماء بصب 423 و 9 هل .

أ - ابحث عن عرض الحوض .

ب - أفرغ ذلك الماء في خزان اسطواني الشكل شعاع قاعدته 1 و 5 م فامتلا تماما .

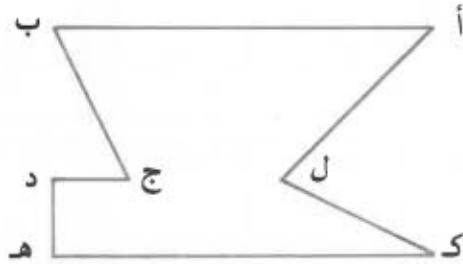
ابحث عن ارتفاع الخزان الاسطواني .

274 - نريد تصنيف حقق اسطوانية الشكل داخل صندوق على شكل متوازي مستطيلات ، طول قطر قاعدة الحقنة يساوي 6 سم وارتفاعها 10 سم أما أبعاد الصندوق فهي بالضم :

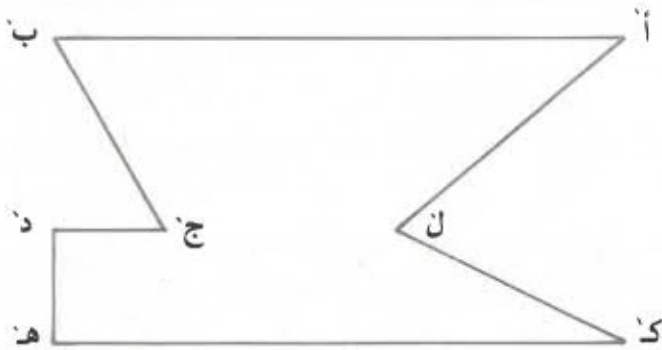
50 للطول ، 40 للعرض ، 30 للارتفاع .

كيف يجب أن نوضع الحقق داخل الصندوق حتى نتمكن من تصنيف أكبر عدد ممكن منها ؟

279 - هل يمكنك التعرف على التلم المستعمل لتصميم الرسم عدد 2 انطلاقا من الرسم عدد 1 اذكره .




الشكل عدد 1




الشكل عدد 2

277 - نعتبر مستطيلا بعناه 4 سم و 3 سم ، ارسم تصميميا له حسب التلم 3 .

278 - نعتبر المستطيلين التاليين .



المستطيل عدد 1



المستطيل عدد 2

280 - يمثل الرسم التالي تصميميا لضيغة أعد حسب التلم $\frac{1}{1000}$

أ - ابحث عن قيس مساحة الضيغة الحقيقيتين

ب - ما هو ثمن تبليط الممرات مع العلم أن تكاليف المتر المربع الواحد تقدر ب 4750 د ؟

أ - حسب أيّ تلم رسم المستطيل عدد 2 انطلاقا من المستطيل عدد 1 ؟

ب - حسب أيّ تلم رسم المستطيل عدد 1 انطلاقا من المستطيل عدد 2 ؟

5	3	$\frac{1}{50000}$	$\frac{1}{200000}$	النَّم
	0,000025	0,65	32	المسافة الحقيقية بالكم
30	50	32,5	32	المسافة على الخريطة بالضم

285 - طول طريق على خريطة سلمها $\frac{1}{50\ 000}$ يساوي 85 صم

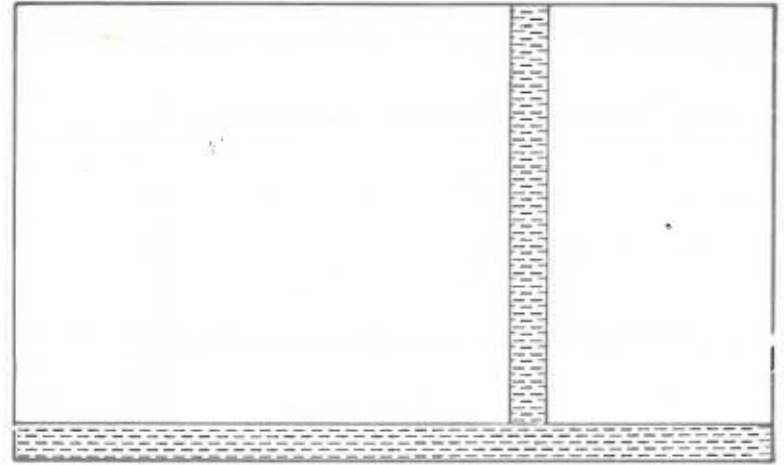
كم طولها بالضم على خريطة أخرى سلمها $\frac{1}{250\ 000}$ ؟

286 - تفصل 99 كم بين مدينتي تونس والنفيضة
ابحث عن المسافة التي تفصل بين هاتين المدينتين على خريطة رسمت حسب النَّم $\frac{1}{50\ 000}$ ثم على خريطة رسمت

حسب النَّم $\frac{1}{100\ 000}$ وأخيرا على خريطة رسمت حسب النَّم $\frac{1}{200\ 000}$

287 - يزيد طول طاولتي عن عرضها 70 صم وهو في نفس الوقت ينقص عن ضعف عرضها 10 صم
أ - ابحث عن بعدي طاولتي

ب - ارسم تصميمًا لطاولتي حسب النَّم $\frac{1}{20}$



عرض الضيعة : 6 صم

طول الضيعة : 10 صم

عرض الممرات : 5 مم

281 - حديقة مستديرة الشكل قطرها 480 م أحيطت برصيف عرضه 90 صم .

أ - احسب قيس مساحة الحديقة بالم²

ب - احسب طول المحيط الخارجي للرصيف بالمتر .

ج - احسب بالضم قطر الحديقة وعرض الرصيف باعتبار النَّم $\frac{1}{100}$ ثم ارسم التصميم .

282 - تبلغ المسافة الفاصلة بين مدينتين 185 كم بينما يبلغ طول تلك المسافة 37 صم على خريطة سياحية
ابحث عن سلم تلك الخريطة ؟

283 - مثلت ضيعة مستطيلة الشكل على تصميم بمستطيل بعده 98 مم و 75 صم .

الطول الحقيقي لطول الضيعة هو 245 م

ابحث عن سلم التصميم وكذلك عن القيس الحقيقي لمساحة الضيعة .

288 - على التصميم المسحي المعد حسب السلم $\frac{1}{2500}$ مثلث قطعة

أرض بمتوازي أضلاع طول قاعدته 8ر4 صم وطول ارتفاعه 56 م . وقع شراء قطعة الأرض بـ 54390 د وبلغت المصاريف 18 % من ثمن الشراء فما هو ثمن كلفة المتر المربع الواحد ؟

289 - كلفت برسم تصميم حسب السلم $\frac{1}{500}$ لحقل مستطيل الشكل

طوله 170 م وعرضه 112ر5 م على ورقة مستطيلة الشكل بعدها 22 صم و 17 صم .

أ - فهل تستطيع ذلك ؟ لماذا ؟

ب - لو مثلت عرض الحقل بقطعة مستقيم طولها 45 م فما هو السلم الذي استعملته ؟

ج - قم برسم الحقل حسب هذا السلم الجديد .

290 - شري فلاح قطعة أرض على شكل مثلث قائم الزاوية طولاً

ضلعيه المتعامدين 64 م و 48 م بحساب 175 د الأار الواحد .

أ - ما هو ثمن شراء قطعة الأرض ؟

ب - مثل الضلع الكبير للزاوية القائمة بـ 3ر2 صم ومثل الوتر بقطعة طولها 4 صم على تصميم مسحي

فما هو سلم التصميم ؟

ج - ابحث عن الطول الحقيقي للارتفاع الموافق للوتر ؟

291 - قام بناء بتغطية مساحة مستطيلة الشكل بجليز مربع الشكل طول ضلعه 15 صم .

أ - ما هو عدد الجليز اللازم إذا كان طول المساحة المغطاة 1ر35 م وعرضها 7ر5 دسم .

ب - ارسم هذه المساحة المغطاة جليزا حسب السلم $\frac{1}{10}$

ج - وضع بناء جليزا أخضر على طول محيط تلك المساحة من الداخل وجليزا أبيض على الجزء الباقي .

ثمن الجليزة الخضراء 160 مي

ثمن الجليزة البيضاء 95 مي

ما هو مقدار تكاليف ذلك العمل مع العلم أن وضع الجليز يتطلب 2ر800 د عن المتر المربع الواحد ؟

292 - يتكوّن ملعب رياضيّ من مستطيل محدود في عرضيه بنصفي دائرتين

طول المستطيل 134 م

عرض المستطيل 56 م

أ - ارسم تصميمًا لهذا الملعب حسب السلم $\frac{1}{2000}$

ب - ما هو قيس مساحة الملعب بالأر ؟

ج - يحيط بالملعب من الداخل ممرّ أعدّ على 3 م من جوانبه يجري عذاء في أقصر طريق من هذا الممرّ

بسرعة 340 م / دق

فما هو الزمن الذي يقضيه عندما يقوم بـ 40 دورة ؟

293 - ملعبنا الرياضيّ شكله مستطيل بعناه 160 م و 120 م . ينتهي الملعب بنصفي دائرتين خارجيتين قطراهما عرضا المستطيل .

أ - ارسم تصميمًا للملعب حسب السلم $\frac{1}{2000}$

ب - لتسييج الملعب انفقت البلدية 2228ر292 د فما هو ثمن كلفة المتر الواحد من السياج إذا علمت أن ذلك السياج

يبعد عن حدود الملعب بـ 5 م ؟

ج - وقعت تغطية كامل المساحة المحاطة بالسياج بتربة ناعمة سمكها 5 صم فما هو ثمن التربة مع العلم أن ثمن

المتر المكعب منها يقدر بـ 0ر760 د .

www.najahni.tn

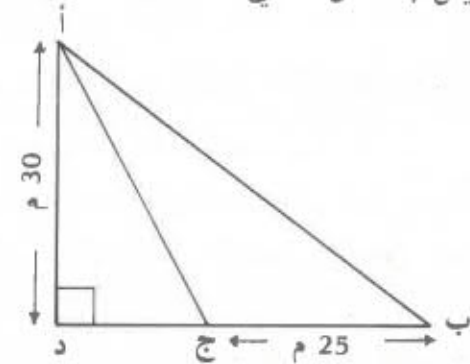
294 - مثلت ضيعة حسب السلم $\frac{1}{2000}$ بشبه منحرف قائم الزاوية

(أ، ب، ج، د) طول قاعدته الصغيرة [أ ب] 4ر2 صم وطول قاعدته الكبيرة [ج د] 0ر84 دسم وطول ارتفاعه [أ د] 63 م يقدر ثمن الهكتار الواحد من تلت الضيعة ب 1950 د

أ - ما هو ثمن الضيعة ؟

ب - قسّمت هذه الضيعة الى 3 أجزاء على شكل مثلثات متكافئة المساحات ارسم تلك الضيعة حسب السلم المذكور وبيّن بوضوح حدود الأجزاء الثلاثة .

295 - قطعة أرض لها شكل مثلث (أ، ب، د) قائم الزاوية في د كما هو مبين بالشكر التالي :



أ - ابحث عن قيس مساحة المثلث (أ، ب، ج)

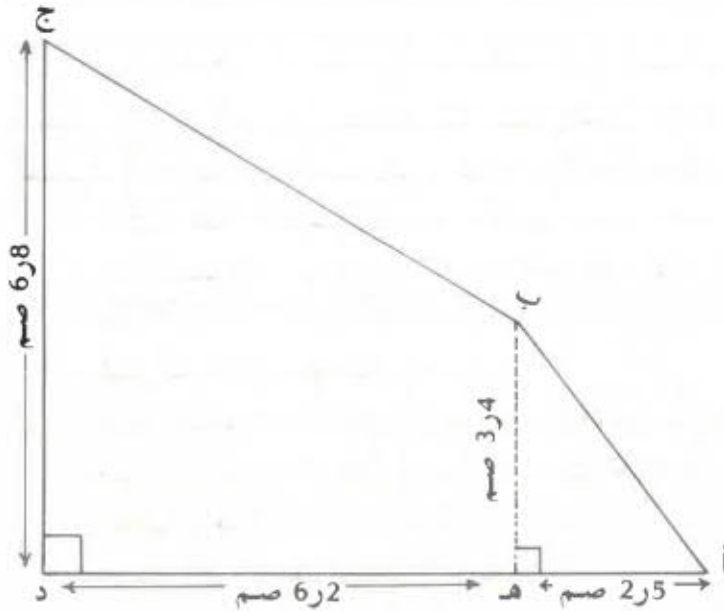
ب - ابحث عن طول [ج د] إذا علمت أن قيس مساحة (أ، ج، د) يساوي $\frac{3}{5}$ قيس مساحة (أ، ب، ج)

ج - يلزم استعمال 360 م من السلك الشائك لتسييج القطعة (أ، ب، د) بثلاثة صفوف من ذلك السلك ابحث عن طول الوتر [أ ب]

د - ارسم تلك القطعة من الأرض حسب السلم $\frac{1}{500}$

ولا تنس رسم النقطة ج على الضلع [ب د]

296 - يمثل الشكل التالي تصميمًا لحقل أعد حسب السلم $\frac{1}{2000}$



أ - ما هو قيس مساحة الحقل بالأر ؟

ب - زرع الحقل لفتا سكرًا فأنتج الهكتار الواحد 25 ط من اللفت السكري الذي أعطى بدوره 12 % من وزنه سكرًا، فما هي قيمة السكر إذا قدر ثمن الكيلوغرام منه ب 230 مي ؟

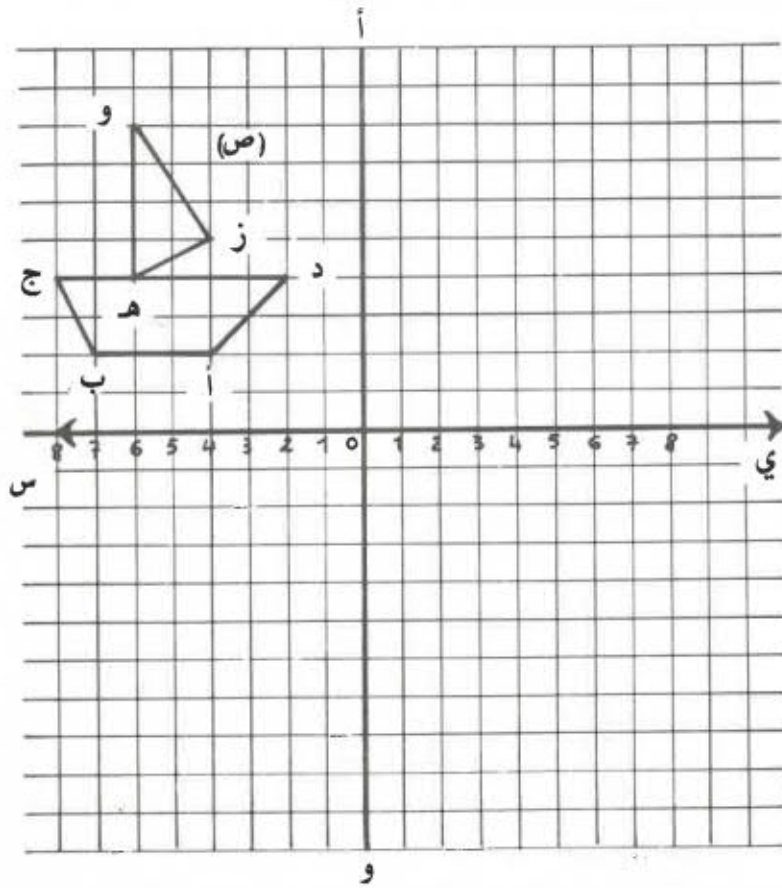
297 - على التصميم المسحي المعد حسب السلم $\frac{1}{2500}$ مثلت

مزرعة بشبه منحرف قائم الزاوية طول قاعدته الكبيرة 58 م وطول قاعدته الصغيرة 4ر5 صم وطول ارتفاعه 36 م (1) أ - ما هو قيس مساحة المزرعة بالهكتار ؟

ب - تعبر المزرعة طريق عموديّة على القاعدتين عرضها 8 م قسّمت المزرعة الى قطعتين الأولى مربعة الشكل والثانية على شكل شبه منحرف .

(2) أ - تسلّم صاحب المزرعة 2 340 د مقابل الأرض التي أصبحت طريقًا فما هي قيمة الأر الواحد من تلك الطريق ؟

304 - لنعتبر الصورة ص التي تمثل مركبا ذا شارع .



(1) اكتب احداثيات النقط أ، ب، ج، د، هـ، و، ز

(2) ننجز انسحابا للصورة ص بزيادة (9 →) الى فاصلاتها وزيادة (2 ↑) الى تراتيبها ابن الصورة ص المنسحبة .

(3) ننجز انسحابا للصورة ص بزيادة (5 ←) الى فاصلاتها وزيادة (10 ↓) الى تراتيبها ابن الصورة ص المنسحبة .

(4) هل يوجد انسحاب يحوّل الصورة ص الى الصورة ص؟ ما هو؟

قطره 80 م ، ابحث عن قيس المساحة المتبقية من هذا الجزء .

د - ارسم تصميميا لكامل قطعة الأرض حسب السلم $\frac{1}{2000}$

302 - بنى مروض اصطبلا لإيواء خيوله العشرة يحتل الحصان الواحد مكانا مستطيل الشكل بعدها بالمتر 2 و 5.50 وقد خصص ممر وراء الخيول عرضه 2ر5 م ومواز لطول الاصطبل .

أ - ارسم تصميميا لهذا الاصطبل حسب السلم $\frac{1}{100}$

ب - ابحث عن قيس مساحة الاصطبل بالمتر المربع

ج - ماذا يكون طول ارتفاع الاصطبل إذا علمت أن الحصان

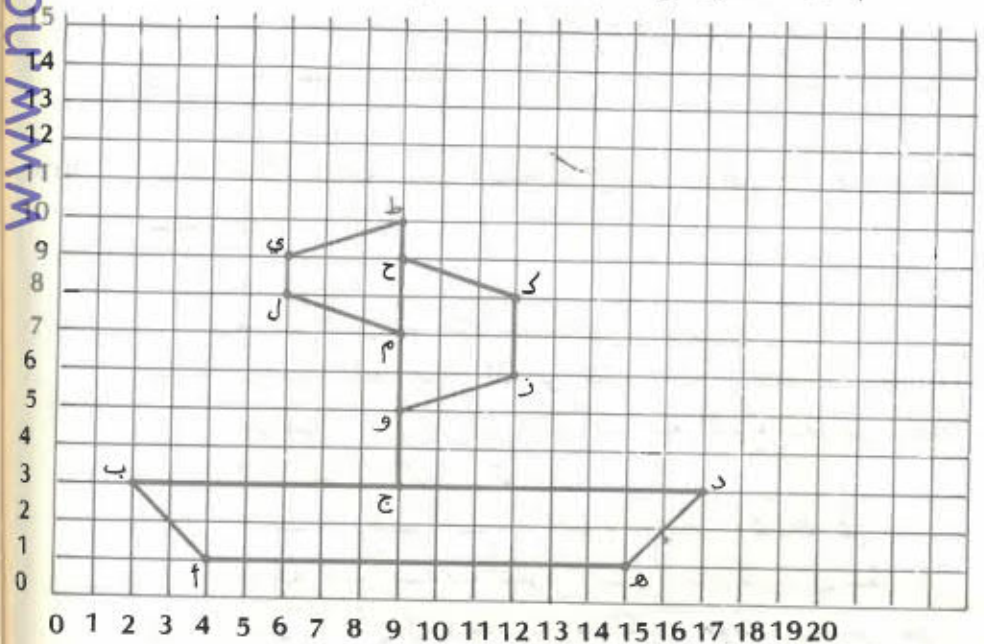
الواحد يحتاج الى 36 000 دسم من الهواء؟

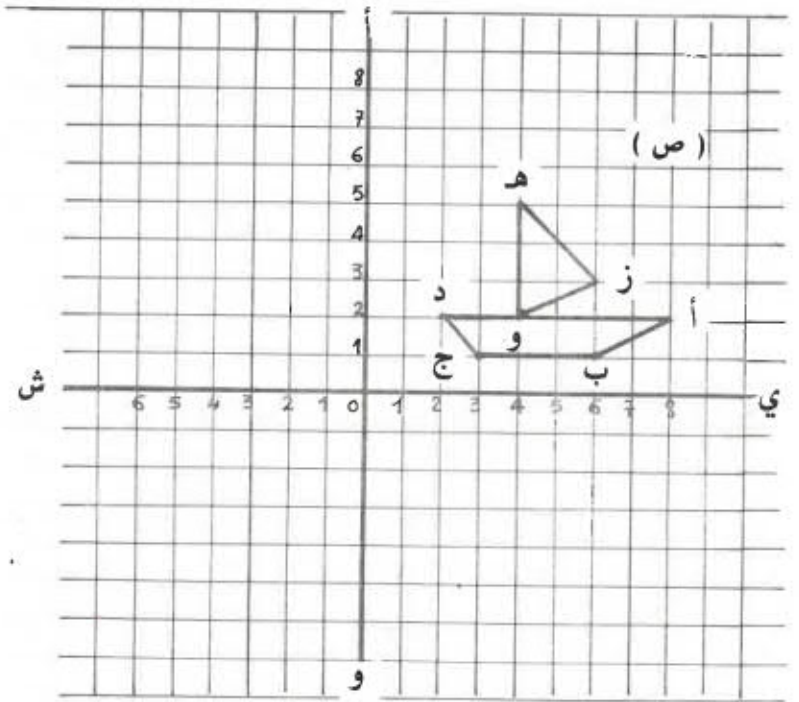
د - احسب تكاليف تبليط الاصطبل بالاسمنت إذا علمت

أن المتر المربع يتكلف بـ 1560 د .

303 - عين الأزواج المناسبة للنقاط أ، ب، ج، د، هـ، و، ك، ز،


م، ل، ط، ي، ح، الممثلة على الشبكة التالية :





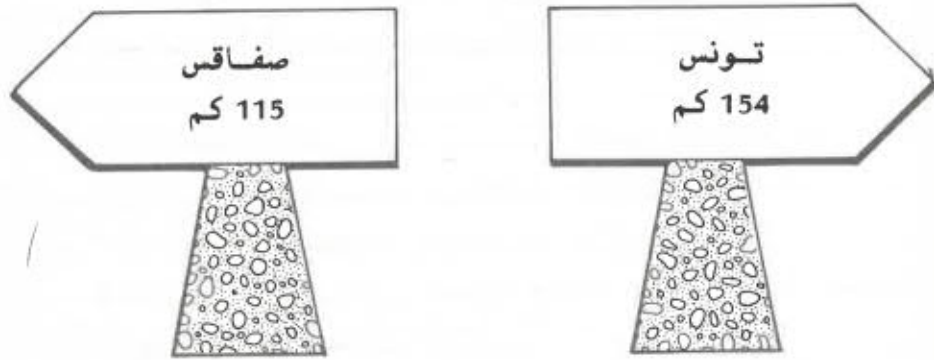
- 1 (اكتب احداثيات النقط أ ، ب ، ج ، هـ ، و ، ز)
- 2 (اكتب احداثيات النقط المناظرة لتلك النقط حول المستقيم (أ و) وابن الصورة ص المناظرة للصورة ص)
- 3 (لانجاز انسحاب للصورة ص (2 ←) لفاصلات نقط الصورة ص ونزيد (7 ↓) الى تراتيب نقطها . ابن الصورة ص المنسحبة بعد كتابة احداثيات النقط .
- 4 (هل يوجد انسحاب يحول الصورة ص الى الصورة ص ؟)

306 - ارسم المربع (هـ ، د ، ك ، ل) المناظر للمربع (أ ، ب ، ج ، د) بالنسبة للنقطة د ثم أتمم الافريز .



نظام القياس

307 - توجد بمدينة مسكن العلامتان الكيلو متريتان التاليتان على الطريق الرئيسيّة الرابطة بين صفاقس وتونس



فما هي المسافة الفاصلة بين تونس وصفاقس ؟

308 - بعد اختيار وحدة الطول المناسبة رتب الأطوال التالية من الأكبر الى الأصغر .

3ر5 دسم ، 7ر2 دسم ، 450 مم ، 56ر8 م ، 3ر5 صم

309 - تفصل بين المدرسة ومنزلنا مسافة طولها 150 دكم ، فما هي المسافة التي يقطعها أخي أحمد كل يوم إذا علمت أنه يتناول فطوره بالمنزل بعد انتهاء دروسه الصباحية ؟ ما هي المسافة التي يقطعها كل اسبوع مع العلم أنه لا يذهب الى المدرسة أيام الاحد ، عبّر عن تلك المسافة بالكم .

310 - تمتاز الشركة التونسية للسكك الحديدية القيام بإصلاحات في بعض خطوطها الحديدية بتعويض كل القطع القديمة بقطع جديدة طول الواحدة 28 م .

فما هو عدد القطع اللازمة لتجديد خط حديدي طوله 4 كم و 396 م ؟

- 311 - طول خطوة أبي 75 سم وطول خطوتي 35 سم .
انطلقت أنا وأبي في نفس الوقت ومن نفس المكان وفي نفس الاتجاه وخطا كل منا 370 خطوة
فما هي بالمتري المسافة التي تفصلنا عن بعضنا ؟
- 312 - قام تلميذ أول بقيس طول السبورة فتحصل على 216 سم .
قام تلميذ ثان بقيس نفس الطول متخذا عرض ورقة كراسه كوحدة للطول فتحصل على 12 .
قام تلميذ ثالث بنفس العملية متخذا طول الورقة السابقة كوحدة للطول فتحصل على 8
ابحث عن بعدي الورقة .
- 313 - قام منير بجولة على طريق معبدة فانطلق من العلامة الهكثومترية رقم 3 ومر ب 4 علامات كيلومترية حتى انتهى الى العلامة الهكثومترية الموالية مباشرة لآخر علامة كيلومترية مريها ثم رجع من حيث أتى .
ما هو بالكم طول المسافة التي قطعها منير أثناء جولته ؟
- 314 - انطلق عذاء من العلامة الكيلومترية $\frac{38}{79}$ عدد وبلغ في نهاية السباق العلامة الكيلومترية $\frac{79}{38}$ عدد
أ - ما هي بالكم المسافة التي قطعها العذاء ؟
ب - كم عدد العلامات الكيلومترية الموجودة على طول تلك المسافة ؟
ج - كم عدد العلامات الهكثومترية التي مريها العذاء ؟
- 315 - تتركب قافلة من 15 شحنة طول كل واحدة منها 6 د مقسمة الى 3 مجموعات تحتوي كل واحدة منها على نفس العدد من الشاحنات وتفصل بينها مسافة طولها 700 م . تبعد كل شاحنة عن الأخرى ب 75 م . فما هو طول القافلة ؟

www.najahni.tn

- 316 - للطواف حول ساحة مربعة الشكل خطوات 320 خطوة طول الخطوة 75 سم .
أ - ما هو طول ضلع الساحة ؟
ب - حفرت وسط الساحة حوضا مستديرا قطره 20 م فارسم تصميميا للساحة والحوض معا حسب السلم $\frac{1}{500}$
ج - لتبليط المساحة المتبقية أنفقت مبلغا قدره 12204ر360 د فما هو ثمن تبليط المتر المربع الواحد ؟
- 317 - عند اخر إشارة للساعة الناطقة كانت الساعة 21 س و 59 د ق و 40 ث . بعد اي مدة تصبح الساعة 22 س بالنسبة ؟
- 318 - احسب الفرق بين عمري تلميذين أحدهما مولود في 15 جوان 1973 والاخر في 24 سبتمبر 1970 .
- 319 - استطاع فلاح بواسطة مضخة أن يفرغ حوضا به 1 200 ل من الماء في 3 د ق و 20 ث . كم وقتا يلزمه لإفراغ حوض آخر به 1ر752 م³ من الماء ؟
- 320 - اشتغل عامل فلاحين بضبعة من صباح يوم الإربعاء 4 أبريل 1980 الى مساء يوم السبت 14 أبريل 1980 بأجر يومي قدره 1750 مي فما هو بالدينار دخله في هذه المدة مع العلم أنه لم يشتغل يومي الجمعة 6 أبريل 1980 و 13 أبريل 1980 ؟
- 321 - للذهاب الى المدرسة يقطع سيمر مسافة طولها 750 م ويتناول فطوره عند الزوال في منزله .
فما هي المسافة التي قطعها من يوم السبت 8 مارس صباحا الى يوم الخميس 15 ماي بدخول الغاية إذا علمت أن الدروس تعطلت أيام الأحد ويوم الخميس 20 مارس ومن يوم السبت 5 أبريل بعد انتهاء الدروس الى يوم الأحد 13 أبريل بدخول الغاية ويوم الخميس غرة ماي ؟

325 - فيما يلي جدول يحصي عدد قوارير العطر التي ينتجها معمل العطورات في اليوم ، أكمل تعمييره .

الأيام	كثية العطرات باللتر	عدد القوارير ذوات 25 صل	عدد القوارير ذوات 5 دسل	عدد القوارير ذوات 0ر75 ل
20 - 2 - 80	180	52	...	142
21 - 2 - 80	...	120	405	320
23 - 2 - 80	1062	...	600	952
24 - 2 - 80	515	400	350	...

326 - أكمل تعمير الجدول التالي :

الفلاحون	ما يملكه كل فلاح في بداية السنة (زيت)	كثية الزيت المستهلكة بعد مضي 100 يوم	معدل الاستهلاك اليومي	كثية الزيت الباقية بعد 100 يوم	كثية الزيت التي يجب شراؤها لاتمام السنة	كثية الزيت الباقية للسنة القادمة
صالح	15 دكل	5 دكل
هشام	25 دكل و 5 ل	...	6 دسل	195 ل
صابر	...	8 دكل	...	127 ل	...	1 دكل

327 - تستهلك عائلتنا 3 دسل من الزيت في اليوم لتحضير الطعام كم لترا نستهلك في الأسبوع ؟
كم هكتولترا نستهلك في السنة ؟

328 - يزن دن مملوء زيتا 129ر3 كغ ويزن فارغا 19ر5 كغ فما هو قيس سعة الدن بحساب اللتر مع العلم أن الديكالتر يزن 15ر9 كغ ؟

322 - أتنفّس في الدقيقة 18 مرّة وفي كل شهقة يدخل رئتي 0ر54 ل من الهواء .

أ - كم لترا من الهواء يدخل رئتي في ساعة ؟ وفي يوم ؟
ب - عندما أقضي ساعة في ممارسة الرياضة البدنية يدخل رئتي 972 ل من الهواء .
فكم مرّة أتنفّس في الدقيقة ؟

323 - يتقاضى عامل 2ر600 د عن كل يوم عمل ويشغل 6 أيام في الأسبوع فينفق 1ر150 د في اليوم ويدفع 4ر650 د لأبيه كمساعدا أسبوعيّة . أما الباقي فإنه ينوي ادخاره لشراء دراجة ثمنها 43ر500 د .
كم أسبوعا يجب على هذا العامل أن يشتغل ليتمكن من دفع ثمن الدراجة كاملا ؟

324 - التحق موظف بعمله صبيحة يوم السبت 23 فيفري من سنة 1980 وانقطع عنه مساء يوم 18 سبتمبر من نفس السنة . لم يعمل ذلك الموظف كامل أيام الأحد والعطل الرسميّة التالية :

الخميس 20 مارس : عيد الاستقلال

الاربعاء 9 أفريل : ذكرى الشهداء

الخميس 1 ماي : عيد الشغل

الاثنين 2 جوان : عيد الشباب

الجمعة 25 جويلية : عيد الجمهوريّة

الثلاثاء 12 أوت والاربعاء 13 أوت : عيد الفطر ويوم المرأة

الاربعاء 3 سبتمبر : ذكرى اندلاع الثورة .

ما هو عدد الأيام التي عمل فيها الموظف ؟

329 - اشترى تاجر مزة أولى 2 هل و 1 دكل و 5 ل من الزيت
ب 47 د الهل . واشترى مزة ثانية 1 هل و 75 ل من الزيت
ب 480 مي اللتر الواحد .
كم دفع التاجر في الجملة ؟

330 - يسع خزان مملوء تماما بنزينا 55 هل ، أفرغنا منه في مزة
أولى 23 هل و 8 دكل و 19 ل ثم في مزة ثانية أفرغنا
الكمية الباقية به .
 $\frac{4}{7}$

فما هو ثمن البنزين المتبقى بالخزان إثر عملية الافراغ
الثانية مع العلم أن سعر اللتر هو 2050 د ؟

331 - يمكن لفلاح بيع محصوله من القمح في فصل الصيف ب
200ر463 د بحساب 9ر650 د القنطار الواحد ولكن الفلاح
فضل أن يبيع قمحه في فصل الشتاء بحساب 7ر500 د
الهكتولتر الواحد .
هل ربح الفلاح أم خسر في هذه العملية (1 هل من القمح
يزن 75 كغ) ؟

332 - صرح مدير معمل العطورات قائلا :

يمكن بكمية العطر المنتجة في اليوم الواحد ملء 1000
قارورة من فئة 25 صل أو 500 قارورة من فئة 5 دسل أو
333 قارورة من فئة 7ر5 دسل غير أنه يبقى في هذه الحالة
الأخيرة 25 صل .

أ - هل أصاب رئيس المعمل في رأيه هذا ؟

ب - ما هي كمية العطر المنتجة في اليوم بحساب الهل ؟

333 - ملئ دن الى $\frac{3}{8}$ سعته زيتا ولكي يمتلئ تماما يجب

صب 11ر25 دكل .

فما هو ثمن الزيت الذي يحويه الدن عندما يكون مملوءا
تماما مع العلم أن وزن اللتر من الزيت هو 920 غ وأن ثمن
الكيلوغرام منه هو 4500 د ؟

334 - يحوي دن 189 ل من الزيت ، نريد افراغه في قوارير
الواحدة 9 دسل .

أ - كم قارورة يمكن ملؤها ؟

ب - ما هو وزن كمية هذا الزيت مع العلم أن الديكالتر
منه يزن 15ر9 ؟

ج - ما هو ثمن هذا الزيت إذا كان ثمن الكيلوغرام
الواحد 400 مي ؟

335 - تصدر صحيفة يومية في 16 صفحة بعدا الصفحة الواحدة
42 صم و 28 صم تحب الجريدة يوميا في 25 000 نسخة ما
عدى يوم الاثنين .

أ - ابحث عن وزن الورق اللازم في اليوم مع العلم أن وزن
المتر المربع من هذا الورق هو 25 غ .

ب - ابحث عن وزن الورق اللازم في السنة بالطن باعتبار 52
اسبوعا في السنة .

336 - يحتوي برميلان مملوءان نفطا على 3ر64 هل . إذا أخذنا
3 دكل من الأول و 12 ل من الثاني نلاحظ أن كمية النفط
المتبقية بالبرميل الثاني هي $\frac{2}{3}$ كمية النفط المتبقية
بالبرميل الأول .

فما هي سعة كل من البرميلين ؟

337 - يزن دن فارغ 21ر4 غ . إذا ملئ ماء الى $\frac{2}{3}$ سعته يصبح
وزنه 91ر4 كغ

أ - ما هي سعة الدن ؟

ب - ما هو وزنه عندما يكون مملوءا كحولا للوقود مع العلم أن

1 هل من الكحول يزن 82 كغ وأن اللتر من الماء
يزن 1 كغ ؟

338 - يحوي برميلان مملوءان بنزينا 45ر2 دكل معا .
إذا أفرغنا 24 ل من الأول و 1ر32 هل من الثاني أصبحت
الكميتان المتبقيتان بهما متكافئتين .
أ - ما هي سعة كل برميل ؟

ب - ما هو الفرق بين سعري البرميلين من البنزين مع
العلم أنّ ثمن اللتر هو 0ر205 د ؟
ابحث عن هذا الفرق بأيسر طريقة .

339 - في معصرة للزيتون بالساحل كان إنتاج الزيت كما يلي :

1 طن من الزيتون يعطي 4ر182 كغ من الزيت
أ - ما هي باللتر كمية الزيت المستخرجة من 1 طن من
الزيتون إذا كان اللتر من الزيت يزن 912 غ ؟
ب - كم هكتولترا من الزيتون يجب عصرها للحصول على
1800 ل من الزيت مع العلم أنّ الهكتولتر من
الزيتون يزن 45 كغ ؟

340 - أراد تاجر إفراغ دئين من الزيت سعة كل منهما 156 ل في
ثلاثة أنواع من القوارير :

سعة القارورة من النوع الأول : 75 صل

» » » الثاني : 85 صل

» » » الثالث : 95 صل

يبقى بكل دة 30 دسل من الزيت غير الضالغ للبيع
ابحث عن عدد القوارير المملأ .

341 - وضع تاجر قطعة زبدة في كفة ميزان ووضع في الكفة الأخرى
العيارات التالية : 1 كغ و 3 هغ و 5 دكغ فاعتدل الميزان سلّمت
للتاجر ورقة نقدية ذات 5 د فما هو المبلغ الذي يرجعه إليّ إذا
علمت أنّه يبيع الزبدة بحساب 245 مي $\frac{1}{4}$ الكيلو غرام ؟

www.najahni.tn

342 - لمربي نحل 15 خلية تنتج كل واحدة منها 5ر14 كغ من
العسل يبيعه المربي ب 5ر1950 الكغ الواحد .
فما هو مقدار ربحه إذا علمت أنّ المصاريف تبلغ $\frac{1}{3}$ ثمن
البيع

343 - شري تاجر عسلا ب 5ر1850 د الكغ الواحد وكان موضوعا في سطل
بلغ وزنه الجملي 50ر17 كغ ووزنه فارغا 50ر14 غ . وضع
التاجر العسل في أوعية يحوى كل واحد منها 50ر75 غ وبيع
الوعاء الواحد ب 50ر1 د . فما هو مقدار ربحه أو خسارته ؟

344 - وضعت في كفة ميزان 5 قطع من الصابون لها نفس الوزن
و 4 علب مصبرات لها نفس الوزن أيضا فكان الوزن الجملي
للصابون والمصبرات 900ر3 كغ .
ثمّ قمت بوزن 4 قطع من الصابون و 5 علب مصبرات فوجدت
3750ر3 كغ فما هو وزن القطعة الواحدة من الصابون وما هو
وزن العلبة الواحدة من المصبرات ؟

345 - وضعت على إحدى كفتي ميزان 4 قطع كبيرة من الصابون كلها
متشابهة و 3 قطع أخرى صغيرة متشابهة كذلك وكان وزن
القطع السبع 50ر20 غ .

ثمّ أعدت العملية ثانية بوضع 3 قطع كبيرة و 4 قطع صغيرة
فأصبح الوزن 800ر1 غ .
ما هو وزن القطعة الكبيرة ، وما هو وزن القطعة الصغيرة ؟

346 - يزن وعاء مملوء زيتا 4ر24 كغ ، إذا ملئ زيتا الى $\frac{3}{4}$ سعته
يصبح وزنه 9ر19 كغ .

أ - ما هو وزن الوعاء فارغا ؟

ب - ما هي سعة الوعاء مع العلم أنّ اللتر من الزيت
يزن 9ر0 كغ ؟

347 - بلغ محصول فلاح 3487ر ط من البطاطا وضع كميّة منها في 32 كيسا وزن الواحد منها 50 كغ وكميّة ثانية في 27 كيسا وزن الواحد منها 45 كغ والباقي في صناديق يحتوي كل واحد منها على 24 كغ ، فما هو عدد الصناديق اللازمة لاستيعاب بقية كميّة البطاطا ؟

348 - لصائغ 9 أسورة متماثلة من بينها سوار أثقل من الأسورة الأخرى. كيف يمكن له أن يتعرف على أثقل سوار باستعمال الميزان وبدون الإلتجاء الى العيارات ؟
ملاحظة : ينبغي أن يتضمّن الحلّ مرحلتين فقط .

349 - يزن دن فارغ 22ر500 كغ ويوزن مملوء زيتا 195ر400 كغ يزن اللتر الواحد من الزيت 910 غ
يستطيع الفلاح بيع زيتته ب 460 مي الكغ الواحد ويستطيع أيضا بيع اللتر الواحد ب 0ر510 د
فما هو الحلّ الأنسب للفلاح وما هو مقدار الربح الذي سيوفّره له محصوله من الزيت ؟

350 - تريد أم شراء 15 كغ من اللوبيا كي تستهلكها في فصل الشتاء تستطيع أن تشتريها من التاجر ب 514 مي الكغ الواحد ويمكنها كذلك أن تتزوّد من فلاح يبيع الهكتولتر من اللوبيا ب 36ر300 د فأبي الحلّين أنسب لهذه الأمّ وكم ستربح من الحلّ الذي ستختاره مع العلم أنّ الهكتولتر من اللوبيا يزن 75 كغ ؟

351 - نقل فلاح 48 ق من البطاطا على متن شاحنة في ثلاث مرّات وكان وزن الشاحنة محمّلة في المرّة الأولى 2 925 كغ وفي المرّة الثانية 2 985 كغ وفي المرّة الثالثة 2 940 كغ .
ابحث عن وزن الشاحنة فارغة .

352 - ابحث عن وزن الملح الموجود في 100 م³ من ماء البحر مع العلم أنّ اللتر الواحد من هذا الماء يزن 1ر126 كغ وأنّ ماء البحر يحتوي على 2ر5 % من وزنه ملحا .

353 - تزن قارورة زجاجية مملوءة ماء 1ر710 كغ وتزن مملوءة كحولا للوقود 1ر5324 كغ .

أ - ابحث عن سعة القارورة باللتر مع العلم أنّ 1 دسم³ من الكحول يزن 0ر815 كغ وأنّ 1 دسم³ من الماء يزن 1 كغ
ب - ما هو وزن القارورة فارغة ؟
ج - كم تزن هذه القارورة مملوءة زيتا إذا علمت أنّ 1 ل من الزيت يزن 0ر92 كغ ؟

354 - يبلغ طول جسر 138 م وتبلغ حمولته القصوى 150 ط
أ - ابحث عن العدد الجمليّ للشاحنات التي يمكنها عبور الجسر في وقت واحد إذا كان طول كل شاحنة 6ر5 م وأنّ المسافة الفاصلة بين شاحنتين متتاليتين هي 5 م .
ب - هل يمكن لكل تلك الشاحنات أن تمرّ في نفس الوقت فوق هذا الجسر إذا كان وزن الشاحنة الواحدة 14ر5 ط ؟
علّل جوابك .

255 - صمّمت ضيعة شكلها مثلث طول قاعدته 15 صم وطول ارتفاعه الموافق لتلك القاعدة 8 صم حسب السّم $\frac{1}{2500}$ أنتجت تلك الضيعة 86ر25 ق من القرطمان ، فما هو منتوج الهكتار الواحد ؟

356 - يريد فلاح نقل عدد من أكياس السماد على شاحنة تزن فارغة 1980 كغ .

يزن كيس السماد $\frac{1}{2}$ ق تمرّ الشاحنة في طريقها بجسر لا يتحمّل ثقلا يفوق 5 ط .

فما هو العدد الأقصى من الأكياس التي يمكن أن تحملها الشاحنة حتّى تتمكّن من عبور الجسر بسلام ؟

357 - بلغ محصول فلاح من القمح 21 ط ، احتفظ ب 40 ق للبذر والاستهلاك وقرّر بيع الباقي .
يمكن للفلاح أن يبيع ذلك الباقي في شهر سبتمبر ب 9500ر د القنطار الواحد كما يمكنه أن يترقب حلول شهر أفريل ويبيع القمح ب 9800ر د القنطار الواحد غير أنه في هذه الحالة ينقص وزن القمح بنسبة 1 %
فما هو الحل الأنسب للفلاح وما هو ربحه ؟

358 - لمربي غنم 35 شاة أعطت كل واحدة منها 3250 كغ من الصوف الوسخ يمكن للمربي بيعه ب 940 مي الكغ الواحد . ولكنه اختار أن يبيعه نظيفا بحساب 2080ر د الكغ الواحد فكلّف عاملة بغسله ودفع لها 7200ر د . يفقد الصوف 40 % من وزنه أثناء الغسل فهل وفق المربي في اختياره عملية الغسل وما هو مقدار ربحه أو خسارته ؟

359 - نريد نقل 203 ق من العلف على متن وسائل النقل التالية
- شاحنة حمولتها 27 ق
- جرّار حمولته 1350ر ط
- عربة يجزها حيوان حمولتها 850 كغ
أ - ما هو عدد السفرات اللازمة لنقل العلف إذا استعملنا الوسائل الثلاث في آن واحد ؟

ب - ما هي الوسيلة التي يجب استعمالها لنقل العلف الباقي ؟
ج - ما هو وزنها الجمليّ أثناء قيامها بالسفرة الأخيرة وهي تحمل ما تبقى من العلف إذا علمت أنها تزن فارغة 650 كغ ؟

350 - نقل فلاح 8650ر ط من البطاطا الموضوعة في أكياس على متن شاحنة وقام بأربع سفرات . بلغ وزن الشاحنة محمّلة بطاطا في المزة الأخيرة 3750 كغ أما في كل سفرة من السفرات الثلاث الأولى فقد كان وزنها محمّلة حمولة قصوى 41 ق .

أ - ما هو وزن الشاحنة فارغة ؟

ب - ما هو وزن الكيس من البطاطا إذا علمت أنّ عدد الأكياس المشحونة في السفرة الأخيرة أصغر من عدد الأكياس المشحونة في كل سفرة من السفرات الثلاث السابقة ب 7 ؟
ج - ما هو عدد الأكياس المشحونة في كل سفرة من السفرات الثلاث الأولى ؟

361 - أشرقت الشمس يوم الإثنين 19 ماي في الساعة الخامسة و 7 دق وغربت في الساعة السابعة و 29 دق .
كم دام النهار وكم دام الليل ؟

362 - خرج قطار في الساعة السادسة و 20 دق صباحا ووصل الى المحطة المقصودة في الساعة العاشرة و 15 دق بعد أن توقّف 5 مرّات مدة 5 دق و 10 ث في كل مرّة .
فما هو الزمن الذي قضاه القطار في السير ؟

363 - يشرع عامل في عمله على الساعة السابعة و 15 دق صباحا وينتهي منه على الساعة السادسة مساء . يتوقّف العمل مرتين ، الأولى تستغرق 10 دق والثانية تقع بين 11 س و 55 دق و 13 س و 45 دق .
ما هي مدة العمل ؟

364 - يريد صالح أن يصل الى المدرسة في الساعة السابعة و 58 دق صباحا ، متى يجب عليه أن ينهض من نومه إذا علمت أنه يقضي 45 دق في غسل أطرافه وتناول فطوره وأنه يقطع المسافة بين داره والمدرسة في 24 دق .

365 - يبلغ تقدّم ساعة 1 دق و 42 ث كل 6 ساعات . وقع تعديلها يوم الجمعة في منتصف النهار ، فما هي الساعة التي تشير إليها يوم الإثنين الموالي في السادسة مساء ؟

366 - تؤخر ساعة يدوية دقيقتين كل 5 ساعات . أشارت يوم الاحد في الساعة الثانية و 5 دق بعد الزوال الى الواحدة و 35 دق بعد الزوال فمتى وقع تعديلها ؟

367 - يبلغ تقدم ساعة منبّهة 6 دق في اليوم الواحد

أ - كم تقدم في الساعة ؟

ب - وقع تعديلها يوم الاثنين في الساعة التاسعة صباحا فما هو الوقت الذي تشير إليه تلك الساعة يوم الأربعاء الموالي في الساعة الخامسة مساء .

368 - صفّر الحكم بداية مقابلة في كرة القدم على الساعة الرابعة إلا الربع مساء . تحتوي المقابلة على شوطين مدة كل منهما 45 دق تتخللها فترة استراحة مدتها 10 دق .

أ - في أي ساعة يصفّر الحكم لاستئناف الشوط الثاني ؟

ب - في أي ساعة يعلن الحكم عن انتهاء المقابلة ؟

ج - في صورة تعادل الفريقين يضيف الحكم فترتين إضافيتين مدة كل منهما 15 دق تتخللها استراحة مدتها 5 دق .

ففي أي ساعة يعلن الحكم عن انتهاء المقابلة مع العلم أنّ هناك فترة استراحة مدتها 5 دق بين انتهاء المقابلة بالتعادل واستئناف الفترة الاضافيّة الأولى ؟

369 - يبلغ قياس مساحة حقل 2 ها و 4 ا و 70 صا .

تعبّر الحقل طريق طولها 2ر5 هم وعرضها $\frac{2}{5}$ دكم

فما هو قياس المساحة المتبقية بالار ؟

370 - للطواف حول ضيعة مستطيلة الشكل عرضها $\frac{2}{3}$ طولها

قضيت 10 دق متنقلا بسرعة 4ر5 كم / س .

ابحث عن ثمن الضيعة مع العلم أنّ ثمن الهكتار هو 3 200 د .

371 - مزرعة مستطيلة الشكل عرضها ثلث طولها وطول محيطها يساوي 640 م . نريد زرعها قمحا ببذر 2 هل في الهكتار الواحد فما هو ثمن القمح اللازم مع العلم أنّ 1 هل من القمح يزن 75 كغ وأنّ ثمن القنطار من القمح هو 10ر500 د ؟

372 - زرعت أرض مستطيلة الشكل بعدها 175 م و 80 م لفتا سكرتيا فأنتج الهكتار الواحد منها 28 000 كغ .

ما هو وزن السكر المتحصل عليه إذا علمت أنّ اللفت يعطي $\frac{1}{10}$ وزنه سكرًا ؟

373 - لفلّاح قطعة أرض على شكل متوازي أضلاع طول احدى قاعدتيه 450 م زرعها لفتا سكرتيا فتحصل على 459 ق من السكر الصافي . ينتج الهكتار الواحد 25 ط من اللفت السكرّي الذي يعطي بدوره 12 % من وزنه سكرًا صافيا . فما هو طول ارتفاع قطعة الأرض ؟

374 - ملعب رياضي له شكل مستطيل بعدها 140م و 90 م تحيط به من الداخل طريق عرضها 4 م .

أ - ارسم تصميمًا للملعب والطريق معا حسب النّم $\frac{1}{1000}$

ب - ما هو قياس المساحة المتبقية ؟

ج - وقع فرش الطريق رملا فبلغ سمك طبقة الرمل 5 سم فما هو قياس حجم الرمل المفروش ؟

375 - يبلغ عرض حقل مستطيل الشكل 85 م . قسّم هذا الحقل الى قطعتين تفصلهما 4 صفوف من السلك الشائك موازية للعرض . يبلغ قياس مساحة القطعة الأولى $\frac{3}{5}$ قياس

378 - تقوم عجلة دراجة نارية ب 480 دورة في الدقيقة ويبلغ شعاعها 25 سم . فما هو معدل سرعة الدراجة بحساب الكم / س ؟

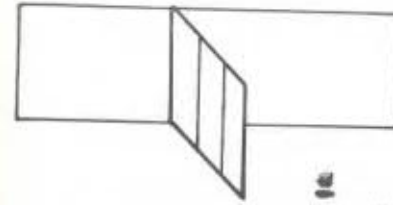
379 - انطلقت سيارة من مدينة سوسة متجهة نحو تونس العاصمة بسرعة 110 كم / س وعند اقترابها من تونس نزلت بعض الأمطار فاضطر السائق الى أن يخفّض سرعة السيارة بمقدار 25 % .
فما هو معدل سرعته أثناء نزول المطر ؟

380 - انطلقت سيارة على الساعة الثامنة و 40 دق صباحا قاصدة مكانا يبعد ب 245 كم ووصلت الى المكان المقصود على الساعة الواحدة بعد الزوال بعد توقف دام 50 دق .
أ - ما هو معدل سرعة السيارة ؟
ب - على الساعة السادسة مساء انطلقت السيارة متجهة الى مكان الانطلاق بسرعة 70 كم / س وبدون توقف .
ما هي ساعة وصولها ؟

381 - على خريطة أعدت حسب النّسب $\frac{1}{200\ 000}$ قاس علي المسافة

الفاصلة بين قريته والمدينة المجاورة فوجد 16ر5 صم .
امتطى علي دراجته في الساعة الثامنة و 35 دق صباحا واتجه نحو المدينة التي حلّ بها في منتصف النهار بعد أن توقف مدة 40 دق للاستراحة .
فما هو معدل سرعته ؟

مساحة كامل الحقل وقدر ثمنها ب 220ر320 د بحساب 240 د الهكتار الواحد ، ابحث عن :



أ - قيس مساحة القطعة الأولى .

ب - قيس مساحة كامل الحقل

ج - طول محيط الحقل

د - قيس مساحة القطعة الثانية .

هـ - ثمن كلفة السياج إذا علمت أن ثمن كلفة المتر الواحد منه يبلغ 195 مي .

376 - لي قطعة أرض على شكل شبه منحرف طول قاعدته الكبيرة 260 م وطول قاعدته الصغيرة $\frac{3}{4}$ طول قاعدته الكبيرة

وطول ارتفاعه $\frac{4}{5}$ طول قاعدته الصغيرة .

أنتج الهكتار الواحد 18 ط من العلف الأخضر الذي يفقد $\frac{4}{7}$ وزنه بعدما يجف .

يباع العلف الجاف ب 3ر500 د القنطار الواحد . فما هو ثمن محصول قطعة الأرض من العلف الجاف ؟

377 - أراد فلاح تسميد مزرعة على شكل شبه منحرف طول قاعدته الكبيرة 320 م وطول قاعدته الصغيرة 270 م وطول ارتفاعه 310 م .

فرش الفلاح $\frac{1}{5}$ ط من السماد في الهكتار الواحد .

يباع السماد في أكياس وزن الواحد منها 50 كغ .
فما هو عدد أكياس السماد التي يجب أن يشتريها الفلاح لتسميد كامل مزرعته ؟ وما هي كمية السماد المتبقية ؟

382 X - في طريق رئيسية كانت المسافة الفاصلة بين حارسي مرور 450 م مرت سيارة أمام الحارس الأول في الساعة التاسعة و 59 دق و 53 ث صباحا ثم مرت أمام الحارس الثاني في الساعة العاشرة و 1 دق و 5 ث صباحا .
أ - ما هو الزمن الذي استغرقته السيارة لقطع تلك المسافة ؟

ب - احسب معدل سرعتها بالمتري في الثانية
ج - إذا كانت السرعة محددة في تلك المنطقة بحيث لا يجب أن تفوق 30 كم / س
فهل راعى صاحب السيارة هذا التحديد ؟ علل جوابك .

383 X - قام تلاميذ السنة السادسة برحلة على متن حافلة فقطعوا مسافة طولها 45 دسم على خريطة صممت حسب السلم $\frac{1}{80000}$
أ - ما هو طول تلك المسافة بالكم ؟

ب - خرجت الحافلة في الساعة السابعة و 15 دق صباحا ورجعت الى مكان الانطلاق في الساعة السادسة مساء بعد أن توقفت مدة $\frac{3}{4}$ س أصلح فيها السائق عطبا و 10 دق زار أثناءها التلاميذ متحفا و $\frac{1}{2}$ س شاهدوا فيها معالم أثرية و 1 س و 40 دق تناولوا اثناءهم غداءهم .

فما هو معدل سرعة الحافلة ؟

384 X - خرج دراج من مدينة أ في الساعة العاشرة والنصف صباحا وحل بمدينة ب في منتصف النهار و 10 دق قاطعا مسافة طولها 34 كم ومتوقفا $\frac{1}{4}$ ساعة أثناء السير .

أ - ما هو معدل سرعة الدراج أثناء التنقل من أ الى ب ؟
ب - مكث الدراج 3 س و 45 دق بالمدينة ب ثم غادرها راجعا الى المدينة أ بسرعة تساوي $\frac{3}{4}$ سرعته في

الذهاب

فما هي ساعة وصوله الى أ ؟

385 - تقدر المسافة الفاصلة بين تونس وباريس على خريطة صممت حسب السلم $\frac{1}{3\ 500\ 000}$ ب 50 صم .

أ - ابحث عن المسافة الحقيقية الفاصلة بين تونس وباريس
ب - انطلقت طائرة من مطار تونس قرطاج على الساعة العاشرة و 55 دق صباحا ووصلت الى باريس على الساعة الواحدة بعد الزوال .
ابحث عن معدل سرعة الطائرة .

ج - تستهلك تلك الطائرة 21 كغ من الوقود في الدقيقة ابحث باللتر عن كمية الوقود المستهلكة خلال الرحلة مع العلم أن اللتر من ذلك الوقود يزن 700 غ .

386 - في الساعة الحادية عشرة و 45 دق صباحا انطلقت سيارة من مدينة أ قاصدة مدينة ب بسرعة لم يتغير معدلها طيلة السفرة وفي الساعة الواحدة و 9 دق بعد الزوال قطعت السيارة $\frac{3}{5}$ المسافة الفاصلة بين المدينتين أ و ب وفي الساعة الواحدة و 40 دق بعد منتصف النهار لم يبق لها إلا 37500 كم للوصول الى المدينة ب .

أ - ما هو الزمن الذي استغرقته هذه السفرة ؟
ب - ما هو معدل سرعة السيارة ؟
ج - ما هي المسافة الفاصلة بين المدينتين ؟

387 - خرجت سيارة من مدينة قرنبالية قاصدة سوسة على الساعة السابعة و 35 دق صباحا بسرعة 85 كم / س وصلت تلك السيارة الى سوسة على الساعة الثامنة و 47 دق صباحا .
فما هي المسافة قرنبالية - سوسة ؟

388 - يقطع موزع بريدي يوميًا المسافات التالية :

3ر9 كم و 2ر5 كم و 700 م و 280 دكم و 3 كم و 32 هم

ما هو طول المسافة التي يقطعها من يوم الجمعة 2 ماي الى يوم الجمعة 30 ماي بدخول الغاية مع العلم أنه لا يعمل أيام الأحد ؟

389 - أقلعت طائرة من مطار تونس قرطاج في الساعة الثامنة و 50 دق

صباحا ونزلت بمطار باريس في الساعة العاشرة والنصف صباحا وطارت بسرعة 900 كم / س

يبلغ طول المسافة تونس - باريس على خريطة 2 دسم فما هو سلم هذه الخريطة ؟

390 - انطلق قطار من محطة أ يوم الأربعاء على الساعة السابعة

و 20 دق صباحا قاصدا المحطة ب التي حل بها بعد يوم و 3 س و 50 دق .

أ - ما هو يوم الوصول وساعته ؟

ب - ما هو الزمن الذي قضاه القطار في السير مع العلم أنه توقف 8 مرات ودامت مدة الوقوف 12 دق في كل مرة ؟

ج - ما هي المسافة الفاصلة بين المحطتين أ و ب إذا كان معدل سرعة القطار 60 كم / س ؟

391 - قام سائق سيارة بسفرة دامت 5 س و 25 دق وقد قطع في

الساعة الأولى 90 كم وفي الساعة الثانية $\frac{5}{6}$ المسافة

المقطوعة خلال الساعة الأولى وفي الساعة الثالثة $\frac{2}{3}$ المسافة

المقطوعة خلال الساعتين الأولى والثانية . هذا وقد طوت السيارة في الساعة الرابعة $\frac{4}{5}$ المسافة التي طوتها خلال

الساعة الثالثة .

ارتاح السائق مدة $\frac{3}{4}$ الساعة ثم واصل سيره بسرعة

96 كم / س

فما هي المسافة التي قطعها هذا السائق ؟

392 -

انطلقت سيارة من سوسة على الساعة الحادية عشرة و 37 دق صباحا وكان عدادها الكيلومترية يشير الى 76 405 أما عداد البنزين فكان يشير الى 30 ل .

عند الوصول الى باردو أصبح العداد الكيلومترية يشير الى 76 555 وعداد البنزين يشير الى 15 ل ، أما الساعة فكانت تشير الى الواحدة و 37 دق بعد الزوال .

أ - ابحث عن المسافة الفاصلة بين سوسة وباردو ؟

ب - كم لترا من البنزين تستهلك السيارة في 100 كم ؟

ج - ما هو معدل سرعة السيارة ؟

393 -

أراد سائق سيارة التعرف على استهلاك سيارته من الوقود في 100 كم فعلا خزّان السيارة بنزيننا وسجل العدد الذي يشير إليه العداد الكيلومترية والذي هو 56712 وعند وصوله الى القيروان اتجه الى محطة بيع البنزين حيث صبّ 28 ل من البنزين في خزّان السيارة الذي امتلأ من جديد ولاحظ أنّ العداد الكيلومترية يشير الى 56992 .

أ - كم لترا من البنزين استهلكت السيارة في 100 كم ؟

ب - كم دفع صاحب السيارة مقابل البنزين اللازم لقطع 1450 كم مع العلم أنّ ثمن اللتر من البنزين هو 220 مي ؟

394 -

خرجنا في نزهة من سوسة الى حمام الأنف في التاسعة صباحا وكانت سرعة السيارة 60 كم / س ، وبعد مسافة 24 كم تقفّن أبي الى أنه قد نسي عجلة النجدة فرجعنا الى سوسة بسرعة 90 كم / س وبدون أن نضيع وقتا أخذنا العجلة ورجعنا في طريقنا الى حمام الأنف بسرعة 90 كم / س وتمكّننا هكذا من الوصول الى حمام الأنف في الوقت المحدد أي في الحادية عشرة صباحا .

أ - ما هي المدة التي أضعناها من جزاء نسيان عجلة النجدة ؟

ب - ما هي المسافة التي كان بإمكانها تصعباً في ثلاث السّعة
بسرعة 90 كم / س ؟
ج - ما هي المسافة الفاصلة بين سوسة وحمّام الأنف ؟

395 - خرجت شاحنة نقل من مدينة أ غار الساعة الثامنة و 45 د ق

متجهة نحو مدينة ب وكانت سرعتها كالتالي :

24 كم / س في الأرض المرتفعة

30 كم / س في الأرض المنبسطة

36 كم / س في الأرض المنخفضة

وصلت الشاحنة الى المدينة ب على الساعة الحادية عشرة و 5 د ق
بعدما توقف النائق مدة 20 د ق لإصلاح عطب طارئ .

أ - ما هي المسافة الفاصلة بين المدينتين أ و ب إذا علمت أن
الشاحنة قضّت نصف زمن سيرها في الأرض المنبسطة وأن
الزمن الذي قضّته في الأرض المنخفضة هو $\frac{1}{3}$ الزمن
الذي قضّته في الأرض المرتفعة ؟

ب - ابحث عن وقت خروج الشاحنة من الغد من المدينة ب إذا
علمت أنها وصلت الى المدينة أ عند منتصف النهار
و 13 د ق بنفس السرعة وبدون توقف .

396 - غادرت طائرة مطار تونس قرطاج على الساعة التاسعة

و 40 د ق صباحاً قاصدة مدينة جربة حيث وصلت على الساعة
العاشرة و 10 د ق صباحاً كذلك ثم عادت الى تونس بعدما
مكثت بمطار جربة « مليته » ساعتين ونصف وكانت تطير
بسرعة 600 كم / س في الذهاب والإياب .

أ - ما هي المسافة الجوّية الفاصلة بين تونس وجربة ؟

ب - في أي وقت تصل الطائرة الى مطار تونس بعد مغادرتها
مطار جربة ؟

ج - ما هو وزن البنزين الموجود بخزانات الطائرة قبل إقلاعها
من مطار تونس إذا علمت أنها مجهزة بأربع خزانات : إثنان
منها يسع كلّ منهما 8000 ل ويسع كلّ من الخزانين
الأخرين 1250 ل وأنّ اللتر من البنزين يزن 800 غ وأنّ كلّ
الخزانات مملّأ ؟

د - إذا كانت الطائرة تستهلك 2700 كغ من البنزين في
الساعة ، فما هي كميّة البنزين المتبقّية عند انتهاء السّفرة ؟
عبر عن تلك الكميّة بالـكغ .

397 - انطلقت حافلة نقل من سوسة وكانت سرعتها 60 كم / س وذلك في
الساعة الثامنة و 20 د ق . كانت الحافلة قاصدة تونس وقد
توقفت 7 مرّات مدة كلّ منها 7 د ق .
ما هي ساعة وصول الحافلة إذا كانت المسافة الفاصلة بين
سوسة وتونس هي 140 كم ؟

398 - يريد وديع أن يحضر ندوة بالمدينة المجاورة التي تبعد
عن مقر سكناه ب 72 كم وذلك على الساعة الثامنة صباحاً .
فمتى ينبغي عليه أن يغادر منزله إذا علمت أن معدل
سرعة سيارته هو 80 كم / س ؟

399 - قطعت سيارة 450 كم بسرعة 90 كم / س واستهلكت لذلك
36 ل من البنزين .
أ - ما هي مدة السّفرة ؟
ب - كم لترا من البنزين تستهلك السيارة في 100 كم ؟

400 - يذهب عامل الى المصنع على دراجة بسرعة 18 كم / س
ويستعمل عامل ثان دراجة نارية للذهاب الى نفس المصنع
بسرعة 45 كم / س .

يسكن العاملان نفس العمارة ويخرج العامل الأوّل في الساعة

السّاعة و 40 دق صباحا ويصل الى المصنع في السّاعة السّابعة والنّصف وهي ساعة بدء العمل ، فما هي ساعة انطلاق العامل الثّاني إذا أراد الوصول الى المصنع ساعة الشّروع في العمل ؟

401 - تفصل مسافة طولها 432 كم بين مدينتين تونسيّتين أمّا طول هذه المسافة على خريطة البلاد التّونسيّة فهو 86ر4 صم .

أ - ما هو سلّم هذه الخريطة ؟

ب - ما هي المدة التي تقضيها سيارة تتنقل بسرعة 80 كم / س لقطع هذه المسافة ؟

402 - يريد دزاج قطع مسافة طولها 9ر2 صم على خريطة صنّمت حسب السّلّم $\frac{1}{500\ 000}$ بسرعة 24 كم / س

أ - احسب الزمن الذي يقضيه الدزاج لقطع تلك المسافة

ب - إذا قرّر الدزاج الوصول في السّاعة العاشرة صباحا فمتى يجب عليه أن ينطلق ؟

403 - انطلق دزاجان من العلامة الكيلو متريّة رقم 98 على السّاعة الحاديّة عشرة و 15 دق بالطريق الرّئيسيّة الرابطة بين سوسة وتونس وكانت سرعة الأوّل 15 كم / س وسرعة الثّاني 20 كم / س .

أ - في أي ساعة يمرّ كلّ منهما أمام العلامة الكيلو متريّة الموالية رقم 97 ؟

ب - توقّف الثّاني في منتصف النّهار لانتظار صاحبه ، فما هي المسافة التي تفصلهما عن بعضهما في منتصف النّهار؟

ج - ما هو الوقت الذي قضاه الثّاني في انتظار صاحبه ؟

404 - إنّ المسافة الفاصلة بين مدينتين أو ب على الخريطة تبلغ 55 صم .

أ - فما هو الطّول الحقيقيّ لهذه المسافة إذا كان سلّم الخريطة $\frac{1}{200\ 000}$ ؟

ب - خرجت إيناس من المدينة أ راكبة دراجة ناريّة معدّل سرعتها 30 كم / س وعند وصولها الى ب قضت بها 3 ساعات ثمّ ركبت قطارا غادر المدينة ب على السّاعة الخامسة و 45 دق بعد الزّوال عائدة الى المدينة أ ؟ فما هو الوقت الذي خرجت فيه إيناس من المدينة أ ؟

ج - في أي وقت تصل إيناس الى محطة القطار بالمدينة أ إذا كانت سرعة القطار 80 كم / س ؟

405 - قطع دزاج مسافة طولها 1ر08 دسم على خريطة صنّمت حسب السّلّم $\frac{1}{500\ 000}$

أ - ما هو طول تلك المسافة بالكم ؟

ب - قطع الدزاج $\frac{2}{5}$ المسافة على أرض منبسطة بسرعة

24 كم / س و $\frac{3}{4}$ بقيّة الطّريق على مسلك فلاحيّ

بسرعة 18 كم / س .

أمّا بقيّة المسافة فهي منحدر قطعته الدزاج بسرعة 32ر4 كم / س استراح الدزاج مدة $\frac{1}{4}$ س ووصل الى

المكان المقصود في السّاعة الواحدة بعد الزّوال . فما هي ساعة خروجه ؟

406 - انطلق محمد وفاخر في اتجاهين متعاكسين لقيس طول ملعب رياضي مستعملين لذلك الخطوات .

خرج محمد من نقطة أ من محيط الملعب بخطوات قيس الواحدة 80م أما فاخر فقد خرج من نقطة ب من محيط الملعب كذلك بخطوات قيس الواحدة 75م وكان عدد خطواته يفوق عدد خطوات محمد ب 15 .

أ - ما هو طول الملعب ؟

ب - كم يستغرق كل من محمد وفاخر من الزمن لقيس طول الملعب إذا علمت أن كلا منهما يخطو 50 خطوة في الدقيقة ؟

407 - في الساعة العاشرة و 55 دق صباحا انطلقت سيارة من بنزرت وأخرى من صفاقس متجهتين نحو بعضهما .
سرعة الأولى المنطلقة من بنزرت 80 كم / س وسرعة الثانية 72 كم / س .

تلاقت السيارتان على الساعة الواحدة و 10 دق مساء فما هي المسافة الفاصلة بين بنزرت وصفاقس .

408 - تفصل بين سيارة ودراجة نارية مسافة طولها 130 كم . إذا اتجهتا نحو بعضهما تلاقتا بعد ساعة وإذا انطلقت السيارة خلف الدراجة التحقت بها بعد 4 ساعات و 20 دق . فما هي سرعة كل من السيارة والدراجة النارية ؟

409 - تبلغ المسافة بين بوفيشة وصفاقس 202ر5 كم .

في الساعة السابعة و 45 دق صباحا خرجت شاحنة من بوفيشة قاصدة صفاقس بسرعة 65 كم / س وفي الساعة التاسعة و 15 دق صباحا انطلقت سيارة من صفاقس متجهة نحو بوفيشة بسرعة 85 كم / س

أ - في أي ساعة تلتقي الشاحنة بالسيارة ؟

ب - ما هو بعد مكان التلاقي عن كل من المدينتين ؟

410 - تلاقت سيارتان متجهتان نحو بعضهما بعد مضي ساعة و 15 دق من انطلاقهما وكانت إحداها قد قطعت مسافة طولها 125 كم . أما الثانية فكانت تسير بمعدل 70 كم / س .

أ - ما هو معدل سرعة السيارة الأولى ؟

ب - ما هي المسافة التي قطعتها السيارة الثانية ؟

ج - ما هي المسافة الفاصلة بين نقطتي الانطلاق ؟

411 - في الساعة الخامسة و 20 دق صباحا انطلق قطار من محطة أ متجها نحو محطة ب بسرعة 90 كم / س . وفي الساعة السادسة و 45 دق صباحا غادر قطار ثان المحطة ب قاصدا المحطة أ بسرعة 70 كم / س

أ - ما هي المسافة التي قطعها القطار الأول الى حد مكان التلاقي ؟

ب - ما هي ساعة تلاقي القطارين ؟

ج - ما هي ساعة وصول القطار الثاني الى أ ؟ (طول [أب] = 5ر425 كم)

412 - خرج قطار من مدينة أ على الساعة السادسة و 20 دق صباحا متجها نحو مدينة ب التي تبعد عن الأولى ب 225 كم وكان معدل سرعته 60 كم / س . وفي نفس الوقت خرج قطار آخر من المدينة ب في اتجاه المدينة أ بمعدل سرعة يبلغ 90 كم / س .

أ - في أي ساعة يقع تلاقي القطارين ؟

ب - ما هي المسافة التي قطعها كل من القطارين عند التلاقي ؟

ج - كم يبعد مكان التلاقي عن كل من المدينتين ؟

413 - انطلقت سيارتان متجهتان نحو بعضهما في الساعة الرابعة و 20 دق بعد الزوال .

تفصل بين السيارتين مسافة طولها 5ر412 كم .
تلاقت السيارتان في الساعة السابعة و 5 د ق بعد الزوال
وكانت إحدهما تسير بسرعة 70 كم / س .
أ - ما هي المسافة التي قطعتها كل من السيارتين ؟
ب - ما هي سرعة السيارة الثانية ؟

414 - انطلقت سيارة من مدينة أ في الساعة الثامنة و 45 د ق صباحا
قاصدة مدينة ب وفي نفس الوقت انطلقت حافلة من ب نحو أ .
سرعة السيارة 80 كم / س وسرعة الحافلة 75 كم / س ،
طول [أ ب] = 310 كم . تتلاقى الحافلة والسيارة في مدينة
ج بين أ و ب
أ - ما هو طول كل من المسافتين [أ ج] و [ب ج] ؟
ب - في أي ساعة يقع التلاقي ؟
ج - ما هي ساعة وصول السيارة الى المدينة ب ؟

415 - مرّت سيارة بمدينة النفيضة على الساعة التاسعة صباحا قادمة
من بلدة الساحلين وكان معدل سرعتها 60 كم / س
أ - ما هي ساعة خروج هذه السيارة من الساحلين مع العلم
أن المسافة الفاصلة بين البلديتين هي 50 كم ؟
ب - عند خروج السيارة من الساحلين كان خزان البنزين
بها يحتوي على 22 ل ، فما هي كمية البنزين المتبقية
عند وصولها الى النفيضة مع العلم أنها تستهلك 8 ل في
100 كم ؟

ج - التقت هذه السيارة بسيارة ثانية قادمة من النفيضة
ومتجهة نحو الساحلين على الساعة الثامنة و 24 د ق
صباحا .

د - فما هي المسافة الفاصلة بين مكان التلاقي والنفيضة ؟
هـ - ما هو معدل سرعة السيارة الثانية إذا علمت أنها
التقت بالأولى 30 د ق بعد مغادرتها للنفيضة ؟
هـ - ما هي ساعة مغادرة السيارة الثانية لمدينة النفيضة ؟

416 - انطلق سائق دراجة في رحلة منذ ساعة ونصف وكانت سرعته
30 كم / س
أ - ما هي المدة التي تقضيها سيارة سرعتها 80 كم / س
لتلحق به ؟
ب - ما هي المسافة التي قطعها السيارة عند التحاقها
بالدراج ؟

417 - قطع راجل ودراج مسافة طولها 14 كم ، سار الراجل بسرعة
5 كم / س وجرى الدراج بسرعة 24 كم / س .
انطلق الراجل على الساعة السابعة و 45 د ق صباحا ، فما هي
ساعة انطلاق الدراج إذا علمت أنه يريد الوصول في نفس
الوقت هو والراجل الى المكان المقصود ؟

418 - في الساعة السادسة و 35 د ق صباحا انطلق دراج من مدينة
نابل بسرعة 18 كم / س قاصدا تونس وفي الساعة العاشرة
و 15 د ق صباحا انطلقت من نابل كذلك سيارة خلف الدراج
بسرعة 90 كم / س ، فعلى أي بعد من نابل تدرك السيارة
الدراج ؟

419 - انطلقت دراجة نارية وحافلة نقل وسيارة أجرة من نفس المكان
وفي نفس الاتجاه .

ساعة الانطلاق	السرعة بالكم / س
الدراجة	8 س و 50 د ق صباحا
الحافلة	11 س و 5 د ق صباحا
سيارة الأجرة	11 س و 50 د ق صباحا

أ - ما هي ساعة التحاق الحافلة بالدراجة النارية وعلى أي
بعد من مكان الانطلاق ؟

ب - ما هي ساعة التحاق السيارة بالذّراجة النارية وعلى أي بعد من مكان الانطلاق؟
ج - متى تلتحق السيارة بالحافلة وعلى أي بعد من مكان الانطلاق؟

420 - ينطلق دزاج من محطة أ في الساعة السابعة و 30 دق بسرعة 40 كم / س متجها نحو محطة ب وبعد ساعتين و 30 دق انطلقت سيارة من أ متجهة هي الأخرى نحو ب بسرعة 80 كم / س ، طول [أ ب] = 220 كم .
أ - ما هي المسافة التي يجب على السيارة قطعها للالتحاق بالذّراج ؟

ب - ما هي ساعة الالتحاق؟
ج - متى تصل السيارة الى ب مع العلم أنّ سرعتها تنخفض ب 20 كم / س بعد الالتحاق؟

421 - انطلقت دزاجة نارية من محطة أ بسرعة 60 كم / س في الساعة الثامنة و 15 دق متجهة نحو محطة ب تبعد عن ب 260 كم .

كما انطلقت سيارة من المحطة أ بسرعة 80 كم / س في الساعة التاسعة و 10 دق متجهة كذلك نحو المحطة ب .
أ - ما هي المسافة التي يجب أن تقطعها السيارة للالتحاق بالذّراجة؟

ب - في أي ساعة تلتحق السيارة بالذّراجة؟
ج - متى تصل الذّراجة الى ب؟

422 - خرج دزاج من مدينة سوسة على الساعة السابعة و 15 دق صباحا متجها نحو مدينة القيروان التي تبعد عن سوسة ب 70 كم وكان معدّل سرعتة 18 كم / س ، وبعد 35 دق من خروجه غادرت سيارة مدينة سوسة متجهة هي الأخرى نحو القيروان بسرعة 60 كم / س .

أ - ما هي ساعة التحاق السيارة بالذّراج ؟

ب - ما هو بعد مكان الالتحاق عن القيروان؟

ج - ما هو طول المسافة الفاصلة بين الذّراج والسيارة عند الساعة الثامنة و 20 دق صباحا؟

423 - خرجت عائلة في سيارة أجرة من مدينة بوفيشة على الساعة الخامسة و 45 دق صباحا قاصدة سوسة للالتحاق بالقطار الذي يغادر هذه المدينة على الساعة السادسة و 50 دق متجها نحو صفاقس . كانت السيارة تجري بسرعة 80 كم / س وبعد $\frac{1}{4}$ ساعة من السير حصل لها عطب تطلب إصلاحه 16 دق .

أ - ما هو بعد مكان العطب عن مدينة سوسة إذا علمت أنّ المسافة الفاصلة بين سوسة وبوفيشة تقدر ب 60 كم؟
ب - يريد صاحب السيارة أن يصل الى محطة سوسة 10 دق قبل انطلاق القطار فما هو معدّل السرعة التي يجب عليه أن يسير بها للوصول في الوقت المحدد؟

424 - في الساعة الثالثة مساء ومن مركز حرس المرور انطلق عون على متن دزاجة نارية سريعة بسرعة 105 كم / س مطاردا سائق سيارة سبقه ب 3 كم وكان يسير بسرعة 85 كم / س .
أ - ما هي ساعة التحاق العون بالسائق؟

ب - ما هي المسافة التي قطعها العون عند التحاقه بالسائق؟
ج - حرّر العون مخالفة ضد السائق ثم خلى سبيله فأستأنف السائق سيره بعد ما توقف 10 دق من أجل تحرير المخالفة وفي تلك الساعة انطلقت سيارة ثانية من مكان يبعد عن المكان الذي حرّرت فيه المخالفة ب 30 كم وكانت تتجه نحو السيارة الأولى بسرعة 50 كم / س فالتقت بها على الساعة الثالثة و 34 دق مساء .

فما هي السرعة الجديدة للسيارة الأولى؟

د - ارسم على خطّ مستقيم وحسب السّلم $\frac{1}{250\,000}$ مكان مركز حرس المرور والمكان الذي حرّرت فيه المخالفة والمكان الذي انطلقت منه السيارة الثانية ومكان تلاقي السيارتين .

425 - قم بعمليات التحويل التالية :

$$1 \text{ دكل} = \dots \text{ دسم}^3$$

$$1 \text{ ل} = \dots \text{ مم}^3$$

$$1 \text{ صل} = \dots \text{ صم}^3$$

$$1 \text{ دسل} = \dots \text{ دسم}^3$$

$$1 \text{ دكل} = 1 \text{ م}^3 \times \dots$$

$$1 \text{ هل} = 1 \text{ م}^3 \times \dots$$

$$1 \text{ صل} = 1 \text{ دسم}^3 \times \dots$$

$$35 \text{ دسم}^3 = \dots \text{ ل} = \dots \text{ هل} = \dots \text{ دسل}$$

$$5 \text{ هل} = \dots \text{ دسم}^3 = \dots \text{ م}^3$$

426 - يحوي جسم الإنسان 6 ل من الدم ويحوي كل صم³ من الدم 5 ملايين من الكريات الحمر والبيض ، فما هو عدد الكريات في عشر اللتر الواحد من الدم ؟

427 - يتنفس شخص 16 مرة في الدقيقة وفي كل شهيق يدخل رئتيه 450 صم³ من الهواء .
فما هو قياس حجم الهواء الذي يستنشقه هذا الشخص في شهر مارس بحساب الصنمتر المكعب ؟ ثم بحساب المتر المكعب ؟

428 - تزن قارورة غاز ملأى 23ر720 كغ وتزن فارغة 10ر720 كغ ويزن المتر المكعب من هذا الغاز 2ر600 كغ .

- ما هو قياس حجم الغاز الموجود بالقارورة ؟
ب - ما هي مدة استعمال ذلك الغاز إذا علمت أن معدل الاستهلاك في الساعة هو 50 ل ؟

429 - صنع حداد خزاناً حديدياً بدون غطاء شكله مكعب طول حرفه 80 صم .

أ - ما هو قياس حجم الخزان بالمتر المكعب ؟

ب - ما هو وزنه فارغاً إذا كان المتر المربع من الحديد يزن 23 كغ ؟

ج - صب الحداد في الخزان 96 ل من الماء ، ابحث عن ارتفاع الماء بالخزان .

430 - بحديقة مستطيلة الشكل بعدها 64 م و 38 م نرسم ممرين أحدهما مواز للطول والآخر للعرض ثم نغطي الممرين برمل سمكه 5 صم .

ما هو ثمن الرمل إذا علمت أن ثمن المتر المكعب منه يبلغ 1ر250 د وأن عرض كل من الممرين 20ر1 م ؟

431 - يحتوي صهريج على شكل متوازي مستطيلات على $\frac{3}{5}$

حجمه ماء ، أفرغنا منه 1ر838 م³ من الماء

الأبعاد الداخلية للصهريج هي الآتية :

الطول : 25ر3 م

العرض : 10ر2 م

الارتفاع : 40ر1 م

ما هو عدد الأيام اللازمة لإفراغ كمية الماء الباقية إذا أفرغنا 20ر5 ل في كل يوم ؟

432 - خزان على شكل متوازي مستطيلات طوله 5 م وعرضه 3ر5 م وارتفاعه 3ر2 م أفرغ فيه 2400 دكل و 10500 ل و 145 هل من الزيت .

أ - ما هو ارتفاع الزيت في الخزان ؟

ب - ما هي كمية الزيت التي يجب صبها في الخزان ليتملى تماماً ؟

433 - يبلغ طول صندوق شاحنة نقل 3ر75 م وعرضه 2 م
أ - ما هو قياس حجم الرمل الممكن حمله بالشاحنة مع العلم أن أقصى حمولتها 500ر4 ط وأن 1 دسم³ من الرمل يزن 20ر1 كغ؟

ب - ما هو ارتفاع الرمل في صندوق الشاحنة؟

434 - مخزن حبوب له شكل متوازي مستطيلات أبعاده هي التالية :

الطول : 5 م

العرض : 4 م

الارتفاع : 6 م

ملئ هذا المخزن قمحا الى حد $\frac{4}{5}$ ارتفاعه ثم أفرغ منه 6000 ل و 250 هل و 1500 دكل .

أ - ابحث عن ارتفاع القمح الباقي بالمخزن

ب - ما هو ثمن القمح الباقي بالمخزن مع العلم أن سعر القنطار الواحد منه يقدر بـ 500ر9 دوان 1 هل من هذا القمح يزن 75 كغ؟

435 - نريد أن نصنع قناة اسطوانية الشكل من مادة الرصاص قطرها الخارجي 13 سم وسمكها 4 مم

(1) احسب قياس حجم الرصاص اللازم لصنع قناة طولها متر

(2) احسب وزن الرصاص اللازم لصنع 12 م من هذا النوع من القناة إذا علمت أن 1 دسم³ من الرصاص يزن 34ر11 كغ .

436 - نملاً حوضاً على شكل متوازي مستطيلات بعدا قاعدته من الداخل 20 م و 12 م بواسطة مضخة تزوده بـ 6 ل من الماء في الثانية .

أ - ما هو ارتفاع الماء بالحوض بعد مضي ساعة؟

ب - نريد أن يكون ارتفاع الماء في الحوض 35ر1 م . فما هي كمية الماء التي تزداد في الحوض بدون اعتبار الكمية الأولى

ج - إذا بدأ الضخ على الساعة الخامسة و 42 دق صباحاً فما هو الوقت الذي تشير إليه الساعة عند بلوغ ذلك الارتفاع؟

437 - وعاء من الحجارة المنحوتة أبعاده الخارجية هي التالية :

الطول : 6ر1 م . العرض : 80 سم . الارتفاع : 60 سم . السمك : 10 سم .

أ - ابحث عن الأبعاد الداخلية لهذا الوعاء .

ب - ما هي سعة الوعاء باللتر؟

ج - نملاً الوعاء التي $\frac{3}{5}$ قياس حجمه ماء فيصبح وزنه

9ر1208 كغ . فما هو ارتفاع الماء فيه وما هو وزنه

فارغاً مع العلم أن اللتر من الماء يزن 1 كغ؟

438 - مسطرة معدنية طولها 5ر0 م وقاعدتها مربعة الشكل طول ضلعها 1 سم .

أ - ما هو قياس حجمها بالضم³؟

ب - احسب وزنها مع العلم أن 1 سم³ من معدنها يزن 5ر2 غ

ج - نبدل هذه المسطرة بأخرى حديدية لها نفس أبعاد الأولى

فما هو وزن الدسم³ من هذا الحديد إذا علمت أن وزن

المسطرة في هذه المرة هو 39ر0 كغ؟

439 - في درس من دروس الأشغال اليدوية أعطى المعلم لكل تلميذ من تلاميذه ورقة مستطيلة الشكل بعدها 22 سم و 18 سم وطلب

منهم أن يقصوا في كل زاوية من زواياها الأربعة مربعاً طول

ضلعه 5ر2 سم ثم أمرهم بطي الأضلاع المتبقية بكيفية يقع

الحصول فيها على متوازي مستطيلات بدون غطاء .

أ - ابحث عن قياس مساحة الورقة المتبقية بعد القص .

ب - ما هو قياس مساحة قاعدة الصندوق الحاصل وقياس

مساحته الجانبية؟

ج - ابحث عن قياس حجم الصندوق .

www.najahni.tn

440 - يقع ملء خزان شكله متوازي مستطيلات بالنفط في مستهل كل فصل شتاء وذلك قصد تدفئة منزل بواسطة جهاز للتدفئة يستهلك 5 ل من النفط في الساعة الواحدة .

أ - احسب كمية النفط اللازمة لملء الخزان وعبر عنها بالهل مع العلم أن أبعاد الخزان هي 2ر5 م و 2 م و 1ر5 م .

ب - استعمل جهاز التدفئة ابتداء من يوم 5 ديسمبر 1979 لمدة 12 ساعة في اليوم ، ففي أي يوم يصبح الخزان فارغاً ؟

ج - ما هي تكاليف التدفئة في اليوم إذا علمت أن ثمن الهل من النفط يبلغ 4ر500 د ؟

441 - نريد تغطية ممر مستطيل الشكل بعاده 110 م و 3ر5 م بطبقة رمل سمكها 3 صم نستعمل لنقل الرمل اللازم شاحنة أبعاد صندوقها 2ر75 م و 2ر80 م و 0ر5 م .

أ - ما هو قيس حجم الرمل اللازم ؟

ب - كم سفرة تقوم بها الشاحنة لنقل هذا الرمل ؟

ج - إذا كان ثمن المتر المكعب من الرمل يبلغ 2ر500 د وأجرة السائق 3ر500 د لكل سفرة فما هي جملة المصاريف ؟

442 - قام فلاح بحفر بئر اسطوانية الشكل عمقها 7 م وقطرها 3 م .

أ - ما هو قيس حجم البئر بالمتر المكعب ؟

ب - إذا كان قيس حجم التراب المستخرج هو $\frac{6}{5}$ قيس

حجم البئر فما هو قيس حجم التراب المستخرج ؟

ج - قامت شاحنة بنقل ذلك التراب وكان قيس حجم صندوقها 4ر5 م³ ، فكم سفرة يجب أن تقوم بها الشاحنة لنقل كامل التراب المستخرج ؟

د - يقدر ارتفاع الماء بـ $\frac{3}{7}$ عمق البئر فما هو قيس حجم الماء باللتر ؟

443 - تزن قارورة مملأى بغاز الاستهلاك المنزلي 24ر650 كغ وتزن فارغة 11ر390 كغ .

أ - احسب بالم³ قيس حجم الغاز الموجود بها مع العلم أن 1 ل من الغاز يزن 2ر6 غ

ب - يستهلك جهاز التدفئة 20 ل من الغاز في الساعة ، ما هو معدل كلفة يوم واحد بالنسبة لهذا الجهاز إذا علمت أنه يعمل 5 ساعات في اليوم وأن ثمن القارورة هو 1ر850 د ؟

ج - إذا استعملنا قارورة الغاز مملأى بداية من يوم 25 أكتوبر ففي أي تاريخ تصبح فارغة ؟

444 - خزان للبتروول على شكل متوازي مستطيلات أبعاده بالمتر هي 7 و 3ر5 و 2ر5

أ - احسب قيس حجمه بالمتر المكعب وقيس سعته باللتر

ب - إذا كان الخزان يحتوي على $\frac{2}{5}$ قيس حجمه من

البتروول فما هي باللتر كمية البتروول الموجودة به ؟

ج - يمكن لصاحب الخزان أن يوزع البتروول كل يوم على 7 عربات نقل متجولة حمولة الواحدة 500 ل فكم

يوماً يلزم لتوزيع كامل الكمية الموجودة بالخزان ؟

د - إذا بدأ هذا التوزيع يوم 25 جوان ففي أي تاريخ ينتهي ؟

مجموعة مواضيع تتعلق بمناظرة الدخول

إلى السنة الأولى من التعليم الثانوي

المجموعة رقم 1

I التمارين :

- 1 - ينفق علي $\frac{9}{13}$ من مرتبة الشهري ويدحر 25340 د في الشهر . فكم يبلغ مرتبه ؟
- 2 - ابحث عن الكسور المكافئة لـ $\frac{2}{5}$ والتي تنحصر بسوطها بين 3 و 19
- 3 - تقطع حافلة 66 كم في الساعة . انطلقت هذه الحافلة من سوسة على الساعة الثامنة و 20 د ق ووصلت الى تونس على الساعة العاشرة و 30 د ق .
ما هي المسافة الفاصلة بين سوسة وتونس ؟
- 4 - يبلغ طول حقل مستطيل الشكل 3 مرات عرضه . ابحث عن بعدي الحقل مع العلم أن طول محيطه يبلغ 336 م .

II المشكل :

- رسم حقل مستطيل الشكل على خريطة حسب التلم $\frac{1}{3200}$ فكان
- طوله 6 صم وعرضه 5ر5 صم .
- أ - ابحث عن قيس مساحة الحقل بحساب الهكتار .
 - ب - زرع هذا الحقل لفتا سكريا فبلغ محصول الهكتار الواحد 25 طنا . كم سفرة يجب أن تقوم بها شاحنة تبلغ حمولتها القصوى 28 ق لنقل هذا الإنتاج الى معمل السكر بياجة ؟
 - ج - يعطي اللفت السكري 12 % من وزنه سكرًا الذي يباع بثمن 21 د بالنسبة للقنطار الواحد . فما هو الثمن الجملي لمنتوج الحقل ؟

المجموعة رقم 2

التمارين :

- 1 - شريت 9 م من القماش فدفعت 250ر20 د ، كم يدفع حريف آخر لشراء 2ر5 م من ذلك القماش ؟
- 2 - يبلغ طول حقل مستطيل الشكل 92 م ، ما هو طول ضلع حقل آخر مربع الشكل له نفس طول المحيط ؟
- 3 - لحياسة 5 فساتين تقضي خياطة 12 ساعة و 40 د ق ، كم وقتا تستغرق خياطة فستان واحد ؟
- 4 - شري أبي دجاجتين تزنا معا 3ر200 كغ وكانت احدهما تزن 600 غ أكثر من الأخرى فما هو وزن كل من الدجاجتين ؟

II المشكل :

- شرت سيده فستانا وقميصا وجوربين وأعطت للتاجر 3 ورقات نقدية من فئة العشرة دنانير لتيسير عملية الصرف طلب منها التاجر 310 مي ليرجع لها 3 ورقات من فئة الدينار .
- أ - ما هو الثمن الجملي الذي دفعته هذه السيدة ؟
 - ب - يبلغ ثمن الجوربين 650ر0 د ويبلغ ثمن القميص $\frac{3}{7}$ ثمن الفستان ، فابحث عن ثمن الفستان ثم عن ثمن القميص .

المجموعة رقم 3

I التمارين :

- 1 - قطع دزاج مسافة 48 كم أي $\frac{3}{4}$ المسافة الجملي التي كان ينوي قطعها فما هي هذه المسافة ؟

- 2 - يبلغ طول محيط حقل مستطيل الشكل 432 م ، ابحث عن قيس مساحة هذا الحقل مع العلم أن طوله هو ضعف عرضه .
- 3 - يقطع حاتم المسافة الفاصلة بين المنزل والمدرسة في 6 د ق . تقدر سرعة حاتم بـ 80 خطوة في الدقيقة ، ابحث عن هذه المسافة مع العلم أن طول خطوة حاتم هو 65ر0 م .
- 4 - لاحظ حوض دائري للسباحة يلزمنا استعمال 2ر94 م من الحديد المطروق ، ابحث عن عمق هذا الحوض إذا كان يتسع لـ 1413 م³ من الماء .

II المشكل :

- لتسديد ديونه باع فلاح حقله شكله شبه منحرف يبلغ طول قاعدته الكبرى 190 م أما طول القاعدة الصغرى فهو $\frac{3}{5}$ طول الكبرى ، يبلغ ارتفاع الحقل 75 م كما يبلغ ثمن بيع الأرم هذا الحقل 22 د .
- أ - تمكن الفلاح فعلا من تسديد كافة ديونه وبقي له مقدار مالي أراد أن يشتري به عربة وحصانا بثمن 270 د إلا أنه ينقصه $\frac{1}{3}$ هذا المبلغ ، فما هي جملة ديونه ؟
 - ب - ابحث عن ثمن كل من العربة والحصان مع العلم أن ثمن العربة هو ضعف ثمن الحصان .
 - ج - ماذا يمكنه أن يشتري بالمبلغ الذي بقي له ؟

المجموعة رقم 4

I التمارين :

- 1 - يبلغ عرض قطعة أرض مستطيلة الشكل 96 م بينما يبلغ طولها $\frac{4}{3}$ عرضها .

ابحث عن طول محيط هذه القطعة .

- 2 - يحوي برميل $\frac{7}{9}$ سعته زيتا وينقصه 46 ل لكي يمتلئ ، فما هي كميّة الزيت التي يحويها هذا البرميل ؟
- 3 - يبلغ طول محيط طبق نحاسي مستدير 194ر68 سم ، فما هو قياس مساحته ؟
- 4 - أنجز العملية التّالية :
- $$= (2ر3 + \frac{6}{100}) - (\frac{3}{100} + 4ر26)$$

II المشكل :

تعطي خلية من النحل معدل 15ر6 كغ من العسل سنويا و 1ر600 كغ من الشمع . ينبغي ابقاء $\frac{1}{3}$ كميّة العسل لتغذية النحل وبيع الباقي

بشمن 1ر560 د الكغ الواحد كما يباع الكيلو غرام من الشمع بشمن 0ر700 د

- أ - ما هو المبلغ الذي يمكن أن تتحصل عليه مدرسة تملك 16 خلية ؟
- ب - ما هو ربح هذه المدرسة إذا بلغت المصاريف الجمليّة 36ر880 د .
- ج - ما هو معدل الربح الصافي بالنسبة للخلية الواحدة ؟

المجموعة رقم 5

I التمارين :

- 1 - يبلغ قياس مساحة حقل مثلث الشكل 21 أرا ويبلغ طول قاعدته 56 م . ابحث عن طول ارتفاع هذا الحقل .
- 2 - صرف فلاح 97ر200 د لتسييج حديقة ، ابحث عن طول محيط هذه الحديقة مع العلم أن ثمن المتر من هذا السياج يبلغ 0ر360 د .

3 - يلزمنا 2ر75 م من القماش لصنع كسوة واحدة .

تملك خياطة لفافة من القماش تحتوي على 20ر10 م ، فكم كسوة يمكنها أن تخط ؟

4 - مكّني كتبي من انخفاض بلغ 68 مي عندما اشترت كتابا قيمته 850 مي ، ما هي النسبة المئوية لهذا التخفيض ؟

II المشكل :

للحصول على مناديل مربعة الشكل طول ضلع كل منها 45 سم شرت أم قطعة من القماش طولها 2 م وعرضها 0ر90 م بشمن 1ر020 د المتر الواحد .

- أ - ما هو عدد المناديل التي يمكن أن تتحصل عليها هذه الأم ؟
- ب - ما هو طول القماش المتبقي لها وما هو عرضه ؟
- ج - يباع نفس النوع من المناديل الجاهزة بالسوق بشمن 0ر325 د المنديل الواحد ، فكم اقتصدت هذه الأم ؟

المجموعة رقم 6

I التمارين :

- 1 - انطلق قطار من تونس على الساعة الثامنة و 55 د ق ووصل الى صفاقس على الساعة الواحدة والرّبع بعد الزوال . كم دامت السّفرة ؟
- 2 - ابحث عن المكزّر المشترك الأصغر للعددين 36 و 54 .
- 3 - يزن وعاء فارغ 456 غ ولما ملئ ماء الى النصف صار يزن 3ر016 كغ . ما هو وزن الوعاء عندما يكون مملوءا ؟
- 4 - تبلغ المسافة بين مدينتين 240 كم ، ابحث عن الوقت اللازم للقيام بسفرة على متن سيارة معدل سرعتها 90 كم / س إذا اضطر السائق للتوقّف مدة 35 د ق .

II الشكل :

عرضت قطعتا أرض صالحتان للبناء للبيع وكانتا متقايتين من حيث طول المحيط الذي يبلغ 96 م .
القطعة الأولى مربعة الشكل والأخرى مستطيلة الشكل طولها $\frac{5}{3}$ عرضها .

- أ - ابحث عن ثمن كل من القطعتين إذا علمت أن ثمن الار قدر ب 230 د
ب - أي القطعتين أرفع ثمننا ؟

المجموعة رقم 7

I التمارين :

- 1 - يزن وعاء فارغ 675 غ ، ولما صببنا فيه 2ر6 ل من الحليب صار يزن 3ر353 كغ ، فما هو وزن لتر واحد من ذلك الحليب ؟
2 - يبلغ المعلوم السنوي لكراء شقة 216 د ، اضطر صاحبها الى إضافة 5 % من معلوم الكراء ، فكم أصبح المعلوم الشهري لكراء الشقة ؟
3 - اشترت قطعة من اللحم تزن 450 غ ب 990 مي فكم يدفع زبون آخر لشراء قطعة من نفس اللحم وزنها 700 غ ؟
4 - يبلغ تأخر ساعة يدوية 20 ثانية في الساعة ، عدلها صاحبها على الساعة الثامنة صباحا ، فما هو الوقت الذي تشير إليه هذه الساعة عند الثامنة ليلا ؟

II الشكل :

يتكوّن باب منزلنا من مستطيل ونصف قرص دائريّ ويبلغ ارتفاعه 2ر60 م وعرضه 160 م .

- أ - ارسم تصميمًا للباب حسب النّلم $\frac{1}{20}$
ب - ما هو قيس مساحة الباب ؟

ج - أراد أبي طلاء واجهتيه بدهن يبلغ ثمن الكغ منه 0ر785 د . يتطلّب طلاء المتر المربع من الباب 0ر320 كغ من هذا الدهن .

ما هو ثمن كلفة الدهن المستعمل مع العلم أن الدهن لا يباع إلا في أوعية يسع الواحد منها لكيلو غرام واحد من الدهن ؟

المجموعة رقم 8

I التمارين :

- 1 - س = $4^3 \times 2^6$ ، ابحث عن العدد س
2 - يبلغ قيس مساحة حقل شكله مثلث قائم الزاوية 14 أرا ويبلغ طول ارتفاعه 40 م .
ارسم تصميمًا لهذا الحقل حسب النّلم $\frac{1}{1000}$
3 - رتب الكسور التالية من الأصغر الى الأكبر :
 $\frac{2}{3}$ ، $\frac{5}{8}$ ، $\frac{7}{9}$ ، $\frac{3}{4}$
4 - يعطي الزيتون 12 % من وزنه زيتا ، فما هي كميّة الزيت التي نتحصل عليها إذا بلغت صابتنا من الزيتون 28 ق في هذه السنة ؟

II الشكل :

اتفق صديقان على القيام برحلة مشتركة فأنفق أحدهما $\frac{3}{5}$

المبلغ اللازم وهو يكون بذلك قد صرف مقدارا يبلغ 2ر400 د أكثر من رفيقه .

أ - كم بلغت المصاريف الجمليّة لهذه الرحلة ؟

ب - كم على الشخص الآخر أن يدفع لزميله ليكون الصديقان قد تقاسما المصاريف بصفة عادلة ؟

ج - بلغت مصاريف النقل $\frac{3}{5}$ مصاريف الأكل ، فكم صرفا في

النقل وكم صرفا في الأكل ؟

المجموعة رقم 9

I التمارين :

1 - حلت طائرة تونسية بمطار القاهرة صبيحة يوم الثلاثاء على

الساعة الثانية و 45 د ق ، فمتى كان انطلاقها من مطار تونس قرطاج إذا علمت أن هذه السفرة دامت 3 ساعات وربع ؟

2 - أنفق عادل $\frac{3}{5}$ ما يملكه من نقود ولم يبق له إلا 3ر560 د

فما هو المبلغ الذي كان يملكه ؟

3 - طول مسافة ممثلة فوق خريطة سلمها $\frac{1}{80000}$ يبلغ 37ر5 صم

قطعها دراج في ساعة و 40 د ق ، ابحث عن معدل سرعته بالكم / س

4 - يبلغ ثمن كرسي وطاولة وخزانة 49ر600 د ، ثمن الخزانة هو ضعف

ثمن الطاولة و ثمن الكرسي هو $\frac{1}{5}$ ثمن الطاولة .

ابحث عن ثمن كل من الخزانة والطاولة والكرسي

II الشكل :

اشتغل عامل فلاحيّ 25 يوما فتحصل على 12 ل من الزيت وعلى مقدار ماليّ بلغ 39ر600 د ، ثم اشتغل 13 يوما بنفس المقابيل اليوميّ فتحصل على نفس الكميّة من الزيت وعلى مبلغ ماليّ مقداره 18 د .

أ - ابحث عن المقابيل اليوميّ لهذا العامل

ب - ما هو ثمن اللتر من الزيت ؟

المجموعة رقم 10

I التمارين :

1 - ضع العلامة (x) في المكان المناسب إذا كانت القسمة مستوفاة :

قابل للقسمة	قابل للقسمة	قابل للقسمة	قابل للقسمة	
على 2	على 3	على 5	على 9	440
				210
				378

2 - كم زهرة يمكن زرعها حول حوض يبلغ طول محيطه 6ر75 د

إذا تركنا 25 صم بين زهرتين متتاليتين ؟

3 - رتب الأعداد التالية من الأكبر الى الأصغر .

25ر05 - 25ر005 - 25ر5 - 25ر0005

4 - شري مروان كسوة ب 35ر600 د فبلغ ثمن السروال $\frac{1}{4}$ ثمن

الجمّازة ، ابحث عن ثمن كل من السروال والجمّازة .

المجموعة رقم 12

I التمارين :

1 - أكمل الأعداد الناقصة :

.	11	.	0	6	.
0	33	27	.	18	30

- 2 - باع فلاح عجلا ب 128ر400 د وكبشا ب 56ر900 د ومعزاة ب 29ر950 د وشري جهازا تلفزيا ب 123 د فما هو الكسر الذي يمثل ثمن الجهاز بالنسبة للمبلغ الجملي الذي يملكه الفلاح ؟
- 3 - الخارج الصحيح لعمليّة قسمة هو 34 والقسام هو 4ر071 ، ابحث عن المقسوم .
- 4 - أي العددين أكبر 8ر5 أو $\frac{85}{100}$ ؟
- أي العددين أصغر 43ر25 أو $\frac{4325}{1000}$ ؟

II المشكل :

يحضر صاحب معمل 1ر050 م³ من الجافال يوميا ويضع هذه الكميّة في قوارير سعة الواحدة 75 صل . وعند بيعها يحقق ربحا يقدر ب 36ر400 د .

أمّا تجّار التفصيل فإنّهم يبيعون القارورة الواحدة الي المستهلكين ب 60 مي ويربحون 6 مي عن كل قارورة .

ابحث عن ثمن كلفة القارورة الواحدة من الجافال عند اعدادها بالمعمل .

II شري تاجر بقول 850 كغ من البطيخ بثمان 73 مي الكغ الواحد باع من تلك الكميّة 120 كغ بثمان 95 مي الكغ الواحد ثمّ باع 240 كغ بثمان 85 مي الكغ الواحد وباع أخيرا 480 كغ بثمان 70 مي الكغ الواحد . أمّا بقيّة البطيخ فإنّ التاجر اضطرّ لعدم بيعه لأنّه أصبح غير صالح للاستهلاك .

- أ - هل حقّق ربحا أم تكبّد خسارة ؟ وما هو مقدار الربح أو الخسارة ؟
- ب - ابحث عن معدّل ثمن بيع الكغ الواحد .

المجموعة رقم 11

I التمارين :

www.najahni.tn

- 1 - قطع دراج المسافة الفاصلة بين قصر هلال والمنستير في ساعة وربع وكانت سرعته 16 كم / س ، ابحث عن هذه المسافة .
- 2 - يبلغ سطح ثلاثة أعداد صحيحة 31360 ، ابحث عن العدد الثالث مع العلم أنّ العددين الأولين هما 35 و 64 .
- 3 - شرت مريم 9 كغ من البرتقال وشرت زينب $\frac{1}{3}$ وزن ما شرت مريم فدفعت 840 مي أقلّ من مريم ، فكم دفعت مريم ؟
- 4 - ابحث عن قواسم العدد 108

II المشكل :

توفي والد وترك لأبنائه ثروة ماليّة وقع اقتسامها بالتساوي فنال كل واحد 2550 د إلاّ أنّه توفي أحدهم فاقسم بقيّة الأخوة منابه بالتساوي فصار نصيب كل واحد 2975 د .

أ - ابحث عن عدد الأولاد وعن مبلغ الثروة التي خلفها الأب .

ب - تجمّع الأخوة واتفقوا على شراء حديقة قدر ثمنها بثلثي الثروة ، إلاّ أنّ أحدهم امتنع عن المشاركة في اخر الأمر . ابحث عن مقدار مساهمة كل من الأخوة المشاركين .

المجموعة رقم 13

I التمارين :

- 1 - شري علي 3 كتب و 4 كراسيات بـ 1 860 مي وشري خالد 3 كتب و 3 كراسيات بـ 1 815 مي ، ابحث عن ثمن الكتاب وكذلك عن ثمن الكراس .
- 2 - قطعت سيارة 18 كم في 12 د ق فما هو معدل سرعتها بالكيلو متر في الساعة ؟
- 3 - أريد شراء محفظة غير أني لا أملك إلا 2ر534 د أي $\frac{7}{9}$ ثمنها فما هو ثمن المحفظة ؟
- 4 - 42ر900 دسم³ و 6ر28 هل و 3ر41 دكل = 0.000 ل

II المشكل :

- لحديقتين نفس قيس المساحة ، الحديقة الأولى مربعة الشكل طول ضلعها 90 م والثانية مستطيلة الشكل طولها 135 م .
- أ - أحيطت الحديقتان بسياج تكلف المتر الواحد منه بـ 0ر480 د فما هي الحديقة التي كلف سياجها أكثر مالا ؟ لماذا ؟
 - ب - ما هو الفرق بين تكاليف تسييج الحديقتين ؟
 - ج - زرعت الحديقتان طماطم فبلغ إنتاج الأولى 2 ط بالنسبة للار الواحد بينما بلغ الإنتاج الجملي للحديقة الثانية 162000 كغ . أي الحديقتين أكثر إنتاجا ؟

المجموعة رقم 14

I التمارين :

- 1 - أكتب العدد المناسب مكان النقطة في كل من العمليتين التاليتين :
 $23ر425 \times 0ر01 = 23ر425$
 $17ر417 \times 0ر001 = 17ر417$

www.najahni.tn

- 2 - يبلغ طول محيط قطعة نقدية مستديرة 8ر164 سم . ابحث عن قيس مساحتها .
- 3 - رتب الأعداد التالية ترتيبا تصاعديا :
 $2ر15$ و $\frac{215}{10}$ و $\frac{21ر5}{100}$
- 4 - كم مربعا طول ضلعه 5 سم يمكنني أن أقص من ورقة بعدها 38 سم و 28 سم ؟

II المشكل :

- تكلف سياج حديقة مستطيلة الشكل بـ 52ر164 د .
 يبلغ ثمن المتر الواحد من ذلك السياج 0ر217 د أما وضعه فقد قام به عامل أمضى 35 ساعة وتقاضى 0ر300 د عن كل ساعة عمل .
- أ - ابحث عن قيس محيط هذه الحديقة .
 - ب - ابحث عن بعدي الحديقة مع العلم أن طونها هو ضعف عرضها .

المجموعة رقم 15

I التمارين :

- 1 - أكمل الأعداد الناقصة :
 $1 = \frac{3}{\dots} + \frac{\dots}{\dots}$
 $2 = \frac{8}{3} - \frac{\dots}{\dots}$
- 2 - يبلغ ثمن لفافة من القماش 68ر400 د . إذا أنقصت منها 3 م يصبح ثمنها 62ر700 د . فما هو طول اللفافة ؟
- 3 - تريد أمي شراء 24 كأسا ولها أن تختار بين حلين إثنين :

إما أن تشتري الكؤوس بثمان 485 مي بالنسبة لـ 3 كؤوس وإما أن تشتريها بثمان 630 مي بالنسبة لـ 4 كؤوس . فما هو الحزن الأنسب ؟

4 - ابحث عن قواسم العدد 2401 .

II المشكل :

شري تاجر 5 أوعية من زيت الزيتون يحوي كل منها 125 ل بثمان 423 مي الكيلو غرام الواحد ثم باع هذا الزيت بالتفصيل بثمان 450 مي اللتر الواحد متحملا ضياع لترين من كل وعاء . ابحث عن ربح هذا التاجر مع العلم أن لتر الزيت يزن 0ر920 كغ.

المجموعة رقم 16

I التمارين :

1 - أكمل الأعداد الناقصة :

$$\frac{3}{4} = \frac{6}{\cdot} = \frac{\cdot}{12} = \frac{12}{\cdot} = \frac{\cdot}{20}$$

- 2 - كم جليزة يجب استعمالها لتبليط غرفة بعدها 6ر4 م و 5ر4 م إذا كانت الجليزة مربعة الشكل طول ضلعها 20 سم ؟
- 3 - أنجز العمليتين التاليتين واختزل عند الإمكان :

$$\cdot = \frac{25}{12} + \frac{3}{4}$$

$$\cdot = \frac{25}{12} : \frac{3}{4}$$

4 - تعطي حنفية عمومية 40 ل من الماء في الدقيقة كم يلزم من الوقت لملء برميل سعته 1ر2 م³ ؟

II المشكل :

قسم فلاح حقله الى قطعتين قيس مساحة الاولى $\frac{4}{9}$ قيس

مساحة كامل الحقل وباع هاته القطعة بـ 556ر800 د ثم باع القطعة الثانية بدون تغيير ثمن المتر المربع وبذلك حقق ربحا جمليا قدر بـ $\frac{1}{5}$ ثمن شراء الحقل .

- أ - ابحث عن ثمن بيع القطعة الثانية .
ب - ابحث عن ثمن شراء كامل الحقل
ج - ابحث عن قيس مساحة كل من القطعتين مع العلم أن ثمن شراء المتر المربع من الحقل هو 1ر250 د .

المجموعة رقم 17

I التمارين :

1 - ضع العلامة (X) تحت كل عدد أولي :

97	33	122	41	9	131	23	27

- 2 - ترك والد بعد وفاته إرثا ماليا لأولاده الثلاثة وابنتيه قدره 3 420 د . كل ولد يأخذ ضعف ما تأخذه البنت ، ابحث عن مناب كل من الإخوة .
- 3 - ابحث عن مكرز للعدد 9 يكون محصورا بين 70 و 80 .

- 4 - اقتسم خليل ومحمد و ابراهيم صندوقا من التفاح بالكيفية التالية :
 يأخذ خليل الزبع ويأخذ محمد الخمسين ويأخذ ابراهيم النصف .
 فهل هذه القسمة ممكنة ؟ لماذا ؟

II المشكل :

يوزن سطل مملوء ماء 17ر250 كغ . أفرغنا منه الخمسين فصار
 يوزن 1ر250 كغ .

- أ - ما هو قياس حجم الماء الذي أخذناه من السطل باعتبار أن اللتر
 من الماء يزن 1 كغ ؟
 ب - ما هي سعة السطل ؟
 ج - ما هو وزن السطل فارغا ؟
 د - ملأنا ذلك السطل زيتا الى $\frac{5}{6}$ سعته . فما هو وزن هذا الزيت

إذا علمت أن اللتر من الزيت يزن 0ر920 كغ ؟

- هـ - ما هو ثمن هذه الكمية من الزيت إذا كان سعر الكغ منه
 يبلغ 436 مي ؟

المجموعة رقم 18

I التمارين :

- 1 - أكتب العدد المناسب مكان النقطة :

$$877 = 13 + (\cdot \times 27)$$

- 2 - احس بطريقتين مختلفتين :

$$\cdot = (69 + 21) \times 15$$

- 3 - شري مروان 3 أقلام و 4 كراسات فدفع 371 مي أما نزار فقد
 شري 4 أقلام و 3 كراسات بنفس الثمن .

ابحث عن ثمن كل من القلم والكراس .

- 4 - يبلغ ثمن سيارتين 11 382 د . ابحث عن ثمن كل منهما إذا
 علمت أن احدهما يبلغ ثمنها $\frac{3}{4}$ ثمن الأخرى .

II المشكل :

أراد سامي أن يقطع المسافة الفاصلة بين المهدية وسوسة بواسطة
 دراجته النارية . أراد أن يتعرف سامي في أول الأمر على طول هذه
 المسافة فالتجأ الى خريطة للجمهورية التونسية صممت حسب السلم
 $\frac{1}{850\ 000}$ ولاحظ أن تلك المسافة تبلغ 7ر3 صم .

- أ - ما هي المسافة الفاصلة بين سوسة والمهدية في الحقيقة ؟
 ب - انطلق سامي من سوسة على الساعة العاشرة صباحا بسرعة
 30 كم / س وتوقف بعد 70 ذق بقصر هلال حيث زر جده خلال
 ساعة وربع ثم واصل سيره بسرعة 1ر8 كم / س وتوقف من جديد
 بالقلطة على الساعة الواحدة والنصف بعد الزوال . فما هي
 المسافة التي ما زالت تفصله عن المهدية ؟

المجموعة رقم 19

I التمارين :

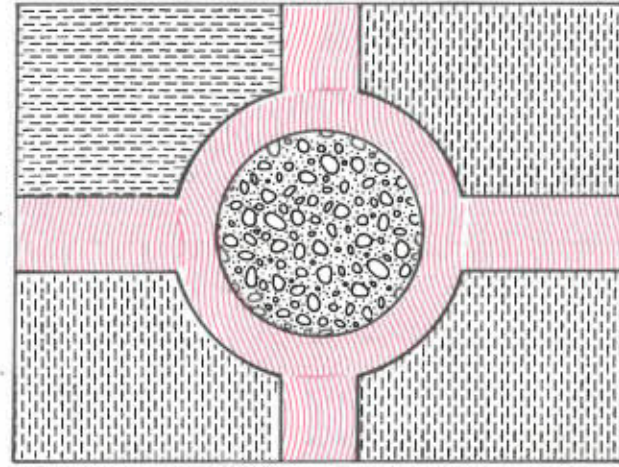
- 1 - صرفت مريم $\frac{5}{9}$ ما تملكه من نقود ثم صرفت $\frac{1}{4}$ ما بقي لها

وعادت الى المنزل بمبلغ قدره 4ر500 د . فكم كانت تملك مريم ؟

- 2 - أنتج جقل مستطيل الشكر عرضه 160 م كمية من القمح
 قدرت بـ 140 هل . ابحث عن طول الحقل مع العلم أن الهكتار
 يعطي 35 هل من القمح .

- 3 - يبلغ طول شمعة 18 صم وعند الإشتعال يذوب منها في كل
 دقيقة 1ر2 مم . كم وقتا تدوم هذه الشمعة .

- 4 - برقعة الشطرنج 64 مربع صغيرا يبلغ طول ضلع كل مربع
 منها 4 صم . ابحث عن قياس مساحة الرقعة .



فيما يلي
تصميم تقريبي
لحديقة عمومية

يبلغ طول محيط هذه الحديقة 234 م كما أن طولها يساوي عرضها $\frac{9}{4}$

- أ - ابحث عن قيس مساحة الحديقة .
ب - أقيم حوض وسط الحديقة يبلغ قطره 6 م فما هو قيس مساحته؟ وما هو قيس المساحة الباقية؟
ج - عشب المساحة الباقية بعد ترك $\frac{1}{4}$ قيسها للممرات . فما هو قيس مساحة كل من القطع الأربعة المعشبة .

المجموعة رقم 20

I التمارين :

- 1 - شرت زهرة كبات من الصوف يبلغ ثمن الواحدة 95 مي ووزنها 20 غ لصنع صدار لزوجها . ولما انتهت من شغلها وجدت الصدار يزن 560ر0 كغ فكيف أنفقت لشراء الصوف؟

II الشكل :

- 2 - تقف حافلة بالعاصمة لمدة 2 دق و 15 ث بكل محطة ، ابحث عن الوقت الذي تقضيه الحافلة في التوقف بالمحطات إذا كان عددها 16 .
3 - يعطي الزيتون 12 % من وزنه زيتا ، ابحث عن كمية الزيتون التي تعطي 350 كغ من الزيت .
4 - حسب إحصائية السنة الماضية بلغ عدد التلاميذ بمدرسة ابتدائية 645 . نجح منهم 89 تلميذا في مناظرة الدخول الى السنة الأولى من التعليم الثانوي بينما انقطع عن المدرسة 16 تلميذا . ورسم هذه السنة 122 تلميذا ، فما هو عدد التلاميذ بالمدرسة حاليا؟

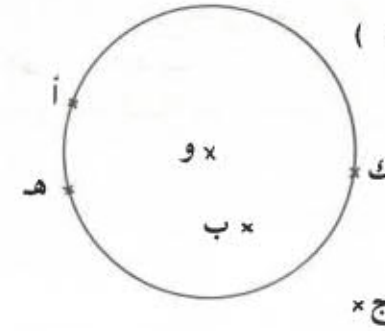
شري رجل شاحنة صغيرة يبلغ ثمنها 124 5 د وسدد ثمنها بالطريقة التالية :

- $\frac{1}{12}$ من الثمن عند تقديم المطلب .
- $\frac{3}{7}$ الثمن عند تسلّم الشاحنة
- سدد الباقي بزيادة 6 % وعلى 20 قسطا .

- أ - كم دفع عند تقديم المطلب؟
ب - كم دفع عند تسلّم الشاحنة؟
ج - ما هو بمقدار كل دفعة؟
د - ما هو الثمن الحقيقي للشاحنة؟

I التمارين :

- 1 - فيما يلي دائرة (د) مركزها النقطة و .
أكمل الجمل التالية باستعمال الرمز المناسب \in أو \notin



- أ . (د)
ب . (د)
ج . (د)
هـ . (د)
و . (د)
ك . (د)

- 2 - أكمل ما يلي :

أ - $1 = \frac{4}{7} + \frac{\cdot}{\cdot} + \frac{1}{4}$
ب - $1 = \frac{1}{3} - \frac{9}{5}$

- 3 - ابحث عن قيس مساحة الأرض التي خصصت لبناء مستودع مع العلم أنّ البعدين الداخليين للمستودع هما 9 م و 4ر75 م وأنّ سمك الحائط هو 0ر50 م .
4 - باع تاجر آلة خياطة بانخفاض 15 % لفائدة الحريف وقد بلغ هذا التخفيض 15ر360 د ، فما هو الثمن الحقيقي للآلة وما هو ربح التاجر إذا كان قد اشترى هذه الآلة بـ 70 د ؟

II المشكلة :

- نظم تلاميذ مدرستك رحلة دراسية شارك فيها 68 تلميذا .
بلغ ثمن كراء الحافلة 780ر73 د فسدد صندوق المدرسة $\frac{2}{7}$ هذا المبلغ كما أعفي 6 تلاميذ معوزين من معلوم المساهمة .
أ - ما هو مقدار مساهمة كل تلميذ ؟
ب - انطلقت الحافلة على الساعة الخامسة والتّصف متّجهة الى المدينة المقصودة والتي تبعد عن المدرسة بـ 183 كم فحلّت بها على الساعة التاسعة و 25 د ق ، ابحث عن معدّل سرعة الحافلة مع العلم أنّ السائق مكّن التلاميذ من قضاء 55 د ق للنزهة في بعض المناطق الجميلة التي مروا بها .

المجموعة رقم 22

I التمارين :

- 1 - إذا كان الحليب يعطي 5 % من وزنه زبدة . فكم لترا من الحليب يلزم للحصول على 13 كغ من الزبدة مع العلم أنّ لتر الحليب يزن 1ر04 كغ ؟
2 - اختزل الكسر التالي الى أقصى حد : $\frac{126}{588}$
3 - ذهبت أمي الى السوق ومعها 4ر842 د فصرفت $\frac{5}{6}$ هذا المبلغ . كم بقي لها ؟
4 - أكتب الأعداد المناسبة مكان النقط :
 $45ر252 = \frac{1}{100} \times 45ر252$
 $325ر043 = 0ر001 \times 325ر043$

www.najahni.tn

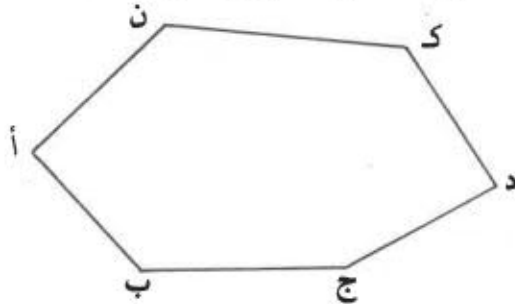
II المشكل :

ذهبت 3 صديقات الى مغارة لاقتناء بعض الملابس فدفعت منيرة كامر المبلغ وهو 46ر400 د . وعند رجوعهن الى المنزل أردن تصفية حساب مآشترينه لكنهن نسين جميعا ما صرفته كل منهن إلا أن فوزية تذكرت أنها صرفت 2ر700 د أكثر من منيرة وثلاث ما صرفته منيرة وخديجة معا .
ابحث عن المبلغ الذي صرفته كل من الصديقات الثلاث .

المجموعة رقم 24

I التمارين :

- 1 - ابحث عن السنوات الكبيرة الموجودة بين سنة 1960 وسنة 1980 .
- 2 - حول الى الهكتار :
946 م² . 19004 ا . 20 كم² . 3460 دكم² .
- 3 - ارسم كل اقطار المضلع التالي واذكر عددها .



- 4 - ابحث عن كسر عشري مكافئ لكل من الكسور التالية :

$$\frac{21}{300} , \frac{7}{2} , \frac{25}{8} , \frac{3}{20}$$

II المشكل :

تبلغ المسافة الفاصلة بين المكنين وسوسة 36 كم . انطلق درّاج من سوسة قاصدا المكنين على الساعة التاسعة صباحا بسرعة نصف كيلو متر في الدقيقة كما انطلق في نفس الوقت مترجل من المكنين قاصدا سوسة بسرعة 6 كم / س .

- أ - ابحث عن معدّل سرعة الدراج بالكم / س .
- ب - ابحث عن ساعة تلاقى الدراج والمترجل .
- د - ابحث عن ساعة وصول كل منهما الى المدينة المقصودة .
- هـ - عين المدينتين ونقطة الإلتقاء على قطعة مستقيم متخذا السلم

$$\frac{1}{500\ 000}$$

المجموعة رقم 23

I التمارين :

- 1 - أكمل العمليتين التاليتين

$$\begin{array}{r} 3 \cdot 6 \\ - 04 \cdot \\ \hline = 1009 \end{array}$$

$$\begin{array}{r} 5 \cdot 4 \cdot \\ + 07 \cdot 3 \\ \hline = 8052 \end{array}$$

- 2 - ابحث عن م - م - أ (120 . 80 . 75)
- 3 - بهذا الجدول بعض الأخطاء . ابحث عنها وقم بإصلاحها :

قيس محيط الدائرة	15ر072 صم	72ر22 م	16ر956 م	298ر30 م
قطر الدائرة	4ر8 صم	2ر3 م	5ر4 م	9ر5 م
خارج قسمة قيس المحيط على القطر	3ر14	3ر14	31ر4	3ر14

يستعمل معمل صابون صناديق من الورق المقوى لوضع قطع من الصابون مكعبة الشكل طول حرف كل منها 8 سم .

أ - كم قطعة يمكن تصفيها بصندوق مكعب طول حرفه 64 سم ؟

ب - ما هو ارتفاع صندوق آخر على شكل متوازي مستطيلات بعد قاعدته 1ر28 م و 0ر32 م بحيث يحوى نفس العدد السابق من قطع الصابون ؟

ج - يبلغ ثمن المتر المربع من الورق المقوي 100 مي فما هو الأنسب مادياً : استعمال الصناديق المكعبة الشكل أم الصناديق الأخرى ؟

د - ما هو ربح المعمل في 1000 صندوق ؟

www.najahni.tn

الامتحانات المقترحة في مُناظرة الدخول

إلى السنة الأولى من التعليم الثانوي

من 1970 إلى 1980

(بدون حلول)

I التمارين :

- 1 - ابحث عن الكسور المكافئة للكسر $\frac{2}{3}$ والتي تكون بموضعا 6 . 8 . 18 . 30 .
- 2 - يدفع مكثر كراء سنويا مقداره 132ر500 د . وقع تخفيض في مقدار الكراء بنسبة 20 % . فما هو المقدار الجديد للكراء السنوي ؟
- 3 - ارسم تصميمًا . حسب السلم $\frac{1}{2500}$. لضيعة مستطيلة الشكل بعداها 312ر5 م و 175 م .
- 4 - قطع قطار مسافة 240 كم الفاصلة بين مدينتين بسرعة 90 كم / س . فما هو الزمن الذي قضاه القطار لقطع هذه المسافة ؟

II المشكل :

- يملك فلاح 13 شجرة تفاح تنتج الواحدة منها 30ر50 كغ من الثمار .
- أ - ما هو وزن كامل المحصول من التفاح ؟
 - ب - وضع التفاح في صناديق قصد نقله الى السوق فما هو عدد الصناديق اللازمة لنقل كامل المحصول إذا كان الصندوق يحتوي على 8 كغ من التفاح ؟
 - ج - يبلغ سعر الكغ الواحد من التفاح 120 مي . فما هي قيمة كامل المحصول ؟
 - د - ما هو مقدار ربح الفلاح مع العلم أنه أنفق 22 د لخدمة الأرض و 5ر080 د لشراء الصناديق ونقل الثمار الى السوق ؟

I التمارين :

- 1 - يبلغ $\frac{3}{4}$ طول لفيفة 1ر2 م فما هو طول كامل اللفيفة ؟
- 2 - وزن لي القصاب قطعة من اللحم وزنها 550 غ وطلب مني 440 مي ، فما هو ثمن قطعة من اللحم وزنها 800 غ ؟
- 3 - تقدّم ساعة 15 ث في الساعة ، فكم تتقدّم في 24 ساعة ؟ وقع تعديلها في منتصف النهار فما هو الوقت الذي تشير اليه عند منتصف الليل ؟
- 4 - حفر حوض دائري قطره 10 م وسط قطعة أرض مربعة الشكل طول ضلعها 15 م .
ارسم تصميمًا للمربع والحوض حسب السلم $\frac{1}{250}$

II المشكل :

- أ - ما هو قياس مساحة الحقل بالمتر المربع ؟ وبالهكتار ؟
- ب - زرع الحقل لفتا سكرًا وأنتج الهكتار الواحد 25 ط ونقل المحصول على شاحنة حمولتها 2500 كغ ، فما هو عدد الشاحنات التي قامت بها الشاحنة ؟
- ج - أعطى اللفت السكري 12 % من وزنه سكرًا ، فما هو وزن السكر المتحصل عليه بحساب القنطار ؟
- د - وقع بيع السكر بـ 9ر720 د القنطار الواحد ، فما هو ثمن هذا السكر ؟

I التمارين :

- 1 - رتب الكسور التالية من الأصغر الى الأكبر :
 $\frac{2}{3}$ ، $\frac{7}{12}$ ، $\frac{3}{4}$ ، $\frac{5}{6}$
- 2 - أنجز العملية التالية :
568ر7 : 43ر0
- 3 - انطلقت حافلة من مدينة أ على الساعة التاسعة و 45 د ق صباحًا ووصلت الى مدينة ب في منتصف النهار و 15 د ق ، فما هو الزمن الذي قضته الحافلة لقطع المسافة الفاصلة بين المدينتين ؟
- 4 - ارسم مثلثًا قائم الزاوية طولي ضلعيه المتعامدين 135 م و 180 م حسب السلم $\frac{1}{2500}$

II المشكل :

- أراد صاحب سيارة أن يقطع مسافة 600 كم . وكان خزان سيارته فارغًا . فملاه بـ 45 ل من البنزين .
- أ - دفع لصاحب المحطة ورقة نقدية ذات 5 دنانير فأرجع له 410ر0 د .
- ابحث عن ثمن اللتر الواحد من البنزين .
- ب - تبين أن كمية البنزين التي وقع صبها لا تفي بالحاجة فتوقف السائق بعد أن قطع $\frac{2}{3}$ المسافة لملء الخزان من جديد ودفع في هذه المرة 3ر672 د . فكم لترا من البنزين تستهلك سيارته في 100 كم ؟
- ج - ما هي كمية البنزين المتبقية بالخزان بعد انتهاء الرحلة ؟

I التمارين :

- 1 - إذا كان الخارج الصحيح لعملية قسمة هو 108 والقاسم 9ر05 ، فما هو المقسوم ؟
- 2 - أي العددين أكبر : 8ر9 أم $\frac{89}{100}$ ؟
- وأي العددين أصغر 12ر64 أم $\frac{1264}{10}$ ؟
- 3 - في الساعة الثامنة و 30 د ق وصل قطار الى بنزرت . فما هي ساعة خروجه من تونس إذا علمت أنه قضى ساعة و 45 د ق لقطع المسافة الفاصلة بين تونس وبنزرت ؟
- 4 - ارسم تصميمًا ، حسب السَّلم $\frac{1}{1000}$ لقطعة أرض على شكل مثلث (أ ، ب ، ج) قائم الزاوية في أطول ضلعه [أ ب] 80 م وطول ضلعه [أ ج] 60 م .

II المشكل :

أرادت أم شراء معطف لابنتها يبلغ ثمنه بإحدى المغازات 17 د مع إمكانية تخفيض في ذلك الثمن بمقدار 5 % في صورة الدفع بالحاضر .

- أ - ما هو ثمن المعطف في هاته الحالة ؟
- ب - فكرت الأم في تكليف خياطة بصنع المعطف واشترت لذلك الغرض 2ر40 م من القماش ب 1ر980 د المتر الواحد ولوازم الخياطة (أزرار وبطانه وخط) قيمتها $\frac{2}{3}$ ثمن القماش كما دفعت 5 د كأجرة للخياطة ، فما هو ثمن كلفة المعطف ؟

- ج - ما هو الحل الأنسب للآم : شراء المعطف بالحاضر من المغازة تكليف الخياطة بصنعه ؟
- د - ما هو ربحها في الحل الذي ستختاره ؟

دورة جوان 1974

I التمارين :

- 1 - تتكون قافلة من 12 شاحنة طول الواحدة 8 م وتبعد كل منها عن التي تسبقها مباشرة ب 50 م . فما هو طول القافلة ؟
- 2 - ارسم تصميمًا حسب السَّلم $\frac{1}{1000}$ لملاعب رياضي على شكل مستطيل بعدها 90 م و 60 م ومكمل بنصفي دائرة قطرها طول المستطيل .
- 3 - ضع في كل من العمليتين التاليتين العدد المناسب مكان النقط :

$$27ر29 : 0ر1 = 27ر29 \times \dots$$

$$5ر475 : 0ر01 = 5ر475 \times \dots$$

- 4 - اشترت 3 كغ من البرتقال واشترى جاري 3 أضعاف من اشتريته ودفع مبلغا يفوق المبلغ الذي سادفعه ب 0ر720 د فما هو المبلغ الذي يجب علي دفعه ؟

II المشكل :

سترتقي في السنة القادمة الى السنة الأولى من التعليم الثانوي وستطالب باشتراء بعض الكتب والأدوات المدرسية فيعرفك الكتب بأثمانها :

3- ضع في كل مرة العدد المناسب مكان النقطة :

$$\frac{48}{\cdot} = \frac{\cdot}{54} = \frac{24}{36} = \frac{\cdot}{9} = \frac{2}{\cdot}$$

4 - يقضي علي 25 د ق للوصول الى المدرسة و 30 د ق لغسل أطر وتناول فطور الصباح . فمتى يجب عليه أن يغادر فراشه إذا أ الوصول الى المدرسة 10 د ق قبل الدخول الذي يقع على الساعة الثامنة صباحا ؟

II المشكل :

باع ولد 40 بيضة بحساب 144 مي الأربع بيضات

- أ - ما هو المبلغ الذي قبضه الولد ؟
- ب - أراد الولد أن يشتري بهذا المبلغ حذاء وتبانا وصدارا للرياضة يبلغ ثمن الحذاء نصف المبلغ و ثمن الصدّار ثلث المبلغ و ثمن التبّان 360ر0 د فهل يستطيع شراء هذه اللّوازم ؟ لماذا ؟
- ج - قبل التّاجر منح الولد تخفيضا قدره 15 % بالنسبة لشمّ الصدّار و 5 % بالنسبة لثمن التّبّان ، فهل يصبح بإمكان الولد شراء كلّ هاته اللّوازم ؟ لماذا ؟
- د - وافق التّاجر في نهاية الأمر على أن يزوّد الولد بما يحتاج مقابل كامل المبلغ الذي كان يملكه ، فما هو الكسر الذي يمثّل التّخفيض الممنوح بالنسبة للثمن الجمليّ ؟

دورة جوان 1976

I التمارين :

1 - أبحث عن البسط والمقام الناقصين :

$$\frac{7}{8} = \frac{\cdot}{32} = \frac{35}{\cdot}$$

الثمن بالدينار

0,650

0,750

0,900

0,850

0,650

الكتاب

النصوص العربية

النصوص الفرنسية

الرياضيات

العلوم الطبيعية

التربية الوطنية

الأدوات المدرسية

0,100

0,500

مجموعة أوراق تصوير

بركار

www.najahni.tn

أ - ما هو ثمن الكتب والأدوات المدرسية ؟

ب - يمنحك الكتبي انخفاضا بالنسبة للكتب وحدها بمقدار 10 % ، فما هو المبلغ الذي يطلابك بدفعه ؟

ج - عرض عليك أحد أصدقائك بيع كتبه المستعملة بـ 700 مي الكتاب الواحد ، فأبي الحلين أنسب لك ؟ برهن على ذلك باجراء العمليات الحسابية اللازمة .

د - عندما تبحث عن ثمن شراء كلّ كتاب على حدة تلاحظ أنه يمكنك شراء بعض الكتب من الكتبي مع التمتع بالتخفيض والبعض الآخر من صديقك . فهل تستفيد من هذه العملية ؟

دورة جوان 1975

I التمارين :

1 - أفرغت في قارورة أولى 25 صل من الزيت وفي قارورة ثانية 25ر0 ل وفي قارورة ثالثة $\frac{5}{2}$ دسل ، ما رأيك في ساعات القوارير الثلاث

2 - ورقة طولها 90 سم وعرضها 70 سم أريد أن أقصّ منها مربعات طول ضلع كلّ منها 20 سم ، فما هو عددالمربعات التي يمكن أن أتحصّل عليها ؟

I التمارين :

1 - عبّر عن مجموع الأطوال التالية بالمتري :
 $\frac{2}{5}$ م و 125 سم و $\frac{45}{100}$ م = ... م

2 - أنفقت $\frac{3}{4}$ و $\frac{1}{3}$ ما أملك من نقود وبقي لي 25 مي . فما هو

المبلغ الذي كنت أملكه ؟

3 - انطلقت سيارة في الساعة الثامنة و 56 دق صباحا
 بسرعة 80 كم / س قاصدة مدينة تبعد عن مكان الانطلاق بـ 120 كم
 فما هي ساعة الوصول ؟

4 - ما هو أكبر عدد يتركّب من 4 أرقام ويكون قبلا للقسمة على 5 ؟
 ضع فاصلا بحيث يصبح هذا العدد أصغر من 10 مع المحافظة على
 موقع الأرقام .

II المشكل :

شكل مكتب معلّمك مستطيل بعده 10ر1 م و 80ر0 م . أراد المعلّم
 أن يشتري له قماشا يغطيه ويتدلّى على جوانبه الأربعة بـ 15 سم .
 أ - ابحث عن بعدي قطعة القماش التي ينبغي شراؤها ؟
 ب - دخل المعلّم إحدى المغازات فعرض عليه التاجر أربع نقافات من
 القماش :

- عرض اللّيفة الأولى 95ر0 م و ثمن المتر منها 720ر0 د
 - عرض اللّيفة الثانية 10ر1 م و ثمن المتر منها 820ر0 د
 - عرض اللّيفة الثالثة 30ر1 م و ثمن المتر منها 980ر0 د
 - عرض اللّيفة الرابعة 40ر1 م و ثمن المتر منها 180ر1 د
- فما هي من حيث العرض أنواع الأقمشة التي تناسب المكتب أكثر من غيرها .

- 2 - يبلغ ثمن قطعة من القماش 33750 د . عندما ننقص منها 5 م
 يصبح سعر الباقي 30 د . فما هو طول كامل القطعة ؟
- 3 - ارسم تصميمًا ، حسب السّلم $\frac{1}{2000}$ ، لقطعة أرض على شكل شبه
 منحرف قائم الزاوية طول قاعدته الكبيرة 120 م وطول قاعدته
 الصغيرة 80 م وطول ارتفاعه 60 م .
- 4 - ضع العدد المناسب مكان النقط في العملية التالية :
 $11 + (\dots \times 15) = 191$

I المشكل :

يعتني تلاميذ أحد الأقسام بالحديقة المدرسيّة ويعملون بها فأنتجوا
 240 كغ من البقول باعوها بـ 90 مي الكغ و 43 أرنبا باعوها
 بـ 800ر0 د الأرنب .
 بلغت مصاريف الاستثمار 10 % من ثمن البيع الجمليّ

أ - ما هي قيمة الرّبح ؟

ب - أنفق التلاميذ $\frac{1}{3}$ هذا الرّبح لشراء كتب للمكتبة و $\frac{1}{4}$
 الرّبح لشراء مجموعة من الصور فهل يستطيعون بالمبلغ المتبقيّ
 القيام برحلة في آخر السنة تبلغ جملة تكاليفها 45 د ؟

ج - إذا كان الجواب بلا ، فما هي قيمة الزيادة التي يجب على كلّ
 تلميذ دفعها للمشاركة في هذه الرحلة مع العلم أنّ عدد تلاميذ القسم
 يبلغ 25 ؟

د - ما هي المسافة التي ستقطع خلال هذه الرحلة إذا علمت أنّ
 معلوم الأكل بالنسبة لكلّ تلميذ يبلغ 400 مي وأنّ معلوم النّقل
 يقدر بـ 140 مي بالنسبة للكيلو متر الواحد ؟

www.najahni.tn

- ج - ابعث عن ثمن كل نوع من أنواع الأقمشة المناسبة ؟
 د - أي نوع من القماش يناسب المعلم من حيث الثمن ؟ ما هو الزيج .
 هـ - يبلغ عدد تلاميذ الفصل 36 وقد دفعوا مبالغ متساوية المقدار لشراء القماش المناسب وبقي 112ر0 د فما هو مقدار مساهمة كل تلميذ ؟

دورة جوان 1978

I التمارين :

- 1 - رتب الأعداد التالية من الأكبر الى الأصغر :

$$51ر05 - 51ر1005 - 51ر005 - 51ر105$$

- 2 - في ساعة و $\frac{1}{4}$ قطع دراج مسافة طولها 20 كم ، فما هو معدل سرعته ؟

- 3 - تريد أمي شراء 20 صحنا ، فعرض عليها البائع الحلين التاليين :

- 4 صحون بدينار أو 5 صحون بـ 1ر200 د فأني الحلين أنسب من حيث

الثمن ؟

وما هو المبلغ الذي ستدفعه أمي لشراء 20 صحنا ؟

- 4 - ارسم تصميمًا ، حسب السلم $\frac{1}{500}$ لبطحاء عمومية على شكل

معين طول قطره الكبير 35 م وطول قطره الصغير 20 م .

II المشكل :

- أ - باع مدير مدرسة 350 رزنامة بـ 40 مي الواحدة و 225 بطاقة خاصة بمنظمة أولياء التلاميذ بـ 100 مي البطاقة الواحدة واحتفظ لصندوق المدرسة بـ $\frac{3}{10}$ ثمن بيع اليوميات و 40% من ثمن بيع البطاقات فما هو نصيب صندوق المدرسة من بيع الرزنامات والبطاقات ؟

- ب - يوجد بصندوق المدرسة 7ر656 د في بداية السنة الدراسية واشترى المدير بعد بيع اليوميات والبطاقات منجدا ثمنه 16ر480 د وكتب مطالعة لتلامذة السنة السادسة بـ 400 مي الكتاب الواحد . منح الكتبي المدير تخفيضا قدره 5% بالنسبة لثمن المنجد وأعطاه مجانا كتابا على كل 12 كتابا اشتراها ، فما هو عدد الكتب التي تسلمها المدير ؟

- ج - أراد تلاميذ السنة السادسة البالغ عددهم 40 شراء كتب أخرى لدى نفس الكتبي لإثراء مكتبتهم حتى يصبح بها 40 كتابا ، فما هو مقدار مساهمة كل تلميذ ؟

دورة جوان 1979

I التمارين :

- 1 - اشترى كمال معطفا وقيصا بـ 14 د .

يبليغ ثمن القميص $\frac{1}{3}$ ثمن المعطف ، فما هو ثمن المعطف ؟

- 2 - غرفة مستطيلة الشكل طولها 4 م وعرضها 3ر5 م فرش بلاطها بجليز مربع الشكل طول ضلعه 25 سم ، فما هو عدد الجليز اللازم ؟

- 3 - خرج سائق سيارة من منزله في منتصف النهار و 25 د ق ووصل الى تونس في الساعة الثانية و 19 د ق مساء وكان يجري بسرعة 90 كم / س ، فما هي المسافة التي قطعها ؟

- 4 - يوجد حوض دائري شعاعه 16 م وسط حديقة مربعة الشكل طول ضلعها 44 م ، ارسم تصميمًا للحديقة وللحوض حسب السلم $\frac{1}{400}$

II المشكلة :

اشترك ثلاثة إخوة في شراء أرض صالحة للبناء . يود الأول الحصول على $\frac{2}{5}$ قيس مساحتها والثاني على الثلث والثالث على $\frac{7}{15}$ من

قيس تلك المساحة .

أ - فهل هذا التقسيم ممكن ؟ لماذا ؟

ب - إذا كان نصيب الأول $\frac{2}{5}$ ونصيب الثاني $\frac{1}{3}$ بقي للثالث

744 م² ، فما هو قيس مساحة تلك الأرض ؟

ج - يبلغ ثمن شراء المتر المربع 2500 د وقدرت المصاريف بـ 15% من ثمن الشراء ، فكم يدفع كل من الإخوة الثلاثة ؟

دورة جوان 1980

I التمارين :

1 - أتمم تكمير الجدول التالي :

عدد ساعات العمل	3	1	9	12
الأجرة بحساب المليم	945			1890

2 - يبلغ الثمن المرسوم على حذاء 7550 د ، تمتعت بتخفيض فلم أدفع إلا 6040 د فما هي النسبة المئوية لهذا التخفيض ؟

3 - إذا كان ثمن $\frac{3}{4}$ م من القماش 831 مي فما هو ثمن 4 م من نفس ذلك القماش ؟

4 - أفرغت 45 ل من الزيت في قوارير ، فملأت 36 قارورة سعة كل منها $\frac{3}{4}$ ل وصببت بقية الزيت في قوارير سعة كل منها

$\frac{2}{5}$ ل ، فكم قارورة ملأت من النوع الثاني ؟

II المشكلة :

يريد تلاميذ أحد الأقسام تغطية 12 صورة بزجاج لوضعها في قاعة الدراسة قصد تزيينها . يبلغ طول كل صورة 30 سم وعرضها 25 سم ، فتقدم كل من علي وبشير وشريفة باقتراح .

أ - اقتراح علي :

يقوم بائع الزجاج بهذا العمل ويتقاضى 0,750 د عن كل صورة ابحث عن تكاليف هذا العمل .

ب - اقتراح بشير :

يقوم التلاميذ أنفسهم بهذا العمل فيشتروا الزجاج اللازم الذي عرضه 0,75 م ويبلغ ثمن المتر منه 1,800 د . فما هو طول الزجاج الذي يجب شراؤه وما هو ثمنه ؟

كما يجب عليهم أيضا شراء آلة لقص الزجاج ثمنها 2500 وورق تلصيق بـ 0,800 د وورقا مقوى بـ 0,250 د وكلاهما بـ 0,300 د .

ابحث عن قيمة كامل النفقات .

ج - اقتراح شريفة :

أشارت شريفة بشراء ألواح جاهزة من الزجاج بـ 0,500 د وألواح الواحد وبشراء الأوراق للتصيق والورق المقوى والكلابنة . فما هي قيمة النفقات ؟

د - أي الاقتراحات أنسب ؟ لماذا ؟

الحساب
الحلول

www.najahni.tn

1 - الحل

قيمة اللقافة بالدينار	طول اللقافة بالمتر	ثمن المتر من القماش بالدينار
52ر500	15	3ر500
22ر500	12ر5	1ر800
88ر200	21	4ر200

$$15 = 3ر500 : 52ر500$$

$$2ر500 = 12ر5 \times 1ر800$$

$$4ر200 = 21 : 88ر200$$

2 - الحل

سعة الوعاء بالتر	عدد القوارير	سعة القارورة بالتر
210	280	0ر75
288	360	0ر80
36	80	0ر45
158ر4	220	0ر72

$$0ر75 = 280 : 210$$

$$0ر80 = 360 : 288$$

$$36 = 80 \times 0ر45$$

$$220 = 0ر72 : 158ر4$$

3 - الحل

هاته الأعداد هي : 17 - 26 - 35 - 44 - 53 - 62 - 71 - 80 .

4 - الحل

أ - ثمن الأقلام بالمليم : ب - العلاقة المطلوبة هي

$$481 = 12 \cdot 493$$

عدد الأقلام :

$$13 = 37 : 481$$

$$+ (13 \times 37) = 493$$

وبذلك يكون السطح الحقيقي :

$$29458 = 25740 + 3718$$

التحقيق :

$$\begin{array}{r} 143 \\ \times 206 \\ \hline 858 \\ 286 \\ \hline = 29458 \end{array}$$

$$\begin{array}{r} 143 \\ \times 26 \\ \hline 858 \\ 286 \\ \hline = 3718 \end{array}$$

8 - الحل

طول ضلع الحقل بالمتر :

$$288 : 4 = 72 \text{ أو بالذكم } 72 \times 4$$

قيس مساحة الحقل بالآر :

$$5184 = 72 \times 72$$

ثمن شراء الحقل بالدينار :

$$10886400 = 5184 \times 210$$

قيس مساحة الحقل بالمتر المربع :

$$5184 \text{ أو } 5184 \text{ م}^2$$

ثمن بيع الحقل بالدينار :

$$12700800 = 5184 \times 2450$$

مقدار الربح بالدينار :

$$1814400 = 10886400 - 12700800$$

5 - الحل

أ - القيمة الموقعية للرقم 5 في العدد 53 هي 50

ب - إذا وضعنا صفرا بين الرقمين 3 و 5 فإن العدد يصبح 503 وتصبح القيمة الموقعية للرقم 5 في هذه الحالة 500 .

ج - عند وضع الصفر بين الرقمين 3 و 5 فإن الزيادة الحاصلة هي :
500 - 50 أي 450 .

6 - الحل

$$\begin{array}{l} \text{العدد المجهول} \\ \text{العدد } 95 \\ \text{ضعف العدد المجهول} \end{array} \left. \begin{array}{l} \text{-----} \\ \text{-----} \\ \text{-----} \end{array} \right\} 236$$

إذا طرحنا 95 من المجموع 236 فإننا نتحصل على 3 مرات العدد الذي
فكر فيه أنيس .

فالعدد الذي فكر فيه أنيس هو :

$$47 = \frac{95 - 236}{3}$$

7 - الحل

أ - السطح الذي وجدته هو :

$$3718 = 26 \times 143$$

ب - عند إهماله الصفر صارت العملية كالتالي :

$$6 \times 143 + 20 \times 143 = 26 \times 143$$

بينما كانت :

$$6 \times 143 + 200 \times 143 = 206 \times 143$$

الفرق بين النتيجتين هو :

$$25740 = 180 \times 143 = (20 - 200) \times 143 = 20 \times 143 - 200 \times 143$$

هناك حلول كثيرة لكل من تلك العمليات سنذكر البعض منها على سبيل المثال :

العملية الأولى :

$$0 = (2 + 2) - (2 + 2)$$

$$0 = (2 - 2) + (2 - 2)$$

$$0 = (2 \times 2) - (2 \times 2)$$

$$0 = (2 - 2) - (2 - 2)$$

$$0 = (2 \times 2) : (2 - 2)$$

$$0 = (2 : 2) : (2 - 2)$$

$$0 = (2 : 2) - (2 : 2)$$

العملية الثانية :

$$1 = (2 + 2) : (2 + 2)$$

$$1 = (2 \times 2) : (2 \times 2)$$

$$1 = (2 : 2) \times (2 : 2)$$

$$1 = (2 : 2) : (2 : 2)$$

العملية الثالثة :

$$2 = (2 : 2) + (2 : 2)$$

$$2 = 2 + [2 : (2 - 2)]$$

العملية الرابعة :

$$3 = (2 : 2) - (2 \times 2)$$

$$3 = 2 : (2 + 2 + 2)$$

$$3 = (2 : 2) - (2 + 2)$$

- من الصفحة 1 عدد إلى الصفحة 9 عدد كتبت 9 أرقام
- من الصفحة 10 عدد إلى الصفحة 99 عدد كتبت 180 رقماً [9 عشرات بكل واحدة منها 10 أعداد ذوات رقمين أي :
[$180 = 2 \times (10 \times 9)$]
- من الصفحة 100 عدد إلى الصفحة 128 عدد كتبت 87 رقماً مقسمة كما يلي :

من 100 إلى 109 هناك 10 أعداد ذوات 3 أرقام أي 30 رقماً

من 110 إلى 119 هناك 10 أعداد ذوات 3 أرقام أي 30 رقماً

من 120 إلى 128 هناك 9 أعداد ذوات 3 أرقام أي 27 رقماً

فيكون العدد الجملي للأرقام المكتوبة : $276 = 87 + 180 + 9$

- يتطلب ترقيم الصفحات من 1 إلى 9 تسعة أرقام .
 - يتطلب ترقيم الصفحات من 10 إلى 99 مائة وثمانين رقماً
 $180 = 2 \times (10 \times 9)$
- لم يبق من العدد الجملي للأرقام التي كتبت إلا $216 - (90 + 9) = 108$ أي 27 رقماً وهي التي تكون الأعداد ذوات 3 أرقام فنتحصل على 9 أعداد ذوات أرقام أي على 9 صفحات أخرى .

لذا فإن عدد صفحات كراسي هو $108 = 9 + 90 + 9$.

كلما وضعنا صفراً بين رقم الاحاد ورقم العشرات في عدد ذي رقمين ذلك العدد يزداد بـ 90 مرة عدد عشراته . أمثلة :

$$2 \times 90 = 180 = 25 - 205$$

$$7 \times 90 = 630 = 71 - 701$$

$$5 \times 90 = 450 = 54 - 504 \text{ الخ ...}$$

16 - الحـل

يكتب العدد كما يلي : 2-1-0

- أ - بما أن العدد يقبل القسمة على 5 فإن رقم أحاده يكون 0 أو 5 .
ب - بما أن العدد يقبل القسمة على 3 فإن مجموع أرقامه يكون مكرراً للعدد 3 .

الحالة الأولى : رقم الأحاد هو 0 :

لا يمكن أن يكون رقم المئات سوى 0 أو 3 أو 6 أو 9 لأن :

$$3 = 2 + 0 + 1 + 0 \text{ و } 6 = 2 + 3 + 1 + 0 \text{ و } 9 = 2 + 6 + 1 + 0$$

$$\text{و } 12 = 2 + 9 + 1 + 0$$

ونتحصل على الأعداد التالية : 2010 . 2610 . 2310 . 2910

الحالة الثانية : رقم الأحاد هو 5 :

لا يمكن أن يكون رقم المئات سوى 1 أو 4 أو 7 لأن

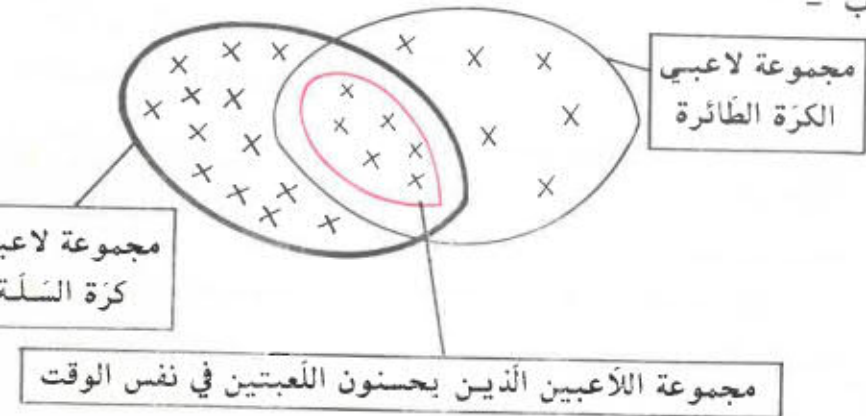
$$5 = 2 + 1 + 1 + 1 \text{ و } 9 = 2 + 4 + 1 + 5 \text{ و } 12 = 2 + 7 + 1 + 5$$

ونتحصل على الأعداد التالية : 2115 . 2415 . 2715

17 - الحـل

- أ - اللاعبون الستة الذين يحسنون اللعبتين معاهم موجودون ضمن مجموعة لاعبي الكرة الطائرة وكذلك ضمن مجموعة لاعبي كرة السلة. لذا فإن عدد اللاعبين بهذا الفريق هو : $(12+19) - 6 = 25$

ب -



لذا فإن الزيادة الحاصلة تساوي 90 مرة عدد عشرات ذلك العدد وبذلك

فإن عدد العشرات المطلوب هو :

$$630 : 90 = 7$$

العدد المطلوب هو حينئذ 76 .

13 - الحـل

سطح القاسم في الخارج :

$$305 - 6 = 299$$

القاسم هو إذا :

$$299 : 13 = 23$$

14 - الحـل

- أ - أعتبر العدد العشري 372ر6 ، بعد حذف الفاصل أتحصل على

العدد الصحيح 3726

$$3726 - 372ر6 = 3353ر4$$

- ب - $3726 = 372ر6 \times 10$ لذا فإن العدد الصحيح يحوي 10 مرات

العدد العشري .

15 - الحـل

ثمن 1ر275 كغ من اللحم بالدينار :

$$6ر750 - 4ر455 = 2ر295$$

ثمن الكغ من اللحم بالدينار :

$$\frac{2ر295}{1ر275} = 1ر800$$

وزن قطعة اللحم بالكغ :

$$\frac{6ر750}{1ر800} = 3ر750$$

الدخل السنوي للعامل بالدينار :

$$558750 = 298 \times 1875$$

ما ينفقه العامل سنويا بالدينار :

$$456250 = 102500 - 558750$$

معدل ما ينفقه العامل يوميا بالدينار :

$$1250 = \frac{456250}{365}$$

19 - الحل

أ - عدد التلاميذ بكل فريق هو قاسم مشترك للعددين 91 و 42 .
لنبحث إذا عن ق - م - أ (42 ، 91) :

$$\begin{array}{l|l} 42 & 2 \\ 21 & 3 \\ 7 & 7 \\ 1 & \end{array}$$

$$\begin{array}{l|l} 91 & 7 \\ 13 & 13 \\ 1 & \end{array}$$

$$7 \times 3 \times 2 = 42$$

$$13 \times 7 = 91$$

$$7 = (42 ، 91) \text{ ق. م. أ.}$$

ب - عدد الفرق هو :

● بالنسبة للفتيان :

$$13 = 7 : 91$$

● بالنسبة للفتيات :

$$6 = 7 : 42$$

ويكون بذلك عدد الفرق $13 + 6 = 19$

عدد أيام الشغل :

$$12 = \frac{37200 + 43200}{6700}$$

أجرة العامل الأول بالدينار :

$$3600 = \frac{43200}{12}$$

أجرة العامل الثاني بالدينار :

$$3100 = \frac{37200}{12}$$

21 - الحل

$$3900 = \frac{13 \times 0600}{2} \text{ تمثل } \frac{1}{15} \text{ من القيمة الجمالية لتكاليف}$$

الرحلة فالقيمة الجمالية للرحلة هي بالدينار :

$$58500 = 15 \times 3900$$

22 - الحل

عمر أمك هو بالسنوات :

$$33 = 5 - 38$$

عمر مريم بالسنوات هو :

$$4 = 29 - 33$$

عمرك أنت بالسنوات هو :

$$10 = 6 + 4$$

23 - الحل

$$+ 10 + 10 = 5 + (6 + 4) + (7 + 3) + (8 + 2) + (9 + 1) - \text{أ}$$

$$45 = 5 + 10 + 10$$

$$= (11 + 9) + (13 + 7) + (15 + 5) + (17 + 3) + (19 + 1) - \text{ب}$$

$$100 = 20 + 20 + 20 + 20 + 20$$

$$+ 30 = 15 + (18 + 12) + (21 + 9) + (24 + 6) + (27 + 3) - \text{ج}$$

$$135 = 15 + 30 + 30 + 30 + 30$$

24 - الحل

$$19 + 17 + 15 + 13 + 11 + 9 + 7 + 5 + 3 + 1 - \text{أ}$$

$$= (11 + 9) + (13 + 7) + (15 + 5) + (17 + 3) + (19 + 1) - \text{ب}$$

$$100 = 5 \times 20$$

25 - الحل

$$\begin{array}{r} 1054 \\ + 4501 \\ \hline = 5555 \end{array}$$

$$\begin{array}{r} 1504 \\ + 4051 \\ \hline = 5555 \end{array}$$

$$\begin{array}{r} 4321 \\ + 1234 \\ \hline = 5555 \end{array}$$

$$\begin{array}{r} 2053 \\ + 3502 \\ \hline = 5555 \end{array}$$

$$\begin{array}{r} 3412 \\ + 2143 \\ \hline = 5555 \end{array}$$

26 - الحل

$$7 = 3 - 10 = 3 + 10 \text{ لذا فإن أ}$$

$$4 = 8 - 12 = (1 + 1) - 12 = 12 = 1 + \text{أ} \text{ فإن ب}$$

$$3 = 8 - 11 = (1 + 1) - 11 = 11 = 1 + \text{ج} \text{ لذا فإن ج}$$

وهكذا تصبح العملية كما يلي :

$$\begin{array}{r} 3747 \\ + 1373 \\ \hline = 5120 \end{array}$$

العملية الثانية :

● لتعرف على العدد ع . بما أن ع + 1 + العدد المحتفظ به = 10 فإن العدد لا يمكن أن يكون سوى 9 .

● لذا فإن ك + ق + العدد المحتفظ به = 9 وبما أن العدد المحتفظ به لا يفوق 1 فإن ك + ق = 8 أو ك + ق = 9

أ - فإذا كان ق > 5 فلا يمكن أن يكون سوى 3 أما العدد ك فهو ضعف العدد ق أي 6 وتصبح العملية :

$$\begin{array}{r} 963 \\ + 133 \\ \hline = 1096 \end{array}$$

ب - أما إذا كان ق < 5 فلا يمكن أن يكون سوى 6 . أما العدد ك فهو 2 وتصبح العملية :

$$\begin{array}{r} 926 \\ + 166 \\ \hline = 1092 \end{array}$$

27 - الحل

بما أن ج - د = 37 فإن ج = 37 + د وكذلك د = ج - 37

$$\bullet \text{ د = ج - 37}$$

$$\text{د} = 37 - 37$$

$$\text{د} = 0$$

$$\bullet \text{ ج} = 37 + \text{د}$$

$$\text{ج} = 37 + 37$$

$$\text{ج} = 74$$

العملية الأولى :

$$6 = 2 - 8$$

$$15 = 9 + 6 \text{ (أكتب 5 وأحتفظ ب 1)}$$

$$7 = \square + (1 + 6) \text{ وينتج عن ذلك أن } 14 = \square + (1 + 6)$$

$$1 = \triangle + (1 + 0) \text{ وينتج عن ذلك أن } 2 = \triangle + (1 + 0)$$

ونتحصل في النهاية على :

$$2458$$

$$- 1792$$

$$= 0666$$

العملية الثانية :

$$8 = \square + (3 + 4) \text{ وينتج عن ذلك أن } 15 = \square + (3 + 4)$$

$$5 = \triangle + (0 + 3 + 1) \text{ وينتج عن ذلك أن } 9 = \triangle + (0 + 3 + 1)$$

$$0 = \square + (9 + 7) \text{ وينتج عن ذلك أن } 16 = \square + (9 + 7)$$

$$1 = \square + (9 + 7) \text{ وينتج عن ذلك أن } 17 = \square + (9 + 7)$$

$$2 = \square + (9 + 7) \text{ وينتج عن ذلك أن } 18 = \square + (9 + 7)$$

$$3 = \square + (9 + 7) \text{ وينتج عن ذلك أن } 19 = \square + (9 + 7)$$

ونتحصل في النهاية على الحلول الأربعة التالية :

$$\begin{array}{r} 2738 \\ + 954 \\ + 7303 \\ \hline = 10995 \end{array}$$

$$\begin{array}{r} 2738 \\ + 954 \\ + 7203 \\ \hline = 10895 \end{array}$$

$$\begin{array}{r} 2738 \\ + 954 \\ + 7103 \\ \hline = 10795 \end{array}$$

$$\begin{array}{r} 2738 \\ + 954 \\ + 7003 \\ \hline = 10695 \end{array}$$

29 - الحل

$$853$$

$$- 297$$

$$= 556$$

$$\begin{array}{r} 853 \\ - 297 \\ \hline = 556 \\ 1706 \end{array}$$

نلاحظ أن 1706 هو ضعف العدد 853 لأن :

$$(297 - 853) + 297 + 853 = 1706$$

$$297 - 853 + 297 + 853 =$$

$$(297 - 297) + 853 + 853 =$$

$$0 + 2 \times 853 =$$

$$2 \times 853 =$$

$$\begin{array}{r} 1235 \\ - 769 \\ \hline = 466 \end{array}$$

$$2470$$

$$2 \times 1235 = 2470$$

$$\begin{array}{r} 328 \\ - 75 \\ \hline = 253 \end{array}$$

$$656$$

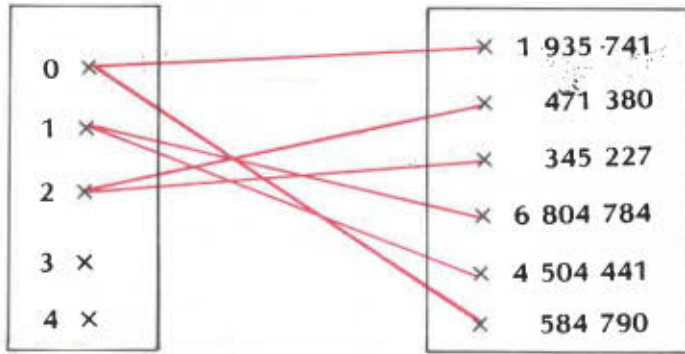
$$2 \times 328 = 656$$

30 - الحل

مجموع الأعداد بكل سطر وبكل واد وبكل قطر هو :

$$450 : 5 = 90$$

16	29	12	25	8
9	17	30	13	21
22	10	18	26	14
15	23	6	19	27
28	11	24	7	20




ملاحظة :

نلاحظ أن العددين 3 و 4 غير متصلين بالأعداد المكتوبة داخل المستطيل لأن باقي عملية القسمة على 3 هو عدد أصغر من 3 .

34 - الحل

نذكر بتعريف القسمة الاقليدية :

المقسوم = القاسم \times الخارج + الباقي والباقي $<$ القاسم .
 أما بالنسبة لهذا التمرين فلنا
 المقسوم = القاسم \times 3 + 12 لذا فإن القاسم $<$ 12 .
 يمكن تمثيل المقسوم والقاسم على النحو التالي :

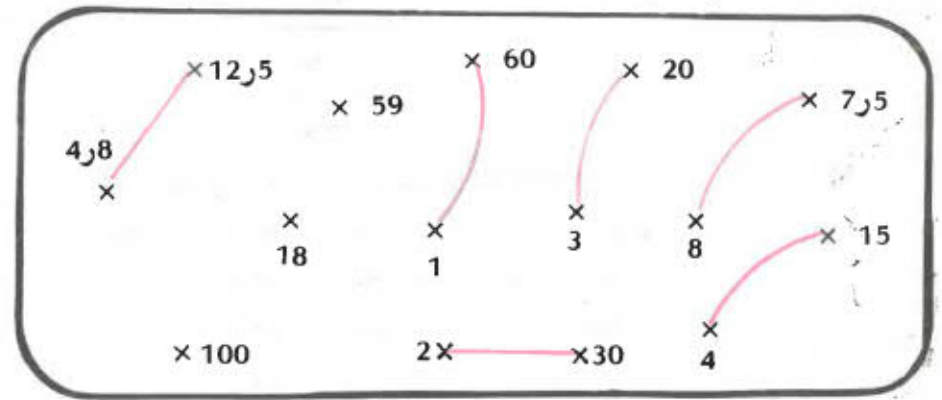


بناء على هذا الشكل نلاحظ أن القاسم هو :

$$48 = \frac{12 - 204}{4}$$

أما المقسوم فهو :

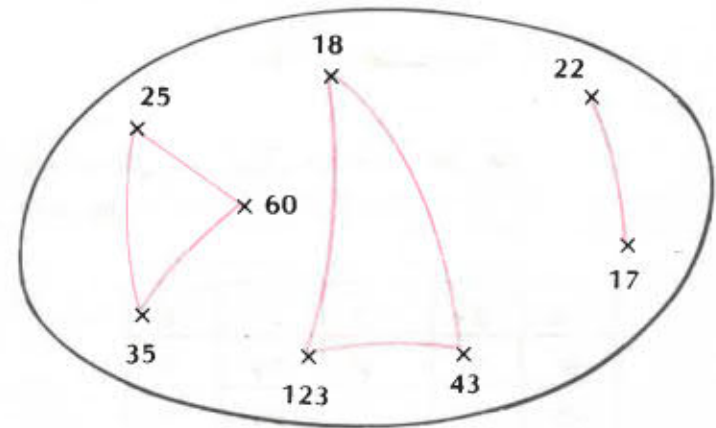
$$156 = 12 + 144 = 12 + 3 \times 48$$



32 - الحل

الأعداد 25 و 60 و 35 لها نفس الباقي وهو الضفر
 الأعداد 18 و 123 و 43 لها نفس الباقي وهو 3

العدان 22 و 17 لهما نفس الباقي وهو 2



يكون العدد قابلا للقسمة على 9 إذا كان مجموع أرقامه مكررا لـ 9 أي إذا كان ذلك المجموع 0 - 9 - 18 - 27 - 36 - 45 الخ ...
أما إذا كان العدد غير قابل للقسمة على 9 فإن باقي قسمته على 9 هو باقي قسمة مجموع أرقامه على 9 .
لنبحث إذا عن مجاميع أرقام هذه الأعداد .

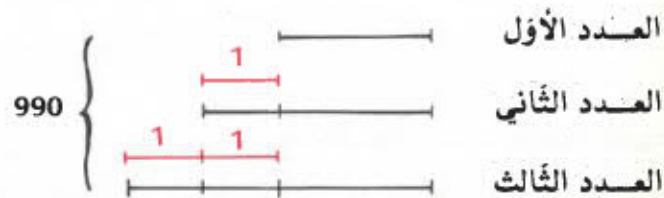
باقي قسمة 21966 على 9 هو	$6 + 2 \times 9 = 24$	$24 = 2 + 1 + 9 + 6 + 6$
باقي قسمة 143003 على 9 هو	$2 + 1 \times 9 = 11$	$11 = 1 + 4 + 1 + 0 + 0 + 3$
باقي قسمة 3227 على 9 هو	$5 + 1 \times 9 = 14$	$14 = 1 + 2 + 2 + 7$
باقي قسمة 173110 على 9 هو	$4 + 1 \times 9 = 13$	$13 = 1 + 7 + 3 + 1 + 1 + 0$
باقي قسمة 837169 على 9 هو	$7 + 3 \times 9 = 34$	$34 = 8 + 3 + 7 + 1 + 6 + 9$
باقي قسمة 100018 على 9 هو	$1 + 1 \times 9 = 10$	$10 = 1 + 0 + 0 + 0 + 1 + 8$

38 - الحـل

معدل الاستهلاك بالتر في 100 كم

$$8 = \frac{100 \times 40}{500}$$

39 - الحـل



هناك طريقتان لحل المسألة سنتوخى إحداهما .

نزيد 3 الى المجموع فنحصل على 3 مرات العدد الكبير .

$$993 = 3 + 990$$

$$\begin{array}{r} 156 \quad | \quad 48 \\ - 144 \quad | \\ \hline 12 \end{array}$$

35 - الحـل

لنذكر بعلاقة القسمة الاقليدية :

المقسوم = القاسم \times الخارج + الباقي والباقي $>$ القاسم . لذا فإن المقسوم هو :

$$35 = 0 + 7 \times 5 \text{ أو}$$

$$36 = 1 + 7 \times 5 \text{ أو}$$

$$37 = 2 + 7 \times 5 \text{ أو}$$

$$38 = 3 + 7 \times 5 \text{ أو}$$

$$39 = 4 + 7 \times 5$$

36 - الحـل

نقوم بعملية القسمة الاقليدية لـ 224 على 29 :

● إن كانت هذه القسمة مستوفاة أي إذا كان باقيها صفرا

فإن 224 هو مكرر للعدد 29 .

● إن كانت هذه القسمة غير مستوفاة فإن 224 ليس من مكررات 29 .

$$\begin{array}{r} 224 \quad | \quad 29 \\ 21 \quad | \quad 7 \end{array}$$

أي أن $224 = 21 + 7 \times 29$ ($29 > 21$) . لذا فإن 224 ليس من مكررات 29 .

كما تمكنا عملية القسمة السابقة من التعرف على المكررين المتتاليين

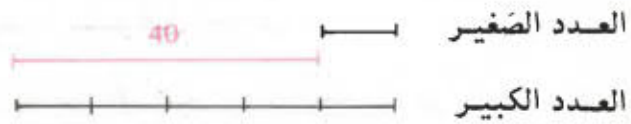
الذين يحيطان بالعدد 224 وهما $203 = 7 \times 29$ و $232 = 8 \times 29$ لذا فنحصل على : $232 > 224 > 203$

41 - الحـل

يكون الحـل على نفس المنوال الوارد في البعض من التمارين السابقة
ونتحصـل على المبلغين 1ر325 د و 2ر172 د .

42 - الحـل

الخارج صحيح يعني أن الباقي صفر وينتج عن ذلك أن :
المقسوم = القاسم \times 5




العدد الصغير هو :

$$10 = 4 : 40$$

العدد الكبير هو :

$$50 = \frac{5 \times 40}{4} \text{ أو } 50 = 10 + 40 \text{ أو } 50 = 5 \times 10$$

43 - الحـل



هناك طريقتان لحل المسألة سنتوخى إحداهما .

نزيد 0ر400 د و 0ر700 د و 0ر700 د الى المجموع أي 3 د فنتحصـل على
مـرات مناب الأول أي أن 3 مـرات هذا المناب يساوي 4ر800 د
مناب الأول هو بالدينار :

$$1ر600 = \frac{4ر800}{3}$$

العدد الكبير هو :

$$331 = 3 \times 993$$

العدد المتوسط هو :

$$330 = 1 - 331$$

العدد الأصغر هو :

$$329 = 1 - 330 \text{ أو } 329 = 2 - 331 \text{ أو } 329 = 990 - (331 + 330)$$

40 - الحـل



نطرح الفرق من المجموع فنتحصـل على ضعف العدد الصغير :

$$34 = 8 - 42 \left\{ \begin{array}{l} \text{-----} \\ \text{-----} \end{array} \right.$$

العدد الصغير هو حينئذ : 17 = 2 : 34

والعدد الكبير هو 8 + 17 أو 25 = 42 - 17 أي 25

ملاحظة :

يمكن حل المسألة بالطريقة التالية :

نزيد الفرق الى المجموع فنتحصـل على ضعف العدد الكبير :


$$50 = 8 + 42 \left\{ \begin{array}{l} \text{-----} \\ \text{-----} \end{array} \right.$$

العدد الكبير هو حينئذ : 25 = 2 : 50

والعدد الصغير هو 8 - 25 أو 17 = 25 - 42

لنتمكّن من رسم شكل لتمثيل هذه الأعداد يجب علينا أن نقارنها
بما أن مجموع الأول والثاني > مجموع الأول والثالث ($33 > 23$)
فإن الثاني > الثالث
وبما أن مجموع الأول والثاني > مجموع الثاني والثالث ($40 > 23$)
فإن الأول > الثاني ونتحصل على الترتيب التالي

الأول > الثاني > الثالث .



لو جمعنا الأعداد 23 و 40 و 33 لتحصلنا على ضعف مجموع الأعداد الثلاثة
أي أن $96 = 33 + 40 + 23$ يمثل مجموع أضعاف تلك الأعداد .
(العدد الأول + العدد الثاني + العدد الثالث) $\times 2 = 96$
مجموع تلك الأعداد هو حينئذ :

$$96 = 2 : 48$$

العدد الثالث هو :

$$48 = 23 - 25$$

العدد الأول هو

$$48 = 40 - 8$$

العدد الثاني هو :


$$23 - 8 = 15 \text{ أو } 25 - 40 = 15 \text{ أو } 48 - (8 + 25) = 15 = 33 - 48$$

$$15 = 5 \times 3 \text{ لذا فإن الكسر } \frac{3}{17} \text{ يكافئ الكسر } \frac{5 \times 3}{5 \times 17} \text{ أي } \frac{15}{85}$$

$$1600 - 0700 = 0900$$

مصاب الثالث بالدينار :

$$0900 - 0400 = 0500$$



هناك طريقتان لحل المسألة سنتوخى إحداها .

نزيد 5 مي و 7 مي أي 12 مي الى المجموع فتتوصل على ضعف مبلغ
الطفل الثاني .

ضعف مبلغ الطفل الثاني بالمليـم :

$$34 + 12 = 46$$

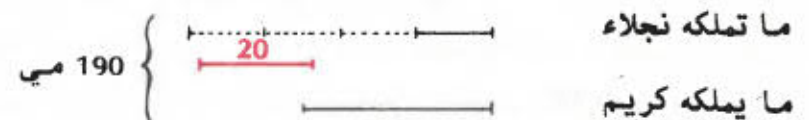
مصاب الطفل الثاني بالمليـم :

$$46 : 2 = 23$$

مصاب الطفل الأول بالمليـم :

$$23 - 34 = 11 \text{ أو } 12 - 11 = 23$$

أرسم شكلا لحل المسألة



ما يملكه كريم بالمليـم :

$$190 - 42 = 148$$

ما تملكه نجلاء بالمليـم :

$$42 = \frac{20 + 190}{5}$$

49 - الحل

المبلغ الذي أنفقته ريم بحساب الكسور :

$$\frac{19}{20} = \frac{15}{20} + \frac{4}{20} = \frac{3}{4} + \frac{1}{5}$$

فالمبلغ الباقي 14 مي يمثل $\frac{1}{20}$

المبلغ الذي كانت تملكه ريم بحساب المليم هو :

$$280 = 20 \times 14$$

50 - الحل

ثمن قطعة الأرض بالدينار :

$$4740 = 4 : 18960$$

تكاليف بناء المنزل بالدينار .

$$12640 = \frac{2 \times 18960}{3}$$

ما بقي لمحمد بالدينار :

$$1580 = (12640 + 4740) - 18960$$

51 - الحل

المسافة كاملة ($\frac{9}{9}$)

المسافة $\frac{7}{9}$ كم + المسافة $\frac{2}{3}$ $\frac{21}{9}$

يبرز لنا الشكل السابق أن $\frac{7}{9}$ المسافة تتكوّن من ثلثيها أي $\frac{6}{9}$

$$\frac{21}{119} = \frac{7 \times 3}{7 \times 17} \text{ يكافئ الكسر } \frac{3}{17} \text{ فإن الكسر}$$

$$\frac{18}{102} = \frac{6 \times 3}{6 \times 17} \text{ يكافئ الكسر } \frac{3}{17} \text{ لذا فإن الكسر}$$

النتيجة :

$$\frac{18}{102} = \frac{21}{119} = \frac{15}{85} = \frac{3}{17}$$

48 - الحل



هناك طريقتان لحل المسألة سنتوخى إحداهما .

نزيد $\frac{2}{9}$ الى المجموع فنحصل على ضعف الكسر الكبير أي أن ضعف

الكسر الكبير هو :

$$\frac{35}{36} = \frac{8 + 27}{36} = \frac{8}{36} + \frac{27}{36} = \frac{2}{9} + \frac{3}{4}$$

فالكسر الكبير هو حينئذ :

$$\frac{35}{72} = \frac{35}{2 \times 36} = 2 : \frac{35}{36}$$

أما الكسر الصغير فهو :

$$\frac{19}{72} = \frac{35}{72} - \frac{54}{72} = \frac{35}{72} - \frac{3}{4} \text{ أو } \frac{19}{72} = \frac{16}{72} - \frac{35}{72} = \frac{2}{9} - \frac{35}{72}$$

و 21 كم لذا فإن 21 كم هو الفرق بين $\frac{7}{9}$ المسافة و $\frac{6}{9}$ تلك المسافة

أي $\frac{1}{9}$ المسافة ، لذا فإن المسافة هي بالكم :

$$. 189 = 9 \times 21$$

52 - الحـل



العدد الكبير



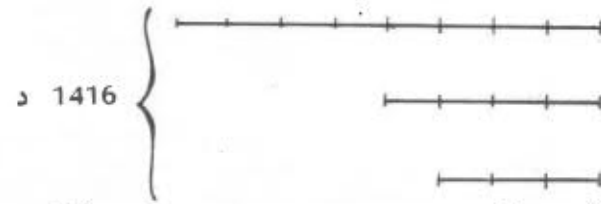
العدد الصغير

يبين لنا الشكل أعلاه أن الفرق 9 يساوي $\frac{1}{3}$ العدد الكبير لذا فإن هذا

العدد هو : $27 = 3 \times 9$ ، أما العدد الصغير فهو $18 = 2 \times 9$

أو $18 = 9 - 27$

53 - الحـل



مناب الأول

مناب الثاني

مناب الثالث

نلاحظ حسب الشكل أعلاه أن المبلغ 1416 د يتكون من $\frac{15}{3}$ مناب

الشخص الثالث لذا فإن مناب هذا الأخير بالدينار هو :

$$283200 = \frac{3 \times 1416}{15}$$

مناب الشخص الثاني بالدينار :

$$377600 = \frac{4 \times 283200}{3}$$

مناب الشخص الأول بالدينار :

$$755200 = 2 \times 377600$$

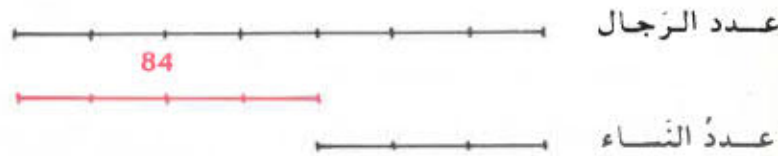
54 - الحـل



ثمن التـنورة بالدينار :

$$12 = \frac{4 \times 15}{5}$$

55 - الحـل



الفرق بين عدد الرجال وعدد النساء بحساب الكسور :

$$\frac{4}{7} = \frac{3}{7} - \frac{7}{7}$$

عدد العاملين بين نساء ورجال :

$$210 = \frac{10 \times 84}{4}$$

عدد الرجال :

$$147 = \frac{7 \times 210}{10}$$

عدد النساء :

$$63 = \frac{3 \times 84}{4} \text{ أو } 63 = \frac{3 \times 210}{10} \text{ أو } 63 = 84 - 147$$

قيس مساحة القطعة الأولى بالضم² :
450 = 18 × 25

قيس مساحة القطعة الثانية بالضم² :
19350 = 90 × 215
وزن القطعة الثانية بالكغ :

$$38,700 = \frac{19350 \times 0,900}{450}$$

ثمن متر القماش بالدينار :

$$1,650 = \frac{5,280}{3,20}$$

ثمن القطعة الأولى بالدينار :
4,620 = 2,80 × 1,650

ثمن القطعة الثانية بالدينار :
7,821 = 4,74 × 1,650

طول القطعة الثالثة بالمتر :
4,60 = $\frac{7,590}{1,650}$

طول القطعة الرابعة بالمتر :
3,50 = $\frac{5,775}{1,650}$

كمية القماش اللازمة لصنع فستان واحد بالمتر :
 $2,75 = \frac{13,75}{5}$

كمية القماش اللازمة لصنع 22 فستانا بالمتر :
60,50 = 22 × 2,75

عدد الفساتين الممكن صنعها بـ 22 م من القماش

$$8 = \frac{22}{2,75}$$

أ - بسط الكسر الجديد :

$$16 = 14 + 2$$

مقام الكسر الجديد :

$$40 = 35 + 5$$

فالكر الجديد هو $\frac{16}{40}$ وبعد الاختزال يصبح $\frac{2}{5}$ لذلك فإن

الكسرين $\frac{2}{5}$ و $\frac{16}{40}$ متكافئان .

ب - العدد الذي أضيفه إلى مقام الكسر $\frac{2}{5}$ لأتحصل على كسر مقامه 150 هو 150 - 5 = 145

ج - ألاحظ أن 150 هو سطح العددين 5 و 30 لذلك يجب ضرب البسط 2 في العدد 30 فيصبح البسط الجديد :

$$60 = 30 \times 2$$

فالعدد الذي ينبغي أن أضيفه في هذه الحالة هو إذا :

$$58 = 2 - 60$$

التحقيق :

$$(\text{الإختزال بـ } 8) \quad \frac{2}{5} = \frac{8 \times 2}{8 \times 5} = \frac{16}{40}$$

$$(\text{الإختزال بـ } 30) \quad \frac{2}{5} = \frac{30 \times 2}{30 \times 5} = \frac{60}{150}$$

63 - الحل

1,460	0,960	0,500	0,375	0,250
1,401	0,921	0,480	0,360	0,240

64 - الحل

كل دينار يناسبه ربح يساوي بالدينار.

$$0,200 = \frac{74,800}{159 + 95 + 120}$$

- 120 د ← (0,200 × 120) د أو 24 د
 95 د ← (0,200 × 95) د أو 19 د
 159 د ← (0,200 × 159) د أو 31,800 د

65 - الحل

عدد العمال اللازم لإنجاز ذلك العمل في 6 أشهر هو $16 = \frac{8 \times 12}{6}$

أي يجب إلحاق 4 عمال لأن 16 - 12 = 4

66 - الحل

السنة	عدد السكان في أول السنة	نسبة الزيادة	الزيادة
1975	5 588 000	2ر3 %	128 524
1976	5 716 524	2ر3 %	131480
1977	5 848 004	2ر3 %	134 504
1978	5 982 508	2ر3 %	137 587

60 - الحل

1980	4000	1875	5400	700	200	ثمن الكلفة بالدينار
99	440	150	1620	91	10	الربح بالدينار
% 5	% 11	% 8	% 30	% 13	% 5	النسبة المئوية للربح

61 - الحل

عدد الأشخاص	كمية السكر المستهلكة بالكغ		
	في تونس	في أوروبا	في العالم
10	235ر3	370	190
2	47ر06	74	38
16	376ر48	592	304
6	141ر18	222	114
18	423ر54	666	342
12	282ر36	444	228
8	188ر24	296	152
22	517ر66	814	418

62 - الحل

النسبة المئوية للعمليات :

$$32 \text{ أي } 32 = \frac{80 \times 100}{250} \%$$

النسبة المئوية للعاملين :

$$68 \text{ أي } 68 = 100 - 32 \%$$

68 - الحل

القيمة الجمليّة للإرث بالدينار :

$$18\ 000 = 8000 + 4\ 500 + 5\ 500$$

$$6\ 000 = \frac{18\ 000}{3} \text{ نصيب كل واحد منهم بالدينار هو}$$

يسلم علي لأحمد مبلغا قدره بالدينار : $500 = 5500 - 6000$

يسلم علي لمحمد مبلغا قدره بالدينار : $1500 = 4500 - 6000$

69 - الحل

تعطي البقرات السبعة في اليوم الواحد كمّيّة من الحليب قدرها باللتر :

$$52ر50 = 7 \times 7ر5$$

يبيع الفلاح الحليب بمبلغ قدره بالدينار :

$$7ر350 = 52ر50 \times 0ر140$$

52ر5 ل من الحليب تعطي زبدة بالكغ

$$2ر1 = 25 : 52ر5$$

قيمة الزبدة بالدينار :

$$2ر100 = 1 \times 2ر100$$

$$42 = 20 \times \frac{52ر50}{25} \text{ كمّيّة اللبن المستخرجة من الحليب باللتر}$$

يبيعها الفلاح بـ ($42 \times 0ر115$) د أو $4ر830$ د ويكون دخله إذا بالدينار :

بالدينار بعد شهر ($6ر930 - 7ر350$) $12ر600 = 30 \times$

70 - الحل

جملة المصاريف هي بالدينار :

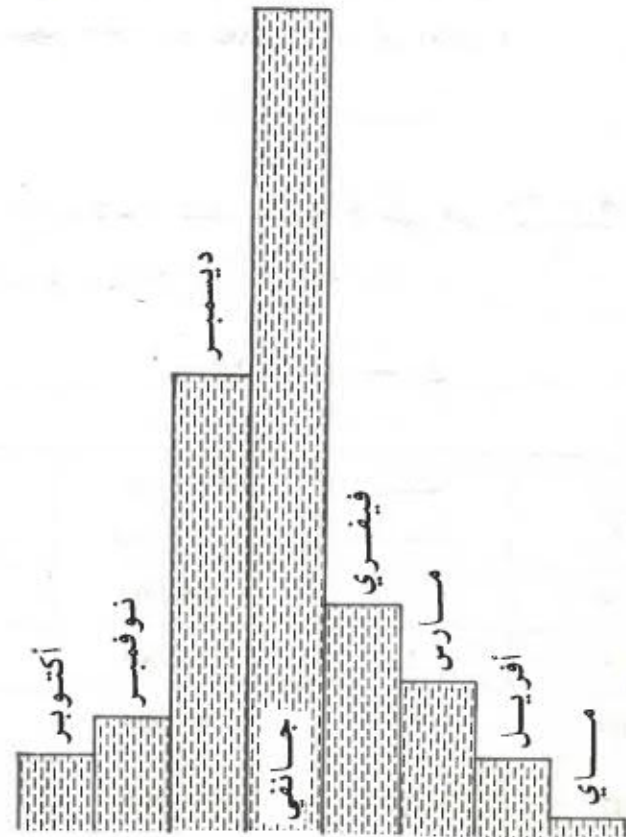
$$11 = 1ر300 + 4ر500 + 5ر200$$

مقدار مساهمة كل واحد منهم بالدينار :

$$2ر750 = \frac{11}{4}$$

140 762	% 2ر3	6 120 105	1979
144 000	% 2ر3	6 260 868	1980
147 312	% 2ر3	6 404 868	1981
150 700	% 2ر3	6 552 180	1982
154 166	% 2ر3	6 702 880	1983
157 712	% 2ر3	6 857 046	1984
161 340	% 2ر3	7 014 758	1985

67 - الحل



www.najahni.tn

ثمن بيع البطاطا بالدينار :

$$184 = 1600 \times 0,115$$

ثمن بيع الطماطم بالدينار :

$$63,750 = 850 \times 0,075$$

ثمن بيع البطاطا والطماطم بالدينار :

$$247,750 = 63,750 + 184$$

المقدار الذي ربحاه بالدينار :

$$69 = 178,750 - 247,750$$

مقدار ما يربحه كل من الأب وابنه بالدينار :

$$34,500 = \frac{69}{2}$$

73 - الحل

أ - كمية الزيت المستخرجة باللتر :

$$167,25 = 96 + 71,25 = (120 \times 0,80) + (95 \times 0,75)$$

كمية الزيت المتبقية بالبرميل باللتر :

$$53,75 = 167,25 - 220$$

ب - ثمن بيع اللتر بالدينار :

$$0,200 = \frac{33,450}{167,25}$$

ج - ثمن بيع القارورة من فئة 0,75 ل بالدينار :

$$0,150 = 0,200 \times 0,75$$

ثمن بيع القارورة من فئة 0,80 ل بالدينار :

$$0,160 = 0,200 \times 0,80$$

74 - الحل

ثمن كلفة الخرفان بالدينار :

$$1762,500 = 47,500 + 1715$$

يدفع مصطفى 2750 د

يدفع منير مبلغا بالدينار قدره : $1450 = 1300 - 2750$

أما علي فيأخذ مبلغا بالدينار قدره : $2450 = 2750 - 5200$

أما محمد فيأخذ مبلغا بالدينار قدره : $1750 = 2750 - 4500$

71 - الحل

جملة ما صرفه صالح بالمليم :

$$365 = 100 + 185 + 80$$

ثمن التفاح بالمليم :

$$380 : 2 = 190$$

ثمن البطيخة بالمليم :

$$495 = 2750 \times 180$$

جملة ما صرفه محمود بالمليم :

$$685 = 495 + 190$$

على صالح أن يدفع لمحمود لأن هذا الأخير صرف أكثر من الأول .

جملة ما صرفه الولدان بالمليم :

$$1050 = 685 + 365$$

ما ينبغي أن يدفعه كل واحد بالمليم :

$$1050 : 2 = 525$$

المبلغ الذي سيدفعه صالح لمحمود بالمليم :

$$160 = 525 - 685 \text{ أو } 160 = 365 - 525$$

72 - الحل

ثمن شراء البطاطا بالدينار :

$$128 = 1,6 \times 80$$

ثمن شراء الطماطم بالدينار :

$$38,250 = 8,5 \times 4,500$$

ثمن كلفة البطاطا والطماطم بالدينار :

$$178,750 = 12,500 + 38,250 + 128$$

ثمن بيع الخرفان بالدينار :

$$1935ر500 = 173 + 1762و500$$


عدد الخرفان آلتى وقع بيعها :

$$49 = \frac{1935ر500}{39ر500}$$

عدد الخرفان آلتى اشتراها التاجر :

$$57 = 8 + 49$$

75 - الحـل



طول القطعة الثانية بالمتري :

$$52 = 7 + 45$$

طول القطعة الثالثة بالمتري :

$$57 = 5 + 52$$

نلاحظ إذا أن 13ر200 د هو ثمن 7 م و 5 م أي 12 م لذا فإن ثمن المتر من القماش بالدينار هو :

$$1ر100 = \frac{13ر200}{12}$$

ثمن شراء القطعة الأولى بالدينار :

$$49ر500 = 45 \times 1ر100$$

ثمن شراء القطعة الثانية بالدينار :

$$57ر200 = 52 \times 1ر100$$

ثمن شراء القطعة الثالثة بالدينار :

$$62ر700 = 57 \times 1ر100$$

ثمن شراء القطع الثلاث بالدينار :

$$169ر400 = 62ر700 + 57ر200 + 49ر500$$

ب - طول القطع الثلاث بالمتري :

$$154 = 57 + 52 + 45$$

مقدار الزبح في المتر الواحد بالدينار :

$$0ر200 = \frac{30ر800}{154}$$

ثمن بيع المتر الواحد من القماش بالدينار :

$$1ر100 = 0ر200 + 1ر300$$

76 - الحـل

مصاريف الكراء بالنسبة للحل الأول بالدينار :

$$1080 = 12 \times 90$$

الحل الثاني :

قيمة الكراء بالدينار :

$$660 = 12 \times 55$$

مصاريف التنقل بالدينار :

$$174ر300 = 2 \times 48 + 270 \times 0ر290$$

فتكون مصاريفه بالدينار بالنسبة للحل الثاني

$$834ر300 = 174ر300 + 660$$

الحل الثاني هو الحل الأنسب

77 - الحـل

أ - إن الفرق بين 3840 د و 3040 د يوافق ثمن (40 - 60) أي 20 بدلة رجالية ، لذا فإن ثمن البدلة من هذا النوع بالدينار هو :

$$40 = \frac{800}{20} = \frac{3040 - 3840}{40 - 60}$$

قيس مساحة القطعة التي لها شكل شبه منحرف بالمتري المربع :

$$4913ر3125 = \frac{31ر75 \times (142ر5 + 167)}{2}$$

قيس مساحة القطعة المستطيلة الشكل بالمتري المربع :

$$11116ر875 = 96ر25 \times 115ر5$$

نلاحظ أن $11116ر875 < 4913ر3125$ لذلك فإن القطعة الكبيرة هي التي لها شكل مستطيل .

الفرق بين قيسي مساحتي القطعتين بالمتري المربع :

$$62ر035625 - 11116ر875 = 4913ر3125 \text{ أو بالأر } 62ر035625$$

المبلغ بالدينار الذي ينبغي أن يزيده صاحب القطعة الصغيرة الى صاحب القطعة الكبيرة

$$10856ر234 = 62ر035625 \times 175$$

قيس مساحة الأرض الغاية بالهكتار	قيس مساحة الأرض الفلاحية بالهكتار
2	1
10	5

لو اعتبرنا أن كامل الأرض كانت من الأرض الفلاحية لكان قيس مساحتها بالهكتار :

$$35 = 5 + 30$$

ثمن الهكتار من الأرض الفلاحية بالدينار هو :

$$2400 = \frac{84000}{35}$$

أما ثمن 60 بدلة رجالية فهو بالدينار :

$$2400 = 60 \times 40$$

ثمن 80 بدلة نسائية هو بالدينار :

$$1440 = 2400 - 3840$$

ثمن البدلة النسائية بالدينار :

$$18 = \frac{1440}{80}$$

ب - ثمن شراء قطعة الأرض بالدينار :

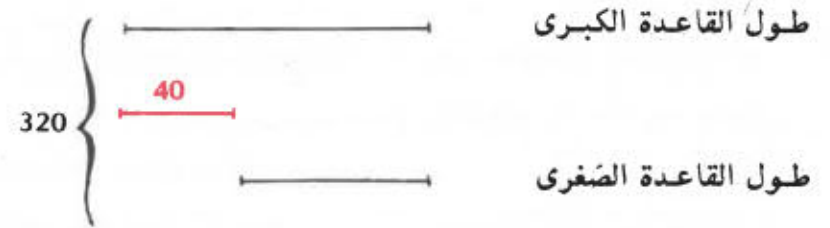
$$6880 = 3040 + 3840$$

قيس مساحة الأرض بالهكتار :

$$6400 = \frac{6880}{10750}$$

ج - مجموع طولي القاعدتين بالمتري :

$$320 = \frac{2 \times 6400}{40}$$



طول القاعدة الصغرى بالمتري :

$$140 = \frac{40 - 320}{2}$$

طول القاعدة الكبرى بالمتري :

$$180 = 40 + 140$$

الجملة بالدينار	عدد الأشخاص	المدة بالأيام	سعر الوحدة بالدينار	
547ر200	19	4	7ر200	الإقامة
186ر200	19	4	2ر450	الغداء
163ر400	19	4	2ر150	العشاء
896ر800	جملة المصاريف بالدينار			

82 - الحـل

أ - عدد الأكباش الباقية :

$$5 = 1 - 6$$

ثمن بيع الكبش الواحد بالدينار :

$$50ر400 = \frac{252}{5}$$

ب - ثمن بيع الكبش الواحد بدون اعتبار الكبش الميت بالدينار :

$$42 = \frac{252}{6}$$

الفرق بين الثمنين بالدينار :

$$8ر400 = 42 - 50ر400$$

النسبة المئوية في الزيادة :

$$20 = \frac{8ر400 \times 100}{50ر400} \text{ أي } 20\%$$

83 - الحـل

أ - عدد الكتب :

$$13 = 1 + 12$$

ثمن شراء الكتاب بالمليم :

$$655 = 325 - 980$$

ثمن الأرض الفلاحية بالدينار

$$72\ 000 = 30 \times 2\ 400$$

ثمن الأرض الغابية بالدينار :

$$12\ 000 = 10 \times \frac{2\ 400}{2}$$

80 - الحـل

أ - قيس مساحة المربع بالم² :

$$7ر84 = 2ر8 \times 2ر8$$

قيس مساحة كل من الأجزاء المتكافئة عدد 6 ، 7 ، 8 ، 9 بالمتر المربع

$$0ر4214 = \frac{(1ر4 \times 1ر4 \times 3ر14) - 7ر84}{4}$$

قيس مساحة كل من الأجزاء المتكافئة عدد 1 ، 2 ، 3 ، 4 بالمتر المربع :

$$1ر1172 = 0ر4214 - \frac{1ر4 \times 1ر4 \times 3ر14}{4}$$

قيس مساحة الجزء ع⁵ عدد بالمتر المربع

$$1ر6856 = (4 \times 1ر1172) - (1ر4 \times 1ر4 \times 3ر14)$$

ب - ثمن الشاي بالدينار :

$$0ر520 = 0ر2 \times 2ر600$$

ثمن السكر بالدينار :

$$0ر120 = 0ر5 \times 0ر240$$

ثمن كلفة اليوم الواحد من العمل بالدينار :

$$3ر360 = \frac{0ر120 + 0ر520 + 12ر800}{4}$$

ج - ثمن كلفة المتر المربع من البناء بالدينار :

$$3ر500 = \frac{977ر900}{279ر4}$$

85 - الحـل

أ - كميّة الزيت الموجودة بالقوارير باللتر :

$$198ر47 = 89 \times (0ر58 + 0ر75 + 0ر90)$$

سعة الذن باللتر :

$$200ر47 = 2 + 198ر47$$

ب - ثمن الزيت بالمليم بكل قارورة ذات 75 صل :

$$375 = 0ر75 \times 500$$

ثمن بيع القارورة ذات 75 صل بالمليم :

$$450 = 75 + 375$$

ثمن الزيت بالمليم بكل قارورة ذات 58 صل :

$$290 = 0ر58 \times 500$$

ثمن بيع القارورة ذات 58 صل بالمليم :

$$365 = 75 + 290$$

ثمن الزيت بالمليم بكل قارورة ذات 90 صل :

$$450 = 0ر90 \times 500$$

ثمن بيع القارورة ذات 90 صل بالمليم :

$$525 = 75 + 450$$

86 - الحـل

أ - رقم الاحاد في هذا العدد يمثل عددا فرديا لأن باقي قسمة عدد التلاميذ على 2 هو 1 ، وبما أن باقي قسمة عدد التلاميذ على 5 هو 4 فيكون رقم الاحاد إما 4 أو 9 وبما أنه فردي فلا يمكن أن يكون سوى 9 .

ثمن شراء 12 كتابا بالمليم :

$$7860 = 12 \times 655$$

ثمن بيع جميع الكتب بالمليم :

$$12740 = 13 \times 980$$

المقدار الذي يمكن أن يربحه الكتبي بالمليم :

$$4880 = 7860 - 12740$$

ب - ثمن بيع 4 كتب بالمليم :

$$3920 = 4 \times 980$$

عدد النسخ التي شملها التخفيض :

$$9 = 4 - 13$$

ثمن بيع النسخ الباقية بالمليم :

$$3600 = (340 + 3920) - 7860$$

ثمن بيع النسخة الواحدة بعد التخفيض بالمليم :

$$400 = 9 : 3600$$

84 - الحـل

أ - قيس مساحة الباب والنافذتين بالمتر المربع :

$$8ر80 = 2 \times (2 \times 1ر60) + (1 \times 2ر40)$$

قيس المساحة الجانبية للقاعة الاولى بالمتر المربع :

$$144 = 4ر5 \times 2 \times (4 + 12)$$

قيس المساحة الجانبية للقاعة الثانية بالمتر المربع :

$$171 = 4ر5 \times 2 \times (4 + 15)$$

قيس المساحة الجانبية للقاعة الاولى بالمتر المربع وبدون اعتبار

$$135ر2 = 8ر80 - 144$$

قيس المساحة الجانبية للقاعة الثانية بالمتر المربع وبدون اعتبار

$$162ر2 = 8ر80 - 171$$

ب - قيس مساحة الجدران المبنية بالاجر بالمتر المربع :

$$279ر4 = (162ر2 + 135ر2) - (4 \times 4ر5)$$

عدد الاجر اللازم :

$$4191 = 279ر4 \times 15$$

89 - الحـل

ثمن البرتقال بالمليم :

$$264 = 220 \times 1200$$

ثمن اللفت بالمليم

$$54 = 90 \times 600$$

ثمن 940ر كغ من التفاح بالمليم :

$$282 = (54 + 264) - 600$$

ثمن الكيلو غرام من التفاح بالمليم :

$$300 = \frac{1000 \times 282}{940}$$

90 - الحـل

ارتفاع الطابق الواحد بالمتر :

$$280 = \frac{(8 \times 020) - 24}{8}$$

91 - الحـل

أ - مقدار كل قسط بالدينار :

$$108750 = 4 : 435 = 4 : (2 : 870)$$

ب - تاريخ خلاص القسط الأول :

$$1980 - 19 = 19 \text{ أي } 19 \text{ جوان } 1980$$

تاريخ خلاص القسط الثاني بأعتبار أنه بقي 11 يوما في شهر

جوان :

$$1980 - 11 = 24 \text{ أي } 24 \text{ جويلية } 1980$$

تاريخ خلاص القسط الثاني بأعتبار أنه بقي 7 أيام في شهر

جويلية :

$$1980 - 7 = 28 \text{ أي } 28 \text{ أوت } 1980$$

تاريخ خلاص القسط الرابع بأعتبار أنه بقي 3 أيام في شهر أوت

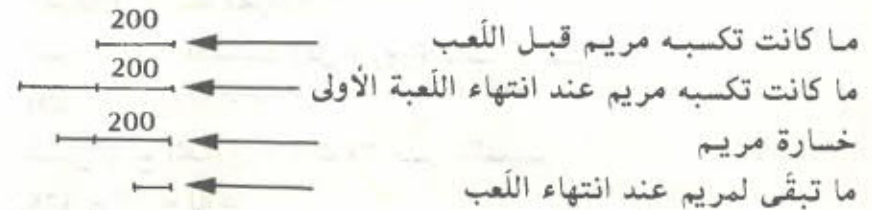
$$1980 - 3 = 32 \text{ أي } 2 \text{ أكتوبر } 1980 \text{ ، } (32 - 30 = 2)$$

سبتمبر

ب - مجنوع أرقام عدد التلاميذ هو مجموع أرقام عدد من مكررات 3 مع 2 وبما أن رقم الاحاد هو 9 فلا يمكن أن يكون مجموع الأرقام سوى $11 = 2 + 9$ أو $14 = 3 + 2 + 9$ أو $17 = 6 + 2 + 9$.

ج - إن الأعداد التي رقم أحادها 9 والتي هي أصغر من 50 هي : 9 ، 19 ، 29 ، 39 ، 49 فعدد تلاميذ فصلك هو حينئذ 29 لأن مجموع أرقامه 11.

87 - الحـل



يبين لنا الشكل أعلاه أن الخسارة (300) تحتوي على 200 قرص ونصف الرّبح عند انتهاء اللعبة الأولى فنصف الرّبح هو حينئذ عدد من الأقراص مساو ل : $200 - 300 = 100$ فالرّبح هو عدد من الأقراص مساو ل : $200 = 2 \times 100$.

عدد الأقراص التي تملكها مريم عند انتهاء اللعبة الأولى : $200 + 200 = 400$ وبما أن مريم خسرت في نهاية اللعبة الثانية 300 قرص فلم يبق لها إلا (400 - 300) قرص أي 100 قرص.

الخلاصة :

بدأت مريم اللعب بـ 200 قرص وفي النهاية لم يبق لديها إلا 100 قرص فهي حينئذ خاسرة وتقدر هذه الخسارة بـ (200 - 100) قرص أي 100 قرص.

88 - الحـل

إذا طرحنا 2 من عدد التلاميذ نجد عددا يقبل القسمة على 4 وعلى 5 وعلى 6 في نفس الوقت وهو إذا مكرر مشترك لـ 4 و 5 و 6 . أصغر مكرر مشترك لهذه الأعداد هو 60 أي $2^2 \times 3 \times 5$ لأن : $2^2 = 4$ و $3 \times 2 = 6$.

وبما أن $60 < 70$ فإن عدد التلاميذ هو $60 + 2 = 62$.

ب - ثمن القمصين والذراجة بالدينار :

$$31ر485 = 18ر185 + (2 \times 6ر650)$$

ثمن الكتب بالدينار :

$$10ر725 = 31ر485 - 42ر210$$

عدد الكتب الممكن شراؤها :

$$13 = 0ر825 : 10ر725$$

الحل - 95

عدد السيارات من نوع « بيجو »

$$77 = (27 + 25) - 129$$



يبرز لنا الشكل أعلاه أن عدد السيارات الزرقاء موجود 7 مرات في عدد سيارات « بيجو » لذا فإن عدد السيارات الزرقاء هو :

$$11 = \frac{77}{7}$$

الحل - 96

ثمن قطعة التعويض بالدينار :

$$6315 = 1250 \times 5ر052$$

قيس مساحة القطعة المنتزعة بالم²

$$2950 = 1700 + 1250$$

ثمن القطعة المنتزعة بالدينار :

$$7965 = 1650 + 6315$$

ثمن المتر المربع من القطعة المنتزعة بالدينار :

$$2ر700 = 2950 : 7965$$

92 - الحل

نصف دخل العامل في الشهر بالدينار (أي في 15 يوما)

$$48 = 7 + 41$$

الدخل اليومي بالدينار :

$$3ر200 = 15 : 48$$

الحل - 93

أ - الدخل السنوي بالدينار :

$$1184ر400 = 282 \times 4ر200$$

ب - مقدار نفقاته في السنة بالدينار :

$$984 = 12 \times 82$$

ج - مقدار ادخاره الشهري بالدينار :

$$16ر700 = \frac{984 - 1184ر400}{12}$$

الحل - 94

أ - المدة المتراوحة بين 17 ماي و 27 سبتمبر بحساب اليوم :

ماي ← 15

جوان ← 30

جويلية ← 31

أوت ← 31

سبتمبر ← 27

$$134$$

عدد علب السجائر المستهلكة في هذه المدة :

$$201 = \frac{3 \times 134}{2}$$

ثمن هذه العلب بالدينار :

$$42ر210 = 201 \times 0ر210$$

أ - عدد ساعات العمل لكل عامل :

$$88 : 2 = 44$$

مدة العمل بالأيام والساعات :

$$5 \text{ أيام و } 4 \text{ ساعات} = \frac{44}{8}$$

ينتهي العمل يوم السبت عند منتصف النهار .

ب - تكاليف اليد العاملة بالدينار :

$$193600 = 88 \times 2200$$

جملة المصاريف بالدينار :

$$323600 = 130 + 193600$$

ج - مناب الأول



مناب الثاني

مناب الثاني بالدينار :

$$88800 = \frac{16 - 193600}{2}$$

مناب الأول بالدينار :

$$104800 = 16 + 88800$$

أ - المسافة المقطوعة ذهابا وإيابا بالكم :

$$216 = 2 \times 108$$

تكاليف النقل بالدينار :

$$38880 = 216 \times 180$$

تكاليف الغذاء بالدينار :

$$45 = 38880 - 83880$$

عدد المشاركين في الرحلة :

$$45 = 1 : 45$$

ب - ما يدفعه كل تلميذ مقابل النقل بالدينار :

$$0864 = 45 : 38880$$

معلوم المشاركة بالنسبة للتلميذ الواحد بالدينار :

$$1864 = 0864 + 1$$

ما يدفعه 5 تلاميذ بالدينار مقابل النقل :

$$4320 = 5 \times 0864$$

ما يدفعه كل من التلاميذ الأربعة المتبقين بالدينار :

$$1972 = 0108 + 1864 = \frac{4320}{40} + 1864$$

تحصل بقية المشاركين دفع المعلوم الآتي بالدينار :

$$5 = 4 \times 1250$$

وهذا ما كان يجب أن يدفعه الأشخاص الأربعة المتخلفين .

لذا فإن كل مشارك تحصل دفع زيادة قدرها بالدينار :

$$0250 = 1250 - 1500$$

فيكون إذا عدد المشاركين فعليا :

$$20 = \frac{5}{0250}$$

أ - الدخل اليومي للمطعم بالدينار :

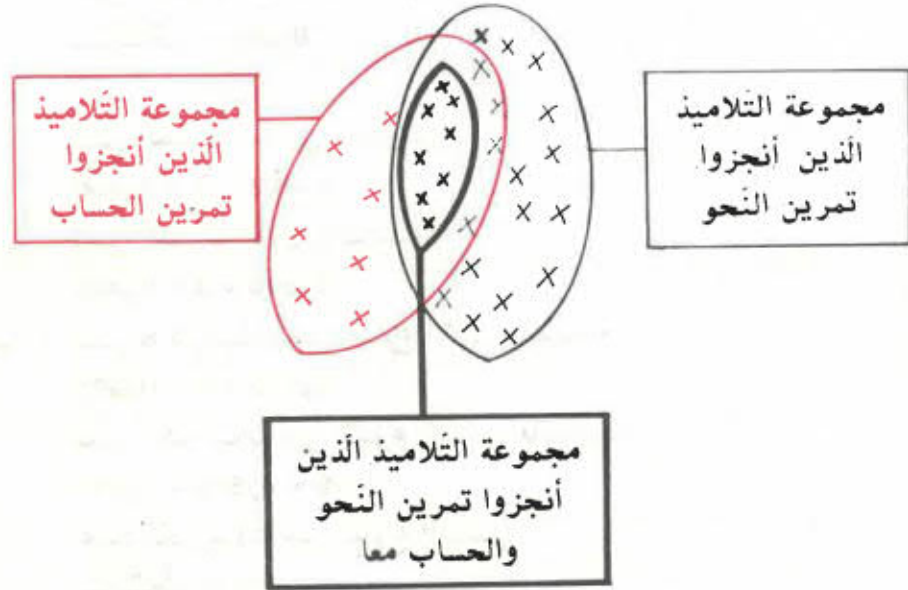
$$122 = (35 \times 1200) + (50 \times 1600)$$

الدخل الشهري للمطعم بالدينار :

$$3660 = 30 \times 122$$

يوجد التلاميذ الثمانية الذين قاموا بالتمرينين معا ضمن التلاميذ الذين أنجزوا تمرين النحو وكذلك ضمن التلاميذ الذين أنجزوا تمرين الحساب ، لذلك فإن عدد التلاميذ بقسما هو :

$$33 = 15 + 18 = 15 + (8 - 26) \text{ أو } 33 = 7 + 26 = (8 - 15) + 26$$



يبين المخطط أعلاه أن :

1 - عدد التلاميذ الذين أنجزوا تمرين النحو فقط هو $18 = 8 - 26$

2 - عدد التلاميذ الذين أنجزوا تمرين الحساب فقط هو $7 = 8 - 15$

3 - المجموعة م المتكونة من التلاميذ الذين أنجزوا التمرينين معا هي تقاطع المجموعة ن المتكونة من التلاميذ الذين أنجزوا تمرين النحو والمجموعة ح المتكونة من التلاميذ الذين أنجزوا تمرين الحساب :

$$م = ن \cap ح$$

4 - عدد تلاميذ قسما هو $33 = 8 + 7 + 18$

ب - الدخل السنوي للمطعم بالدينار :

$$43920 = 12 \times 3660$$

مصاريف الكراء في السنة بالدينار :

$$1260 = 12 \times 105$$

تكاليف العاملين والطباخ في السنة بالدينار :

$$3240 = 12 \times [150 + (2 \times 60)]$$

الدخل السنوي بالدينار بعد طرح مصاريف الكراء والعملة :

$$39420 = (3240 + 1260) - 43920$$

جملة المصاريف المخصصة سنويا لإعداد الأكلات بالدينار :

$$21540 = 17880 - 39420$$

أ - ما يلزم للستار الواحد من القماش بالمتر :

$$4 = 4 : 16$$

عدد الستائر التي ستخيطها أمي :

$$24 = 4 : 96$$

ب - ثمن القماش بالدينار :

$$336 = 96 \times 3500$$

تكاليف الخياطة بالنسبة لكل الستائر بالدينار :

$$28800 = 24 \times 1200$$


جملة المصاريف بالدينار :

$$364800 = 28800 + 336$$

ج - ثمن كلفة الستار الواحد بالدينار :

$$15200 = \frac{364800}{24}$$

وبما أن $15200 < 15800$ فهو ليس من الأفضل أن تشتري أمي الستائر جاهزة .



ثمن الكتاب الثالث بالدينار :
 $0,200 = \frac{1800}{9}$

ثمن الكتاب الثاني بالدينار :
 $0,400 = 2 \times 0,200$

ثمن الكتاب الأول بالدينار :
 $1,200 = 3 \times 0,400$

ب - ثمن 6 كراسيات من النوع الأول بالدينار :
 $0,570 = 6 \times 0,095$

ثمن الكراسيات من النوع الثاني بالدينار :
 $1,440 = 0,570 - 2,010$

عدد الكراسيات من النوع الثاني :
 $12 = \frac{1,440}{0,120}$

ج - ما يرجعه الكتبي لجلال بالدينار :
 $1,190 = (2,010 + 1,800) - 5$

104 - الحـل

أ - عدد البقاع بهذه القاعة :
 $486 = \frac{145800}{0,300}$

ب - عدد البقاع الشاغرة أثناء العرض :
 $22 = \frac{6600}{0,300}$

ج - عدد البقاع بالصف الواحد :

$$18 = (1 + 2 + 1) - 22$$

د - عدد الصفوف بالقاعة :

$$27 = \frac{486}{18}$$

105 - الحـل

أ - يمكن لأمين شراء مجموعة الإسطوانات أو الكتاب والقفازين .
ثمن الكتاب والقفازين بالدينار :

$$12 = 10,200 + 1,800$$

وبما أن ثمن مجموعة الإسطوانات هو أرفع من ثمن الكتاب والقفازين فإن أئمن هدية يمكن لأمين شراؤها هي مجموعة الإسطوانات .

ب - يمكن لإيمان شراء الكتاب فقط أو القفازين فقط وبما أن ثمن القفازين أرفع من ثمن الكتاب فإن أئمن هدية بالنسبة لإيمان هي القفازان .

ج - مجموع ما ادخره الطفلان بالدينار :

$$23,800 = 11,200 + 12,600$$

أئمن هدية يمكن أن يشتريها معا هي الفستان .
المقدار الذي يساهم به كل منهما بالدينار :

$$9,550 = \frac{19,100}{2}$$

المقدار الباقي لأمين بالدينار :

$$3,050 = 9,550 - 12,600$$

المقدار الباقي لإيمان بالدينار :

$$1,650 = 9,550 - 11,200$$

د - المقدار الباقي لأمين بعد شراء مجموعة الإسطوانات بالدينار :

$$0,100 = 12,500 - 12,600$$

المقدار الباقي لإيمان بعد شراء القفازين بالدينار :

$$1 = 10,200 - 11,200$$

قيس مساحة الأرض بالمتر المربع :

$$2 \text{ ها و } 56 \text{ أ و } 25 \text{ صا أو } 25625 \text{ م}^2$$

ثمن قطعة الأرض بالدينار :

$$51250 = 25625 \times 2$$

قيمة الميراث بالدينار :

$$100902 = 3652 + 1000 + 45000 + 51250$$

مناب كل ابن بالدينار :

$$33634 = \frac{100902}{3}$$

ما سيدفعه الأول للثالث بالدينار :

$$11366 = 33634 - 45000$$

ما سيدفعه الثاني للثالث بالدينار :

$$17616 = 33634 - 51250$$

التحقيق :

مناب الثالث بالدينار :

$$33634 = 17616 + 11366 + 3652 + 1000$$

107 - الحـل

أ - طول الخندق بالكم :

$$9750 = 1125 + 3375 + 5250$$

ب - المدة التي قضّاها كل فريق في العمل بالأيام هي

$$30 = 5 + (6 - 31)$$

طول ما حفره الفريق الأول في اليوم بالمتر :

$$175 = \frac{5250}{30}$$

معدل طول ما حفره العامل الواحد من الفريق الأول في اليوم

$$\text{بحساب المتر :}$$

$$3750 = \frac{175}{50}$$

ج - طول ما حفره الفريق الثاني في اليوم بالمتر :

$$1125 = \frac{3375}{30}$$

معدل طول ما حفره العامل الواحد من الفريق الثاني في اليوم

بحساب المتر :

$$375 = \frac{1125}{30}$$

د - نرى إذا أن مراقب الأشغال سيكلف الفريق الثاني بإتمام إنجاز العمل

لأنه أنشط من الفريق الأول .

المدة اللازمة لإنهاء الأشغال بالأيام :

$$10 = \frac{1125}{1125}$$

108 - الحـل

أ - المسافة المقطوعة لمدة 3 أيام بالكم :

$$450 = 21565 - 22015$$

المبلغ الذي دفعه السائح للشركة عند إرجاع السيارة بالكم :

$$52500 = (450 \times 0.050) + (3 \times 10)$$

ب - كمية البنزين المستهلكة طيلة 3 أيام بالتر :

$$40500 = \frac{9 \times 450}{100}$$

ثمن تلك الكمية بالدينار :

$$8505 = 40500 \times 0.210$$

جملة مصاريف السائح في الأيام الثلاثة بالدينار :

$$61005 = 8505 + 52500$$

ج - ثمن كلفة الكم الواحد بالدينار :

$$135 = \frac{61005}{450}$$

أ - ثمن التذكرة لقطع مسافة 350 كم بحساب الدينار :

$$5ر500 = \frac{350 \times 2ر200}{140}$$

ب - المسافة التي يمكن قطعها بمبلغ 13ر200 د بحساب الكم :

$$840 = \frac{13ر200 \times 140}{2ر200}$$

110 - الحـل

أ - ما صرفه الأول بالدينار :

$$756 = 216 \times 3ر500$$

ما صرفه الثاني بالدينار :

$$772ر320 = 11 \times [(11 \times 8) \times 0ر365] + 419$$

ما صرفه الثالث بالدينار :

$$751ر980 = 76ر720 + 675ر260$$

ب - جملة ما صرفه الأشخاص الثلاثة بالدينار :

$$2280ر300 = 751ر980 + 772ر320 + 756$$

ما ينبغي أن يصرفه كل شخص بالدينار :

$$760ر100 = \frac{2280ر300}{3}$$

المقدار الذي سيدفعه الأول للثاني بالدينار :

$$4ر100 = 756 - 760ر100$$

المقدار الذي سيدفعه الثالث للثاني بالدينار :

$$8ر120 = 751ر980 - 760ر100$$

أ ثمن البيض بالدينار :

$$7ر015 = \frac{244 \times 0ر115}{4}$$

المبلغ الذي تحضلت عليه ليلى بالدينار :

$$12ر360 = 7ر015 + 5ر345$$

ب - ثمن الخضر والغلال بالدينار :

$$4ر120 = \frac{12ر360}{3}$$

ج - ثمن المتر من القماش بالدينار :

$$0ر845 = \frac{5ر070 - 7ر605}{3}$$

د - طول قطعة القماش التي اشترتها ليلى بالمتر :

$$6 = \frac{5ر070}{0ر845}$$

هـ - جملة ما صرفته ليلى بالدينار :

$$9ر190 = 5ر070 + 4ر120$$

المبلغ الذي رجعت به ليلى من السوق بالدينار :

$$3ر170 = 9ر190 - 12ر360$$

112 - الحـل

أ - المبلغ المسجل بعد قطع مسافة 3ر2 كم بالمليم :

$$356 = (3ر2 \times 80) + 100$$

المبلغ المسجل بعد قطع مسافة 9ر5 كم بالمليم :

$$860 = (9ر5 \times 80) + 100$$

أ - كميّة البنزين المستهلكة طيلة 3 سنوات باللتر :

$$6426 = \frac{10 \times 63000}{2 \times 100}$$

ثمن تلك الكميّة بالدينار :

$$1413720 = 6426 \times 0220$$

كميّة الزيت المستهلكة طيلة 3 سنوات باللتر :

$$84 = \frac{4 \times 63000}{3000}$$

ثمن الزيت بالدينار :

$$389640 = 84 \times 0460$$

ب - جملة المصاريف بالدينار :

$$2210 = 2629640 + (3 \times 40) + (3 \times 125) + 389640 + 1413720$$

ج - تكاليف 63 000 كم بالدينار :

$$4473 = 2137 - (4400 + 2210)$$

تكاليف الكم الواحد بالمليم :

$$71 = \frac{4473000}{63000}$$

الطريقة الأولى :

لو كانت كل القطع من فئة 5 مي لكان المبلغ الجملي يساوي بالمليم :

$$180 = 36 \times 5$$

الفرق بين هذا المبلغ والمبلغ الحقيقي بحساب المليم هو :

$$45 = 135 - 180$$

الفرق بالمليم بين 5 مي و 2 مي :

$$3 = 2 - 5$$

ب - طول المسافة التي قطعتها سيارة الأجرة أثناء تنقل مريم بالكم :

$$48 = 05 + 29 + 18$$

مدة الوقوف بالذقائق :

$$10 = 2 + 8$$

تكاليف التنقل بالمليم :

$$584 = \frac{20 \times 10}{2} + (48 \times 80) + 100$$

أ - ثمن شراء البقر بالدينار :

$$1377 = 18 \times 76500$$

الدخل في السنة الأولى بالدينار :

$$720500 = 11 \times 65500$$

الدخل في السنة الثانية بالدينار :

$$716800 = 14 \times 51200$$

جملة المداخيل في السنتين الأولى والثانية بالدينار :

$$1437300 = 716800 + 720500$$

بإمكان الفلاح أن يطالب بحقه في نصف الدخل عند انتهاء السنة الثانية .

ب - الدخل بالدينار بعد استرجاع رأس المال من طرف الموظف :

$$60300 = 1377 - 1437300$$

نصيب الفلاح نقدا عندئذ بالدينار :

$$30150 = \frac{60300}{2}$$

ج - الدخل في السنة الثالثة بالدينار :

$$639 = 9 \times 71$$

نصيب الفلاح نقدا بالدينار من هذا الدخل :

$$319500 = \frac{639}{2}$$

نصيب الفلاح من الدخل إثر السنوات الثلاث الأولى بالدينار :

$$349650 = 319500 + 30150$$

ج - ما يجب أن يدفعه كل من الأصدقاء الثلاثة بالدينار :

$$4700 = \frac{14100}{3}$$

يدفع مجدي لعلّي مبلغا قدره بالدينار :

$$1450 = 3250 - 4700$$

يدفع حمزة لعلّي مبلغا قدره بالدينار :

$$0200 = 4500 - 4700$$

ويكون عليّ قد استرجع المقدار التالي بالدينار :

$$4 = 2350 + 0200 + 1450$$

الحل - 117

أ - وزن العسل في الأوعية الثلاثة بالكغ :

$$48600 = (3 \times 2600) - (16650 + 21150 + 18600)$$

ب - عدد العلب مع العلم أنّ 48600 كغ هي 48 600 غ

$$243 = 200 : 48 600$$

ج - ثمن شراء العسل بالدينار :

$$77760 = 486 \times 1600$$

ثمن شراء العلب فارغة بالدينار :

$$4860 = 243 \times 020$$

ثمن كلفة العسل بالدينار :

$$82620 = 4860 + 77760$$

ثمن بيع العلب بالدينار :

$$121500 = 243 \times 0500$$

مرايبح التاجر بالدينار :

$$38880 = 82620 - 121500$$

الحل - 118

أ - ثمن الأشرطة بالدينار :

$$180 = 6 \times 30$$

عدد مرّات الفرق (5 - 2 أي 3 مي) في 45 مي يساوي عدد القطع من فئة 2 مي ، لذا فإنّ عدد القطع من فئة 2 مي هو :

$$15 = 3 : 45$$

أما عدد القطع من فئة 5 مي فهو :

$$21 = 15 - 36$$

الطريقة الثانية :

لو كانت كل القطع من فئة 2 مي لكان المبلغ الجملي يساوي بالمليم :

$$72 = 36 \times 2$$

الفرق بين المبلغين :

$$63 = 72 - 135$$

الفرق بالمليم بين 5 مي و 2 مي :

$$3 = 2 - 5$$

عدد مرّات الفرق (5 - 2 أي 3 مي) في 63 مي يساوي عدد القطع من فئة

5 مي ، لذا فإنّ عدد القطع من فئة 5 مي هو :

$$21 = 3 : 63$$

أما عدد القطع من فئة 2 مي فهو :

$$15 = 21 - 36$$

الحل - 116

أ - مدّة السير على متن السيارة

$$16 \text{ س و } 15 \text{ دق} - (8 \text{ س و } 30 \text{ دق} + 4 \text{ س و } 20 \text{ دق}) =$$

$$3 \text{ س و } 25 \text{ دق أو } 205 \text{ دق}$$

معادل سرعة السيارة بالكم / س

$$78 = \frac{60 \times 2665}{205}$$

ب - المقدار المتجمّع بالدينار :

$$16450 = 3250 + 4500 + 8700$$

مقدار المصاريف بالدينار :

$$14100 = 2350 - 16450$$

تكاليف آلة العرض والأشرطة بالدينار :

$$941 = 180 + 761$$

المبلغ المالي الذي ينقص التعاضدية بالدينار :

$$525 = (191 + 225) - 941$$

ب - عدد التذاكر التي ينبغي بيعها :

$$700 = \frac{525}{0,750}$$

119 - الحـل

العدد الجملي للتلاميذ

عدد التلاميذ المتفجيين يوم الخميس

عدد التلاميذ المتفجيين يوم الجمعة

عدد التلاميذ الحاضرين يوم الجمعة

$$\frac{7}{8} = \frac{1}{8} - \frac{8}{8}$$

عدد التلاميذ المتفجيين يوم الجمعة يمثل بالكسر :

$$\frac{12}{40} = \frac{7}{40} + \frac{5}{40} = \frac{7}{40} + \frac{1}{8} = \frac{7}{5 \times 8} + \frac{1}{8} = \left(5 : \frac{7}{8}\right) + \frac{1}{8}$$

عدد التلاميذ الحاضرين يوم الجمعة (28) هو بحساب الكور :

$$\frac{7}{10} = \frac{28}{40} = \frac{12}{40} - \frac{40}{40}$$

القسم هو :

$$40 = \frac{10 \times 28}{7}$$

120 - الحـل

أ - ثمن شراء القطعة بالدينار :

$$2660,160 = \frac{20 \times 399,024}{3}$$

قيس مساحة القطعة بالهكتار :

$$16626 = \frac{2660,160}{1600} \text{ أو بالمتر المربع } 16626$$

ب - عرض القطعة بالمتر :

$$102 = 163 : 16626$$

121 - الحـل

أ - كمية الماء التي صبها عادل بحساب اللتر :

$$18 = 3 \times 6$$

الكسر الذي يقدر الفرق بين ارتفاع الماء في الحالتين هو :

$$\frac{1}{12} = \frac{8}{12} - \frac{9}{12} = \frac{4 \times 2}{4 \times 3} - \frac{3 \times 3}{3 \times 4} = \frac{2}{3} - \frac{3}{4}$$

ب - سعة الذن باللتر :

$$12 \times 18 = 216 \text{ لأن } 18 \text{ ل توافق } \frac{1}{12} \text{ من سعة الذن .}$$

122 - الحـل

أ - المبلغ الذي أكسبه هو بالدينار :

$$0,450 = 0,250 - 0,700$$

فالمبلغ الذي أكسبه هو إذا بالدينار :

$$1,800 = 4 \times 0,450$$

ب - ثمن القصة بالدينار :

$$1,350 = \frac{3 \times 1,800}{4}$$

أ - وزن الماء الذي أفرغ من الوعاء بحساب الكغ :
 $8 = 6 \times 5 - 14 \times 5$

قيس حجم الماء الذي وقع إفراغه بحساب اللتر :
 $8 = 1 \times 8$

ب - سعة الوعاء بالذسم³ مع العلم أن 8 ل توافق 8 دسم³ هي :

$$12 = \frac{3 \times 8}{2}$$

ج - وزن الوعاء فارغا بالكغ :

$$2 \times 5 = 12 - 14 \times 5$$

د - كمية الزيت التي أفرغت في الوعاء باللتر :

$$9 = \frac{3 \times 12}{4}$$

وزن تلك الكمية من الزيت بالكغ :

$$8 \times 1 = 9 \times 0 \times 9$$

هـ - أحول 9 ل الى دكل :

$$9 \text{ ل أو } 0 \times 9 \text{ دكل}$$

ثمن الذيكالتر من الزيت بالدينار :

$$4 \times 950 = \frac{4 \times 455}{0 \times 9}$$

أ - ثمن 20 ق من الشعير بالدينار :

$$80 = 860 - 940$$

ثمن القنطار الواحد من الشعير بالدينار :

$$4 = 20 : 80$$

ثمن 40 ق من الشعير بالدينار :

$$160 = 40 \times 4$$

ثمن 100 ق من القمح بالدينار :

$$700 = 160 - 860$$

ثمن قنطار القمح بالدينار :

$$7 = 100 : 700$$

ب - عرض الحديقة بالمتر :

$$131 = \frac{2 \times 196 \times 5}{3}$$

قيس مساحة الحديقة بالمتر المربع :

$$2 \times 57415 = 131 \times 196 \times 5 \text{ أو بالهكتار } 2 \times 57415$$

ثمن الحديقة بالدينار :

$$2574150 = 2 \times 57415 \times 1000$$

محصول الفلاح بالدينار :

$$1800 = 860 + 940$$

ونلاحظ أن محصول الفلاح لا يكفي لشراء الحديقة

$$(1800 > 2574150)$$

أ - أقرن الكسرين $\frac{2}{5}$ و $\frac{3}{8}$

$$\frac{3}{8} < \frac{2}{5} \text{ أي } \frac{15}{40} < \frac{16}{40}, \frac{15}{40} = \frac{3}{8}, \frac{16}{40} = \frac{2}{5}$$

ومعنى هذا

أن التلميذ الأول عزق أكثر من الثاني :

ب - قيس المساحة المعزوقة بحساب الكسور :

$$\frac{31}{40} = \frac{15}{40} + \frac{16}{40} = \frac{3}{8} + \frac{2}{5}$$

قيس المساحة التي لم تعزق بحساب الكسور :

$$\frac{9}{40} = \frac{31}{40} - \frac{40}{40}$$

أ - ما بقي لمحمد قبل الذهاب الى السوق المركزية بحساب الكور:

$$\frac{2}{5} = \frac{3}{5} - \frac{5}{5}$$

ما بقي لمحمد قبل شراء الحذاء بحساب الكور:

$$\frac{1}{5} = 2 : \frac{2}{5}$$

يمثل الكسر $\frac{1}{5}$ الفرق بين ثمن الحذاء والمبلغ الناقص

1090 د وبذلك يكون المكسب الأصلي لمحمد بالدينار:

$$25 = 5 \times (1090 - 6090)$$

ب - مصاريف محمد بالمغارة العامة بالدينار:

$$15 = \frac{3 \times 25}{5} = \frac{3}{5} \times 25$$

ج - مصاريف محمد بالسوق المركزية بالدينار:

$$5 = \frac{15 - 25}{2}$$

د - ما بقي لمحمد قبل شراء الحذاء بالدينار:

$$5 = (5 + 15) - 25 \text{ أو } 5 = 1090 - 6090$$

129 - الحـل

أ - قيس حجم الحائط بالمتر المكعب:

$$231 = 0.50 \times 2.10 \times 22$$

قيس حجم الحجارة المستعملة بالمتر المكعب:

$$1925 = \frac{5 \times 231}{6}$$

ثمن الحجارة بالدينار:

$$48125 = 1925 \times 2500$$

ب - ثمن الإسمنت بالدينار

$$28 = 20 \times 1400$$

ثمن الرمل بالدينار:

$$15 = 6 \times 2500$$

ثمن قضبان الحديد بالدينار:

$$28800 = 16 \times 1800$$

تكاليف بناء الحائط بالدينار:

$$228300 = 86875 + 21500 + 28800 + 15 + 28 + 48125$$

ما يدفعه كل شخص بالدينار:

$$114150 = \frac{228300}{2}$$

130 - الحـل

أ - مناب صادق بحساب الكور:

$$\frac{2}{3} = \frac{4}{6} = \frac{1}{6} + \frac{3}{6} = \frac{1}{6} + \frac{1}{2} = \frac{1}{6} + \frac{1}{3 \times 2} = \frac{1}{6} + \frac{1}{2} = (3 : \frac{1}{2}) + \frac{1}{2}$$

ب - باقي المبلغ بحساب الكور:

$$\frac{1}{3} = \frac{2}{3} - \frac{3}{3}$$

مناب كل من الولدين بحساب الكور:

$$\frac{1}{6} = \frac{1}{2 \times 3} = 2 : \frac{1}{3}$$

ونلاحظ أن مناب الولد هو $\frac{1}{4}$ مناب الأب.

ج - مناب كل من الولدين بالدينار:

$$1234560 = \frac{4938240}{4}$$

د - المبلغ الجملي بالدينار:

$$7407360 = (2 \times 1234560) + 4938240$$

أ - ثمن 7 أكلات بالدينار :

$$4ر095 = 10ر530 - 14ر625$$

ثمن الأكلة الواحدة بالدينار :

$$0ر585 = \frac{4ر095}{7}$$

ب - عدد الأكلات التي تناولها الأول :

$$25 = \frac{14ر625}{0ر585}$$

عدد الأكلات التي تناولها الثاني :

$$18 = 7 - 25$$

عدد الأكلات التي تناولها الثالث :

$$12 = \frac{2 \times 18}{3}$$

132 - الحـل

المبلغ المدفوع عند الطلب بالدينار :

$$180ر600 = \frac{2 \times 451ر500}{5}$$

ما بقي دفعه بالدينار :

$$270ر900 = 180ر600 - 451ر500$$

المبلغ المدفوع عند تسلّم الجهاز بالدينار :

$$90ر300 = \frac{1 \times 270ر900}{3}$$

المبلغ الذي يجب دفعه على 6 أقساط بالدينار :

$$180ر600 = 90ر300 - 270ر900$$

مقدار القسط الشهري الواحد بالدينار :

$$30ر100 = 6 : 180ر600$$

قيس مساحة القطعة بالمتربيع :

$$20\ 460 = 60 + 400 + 20000$$

وزن الإنتاج بالكغ :

$$126ر852 = 20460 \times 6ر2 \text{ أو بالطن } 126ر852$$

ثمن الإنتاج بالدينار :

$$15222ر240 = 126ر852 \times 120$$

الدخل الصافي للفلاح بحساب الكسور :

$$\frac{3}{5} = \frac{2}{5} - \frac{5}{5}$$

الدخل الصافي للفلاح بالدينار :

$$9133ر344 = \frac{3 \times 15222ر240}{5}$$

134 - الحـل

أ - عدد الأكياس التي يمكن نقلها في المرة الواحدة :

$$100 = \frac{5000}{50}$$

ب - الوزن الجملي للإنتاج بالطن :

$$27 = \frac{9 \times (5 \times 3)}{5}$$

ج - ما بقي من الإنتاج بعد 3 سفرات بالطن :

$$12 = (5 \times 3) - 27$$

عدد السفرات اللازمة لنقل باقي الإنتاج :

$$4ر2 = \frac{12}{3}$$

د - الدخل الخام للفلاح بالدينار :

$$2565 = 270 \times 9,500$$

تكاليف النقل والفلاحة بالدينار :

$$855 = 3 : 2565$$

مقدار الربح بالدينار :

$$1710 = 855 - 2565$$

135 - الحـل

أ - ثمن شراء الكغ الواحد بالمليم :

$$480 = \frac{120000}{250}$$

ب - ما تبقى من كمية الخوخ بحساب الكور :

$$\frac{7}{10} = \frac{3}{10} - \frac{10}{10}$$

ما تبقى من كمية الخوخ بالكغ :

$$175 = \frac{7 \times 250}{10}$$

مقدار الربح في الكغ الواحد بالمليم :

$$70 = \frac{12250}{175}$$

ج - ثمن بيع الكمية الأولى بالدينار :

$$39 = 0,520 \times \frac{3 \times 250}{10}$$

ثمن بيع الكغ الواحد من الكمية الثانية بالمليم :

$$550 = 70 + 480$$

ثمن بيع باقي الكمية بالدينار :

$$96,250 = 175 \times 0,550$$

ثمن بيع كامل الكمية بالدينار :

$$135,250 = 96,250 + 39$$

د - مراييح التاجر بالدينار :

$$15,250 = 120 - 135,250$$

مقدار ربح التاجر في الكيلوغرام الواحد بالمليم :

$$61 = \frac{15250}{250}$$

136 - الحـل

أ - الوزن الصافي للإجاص بالكغ :

$$11 = 1,500 - 12,500$$

ثمن الإجاص بالدينار :

$$7,150 = 0,650 \times 11$$

ثمن السكر بالدينار :

$$2,112 = (11 \times 0,800) \times 0,240$$

ثمن كلفة المربى قبل الطبخ بالدينار :

$$9,900 = 0,638 + 7,150 + 2,112$$

ب - وزن الخليط قبل الطبخ بالكغ :

$$19,800 = (11 \times 0,80) + 11$$

وزن الخليط بعد الطبخ بالكغ :

$$16,500 = \frac{5}{6} \times 19,800 = \left(\frac{1}{6} - \frac{6}{6} \right) \times 19,800$$

ثمن كلفة الكغ من المربى بالدينار :

$$0,600 = \frac{9,900}{16,500}$$

137 - الحـل

أ - المقدار الذي يتقاضاه العامل في اليوم بالدينار :

$$1,960 = 8 \times 0,245$$

المقدار الذي يتقاضاه العامل في الشهر بالدينار :

$$49 = 25 \times 1,960$$

ب - ما يذخره العامل في الشهر بحساب الكسور :

$$\frac{1}{5} = \frac{4}{5} - \frac{3}{5}$$

ما يذخره العامل في الشهر بالدينار :

$$9,800 = \frac{49}{5} = \frac{1}{5} \times 49$$

ما يذخره العامل في السنة بالدينار :

$$117,600 = 12 \times 9,800$$

ج - المدة اللازمة لادخار ثمن الثلاجة بالشهر :

$$16 = \frac{156,800}{9,800}$$

138 - الحـل

أ - طول القطر الصغير بالمتري :

$$100 = \frac{5 \times 180}{9}$$

قيس مساحة الأرض بالمتري المربع :

$$9000 \text{ أو } 0,9 \text{ ها} = \frac{100 \times 180}{2}$$

ب - قيس مساحة الجزء المباع بالآر :

$$52 \text{ أو } 0,52 \text{ ها} = \frac{14300}{275}$$

ج - قيس مساحة الجزء المتبقي بالهكتار :

$$0,9 - 0,52 = 0,38$$

وزن القمح بتقنطار :

$$24,8 \times 0,38 = 9,424 \text{ أو بالطن } 0,9424$$

د - ثمن بيع القمح بالدينار :

$$98,952 = \frac{3 \times 0,9424}{4} \times 140$$

139 - الحـل

أ - قيس المساحة التي بيعت في المرحلة الثالثة أي 2800 م² يمثل $\frac{2}{5}$ ما تبقى من قطعة الأرض بعد المرحلة الأولى لنبحث

إذا عن قيمة $\frac{1}{5}$ ما تبقى بالمتري المربع :

$$1400 = \frac{2800}{2}$$

وبذلك يكون قيس المساحة التي بيعت في المرحلة الثانية بالمتري المربع :

$$4200 = 3 \times 1400$$

قيس مساحة كامل الأرض بالمتري المربع :

$$8840 = 2800 + 4200 + 1840 \text{ أو بالآر } 88,4$$

ب - عرض قطعة الأرض بالمتري :

$$85 = \frac{8840}{104}$$

طول محيط قطعة الأرض بالمتري :

$$378 = 2 \times (85 + 104)$$

www.najahni.tn

ج - ثمن بيع القطعة الأولى بالدينار :

$$7728 = 1840 \times 4,200$$

ثمن بيع القطعة الثانية بالدينار :

$$20160 = 4200 \times 4,800$$

ثمن بيع القطعة الثالثة بالدينار :

$$14980 = (20160 + 7728) - 42868$$

ثمن بيع المتر المربع من القطعة الثالثة بالدينار :

$$5,350 = \frac{14,980}{2,800}$$

140 - الحـل

أ - ارتفاع الخزان بالمتر :

$$4,50 = \frac{84,78}{18,84}$$

شعاع قاعدة الخزان بالمتر :

$$3 = \frac{18,84}{2 \times 3,14}$$

قيس حجم الخزان بالمتر المكعب :

$$127,17 = 4,50 \times 3 \times 3 \times 3,14$$

أحول 127,17 م³ الى هل :

127,17 م³ أو 127,170 دسم³ أو 127,170 ل أو 127,170 هل .

ب - تفرغ المضخة الأولى في ساعة $\frac{1}{12}$ من سعة الخزان وتفرغ المضخة

الثانية في ساعة $\frac{1}{6}$ من سعة الخزان وبذلك يكون

$$\frac{1}{4} = \frac{3}{12} = \frac{2}{12} + \frac{1}{12} = \frac{1}{6} + \frac{1}{12}$$

كمية الماء التي أفرغت في ساعة عند استخدام المضختين
معا بحساب الهل :

$$317,925 = \frac{127,170}{4}$$

ج - الزمن اللازم بالساعة لإفراغ الخزان عند استخدام المضختين

$$4 = \frac{127,170}{317,925}$$

141 - الحـل

أ - قيس مساحة الحديقة بالمتر المربع :

$$6000 = \frac{80 \times 150}{2}$$

ب - سعة الحوض بالمتر المكعب :

$$14 = 2 \times 2,50 \times 2,80$$

14 م³ أو 14000 دسم³ أي 14000 ل أو 140 هل

ج - قيمة $\frac{3}{4}$ كمية الماء باللتر :

$$10500 = \frac{3 \times 14000}{4}$$

الوقت اللازم لتفريغ $\frac{3}{4}$ كمية الماء بالذقائق :

$$90 \text{ أو } 1 \text{ س و } 30 \text{ دق} = \frac{60 \times 10500}{7000}$$

د - نصف قيس مساحة الحديقة بالار :

$$30 = \frac{6000}{100 \times 2}$$

ثمن بيع نصف الحديقة بالدينار :

$$3600 = 30 \times 120$$

ثمن الجرار بالدينار :

$$4500 = \frac{5 \times 3600}{4}$$

ثمن كلفة السياج بالدينار :

$$234 = 56 + 18 + 160$$

ما بقي للفلاح بالدينار :

$$880 = 234 - 1114$$

الحل - 143

أ - أعبر بكسر عمّا يصرفه العامل في التغذية والكراء :

$$\frac{29}{36} = \frac{9}{36} + \frac{20}{36} = \frac{1}{4} + \frac{5}{9}$$

ب - أعبر بكسر عن باقي المرثب :

$$\frac{7}{36} = \frac{29}{36} - \frac{36}{36}$$

المرثب الشهري للعامل بالدينار :

$$108 = \frac{36 \times 21}{7}$$

ج - ما يدفعه العامل شهريًا مقابل التغذية والكراء بالدينار :

$$87 = \frac{29 \times 108}{36}$$

د - مقدار ما يقتصده العامل لمدة 3 سنوات بالدينار :

$$135 = 3 \times \left(5 \times \frac{3 \times 21}{7} \right)$$

نلاحظ أن هذا المبلغ يكفي لشراء آلة الخياطة .

142 - الحل

قيس المساحة المزروعة بحساب الكسور :

$$\frac{43}{45} = \frac{15}{45} + \frac{10}{45} + \frac{18}{45} = \frac{1}{3} + \frac{2}{9} + \frac{2}{5}$$

قيس مساحة الممرات بحساب الكسور :

$$\frac{2}{45} = \frac{43}{45} - \frac{45}{45}$$

قيس مساحة الحقل بالمتر المربع :

$$1575 = \frac{45 \times 70}{2}$$

عرض الحقل بالمتر :

$$31,5 = 50 : 1575$$

جملة المداخل بالدينار :

$$1114 = 224 + 230 + 660$$

طول محيط الحقل بالمتر :

$$163 = 2 \times (31,5 + 50)$$

طول الضف الواحد من السلك بالمتر :

$$160 = 3 - 163$$

طول السلك اللازم بالمتر :

$$480 = 3 \times 160$$

عدد اللفافات اللازمة :

$$4 \text{ ر } 2 \text{ أي } 3 = \frac{480}{200}$$

ثمن اللفافة بالدينار :

$$18 = 3 \times 6$$

أ - ما يتقاضاه العامل في 4 أيام بالدينار :
 $21800 = 98100 - 119900$

ما يتقاضاه العامل في اليوم بالدينار :
 $5450 = \frac{21800}{4}$

عدد الأيام التي عمل فيها العامل :
 $18 = \frac{98100}{5450}$

ب - ما بقي للعامل بعد مصاريفه العائلية بالدينار :
 $32700 = \frac{98100}{3}$

مقدار ما ادخره العامل بالدينار :
 $13080 = \frac{2 \times 32700}{5}$

145 - الحل

أ - قيس مساحة الأرض بالمترب :
 2450 أي 2450 م^2
 قيس مساحة القطعة الأولى بالمترب :
 $700 = \frac{2 \times 2450}{7}$

قيس مساحة القطعة الثانية بالمترب :
 $785 = 85 + 700$

قيس مساحة القطعة الثالثة بالمترب :
 $965 = (785 + 700) - 2450$

ثمن شراء الأرض بالدينار :

$$1555750 = 2450 \times 0635$$

ب - ثمن بيع الأرض بالدينار :

$$3675 = 2119250 + 1555750$$

ثمن بيع المترب الواحد بالدينار :
 $1500 = \frac{3675}{2450}$

ثمن بيع القطعة الأولى بالدينار :
 $1050 = 700 \times 1500$

ثمن بيع القطعة الثانية بالدينار :
 $1177500 = 785 \times 1500$

ثمن بيع القطعة الثالثة بالدينار :
 $1447500 = 965 \times 1500$

146 - الحل

أ - قيس حجم الجدار بالمترب المكعب :
 $294 = 050 \times 280 \times 21$

ب - قيس حجم الحجارة بالمترب المكعب :
 $245 = \frac{5 \times 294}{6}$

ج - ثمن الاسمنت بالدينار :
 $29400 = 21 \times 1400$

ثمن الرمل بالدينار :
 $9900 = 45 \times 2200$

ثمن الحجارة بالدينار :
 $61250 = 245 \times 2500$

ثمن المواد المستعملة في بناء الجدار بالدينار :
 $100550 = 61250 + 9900 + 29400$

ثمن شراء القماش بالدينار :

$$8ر010 = 9 \times 0ر890$$

ثمن كلفة الأقمصة بالدينار :

$$10ر060 = 2ر050 + 8ر010$$

قيمة الربح الجملي بالدينار :

$$2ر012 = \frac{20 \times 10ر060}{100}$$

ثمن بيع 12 قميصا بالدينار :

$$12ر072 = 2ر012 + 10ر060$$

ثمن بيع القميص الواحد بالدينار :

$$1ر006 = \frac{12ر072}{12}$$

149 - الحـل

التسبة المئوية	عدد الناخبين	عدد المترشحين	
50 %	17	34	السادسة أ
40 %	14	35	السادسة ب
25 %	7	28	السادسة ج
75 %	21	28	السابعة
47.2 %	59	125	المجموع

ب - عدد المترشحات :

$$49 = \frac{27 - 125}{2}$$

د - تكاليف اليد العاملة بالدينار :

$$40ر220 = \frac{2 \times 100ر550}{5}$$

ثمن كلفة بناء الحائط بالدينار :

$$140ر770 = 40ر220 + 100ر550$$

147 - الحـل

أ - وزن اللحم بالكغ :

$$1ر100 = \frac{2ر640}{2ر400}$$

ب - ثمن اللحم والخضر بالدينار :


$$4ر950 = 2ر310 + 2ر640$$

ما بقي لأبي من النقود بالدينار :

$$2ر475 = \frac{12ر375}{5}$$

ثمن المحفظة والكتاب بالدينار :

$$4ر950 = (2ر475 + 4ر950) - 12ر375$$



ثمن الكتاب بالدينار :

$$0ر550 = \frac{4ر950}{9}$$

ثمن المحفظة بالدينار :

$$4ر400 = 8 \times 0ر550$$

- 1 - عدد السكّان الزائدين : $5450 = 8720 - 14170$
 2 - النسبة المائويّة للزيادة $0.025 = \frac{5450}{218000}$ أي 2ر5 %

السنة	عدد السكّان في أول السنة	الزيادة	عدد السكّان في آخر السنة
1977	218 000	5450	223 450
1978	223 450	5586	229 036
1979	229 036	5726	234 762
1980	234 762	5869	240 631

- أ - طول السياج بالمتر
 $1216 = \frac{1459 \times 200}{1 \times 200}$
- ب - البحث عن بعدي الحقل مع العلم أن نصف محيطه بالمتر هو
 $608 = \frac{1216}{2}$
- العرض العرض العرض العرض
 الطول
 عرض الحقل بالمتر :
 $152 = \frac{608}{4}$ أو بالديكامتر 15ر2
 طول الحقل بالمتر :
 $456 = 3 \times 152$ أو بالديكامتر 45ر6
 قيس مساحة الحقل بالآر :
 $693 \times 12 = 45 \times 15 \times 12$

$$76 = 27 + 49$$

ج - عدد الناجحين من الذكور :

$$45 = 14 - 59$$

د - نسبة النجاح عند الذكور :

$$59 \times 2 = \frac{100 \times 45}{76} \text{ أي } 59 \times 2 \text{ % تقريبا}$$

نسبة النجاح عند الإناث :

$$28 \times 5 = \frac{100 \times 14}{49} \text{ أي } 28 \times 5 \text{ % تقريبا}$$

يمثل المبلغ الباقي 0ر900 د الربح الناتج عن التخفيض لذا فإن
 ثمن المعطف بدون اعتبار التخفيض هو بالدينار :

$$9 = \frac{100 \times 0 \times 900}{10}$$

المبلغ الذي خرجت به الى السوق بالدينار :

$$12 = \frac{4 \times 9}{3}$$

قيس مساحة الضيعة بالآر :

$$12 \text{ ها و } 48 \text{ أي } 1248 \text{ أ .}$$

ثمن شراء الضيعة بالدينار :

$$15600 = 1248 \times 12 \times 500$$

تكاليف الضيعة بالدينار :

$$15920 = 90 + 230 + 15600$$

النسبة المائويّة للأرباح السنويّة :

$$6 \text{ أي } 6 \text{ %} = \frac{955 \times 200 \times 100}{15920}$$

ثمن شراء الحقل بالدينار :

$$41\ 587\ 200 = 60 \times 693\ 12$$

تكاليف التسجيل بالدينار :

$$3326\ 976 = \frac{8 \times 41587\ 200}{100}$$

الثمن الجملي لشراء الحقل المسيج بالدينار :

$$46\ 373\ 376 = 1459\ 200 + 3326\ 976 + 41587\ 200$$

154 - الحل

أ - مصاريف الموظف خلال 11 شهرا بالدينار :

$$1078 = 11 \times 98$$

جملة مصاريفه في السنة بالدينار :

$$1219\ 200 = 141\ 200 + 1078$$

المقدار المدخر سنويا بالدينار :

$$526\ 600 = 1219\ 200 - 1745\ 800$$

ب - مقدار الفائض بالدينار :

$$31\ 596 = \frac{6 \times 526\ 600}{100}$$

155 - الحل

أ - قياس مساحة الأرض بالأر :

$$34\ 56 = \frac{1728}{50}$$

$$34\ 56 \text{ م}^2 \text{ أو } 3456 \text{ م}^2$$

ب - تكاليف التهيئة والتقسيم بالدينار :

$$3\ 456 = 2 \times 1728$$

ثمن كلفة العقار بالدينار :

$$5184 = 3456 + 1728$$

ج - ثمن بيع كامل الأرض بالدينار :

$$8294\ 400 = \frac{(60 + 100) \times 5184}{100}$$

ثمن بيع المتر المربع الواحد بالدينار :

$$2\ 400 = \frac{8294\ 400}{3456}$$

156 - الحل

أ - الثمن الجديد للذخيرة النارية بالدينار :

$$533 = \frac{(25 + 100) \times 520}{100}$$

ب - المقدار الذي سيدفعه الموظف بالدينار :

$$383 = 150 - 533$$

ج - المقدار الذي سيستعيه الموظف بحساب الكسور :

$$\frac{1}{4} = \frac{3}{4} - \frac{4}{4}$$

المقدار الذي سيستعيه الموظف بالدينار :

$$95\ 750 = \frac{383}{4}$$

157 - الحل

أ - مناب الأول والثاني بحساب الكسور :

$$\frac{11}{15} = \frac{5}{15} + \frac{6}{15} = \frac{1}{3} + \frac{2}{5}$$

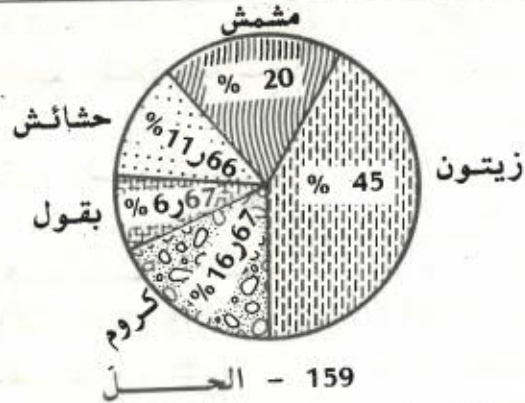
مناب الثالث بالكسور :

$$\frac{4}{15} = \frac{11}{15} - \frac{15}{15}$$

قيس مساحة كامل الأرض بالمتر المربع :

$$2490 = \frac{15 \times 664}{4}$$

نوع الزراعة	المساحة	النسبة المئوية من الضيعة
الزيتون	27 ها	% 45
المشمش	12 ها	% 20
الكروم	10 ها	% 16ر67
البقول	4 ها	% 6ر67
الباقي	7 ها	% 11ر66
الجملة	60 ها	% 100



أ - اكمل تكمير الجدول :

سنوات التعليم	عدد التلاميذ	
	ذكور	إناث
السنة الأولى	44	46
السنة الثانية	33	42
السنة الثالثة	38	36
السنة الرابعة	48	28
السنة الخامسة	46	24
السنة السادسة	23	12
الجملة	232	188

ب - مناب الأول بالمتري المربع :

$$996 \text{ أو } 9ر96 \text{ أ} = \frac{2 \times 2490}{5}$$

مناب الثاني بالمتري المربع :

$$830 \text{ أو } 8ر30 \text{ أ} = \frac{2490}{3}$$

مناب الثالث بالار : 6ر64

ج - ثمن كلفة المتري المربع الواحد بالدينار :

$$7ر475 = \frac{115 \times 6ر500}{100}$$

ثمن كلفة القطعة الأولى بالدينار :

$$7445ر100 = 996 \times 7ر475$$

ثمن كلفة القطعة الثانية بالدينار :

$$6204ر250 = 830 \times 7ر475$$

ثمن كلفة القطعة الثالثة بالدينار :

$$4963ر400 = 664 \times 7ر475$$

158 - الحل

(1) قيس المساحة المزروعة زيتونا بالمتري المربع :

$$270\ 000 \text{ أو } 27 \text{ ها} = 1200 \times 225$$

(2) قيس المساحة المزروعة مشمشا بالمتري المربع :

$$120\ 000 \text{ أو } 12 \text{ ها} = 750 \times 160$$

وفيما يلي بعض المعلومات عن كيفية تعيير الجدول السابق :

عدد الإناث بالسنة الأولى :

$$46 = 44 - 90$$

عدد الإناث بالسنة الثالثة :

$$36 = 38 - 74$$

عدد الذكور بالسنة الرابعة :

$$48 = 28 - 76$$

عدد التلاميذ بالسنة السادسة :

$$35 = \frac{420}{12}$$

عدد الذكور بالسنة السادسة :

$$23 = 12 - 35$$

عدد التلاميذ بالسنة الخامسة :

$$70 = 2 \times 35$$

عدد الذكور بالسنة الخامسة :

$$46 = 24 - 70$$

عدد التلاميذ بالسنة الثانية :

$$75 = (90 + 74 + 76 + 70 + 35) - 420$$

عدد الذكور بالسنة الثانية :

$$33 = 42 - 75$$

ب - نسبة النجاح :

$$60 \text{ أي } 60\% = \frac{100 \times 21}{35}$$

160 - الحل

أ - ثمن شراء السيارة بالدينار :

$$741,600 = \frac{(20 + 100) \times 618}{100}$$

ثمن كلفة السيارة بالدينار :

$$998 = 256,400 + 741,600$$

ب - مقدار الربح بالنسبة لثمن الشراء بالدينار :

$$185,400 = \frac{25 \times 741,600}{100}$$

مقدار الربح بالنسبة لثمن الكلفة بالدينار :

$$199,600 = \frac{20 \times 998}{100}$$

نلاحظ إذا أنه من الأنسب لهذا البائع أن يختار الحل الثاني لأن
مربحيه أوفر ($199,600 < 185,400$)

161 - الحل

أ - النسبة المئوية لمصاريف المعاش : 50 %

النسبة المئوية لمصاريف الكراء : 25 %

النسبة المئوية للادخار : (5 - 25) % = 20 %

ب - ما ينفقه شهريا في المعاش بالدينار :

$$120 = \frac{50 \times 240}{100}$$

ما ينفقه في الكراء بالدينار :

$$60 = \frac{25 \times 240}{100}$$

مقدار المصاريف الشتى بالدينار :

$$12 = \frac{5 \times 240}{100}$$

ج - المبلغ الذي يدخره الموظف شهريا بالدينار :

$$48 = \frac{20 \times 240}{100}$$

د - مقدار ما يدخره الموظف سنويا بالدينار :

$$576 = 12 \times 48$$

فبما أن $450 < 576$ فإن الموظف يستطيع شراء جهاز التلفزة
بعد مضي سنة .

ثمن الآلة باعتبار التخفيض بالدينار :

$$262ر240 = \frac{88 \times 298}{100} = \frac{(12 - 100) \times 298}{100}$$

ثمن كلفة الآلة بالدينار :

$$275ر352 = \frac{105 \times 262ر240}{100} = \frac{(5 + 100) \times 262ر240}{100}$$

مدة العمل باليوم :

$$12 = 4 + [1 + (24 - 31)] \text{ أو } 12 = 4 + (23 - 31)$$

أجرة النائب في تلك الفترة بالدينار :

$$368ر200 = 278ر200 + 90 = \frac{5 \times 5564}{100} + (12 \times 7ر500)$$

أ - يمكننا تعويض محفظتين بـ 5 كتب أي 6 محافظ بـ 15 كتاباً فكما

لو باع الكتبي في الجملة 115 كتاباً ، إذا :

ثمن الكتاب الواحد بالدينار :

$$1ر200 = \frac{138}{115}$$

ب - ثمن المحفظة بالدينار :

$$3 = \frac{5 \times 1ر200}{2}$$

ثمن المحافظ بالدينار :

$$18 = 6 \times 3$$

الربح الناتج عن بيع المحافظ بالدينار :

$$3ر240 = \frac{18 \times 18}{100}$$

الربح الناتج عن بيع الكتب بالدينار :

$$30 = \frac{25 \times (18 - 138)}{100}$$

مربح الكتبي بالدينار :

$$. 33ر240 = 30 + 3ر240$$

أ - ثمن المشروبات الغازية بالمليم :

$$0ر520 = 4 \times 130 \text{ أو بالدينار ، } 520$$

ثمن 3 ل من الزيت بالدينار :

$$1ر650 = 0ر520 - 2ر170$$

ثمن اللتر من الزيت بالدينار :

$$0ر550 = 3 : 1ر650$$

ب - مقدار ربح التاجر بالنسبة للتر واحد من الزيت بالمليم :

$$55 = \frac{10 \times 550}{100}$$

يشترى التاجر لتر الزيت بمبلغ قدره بالمليم :

$$495 = 55 - 550$$

فهو يشترى حينئذ الكيلو غرام من الزيت بمبلغ قدره بالمليم :

$$0ر550 = \frac{1000 \times 495}{900} \text{ أو بالدينار } 550$$

أما ثمن شراء الطن من هذا الزيت فهو بالنسبة للتاجر وبالدينار :

$$550 = 1000 \times 0ر550$$

أ - إنتاج البقر في اليوم بحساب اللتر :

$$240 = 20 \times 12$$

إنتاج البقر لمدة 250 يوماً باللتر :

$$60000 = 250 \times 240$$

ب - ثمن بيع الحليب بالدينار :

$$8400 = 60000 \times 0,140$$

المصاريف بالدينار :

$$2730 = \frac{32,5 \times 8400}{100}$$


قيمة المحصول السنوي للفلاح بالدينار :

$$5670 = 2730 - 8400$$

أو

$$5670 = 67,5 \times 84 = \frac{(32,5 - 100) \times 8400}{100}$$

167 - الحل



أجره الابن الكبير بالدينار :

$$1800 = 0,600 + \frac{2,400}{2}$$

أجره الابن الصغير بالدينار :

$$1400 = \frac{1,800 + 2,400}{3}$$

ب - الدخل اليومي للعائلة بالدينار :

$$5600 = 1400 + 1800 + 2400$$

الدخل السنوي للعائلة بالدينار :

$$2044 = 365 \times 5600$$

ج - النسبة المئوية للمدخرات :

$$100 - 65 = 35 \text{ أي } 35\%$$

المبلغ المدخر سنويًا بالدينار :

$$715400 = \frac{35 \times 2044}{100}$$

168 - الحل

أ - قيس مساحة الأرض بالآر :

$$3600 \text{ م}^2 \text{ أو } 36 \text{ أ}$$

ثمن شراء الأرض بالدينار :

$$4320 = 36 \times 120$$

ب - ثمن الكلفة بالدينار :

$$5400 = \frac{125 \times 4320}{100}$$

ج - قيس مساحة القاعات والمسكن بالمتر المربع :

$$386 = 120 + 266 = 10 \times 12 + 4 \times (7 \times 9,5)$$

تكاليف البناء بالدينار :

$$15440 = 386 \times 40$$

د - جملة تكاليف شراء الأرض والبناء بالدينار :

$$20840 = 15440 + 5400$$

القسط الذي تتحمله البلدية بالدينار :

$$7919200 = \frac{(62 - 100) \times 20840}{100}$$

170 - الحـل

أ - قيس مساحة الأرض بالمتـر المـربـع :

$$1800 = 3 \times 600 \text{ أو بالأر } 18$$

مناب الثاني بالمتـر المـربـع :

$$400 = \frac{2 \times 600}{3}$$

مناب الثالث بالمتـر المـربـع :

$$800 = 2 \times 400$$

ب - تكاليف التـسـجـيل بالدينار :

$$1890 = \frac{14 \times 750 \times 18}{100}$$

ثمن شراء الأرض بالدينار :

$$15390 = 1890 + (750 \times 18)$$

ج - ما يدفعه الأول بالدينار :

$$5130 = \frac{15390}{3}$$

ما يدفعه الثاني بالدينار :

$$3420 = \frac{2 \times 5130}{3}$$

ما يدفعه الثالث بالدينار :

$$6840 = 2 \times 3420$$

171 - الحـل

أ - قيس مساحة الأرض بالهكتار :

$$15376 = 124 \times 124$$

ثمن بيع الأرض بالدينار :

$$5381600 = 15376 \times 3500$$

الـثـمـن الحـقـيـقـي للـجـزـار بالدينار :

$$6727 = \frac{5 \times 5381600}{4}$$

169 - الحـل

أ - طول الأرض بالمتـر

$$210 = \frac{420}{2} \left\{ \begin{array}{l} \text{-----} \\ \text{50 م} \\ \text{-----} \end{array} \right.$$

عرض الأرض بالمتـر

نصف طول المحيط بالمتـر :

$$210 = 2 : 420$$

طول الأرض بالمتـر :

$$130 = \frac{50 + 210}{2}$$

عرض الأرض بالمتـر :

$$80 = 50 - 130$$

قيس مساحة الأرض بالمتـر المـربـع :

$$10400 = 80 \times 130 \text{ أو بالأر } 104$$

ب - ثمن شراء الأرض بالدينار :

$$31200 = 104 \times 300$$

مصاريف التـسـجـيل بالدينار :

$$4680 = \frac{15 \times 31200}{100}$$

ثمن كلفة الأرض بالدينار :

$$35880 = 4680 + 31200$$

ج - ثلث ثمن الكلفة بالدينار :

$$11960 = \frac{35880}{3}$$

ما بقي دفعه بزيادة 6 % بالدينار :

$$12677600 = \frac{106 \times 11960}{100}$$

الـثـمـن الحـقـيـقـي لشـراء الأـرض بالدينار :

$$36597600 = 12677600 + (2 \times 11960)$$

ب - قيمة المبلغ المطالب به الفلاح بالدينار :

$$1345ر400 = 5381ر600 - 6727$$

مقدار الزيادة بالدينار :

$$107ر632 = \frac{8 \times 1345ر400}{100}$$

المبلغ الكلي الذي سيدفعه الفلاح بالدينار وعلى أقساط :

$$1453ر032 = 107ر632 + 1345ر400$$

مقدار القسط الواحد بالدينار :

$$242ر172 = \frac{1453ر032}{6}$$

ج - ثمن كلفة الجزار بالدينار :

$$6834ر632 = 107ر632 + 6727$$

172 - الحل

أ - جملة ما صرفه المقتصد بالدينار :

$$891 = 369ر389 + 89ر007 + 432ر604$$

ب - معدل ما صرفه المقتصد يوميا بالدينار :

$$89ر100 = \frac{891}{10}$$

ج - معدل تكاليف الطفل الواحد طيلة المصيف بالدينار :

$$14ر850 = \frac{891}{60}$$

معدل تكاليف الطفل الواحد في اليوم الواحد بالدينار :

$$1ر485 = \frac{14ر850}{10}$$

د - جملة المداخيل بالدينار :

$$900 = 9 + 891$$

المقدار الذي ساهم به الأطفال بالدينار :

$$180 = \frac{20 \times 900}{100}$$

المقدار الذي ساهم به كل طفل بالدينار :

$$3 = \frac{180}{60}$$

173 - الحل

أ - المبلغ الذي سيدفعه الأب مقابل شراء الأثاث بالدينار :

$$144 = 48 + 36 + (3 \times 5ر500) + (3 \times 14ر500)$$

ب - ما يذخره الأب في 9 أشهر بالدينار :

$$108 = 9 \times 12$$

نلاحظ أن $144 > 108$ لذا فإن الأب لا يمكنه الحصول على الأثاث

ج - الأشياء التي يستطيع الأب شراءها هي : المكاتب والكراسي

والخزانة لأن :

$$108 = 48 + (3 \times 5ر500) + (3 \times 14ر500)$$

المدة اللازمة لاقتناء بقية الأثاث بالشهر :

$$3 = \frac{36}{12}$$

د - المقدار الذي سيدفعه الأب باعتبار التخفيض وبالدينار :

$$115ر200 = \frac{(20 - 100) \times 144}{100}$$

المدة اللازمة لجمع ثمن الأثاث :

$$9ر60 = \frac{115ر200}{12}$$

أ - طول القاعدة الضري بالمتر :

$$280 = \frac{2 \times 420}{3}$$

ارتفاع قطعة الأرض بالمتر :

$$63 = \frac{2 \times 22\ 050}{280 + 420}$$

ب - 22 050 م² أو 5ر220 ا

ثمن بيع الار بالدينار :

$$350 = \frac{77\ 175}{220,5}$$

ج - مقدار الدين بالدينار :

$$92\ 610 = \frac{6 \times 77\ 175}{5}$$

د - بقية الدين التي سيقع تسديدها على 5 مرات بحساب الدينار :

$$15\ 435 = 77\ 175 - 92\ 610 \text{ (بدون اعتبار الترفيع بـ } 15\% \text{)}$$

ما يجب على أحمد دفعه بالنسبة للأقساط الخمسة بالدينار :

$$17\ 750,250 = \frac{115 \times 15\ 435}{100}$$

مقدار القسط الواحد بالدينار :

$$3\ 550,050 = \frac{17\ 750,250}{5}$$

الحل - 175

أ - عدد ساعات العمل الصباحية في اليوم :

$$12 \text{ س و } 30 \text{ دق} - 8 \text{ س و } 30 \text{ دق} = 4 \text{ س}$$

عدد الساعات المسائية في اليوم :

$$18 \text{ س و } 30 \text{ دق} - 14 \text{ س و } 30 \text{ دق} = 4 \text{ س}$$

عدد الساعات التي يشتغل فيها العامل أسبوعيًا

$$44 = 4 + 5 \times (4 + 4) -$$

ب - الدخل الأسبوعي الخام بالدينار :

$$18\ 700 = 44 \times 0,425$$

ما يدفعه العامل أسبوعيًا لفائدة صندوق الضمان الاجتماعي بالدينار :

$$1\ 122 = \frac{6 \times 18\ 700}{100}$$

ما يدفعه العامل أسبوعيًا للتأمين على حياته بالدينار :

$$0,187 = \frac{1 \times 18\ 700}{100}$$

الدخل الصافي الأسبوعي بالدينار :

$$17\ 391 = (0,187 + 1,122) - 18\ 700$$

$$17\ 391 = \frac{93 \times 18\ 700}{100} \text{ أو}$$

ج - المقدار المدخر أسبوعيًا بالدينار :

$$7\ 941 = 9\ 450 - 17\ 391$$

ما يدخره العامل في السنة بالدينار :

$$414\ 066 = 365 \times \frac{7\ 941}{7}$$

الحل - 176

أ - حساب كمية البنزين الموجودة بالغازان بالمتر المكعب :

$$2\ 888 = \frac{2 \times 1,8 \times 4}{5} = \frac{2}{5} \times 1,80 \times 4$$

أحوّل 2ر88 م³ الى دسم³ أي الى لتر :

$$2\ 888 \text{ م}^3 \text{ أو } 2\ 880 \text{ دسم}^3 \text{ أي } 2\ 880 \text{ ل}$$

ب - قيس مساحة قاعدة الخزان بالمتر المربع :

$$7ر2 = 1ر8 \times 4$$

كمية البنزين الموجودة بالخزان بعد إضافة 45 هل بحساب اللتر :

$$7380 = 4500 + 2880 \text{ أو } 7ر38 \text{ م}^3$$

ارتفاع البنزين بالخزان بحساب المتر :

$$1ر025 = \frac{7ر38}{7ر2}$$

ج - ثمن بيع البنزين بالدينار :

$$1623ر600 = 7380 \times 0ر220$$

ربح صاحب المستودع بالدينار :

$$32ر472 = \frac{2 \times 1623ر600}{100}$$

177 - الحل

أ - كمية البنزين التي اشتراها صاحب السيارة بحساب اللتر :

$$20 = \frac{4ر400}{0ر220}$$

كمية البنزين المستهلكة بعد قطع مسافة 175 كم بحساب اللتر :

$$21 = 9 - (20 + 10)$$

ب - كمية البنزين المستهلكة في 100 كم بحساب اللتر :

$$12 = \frac{100 \times 21}{175}$$

ج - المسافة التي يمكن قطعها بـ 9 ل بحساب الكم :

$$75 = \frac{9 \times 100}{12} \text{ أو } 75 = \frac{9 \times 175}{21}$$

كما يمكن الاستعانة بتعمير هذا الجدول للوصول الى الحل

المسافة المقطوعة	كمية البنزين المستهلكة
175	21
25	3
100	12
75	9

178 - الحل

أ - قيس مساحة القطعة الأولى بالمتر المربع :

$$38416 = 196 \times 196$$

قيس مساحة القطعة الثانية بالمتر المربع :

$$38416 = 96ر04 \times 400$$

قيس مساحة القطعة الثالثة بالمتر المربع :

$$38416 = 192ر08 \times 200$$

ملاحظة : $115248 = 3 \times 38416$ وهو قيس مساحة كامل

الأرض بالمتر المربع

لذا فإن القسمة عادلة .

ب - ثمن كل قطعة بالدينار :

$$6338ر640 = 3ر8416 \times 1650$$

ثمن شراء المنزل بالدينار :

$$5387ر844 = \frac{(15 - 100) \times 6338ر640}{100}$$

أ - كميّة ماء الزّهر بالهل :

$$225 \text{ ل أو } 2ر25 \text{ هل}$$

ثمن كميّة الزّهر بالدينار :

$$46ر800 = 2ر25 \times 20ر800$$

ب - عدد القوارير اللازمة :

$$300 = \frac{225}{0,75}$$

ج - ثمن القارورة الفارغة بالمليم :

$$25 = \frac{2500}{100}$$

ثمن السّداد بالمليم :

$$9 = \frac{9000}{1000}$$

ثمن كلفة القوارير المملوءة بالدينار :

$$57 = 300 \times (0ر009 + 0ر025) + 46ر800$$

ثمن بيع القوارير بالدينار :

$$68ر400 = \frac{(20 + 100) \times 57}{100}$$

ثمن بيع القارورة الواحدة بالمليم :

$$228 = \frac{68400}{300}$$

180 - الحـل

1 - طول القماش اللازم للسرّوال الواحد بالمتر :

$$1200 : 100 = 1ر20$$

قيمة المواد اللازمة للسرّوال الواحد بالدينار :

$$2ر700 = 0ر180 + 1ر2 \times 2ر100$$

قيمة اليد العاملة بالدينار :

$$1ر080 = \frac{40 \times 2ر700}{100}$$

تكاليف السرّوال الواحد بالدينار :

$$3ر780 = 1ر080 + 2ر700$$

2 - النسبة المئوية لربح التاجر :

$$30\% \text{ أي } 0ر30 = \frac{3ر780 - 4ر914}{3ر780}$$

181 - الحـل

1 - النسبة المئوية لربح الخضار :

$$10\% \text{ أي } 0ر10 = \frac{0ر480 - 0ر528}{320} = \frac{0ر480 - 0ر528}{320}$$

2 - ثمن الكغ من البطاطا بالدينار :

$$0ر160 = 1ر5 : 0ر240$$

$$0ر145 = \frac{100 \times 0ر160}{110} \text{ ثمن الشراء بالدينار :}$$

3 - النسبة المئوية لربح بائع السمك :

$$25\% \text{ أي } 0ر25 = \frac{1ر520 - 1ر900}{1ر520}$$

الثمن الحقيقي بالدينار لـ 3ر200 كغ من السمك

$$6ر080 = 3ر20 \times 1ر900$$

ما دفعه محمّد بالدينار 6ر080 - 0ر080 = 6

ربح بائع السمك بالدينار :

$$1ر136 = (3ر200 \times 1ر520) - 6$$

1 - المبلغ 55 د يمثل 22 % من مرتبه فمرتبته هو إذا بالدينار

$$250 = \frac{100 \times 55}{22}$$

نوع المصاريف	النسبة المئوية	قيمة المصاريف
مصاريف الأكل والتنقل	48 %	120 د
الغاز والكهرباء والماء	8 %	20 د
الكراء	22 %	55 د
الادخار السكني	22 %	55 د
الجملة	100 %	250 د

2 - أ - مصاريف الكراء بالدينار :

$$57,750 = 2,750 + 55 = \frac{5 \times 55}{100} + 55$$

ب - مرتبه الجديد بالدينار :

$$275 = 25 + 250$$

النسبة المئوية للكراء من مرتبه

$$21\% = \frac{57,750}{275}$$

نوع المصاريف	النسبة المئوية	قيمة المصاريف
الأكل والتنقل	48 %	132 د
الغاز والكهرباء والماء	8 %	22 د
الكراء	21 %	57,750 د
الادخار السكني	23 %	63,250 د
الجملة	100 %	275 د

183 - الحـل

أ - أبعاد الأرض بالهكتومتر :

$$108 \text{ م أو } 1,08 \text{ هم}$$

$$96 \text{ م أو } 0,96 \text{ هم}$$

$$48 \text{ م أو } 0,48 \text{ هم}$$

قيس مساحة الأرض بالهكتار :

$$0,4896 = \frac{0,48 \times (0,96 + 1,08)}{2}$$

ب - قيس مساحة القطعة المربعة بالم² :

$$2304 = 48 \times 48$$

قيس مساحة كامل الأرض بالم² :

$$0,4896 \text{ ها أو } 4896 \text{ م}^2$$

قيس مساحة القطعة الثانية بالم² :

$$2592 = 2304 - 4896$$

الفرق بين قيسي مساحتي القطعتين :

$$288 = 2304 - 2592$$

ثمن بيع المتر المربع الواحد بالدينار :

$$25 = \frac{7200}{288}$$

أ - ما أخذه مقاول البناء بعد التخفيض بالدينار :

$$336 = \frac{(4 - 100) \times 350}{100}$$

مصاريف الإصلاح بالدينار :

$$794 = 60ر500 + 106ر500 + 95 + 196 + 336$$

ما أخذه المهندس بالدينار :

$$39ر700 = \frac{5 \times 794}{100}$$

تكاليف الإصلاح بالدينار :

$$833ر700 = 39ر700 + 794$$

ب - المقدار الذي سيدفعه محمد من عنده بالدينار مقابل الإصلاحات :

$$708ر645 = \frac{(15 - 100) \times 833ر700}{100}$$

ج - ثمن كلفة المنزل بالدينار :

$$12709 = 708ر645 + 12\ 000ر355$$

المبلغ السنوي لكرء الروضة بالدينار :

$$444ر815 = \frac{3ر5 \times 12709}{100}$$

أ - قيس مساحة الحقل الأول بالمتري المربع :

$$12\ 000 \text{ أو بالهكتار } 1ر2 = \frac{80 \times \left(\frac{2 \times 180}{3} + 180 \right)}{2}$$

قيس مساحة الحقل الثاني بالمتري المربع :

$$9\ 100 \text{ أو بالهكتار } 0ر91 = 70 \times 130$$

ج - ثمن بيع الأرض بالدينار :

$$122\ 400 = 4896 \times 25$$

ثمن كلفة الأرض بالدينار :

$$140\ 760 = \frac{115 \times 122\ 400}{100}$$

أ - عدد التذاكر التي بيعت بـ 200 مي :

$$1120 = (220 + 350) - 550$$

مداخل المدرسة بالدينار :

$$270 = (550 \times 0ر200) + (220 \times 0ر250) + (350 \times 0ر300)$$

مراييح المدرسة بالدينار :

$$216 = \frac{(20 - 100) \times 270}{100}$$

ب - مناب صندوق المدرسة بالدينار :

$$32ر400 = \frac{15 \times 216}{100}$$

ثمن الوسائل التعليمية بالدينار :

$$129ر600 = \frac{3 \times 216}{5}$$

ما تبقى لتعاضدية المدرسة بالدينار :

$$54 = (129ر600 + 32ر400) - 216$$

وبما أن $54 > 60$ فإنه لا يمكن للمدرسة تنظيم هذه الرحلة .

ج - جملة ما سيدفعه المشاركون بالدينار :

$$6 = 54 - 60$$

ما يدفعه كل مشارك بالمليم :

$$150 = \frac{6000}{40}$$

ب - المبلغ الذي سيرجعه الصندوق للمريض بالدينار:

$$584ر686 = 274ر770 + \frac{80 \times 387ر395}{100}$$

ج - ما يدفعه المريض للمستشفى بالدينار:

$$600 = \frac{100 \times 540}{90} \text{ وبذلك يدخر المريض مبلغا مقداره بالدينار:}$$

$$87ر395 = 600 - 687ر395$$

188 - الحل

أ - ثمن السيارة بالدينار:

$$8000 = \frac{100 \times 5600}{(30 - 100)}$$

ب - ما دفعه الطبيب في بداية الأمر بالدينار:

$$2400 = \frac{30 \times 8000}{100}$$

ج - مقدار الزيادة بالدينار:

$$280 = \frac{5 \times 5600}{100}$$

مقدار ما يدفعه الطبيب شهريا بالدينار:

$$490 = \frac{280 + 5600}{12}$$

د - ثمن كلفة السيارة بالدينار:

$$8390 = 50 + 60 + 280 + 8000$$

189 - الحل

أ - وزن الاح في البيضة الواحدة بالغمم:

$$32 = (18 + 7) - 57$$

ثمن القنطار من الشعير بالدينار:

$$6ر500 = 2ر500 - 9$$

قيمة الشعير بالدينار:

$$141ر960 = (0ر91 \times 24) \times 6ر500$$

قيمة القمح بالدينار:

$$388ر800 = (1ر2 \times 36) \times 9$$

قيمة الإنتاج بالدينار:

$$530ر760 = 388ر800 + 141ر960$$

ب - المبلغ الراجع لشركة التأمين بالدينار:

$$26ر538 = \frac{5 \times 530ر760}{100}$$

ج - قيمة الضرر بالدينار:

$$176ر920 = \frac{530ر760}{3}$$

المبلغ الذي ستدفعه شركة التأمين للفلاح بالدينار:

$$141ر536 = \frac{80 \times 176ر920}{100}$$

187 - الحل

أ - تكاليف الإقامة بالمضحة بالدينار:

$$300 = 20 \times 15$$

تكاليف الأدوية والعملية بالدينار:

$$387ر395 = 300 - 687ر395$$

تكاليف الأدوية بالدينار:

$$112ر625 = \frac{162ر145 - 387ر395}{2}$$

تكاليف العملية بالدينار:

$$274ر770 = 162ر145 + 112ر625$$

ب - المبلغ الحقيقي الذي سيدفعه أبي بالدينار :

$$1063ر125 = 61ر875 - 1125$$

ج - الثمن المسجل على أثاث غرفة الأكل بالدينار :

$$450 = \frac{225 - 1125}{2}$$

الثمن المسجل على أثاث غرفة النوم بالدينار :

$$675 = 225 + 450$$

د - الثمن الحقيقي لشراء أثاث غرفة النوم بالدينار :

$$637ر875 = \frac{(5ر5 - 100) \times 675}{100}$$

الثمن الحقيقي لشراء أثاث غرفة الأكل بالدينار :

$$. 425ر250 = 637ر875 - 1063ر125$$

191 - الحل

ثمن الساعات العادية بالدينار :

$$47ر040 = 168 \times 0ر280$$

ثمن الساعات الإضافية الأولى بالدينار :

$$13ر300 = \frac{125 \times (38 \times 0ر280)}{100}$$

ثمن الساعات الإضافية الثانية بالدينار :

$$7ر980 = \frac{150 \times (19 \times 0ر280)}{100}$$

الدخل الخام الشهري للعامل بالدينار :

$$72ر320 = 7ر980 + 13ر300 + 47ر040 + 4$$

الدخل الصافي للعامل في الشهر بالدينار :

$$68ر704 = \frac{(5 - 100) \times 72ر320}{100}$$

كمية المواد الغذائية الموجودة في الأح والمخ بالنسبة لبيضة
وأحدة بالغم :

$$13 = \frac{12ر5 \times 32}{100} + \frac{50 \times 18}{100}$$

ثمن البيضة الواحدة بالدينار :

$$0ر030 = \frac{0ر360}{12}$$

ثمن كلفة 2ر6 هغ من المواد الغذائية المتأتية من البيض
بالدينار :

$$0ر600 = \frac{260 \times 0ر030}{13}$$

ب - كمية اللحم اللازمة لاستخراج 2ر6 هغ من المواد الغذائية
بالغم :

$$1040 = \frac{100 \times 260}{25}$$

ثمن كلفة 2ر6 هغ من المواد الغذائية المتأتية من اللحم بالدينار :

$$1ر456 = \frac{1ر400 \times 1040}{1000}$$

نلاحظ أن ثمن كمية المواد الغذائية المتأتية من البيض أقل من
ثمن نفس تلك الكمية المتأتية من اللحم .

190 - الحل

أ - المبلغ الذي كان على أبي أن يدفعه بالدينار :

$$1125 = \frac{100 \times 61ر875}{5ر5}$$

نوع الخدمات وقطع الغيار	العدد	ثمن الوحدة	الجملة
عجلة مطاطية	1	د 24ر200	د 24ر200
فوانيس	2	د 0ر780	د 1ر560
زيت	4 ل	د 0ر460	د 1ر840
بنزين	40 ل	د 0ر220	د 8ر800
يد عاملة	1س و 15دق	د 1ر200	د 1ر500
غسل وتشحيم	/	/	د 2ر500
الجملة د 40ر400			
التخفيض 5 % د 2ر020			
الدفع د 38ر380			

أ - عدد النسخ التي تحصل عليها الكتبي :

$$65 = \frac{60}{12} + 60$$

ب - ما دفعه الكتبي بالدينار :

$$46ر080 = \frac{(20 - 100) \times 60 \times 0ر960}{100}$$

ج - عدد الكتب المباعة :

$$52 = \frac{80 \times 65}{100}$$

ثمن الكتب المباعة بالدينار :

$$49ر920 = 52 \times 0ر960$$

مقدار المربح بالدينار :

$$3ر840 = 46ر080 - 49ر920$$

أ - المبلغ الذي دفعته الحكومة بالدينار :

$$885ر0 = \frac{35ر4 \times 25000}{100}$$

ب - المبلغ الذي دفعه المواطنون بالدينار :

$$16150 = 8850 - 25000$$

ج - النسبة المئوية الموافقة للمبلغ الذي دفعه المواطنون :

$$35ر4 - 100 = 64ر6 \text{ أي } 64ر6\%$$

د - عدد السكان بالتقريتين :

$$32300 = 17250 + 15050$$

معدل ما دفعه كل مواطن بالدينار :

$$0ر500 = \frac{16150}{32300}$$

هـ - مقدار ما ساهمت به القرية الأولى بالدينار :

$$7525 = 15050 \times 0ر500$$

النسبة المئوية لهذا المقدار :

$$30ر1 \text{ أي } 30ر1\% = \frac{7525 \times 100}{25000}$$

مقدار ما ساهمت به القرية الثانية بالدينار :

$$8625 = 7525 - 16150$$

النسبة المئوية لهذا المقدار :

$$64ر6 - 30ر1 = 34ر5 \text{ أي } 34ر5\%$$

أ - الزمن الذي تستغرقه الحافلة بالدقائق :

$$27 = \frac{60 \times 9}{20}$$

ب - الزمن الذي يتفرقه العامل في السير بالدقائق :

$$20 = 27 - 47$$

المسافة التي يقطعها العامل واجلا بالكم :

$$2 = \frac{20 \times 6}{60}$$

ج - المصاريف اليومية بدون تخفيض بالدينار :

$$0,180 = 2 \times (9 \times 0,010)$$

ما يدفعه العامل يوميا باعتبار التخفيض بالدينار :

$$0,162 = \frac{90 \times 0,180}{100}$$

د - ما يدفعه العامل في الشهر باعتبار التخفيض بالدينار :

$$4,050 = 25 \times 0,162$$

ربح العامل في الشهر من جزاء الاشتراك الشهري بحساب الدينار

$$1,400 = 2,650 - 4,050$$

196 - الحـل

أ - ثمن كلفة الجهاز بالدينار حسب الحـل الأول :

$$167,200 = \frac{95 \times (5 + 15 + 5,400 + 16 + 134,600)}{100}$$

ب - ثمن كلفة الجهاز بالدينار وبدون اعتبار التخفيض :

$$176 = 5 + 15 + 5,400 + 16 + 134,600$$

مقدار ربح الثمن بالدينار :

$$44 = 176 - 132$$

باقي المبلغ بالدينار :

$$132 = 176 - 44$$

مقدار الزيادة بالدينار :

$$3,360 = \frac{3 \times (20 - 132)}{100}$$

ثمن كلفة الجهاز في الحالة الثانية بالدينار :

$$179,360 = 3,360 + 176$$

ج - مقدار القسط الواحد بالدينار :

$$28,840 = \frac{3,360 + (20 - 132)}{4}$$

د - الحـل الأول هو الأنسب لأبي لأنه سيربح مبلغا مقداره بالدينار :

$$12,160 = 167,200 - 179,360$$

197 - الحـل

أ - الطول الحقيقي للمسافة بالضم :

$$140 = 17,5 \times 800,000 = 14,000,000 \text{ أو بالكم } 140$$

ب - مدة السفر في الذهاب (أو في الإياب)

$$8 \text{ س و } 35 \text{ د ق} - 6 \text{ س و } 50 \text{ د ق} = 1 \text{ س و } 45 \text{ د ق أو } 105 \text{ د ق}$$

معدل سرعة السيارة بالكم / س

$$80 = \frac{60 \times 140}{105}$$

ج - كمية البنزين المستهلكة ذهابا وإيابا بالتر :

$$23,8 = 2 \times \frac{140 \times 8,5}{100}$$

د - ثمن البنزين المستهلك بالدينار :

$$5,236 = 23,8 \times 0,220$$

المصاريف الأخرى بالدينار :

$$7 = 2 \times (140 \times 0,025)$$

تكاليف السفر بالدينار :

$$12,236 = 7 + 5,236$$

198 - الحـل

أ - تكاليف ركوب العائلة بالقطار ذهابا وإيابا بالمليم :

$$7000 = 2 \times \left[\frac{50 \times 10 \times 140}{100} + (2 \times 10 \times 140) \right]$$

أي بالدينار 7 .

200 - الحـل

الطولان الحقيقيان للضلعين المتعامدين بالمتر :

$$115 \text{ أو بالدكم } 11ر5 = \frac{2500 \times 0ر046}{1} = \frac{1}{2500} : 0ر046$$

$$85 \text{ أو بالدكم } 8ر5 = \frac{2500 \times 0ر034}{1} = \frac{1}{2500} : 0ر034$$

قيس مساحة الحقل بالآر :

$$48ر875 = \frac{8ر5 \times 11ر5}{2}$$

ثمن الشراء بالدينار :

$$9481ر750 = 48ر875 \times 194$$

مقدار المصاريف بالدينار :

$$1706ر715 = \frac{18 \times 9481ر750}{100}$$

ثمن كلفة الحقل بالدينار :

$$11 \text{ 188ر465} = 1706ر715 + 9481ر750$$

201 - الحـل

أ - الطول الحقيقي للأرض بالديكامتر :

$$6ر72 = 400 \times 0ر0168$$

العرض الحقيقي للأرض بالديكامتر :

$$4ر8 = 400 \times 0ر012$$

قيس مساحة الأرض بالآر :

$$3225ر6^2 \text{ أو بالم } 32ر256 = 4ر8 \times 6ر72$$

ب - ثمن شراء الأرض بدون اعتبار مصاريف التسجيل بالدينار :

$$9031ر680 = 3225ر6 \times 2ر800$$

ثمن شراء الأرض باعتبار مصاريف التسجيل بالدينار :

$$10386ر432 = \frac{(15 + 100) \times 9031ر680}{100}$$

ثمن كلفة ركوب العائلة بسيارة الأجرة ذهابا وإيابا بالتميم :

$$1800 = 2 \times (3 \times 15 \times 20) \text{ أي بالدينار : } 1800$$

تكاليف ركوب العائلة من تونس إلى المنستير ذهابا وإيابا بالدينار :

$$8ر800 = 1ر800 + 7$$

ب - تكاليف إقامة العائلة بالنزل بدون اعتبار الخدمات بحساب الدينار :

$$168ر750 = \frac{15 \times 50 \times 4ر500}{100} + (15 \times 2 \times 4ر500)$$

تكاليف الإقامة باعتبار الخدمات بالدينار :

$$185ر625 = \frac{10 \times 168ر750}{100} + 168ر750$$

ج - ما يصرفه الأب في السنة بالدينار :

$$960 = 12 \times 80$$

المدخول السنوي للأب بالدينار :

$$1329ر425 = 175 + 8ر800 + 185ر625 + 960$$

199 - الحـل

أ - ثمن شراء السروال من المغازة بالدينار :

$$9ر975 = \frac{(5 - 100) \times 10ر500}{100}$$

ثمن شراء الفستان من المغازة بالدينار :

$$5ر890 = \frac{(5 - 100) \times 6ر200}{100}$$

ب - ثمن كلفة السروال بالدينار :

$$5ر430 = 0ر630 + (0ر75 \times 6ر400)$$

ثمن كلفة الفستان بالدينار :

$$3ر870 = 0ر510 + (1ر20 \times 2ر800)$$

ج - بما أن $5ر430 > 9ر975$ وكذلك $3ر870 > 5ر890$ فالحن

الأنسب لهذه الأم هو أن تخطط السروال والفستان بنفسها في البيت.

ج - ما يرجعه محمد للبنك بالدينار :

$$2778,370 = \frac{(7 + 100) \times 2596,608}{100}$$

هـ - كلفة شراء الأرض بالدينار :

$$10568,194 = 2778,370 + \frac{3 \times 10386,432}{4}$$

202 - الحـل

أ - الأبعاد الحقيقية للضيعة بالمتري :

$$450 = 5000 \times 0,09$$

$$350 = 5000 \times 0,07$$

قيس مساحة الضيعة بالمتري المربع :

$$157500 = 350 \times 450 \text{ أو } 1575 \text{ أو } 15,75 \text{ ها}$$

ب - إنتاج الضيعة من القمح الصلب بالطن :

$$346,5 = 15,75 \times 2,2 \text{ أو بالقنطار } 346,5$$

ثمن القمح بالدينار :

$$2979,900 = 8,600 \times 346,5$$

المحصول الصافي لصاحب الضيعة بالدينار :

$$1787,940 = \frac{3 \times 2979,900}{5}$$

203 - الحـل

أ - الطول الحقيقي للمسافة بالكم :

$$162 = 200\,000 \times 0,00081$$

ب - الاستهلاك الطبيعي في 162 كم باللتر :

$$13,77 = \frac{162 \times 8,5}{100}$$

الاستهلاك في 162 كم باللتر مع اعتبار معارضة الرياح

$$15,39 = \frac{162 \times 9,5}{100}$$

الزيادة في الاستهلاك باللتر بعد قطع المسافة

$$1,62 = \frac{(8,5 - 9,5) \times 162}{100} \text{ أو } 1,62 = 15,39 - 13,77$$

204 - الحـل

أ - طول قطعة الأرض على التصميم بالضم :

$$12 = \frac{1}{1000} \times 12000$$

عرض قطعة الأرض على التصميم بالضم :

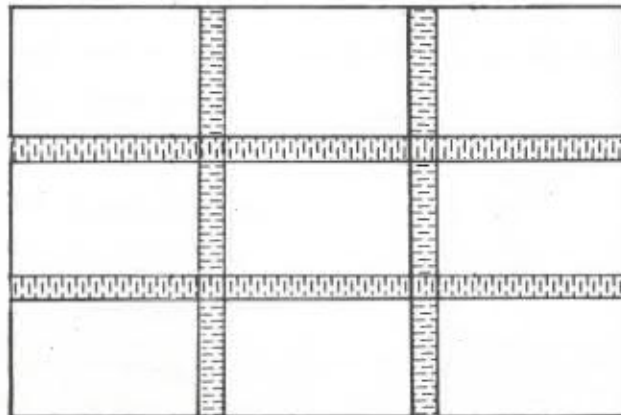
$$7,8 = \frac{1}{1000} \times 7800$$

عرض الطريق على التصميم بالضم (الطريق الموازية للطول)

$$0,6 = \frac{1}{1000} \times 600$$

عرض الطريق الموازية للعرض على التصميم بالضم :

$$0,5 = \frac{1}{1000} \times 500$$



أ - طول الضفّ بالضم :

$$1350 = 50 \times (1 - 28) \text{ أو بالمتر } 13ر50$$

ب - طول الضفّ بالضم الى حد التلميذ العاشر عندما يكون طول

المجال 50 صم :

$$450 = 50 \times (1 - 10) \text{ أو } 4ر50 \text{ م}$$

طول الضفّ بالضم الى التلميذ العاشر عندما يصبح طول

المجال 70 صم :

$$630 = 70 \times (1 - 10) \text{ أو } 6ر30 \text{ م}$$

المسافة الفاصلة بين المكان القديم والمكان الجديد للتلميذ العاشر

هي بالمتر :

$$1ر80 = 4ر50 - 6ر30$$

ج - طول الضفّ بالضم عندما يكون المجال 70 صم :

$$1890 = 70 \times (1 - 28) \text{ أو } 18ر90 \text{ م}$$

المسافة الفاصلة بين المكان القديم والمكان الجديد للتلميذ الأخي

هي بالمتر :

$$5ر40 = 13ر50 - 18ر90$$

207 - الحـل

أ - يجب أن يكون طول المجال قاسما مشتركا لبعدي الحديقة

لنبحث إذا عن تلك القواسم

756	2	693	3
378	2	231	3
189	3	77	7
63	3	11	11
21	3	1	
7	7		
1			

ب - قيس المساحة الجمليّة للأرض بالمتر المربع :

$$9360 = 78 \times 120$$

قيس مساحة الطرقات الأربع بالمتر المربع :

$$2100 = 4 \times (6 \times 5) - (2 \times 5 \times 78) + (2 \times 6 \times 120)$$

قيس المساحة المعدة للبناء بالمتر المربع :

$$7260 = 2100 - 9360$$

ج - ثمن كلفة الأرض بالدينار :

$$5082 = 2582 + 2500$$

ثمن قطعة قيس مساحتها 475 م² بالدينار :

$$332ر500 = \frac{475 \times 5082}{7260}$$

205 - الحـل

أ - قيس مساحة الحديقة بالار :

$$5760 = \frac{720}{12ر500} \text{ أو بالمتر المربع } 57ر6$$

ب - عرض الحديقة بالمتر :

$$48 = \frac{5760}{120}$$

ج - طول محيط الحديقة بالمتر :

$$336 = 2 \times (48 + 120)$$

طول السلك اللازم بالمتر :

$$1008 = 3 \times 336$$

عدد الأعمدة :

$$112 = \frac{336}{3}$$

ثمن السلك بالدينار :

$$30ر240 = 1008 \times 0ر30$$

ثمن الأعمدة بالدينار :

$$26ر320 = 112 \times 0ر235$$

ثمن كلفة التسييج بالدينار :

$$56ر560 = 26ر320 + 30ر240$$

قيمة هذه الكمية من الماء بالدينار :

$$52 = 400 \times 0,130$$

أصبحنا ندفع سنويا لشركة توزيع المياه ما قدره بالدينار :

$$13 = 100 \times 0,130$$

يقدر ربحنا في السنة الواحدة بالدينار :

$$39 = 13 - 52$$

نسدّد تكاليف بناء الضهريج بعد عدد من السنوات مساو ل :

$$12 = 39 : 468$$

210 - الحـل

أ - عدد المكعبات على طول صندوق الشاحنة :

$$7 \text{ أي } 7 = \frac{305}{0,40}$$

عدد المكعبات على عرض صندوق الشاحنة :

$$5 \text{ أي } 5 = \frac{205}{0,40}$$

عدد المكعبات في الطبقة الواحدة :

$$35 = 5 \times 7$$

عدد المكعبات على ارتفاع صندوق الشاحنة :

$$5 = 0,40 : 2$$

عدد المكعبات التي يمكن تصفيفها في صندوق الشاحنة :

$$175 = 5 \times 35$$

ب - عدد السفرات اللازمة لنقل 1570 صندوقا :

$$9 \text{ أي } 9 = \frac{1570}{175}$$

$$7 \times 3^3 \times 2^2 = 756$$

$$11 \times 7 \times 2^3 = 693$$

القاسم المشترك الأكبر للعددين 693 و 756 هو :

$$63 = 2^3 \times 7 \text{ أي } 63$$

أما القواسم المشتركة للعددين 693 و 756 فهي قواسم العدد 63

وهي 1 . 3 . 7 . 9 . 21 . 63 .

نلاحظ أنّ 9 هو قاسم مشترك للعددين 756 و 693 وهو محصور

بين 7 و 21 لذا فإنّ طول المجال بالمتر هو 9

ب - طول محيط الحديقة بالمتر هو :

$$2898 = 2 \times (756 + 693)$$

عدد الأشجار الممكن غرسها :

$$322 = \frac{2898}{9}$$

208 - الحـل

أ - طول محيط العجلة الامامية بالمتر :

$$1884 = 30 \times 0,60$$

المسافة بالمتر التي تقطعها العربة عند قيام عجلتها الاماميتين

بـ 30 دورة

$$5652 = 30 \times 1884$$

ب - طول محيط العجلة الخلفية بالمتر :

$$2826 = 30 \times 0,90$$

عدد الدورات التي تقوم بها كلّ من العجلتين الخلفيتين لقطع

مسافة 5652 م

$$20 = 5652 : 2826$$

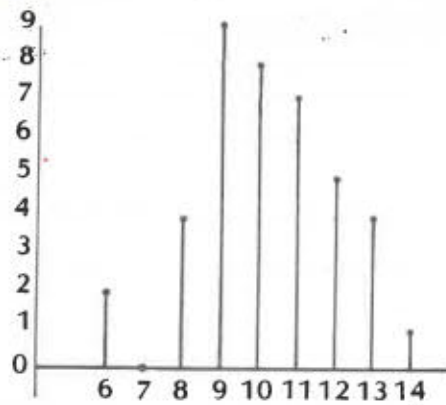
209 - الحـل

قيس حجم الضهريج بالمتر المكعب :

$$80 = 4 \times 4 \times 5$$

قيس حجم الماء المتجمّع بالضهريج في السنة وبالمتر المكعب :

$$400 = 5 \times 80$$



(2

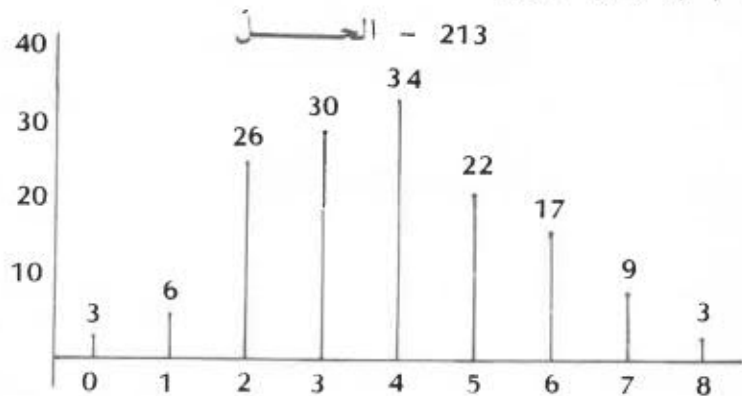
(3 عدد التلاميذ الذين تحصلوا على 11 فما فوق

$$17 = 1 + 4 + 5 + 7$$

فرتبة تلميذ تحصل على 10 هي 18

(4 عدد التلاميذ الذين تحصلوا على عدد دون المعدل

$$15 = 9 + 4 + 2$$



(1

(2 عدد العائلات التي لها أقل من 4 أطفال أو 4 أطفال

$$99 = 34 + 30 + 26 + 6 + 3$$

عدد العائلات التي لها أكثر من 4 أطفال

$$51 = 3 + 9 + 17 + 22$$

العدد الأول أكبر من العدد الثاني

(3 عدد الأطفال بتلك القرية

$$+ 22 \times 5 + 34 \times 4 + 30 \times 3 + 26 \times 2 + 6 \times 1 + 3 \times 0$$

$$583 = 3 \times 8 + 9 \times 7 + 17 \times 6$$

عدد البيض	1	2	3	4	5	6	7	8	9	10	11	12
ثمن البيض بالملي	28	56	84	112	140	168	196	224	252	280	308	336

ب - ثمن 16 بيضة هو : ضعف ثمن 8 بيضات أي (2×224) مي أو 448 مي أو 4 مزات ثمن 4 بيضات أي (4×112) مي أو 448 مي أو ثمن 10 بيضات و ثمن 6 بيضات أي ($168 + 280$) مي أو 448 مي الخ ...

ثمن 19 بيضة هو : ثمن 9 بيضات و ثمن 10 بيضات أي ($280 + 252$) مي أو 532 مي أو ثمن 7 بيضة و ثمن 7 بيضات أي ($196 + 336$) مي أو 532 مي الخ ...

ثمن 22 بيضة هو : ضعف ثمن 11 بيضة أي (2×308) مي أو 616 مي أو ثمن 12 بيضة و ثمن 10 بيضات أي ($280 + 336$) مي أو 616 مي الخ ...

212 - الحبر

(1

الأعداد المتحصّل عليها	6	8	9	10	11	12	13	14
عدد التلاميذ	2	4	9	8	7	5	4	1

المهندسة
المحلولة

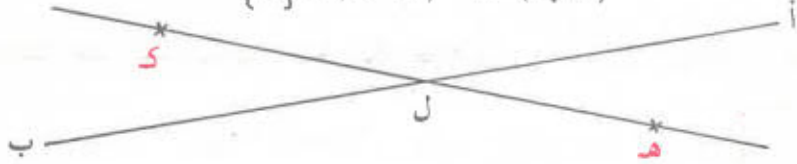
www.najahni.tn

أ - بما أن $J \subset (A, B)$ و $D \subset (A, B)$ فإن المستقيم (ج د) متطابق مع المستقيم (أ ب) وهذا يعني أن (أ ب) و (ج د) متساويان أي أن $(A, B) = (C, D)$




ب - الحل الأول : المستقيمان (أ ب) و (هـ ك) يشتركان في نقطة واحدة ل فهما متقاطعان

$$\{L\} = (A, B) \cap (H, K)$$

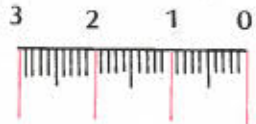


الحل الثاني : المستقيمان (أ ب) و (هـ ك) لا يشتركان في أية نقطة فهما منفصلان

$$\emptyset = (A, B) \cap (H, K)$$



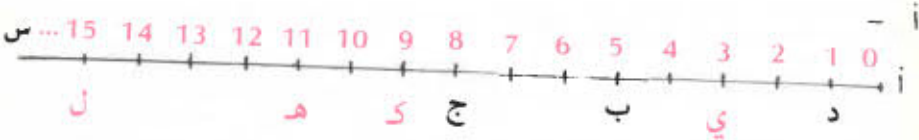
215 - الحـل



فيما يلي رسم لجزء من مسطرتي

أ - بما أن هناك خطًا يقابل العدد 0 وخطًا آخر يقابل العدد 30 فيكون عدد كل الخطوط مساويًا لعدد المليمترات و 1 أي :

$$301 = 1 + (10 \times 30)$$



ب - لرسم النقاط د . ب . ج يمكن (على سبيل المثال) تعيين النقطة د

بالعدد 1 والنقطة ب بالعدد $4 + 1 = 5$ والنقطة ج بالعدد $3 + 5 = 8$

ج - طول [د ج] = طول [د ب] + طول [ب ج] أي :

طول [د ج] = $3 + 4 = 7$ أي بالمليمتر $7 \times 12 = 84$

د - إن [ي هـ] \cap [ك ل] = [هـ ك] يوحي بأن القطعة [هـ ك]

هي محتواة في كل من القطعتين [ي هـ] و [ك ل] لذا فإن ترتيب

تلك النقاط سيكون على النحو التالي : ي - ك - هـ - ل ويمكن تعيين

تلك النقاط (على سبيل المثال) بالأعداد التالية حسب الترتيب

السابق للنقاط : $3 - 9 - 11 - 15$

هـ - طول ([ي هـ] \cup [ك ل]) = طول [ي ل] $15 = 3 + 12$

أي بالمليمتر $12 \times 12 = 144$



ب - عدد الوحدات المكونة لطول [أ ب] :

$$5 = \frac{75}{15}$$

إذا فالعدد الذي يعين النقطة ب هو 5 . أما بالنسبة

للنقطة ج فهناك احتمالان :

● إما أن تكون النقطة ج \ni [أ ب] وعند ذلك فإن

طول [أ ج] = طول [أ ب] - طول [ب ج] أي بالمليمتر

$75 - 45 = 30$ وبالتالي فإن العدد الذي يعين النقطة ج هو

$$\left(\text{لأن } \frac{30}{15} = 2 \right)$$

ب - عدد الخطوط التي تعين الصنتمترات أي الخطوط الحمراء هو عدد الصنتمترات و 1 أي :

$$31 = 1 + 30$$

كل صنتمتر يحتوي على خط أخضر واحد فيكون عدد الخطوط

الخضراء مساويا لعدد الصنتمترات أي 30 .

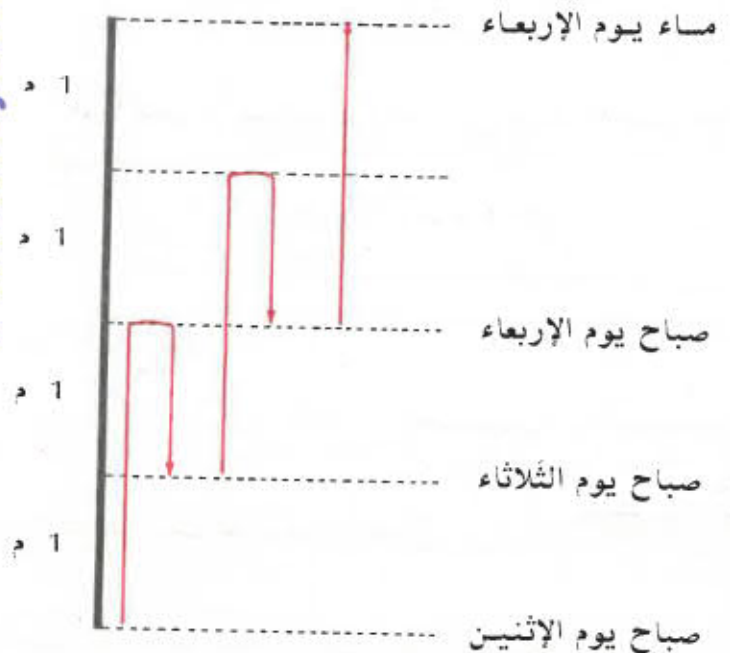
كل صنتمتر يحتوي على 8 خطوط سوداء فيكون عدد الخطوط

السوداء مساويا ل :

$$240 = 8 \times 30$$

$$\text{التحقيق : } 301 = 240 + 30 + 31$$

يمكن حل المسألة بواسطة شكل كالآتي :



هكذا يكون الحلزون قد بلغ قمة الجدار مساء يوم الأربعاء

المسافة الجمليّة التي سيقطعها فريق المدينة د بالكم :

$$1020 = 2 \times (195 + 195 + 120)$$

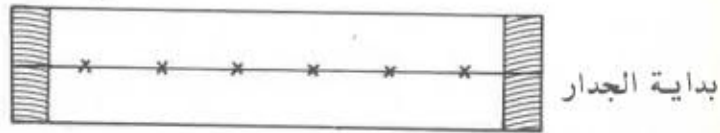
ب - المسافة الجمليّة التي قطعتها كلّ الفرق بالكم :

$$3936 = 1020 + 1158 + 930 + 828$$

تكاليف النقل بالنسبة لكلّ الفرق بالدينار :

$$295200 = 3936 \times 0,75$$

221 - الحـلّ



عدد المجالات هو :

$$7 = 1 + 6$$

طول المجالات الستة بالضم :

$$240 = (6 \times 30) - 420$$

طول المجال الفاصل بين صورتين متتاليتين بالضم :

$$40 = 6 : 240$$

طول المجال الفاصل بين الصورة الأولى وبداية الجدار بالضم :

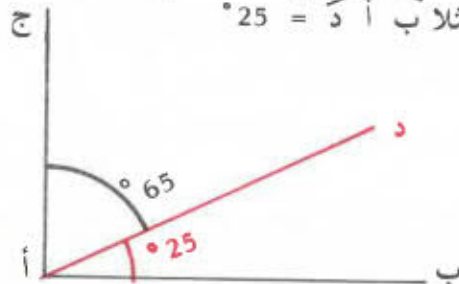
$$20 = 2 : 40$$

222 - الحـلّ

نلاحظ أن الزاويتين متكاملتان لأن $25^\circ + 65^\circ = 90^\circ$

لذا يمكن بناء زاوية قائمة [أ ب ، أ ج] ورسم نصف مستقيم [أ د] داخله

بحيث يكون مثلث أ ب د $25^\circ = \angle$



• وإما أن تكون ج \neq [أ ب] وعند ذلك فإن طول [أ ج] =

طول [أ ب] + طول [ب ج] أي بالمليّتر $120 = 45 + 75$

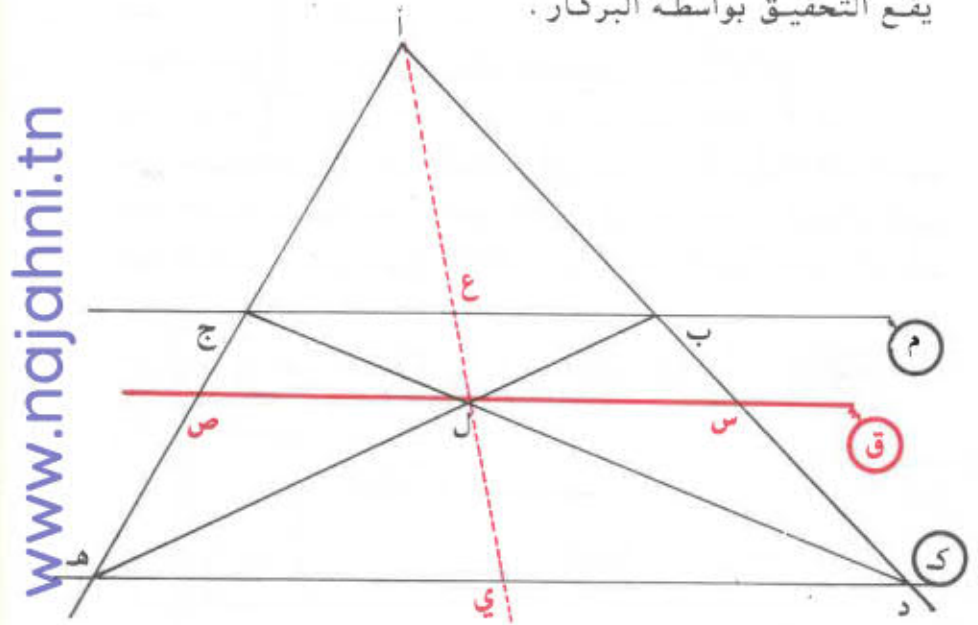
وبالتالي فإن العدد الذي يعين النقطة ج هو 8 (لأن $8 = \frac{120}{15}$)

ج - طول [أ د] بالم هو :

$$165 = 11 \times 15$$

219 - الحـلّ

يقع التحقيق بواسطة البركار .



www.najahni.tn

220 - الحـلّ

أ - المسافة الجمليّة التي سيقطعها فريق المدينة أ بالكم :

$$828 = 2 \times (120 + 204 + 90)$$

المسافة الجمليّة التي سيقطعها فريق المدينة ب بالكم :

$$930 = 2 \times (195 + 180 + 90)$$

المسافة الجمليّة التي سيقطعها فريق المدينة ج بالكم :

$$1158 = 2 \times (195 + 204 + 180)$$

عدد الجليز حسب الطول :

$$24 = \frac{600}{25}$$

عدد الجليز حسب العرض :

$$18 = \frac{450}{25}$$

عدد الجليز اللازم لتبليط القاعة :

$$432 = 18 \times 24$$

طول السلك بكلّ اللّفات بالمتر :

$$850 = 50 \times 17$$

طول السلك المستعمل بالمتر :

$$840 = 10 - 850$$

طول السلك المستعمل في صفة واحدة بالمتر :

$$280 = 840 : 3$$

طول محيط الحديقة بالمتر :

$$283 = 3 + 280$$

نصف طول محيط الحديقة بالمتر :

$$141,5 = \frac{283}{2}$$

طول الحديقة بالمتر :

$$86,5 = 55 - 141,5$$

أ - بما أنّ كلّ الجليز المستعمل هو جليز كامل فإنّ العدد الجملي للجليز أي 238 هو سطح عدد الجليز على الطول في عدد الجليز على

العرض، وهذا يعني أنّ العددين المشار إليهما هما قاسمان للعدد 238 والفرق بينهما هو 3.

لنبحث إذا عن هذين القاسمين :

$$\begin{array}{r|l} 238 & 2 \\ 119 & 7 \\ 17 & 17 \\ 1 & \end{array}$$

$$17 \times 7 \times 2 = 238$$

$$\{ 238, 119, 34, 17, 14, 7, 2, 1 \} = (238) \text{ ق}$$

نلاحظ أنّ القاسمين المطلوبين هما 14 و 17

14 هو عدد الجليز على عرض المطبخ

17 هو عدد الجليز على طول المطبخ

مع الملاحظ أنّ $238 = 17 \times 14$ وأنّ $3 = 14 - 17$

عرض المطبخ بالمتر هو :

$$20,80 = 14 \times 0,20$$

طول المطبخ بالمتر هو :

$$20,40 = 17 \times 0,30$$

ب - قيس مساحة أرضية المطبخ بالمتر المربع هو :

$$9,52 = 20,80 \times 0,30$$

ثمن الزمّل اللازم بالدينار :

$$20,856 = 20,100 \times \left(\frac{1}{7} \times 9,52 \right)$$

ثمن الحجارة اللازمة بالدينار :

$$30,332 = 20,450 \times \left(\frac{1}{7} \times 9,52 \right)$$

ثمن الأسمنت بالدينار :

$$80,330 = 10,750 \times \left(\frac{1}{2} \times 9,52 \right)$$

تكاليف اليد العاملة بالدينار :

$$14ر280 = 1ر500 \times 9ر52$$

ثمن الجليز بالدينار :

$$35ر700 = 238 \times 0ر150$$

تكاليف التَبليط بالدينار :

$$64ر498 = 35ر700 + 14ر280 + 8ر330 + 3ر332 + 2ر856$$

الحل - 226

هناك 120 صفاً حسب العرض لذا فإن هناك 121 مجالا طول الواحد 4ر5 م فيكون طول المزرعة بالمتر :

$$544ر5 = 121 \times 4ر5$$

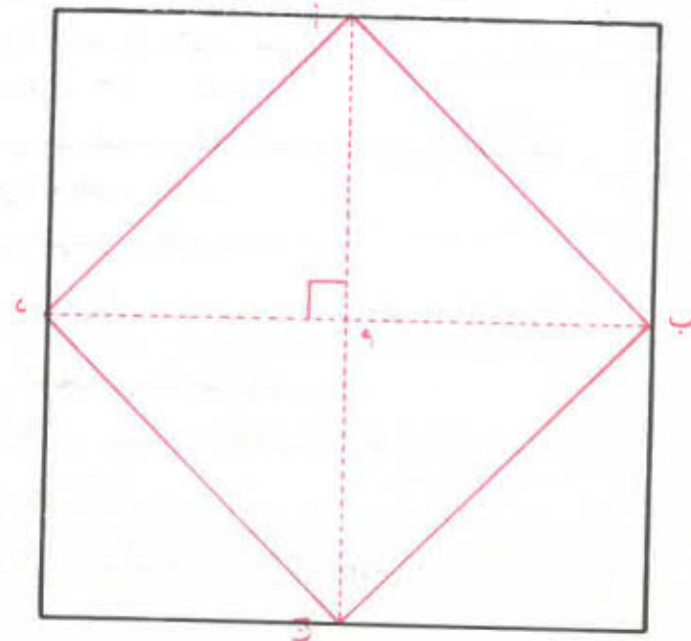
هناك أيضا 40 صفاً حسب الطول لذا فإن هناك 41 مجالا طول الواحد 4ر5 م فيكون عرض المزرعة بالمتر :

$$184ر5 = 41 \times 4ر5$$

طول محيط المزرعة بالمتر :

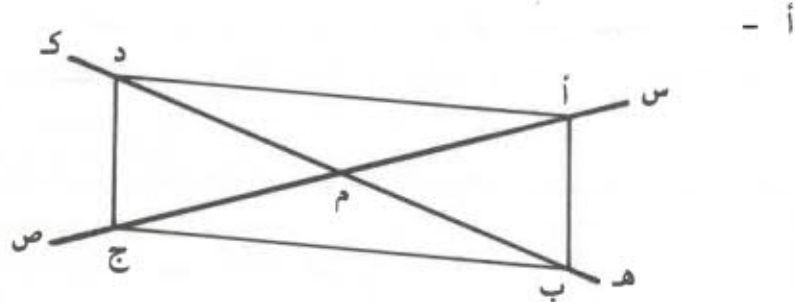
$$1458 = 2 \times (184ر5 + 544ر5)$$

الحل - 227



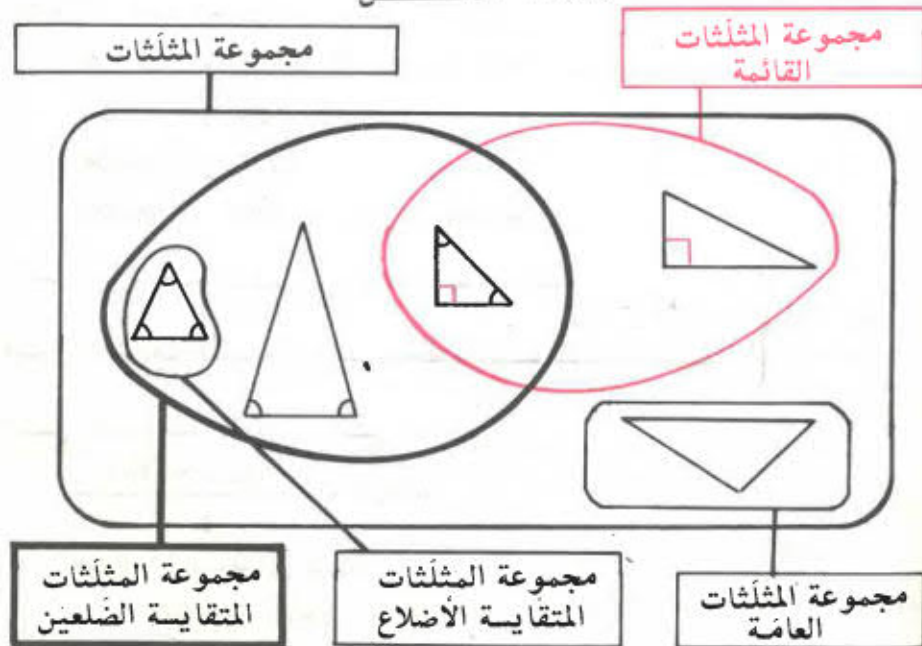
نعلم أن الموسطين العموديين لأضلاع المربع الكبير متقايسان ومتعامدان ويتقاطعان في منتصفهما المشترك م ، ونرى على الشكل أن هذين الموسطين هما قطرا الرباعي (أ ، ب ، ج ، د) لذا فإن هذا الأخير مربع

الحل - 228



ب - الرباعي الحاصل (أ ، ب ، ج ، د) له قطران متقايسان ومتقاطعان في منتصفهما المشترك م ، لذا فإنه مستطيل .

الحل - 229



طول ممر من الممرات بالمتر :

$$80 = (2 \times 4) + (3 \times 24)$$

قيس مساحة الممر الواحد بالمتر المربع :

$$320 = 4 \times 80$$

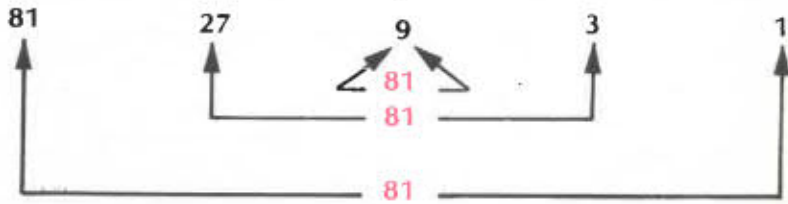
قيس مساحة الممرات بالمتر المربع :

$$1216 = 64 - 1280 = (4 \times 4 \times 4) - (4 \times 320)$$

بعدا كل من المستطيلات هما قاسمان للعدد 81 ، لنبحث إذا عن ق (81) :

81	3
27	3
9	3
3	3
1	3


$4^3 = 81$ ، نكتب قواسم 81 في الترتيب التصاعدي :



بعدا المستطيل الأول هما بالضئتمتر 1 و 81 ، فإن قيس محيطه بالضئتمتر هو $164 = 2 \times (1 + 81)$

بعدا المستطيل الثاني بالضئتمتر هما 3 و 27 ، إذا فإن قيس محيطه بالضئتمتر هو $60 = 2 \times (3 + 27)$

المستطيل الثالث هو مربع طول ضلعه بالضئتمتر 9 لذلك سيكون له أصغر محيط قيسه بالضئتمتر $36 = 4 \times 9$



عندما نضاعف بعدي المستطيل فإننا نضاعف في نفس الوقت قيس محيطه ، لذا فإن الزيادة 250 م توافق طولين وعرضين أي قيس محيط المستطيل نصف قيس محيط المستطيل بالمتر :

$$125 = 2 : 250$$

طول المستطيل بالمتر

$$90 = 35 - 125$$

قيس مساحة الحقل بالمتر المربع :

$$3150 = 35 \times 90$$


مجموع قيسي المساحتين بالمتر المربع :

$$9 \text{ ها أو } 90000 \text{ م}^2$$

$$24 \text{ أ أو } 2400 \text{ م}^2$$

$$98 \text{ صا أو } 98 \text{ م}^2$$

$$92498 = 98 + 2400 + 90000$$



قيس المساحة الكبيرة بالمتر المربع :

$$48000 = \frac{3502 + 92498}{2}$$

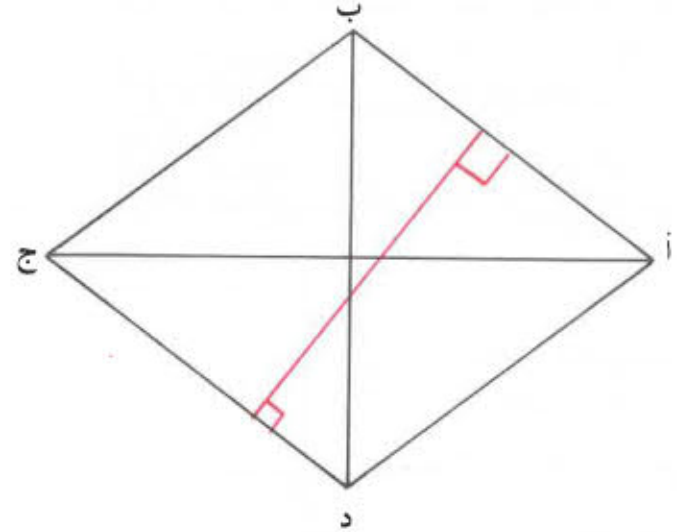
عرض المستطيل بالمتر :

$$192 = 250 : 48000$$

إذا كان لمستطيل ومربع نفس قيس المساحة فإن المستطيل يكون له أكبر قيس للمحيط .

الحل - 234

أ - قطرا المعين متعامدان ويتقاطعان في منتصفهما المشترك



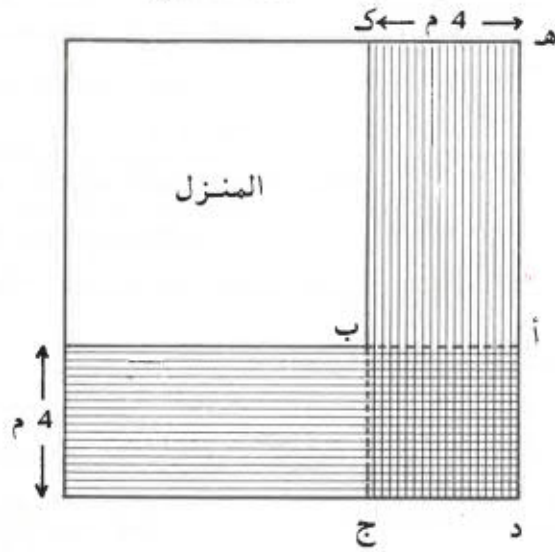
قيس مساحة المعين بالضنتمتر المربع :

$$24 = \frac{6 \times 8}{2}$$

ب - نعلم أن قيس مساحة المعين هو سطح العددين اللذين يقيسان ضلعه وارتفاعه لذا فإن طول ارتفاع المعين بالمتر هو :

$$480 = \frac{24}{5} = \frac{\text{قيس المساحة}}{\text{طول الضلع}}$$

الحل - 235



قيس مساحة المربع (أ، ب، ج، د) بالمتر المربع :

$$16 = 4 \times 4$$

قيس مساحة المستطيل (أ، ب، ك، هـ) بالمتر المربع :

$$32 = \frac{16 - 80}{2}$$

طول ضلع المنزل هو طول المستطيل (أ، ب، ك، هـ) وهو بالمتر :

$$8 = 4 : 32$$

الحل - 236

بما أن الطول هو ضعف العرض فإن الحديقة تتكون من مربعين متكافئين قيس مساحة كل منهما بالمتر المربع :

$$6400 = 2 : 12800$$

ويكون إذا طول ضلع المربع الواحد أو عرض الحديقة بالمتر 80 لأن


$$6400 = 80 \times 80$$

أما طول الحديقة فهو بالمتر :

$$160 = 2 \times 80$$

أ - نصف طول محيط الضفيحة بالضم :

$$110 = 2 : 220$$

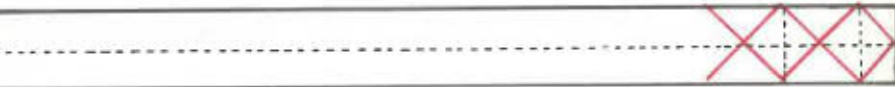


عرض الضفيحة بالضم :

$$8 = \frac{16}{2} = \frac{94 - 110}{2}$$

طول الضفيحة بالضم :

$$102 = 94 + 8$$



عدد المعينات التي يمكن قصها

$$17 = 6 : 102$$

ب - القيس الجملي لمساحات المعينات بالضم² :

$$408 = 17 \times \frac{6 \times 8}{2}$$

ج - قيس مساحة الجزء المهمل من الضفيحة بالضم² :

$$408 = 408 - (8 \times 102)$$

طول محيط الحديقة بالمتر :

$$480 = 2 \times (160 + 80)$$

طول السلك الشائك بالمتر :

$$1910 = 4 \times (25 - 480)$$

طول السلك الشائك الذي اشتراه الفلاح بالمتر :

$$1875 = 25 \times 75$$

ونلاحظ أن هذه الكمية غير كافية لتسييج الحديقة (1910 > 1875)

أ - قيس مساحة الأرض بالمتر المربع :

$$64 = \frac{118400}{1850}$$

ب - نعلم أن $8 \times 8 = 64$ لذا فإن طول ضلع المربع بالمتر هو 8

أ - قيس مساحة شبه المنحرف (أ، ب، و، ز) بالمتر المربع :

$$2832 = \frac{48 \times (50 + 68)}{2}$$

قيس مساحة شبه المنحرف (ب، ج، د، و) بالمتر المربع :

$$2688 = \frac{42 \times (38 + 30 + 60)}{2}$$

قيس مساحة الحقل بالمتر المربع :

$$2688 + 2832 = 5520 \text{ أو بالهكتار } 0,552$$

ثمن الحقل بالدينار :

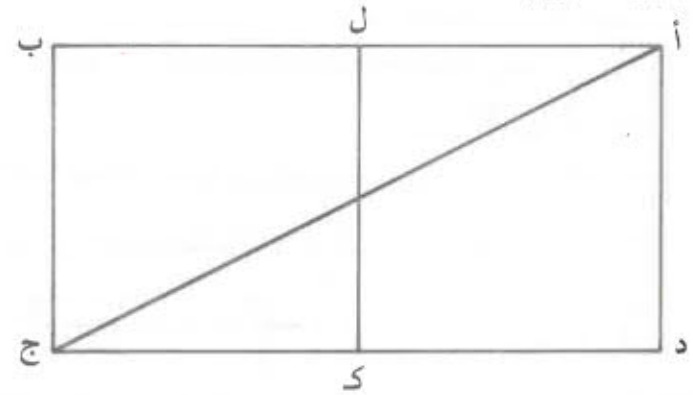
$$3312 = 0,552 \times 6000$$

ب - مناب كل أخ بالدينار :

1656 = 2 : 3312 وهو المقدار الذي سيعطيه الأخ الأكبر لأخيه .

أ - طول المستطيل بالمم :

$$140 = 2 \times 70$$

ب - قيس مساحة كل من المربعين الحاصلين بالمم²

$$4900 = 70 \times 70$$

ج - يمكن الحصول على قيس مساحة المستطيل بالمليمتر المربع

بإحدى الطريقتين التاليتين :

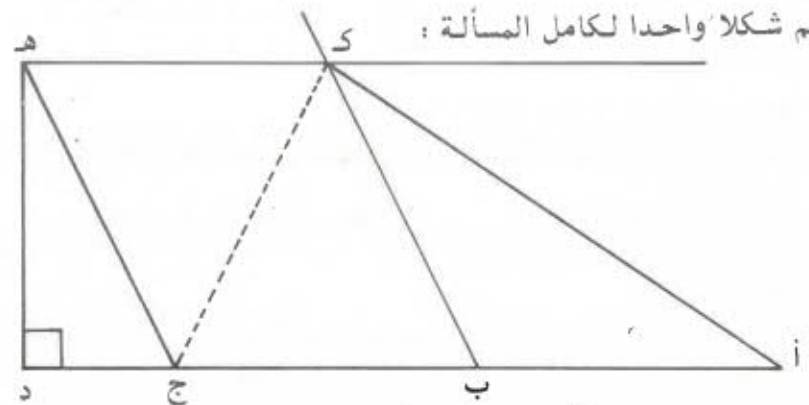
$$9800 = 2 \times 4900 \quad (1)$$

$$9800 = 140 \times 70 \quad (2)$$

د - بما أن المثلثين الحاصلين متكافئان فإن قيس مساحة كل منهما يساوي قيس مساحة المربع أي 4900 مم²

241 - الحل

أرسم شكلا واحدا لكامل المسألة :



أ - نلاحظ أن الأضلاع المتقابلة في الرباعيتين (ب، ج، ه، ك) متوازية لذا فإن ذلك الرباعي هو متوازي أضلاع وبالتالي فإن طول [ه ك] = طول [ب ج] أي أن طول [ه ك] بالضم هو :

$$5 = \frac{3 - 13}{2}$$

قيس مساحة شبه المنحرف (أ، د، ه، ك) بالضم² :

$$36 = \frac{4 \times (5 + 13)}{2}$$

ب - الطريقة الأولى للبحث عن قيس مساحة (أ، ب، ك) :

طول القاعدة [أ ب] = 5 سم وطول الارتفاع هو 4 سم . لذا فإن قيس مساحة هذا المثلث بالضم² يساوي :

$$10 = \frac{4 \times 5}{2}$$

الطريقة الثانية :

قيس مساحة شبه المنحرف (ب، د، ه، ك) بالضم² :

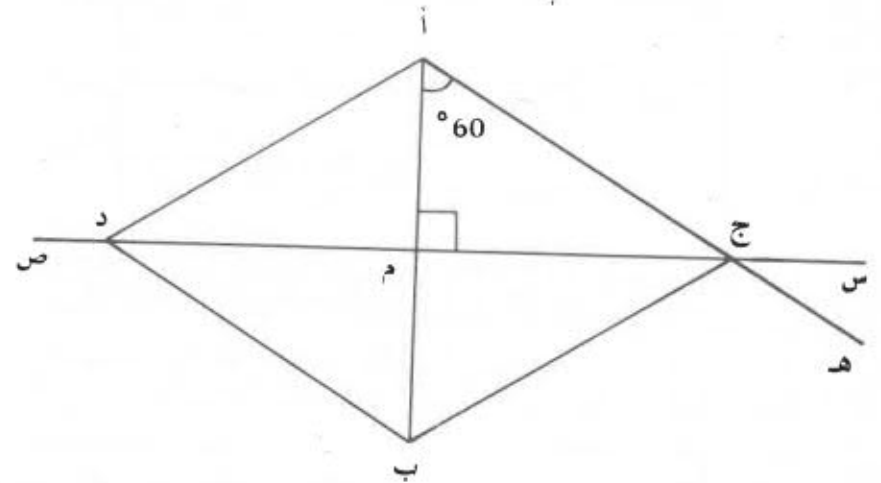
$$26 = \frac{4 \times (5 + 8)}{2}$$

قيس مساحة المثلث (أ، ب، ك) بالضم² :

$$10 = 26 - 36$$

ج - يمكن الرجوع الى الشكل وعندما نصل النقطتين ج و ك نلاحظ أنه إذا اعتبرنا القطع [أ ب] و [ب ج] و [ك ه] كقواعد للمثلثات المشار إليها في نص المسألة فإن الارتفاع الموافق لها هو نفسه (القطعة [ه د]) وبما أن تلك القواعد متقاية فإن أقيسة المساحات الثلاث متساوية وبذلك تكون المساحات متكافئة .

أرسم شكلا واحدا لكامل المسألة :



أ - قيس مساحة الأرض بالمتري المربع :

$$14400 = 90 \times 160 \text{ أو بالار } 144$$

ثمن شراء الأرض بالدينار :

$$2520 = 144 \times 17500$$

ب - قيس مساحة الطريق بالمتري المربع :

$$400 = 250 \times 160 \text{ أو بالهكتار } 0,04$$

قيس مساحة كامل القطعة بالهكتار : 1,44

قيس مساحة الأرض الصالحة للزراعة بالهكتار :

$$1,44 - 0,04 = 1,4$$

ج - وزن البطاطا بالقنطار :

$$15120 = 140 \times 1080 \text{ أو بالكغ } 1512$$

ثمن بيع البطاطا بالدينار :

$$1285200 = 15120 \times 0,085$$

أ - قيس مساحة الجزء ⁴ عدد بالهكتار :

$$0,22 = \frac{0,40 \times 1,10}{2}$$

قيس مساحة الجزء ² عدد بالهكتار :

$$0,2268 = \frac{0,54 \times 0,84}{2} = \frac{[(0,24 + 0,32) - 1,10] \times (0,36 + 0,48)}{2}$$

قيس مساحة الجزء ³ عدد بالهكتار :

$$0,0768 = \frac{0,48 \times 0,32}{2}$$

قيس مساحة الجزء ¹ عدد بالهكتار :

$$0,0432 = \frac{0,36 \times 0,24}{2}$$

أ - نعلم أن المتوسط العمودي (س ص) للقطعة [أ ب] هو المستقيم العمودي على [أ ب] والماز من منتصفها م. لذا فإن النقطة ج متقايسة البعدين عن أ و ب ومعنى ذلك أن المثلث (أ. ب. ج) متقايس الضلعين، وبما أن قيس فتحة إحدى زواياه هو 60° فإنه سيصبح مثلثا متقايس الأضلاع.

ب - بما أن النقطة د تناظر النقطة ج بالنسبة للمستقيم (أ ب) فإن النقطة م هي كذلك منتصف [ج د] وبالتالي فإن قطري الرباعي (أ. ج. ب. د) متعامدان ويتقاطعان في منتصفهما المشترك ومعنى ذلك أن الرباعي (أ. ج. ب. د) هو معين.

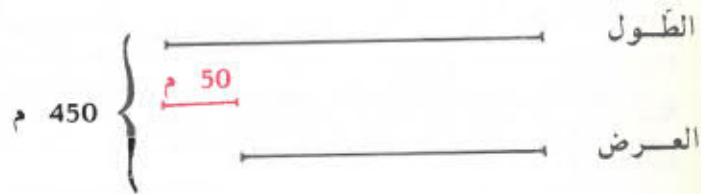
ج - طول [ج د] بالنص :

$$8,66 = \frac{2 \times 21,65}{5}$$

ج - طول السياج بالمتر :
 $486 = 54 + 432 = 54 + 2 \times (54 + 162)$
 ثمن السياج بالدينار :
 $157950 = 486 \times 0,325$

246 - الحـل

أ - نصف قيس محيط الحقل بالمتر :
 $450 = 2 : 900$
 الطريقة الأولى لحساب بعدي الحقل :




طول الحقل بالمتر :

$$250 = \frac{50 + 450}{2}$$

عرض الحقل بالمتر :

$$200 = 50 - 250$$

الطريقة الثانية لحساب بعدي الحقل :



طول الحقل بالمتر :

$$250 = \frac{5 \times 450}{9}$$

عرض الحقل بالمتر :

$$200 = 50 - 250$$

ب - إنتاج الجزء 1 عدد من الفلفل بالطن :
 $0,864 = 0,0432 \times 20$ أو بالكغ 864
 إنتاج الجزء 2 عدد من الطماطم بالطن :
 $6804 = 0,2268 \times 30$ أو بالكغ 6804
 إنتاج الجزء 3 عدد من البصل بالطن :
 $0,5376 = 0,0768 \times 7$ أو بالكغ 5376
 إنتاج الجزء 4 عدد من البطاطا بالطن :
 $3300 = 0,22 \times 15$ أو بالكغ 3300

245 - الحـل

أ - نصف طول المحيط بالمتر :

$$216 = 2 : 432$$



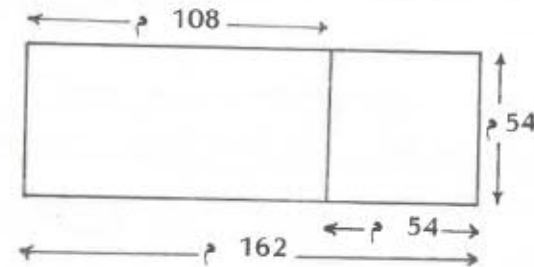
العرض بالمتر :

$$54 = 4 : 216$$

الطول بالمتر :

$$162 = 3 \times 54$$

ب - اجعل رسماً تقريبياً لهذه الأرض :



قيس مساحة القطعة المربعة الشكل بالمتر المربع :

$$2916 = 54 \times 54$$

قيس مساحة القطعة المتبقية بالمتر المربع :

$$5832 = 54 \times 108 = 54 \times (54 - 162)$$

ب - البعد الأول للقطعة المباعة هو 200 م أي عرض الحقل .
البعد الثاني لتلك القطعة هو إذا بالمتر :

$$200 = \frac{40\ 000}{200}$$

ثمن بيع تلك القطعة بالدينار :

$$84\ 000 = 40\ 000 \times 2,1$$

ج - قيس مساحة الحقل بالمتراً المربع :

$$500\ 000 = 200 \times 250$$

الكسر المطلوب هو :

$$\frac{4}{5} = \frac{400}{500}$$

د - أحد بعدي القطعة المتبقية هو 200 م أي عرض الحقل .

قيس مساحة القطعة المتبقية بالمتراً المربع :

$$10\ 000 = 40\ 000 - 50\ 000$$

حساب البعد الآخر بالمتراً :

$$50 = \frac{10\ 000}{200}$$

الحل - 247

أ - قيس مساحة النافذتين بالمتراً المربع :

$$3\ 840 = 2 \times (1\ 200 \times 1\ 600)$$

قيس محيط القاعة بالمتراً :

$$22\ 600 = 2 \times (480 + 650)$$

قيس المساحة الجانبية بالمتراً المربع :

$$72\ 320 = 320 \times 22\ 600$$

قيس المساحة التي سيقع طلاؤها بالمتراً المربع :

$$99\ 680 = 3\ 840 - (480 \times 650) + 72\ 320$$

ب - قيس مساحة أرضية القاعة بالمتراً المربع :

$$31\ 200 = 480 \times 650$$

ثمن الغلاف بالدينار :

$$118\ 560 = 31\ 200 \times 3\ 800$$

تكاليف وضع الغلاف بالدينار :

$$24\ 960 = 31\ 200 \times 0,8$$

ثمن كلفة التغليف بالدينار :

$$143\ 520 = 24\ 960 + 118\ 560$$

248 - الحل

أ - عرض المزرعة المستطيلة الشكل بالمتراً :

$$50 = \frac{5 \times 90}{9}$$

قيس محيط كل من المزرعتين بالمتراً :

$$280 = 2 \times (50 + 90)$$

قيس ضلع المزرعة المربعة الشكل بالمتراً :

$$280 = 4 \times 70$$

قيس مساحة القطعة المستطيلة بالمتراً المربع :

$$4\ 500 = 50 \times 90$$

قيس مساحة القطعة المربعة بالمتراً المربع :

$$4\ 900 = 70 \times 70$$

ب - المزرعة الكبيرة هي المربعة الشكل لأن $4\ 500 < 4\ 900$

ثمن بيع المزرعة الكبيرة بالدينار :

$$1\ 715 = 4\ 900 \times 0,35$$

ثمن بيع المزرعة الصغيرة بالدينار :

$$2\ 160 = 445 + 1\ 715$$

ثمن بيع المتر المربع من المزرعة الصغيرة بالدينار :

$$0,480 = \frac{2\ 160}{4500}$$

ج - عدد شجر الرمان

عدد شجر الزيتون



عدد شجر الرمان :

$$90 = \frac{62 - 242}{2}$$

عدد شجر الزيتون :

$$152 = 62 + 90$$

249 - الحـل

أ - الطريقة الأولى في البحث عن قيس مساحة الحقل بالمتـر المربع :
قيس مساحة المثلث بالمتـر المربع :

$$9\ 275 = \frac{70 \times 265}{2}$$

قيس مساحة شبه المنحرف بالمتـر المربع :

$$48\ 760 = \frac{265 \times (149 + 219)}{2}$$

قيس مساحة الحقل بالمتـر المربع :

$$58\ 035 = 9\ 275 + 48\ 760$$

الطريقة الثانية :

نلاحظ أن $149 + 70 = 219$ لذا فإن الضلعين [أ] و [ب] و [ج] و [هـ] متقايمان ومتوازيان ومعنى هذا أن الرباعي (أ ، ب ، ج ، هـ) هو متوازي أضلاع طول قاعدته 219 م وطول ارتفاعه 265 م فيكون قيس مساحته بالم² :

$$58\ 035 = 265 \times 219$$

ب - كمية اللفت السكري التي ينتجها ذلك الحقل بحساب الطن

$$208\ 926 = 58\ 035 \times 36$$

كمية السكر بالطن :

$$14\ 62482 = \frac{7 \times 208\ 926}{100}$$

ج - عدد السفرات

$$3\ 08926 = \frac{14\ 62482}{7}$$

250 - الحـل

أ - قيس مساحة الزريرة بالمتـر المربع :

$$14 = \frac{301}{21\ 500}$$

ب - عرض الزريرة بالمتـر :

$$2\ 80 = \frac{14}{5}$$

ج - طول قاعة الإستقبال بالمتـر :

$$5\ 80 = (2 \times 0\ 40) + 5$$

عرض قاعة الإستقبال بالمتـر :

$$3\ 60 = (2 \times 0\ 40) + 2\ 80$$

قيس مساحة قاعة الإستقبال بالمتـر المربع :

$$20\ 88 = 3\ 60 \times 5\ 80$$

251 - الحـل

أ - عرض القطعة المستطيلة الشكل بالمتـر :

$$45 = \frac{3 \times 75}{5}$$

طول محيط كل من القطعتين بالمتـر :

$$240 = 2 \times (45 + 75)$$

طول ضلع القطعة المربعة الشكل بالمتـر :

$$60 = 4 : 240$$

قيس مساحة القطعة المربعة الشكل بالمتـر المربع :

$$3600 = 60 \times 60$$

أ - الطريقة الأولى :

شعاع الحوض والرصيف بالمتر :

$$6 = 3 + 3$$

طول المحيط الخارجي للرصيف بالمتر :

$$37ر68 = 6 \times 3ر14 \times 2$$

طول محيط الحوض بالمتر :

$$18ر84 = 3 \times 3ر14 \times 2$$

الفرق بين طولي المحيطين بالمتر :

$$18ر84 = 18ر84 - 37ر68$$

ب - الطريقة الثانية :

نعلم أن طول محيط الدائرة وشعاعها هما عدنان متناسبان فكلمما
تضاعف الشعاع تضاعف طول المحيط .

بما أن شعاع الحوض والرصيف معا هو ضعف شعاع الحوض فإن طول
المحيط الخارجي للرصيف هو ضعف طول محيط الحوض لذا
فإن الفرق بين الطولين هو طول محيط الحوض أي بالمتر :

$$18ر84 = 3 \times 3ر14 \times 2$$

الشكل الأول :

قيس المساحة الغير الملونة بالضم² :

$$452ر16 = 12 \times 12 \times 3ر14$$

قيس مساحة المربع بالضم² :

$$576 = 24 \times 24$$

قيس المساحة الملونة بالضم² :

$$123ر84 = 452ر16 - 576$$

الشكل الثاني :

قيس المساحة الغير الملونة بالضم² :

$$452ر16 = 12 \times 12 \times 3ر14$$

قيس مساحة القطعة المستطيلة الشكل بالمتر المربع :

$$3375 = 75 \times 45$$

القطعة الكبيرة هي القطعة المربعة الشكل :

ب - ثمن المتر المربع من القطعة الصغيرة بالدينار :

$$1ر050 = 0ر130 + 0ر920$$

ثمن القطعة الصغيرة بالدينار :

$$3543ر750 = 3375 \times 1ر050$$

أ - قيس مساحة كل من المربعين بالمتر المربع :

$$2025 = 45 \times 45$$

ب - الطريقة الأولى في البحث عن قيس مساحة كامل الحقل بالمتر
المربع :

$$4050 = 2 \times 2025$$

الطريقة الثانية :

طول الحقل بالمتر :

$$90 = 2 \times 45$$

قيس مساحة الحقل بالمتر المربع :

$$4050 = 45 \times 90$$

ج - المقدار الذي دفعه كل من الأخوين بالدينار :

$$253ر125 = \frac{506ر250}{2}$$

قيس مساحة المربع بالضم² :

$$25 = 5 \times 5$$

قيس مساحة القرص الدائري بالضم² :

$$19ر625 = 2ر5 \times 2ر5 \times 3ر14$$

قيس المساحة الغير المغطاة من المربع بالضم² :

$$5ر375 = 19ر625 - 25$$

نصف قيس محيط الدائرة التي قطرها [أ د] بالضم :

$$50ر24 = \frac{32 \times 3ر14}{2}$$

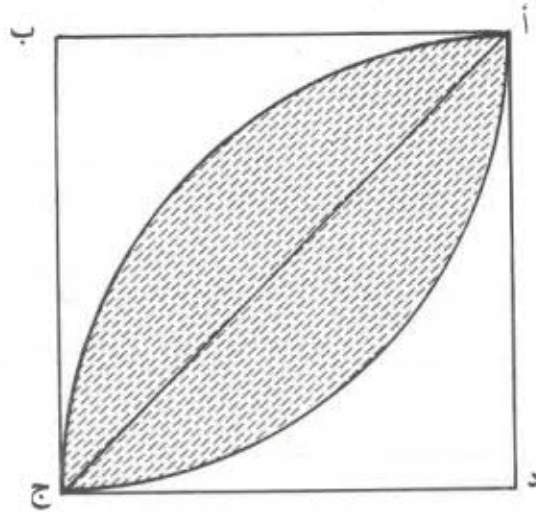
نصف قيس محيط الدائرة التي قطرها [ب د] بالضم :

$$37ر68 = \frac{24 \times 3ر14}{2}$$

طول محيط المساحة الملونة بالضم :

$$100ر48 = 12ر56 + 50ر24 + 37ر68$$

257 - الحـل



يقسم القطر [أ ج] تلك المساحة الى جزئين متكافئين ، لنبحث بالضم² عن نصف قيس تلك المساحة الذي هو الفرق بين $\frac{1}{4}$ قيس مساحة القرص

الذائري و $\frac{1}{2}$ قيس مساحة المربع :

$$18 - 3ر14 \times 9 = \frac{6 \times 6}{2} - \frac{3ر14 \times 6 \times 6}{4}$$

$$18 - 28ر26 =$$

$$10ر26 =$$

قيس المساحة الملونة بالضم² :

$$123ر84 = 452ر16 - 576$$

الشكل الثالث :

قيس المساحة الغير الملونة بالضم² :

$$= \frac{12 \times 12 \times 3ر14}{2} + \left[\frac{12 \times 12 \times 3ر14}{2} - (12 \times 24) \right]$$

$$288 = 12 \times 24$$

الملاحظات :

أ - المساحتان الملونتان في الشكلين 1 و 2 متكافئتان

ب - قيس المساحة الملونة في الشكل 3 يساوي نصف قيس مساحة المربع

256 - الحـل

أ - قيس مساحة نصف القرص الذائري الذي قطره [أ ب] بالضم² :

$$25ر12 = \frac{4 \times 4 \times 3ر14}{2}$$

قيس مساحة نصف القرص الذائري الذي قطره [أ د] بالضم² :

$$401ر92 = \frac{16 \times 16 \times 3ر14}{2}$$

قيس مساحة نصف القرص الذائري الذي قطره [ب د] بالضم² :

$$226ر08 = \frac{12 \times 12 \times 3ر14}{2}$$

قيس المساحة الملونة بالضم² :

$$200ر96 = (226ر08 - 401ر92) + 25ر12$$

ب - نصف قيس محيط الدائرة التي قطرها [أ ب] بالضم :

$$12ر56 = \frac{8 \times 3ر14}{2}$$

أ - طول محيط الطاولة بمستطيلها الإضافيين بالضم :

$$918 = 12 \times 76,5$$

طول محيط الطاولة بالضم وبدون اعتبار المستطيل :

$$628 = 3,14 \times 200$$

الفرق بين الطولين السابقين يوافق 4 مرات عرض كل المستطيلين الإضافيين ، لذلك فإن ذلك العرض بالضم هو :

$$72,5 = \frac{628 - 918}{4}$$

ب - قطر الطاولة بالضم على التصميم :

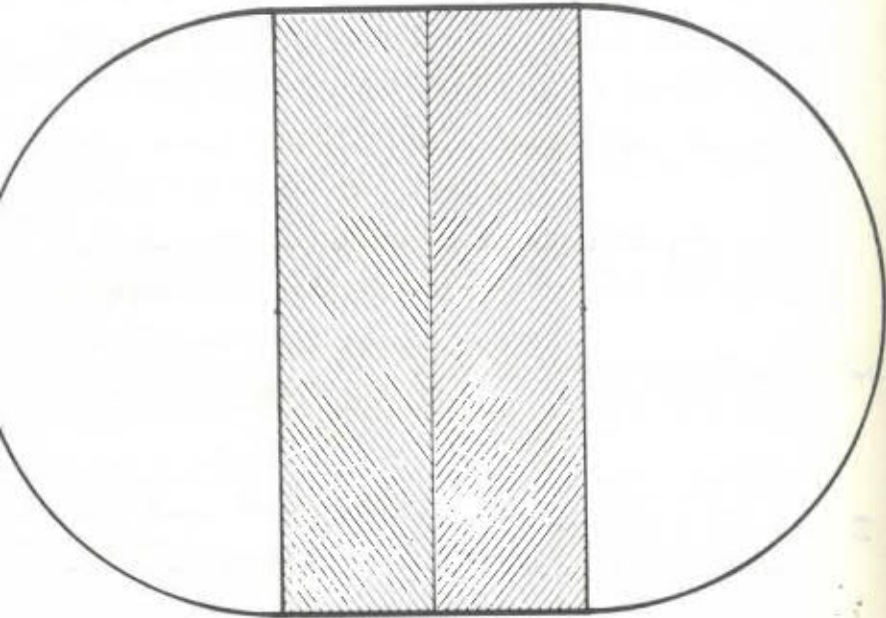
$$8 = \frac{200}{25}$$

شعاع الطاولة بالضم على التصميم :

$$4 = 2 : 8$$

عرض كل من المستطيلين الإضافيين بالضم على التصميم

$$2,9 = \frac{72,5}{25}$$



وبذلك يكون قيس المساحة المحصورة بين القوسين بالضم²

$$20,52 = 2 \times 10,26$$

258 - الحـل

طول ضلع المربع بالضم :

$$18,84 = 4 : 75,36$$

قيس مساحة المربع بالمتري المربع :

$$354,9456 = 18,84 \times 18,84$$

شعاع الدائرة بالضم :

$$12 = \frac{75,36}{3,14 \times 2}$$

قيس مساحة القرص الدائري بالضم²

$$452,16 = 12 \times 12 \times 3,14$$

نلاحظ أنّ قيس مساحة القرص أكبر من قيس مساحة المربع :

$$354,9456 < 452,16$$

259 - الحـل

أ - طول محيط العجلة بالمتري :

$$2,26 \text{ أو } 2,2608 = 3,14 \times 0,72$$

المسافة بالمتري التي تقطعها الدراجة عند قيام عجلتها ب 10

دورات

$$22,6 = 10 \times 2,26$$

ب - عدد الدورات التي تقوم بها العجلة عند قطعها لمسافة 3051 كم

$$1350 = 2,26 : 3051$$

أ - طول محيط القرص الدائري بالمتر :

$$282ر6 = 3ر14 \times 90$$

طول المستطيل المكوّن للملعب بحساب المتر :

$$120 = \frac{282ر6 - 522ر6}{2}$$

شعاع نصف الدائرة بالمتر :

$$45 = 2 : 90$$

قيس مساحة القرص الدائري بالمتر المربع :

$$6358ر5 = 45 \times 45 \times 3ر14$$

قيس مساحة المستطيل بالمتر المربع :

$$10\ 800 = 90 \times 120$$

قيس مساحة الملعب بالمتر المربع :

$$17158ر5 = 6358ر5 + 10\ 800$$

ب - شعاع نصف الدائرة باعتبار الحلبة بحساب المتر :

$$75 = 30 + 45$$

قيس مساحة القرص الدائري باعتبار الحلبة بالمتر المربع :

$$17662ر5 = 75 \times 75 \times 3ر14$$

قيس مساحة المستطيل باعتبار الحلبة بالمتر المربع :

$$18\ 000 = (30 + 30 + 90) \times 120$$

قيس مساحة الملعب باعتبار الحلبة بالمتر المربع :

$$35\ 662ر5 = 18\ 000 + 17662ر5$$

قيس مساحة الحلبة بالمتر المربع :

$$18\ 504 = 17158ر5 - 35662ر5$$

الحـل - 262

أ - شعاع القرص الدائري بالمتر :

$$0ر45 = \frac{0ر90}{2}$$

قيس مساحة القرص الدائري بالمتر المربع :

$$0ر63585 = 0ر45 \times 0ر45 \times 3ر14$$

قيس طول الجزء المستطيل من الباب بالمتر :

$$1ر95 = 0ر45 - 2ر40$$

قيس مساحة الجزء المستطيل من الباب بالمتر المربع :

$$3ر51 = 2 \times (0ر90 \times 1ر95)$$

قيس مساحة الباب بالمتر المربع :

$$4ر14585 = 3ر51 + 0ر63585$$

ب - قيس مساحة الوجهين بالمتر المربع :

$$8ر2917 = 2 \times 4ر14585$$

ثمن كلفة القلاء بالدينار :

$$9ر950 = 8ر2917 \times 1ر200$$

الحـل - 263

أ - طول [أ د] بالمتر :

$$60 = \frac{2 \times 90}{3}$$

شعاع كل من نصفي الدائرة بالمتر :

$$30 = 2 : 60$$

قيس مساحة الملعب بالمتر المربع :

$$8226 = 2826 + 5400 = (30 \times 30 \times 3ر14) + (60 \times 90)$$

ب - طول محيط الملعب بالمتر :

$$368ر400 = 188ر4 + 180 = (60 \times 3ر14) + (2 \times 90)$$

ج - طول [هـ و] بالمتر :

$$150 = (2 \times 30) + 90$$

أ - قيس مساحة الأقراص الصغيرة بالضم² :

$$87ر92 = 7 \times (2 \times 2 \times 3ر14)$$

ب - طول ضلع الورقة بالضم :

$$12 = 4 : 48$$

قيس مساحة الورقة بالضم² :

$$144 = 12 \times 12$$

قيس مساحة القرص الكبير بالضم² :

$$113ر04 = 6 \times 6 \times 3ر14$$

قيس المساحة المتبقية من الورقة بعد قص القرص الكبير بالضم² :

$$30ر96 = 113ر04 - 144$$

ج - قيس محيط الأقراص الصغيرة بالضم :

$$87ر92 = 7 \times (2 \times 3ر14 \times 2)$$


طول السلك اللازم بالضم هو إذا 87ر92

د - قيس المساحة المتبقية من القرص الكبير بعد قص الأقراص الصغيرة بالضم² :

$$25ر12 = 87ر92 - 113ر04$$

أ - نصف طول محيط المستطيل بالمتري :

$$314 = 2 : 628$$



طول المستطيل بالمتري :

$$188ر4 = \frac{3 \times 314}{5}$$

عرض المستطيل بالمتري :

$$125ر6 = 188ر4 - 314$$

قيس مساحة المستطيل بالمتري المربع :

$$23663ر04 = 125ر6 \times 188ر4$$

ب - طول ضلع المربع بالمتري :

$$157 = 4 : 628$$

قيس مساحة المربع بالمتري المربع :

$$24649 = 157 \times 157$$

ج - شعاع القرص الدائري بالمتري :

$$100 = \frac{628}{3ر14 \times 2}$$

قيس مساحة القرص الدائري بالمتري المربع :

$$31400 = 3ر14 \times 100 \times 100$$

د - قيس مساحة القرص < قيس مساحة المربع < قيس مساحة المستطيل .

أ - طول الصفيحة الواحدة بالضم هو 350

عرض الصفيحة الواحدة بالضم هو 120

قطر القرص الواحد بالضم هو 10

عدد الأقراص حسب طول الصفيحة :

$$35 = \frac{350}{10}$$

عدد الأقراص حسب عرض الصفيحة :

$$12 = \frac{120}{10}$$

عدد الأقراص التي يمكن الحصول عليها من صفيحة واحدة

$$420 = 12 \times 35$$

$$225 = \frac{20 \times 15}{2} + \frac{15 \times 10}{2}$$

قيس المساحة المشطوبة بالضم² :

$$525 = 225 + 150 + 150$$

ب - عدد الأقراص حسب طول المستطيل :

$$6 = \frac{30}{5}$$

عدد الأقراص حسب عرض المستطيل :

$$4 = \frac{20}{5}$$

عدد الأقراص التي يمكن قضاها :

$$24 = 4 \times 6 \text{ مع العلم أن شعاع كل منها يساوي } 2 \text{ ر } 5 \text{ صم}$$

ج - قيس مساحة الضفيحة بالضم² :

$$2400 = 40 \times 60$$

قيس مساحة الأقراص بالضم² :

$$471 = 24 \times (2 \text{ ر } 5 \times 2 \text{ ر } 5 \times 3 \text{ ر } 14)$$

قيس المساحة المتبقية من الضفيحة بالضم²

$$1404 = (471 + 525) - 2400$$

268 - الحـل

أحول 100 000 ل الى أمتار مكعبة :

100 000 ل أي 100 000 دسم³ أي 100 م³

أبعاد الصهريج هي 3 قواسم للعدد 100 بحيث يكون سطحها مساويا لـ 100 .

100	2
50	2
25	5
5	5
1	

العدد الجملي للأقرص :

$$42\ 000 = 100 \times 420$$

ب - قيس مساحة الضفيحة الواحدة بالضم² :

$$42\ 000 = 350 \times 120$$

قيس مساحة القرص الواحد بالضم² :

$$78 \text{ ر } 5 = 5 \times 5 \times 3 \text{ ر } 14$$

قيس مساحة 420 قرصا بالضم² :

$$32\ 970 = 420 \times 78 \text{ ر } 5$$

قيس المساحة المتبقية من ضفيحة واحدة بالضم² :

$$9\ 030 = 32\ 970 - 42\ 000$$

قيس المساحة الجمليّة المتبقية بالضم² :

$$90\ 300 = 100 \times 9\ 030 \text{ أو } 90 \text{ ر } 3 \text{ م}^2$$

ج - وزن الفضلات بالكغ :

$$352 \text{ ر } 170 = 90 \text{ ر } 3 \times 3 \text{ ر } 9$$

267 - الحـل

أ - طول [ن هـ] بالضم :

$$10 = 4 : 40$$

طول [ك ص] بالضم :

$$15 = 4 : 60$$

قيس مساحة المثلث (ن ، هـ ، س) بالضم² :

$$150 = \frac{30 \times 10}{2}$$

قيس مساحة المثلث (ك ، ص ، ق) بالضم² :

$$150 = \frac{20 \times 15}{2}$$

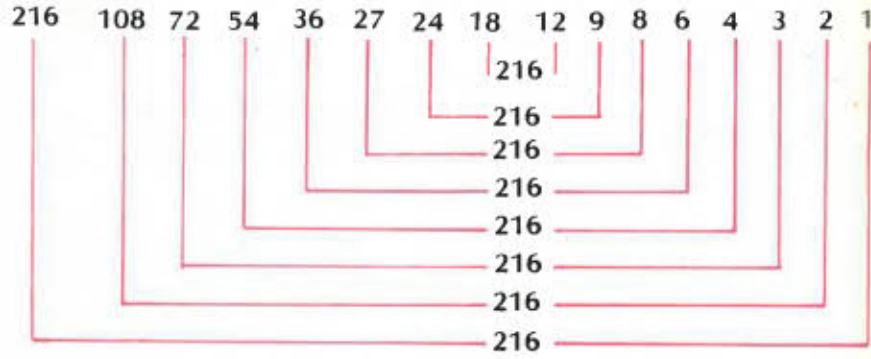
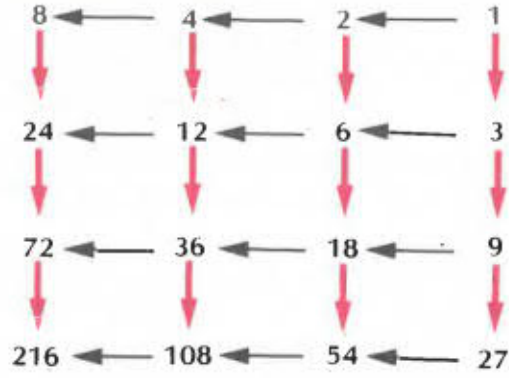
للبحث عن قيس مساحة شبه المنحرف (ن ، هـ ، ك ، ص) يمكن

رسم القطر [ن ك] مثلا للحصول على المثلثين (هـ ، ن ، ك)

و (ن ، ص ، ك) قيس مساحة شبه المنحرف بالضم² هو مجموع

قيسي مساحتي المثلثين (هـ ، ن ، ك) و (ن ، ص ، ك) أي :

ب - نعلم أن قيس حجم متوازي المستطيلات هو سطح العددين اللذين يقيسان مساحة قاعدته وارتفاعه وهذا يعني أن قيس مساحة القاعدة والارتفاع هما قاسمان للعدد 216 ، فلنبحث إذا عن قواسم 216 .



وبما أن شكل قاعدة متوازي المستطيلات هو مربع فيكون قيس مساحة تلك القاعدة مربع عدد صحيح محصور بين 6 و 18 فلا يمكن أن يكون ذلك القيس سوى 9 وبالتالي فإن طول ضلع قاعدة متوازي المستطيلات هو بالضم 3 لأن $9 = 3^2$

ارتفاع متوازي المستطيلات بالضم :

216 : 9 = 24 لأن 216 هو سطح العددين 9 و 24

$2_5 \times 2_2 = 100$: هناك ثمانية حلول ممكنة

الأبعاد بالمتري	الحالة عدد
100 - 1 - 1	1
50 - 2 - 1	2
25 - 4 - 1	3
10 - 10 - 1	4
20 - 5 - 1	5
25 - 2 - 2	6
10 - 5 - 2	7
5 - 5 - 4	8

269 - الحل

أ - بما أن قيس حجم المكعب هو مكعب طول حرفه فلنبحث إذا عن ذلك الطول بتحليل العدد 216 الى عوامله الأولى :

216	2
108	2
54	2
27	3
9	3
3	3
1	

$216 = 3^3 \times 2^3$ أي أن $216 = (3 \times 2)^3 = 6^3$ وبذلك يكون طول حرف المكعب بالضم 6 .

270 - الحل

أ - قيس حجم المكعب الصغير بالضم³ :

$$216 = 6 \times 6 \times 6$$

قيس حجم المكعب الكبير بالضم³ :

$$13\ 824 = 24 \times 24 \times 24$$

عدد المكعبات الصغيرة المستعملة :

$$64 = \frac{13\ 824}{216}$$

ب - طول الصف الواحد هو 72 صم

عدد المكعبات بالصف الواحد :

$$12 = 6 : 72$$

عدد الصفوف :

$$7 = \frac{84}{12}$$

ج - قيس المساحة المغطاة بالمكعبات بالضم² :

$$3\ 024 = (7 \times 12) \times (6 \times 6)$$

ج - عدد المكعبات على الطول هو $12 = \frac{72}{6}$

عدد المكعبات على العرض $8 = \frac{48}{6}$

عدد المكعبات المستعملة :

$$36 = 4 - 2 \times (8 + 12)$$

271 - الحل

أ - طول حرف الصندوق المكعب هو المكرر المشترك الأصغر

للأعداد 10 و 12 و 15

$$5 \times 2 = 10$$

$$3 \times 2^2 \times 12$$

$$5 \times 3 = 15$$

م.م.أ (10، 12، 15) = $2^2 \times 3 \times 5 = 60$ أي 60 صم

ب - عدد صناديق الطباشير التي يمكن وضعها في الصندوق المكعب الشكل :

$$120 = \frac{60 \times 60 \times 60}{15 \times 12 \times 10}$$

272 - الحل

أ - بما أن الصندوق والحقة يتساويان في قيس الحجم والارتفاع فيكون لهما نفس قيس مساحة القاعدة أي بالضم² :

$$78 \times 5 = \frac{785}{10}$$

مربع شعاع الحقة بالضم² :

$78 \times 5 = 3 \times 14 = 25$ وبذلك يكون شعاع الحقة بالضم 5 أي عرض الصندوق .

طول محيط قاعدة الحقة بالضم :

$$31 \times 4 = 5 \times 3 \times 14 \times 2$$

طول قاعدة الصندوق بالضم :

$$15 \times 7 = 5 \times 78$$

طول محيط قاعدة الصندوق بالضم :

$$41 \times 4 = 2 \times (15 \times 7 + 5)$$

ونلاحظ أن $41 \times 4 < 31 \times 4$ أي أن

طول محيط قاعدة الصندوق < طول محيط قاعدة الحقة

ب - قيس المساحة الجانبية للصندوق بالضم² :

$$41 \times 4 = 10 \times 41$$

قيس المساحة الجانبية للحقة بالضم² :

$$31 \times 4 = 10 \times 31$$

نلاحظ أن $41 \times 4 < 31 \times 4$ أي أن :

قيس المساحة الجانبية للصندوق < قيس المساحة الجانبية للحقة

عدد الحقق على عرض الصندوق :

$$6 \text{ ر } 66 = \frac{40}{6} \text{ أي } 6$$

عدد الحقق بالطبقة الواحدة :

$$48 = 6 \times 8$$

عدد الطبقات :

$$3 = 10 : 30$$

العدد الجملي للحقق :

$$144 = 3 \times 48$$

الحالة الثانية : ارتفاع الحقة مواز لطول الصندوق

عدد الحقق على طول الصندوق :

$$5 = 10 : 50$$

عدد الحقق على عرض الصندوق :

$$6 \text{ ر } 66 = \frac{40}{6} \text{ أي } 6$$

عدد الحقق بالطبقة الواحدة :

$$30 = 6 \times 5$$

عدد الطبقات :

$$5 = 6 : 30$$

العدد الجملي للحقق :

$$150 = 5 \times 30$$

الحالة الثالثة : ارتفاع الحقة مواز لعرض الصندوق :

عدد الحقق على طول الصندوق :

$$8 \text{ ر } 33 = \frac{50}{6} \text{ أي } 8$$

عدد الحقق على عرض الصندوق :

$$4 = 10 : 40$$

عدد الحقق بالطبقة الواحدة :

$$32 = 4 \times 8$$

ج - قيس المساحة الجمليّة للصندوق بالصم²

$$571 = 414 + (2 \times 78 \text{ ر } 5)$$

قيس المساحة الجمليّة للحقة بالصم² :

$$471 = 314 + (2 \times 78 \text{ ر } 5)$$

نلاحظ أن $571 < 471$ أي أن :

قيس المساحة الجمليّة للصندوق $<$ قيس المساحة الجمليّة للحقة

273 - الحل

أ - قيس حجم الحوض بالمتر المكعب :

$$70 \text{ ر } 65 = \frac{5 \times 42 \text{ ر } 39}{3} = \frac{5}{3} \times 42 \text{ ر } 39$$

قيس مساحة قاعدة الحوض بالمتر المربع :

$$23 \text{ ر } 55 = 3 : 70 \text{ ر } 65$$

عرض قاعدة الحوض بالمتر :

$$4 \text{ ر } 71 = 5 : 23 \text{ ر } 55$$

ب - قيس حجم الخزان الإسطوانيّ بالمتر المكعب هو $42 \text{ ر } 39$

مربع شعاع الخزان بالمتر المربع :

$$2 \text{ ر } 25 = 1 \text{ ر } 5 \times 1 \text{ ر } 5$$

ارتفاع الخزان الإسطوانيّ بالمتر :

$$6 = \frac{42 \text{ ر } 39}{2 \text{ ر } 25 \times 3 \text{ ر } 14}$$

274 - الحل

الحالة الأولى : ارتفاع الحقة مواز لارتفاع الصندوق :

عدد الحقق على طول الصندوق :

$$8 \text{ ر } 33 = \frac{50}{6} \text{ أي } 8$$

أ - قيس حجم الماء بالهـل :

148ر8 م³ أو 148 800 دسم³ أو 148 800 ل أو 1 488 هل
كمية الماء التي تعطيها المضخة في الدقيقة بحساب الهـل مع العـل
أن 10 س و 20 د ق هي 620 د ق :

$$2ر4 = \frac{1\ 488}{620}$$

كمية الماء التي تعطيها المضخة في الساعة بحساب الهـل :

$$144 = 60 \times 2ر4$$

ب - قيس حجم الخزان الثاني بالمتـر المكعب :

$$3ر20 \times 2ر40 \times 0ر80 = 6ر144 \text{ أي } 6\ 144 \text{ ل أو } 61ر44 \text{ هل}$$

المدة اللازمة لملء الخزان بحساب الثانية :

$$61ر44 \times 60 = 1\ 536 \text{ أي } 25 \text{ د ق و } 36 \text{ ث}$$

ج - قيس مساحة قاعدة الخزان الثاني بالمتـر المربع :

$$7ر68 = 2ر40 \times 3ر20$$

انخفاض الماء بالمتـر :

$$0ر20 = \frac{1ر536}{7ر68}$$

عدّد الطبقات :

$$5 = 6 : 30$$

العدد الجملي للحقـق :

$$160 = 5 \times 32$$

لنتمكن إذا من تصنيف أكبر عدد ممكن من الحقـق داخل الصندوق
يجب أن تكون ارتفاعات هذه الحقـق موازية لعرض الصندوق .

275 - الحـل

أ - قيس مساحة الساحة بالمتـر المربع :

$$9265 = 85 \times 109$$

قيس مساحة المكان المخصـص للقفـز بالمتـر المربع :

$$18 = 3 \times 6$$

قيس مساحة الممر المخصـص للعدو بالمتـر المربع :

$$18 = 1ر2 \times 15$$

قيس المساحة المتبقية من الساحة بالمتـر المربع :

$$9229 = (18 + 18) - 9265$$

ب - قيس حجم المكان المخصـص للقفـز بالمتـر المكعب :

$$9 = 0ر5 \times 3 \times 6$$

الزمن اللازم لحفر ذلك المكان بالساعة :

$$10 = \frac{9}{0ر9}$$

أجرة العامل بالدينار :

$$3ر150 = (4 + 10) \times 0ر225$$

ج - ثمن المتـر المكعب من الرمل بالدينار :

$$2ر700 = \frac{250ر500 - 274ر800}{9}$$

طول المستطيل على التصميم وبالضـم :

$$12 = 3 \times 4$$

عرض المستطيل على التصميم وبالضـم :

$$9 = 3 \times 3$$

المستطيل الحقيقي

المستطيل على التصميم

أ - رسم المستطيل ² عدد انطلاقا من المستطيل ¹ عدد حسب النسـم :

$$\frac{2}{3} = \frac{6}{9} = \frac{4}{6}$$

ب - رسم المستطيل ¹ عدد انطلاقا من المستطيل ² عدد حسب النسـم :

$$1,5 = \frac{3}{2} = \frac{9}{6} = \frac{6}{4}$$

نلاحظ أنّ طول [أ ب] = 5 سم وأنّ طول [أ ب'] = 7,5 سم
نلاحظ كذلك أنّ طول [ج د] = 1 سم وأنّ طول [ج د'] = 1,5 سم الخ ...
لذا فإنّ النسـم المطلوب هو :

$$1,5 = \frac{3}{2} = \frac{15}{10} = \dots = \frac{1,5}{1} = \frac{7,5}{5}$$

أ - الطول الحقيقي للضيعة بالـمتر :

$$100 = 1000 \times 0,10$$

العرض الحقيقي للضيعة بالـمتر :

$$60 = 1000 \times 0,06$$

قيس مساحة الضيعة بالـمتر المربع :

$$6000 = 60 \times 100$$

ب - العرض الحقيقي للممرات بالـمتر :

$$5 = 1000 \times 0,005$$

282 - الحل

سُلم الخريطة مع العلم أن 185 كم هي 18500000 صم

$$\frac{1}{500000} = \frac{37}{18500000}$$

283 - الحل

سُلم التصميم مع العلم أن 245 م هي 245 000 مم

$$\frac{1}{2500} = \frac{98}{245\ 000}$$

العرض الحقيقي للضيعة بالضم :

$$18750 \text{ ر5} = 2500 \times 7 \text{ ر5} = \frac{1}{2500} \text{ : } 7 \text{ ر5} \text{ أو بالمتر } 187 \text{ ر50}$$

قيس مساحة الضيعة بالمتر المربع :

$$45937 \text{ ر5} = 187 \text{ ر50} \times 245$$

284 الحل

السلم	$\frac{1}{200000}$	$\frac{1}{50000}$	$\frac{1}{2000}$	3	2	5
المسافة الحقيقية بالكم	22	16	0,65	0,000012	0,000025	6
المسافة على الخريطة بالضم	16	32	32,5	36	50	30

قيس مساحات الممرات بالمتر المربع :

$$775 = 275 + 500 = 5 \times (5 - 60) + (5 \times 100)$$

تكاليف تبليط الممرات بالدينار :

$$3681 \text{ ر250} = 775 \times 4 \text{ ر750}$$

281 - الحل

أ - قيس مساحة الحديقة بالم² :

$$18 \text{ ر0864} = \frac{4 \text{ ر80}}{2} \times \frac{4 \text{ ر80}}{2} \times 3 \text{ ر14}$$

ب - شعاع الحديقة والرصيف بالمتر :

$$3 \text{ ر30} = 0 \text{ ر90} + \frac{4 \text{ ر80}}{2}$$

طول المحيط الخارجي للرصيف بالمتر :

$$20 \text{ ر724} = 3 \text{ ر30} \times 3 \text{ ر14} \times 2$$

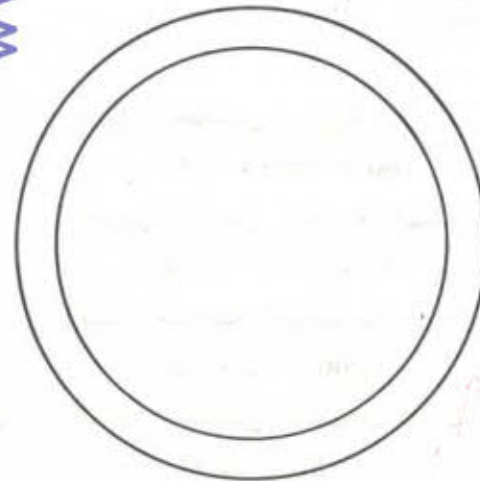
ج - قطر الحديقة على التصميم بالضم :

$$4 \text{ ر80} = \frac{480}{100}$$

عرض الرصيف على التصميم بالضم :

$$0 \text{ ر9} = \frac{90}{100}$$

وفيما يلي التصميم :



أما طولها فهو بالضم كذلك :


$$150 = 70 + 80$$

ب - طول الطاولة على التصميم بالضم :

$$7,5 = \frac{150}{20}$$

عرض الطاولة على التصميم بالضم :

$$4 = \frac{80}{20}$$



الحل - 288

الطول الحقيقي لقاعدة متوازي الأضلاع بالمتري :

$$210 = 2500 \times 0,084$$

الطول الحقيقي لارتفاع متوازي الأضلاع بالمتري :

$$140 = 2500 \times 0,056$$

قيس مساحة متوازي الأضلاع بالمتري المربع :

$$29400 = 140 \times 210$$

مقدار المصاريف بالدينار :

$$9790,200 = \frac{18 \times 54390}{100}$$

ثمن كلفة قطعة الأرض بالدينار :

$$64180,200 = 9790,200 + 54390$$

ثمن كلفة المتر المربع الواحد بالدينار :

$$2,183 = 29400 : 64180,200$$

285 - الحل

طول الطريق بالضم على الخريطة الثانية :

$$17 = \frac{50000 \times 85}{250000}$$

286 - الحل

نلاحظ أن 200000 هو ضعف 100000 وأن 100000 هو بدوره ضعف 50000 لذلك فإن المسافة التي تفصل بين مدينتي تونس والنفيضة على الخريطة الثالثة هي نصف تلك المسافة على الخريطة الثانية وهي

كذلك 4 مرات أصغر من تلك المسافة على الخريطة الأولى .

طول المسافة على الخريطة الأولى بالضم :

$$198 = \frac{9900000}{50000}$$

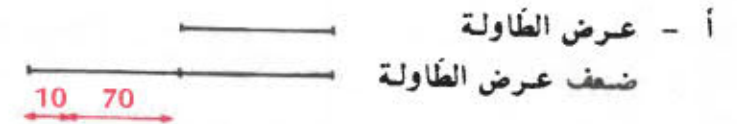
طول المسافة على الخريطة الثانية بالضم :

$$99 = 2 : 198$$

طول المسافة على الخريطة الثالثة بالضم :

$$49,5 = \frac{99}{2} = \frac{198}{4}$$

287 - الحل



طول الطاولة

يبين لنا الشكل أعلاه أن عرض الطاولة هو بالضم :

$$80 = 10 + 70$$

ثمن شراء قطعة الأرض بالدينار :

$$2688 = 15 \times 36 \times 175$$

ب - سلم التصميم :

$$\frac{1}{2000} = \frac{32}{64000} = \frac{3 \times 2}{6400}$$

ج - الطول الحقيقي للوتر بالمتري :

$$80 = 2000 \times 0,04$$

الطول الحقيقي للارتفاع الموافق للوتر بالمتري :

$$38,4 = \frac{2 \times 1536}{80}$$

الحل - 291

أ - عدد الجليز على طول المساحة :

$$9 = 15 : 135$$

عدد الجليز على عرض المساحة :

$$5 = 15 : 75$$

عدد الجليز المستعمل :

$$45 = 5 \times 9$$

ب - طول المساحة المغطاة على التصميم بالضم :

$$13,5 = \frac{135}{10} = \frac{1}{10} \times 135$$

عرض المساحة المغطاة على التصميم بالضم :

$$7,5 = \frac{75}{10} = \frac{1}{10} \times 75$$

طول ضلع الجليز على التصميم بالضم :

$$1,5 = \frac{15}{10} = \frac{1}{10} \times 15$$

289 - الحل

أ - طول الحقل على التصميم المعد حسب السلم بالضم :

$$34 = \frac{17000}{500} = \frac{1}{500} \times 17000$$


نلاحظ أن $34 < 22$ لذا فإنه لا يمكن رسم هذا التصميم على الورقة

ب - السلم المستعمل هو :

$$\frac{1}{2500} = \frac{45}{112500}$$

ج - طول الحقل حسب السلم بالضم :

$$6,8 = \frac{17000}{2500} = \frac{1}{2500} \times 17000$$




290 - الحل

أ - قيس مساحة قطعة الأرض بالمتري المربع :

$$1536 = \frac{48 \times 64}{2} \text{ أو بالآر } 15,36$$

عرض المستطيل (أو قطر نصفي الدائرتين) على التصميم وبالضم :

$$2ر8 = \frac{1}{2000} \times 5600$$



ب - قيس مساحة المستطيل بالآر :

$$75ر40 = 5ر6 \times 13ر4$$

قيس مساحة نصفي الدائرتين بالآر :

$$24ر6176 = 3ر14 \times (2 : 5ر6) \times (2 : 5ر6)$$

قيس مساحة الملعب بالآر :

$$99ر6576 = 24ر6176 + 75ر04$$

ج - طول الذورة الواحدة بالمتر :

$$425 = 157 + 268 = 3ر14 \times (6 - 56) + (2 \times 134)$$

المدة بالذقيقة التي يقضيها العذاء للقيام بدورة واحدة :

$$1ر25 = \frac{425}{340} \text{ أي } 1 \text{ دق و } 15 \text{ ث}$$

المدة بالذقيقة التي يقضيها العذاء للقيام بأربعين دورة :

$$50 = 40 \times 1ر25$$

أو (1 دق و 15 ث) $\times 40 = 40 \text{ دق و } 600 \text{ ث أو } 40 \text{ دق}$

و 10 دق أي 50 دق

293 - الحـل

أ - طول الملعب بالضم على التصميم :

$$8 = \frac{16000}{2000} = \frac{1}{2000} \times 16000$$

ج - عدد الجليز الأخضر :

$$24 = 2 \times (3 + 9)$$

عدد الجليز الأبيض

$$21 = 24 - 45$$

ثمان الجليز بالدينار :

$$5ر835 = (21 \times 0ر095) + (24 \times 0ر160)$$

قيس المساحة المغطاة بالمتر المربع :

$$1ر0125 = 0ر75 \times 1ر35$$

كلفة وضع الجليز بالدينار :

$$2ر835 = 1ر0125 \times 2ر800$$

مقدار تكاليف التبليط الجمليّة بالدينار :

$$8ر670 = 2ر835 + 5ر835$$

292 - الحـل

أ - طول المستطيل على التصميم وبالضم :

$$6ر7 = \frac{1}{2000} \times 13400$$

أ - الأبعاد الحقيقية للضيعة بالمتري :

$$84 = 2000 \times 0,042$$

$$168 = 2000 \times 0,084$$

$$126 = 2000 \times 0,063$$

قيس مساحة الضيعة بالمتري المربع :

$$15876 = \frac{126 \times (168 + 84)}{2} \text{ أو بالهكتار } 1,5876$$

ثمن الضيعة بالدينار :

$$3095820 = 1950 \times 15876$$

ب - قيس مساحة كل من المثلثات الثلاثة بالمتري المربع :

$$15876 : 3 = 5292$$

إذا رسمنا القطعة [ب ك] العمودية على [د ج] فإننا نتحصل على ثلاثة مثلثات متكافئة وهي (أ ، ب ، د) ، (ب ، د ، ك) و (ب ، ك ، ج) وكلها قائمة الزاوية. لنحقق ذلك التكافؤ بعد رسم القطعة [ب د]

قيس مساحة (أ ، ب ، ك) بالمتري المربع :

$$5292 = \frac{126 \times 84}{2} = \frac{\text{طول [أ ب]} \times \text{طول [أ د]}}{2}$$

قيس مساحة (ب ، د ، ك) بالمتري المربع :


$$5292 = \frac{126 \times (84 - 168)}{2} = \frac{\text{طول [د ك]} \times \text{طول [ب ك]}}{2}$$

عرض الملعب بالضم على التصميم :

$$8 = \frac{16000}{2000} = \frac{1}{2000} \times 12000$$

عرض الملعب بالضم على التصميم :

$$6 = \frac{12000}{2000} = \frac{1}{2000} \times 12000$$



ب - طول السياج بالمتري مع العلم أن الشعاع الجديد لكل من نصفين الدائرتين هو 65 م

$$728,2 = 408,2 + 320 = (65 \times 3,14 \times 2) + (2 \times 160)$$

ثمن المتر الواحد من السياج بحساب الدينار :

$$3,060 = 728,2 : 2228,292$$

ج - قيس المساحة المحاطة بالسياج بالمتري المربع :

$$34066,5 = (65 \times 65 \times 3,14) + (130 \times 160)$$

قيس حجم التربة المفروشة بالمتري المكعب :

$$1703,325 = 0,05 \times 34066,5$$

ثمن التربة بالدينار :

$$1294,527 = 1703,325 \times 0,760$$

ج - طول محيط المثلث بالمتري :

$$120 = 3 + 360$$

طول [ب د] بالمتري :

$$40 = 15 + 25$$

مجموع طولي [ب د] و [أ د] بالمتري :

$$70 = 30 + 40$$

طول [أ ب] بالمتري :

$$50 = 70 - 120$$

د - طول [أ ب] حسب السلم وبالضم :

$$10 = \frac{5000}{500}$$

طول [أ د] حسب السلم وبالضم :

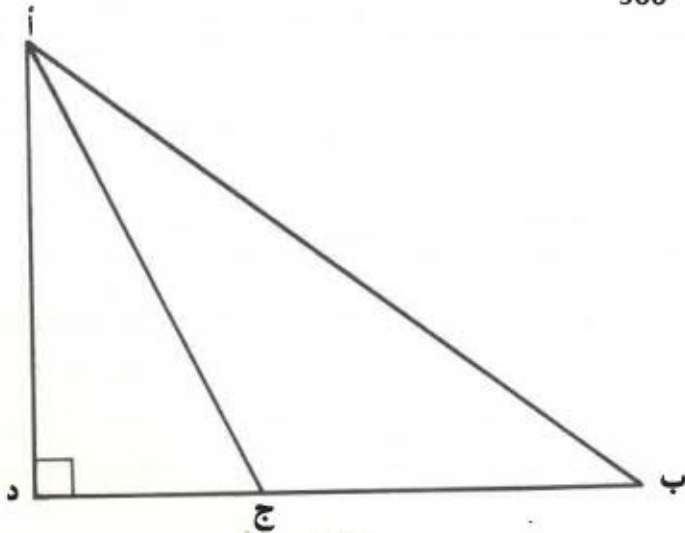
$$6 = \frac{3000}{500}$$

طول [ب د] حسب السلم وبالضم :

$$8 = \frac{4000}{500}$$

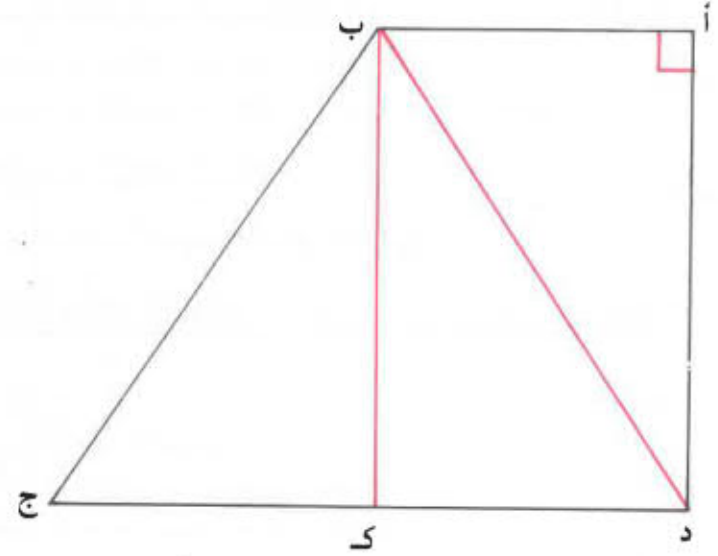
طول [ب ج] حسب السلم وبالضم :

$$5 = \frac{2500}{500}$$



قيس مساحة (ب ك ج) بالمتري المربع :

$$2592 = \frac{126 \times (84 - 168)}{2} = \frac{\text{طول [ك ج]} \times \text{طول [ب ك]}}{2}$$



295 - الحل

أ - تمثل القطعة [أ د] الارتفاع الموافق للضلع [ب ج] في المثلث (أ. ب. ج) لذا فإن قيس مساحة (أ. ب. ج) بالمتري المربع هو :

$$375 = \frac{30 \times 25}{2}$$

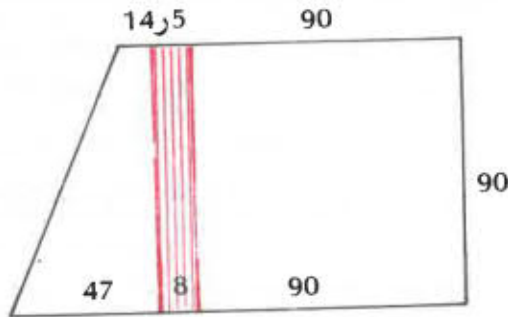
ب - قيس مساحة (أ. ج. د) بالمتري المربع هو :

$$225 = \frac{3 \times 375}{5} = \frac{3}{5} \times 375$$

طول [ج د] بالمتري هو :

$$15 = \frac{2 \times 225}{30}$$

قيس مساحة الطريق بالمتر المربع :
 $720 = 90 \times 8$ أو بالار 7ر2
 قيمة الار الواحد من الطريق بالدينار :
 $2340 : 7ر2 = 325$



ب -

قيس مساحة القطعة المربعة بالمتر المربع :

$$8100 = 90 \times 90$$

ج - طول القاعدة الكبيرة للقطعة الثانية بالمتر :

$$47 = (8 + 90) - 145$$

طول القاعدة الصغيرة للقطعة الثانية بالمتر :

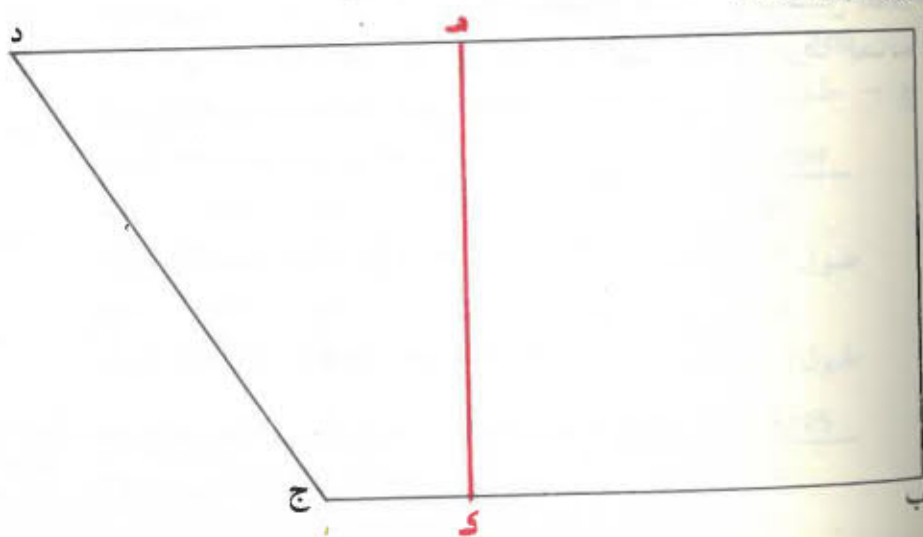
$$14ر5 = (8 + 90) - 112ر5$$

قيس مساحة القطعة الثانية بالمتر المربع :

$$2767ر5 = \frac{90 \times (14ر5 + 47)}{2}$$

298 - الحل

أرسم الشكل :



أ - الأبعاد الحقيقية للحقل بالمتر :

$$50 = 2000 \times 0ر025 = \text{طول [أ ه]}$$

$$68 = 2000 \times 0ر034 = \text{طول [ب ه]}$$

$$124 = 2000 \times 0ر062 = \text{طول [د ه]}$$

$$136 = 2000 \times 0ر068 = \text{طول [ج ه]}$$

قيس مساحة المثلث (أ ، ب ، ه) بالمتر المربع

$$1700 = \frac{68 \times 50}{2}$$

قيس مساحة شبه المنحرف (ب ، ه ، د ، ج) بالمتر المربع :

$$12648 = \frac{124 \times (68 + 136)}{2}$$

قيس مساحة الحقل بالمتر المربع :

$$14348 = 12648 + 1700 \text{ أو بالهكتار } 1ر4348$$

ب - منتوج الحقل من اللفت السكري بالطن :

$$35ر870 = 1ر4348 \times 25$$

وزن السكر بالكيلو غرام :

$$4304ر4 = \frac{12 \times 35870}{100}$$

قيمة السكر بالدينار :

$$990ر012 = 4304ر4 \times 0ر230$$

297 - الحل

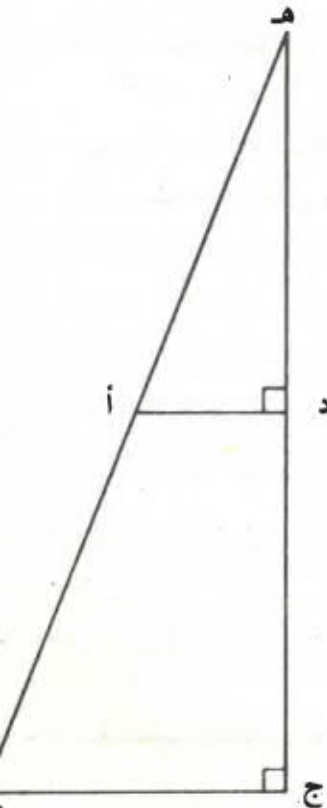
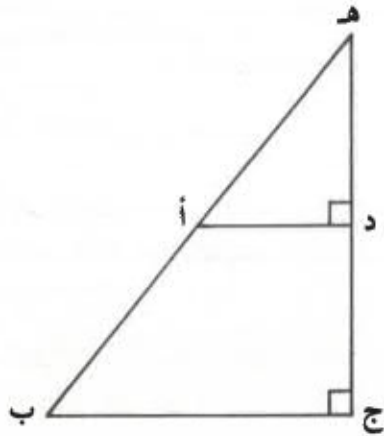
أ - الأبعاد الحقيقية للمزرعة بالمتر :

$$145 = 2500 \times 0ر058$$

$$112ر5 = 2500 \times 0ر045$$

$$90 = 2500 \times 0ر036$$

أ - بما أن طول [هـ ج] هو ضعف طول [ج د] فإن د هي منتصف القطعة [هـ ج]



ب - قيس مساحة (هـ . ب . ج) بالمتري المربع :
1ر25 ها أو 12:00 م²

قيس مساحة (أ . ب . ج . د) بالمتري المربع :
93ر75 ا أو 9375 م²

قيس مساحة (هـ . أ . د) بالمتري المربع :
3 125 = 9 375 - 12 500

ج - طول [ب ج] بالمتري :

$$100 = \frac{2 \times 12\ 500}{250}$$

طول [هـ د] بالمتري :

$$125 = 2 : 250$$

طول [أ د] بالمتري :

$$50 = \frac{2 \times 3125}{125}$$

أ - الطول الحقيقي للقاعدة [أ د] بالمتري :

$$360 = 3000 \times 0ر12$$

الطول الحقيقي للقاعدة [ب ج] بالمتري :

$$240 = 3000 \times 0ر08$$

الطول الحقيقي للارتفاع [أ ب] بالمتري :

$$180 = 3000 \times 0ر06$$

قيس مساحة الأرض بالهكتار :

$$5ر4 = \frac{1ر8 \times (2ر4 + 3ر6)}{2}$$

ب - قيس مساحة الجزء الواحد بالمتري المربع :

$$27000 = \frac{54000}{2}$$

طول [هـ أ] بالمتري :

$$150 = \frac{27000}{180}$$

طول [هـ أ] بالضم على التصميم :

$$5 = \frac{15000}{3000} \text{ (أنظر الشكل أعلاه وقد رسمت عليه [هـ ك] بالأحمر)}$$

ج - الزباعي (أ . ب . ك . هـ) هو مستطيل بعدها الحقيقيين 180 م

و 150 م، أما الزباعي (ج . د . هـ . ك) فهو شبه منحرف بعده

الحقيقيين بحساب المتر هي التالية :

طول القاعدة الكبرى [هـ د] :

$$210 = 150 - 360$$

طول القاعدة الصغرى [ك ج] :

$$90 = 150 - 240$$

طول الارتفاع الحقيقي هو 180 م .

د - طول محيط المستطيل (أ . ب . ك . هـ) بالمتري :

$$660 = 2 \times (150 + 180)$$

د - طول [هـ ج] على التصميم بالضم :

$$10 = \frac{250 \times 100}{2500}$$

طول [ب ج] على التصميم بالضم :

$$4 = \frac{100 \times 100}{2500}$$

طول [ج د] على التصميم بالضم :

$$5 = 2 : 10$$

300 - الحـل

أ - طول ارتفاع متوازي الأضلاع هو نصف طول القطر [ب]

طول الارتفاع بالمتر هو إذا :

$$180 = 2 : 360$$

قيس مساحة متوازي الأضلاع (أ ، ب ، هـ ، ك) بالمتر المربع :

$$64\ 800 = 180 \times 360$$

ب - البحث عن طول [هـ ج]

قيس مساحة المعين (ب ، ج ، د ، هـ) بالمتر المربع :

$$48\ 600 = 64\ 800 - 113\ 400$$

طول القطر [هـ ج] بالمتر :

$$270 = \frac{2 \times 48\ 600}{360}$$

البحث عن طول [ب ج]

يتكوّن المحيط من القطعتين المتقايستين [أ ب] و [ك هـ]

وكذلك من القطع [أ ك] ، [ب ج] ، [ج د] و [د هـ]

المتقايسة أيضا لذا فإنّ طول [ب ج] هو بالمتر :

$$225 = \frac{(2 \times 360) - 1620}{4}$$

ج - طول [أ ب] على التصميم بالضم :

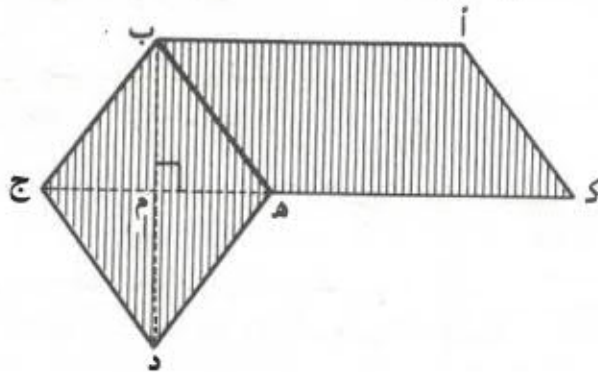
$$4 = \frac{36\ 000}{9000}$$

طول [ب د] على التصميم بالضم هو : كذلك 4

طول [هـ ج] على التصميم بالضم :

$$3 = \frac{27\ 000}{9000}$$

نعلم كذلك أنّ [ب د] و [هـ ج] يتقاطعان في منتصفهما المشترك م .



301 - الحـل

أ - عرض قطعة الأرض بالمتر :

$$104 = \frac{2 \times 156}{3}$$

قيس مساحة قطعة الأرض بالهكتومتر المربع :

$$1\ 6224 = 1\ 04 \times 1\ 56$$

ب - $\left. \begin{array}{l} \text{قيس مساحة الجزء الصغير} \\ \text{قيس مساحة الجزء الكبير} \end{array} \right\} 16224$

$$5408 = \frac{1624}{3}$$

عرض الجزء الصغير بالمتري :

$$52 = 104 : 5408$$

طول الجزء الكبير هو عرض قطعة الأرض أي 104 م

قيس مساحة الجزء الكبير بالمتري المربع :

$$10816 = 2 \times 5408$$

طول الجزء الكبير بالمتري :

$$104 = 52 - 156$$

نلاحظ إذا أن الجزء الكبير هو مربع طول ضلعه 104 م

ج - قيس مساحة الحوض بالمتري المربع :

$$5024 = 3 \times 14 \times (2 : 80) \times (2 : 80)$$

قيس المساحة المتبقية بالمتري المربع :

$$5792 = 5024 - 10816$$

د - طول المزرعة على التصميم بالضم :

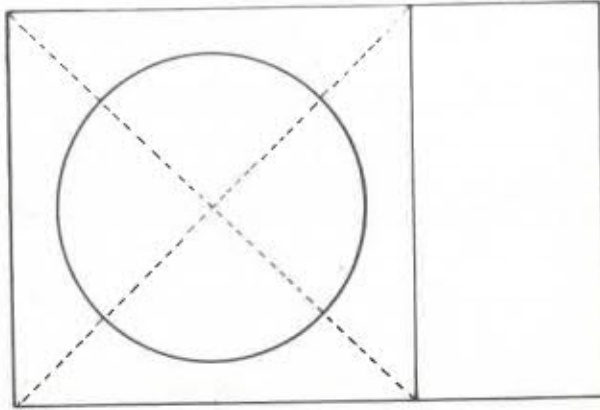
$$7,8 = \frac{15600}{2000} = \frac{1}{2000} \times 15600$$

عرض المزرعة على التصميم بالضم :

$$5,2 = \frac{10400}{2000} = \frac{1}{2000} \times 10400$$

شعاع الحوض على التصميم بالضم :

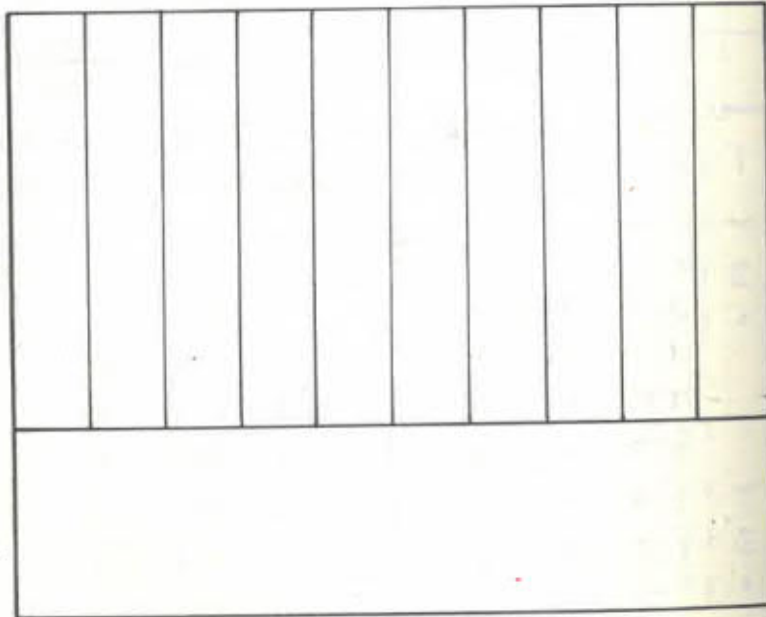
$$2 = \frac{4000}{2000} = \frac{1}{2000} \times 4000$$

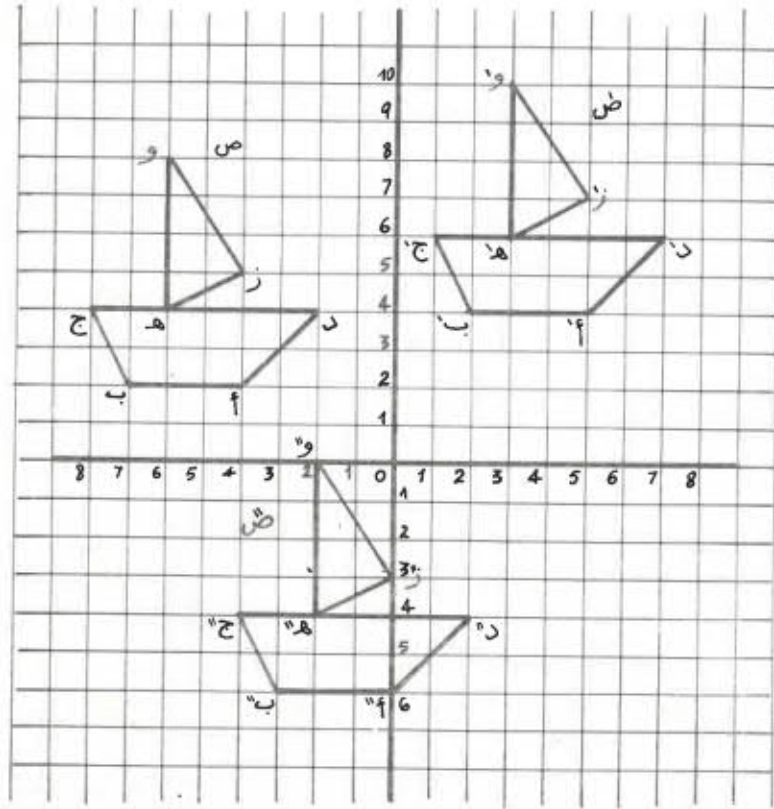


302 - الحل

أ - طول الإصطبل بالضم على التصميم

$$20 = \frac{10 \times 200}{100}$$





(1) الصورة ص

- | | |
|---------------|----------------|
| أ (4 ← , 2 ↑) | هـ (6 ← , 4 ↑) |
| ب (7 ← , 2 ↑) | و (6 ← , 8 ↑) |
| ج (8 ← , 4 ↑) | ز (4 ← , 5 ↑) |
| د (2 ← , 4 ↑) | |

(2) الصورة ض

- | | |
|---------------|----------------|
| أ (5 → , 4 ↑) | هـ (3 → , 6 ↑) |
| ب (2 → , 4 ↑) | و (3 → , 10 ↑) |
| ج (1 → , 6 ↑) | ز (5 → , 7 ↑) |
| د (7 → , 6 ↑) | |

عرض الإصطبل بالضم على التصميم :

$$8 = \frac{250 \times 550}{100}$$

عرض الممر بالضم على التصميم :

$$2,5 = \frac{250}{100}$$

عرض المكان المخصص لحصان واحد بالضم على التصميم :

$$2 = \frac{20}{10}$$

ب - طول الإصطبل بالتر هو $20 = 10 \times 2$

عرض الإصطبل بالتر هو $8 = 2 \times 5 + 5 \times 5$

قيس مساحة الإصطبل بالتر المربع :

$$160 = 8 \times 20$$

ج - 36 000 دسم³ هي 36 م³ ، إذا تحتاج 10 خيول الى 360 م³ من

الهواء قيس ارتفاع الإصطبل بالتر :

$$2,25 = \frac{360}{160}$$

د - تكاليف التبليط بالأسمنت بحساب الدينار :

$$249600 = 160 \times 1560$$

303 - الحل

- | | |
|------------|---------------|
| ك (8 , 12) | أ - (1 , 4) |
| ح (9 , 9) | ب - (3 , 2) |
| ط (10 , 9) | ج - (3 , 9) |
| ي (9 , 6) | د - (3 , 17) |
| ل (8 , 6) | هـ - (1 , 15) |
| م (7 , 9) | و - (5 , 9) |
| | ز - (6 , 12) |

www.najahni.tn

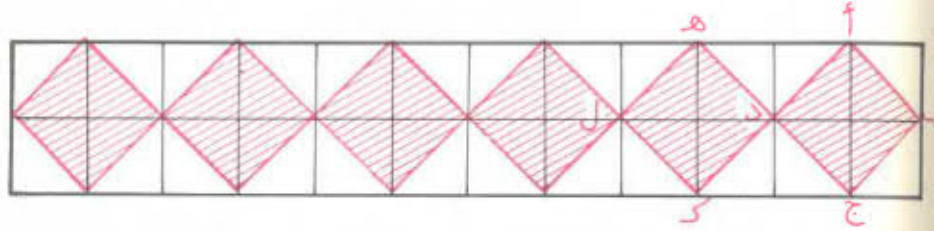
هـ (↑ 5 ، ← 4)
 و (↑ 2 ، ← 4)
 ز (↑ 3 ، ← 6)

أ (↑ 2 ، ← 8) (2)
 ب (↑ 1 ، ← 6)
 ج (↑ 1 ، ← 3)
 د (↑ 2 ، ← 2)

هـ (↓ 2 ، → 6)
 و (↓ 5 ، → 6)
 ز (↓ 4 ، → 8)

أ (↓ 5 ، → 10) (3)
 ب (↓ 6 ، → 8)
 ج (↓ 6 ، → 5)
 د (↓ 5 ، → 4)

الحل - 306



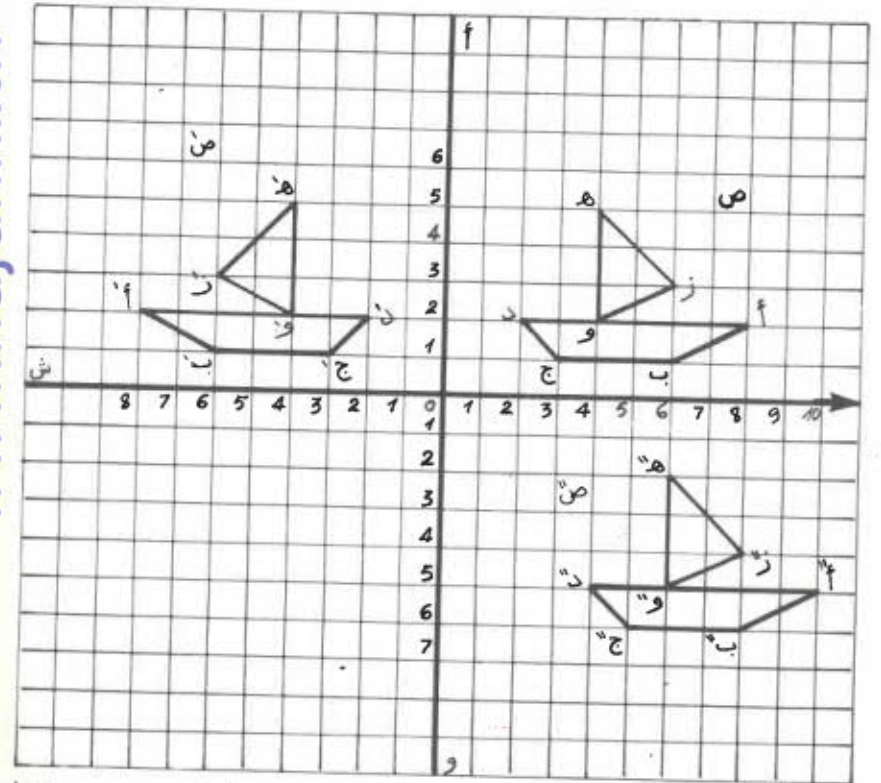
الصورة ص (3)

هـ (↓ 4 ، ← 2)
 و (0 ، ← 2)
 ز (↓ 3 ، ← 0)

أ (↓ 6 ، ← 0)
 ب (↓ 6 ، ← 3)
 ج (↓ 4 ، ← 4)
 د (↓ 4 ، ← 2)

(4) يوجد انسحاب يحول الصورة ص الى الصورة ص' بزيادة 4 → الى فاصلات نقط (ص) و زيادة (8) الى ترتيب نقط (ص')

الحل - 305



www.najahni.tn

هـ (↑ 5 ، → 4)
 و (↑ 2 ، → 4)
 ز (↑ 3 ، → 6)

أ (↑ 2 ، → 8) (1)
 ب (↑ 1 ، → 6)
 ج (↑ 1 ، → 3)
 د (↑ 2 ، → 2)

نظام القيس
الحلول

www.najahni.tn

307 - الحل

المسافة تونس - صفاقس بالكم :

$$269 = 115 + 154$$

308 - الحل

نختار المليمتر كوحدة للطول :

$$3ر5 \text{ دسم أي } 350 \text{ مم}$$

$$7ر2 \text{ دسم أي } 720 \text{ مم}$$

$$56ر8 \text{ م أي } 56800 \text{ مم}$$

3ر5 صم أي 35 مم ونتحصل على الترتيب التالي :

$$56800 \text{ مم} < 720 \text{ مم} < 450 \text{ مم} < 350 \text{ مم} < 35 \text{ مم أي}$$

$$56ر8 \text{ م} < 7ر2 \text{ دسم} < 450 \text{ مم} < 3ر5 \text{ دسم} < 3ر5 \text{ صم}$$

309 - الحل

المسافة التي يقطعها أحمد كل يوم بالذكم :

$$600 = 4 \times 150 \text{ أو بالكم } 6$$

المسافة التي يقطعها أحمد في الأسبوع بالكم :

$$36 = 6 \times 6$$

310 - الحل

أحول طول الخط إلى امتار :

$$4 \text{ كم و } 396 \text{ م أو } 4396 \text{ م}$$

عدد القطع اللازمة :

$$157 = \frac{4396}{28}$$

طول المسافة التي قطعها أبي بالمتري :

$$277,5 = 370 \times 0,75$$

طول المسافة التي قطعتها بالمتري :

$$129,5 = 370 \times 0,35$$

المسافة التي تفصلنا عن بعضنا :

$$148 = 129,5 - 277,5$$

أو

$$148 = 370 \times 0,40 = 370 \times (0,35 - 0,75)$$

312 - الحـل

عرض الورقة بالضم :

$$18 = 12 : 216$$

طول الورقة بالضم :

$$27 = 8 : 216$$

313 - الحـل

المسافة التي قطعها منير بين العلامة الهكثومترية رقم 3 وأول علامة

كيلومترية هي بالهم :

$$10 - 3 = 7 \text{ أو بالكم } 0,7$$

من العلامة الكيلومترية الأولى والعلامة الكيلومترية الرابعة يقطع

منير مسافة طولها بالكم :

$$4 - 1 = 3$$

من العلامة الكيلومترية الرابعة الى العلامة الهكثومترية الاولى الموالية

لها يقطع منير 1 هم أو 0,1 كم :

طول المسافة التي قطعها منير بالكم :

$$7,6 = 2 \times (0,1 + 3 + 0,7)$$

أ - المسافة التي قطعها العداء بالكم :

$$41 = 38 - 79$$

ب - عدد العلامات الكيلومترية هو عدد الكيلومترات + 1 أي 42

ج - توجد 9 علامات هكثومترية بكل كيلومتر وبما أن طول المسافة

هو 41 كم فيكون عدد العلامات الهكثومترية :

$$369 = 9 \times 41$$

315 - الحـل

عدد الشاحنات بكل مجموعة

$$15 : 3 = 5$$

طول المجموعة الواحدة بالمتري :

$$330 = (4 \times 75) + (5 \times 6)$$

طول القافلة بالمتري :

$$2390 = (2 \times 700) + (3 \times 330)$$

316 - الحـل

أ - طول محيط الساحة بالمتري :

$$40 = 320 \times 0,75$$

طول ضلع الساحة بالمتري :

$$240 : 4 = 60$$

ب - طول الضلع على التصميم بالضم :

$$12 = \frac{6000}{500} = \frac{1}{500} \times 6000$$

317 - الحـل

22 س - 21 س و 59 دق و 40 ث = 20 ث

318 - الحـل

رتبة شهر جوان 6

رتبة شهر سبتمبر 9

$$\begin{array}{r} 17 \\ 1972 \quad \cancel{18} \quad 45 \\ - \quad \cancel{1973} \quad \cancel{6} \quad \cancel{15} \\ \hline 1970 \quad 9 \quad 24 \\ \hline = \quad 2 \quad 8 \quad 21 \end{array}$$

فالفرق بين عمري التلميذين هو سنتان و 8 أشهر و 21 يوما .

319 - الحـل

3 دق و 20 ث هي 200 ث

تفرغ المضخة في الثانية كنيّة من الماء قدرها باللتر

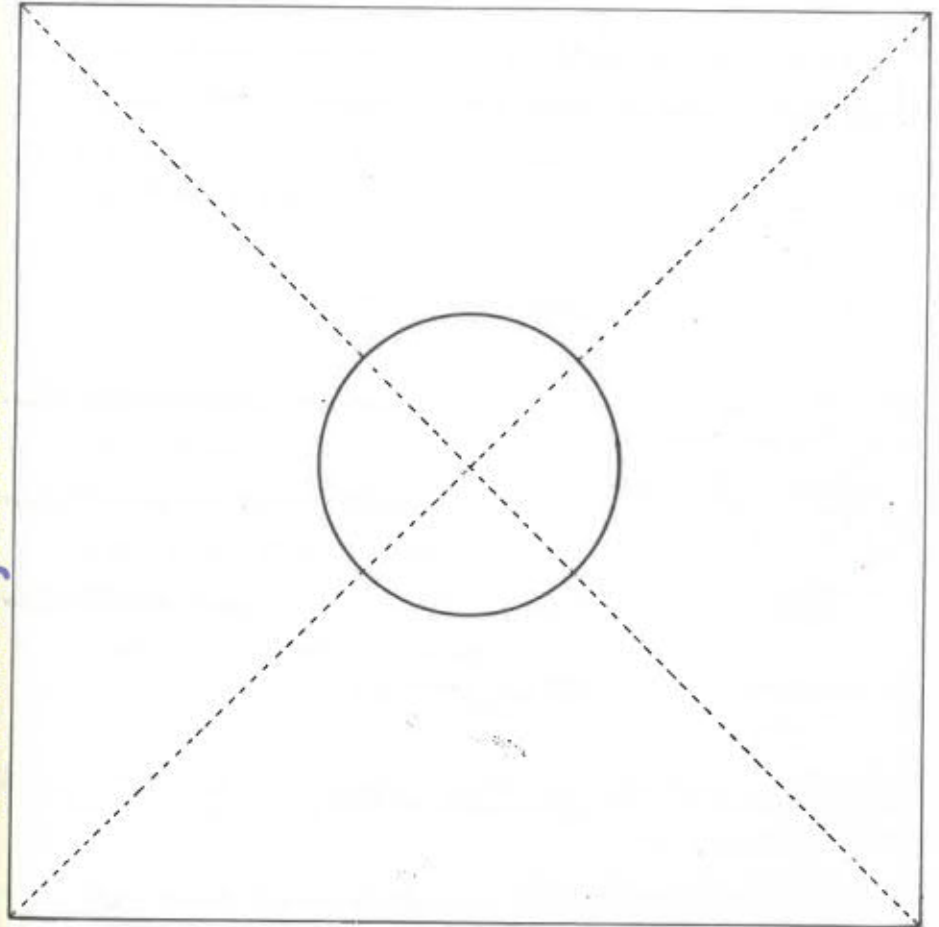
$$6 = \frac{1200}{200}$$

1752 م³ أو 1752 دسم³ أو 1752 ل
الوقت اللازم لافراغ الحوض الثاني

$$292 = \frac{1752}{6} \text{ أي } 4 \text{ دق و } 52 \text{ ث}$$

طول القطر على التصميم بالضم :

$$4 = \frac{2000}{500} = \frac{1}{500} \times 2000$$



ج - قيس مساحة الساحة بالمترب المربع :

$$3600 = 60 \times 60$$

قيس مساحة الحوض بالمترب المربع :

$$314 = 314 \times 10 \times 10$$

قيس المساحة المتبقية بالمترب المربع

$$3286 = 3600 - 314$$

ثمن تبليط المترب المربع بالدينار :

$$3286 : 12204 = 3714$$

عدد أيام العمل :

$$9 = 2 - (3 - 14)$$

أو

$$9 = 2 - (4 - 15)$$

دخل العامل بالدينار :

$$15750 = 9 \times 1750$$

المدة المتراوحة بين 8 مارس و 15 ماي بحساب اليوم :

24 يوما من شهر مارس

30 يوما من شهر أفريل

15 يوما من شهر ماي

أي في الجملة 69 يوما

عدد أيام الراحة هو 17 وهي موزعة كما يلي :

أيام الأحد : 9 مارس ، 16 مارس ، 23 مارس ، 20 أفريل ، 27 أفريل .

4 ماي ، 11 ماي (أي 7 أيام في الجملة) .

أيام العطل : الخميس 20 مارس ، الخميس 1 ماي ومن 6 أفريل إلى 13

أفريل بدخول الغاية (أي 10 أيام في الجملة)

عدد أيام الدراسة :

$$52 = 17 - 69$$

طول المسافة التي قطعها سميير بالكم :

$$156 = 4 \times 52 \times 0750$$

أ - كمية الهواء التي أتنفّسها في ساعة باللتر :

$$5832 = 60 \times (18 \times 054)$$

كمية الهواء التي أتنفّسها في اليوم باللتر :

$$139968 = 24 \times 5832$$

ب - كمية الهواء التي تدخل رئتي في الدقيقة باللتر :

$$162 = \frac{972}{60}$$

عدد المرات التي أتنفّس فيها في الدقيقة :

$$30 = \frac{162}{054}$$

دخل العامل في الأسبوع بالدينار :

$$15600 = 6 \times 2600$$

مصاريف العامل في الأسبوع بالدينار :

$$12700 = 4650 + (7 \times 1150)$$

مقدار ما يدخره العامل في الأسبوع بالدينار :

$$2900 = 12700 - 15600$$

عدد الأسابيع :

$$15 = 2900 : 43500$$

1980 هي سنة كبيسة لذا فإن شهر فيفري يعد 29 يوما . يوم 24

فيفري هو يوم أحد فأيام الأحد الموالية ستكون كالاتي :

24 فيفري و 2 و 9 و 16 و 23 و 30 مارس (6)

6 و 13 و 20 و 27 أفريل (4)

الفلاحون	ما يملكه كل فلاح من الزيت في بداية السنة	كمية الزيت المستهلكة بعد مضي 100 يوم	معدل الاستهلاك اليومي	كمية الزيت الباقية بعد 100 يوم	كمية الزيت التي يجب شراؤها لاتمام السنة	كمية الزيت الباقية للسنة القادمة
صالح	15 دكل	5 دكل	5 دسل	10 دكل	3ر25 دكل	0
هشام	25 دكل و 5 ل	6 دكل	6 دسل	195 ل	0	0
صابر	17ر2 هل	8 دكل	8 دسل	127 ل	0	1 دكل

327 - الحـل

تستهلك عائلتنا في الاسبوع وبالذسل :

$$7 \times 3 = 21 \text{ أو } 2ر1 \text{ ل}$$

تستهلك عائلتنا في السنة بالذسل :

$$365 \times 3 = 1095 \text{ أو } 1ر095 \text{ هل}$$

328 - الحـل

وزن الزيت بالكغ :

$$129ر3 - 19ر5 = 109ر8$$

قيس سعة الذن بحساب الذيكالتر :

$$109ر8 : 9ر15 = 12 \text{ أو } 120 \text{ ل}$$

329 - الحـل

كمية الزيت الاولى بحساب الهل :

$$1 \text{ دكل هي } 0ر1 \text{ هل}$$

$$5 \text{ ل هي } 0ر05 \text{ هل}$$

$$2ر15 = 0ر05 + 0ر1 + 2$$

ثمن الكمية الاولى بالدينار :

$$101ر050 = 2ر15 \times 47$$

- (4) 4 و 11 و 18 و 25 ماي
 (5) 1 و 8 و 15 و 22 و 29 جوان
 (4) 6 و 13 و 20 و 27 جويلية
 (5) 3 و 10 و 17 و 24 و 31 أوت
 (2) 7 و 14 سبتمبر

فيكون مجموع أيام الأحد : 30

أما مجموع أيام العطل الرسمية فهو : 8

وبذلك يكون عدد الأيام التي لم يعمل فيها الموظف : $38 = 8 + 30$

عدد الأيام من 23 فيفري الى 18 سبتمبر بدخول الغاية

فيفري : 7

مارس : 31

أفريل : 30

ماي : 31

جوان : 30

جويلية : 31

أوت : 31

سبتمبر : 18 أي 209 يوما في الجملة

فيكون عدد الأيام التي عمل فيها الموظف :

$$171 = 38 - 209$$

325 - الحـل

الأيام	كمية العطر بالتر	عدد القوارير ذوات 25 ل	عدد القوارير ذوات 5 دسل	عدد القوارير ذوات 0ر75 ل
80 - 2 - 20	180	52	121	142
80 - 2 - 21	47ر5	120	405	320
80 - 2 - 23	1062	192	600	952
80 - 2 - 24	515	400	350	320

www.najahni.tn

أ - سعة 1000 قارورة من فئة 25 صل بحساب اللتر :

$$250 = 1000 \times 0,25$$

سعة 500 قارورة من فئة 5 دسل بحساب اللتر :

$$250 = 500 \times 0,5$$

سعة 333 قارورة من فئة 7ر5 دسل بحساب اللتر :

$$249,75 = 333 \times 0,75$$

$$250 = 0,25 + 249,75$$

إذا نرى أن مدير المعمل قد أصاب في تفكيره

ب - كمية العطر بالهكتولتر

250 ل أو 2ر50 هل

الحـ - 333

11ر25 دكل من الزيت توافق $\frac{5}{8}$ سعة الدن

سعة الدن بالدكل :

$$180 = \frac{8 \times 11,25}{5} = \frac{8}{5} \times 11,25$$

وزن الزيت بالكيلو غرام :

$$165,6 = 180 \times 0,92$$

ثمن الزيت بالدينار :

$$74,520 = 165,6 \times 0,450$$

الحـ - 334

أ - عدد القوارير :

$$189 : 0,9 = 210$$

ب - وزن الزيت بالكغ :

$$172,935 = 9,15 \times 18,9$$

ج - ثمن الزيت بالدينار :

$$69,174 = 172,935 \times 0,400$$

كمية الزيت الثانية بحساب اللتر :

1 هل أي 100 ل

$$175 = 75 + 100$$

ثمن الكمية الثانية بالدينار :

$$84 = 175 \times 0,480$$

المبلغ الجملي الذي دفعه التاجر بالدينار :

$$185,050 = 84 + 101,050$$

الحـ - 330

كمية البنزين التي أخذناها في المرة الأولى من الخزان باللتر :

$$2399 = 19 + 80 + 2300$$

كمية البنزين المتبقية بالخزان اثر عملية الافراغ الأولى باللتر :

$$3101 = 2399 - 5500$$

كمية البنزين المتبقية بالخزان في اخر الامر باللتر

$$1329 = \frac{3 \times 3101}{7}$$

ثمن البنزين المتبقي بالدينار :

$$272,445 = 1329 \times 0,205$$

الحـ - 331

وزن المحصول بالقنطار :

$$4800 : 9,650 = 48 \text{ أو بالكغ } 4800$$

عدد الهكتولترات من القمح

$$64 = 75 : 4800$$

ثمن بيع القمح في فصل الشتاء بالدينار :

$$480 = 64 \times 7,500$$

وبما أن $480 < 463,200$ فإن الفلاح يوفر لنفسه بعد بيع قمحه في

الشتاء بما قدره بالدينار :

$$16,800 = 463,200 - 480$$

أ - قيس مساحة الصفحة الواحدة بالصم² :

$$42 \times 28 = 1176 \text{ أو بالمتري المربع } 0,1176$$

قيس مساحة الورق اللازم في اليوم بالمتري المربع وبالنسبة لصحيفة واحدة

$$16 \times 0,1176 = 1,8816$$

قيس مساحة الورق اللازم في اليوم بالمتري المربع :

$$1,8816 \times 25000 = 47040$$

يكون وزن الورق اللازم في اليوم بالكغ :

$$0,025 \times 47040 = 1176 \text{ أو بالطن } 1,176$$

ب - عدد الأسابيع بالسنة هو 52

عدد الأيام التي تسحب فيها الجريدة :

$$6 \times 52 = 312$$

وزن الورق اللازم في السنة بالطن :

$$1,176 \times 312 = 366,912$$

336 - الحـل

كمية النفط التي أفرغناها من البرميلين بحساب اللتر :


$$30 + 12 = 42$$

كمية النفط الباقية بالبرميلين معا بعد الإفراغ بحساب اللتر :

$$364 - 42 = 322$$

كمية النفط المتبقية بالبرميل الأول

كمية النفط المتبقية بالبرميل الثاني



كمية النفط المتبقية بالبرميل الأول باللتر :

$$\frac{5 \times 322}{7} = 230$$

كمية النفط المتبقية بالبرميل الثاني باللتر :

$$322 - 230 = 92 \text{ أو } \frac{2 \times 322}{7} \text{ أو } \frac{2 \times 230}{5} \text{ أي } 92$$

سعة البرميل الأول باللتر :

$$230 + 30 = 260$$

سعة البرميل الثاني باللتر :

$$92 + 12 = 104$$

337 - الحـل

أ - وزن الماء الموجود بالذن بالكغ :

$$4 \text{ ر } 21 - 91 \text{ ر } 4 = 70$$

كمية الماء الموجودة بالذن بحساب اللتر :

$$70 : 1 = 70$$

سعة الذن باللتر :

$$\frac{3 \times 70}{2} = 105 \text{ أو بالهكتولتر } 1,05 \text{ ر } 5$$

ب - وزن الكحول بالكغ :

$$100 \text{ ر } 86 = 82 \times 1,05$$

وزن الذن المملوء كحولا بالكغ :

$$100 \text{ ر } 86 + 21 \text{ ر } 400 = 107,500$$

338 - الحـل

أ - 452 دكل أو 452 ل

132 هل أو 132 ل

كمية البنزين المتبقية بالبرميلين معا باللتر :

$$452 - (132 + 24) = 296$$

كمية البنزين المتبقية بكل برميل باللتر :

$$296 : 2 = 148$$

لماء 3 قوارير من الأنواع الثلاثة يحتاج التاجر لكمية من الزيت قدرها بالصل :

$$255 = 95 + 85 + 75$$

عدد القوارير المملأ :

$$360 = 3 \times \frac{30600}{255}$$

341 - الحـل

وزن قطعة الزبدة بالكغ :

$$1ر35 = 0ر05 + 0ر3 + 1$$

ثمن الكيلو غرام من الزبدة بحساب المليم :

$$980 = 4 \times 245$$

ثمن قطعة الزبدة بالمليم :

$$1ر323 = 980 \times 1ر35 \text{ أو بالدينار : } 1ر323$$

المبلغ الذي يرجعه الي العطار بالدينار :

$$3ر677 = 1ر323 - 5$$

342 - الحـل

وزن العسل بالكغ :

$$217ر5 = 15 \times 14ر5$$

ثمن البيع بالدينار :

$$424ر125 = 217ر5 \times 1ر950$$

مقدار المصاريف بالدينار :

$$141ر375 = \frac{424ر125}{3} = \frac{1}{3} \times 424ر125$$

مقدار الربح بالدينار :

$$282ر750 = 141ر375 - 424ر125$$

يمكن الحصول على هذه النتيجة بالعملية التالية :

$$282ر750 = \frac{2 \times 424ر125}{3} = \frac{2}{3} \times 424ر125$$

سعة الذن الأول باللتر :

$$172 = 24 + 148$$

سعة الذن الثاني باللتر :

$$280 = 132 + 148$$

ب - أيسر طريقة يمكن توخيها للبحث عن الفرق بين سعري

البرميلين هي التالية

الفرق بين السعتين باللتر هو :

$$108 = 24 - 132$$

الفرق بين التعرين بالدينار :

$$22ر140 = 108 \times 0ر205$$

339 - الحـل

أ - 182ر4 كغ أو 182 400 غ

كمية الزيت المستخرجة من طن واحد من الزيتون باللتر :

$$200 = \frac{182\ 400}{912}$$

ب - كمية الزيتون اللازمة للحصول على 1800 ل من الزيت بالطن :

$$9\ 000 = \frac{1\ 800}{200} \text{ أو بالكغ } 9\ 000$$

عدد الهكتولترات من الزيت :

$$200 = \frac{9\ 000}{45}$$

340 - الحـل

30 دسل أو 3 ل

كمية الزيت التي سيقع إفراغها في القوارير باللتر هي :

$$306 = (2 \times 3) - (2 \times 156) \text{ أو } 30\ 600 \text{ صل}$$

وزن العسل بالكغ

$$16ر500 = 1ر450 - 17ر950$$

ثمن شراء العسل بالدينار :

$$30ر525 = 16ر500 \times 1ر850$$

عدد الأوعية

$$22 = 0ر750 : 16ر500$$

ثمن بيع الأوعية بالدينار :

$$33ر440 = 22 \times 1ر520$$

بما أن ثمن البيع (33ر440 د) أكبر من ثمن الشراء (30ر525 د)

فإن التاجر قد ربح المقدار المالي التالي :

$$2ر915 = 30ر525 - 33ر440$$

الحـل - 344

عدد قطع الصابون التي قمت بوزنها في المرتين :

$$9 = 4 + 5$$

عدد علب المصبرات التي قمت بوزنها في المرتين :

$$9 = 4 + 5$$

وزن 9 قطع صابون و 9 علب مصبرات بالكغ :

$$7ر650 = 3ر750 + 3ر900$$

الفرق بين وزني قطعة الصابون وعلبة المصبرات بحساب الكغ :

$$0ر150 = 3ر750 - 3ر900$$

الفرق بين وزن 9 قطع صابون و 9 علب مصبرات بحساب الكغ :

$$1ر350 = 9 \times 0ر150$$

وزن 9 علب مصبرات بالكغ :

$$3ر150 = \frac{1ر350 - 7ر650}{2}$$

2

وزن العلبة الواحدة بالكغ :

$$0ر350 = \frac{3ر150}{9}$$

وزن قطعة الصابون بالكغ

$$0ر500 = \frac{3ر150 - 7ر650}{9}$$

الحـل - 345

ألاحظ أنني وزنت في المرتين معا 7 قطع كبيرة و 7 قطع صغيرة وكان

الوزن الجملي لكل القطع بالغرام :

$$3850 = 1800 + 2050$$

لذلك فإن وزن قطعتين احدهما كبيرة والأخرى صغيرة هو بالغرام :

$$550 = 7 : 3850$$

لورجعت الى عملية الوزن الأولى لرأيت أنني وزنت :

(3 قطع كبيرة و 3 قطع صغيرة) وقطعة كبيرة أخرى ومعنى هذا أن

وزن القطعة الكبيرة بالغرام هو :

$$400 = 1650 - 2050 = (3 \times 550) - 2050$$

أما وزن القطعة الصغيرة بالغرام فهو :

$$150 = 400 - 550$$

الحـل - 346

أ - إن الفرق بين 24ر4 كغ و 19 كغ يمثل وزن $\frac{1}{4}$ كمية الزيت

الموجودة بالذن وهذا الوزن هو بالكغ :

$$5ر4 = 19 - 24ر4$$

وزن الزيت عندما يكون الوعاء مملوءا بحساب الكغ :

$$21ر6 = 4 \times 5ر4$$

ب - في صورة عدم اعتدال الميزان يأخذ سوارين من الأسمرة الثلاثة الموجودة بالكفة النازلة الى أسفل ويضع كل سوار في كفة ، فإن اعتدل الميزان فالسوار المتبقي هو الأثقل وإن لم يعتدل الميزان فالسوار الأثقل هو الموجود بالكفة النازلة الى أسفل .

349 - الحل

وزن الزيت بالكغ :

$$172900 = 229500 - 195400$$

ثمن بيع الزيت بالدينار حسب الحل الأول :

$$79534 = 172900 \times 0.460$$

كمية الزيت باللتر :

$$172900 : 910 = 190$$

ثمن بيع الزيت بالدينار حسب الحل الثاني :

$$96900 = 190 \times 0.510$$

بما أن $96900 < 79534$ فإن الحل الثاني هو الأنسب للفلاح لأنه يوفر له ربحاً قدره بالدينار :

$$17366 = 79534 - 96900$$

350 - الحل

ثمن شراء اللوبيا من التاجر بالمليم :

$$7710 = 1.5 \times 514$$

ثمن شراء اللوبيا من الفلاح بالمليم :

$$7260 = 15 \times \frac{36300}{75}$$

تشتري الأم اللوبيا من الفلاح وتوفر ربحاً مقداره بالمليم :

$$450 = 7260 - 7710$$

وزن الوعاء فارغاً بالكغ :

$$24r4 = 21r6 - 2r8$$

ب - سعة الوعاء باللتر :

$$24 = 0r9 : 21r6$$

347 - الحل

وزن الأكياس بالكغ :

$$2815 = (27 \times 45) + (32 \times 50)$$

وزن البطاطا التي ستوضع في الصناديق بالكغ :

$$672 = 2815 - 3487$$

عدد الصناديق :

$$28 = 24 : 672$$

348 - الحل

المرحلة الأولى :

يضع الصانع 3 أسمرة في إحدى كفتي الميزان و 3 أخرى في الكفة الثانية . فيتحصل على إحدى الوضعيتين :



أ - اعتدال الميزان



ب - عدم اعتدال الميزان

المرحلة الثانية :

أ - في صورة اعتدال الميزان يأخذ الصانع سوارين من الأسمرة الثلاثة الباقية ثم يضع أحدهما في الكفة الأولى والآخر في الكفة الثانية فإن اعتدل الميزان فالسوار المتبقي هو الأثقل وإن لم يعتدل الميزان فالسوار الأثقل هو المتوار الموجود في الكفة النازلة الى أسفل .

ب - وزن الماء بالكارورة بحساب الغرام :

$$960 = 0,96 \times 1\ 000$$

وزن القارورة فارغة بالغرام :

$$750 = 960 - 1710$$

ج - وزن الزيت بالغرام :

$$883,2 = 0,96 \times 920$$

وزن القارورة مملأ بالغرام :

$$1633,2 = 750 + 883,2$$

الحل - 354

أ - المسافة الفاصلة بين بداية شاحنة وبداية الشاحنة التي تليها مباشرة

بحساب المتر :

$$11,5 = 5 + 6,5$$

العدد الجملي للشاحنات :

$$12 = \frac{138}{11,5}$$

ب - وزن 12 شاحنة بالطن

$$174 = 12 \times 14,5$$

لا يمكن حينئذ لكل تلك الشاحنات أن تمر في نفس الوقت على هذا

الجسر لأن وزنها الجملي تجاوز الحمولة القصوى

للجسر ($174 < 150$)

الحل - 355

الطول الحقيقي لقاعدة المثلث بالمتر :

$$0,15 : 1 = \frac{1}{2500} = 0,15 \times 2500 = 375 \text{ أو بالهكتومتر } 3,75$$

الطول الحقيقي لارتفاع المثلث بالمتر :

$$0,08 : 2 = \frac{1}{2500} = 0,08 \times 2500 = 200 \text{ أو بالهكتومتر } 2$$

351 - الحل

وزن الشاحنة محملة في المرات الثلاث وبحساب الكغ :

$$8\ 850 = 2\ 940 + 2\ 985 + 2\ 925$$

وزن الشاحنة فارغة في المرات الثلاث وبحساب الكغ :

$$4\ 050 = 4\ 800 - 8\ 850$$

وزن الشاحنة فارغة بالكغ :

$$1\ 350 = 3 : 4\ 050$$

الحل - 352

أحوال 100 م³ إلى اللتر :

100 م³ هي 100 × 1000 ل أي 100 000 ل

وزن 100 م³ من ماء البحر بالكغ :

$$112\ 600 = 100\ 000 \times 1,126$$

وزن الملح بالكغ :

$$2815 = \frac{2,5 \times 112\ 600}{100}$$

الحل - 353

الفرق بين وزن 1 ل من الماء و 1 ل من الكحول بالغرام :

$$185 = 815 - 1\ 000$$

الفرق بين وزن القارورة مملأ ماء ووزنها مملأ كحولا بالغرام :

$$177,6 = 1532,4 - 1710$$

سعة القارورة باللتر :

$$0,96 = \frac{177,6}{185}$$

الوزن الجملي للصوف الوسخ بالكغ :

$$113ر75 = 35 \times 3ر250$$

ثمن بيع الصوف الوسخ بالدينار :

$$106ر925 = 113ر75 \times 0ر940$$

الوزن الناقص من جزاء الغسل بالكغ :

$$45ر500 = \frac{40 \times 113ر75}{100}$$

الوزن الصافي للصوف النظيف بالكغ :

$$113ر75 - 45ر500 \text{ أو } \frac{60 \times 113ر75}{100} \text{ أي } 68ر25$$

ثمن الصوف النظيف بالدينار :

$$141ر960 = 2ر080 \times 68ر25$$

المبلغ الباقي للمربي بالدينار :

$$134ر760 = 7ر200 - 141ر960$$

بما أن $134ر760 < 106ر925$ فقد وفق المربي في اختياره عملية

الغسل ووفر لنفسه ربحا قدره بالدينار :

$$27ر835 = 106ر925 - 134ر760$$

أ - وزن العلف الممكن نقله باستخدام الوسائل الثلاث في آن واحد

بحساب الكغ :

$$4900 = 850 + 1350 + 2700$$

عدد السفرات :

$$4 = \frac{20300}{4900}$$

قيس مساحة الضيعة بالهكتار :

$$3ر75 = \frac{2 \times 3ر75}{2}$$

منتوج الهكتار الواحد بالقنطار :

$$23 = 3ر75 : 86ر25$$

الحمولة القصوى لشاحنة بحساب الكغ :

$$30ر2 = 5000 - 1980 \text{ أو بالقنطار } 30ر2$$

عدد الأكياس التي يمكن أن تحملها الشاحنة عند عبور الجسر :

$$30ر2 : 30ر2 = \frac{1}{2} = 2 \times 30ر2 = 60ر4 \text{ أي } 60 \text{ كيب}$$

وزن القمح المعد لبيع بالقنطار :

$$170 = 40 - 210$$

ثمن البيع بالدينار في شهر سبتمبر :

$$1615 = 170 \times 9ر500$$

من سبتمبر الى أفريل ينقص وزن القمح بما قدره بالقنطار :

$$1ر7 = \frac{1 \times 170}{100}$$

ويبقى من القمح بما قدره بالقنطار :

$$168ر3 = 170 - 1ر7 \text{ أو } 168ر3 = \frac{99 \times 170}{100}$$

ثمن البيع بالدينار في شهر أفريل

$$1649ر340 = 168ر3 \times 9ر800$$

نلاحظ أن $1649ر340 < 1615$ لذا فإن الحر الثاني أنسب لنفلاح

لأنه يوفر له ربحا قدره بالدينار :

$$34ر340 = 1615 - 1649ر340$$

361 - الحـ

دام النهار :

$$19 \text{ س و } 29 \text{ دق} - 5 \text{ س و } 7 \text{ دق} = 14 \text{ س و } 22 \text{ دق}$$

دام الليل :

$$24 \text{ س} - 14 \text{ س و } 22 \text{ دق} = 9 \text{ س و } 38 \text{ دق}$$

362 - الحـ

المدة التي توقف فيها القطار :

$$(5 \text{ دق و } 10 \text{ ث}) \times 5 = 25 \text{ دق و } 50 \text{ ث}$$

الزمن الذي قضاه القطار في السير :

$$10 \text{ س و } 15 \text{ دق} - (6 \text{ س و } 20 \text{ دق} + 25 \text{ دق و } 50 \text{ ث}) =$$

$$3 \text{ س و } 29 \text{ دق و } 10 \text{ ث}$$

363 - الحـ

مدة الراحة :

$$(13 \text{ س و } 45 \text{ دق} - 11 \text{ س و } 55 \text{ دق}) + 10 \text{ دق} = 2 \text{ س}$$

مدة العمل :

$$18 \text{ س} - (7 \text{ س و } 15 \text{ دق} + 2 \text{ س}) = 8 \text{ س و } 45 \text{ دق}$$

364 - الحـ

ساعة النهوض من النوم

$$7 \text{ س و } 58 \text{ دق} - (45 \text{ دق} + 24 \text{ دق}) = 6 \text{ س و } 49 \text{ دق}$$

365 - الحـ

قيس المدة المتراوحة بين منتصف النهار من يوم الجمعة والساعة السادسة مساء من يوم الإثنين الموالي وبحساب الساعات :

ب - كميّة العلف المنقولة بالكغ :

$$19600 = 4 \times 4900$$

كميّة العلف الباقية بالكغ :

$$700 = 19600 - 20300$$

يجب استعمال العربة لنقل الكميّة الباقية أي 700 كغ

ج - وزن العربة مشحونة علفا في السفرة الأخيرة بحساب الكغ :

$$1350 = 700 + 650$$

360 - الحـ

أ - وزن الشاحنة محملة بحمولة قصوى في السفرات الثلاث الأولى

بحساب القنطار :

$$123 = 3 \times 41$$

وزن الشاحنة محملة بطاطا في السفرات الأربع بالكغ :

$$16050 = 3750 + 12300$$

وزن الشاحنة فارغة بالكغ :

$$1850 = \frac{8650 - 16050}{4}$$

ب - وزن أكياس البطاطا التي تحملها الشاحنة في السفرة الأخيرة

بحساب الكغ :

$$1900 = 1850 - 3750$$

الفرق بين وزن الأكياس في السفرة الأخيرة وفي كلّ من السفرات

الثلاث الأولى بحساب الكغ :

$$350 = (1900 + 1850) - 4100$$

وزن الكيس الواحد بالكغ :

$$350 : 7 = 50$$

ج - عدد الأكياس المشحونة في كلّ سفرة من السفرات الثلاث الأولى :

$$45 = \frac{1850 - 4100}{50}$$

الجمعة : 12

السبت : 24

الأحد : 24

الاثنين : 18

78

تقدم الساعة في 78 س

$$22 \text{ دق و } 6 \text{ ث} = \frac{(1 \text{ دق و } 42 \text{ ث}) \times 78}{6}$$

تشير الساعة الى السادسة و 22 دق و 6 ث

366 - الحـ

تؤخر الساعة اليدوية في الساعة بحساب الثواني :

$$24 = \frac{60 \times 2}{5}$$

تأخر الساعة الحاصل في المدة المتراوحة بين الساعة الثانية و 5 دق بعد الزوال من يوم الأحد والساعة الواحدة و 35 دق بعد الزوال من نفس ذلك اليوم هو :

$$14 \text{ س و } 5 \text{ دق} - 13 \text{ س و } 35 \text{ دق} = 30 \text{ دق أو } 1800 \text{ ث}$$

عدد الساعات التي أخرجتها الساعة :

$$75 \text{ أو } 3 \text{ أيام و } 3 \text{ ساعات} = \frac{1800}{24}$$

الوقت الذي وقع فيه تعديل الساعة :

$$14 \text{ س و } 5 \text{ دق} - 3 \text{ س} = 11 \text{ س و } 5 \text{ دق}$$

الساعة يوم الخميس في الساعة الحادية عشر صباحا و 5 دق

367 - الحـ

أ - تقدم الساعة المنبهة بحساب الثواني في الساعة الواحدة :

$$15 = 24 : (60 \times 6)$$

ب - عدد الساعات المحصورة بين التاسعة صباحا من يوم الإثنين

والخامسة مساء من يوم الأربعاء الموالي :

$$15 = 24 - 9$$

$$24 \text{ : الثلاثاء}$$

$$17 \text{ : الأربعاء}$$

56

تقدم الساعة المنبهة بحساب الثواني في 56 ساعة

$$840 = 56 \times 15 \text{ أو } 14 \text{ دق}$$

تشير الساعة المنبهة الى الخامسة و 14 دق

368 - الحـ

أ - يعلن الحكم عن استئناف الشوط الثاني على الساعة :

$$15 \text{ س و } 45 \text{ دق} + 45 \text{ دق} + 10 \text{ دق} = 16 \text{ س و } 40 \text{ دق}$$

أي الساعة الرابعة مساء و 40 دق

ب - يعلن الحكم عن انتهاء المقابلة على الساعة :

$$16 \text{ س و } 40 \text{ دق} + 45 \text{ دق} = 17 \text{ س و } 25 \text{ دق}$$

أي الساعة الخامسة مساء و 25 دق

ج - يعلن الحكم عن انتهاء المقابلة بعد الحصتين الإضافيتين على

الساعة :

$$17 \text{ س و } 25 \text{ دق} + 5 \text{ دق} + (2 \times 15 \text{ دق}) + 5 \text{ دق} = 18 \text{ س و } 5 \text{ دق}$$

أي الساعة السادسة مساء و 5 دق

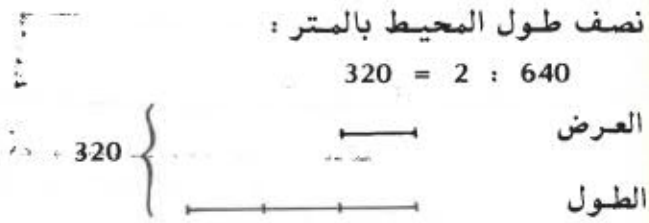
369 - الحـ

طول الطريق بالذكم :

$$25 \text{ رهم أو } 25 \text{ دكم}$$

$$\frac{2}{5} \text{ عرض الطريق بالذكم هو}$$

371 - الحـل



عرض المزرعة بالـمتر :

$$80 = 4 : 320$$

طول المزرعة بالـمتر :

$$240 = 3 \times 80$$

قيس مساحة المزرعة بالـمتر المربع :

$$19200 = 80 \times 240 \text{ أو بالهكتار } 192$$

كثية القمح اللازمة للبذر بالهكتولتر :

$$384 = 2 \times 192$$

كثية القمح بالـكغ :

$$288 = 75 \times 384 \text{ أو بالقنطار } 288$$

ثمن القمح بالدينار :

$$30240 = 288 \times 10500$$

372 - الحـل

قيس مساحة الأرض بالهكتار :

$$14 = 080 \times 175$$

وزن اللفت السكري بالـكغ :

$$39200 = 14 \times 28000$$

وزن السكر بالـكغ :

$$3920 = 10 : 39200$$

قيس مساحة الطريق بالـار :

$$10 = \frac{2 \times 25}{5} = \frac{2}{5} \times 25$$

قيس مساحة الحقل بالـار :

2 ها هي 200 أ

70 صا هي 07 أ

$$2047 = 07 + 4 + 200$$

قيس المساحة المتبقية بالـار :

$$1947 = 10 - 2047$$

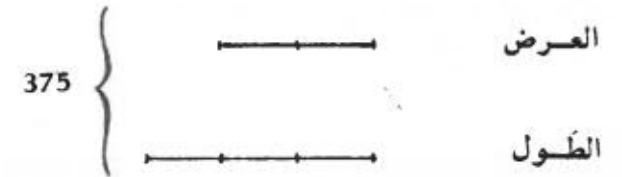
370 - الحـل

قيس محيط الضيعة بالـكم :

$$750 \text{ أو بالـمتر } 75 = \frac{10 \times 45}{60} = \frac{10}{60} \times 45$$

نصف قيس المحيط بالـمتر :

$$375 = 2 : 750$$



عرض الضيعة بالـمتر :

$$150 = \frac{2 \times 375}{5} \text{ أو بالهكتومتر } 15$$

طول الضيعة بالـمتر :

$$225 = \frac{3 \times 375}{5} \text{ أو بالهكتومتر } 225$$

قيس مساحة الضيعة بالهكتار :

$$3375 = 225 \times 15$$

ثمن الضيعة بالدينار :

$$10800 = 3375 \times 3200$$

373 - الحـل

انتاج قطعة الأرض من اللفت السكري بالطن :

$$382ر5 = \frac{100 \times 45ر9}{12}$$

قيس مساحة قطعة الأرض بالهكتار :

$$153\ 000 : 382ر5 = 25 \text{ أو } 15ر3 \text{ بالمتري المربع}$$

طول ارتفاع الضيعة بالمتري :

$$340 = 450 : 153\ 000$$

374 - الحـل

بعدا المستطيل حسب السلم بالضم :

$$14 = \frac{14000}{1000} = \frac{1}{1000} \times 14000$$

$$9 = \frac{9000}{1000} = \frac{1}{1000} \times 9000$$

عرض الطريق على التصميم بالضم :

$$4ر0 \text{ أو } 4 \text{ بالم } = \frac{400}{1000} = \frac{1}{1000} \times 400$$

ب - طول المستطيل الداخلي بالمتري :

$$140 - (2 \times 4) = 132$$

عرض المستطيل الداخلي بالمتري :

$$90 - (2 \times 4) = 82$$

قيس المساحة المتبقية بالمتري المربع :

$$10824 = 82 \times 132$$

ج - قيس مساحة الملعب والطريق بالمتري المربع :

$$140 \times 90 = 12600$$

قيس مساحة الطريق بالمتري المربع :

$$12600 - 10824 = 1776$$

قيس حجم الزمل المفروش بالمتري المكعب :

$$8ر0 = 0ر05 \times 1776$$

375 - الحـل

أ - قيس مساحة القطعة الأولى بالهكتار :

$$320ر220 \text{ أو } 918ر0 \text{ م}^2 = \frac{220ر320}{240}$$

ب - قيس مساحة كامل الحقل بالمتري المربع :

$$15\ 300 = \frac{5 \times 9180}{3}$$


ج - طول الحقل بالمتري :

$$180 = \frac{15\ 300}{85}$$

طول محيط الحقل بالمتري :

$$530 = 2 \times (85 + 180)$$

www.najahni.tn



377 - الحل

قيس مساحة المزرعة بالهكتار :

$$9145 = \frac{3r1 \times (2r7 + 3r2)}{2}$$

وزن السماد اللازم بالطن :

$$1829 = \frac{9145}{5} = 9145 \times \frac{1}{5}$$

عدد الأكياس اللازم شراؤها :

$$1829 : 50 = 37 \text{ وتبقي كمية من السماد غير مستعملة تقدر بالكغ :}$$
$$21 = 1829 - (50 \times 37)$$

378 - الحل

طول محيط العجلة بالمتر :

$$157 = 0r25 \times 3r14 \times 2$$

المسافة المقطوعة في الدقيقة بالكم :

$$0r7536 = 480 \times 0r00157$$

معدل سرعة الذراجة بالكم / س :

$$45r216 = 60 \times 0r7536$$

379 - الحل

مقدار تخفيض السرعة بالكم / س

$$27r5 = \frac{25 \times 110}{100}$$

معدل السرعة أثناء نزول المطر بالكم / س

$$82r5 = 27r5 - 110$$

د - قيس مساحة القطعة الثانية بحساب الكسور :

$$\frac{2}{5} = \frac{3}{5} - \frac{5}{5}$$

قيس مساحة القطعة الثانية بالمتر المربع :

$$6120 = \frac{2 \times 15300}{5} \text{ أو } 6120 = 9180 - 15300$$

هـ - طول السياج بالمتر :

$$340 = 4 \times 85$$

ثمن كلفة السياج بالدينار :

$$66r300 = 340 \times 0r195$$

376 - الحل

طول القاعدة الصغيرة بالمتر :

$$195 = \frac{3 \times 260}{4} = \frac{3}{4} \times 260$$

طول الارتفاع بالمتر :

$$156 = \frac{4 \times 195}{5} = \frac{4}{5} \times 195$$

قيس مساحة قطعة الأرض بالمتر المربع :

$$35490 = \frac{156 \times (195 + 260)}{2} \text{ أو بالهكتار } 3r549$$

كمية العلف الأخضر بالطن :

$$638r82 = 3549 \times 18 \text{ أو بالقنطار } 638r82$$

الكسر الذي يمثل العلف الجاف :

$$\frac{3}{7} = \frac{4}{7} - \frac{7}{7}$$

كمية العلف الجاف بالقنطار :

$$273r78 = \frac{3 \times 638r82}{7} = \frac{3}{7} \times 638r82$$

قيمة العلف الجاف بالدينار :

$$958r230 = 273r78 \times 3r500$$

أ - الزمن الذي قضته السيارة في السير :

13 س - (8 س و 40 دق + 50 دق) = 3 س و 30 دق أي 210 دق
معدل سرعة السيارة في الذهاب بالكم / س :

$$70 = \frac{60 \times 245}{210}$$

ب - مدة الإياب هي 3 س و 30 دق لأن السرعة لم تتغير ساعة الوصول هي :

18 س + 3 س و 30 دق = 21 س و 30 دق أي الساعة التاسعة ليلا و 30 دق

الحـ - 381

طول المسافة المقطوعة بالكم :

$$33 = 200000 \times 0,000165$$

قيس الزمن

12 س - (8 س و 35 دق + 40 دق) = 2 س و 45 دق أو 165 دق

معدل سرعة علي بالكم / س

$$12 = \frac{60 \times 33}{165}$$

الحـ - 382

أ - قيس الزمن :

10 س و 1 دق و 5 ث - 9 س و 59 دق و 53 ث = 1 دق و 12 ث

أو 72 ث

ب - معدل سرعة السيارة بالمتري في الثانية :

$$6,25 = \frac{450}{72}$$

ج - معدل سرعة السيارة بالكيلو متر في الساعة :

$$22,5 = 3600 \times \frac{6,25}{1000}$$

نلاحظ أن السائق قد احترم تحديد السرعة إذ أن سرعته أصغر من السرعة المحددة (22,5 > 30)

الحـ - 383

أ - طول المسافة المقطوعة بالكم :

$$360 = 80000 \times 0,0045$$

ب - المدة التي استغرقتها الرحلة :

18 س - 7 س و 15 دق = 10 س و 45 دق

قيس الزمن الذي تنقلت فيه الحافلة :

10 س و 45 دق - (45 دق + 10 دق + 30 دق + 1 س و 40 دق)

= 6 س و 40 دق أو 400 دق

معدل سرعة الحافلة :

$$54 \text{ كم / س} = \frac{60 \times 360}{400}$$

الحـ - 384

أ - المدة التي يقضيها الذراج لقطع المسافة الفاصلة بين المدينتين

12 س و 10 دق - (10 س و 30 دق + 15 دق) = 1 س و 25 دق أو 85 دق

معدل سرعة الذراج في الذهاب بالكم / س

$$24 = \frac{60 \times 34}{85}$$

ب - معدل سرعة الذراج في الإياب بالكم / س :

$$18 = \frac{3 \times 24}{4}$$

المدة التي قضّاها الذّراج عند الرّجوع بالثّواني :

$$= \frac{3\ 600 \times 34}{18} = 6\ 800 \text{ أو } 1 \text{ س و } 53 \text{ دق و } 20 \text{ ث}$$

ساعة الرّجوع الى المدينة أ :

$$12 \text{ س و } 10 \text{ دق} + 3 \text{ س و } 45 \text{ دق} + 1 \text{ س و } 53 \text{ دق و } 20 \text{ ث} = \\ 17 \text{ س و } 48 \text{ دق و } 20 \text{ ث أو الخامسة مساء و } 48 \text{ دق و } 20 \text{ ث}$$

385 - الحّل

أ - المسافة الحقيقيّة تونس - باريس بالكم :

$$1750 = 3\ 500\ 000 \times 0,00050$$

ب - مدة الرّحلة :

$$13 \text{ س} - 10 \text{ س و } 55 \text{ دق} = 2 \text{ س و } 5 \text{ دق أو } 125 \text{ دق} \\ \text{معدل سرعة الطّائرة بالكم} / \text{س} :$$

$$840 = \frac{60 \times 1750}{125}$$

ج - وزن الوقود المستهلك في الرّحلة بالكم :

$$2\ 625 = 125 \times 21$$

كميّة الوقود المستهلكة باللتر :

$$3\ 750 = \frac{2\ 625}{0,700}$$

386 - الحّل

أ - المدة التي قضتها السّيارة لقطع $\frac{3}{5}$ المسافة :

$$13 \text{ س و } 9 \text{ دق} - 11 \text{ س و } 45 \text{ دق} = 1 \text{ س و } 24 \text{ دق}$$

المدة التي تقضيها السّيارة لقطع كامل المسافة بين أ و ب

$$1 \text{ س و } 24 \text{ دق} = \frac{5 \times 2}{3} = 2 \text{ س و } 20 \text{ دق أو } 140 \text{ دق}$$

ب - ساعة الوصول الى المدينة ب :

$$11 \text{ س و } 45 \text{ دق} + 2 \text{ س و } 20 \text{ دق} = 14 \text{ س و } 5 \text{ دق}$$

تقطع السّيارة 37ر5 كم في مدة قيسها

$$14 \text{ س و } 5 \text{ دق} - 13 \text{ س و } 40 \text{ دق} = 25 \text{ دق}$$

معدل سرعة السّيارة بالكم / س :

$$90 = \frac{60 \times 37,5}{25}$$

ج - المسافة الفاصلة بين أ و ب بالكم :

$$210 = \frac{140 \times 90}{60}$$

387 - الحّل

الزّمن الذي استغرقته السّفرة :

$$8 \text{ س و } 47 \text{ دق} - 7 \text{ س و } 35 \text{ دق} = 1 \text{ س و } 12 \text{ دق أو } 72 \text{ دق}$$

المسافة قرنبالية - سوسة بالكم :

$$102 = \frac{72 \times 85}{60}$$

388 - الحّل

$$700 \text{ م هي } 0,7 \text{ كم}$$

$$280 \text{ دكم هي } 2,8 \text{ كم}$$

$$32 \text{ هم هي } 3,2 \text{ كم}$$

طول المسافة التي يقطعها موزّع البريد في اليوم بالكم :

$$16,100 = 3,2 + 3 + 2,8 + 0,7 + 2,5 + 3,9$$

عدد الأيام الفعلية التي عمل بها من 2 ماي الى 30 ماي :

26	19	12	5	الاثنيين
27	20	13	6	الثلاثاء
28	21	14	7	الاربعاء
29	22	15	8	الخميس
30	23	16	9	الجمعة
31	24	17	10	السبت
	25	18	11	الأحد

$$25 = 31 - 6$$

طول المسافة التي قطعها موزع البريد طيلة تلك المدة بالكم :

$$4025 = 25 \times 16100$$

الحل - 389

مدة السفر :

10 س و 30 دق - 8 س و 50 دق = 1 س و 40 دق أو 100 دق

طول المسافة تونس - باريس بالكم :

$$1500 = \frac{100 \times 900}{60} \text{ أو } 15\ 000\ 000 \text{ دسم}$$

سلم الخريطة :

$$\frac{1}{7\ 500\ 000} = \frac{2}{15\ 000\ 000}$$

الحل - 390

أ - وصل القطار الى المحطة ب يوم الخميس على الساعة :

7 س و 20 دق + 3 س و 50 دق = 11 س و 10 دق

ب - الزمن الذي قضاه القطار في السير :

24 س + 3 س و 50 دق - (12 دق \times 8) = 26 س و 14 دق أو 1574 دق

ج - المسافة الفاصلة بين أ و ب بالكم :

$$1574 = \frac{1574 \times 60}{60}$$

الحل - 391

المسافة المقطوعة خلال الساعة الثانية بالكم :

$$75 = \frac{5 \times 90}{6}$$

المسافة المقطوعة خلال الساعة الثالثة بالكم :

$$110 = \frac{2 \times (75 + 90)}{3}$$

المسافة المقطوعة خلال الساعة الرابعة بالكم :

$$88 = \frac{4 \times 110}{5}$$

مدة السير بالنسبة لبقية المسافة :

5 س و 25 دق - (1 س + 1 س + 1 س + 1 س + 45 دق) = 40 دق

المسافة التي قطعها السيارة في المرحلة الأخيرة بالكم :

$$64 = \frac{40 \times 96}{60}$$

طول المسافة المقطوعة أثناء السفر بالكم :

$$427 = 64 + 88 + 110 + 75 + 90$$

الحل - 392

- طول المسافة « سوسة - باردو » بالكم :

$$150 = 76\ 405 - 76\ 555$$

ثم قطعنا نفس تلك المسافة عند الرجوع في مد قيسها بالدقائق :

$$16 = \frac{60 \times 24}{90}$$

فالمدة الضائعة من جراء ذلك النسيان هي بالدقائق :

$$40 = 16 + 24$$

ب - المسافة التي كان يمكننا قطعها في مد 40 دق بسرعة 90 كم / س هي بالكم :

$$60 = \frac{40 \times 90}{60}$$

ج - ساعة خروجنا في المرة الثانية من سوسة :

$$9 \text{ س و } 40 \text{ دق}$$

المدة اللازمة لقطع المسافة الفاصلة بين سوسة وحماء الانف :

$$11 \text{ س} - 9 \text{ س و } 40 \text{ دق} = 1 \text{ س و } 20 \text{ دق أي } 80 \text{ دق}$$

المسافة الفاصلة بين سوسة وحماء الانف بالكم :

$$120 = \frac{80 \times 90}{60}$$

395 - الحـ

أ - الزمن الذي تستغرقه الشاحنة في السير عند الذهاب :

$$11 \text{ س و } 5 \text{ دق} - (8 \text{ س و } 45 \text{ دق} + 20 \text{ دق}) = 2 \text{ س}$$

الزمن الذي قضته الشاحنة في الأرض المنبسطة بالساعة

$$1 = 2 : 2$$

زمن السير في الأرض المنخفضة :

زمن السير في الأرض المرتفعة :

زمن السير في الأرض المرتفعة بالدقائق :

$$45 = \frac{3 \times 60}{4}$$

ب - كمية البنزين المستهلكة بالتر :

$$15 = 15 - 30$$

استهلاك السيارة في 100 كم بحساب اللتر :

$$10 = \frac{100 \times 15}{150}$$

ج - مدة السير

$$13 \text{ س و } 37 \text{ دق} - 11 \text{ س و } 37 \text{ دق} = 2 \text{ س}$$

معدل سرعة السيارة بالكم / س :

$$75 = 2 : 150$$

393 - الحـ

أ - طول المسافة التي قطعتها السيارة الى حد وصولها الى القيروان بالكم :

$$280 = 56992 - 56712$$

لذا فإن السيارة استهلكت 28 ل من البنزين في 280 كم .

تستهلك السيارة كمية من البنزين في 100 كم بحساب اللتر :

$$10 = \frac{100 \times 28}{280}$$

ب - كمية البنزين التي تستهلكها السيارة في 1450 كم بحساب اللتر

$$145 = 10 \times \frac{1450}{100}$$

ثمن البنزين بالدينار :

$$31900 = 145 \times 0,220$$

394 - الحـ

أ - قطعنا 24 كم عند خروجنا من سوسة في المرة الأولى في مدة قيسها بالدقائق :

$$24 = \frac{60 \times 24}{60}$$

د - وزن البنزين المستهلك إثر السّفرة بالكغ هو 2700 لأنّ مدّة السّفرة ذهابا وإيابا هي 1 س .
وزن البنزين المتبقي بحساب الكغ :
 $12100 = 2700 - 14800$

الحل - 397

الزّمن اللازم لقطع المسافة « سوسة - تونس » بدون توقف :

$$2 \text{ س و } 20 \text{ دق} = \frac{140}{60}$$

مدّة الوقوف بالذقائيق :

$$49 = 7 \times 7$$

مدّة السفر :

$$2 \text{ س و } 20 \text{ دق} + 49 \text{ دق} = 3 \text{ س و } 9 \text{ دق}$$

ساعة وصول الحافلة الى تونس

$$8 \text{ س و } 20 \text{ دق} + 3 \text{ س و } 9 \text{ دق} = 11 \text{ س و } 29 \text{ دق}$$

الحل - 398

الزّمن الذي يستغرقه وديع في التّنقل بالذقائيق :

$$54 = \frac{60 \times 72}{80}$$

ينبغي على وديع أن يغادر منزله على الساعة :

$$8 \text{ س} - 54 \text{ دق} = 7 \text{ س و } 6 \text{ دق}$$

الحل - 399

أ - مدّة السّفرة هي بالساعات :

$$5 = \frac{450}{90}$$

زّمن السير في الأرض المنخفضة بالذقائيق :

$$45 = 3 \times 15$$

طول الجزء المنبسط من المسافة بالكم :

$$30 = 1 \times 30$$

طول الجزء المنخفض من المسافة بالكم :

$$9 = \frac{15 \times 36}{60}$$

طول الجزء المرتفع من المسافة بالكم :

$$18 = \frac{45 \times 24}{60}$$

المسافة الفاصلة بين المدينتين بالكم :

$$57 = 18 + 9 + 30$$

ب - وقت خروج الشاحنة من المدينة ب :

$$12 \text{ س و } 13 \text{ دق} - 2 \text{ س} = 10 \text{ س و } 13 \text{ دق}$$

الحل - 396

أ - الزّمن الذي قضته الطائرة بين مطاري تونس وجربة :

$$10 \text{ س و } 10 \text{ دق} - 9 \text{ س} = 40 \text{ دق} = 30 \text{ دق}$$

المسافة الجوية تونس - جربة بالكم :

$$300 = \frac{30 \times 600}{60}$$

ب - ساعة وصول الطائرة الى تونس بعد عودتها من جربة :

$$10 \text{ س و } 10 \text{ دق} + 2 \text{ س و } 30 \text{ دق} + 30 \text{ دق} = 13 \text{ س و } 10 \text{ دق}$$

أي الواحدة و 10 دق بعد الظهر .

ج - كميّة البنزين الموجود بالطائرة قبل اقلاعها بالكغ :

$$14800 = 0,8 \times [2 \times (1250 + 8000)]$$

ب - كميّة البنزين التي تستهلكها السيّارة في 100 كم بحساب اللّتر :

$$8 = \frac{100 \times 36}{450}$$

الحل - 400

المدة التي يقضيها العامل الأوّل للوصول الى المصنع :

$$7 \text{ س و } 30 \text{ دق} - 6 \text{ س و } 40 \text{ دق} = 50 \text{ دق}$$

المسافة الفاصلة بين مقرّ سكني العاملين والمصنع بالكم :

$$15 = \frac{50 \times 18}{60}$$

المدة التي يقضيها العامل الثاني للوصول الى المصنع بالدقائق :

$$20 = \frac{60 \times 15}{45}$$

ساعة خروج العسل الثاني الى المصنع :

$$7 \text{ س و } 30 \text{ دق} - 20 \text{ دق} = 7 \text{ س و } 10 \text{ دق}$$

الحل - 401

أ - سلّم الخريطة :

$$\frac{1}{500\ 000} = \frac{864}{432\ 000\ 000}$$

ب - المدة التي تقضيها السيّارة في السير :

$$432 : 80 = 5ر4 أي 5 س و 24 دق لأنّ $\frac{4}{10}$ س = 24 دق$$

الحل - 402

أ - الطول الحقيقي للمسافة بالكم :

$$46 = 500000 \times 0ر000092$$

المدة التي يقضيها الدراج لقطع تلك المسافة :

$$46 : 24 = 1 س و 55 دق$$

ب - ساعة الانطلاق

$$10 \text{ س} - 1 \text{ س و } 55 \text{ دق} = 8 \text{ س و } 5 \text{ دق}$$

الحل - 403

أ - الوقت الذي يقطع فيه الأوّل مسافة 1 كم بالدقائق :

$$4 = \frac{60 \times 1}{15}$$

يمرّ الأوّل أمام العلامة رقم 97 على الساعة :

$$11 \text{ س و } 15 \text{ دق} + 4 \text{ دق} = 11 \text{ س و } 19 \text{ دق}$$

الوقت الذي يقطع فيه الثاني مسافة 1 كم بالدقائق :

$$3 = \frac{60 \times 1}{20}$$

يمرّ الثاني أمام العلامة رقم 97 على الساعة :

$$11 \text{ س و } 15 \text{ دق} + 3 \text{ دق} = 11 \text{ س و } 18 \text{ دق}$$

ب - الوقت الذي قضاه الثاني في السير الى حدّ منتصف النهار :

$$12 \text{ س} - 11 \text{ س و } 15 \text{ دق} = 45 \text{ دق}$$

المسافة التي قطعها الثاني في 45 دق بالكم :

$$15 = \frac{45 \times 20}{60}$$

المسافة التي قطعها الأوّل في 45 دق بالكم :

$$11ر25 = \frac{45 \times 15}{60}$$

المسافة الفاصلة بينهما بالكم :

$$3ر75 = 11ر25 - 15$$

ج - الوقت الذي سيقتضيه الثاني في انتظار الأول هو الوقت الذي يستغرقه الأول في قطع مسافة 3ر75 كم وهو بالدقائق :

$$15 = \frac{60 \times 3ر75}{15}$$

404 - الحل

أ - الطول الحقيقي للمسافة بالكم :

$$110 = 200\ 000 \times \frac{55}{100\ 000}$$

ب - تقطع إيناس تلك المسافة على دراجتها النارية في الوقت التالي :

$$220 = \frac{60 \times 110}{30} \text{ دق أي } 3 \text{ س و } 40 \text{ دق}$$

الوقت الذي قضته إيناس في المدينة ب هو 3 ساعات وبما أن القطار غادر المدينة ب على الساعة الخامسة و 45 دق بعد الزوال فيكون وقت خروج إيناس من المدينة أ هو الاتي :

17 س و 45 دق - (3 س و 40 دق + 3 س) = 11 س و 5 دق أي الساعة الحادية عشرة صباحا و 5 دق

ج - يقطع القطار مسافة 110 كم في :

$$82ر5 = \frac{60 \times 110}{80} \text{ أي } 1 \text{ س و } 22 \text{ دق و } 30 \text{ ث}$$

تصل إيناس الى المدينة ب على الساعة :

17 س و 45 دق + 1 س و 22 دق و 30 ث = 19 س و 7 دق و 30 ث أي على الساعة السابعة مساء و 7 دق و 30 ث

405 - الحل

أ - طول المسافة بالكم :

$$54 = 50000 \times 0ر000108$$

ب - طول الطريق المنبسطة بالكم :

$$21ر6 = \frac{2 \times 54}{5} = \frac{2}{5} \times 54$$

لقطع هذه المسافة يقضي الدراج مدة قيسها بالدقائق :

$$54 = \frac{60 \times 21ر6}{24}$$

طول المسافة الباقية بالكم :

$$32ر4 = 21ر6 - 54$$

طول المسلك الفلاحي بالكم :

$$24ر3 = \frac{3 \times 32ر4}{4}$$

لقطع هذه المسافة يقضي الدراج مدة قيسها بالدقائق :

$$81 = \frac{60 \times 24ر3}{18} \text{ أو } 1 \text{ س و } 21 \text{ دق}$$

طول المنحدر بالكم :

$$8ر1 = (24ر3 + 21ر6) - 54$$

لقطع المنحدر يقضي الدراج مدة قيسها بالدقائق :

$$15 = \frac{60 \times 8ر1}{32ر4}$$

المدة التي قضها الدراج لقطع كامل المسافة :

$$54 \text{ دق} + 1 \text{ س و } 21 \text{ دق} + 15 \text{ دق} + 15 \text{ دق} = 2 \text{ س و } 45 \text{ دق}$$

ساعة خروج الدراج :

$$13 \text{ س} - 2 \text{ س و } 45 \text{ دق} = 10 \text{ س و } 15 \text{ دق أي الساعة العاشرة}$$

صباحا و 15 دق

406 - الحل

أ - الفرق بين طول خطوة محمد وطول خطوة فاخر بالمتر :

$$0ر80 = 0ر75 - 0ر05$$

$$30 = \frac{60 \times 130}{260}$$

كما تعتبر مسافة 30 كم الفرق بين سرعتي السيارة والذراجة
وبذلك تكون سرعة الذراجة النارية بحساب الكم / س :

$$50 = \frac{30 - 130}{2}$$

أما سرعة السيارة بحساب الكم / س فهي :

$$80 = 50 - 130$$

409 - الحـل

أ - مدة سير الشاحنة قبل انطلاق السيارة :

9 س و 15 دق - 7 س و 45 دق = 1 س و 30 دق أو 90 دق
المسافة التي قطعها الشاحنة في تلك المدة بالكم :

$$97,5 = \frac{90 \times 65}{60}$$

المسافة بالكم التي تفصل الشاحنة عن السيارة عند انطلاق هذه
الأخيرة .

$$105 = 97,5 - 202,5$$

في كل ساعة تقترب السيارة من الشاحنة بما قدره بالكم :

$$150 = 85 + 65$$

المدة اللازمة بالدقائق لتلاقي السيارة بالشاحنة :

$$42 = \frac{60 \times 105}{150}$$

ساعة التلاقي :

9 س و 15 دق + 42 دق = 9 س و 57 دق

ب - المسافة التي قطعها السيارة بحساب الكم :

$$59,5 = \frac{42 \times 85}{60}$$

طول 15 خطوة من خطوات فاخر بالمتر :

$$11,25 = 15 \times 0,75$$

عدد الخطوات التي خطاها محمد :

$$225 = \frac{11,25}{0,05}$$

أما فاخر فقد خطى 225 + 15 = 240 خطوة

طول الملعب بالمتر :

$$180 = 225 \times 0,80 \text{ أو } 180 = 240 \times 0,75$$

ب - الزمن الذي يستغرقه محمد لقيس طول الملعب بالشواني :

$$270 = 60 \times \frac{225}{50} \text{ أو } 4 \text{ دق و } 30 \text{ ث}$$

الزمن الذي يستغرقه فاخر لقيس طول الملعب بالشواني :

$$288 = 60 \times \frac{240}{50} \text{ أو } 4 \text{ دق و } 48 \text{ ث}$$

407 - الحـل

مدة سير السيارتين الى حد تلاقيهما :

13 س و 10 دق - 10 س و 55 دق = 2 س و 15 دق أو 135 دق .

في كل ساعة تقترب السيارتان من بعضهما بما قدره بالكم :

$$152 = 72 + 80$$

المسافة الفاصلة بين صفاقس وبنزرت بالكم :

$$342 = \frac{135 \times 152}{60}$$

408 - الحـل

تعتبر المسافة 130 كم مجموع سرعتي الذراجة النارية والسيارة .

فالمسافة التي تتداركها السيارة في الساعة بالكم (مع العلم أن 4 س

و 20 دق = 260 دق) هي :

التقت السيارة إذا بالشاحنة على بعد 59ر5 كم من صفاقس أو على بعد :

(59ر5 - 202ر5) كم أي 143 كم من بوفيشة .

410 - الحـل

أ - معدل سرعة السيارة الأولى بحساب الكم / س
1 س و 15 دق = 75 دق

$$100 = \frac{60 \times 125}{75}$$

ب - المسافة التي قطعتها السيارة الثانية بالكم :

$$87ر5 = \frac{75 \times 70}{60}$$

ج - المسافة الفاصلة بين نقطتي الانطلاق بالكم :

$$212ر5 = 87ر5 + 125$$

411 - الحـل

6 س و 45 دق - 5 س و 20 دق = 1 س و 25 دق = 85 دق

أ - المسافة التي قطعها القطار الأول الى حد مكان التلاقي بالكم :

$$298 = 127ر5 - 425ر5 = \frac{85 \times 90}{60} - 425ر5$$

ب - الزمن اللازم لتلاقي القطارين :

$$1 = \frac{298}{70 + 90} \text{ س و } 51 \text{ دق و } 45 \text{ ث أي } 6705 \text{ ث}$$

ساعة تلاقي القطارين :

6 س و 45 دق + 1 س و 51 دق و 45 ث = 8 س و 36 دق و 45 ث

ج - المسافة التي قطعها القطار الأول الى حد ساعة التلاقي بالكم :

$$295ر125 = 167ر625 + 127ر5 = \frac{6705 \times 90}{3600} + \frac{85 \times 90}{60}$$

المسافة التي قطعها القطار الثاني الى حد ساعة التلاقي بالكم :

$$130ر375 = 295ر125 - 425ر5$$

يقطع القطار الأول كامل المسافة في مدة قيسها :

$$\frac{425ر5}{90} \text{ أي } 4 \text{ س و } 43 \text{ دق و } 40 \text{ ث}$$

ساعة وصول القطار الثاني الى أ :

5 س و 20 دق + 4 س و 43 دق و 40 ث = 10 س و 3 دق و 40 ث

412 - الحـل

أ - في كل ساعة تنقص المسافة الفاصلة بين القطارين أي 225 كم

ب (90 + 60) كم أي ب 150 كم ، حينئذ يتلاقي القطاران بعد مدة قيسها بالذقائق :

$$90 = \frac{60 \times 225}{150} \text{ أي بعد ساعة و } 30 \text{ دق}$$

ساعة تلاقي القطارين هي حينئذ :

6 س و 20 دق + 1 س و 30 دق = 7 س و 50 دق أي الساعة السابعة صباحا و 50 دق

ب - المسافة التي قطعها القطار المنطلق من أ بالكم :

$$90 = \frac{90 \times 60}{60}$$

المسافة التي قطعها القطار المنطلق من ب بالكم :

$$135 = \frac{90 \times 90}{60} \text{ أو } 135 = 90 - 225$$

ج - يبعد مكان التلاقي ب 90 كم عن المدينة أ و ب 135 كم عن المدينة ب

أ - المدة التي قضتها كل من السيارتين الى حد وقت تلاقيهما :
 19 س و 5 دق - 16 س و 20 دق = 2 س و 45 دق أو 165 دق
 المسافة التي قطعتها السيارة الأولى الى حد تلاقي السيارتين
 بالكم :

$$192,500 = \frac{165 \times 70}{60}$$

ب - سرعة السيارة الثانية بالكم / س :

$$80 = \frac{60 \times (192,5 - 412,5)}{165}$$

الحـل - 414

أ - في كل ساعة تنقص المسافة بين السيارة والحافلة بما قدره
 بالكم :

$$155 = 75 + 80$$

يقع التلاقي بعد مضي عدد من الساعات مساو لـ :

$$2 = 155 : 310$$

طول المسافة [أ ج] بالكم :

$$160 = 2 \times 80$$

طول المسافة [ب ج] بالكم :

$$150 = 160 - 310 \text{ أو } 150 = 2 \times 75$$

ب - أما ساعة التلاقي فهي :

$$8 \text{ س و } 45 \text{ دق} + 2 \text{ س} = 10 \text{ س و } 45 \text{ دق}$$

ج - تقطع السيارة المسافة [أ ب] في مدة قيسها بالدقائق :

$$232,5 = \frac{60 \times 310}{80} \text{ أو } 232 \text{ دق و } 30 \text{ ث أو } 3 \text{ س و } 52 \text{ دق}$$

و 30 ث

ساعة وصول السيارة الى المدينة ب :

$$8 \text{ س و } 45 \text{ دق} + 3 \text{ س و } 52 \text{ دق} = 30 \text{ ث} = 12 \text{ س و } 37 \text{ دق}$$

و 30 ث

الحـل - 415

أ - بين الساحلين والنفيضة تقضي السيارة الأولى مدة قيسها بالدقائق :

$$50 = \frac{60 \times 50}{60}$$

ساعة خروج السيارة من الساحلين :

$$9 \text{ س} - 50 \text{ دق} = 8 \text{ س و } 10 \text{ دق أي الساعة الثامنة}$$

صباحا و 10 دق

ب - استهلاك السيارة من البنزين في 50 كم بحساب اللتر :

$$4 = \frac{50 \times 8}{100}$$

كفيه البنزين المتبقي باللتر :

$$18 = 4 - 22$$

ج - من الساحلين الى مكان التلاقي قضت السيارة الأولى مدة قيسها :

$$8 \text{ س و } 24 \text{ دق} - 8 \text{ س و } 10 \text{ دق} = 14 \text{ دق}$$

المسافة الفاصلة بين مكان التلاقي والساحلين بالكم :

$$14 = \frac{14 \times 60}{60}$$

أما المسافة الفاصلة بين مكان التلاقي والنفيضة فهي بالكم :

$$36 = 14 - 50$$

د - معدل سرعة السيارة الثانية بالكم / س

$$72 = \frac{60 \times 36}{30}$$

هـ - ساعة مغادرة السيارة الثانية مدينة النفيضة هي :

$$8 \text{ س و } 24 \text{ دق} - 30 \text{ دق} = 7 \text{ س و } 54 \text{ دق أي الساعة}$$

السابعة صباحا و 54 دق

ب - شعاع القرص الدائري بالمتر :

$$0,80 = 2 : 1,60$$

طول الجزء المستطيل من الباب بحساب المتر :

$$1,80 = 0,80 - 2,60$$

قيس مساحة الجزء المستطيل من الباب بالمتر المربع :

$$2,88 = 1,60 \times 1,80$$

قيس مساحة نصف القرص الدائري بالم² :

$$1,0048 = \frac{2,0096}{2} = \frac{0,80 \times 0,80 \times 3,14}{2}$$

قيس مساحة الباب بالمتر المربع

$$3,8848 = 1,0048 + 2,88$$

ج - كمية الزهر اللازم لطلاء الباب بحساب الكغ :

$$2,486272 = 2 \times (3,8848 \times 0,320)$$

يجب حينئذ على أبي أن يشتري 3 كغ من الزهر وثمانها بالدينار هو :

$$2,355 = 3 \times 0,785$$

المجموعة رقم 8

I الثمارين :

$$1 - س = 3^4 \times 2^6 = 81 \times 64 = 5184$$

2 - طول القاعدة بالمتر باعتبار أن 14 أ هي 1400 م² :

$$70 = \frac{2 \times 1400}{40}$$

طول القاعدة بالضم على التصميم :

$$7 = \frac{7000}{1000}$$

416 - الحل

أ - المسافة التي قطعها الدراج قبل انطلاق السيارة بالكم :

$$45 = 1,5 \times 30$$

الفرق بين السرعتين بحساب الكم / س

$$50 = 30 - 80$$

المدة التي تقضيها السيارة للالتحاق بالدراج بالدقائق :

$$54 = \frac{60 \times 45}{50}$$

ب - المسافة التي قطعها الدراج بالكم :

$$72 = \frac{54 \times 80}{60}$$

417 - الحل

المدة التي قطع فيها الزاجل مسافة 14 كم :

$$168 = \frac{60 \times 14}{5} \text{ أي } 2 \text{ س و } 48 \text{ دق}$$

ساعة وصول الزاجل الى المكان المقصود :

7 س و 45 دق + 2 س و 48 دق = 10 س و 33 دق أي الساعة

العاشرة صباحا و 33 دق

مدة سير الدراج لقطع نفس المسافة بالدقائق :

$$35 = \frac{60 \times 14}{24}$$

ساعة انطلاق الدراج :

10 س و 33 دق - 35 دق = 9 س و 58 دق أي الساعة التاسعة صباحا

و 58 دق .

418 - الحل

مدة سير الدراج قبل انطلاق السيارة :

10 س و 15 دق - 6 س و 35 دق = 3 س و 40 دق أو 220 دق

وبذلك يكون الأول قد أنفق أكثر من الثاني بحساب الكسور :

$$\frac{1}{5} = \frac{2}{5} - \frac{3}{5}$$

الكسر $\frac{1}{5}$ يمثل المبلغ 2ر400 د لذا فإن المبلغ الجملي بالدينار هو:

$$2ر400 = \frac{1}{5} \times 2ر400 = 12$$

ب - المبلغ الذي صرفه الأول بالدينار :

$$7ر200 = 3 \times 2ر400$$

مقدار نصف المبلغ الجملي بالدينار :

$$6 = 2 : 12$$

يجب على الثاني أن يدفع لرفيقه مقدارا بالدينار :

$$1ر200 = 6 - 7ر200$$

ج - تكاليف النقل بالدينار :

$$12 \left\{ \begin{array}{l} \text{الأكل} \quad 4ر500 = \frac{3 \times 12}{8} \\ \text{النقل} \quad 7ر500 = \frac{5 \times 12}{8} \end{array} \right.$$

المجموعة رقم 9

I التمارين :

1 - بما أن الطائرة قضت 3 س و 15 دق في سفرتها ووصلت الى القاهرة

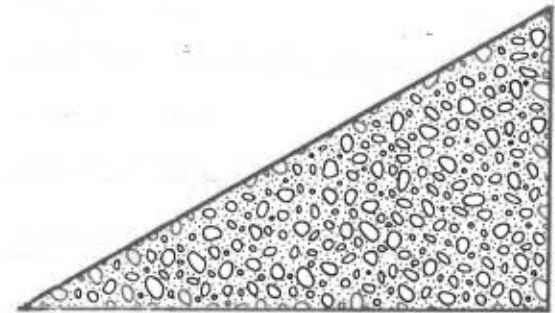
على الساعة الثانية و 45 دق من صباح يوم الثلاثاء فهي قد انطلقت من تونس مساء يوم الإثنين على الساعة :

24 س - (3 س و 15 دق - 2 س و 45 دق) = 24 س - 30 دق =

23 س و 30 دق أي على الساعة الحادية عشرة و 30 دق من مساء يوم الإثنين .

طول الارتفاع بالضم على التصميم :

$$4 = \frac{4000}{1000}$$



3 - أوحد مقامات الكسور :

$$3_2 = 8, 2_3 = 9, 2_2 = 4$$

$$م م أ (3, 8, 9, 4) = 2_3 \times 3_2 = 9 \times 8 = 72$$

$$\frac{48}{72} = \frac{2}{3}, \frac{45}{72} = \frac{5}{8}, \frac{56}{72} = \frac{7}{9}, \frac{54}{72} = \frac{3}{4}$$

نلاحظ أن :

$$\frac{7}{9} > \frac{3}{4} > \frac{2}{3} > \frac{5}{8} \text{ أي أن } \frac{56}{72} > \frac{54}{72} > \frac{48}{72} > \frac{45}{72}$$

4 - كمية الزيت بالقنطار :

$$3ر36 = \frac{12 \times 28}{100}$$

II المشكل :

أ - ما أنفقه الثاني بحساب الكسور :

$$\frac{2}{5} = \frac{3}{5} - \frac{5}{5}$$

2 - ما بقي لعادل بحساب الكسور :

$$\frac{2}{5} = \frac{3}{3} - \frac{5}{5}$$

المبلغ الذي كان يملكه عادل بالدينار :

$$8900 = \frac{5 \times 3560}{2}$$

3 - الطول الحقيقي للمسافة بالكم :

$$30 = 80\,000 \times \frac{375}{100\,000}$$

1 س و 40 د هي 100 د ق .

معدل سرعة الذراج بالكم / س :


$$18 = \frac{60 \times 30}{100}$$

4 - ثمن الخزانة

ثمن الطاولة

ثمن الكرسي

49,600



المبلغ 49,600 د يمثل 16 مرة ثمن الكرسي الواحد

ثمن الكرسي بالدينار :

$$3100 = \frac{49600}{16}$$

ثمن الطاولة بالدينار :

$$15500 = 5 \times 3100$$

ثمن الخزانة بالدينار :

$$31 = 2 \times 15500$$

II المشكّل :

أ - الفارق في أيام الشغل بين الفترتين بحساب اليوم :

$$12 = 13 - 25$$

الفارق في المقابل بين الفترتين بحساب الدينار :

$$21600 = 18 - 39600$$

المقابل اليومي للعامل بالدينار :

$$1800 = \frac{21600}{12}$$

ب - المقابل الجملي لـ 25 يوما بالدينار :

$$45 = 25 \times 1800$$

ثمن 12 ل من الزيت بالدينار :

$$5400 = 39600 - 45$$

ثمن اللتر الواحد من الزيت بالمليم :

$$450 = \frac{5400}{12}$$

المجموعة رقم 10

I الثمارين :

1 -

قابل للقسمّة على 9	قابل للقسمّة على 5	قابل للقسمّة على 3	قابل للقسمّة على 2	
	×		×	440
	×	×	×	210
×		×	×	378

المجموعة رقم 11

I التمارين :

- 1 - مدة السير بالدقائق :
1 س و 15 دق أو 75 دق
المسافة الفاصلة بين قصر هلال والمنستير بالكم :

$$20 = \frac{75 \times 16}{60}$$

- 2 - سطح العددين الأولين :

$$2240 = 64 \times 35$$

العدد الثالث هو

$$14 = 2240 : 31360$$

- 3 - كمية البرتقال التي شرتها زينب بالكم :

$$3 = \frac{1 \times 9}{3} = \frac{1}{3} \times 9$$

- الفرق بين ما شترته مريم وما شترته زينب بالكم :

$$6 = 3 - 9$$

- ثمن الكغ من البرتقال بالمليم :

$$140 = \frac{840}{6}$$

- ما تدفعه مريم بالمليم :

$$1260 = 9 \times 140$$

- 4 - أحلل العدد 108 الى عوامله الأولية

108	2
54	2
27	3
9	3
3	3
1	

$$3^3 \times 2^2 = 108$$

- 2 - عدد الزهرات :

$$27 = \frac{675}{25}$$

- 3 - $25ر5 < 25ر05 < 25ر005 < 25ر0005$

- 4 - ثمن السروال
ثمن الجمّازة

- ثمن السروال بالدينار :

$$7ر120 = \frac{35ر600}{5}$$

- ثمن الجمّازة بالدينار :

$$28ر480 = 4 \times 7ر120$$

II المشكل :

- أ - ثمن البيع بالدينار :

$$65ر400 = (480 \times 0ر070) + (240 \times 0ر085) + (120 \times 0ر095)$$

- ثمن الشراء بالدينار :

$$62ر050 = 850 \times 0ر073$$

- بما أن ثمن البيع أرفع من ثمن الشراء فإنّ التاجر رابح ومقدار

- ربحه بالدينار هو :

$$3ر350 = 62ر050 - 65ر400$$

- ب - كمية الدلاع التي بيعت بحساب الكغ :

$$840 = 480 + 240 + 120$$

- معدل ثمن بيع الكغ بحساب المليم :

$$78 \text{ تقريبا} = \frac{65ر400}{840}$$

المجموعة رقم 12

I التمارين:

1 - نلاحظ أن $3 = \frac{33}{11} = \frac{18}{6}$ لذا فنحن نضرب في 3 من أعلى الى

أسفل ونقسم على 3 من أسفل الى أعلى :

0	11	9	0	6	10
0	33	27	0	18	30

2 - المبلغ الجملي للفلاح بالمليم :

$$215250 = 29950 + 56900 + 128400$$

الكسر المطلوب هو :

$$\frac{123\ 000}{215\ 250} \text{ ، نختزل هذا الكسر بقسمة حدّيه على القاسم المشترك}$$

الأكبر لهما .

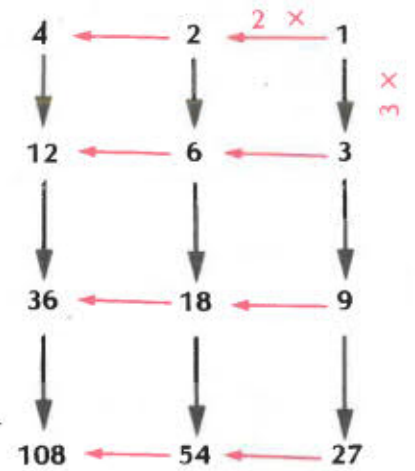
123000	2	215250	2
61500	2	107625	3
30750	2	35875	5
15375	3	7175	5
5125	5	1435	5
1025	5	287	7
205	5	41	41
41	41	1	1

$$41 \times 7 \times 3^5 \times 3 \times 2 = 215250$$

$$41 \times 3^5 \times 3 \times 3^2 = 123000$$

$$\text{ق - م - أ } 30750 = 41 \times 3^5 \times 3 \times 2 = (215250 \cdot 123000)$$

لذا فإن :



II المشكل :

أ - الفرق بين المنايين بالنسبة لكل ولد بالدينار :

$$425 = 2550 - 2975$$

عدد الأبناء الذين بقوا على قيد الحياة :

$$6 = \frac{2550}{425}$$

عدد الأبناء عند وفاة الأب :

$$7 = 1 + 6$$

مبلغ الثروة التي خلفها الأب بالدينار هو :

$$17850 = 7 \times 2550$$

ب - ثمن الحديقة بالدينار :

$$11900 = \frac{2 \times 17850}{3}$$

عدد الاخوة المساهمين :

$$5 = 1 - 6$$

المبلغ الذي ساهم به كل من الاخوة بالدينار :

$$2380 = 5 : 11900$$

I التمارين :

1 - يمثل الفرق بين المبلغين ثمن كراس واحد وهو بالمليم :

$$45 = 1815 - 1860$$

ثمن 3 كراسات بالمليم :

$$135 = 3 \times 45$$

ثمن 3 كتب بالمليم :

$$1680 = 135 - 1815$$

ثمن كتاب واحد بالمليم :

$$560 = 3 : 1680$$

2 - معدل سرعة السيارة بالكم / س :

$$90 = \frac{60 \times 18}{12}$$

3 - ثمن المحفظة بالدينار :

$$3r258 = \frac{9 \times 2r534}{7}$$

4 - 42900 دسم³ هي 42900 ل

6ر28 هل هي 628 ل

3ر41 دكل هي 34ر1 ل

42900 دسم³ و 6ر28 هل و 3ر41 دكل هي إذا 705 ل

II المشكل :

أ - قيس مساحة كل من الحديقتين بالمتري المربع :

$$8100 = 90 \times 90$$

عرض الحديقة المستطيلة بالمتري :

$$60 = \frac{8100}{135}$$

$$\frac{4}{7} = \frac{30750}{30750} : \frac{123000}{215250} = \frac{123000}{215250}$$

3 - نعلم أن الخارج صحيح لذا فإن الباقي يساوي 0 . نعلم كذلك أن :

المقسوم = القاسم × الخارج لذا فإن المقسوم هو :

$$138ر414 = 34 \times 4ر071$$

$$\frac{4325}{1000} < \frac{43250}{1000} = 43ر25 . \frac{85}{100} < \frac{850}{100} = 8ر5$$

II المشكل :

كثيرة الجافال التي ينتجها المعمل يوميا بحساب الدسم³

1ر050 م³ أي 1050 دسم³

سعة القارورة بالدسم³ :

75 صل أو 0ر75 ل أو 0ر75 دسم³

عدد القوارير المنتجة في اليوم :

$$1400 = \frac{1050}{0ر75}$$

ثمن بيع القارورة الواحدة من الجافال لتجار التفصيل بالمليم :

$$54 = 6 - 60$$

مقدار ربح صاحب المعمل بالنسبة للقارورة الواحدة بالمليم :

$$26 = \frac{36400}{1400}$$

ثمن كلفة القارورة الواحدة بالمليم :

$$28 = 26 - 54$$

$$\frac{2150}{1000} = \frac{215}{100} = 2ر15 - 3$$

$$\frac{21500}{1000} = \frac{2150}{100} = \frac{215}{10}$$

$$\frac{215}{1000} = \frac{21ر5}{100}$$

نلاحظ أن $\frac{21500}{1000} > \frac{2150}{1000} > \frac{215}{1000}$ أي أن :

$$\frac{215}{10} > 2ر15 > \frac{21ر5}{100}$$

4 - عدد المربعات حسب طول الورقة :

$$7ر6 = \frac{38}{5}$$

عدد المربعات حسب عرض الورقة :

$$5ر6 = \frac{28}{5}$$

العدد الجملي للمربعات :

$$35 = 5 \times 7$$

II المشكل :

أ - تكاليف اليد العاملة بالدينار :

$$10ر500 = 35 \times 0ر300$$

ثمن السياج بالدينار :

$$41ر664 = 10ر500 - 52ر164$$

طول محيط الحديقة بالمتر :

$$192 = \frac{41ر664}{0ر217}$$

طول محيط الحديقة المستطيلة الشكل بالمتر :

$$390 = 2 \times (60 + 135)$$

طول محيط الحديقة المربعة الشكل بالمتر :

$$360 = 4 \times 90$$

بما أن طول محيط الحديقة المستطيلة الشكل أكبر فإن سياجها يكون أرفع ثمنا من سياج الحديقة الأخرى .

ب - تكاليف تسييج الحديقة الأولى بالدينار :

$$172ر800 = 360 \times 0ر480$$

تكاليف تسييج الحديقة الثانية بالدينار :

$$187ر200 = 390 \times 0ر480$$

الفرق بين الكلفتين بالدينار :

$$14ر400 = 172ر800 - 187ر200$$

ج - الإنتاج الجملي للحديقة الأولى بحساب الطن مع العلم أن

$$8100 \text{ م}^2 \text{ هي } 81 \text{ أ}$$

$$162 = 81 \times 2$$

الإنتاج الجملي للحديقة الثانية بحساب الطن

$$162000 \text{ كغ أو } 162 \text{ ط}$$

لذا فإن الحديقتين متعادلتان من حيث الإنتاج .

المجموعة رق 14

I التمارين :

$$1 - 23ر425 : 0ر01 = 23ر425 \times 100$$

$$17ر417 : 0ر001 = 17ر417 \times 1000$$

2 - شعاع القطعة بالضم :

$$1ر3 = \frac{8ر164}{3ر14 \times 2}$$

قيس مساحة القطعة بالضم 2 :

$$5ر3066 = 1ر3 \times 1ر3 \times 3ر14$$

ثمن الكؤوس حسب الحل الثاني بالمليم :

$$3780 = \frac{630 \times 24}{4}$$

نرى حينئذ أن الحل الثاني هو الأنسب .

4 - تحليل العدد 2401 الى عوامله الأولية :

$$\begin{array}{r|l} 2401 & 7 \\ 343 & 7 \\ 49 & 7 \\ 7 & 7 \\ 1 & \end{array}$$

$$4 \times 7 = 2401$$

$$2401 \xleftarrow{7 \times} 343 \xleftarrow{7 \times} 49 \xleftarrow{7 \times} 7 \xleftarrow{7 \times} 1$$

$$ق (2401) = \{2401, 343, 49, 7, 1\}$$

II المشكل :

كمية الزيت التي اشتراها التاجر بحساب اللتر :

$$625 = 5 \times 125$$

وزن هذه الكمية بالكغ :

$$575 = 625 \times 0,920$$

ثمن تلك الكمية بالدينار :

$$243,225 = 575 \times 0,423$$

كمية الزيت الضائعة بحساب اللتر :

$$10 = 5 \times 2$$

كمية الزيت التي سيبيعها التاجر بحساب اللتر :

$$615 = 10 - 625$$

ثمن بيع الزيت بالدينار :


$$276,750 = 615 \times 0,450$$

ربح التاجر بالدينار :

$$33,525 = 243,225 - 276,750$$

ب - نصف طول محيط الحديقة بالمتر :

$$96 = 2 : 192$$



عرض الحديقة بالمتر :

$$32 = \frac{96}{3}$$

طول الحديقة بالمتر :

$$64 = 2 \times 32$$

المجموعة رقم 15

I التمارين :

$$1 - 1 = \frac{2}{5} + \frac{3}{5} \quad \text{أو} \quad 1 = \frac{1}{4} + \frac{3}{4} \quad \text{أو} \quad 1 = \frac{12}{15} + \frac{3}{15} \quad \text{الخ ...}$$

$$2 = \frac{2}{3} - \frac{8}{3}$$

2 - ثمن المتر من القماش بالدينار :

$$1,900 = \frac{62,700 - 68,400}{3}$$

طول اللفافة بالمتر :

$$36 = \frac{68,400}{1,900}$$

3 - ثمن الكؤوس حسب الحل الأول بالمليم :

$$3880 = \frac{485 \times 24}{3}$$

I التمارين :

$$1 - \frac{3}{4} = \frac{6}{8} = \frac{9}{12} = \frac{12}{16} = \frac{15}{20}$$

2 - عدد الجليز حسب طول الغرفة :

$$32 = \frac{6 \times 4}{9 \times 20}$$

عدد الجليز حسب عرض الغرفة :

$$27 = \frac{5 \times 40}{9 \times 20}$$

العدد الجملي للجليز :

$$864 = 27 \times 32$$

$$3 - \frac{17}{6} = \frac{34}{12} = \frac{25}{12} + \frac{9}{12} = \frac{25}{12} + \frac{3}{4}$$

$$\frac{9}{25} = \frac{36}{100} = \frac{12}{25} \times \frac{3}{4} = \frac{25}{12} : \frac{3}{4}$$

4 - 1ر2 م³ هي 1200 دسم³ أو 1200 ل

الوقت اللازم بالدقائق :

$$30 = \frac{1200}{40}$$

II الشكل :

أ - ثمن بيع كامل الحقل بالدينار :

$$1252,800 = \frac{9 \times 556,800}{4}$$

ثمن بيع القطعة الثانية بالدينار :

$$696 = 556,800 - 1252,800$$

ب - ثمن بيع كامل الحقل بحساب الكسور :

$$\frac{6}{5} = \frac{1}{5} + \frac{5}{5}$$

ثمن شراء كامل الحقل بحساب الدينار :

$$1044 = \frac{5 \times 1252,800}{6}$$

ثمن شراء القطعة الأولى بالدينار :

$$464 = \frac{4 \times 1044}{9}$$

ثمن شراء القطعة الثانية بالدينار :

$$580 = 464 - 1044$$

قيس مساحة القطعة الأولى بالمتري المربع :

$$371,2 = \frac{464}{1,250}$$

قيس مساحة القطعة الثانية بالمتري المربع :

$$464 = \frac{580}{1,250}$$

المجموعة رقم 17

I التمارين :

- 1

97	33	122	41	9	131	23	27
x			x		x	x	

2 - كل ولد يعوض بنتين ومعنى هذا أن الأثر سيقسم على 8 منابات متساوية (3 أولاد وبناتان أو 6 بنات وبناتان أي 8 بنات)

د - وزن الزيت بالكغ :
 $11ر5 = \frac{5 \times 15}{6} \times 0ر920$ هي كمية الزيت بالسطل

هـ - ثمن الزيت بالدينار :
 $5ر014 = 11ر5 \times 0ر436$

المجموعة رقم 18

I الثمارين :

1 - العدد المطلوب هو :

$$32 = \frac{13 - 877}{27} \text{ لذا فإن :}$$

$$877 = 13 + (32 \times 27)$$

الطريقة الأولى :

$$1350 = 90 \times 15 = (69 + 21) \times 15$$

الطريقة الثانية :

$$1350 = 1035 + 315 = (69 \times 15) + (21 \times 15) = (69 + 21) 15$$

ثمن 7 أقلام و 7 كراسات بالمليم :

$$742 = 2 \times 371$$

ثمن قلم وكراس بالمليم :

$$106 = 7 : 742$$

ثمن 3 أقلام و 3 كراسات بالمليم :

$$318 = 3 \times 106$$

ثمن كراس واحد بالمليم :

$$371 - 318 = 53 \text{ وهو في نفس الوقت ثمن قلم واحد .}$$

4 - نرسم الشكل التالي :



$$\frac{23}{20} = \frac{10}{20} + \frac{8}{20} + \frac{5}{20} = \frac{1}{2} + \frac{2}{5} + \frac{1}{4} - 4$$

هذه القسمة غير ممكنة لأن الكسر $\frac{23}{20}$ هو أكبر من 1 ولأن

محتوى الصندوق لا يتعدى $\frac{20}{20}$

II المشكل :

أ - وزن $\frac{2}{5}$ كمية الماء بالكغ :

$$6 = 11ر250 - 17ر250$$

6 كغ من الماء توافق 6 دسم³ أي 6 ل

ب - سعة السطل بالتر :

$$15 = \frac{5 \times 6}{2}$$

ج - وزن الماء بالكغ هو 15

وزن السطل فارغا بالكغ :

$$2ر250 = 15 - 17ر250$$

المجموعة رقم 19

I الثمارين :

1 - ما صرفته مريم في الجملة بحساب الكسور :

$$\frac{2}{3} = \frac{6}{9} = \frac{1}{9} + \frac{5}{9} = \left(\frac{1}{4} \times \frac{4}{9} \right) + \frac{5}{9}$$

ما بقي لمريم بحساب الكسور :

$$\frac{1}{3} = \frac{2}{3} - \frac{3}{3}$$

المبلغ الذي كانت تكسبه مريم بالدينار :

$$13ر500 = 3 \times 4ر500$$

2 - قيس مساحة الحقل بالهكتار :

$$4 \text{ أي } 40000 \text{ م}^2 = \frac{140}{35}$$

طول الحقل بالمتر :

$$250 = \frac{40000}{160}$$

3 - تدوم الشمعة بالذقائق :

$$150 \text{ أي } 2 \text{ س و } 30 \text{ د ق} = \frac{180}{1ر2}$$

4 - قيس مساحة الرقعة بالضم² :

$$1024 = 64 \times (4 \times 4)$$

II المشكل :

1 - نصف طول محيط الحديقة بالمتر :

$$117 = 2 : 234$$



ثمن السيارة الأولى بالدينار :

$$6504 = \frac{4 \times 11382}{7}$$

ثمن السيارة الثانية بالدينار :

$$4878 = \frac{3 \times 6504}{4}$$

II المشكل :

أ - المسافة الحقيقية الفاصلة بين سوسة والمهدية بالكم :

$$62ر050 = 850 \text{ 000} \times \frac{7ر3}{100 \text{ 000}}$$

ب - المسافة بين سوسة وقصر هلال بالكم :

$$35 = \frac{70 \times 30}{60}$$

ساعة الانطلاق من قصر هلال :

10 س + 1 س و 10 د ق + 1 س و 15 د ق = 12 س و 25 د ق أو
منتصف النهار و 25 د ق

الوقت الذي قضاءه سامي لقطع المسافة بين قصر هلال والبقالطة .
13 س و 30 د ق - 12 س و 25 د ق = 1 س و 5 د ق أي 65 د ق

المسافة بين قصر هلال والبقالطة بالكم :

$$8ر775 = \frac{65 \times 8ر1}{60}$$

المسافة التي مازالت تفصل سامي عن المهدية بحساب الكم :

$$18ر275 = 43ر775 - 62ر050 = (8ر775 + 35) - 62ر050$$

2 - الوقت الذي يقضيه الحافلة عند التوقف؛
2 دق و 15 ث = 16 × 32 دق و 240 ث = 36 دق

3 - كمية الزيتون المطلوبة بالكغ :

$$3000 \text{ أو } 3 \text{ ط} = \frac{100 \times 360}{12}$$

4 - العدد الحالي لتلاميذ المدرسة :
 $662 = (16 + 89) - (122 + 645)$

I المشكل :

أ - المبلغ المدفوع بالدينار عند تقديم المطلب :

$$427 = \frac{5124}{12}$$

ب - المبلغ المدفوع بالدينار عند تسلّم الشاحنة :

$$2196 = \frac{3 \times 5124}{7}$$

ج - المبلغ الباقي بالدينار :

$$2501 = (2196 + 427) - 5124$$

مقدار الأقساط العشرين الباقية بالدينار :

$$2651,060 = \frac{106 \times 2501}{100}$$

مقدار القسط الواحد بالدينار :

$$132,553 = \frac{2651,060}{20}$$

د - الثمن الحقيقي للشاحنة بالدينار :

$$5274,060 = 2651,060 + 2196 + 427$$

عرض الحديقة بالمتر :

$$36 = \frac{4 \times 117}{13}$$

طول الحديقة بالمتر :

$$81 = \frac{9 \times 36}{4}$$

قيس مساحة الحديقة بالمتر المربع :

$$2916 = 81 \times 36$$

ب - شعاع الحوض بالمتر :

$$3 = 2 : 6$$

قيس مساحة الحوض بالمتر المربع :

$$28,26 = 3 \times 3 \times 3,14$$

قيس المساحة الباقية بالمتر المربع :

$$2887,74 = 28,26 - 2916$$

ج - قيس المساحة المعشبة بالمتر المربع :

$$2165,805 = \frac{3 \times 2887,74}{4}$$

قيس مساحة كل قطعة بالمتر المربع :

$$541,45125 = \frac{2165,805}{4}$$

المجموعة رقم 20

I التمارين :

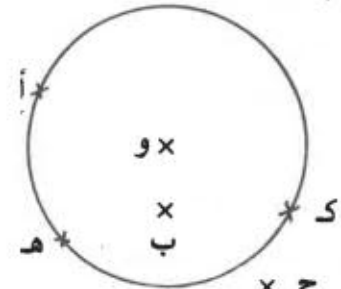
1 - عدد كبات الصوف :

$$28 = \frac{560}{20}$$

ثمن الصوف بالدينار :

$$2,660 = 28 \times 0,095$$

- (د) \ni أ
 (د) \ni ب
 (د) \ni ج
 (د) \ni هـ
 (د) \ni و
 (د) \ni ك



$$\frac{23}{28} = \frac{16}{28} + \frac{7}{28} = \frac{4}{7} + \frac{1}{4} \quad (أ - 2)$$

$$\frac{5}{28} = \frac{23}{28} - \frac{28}{28} = \frac{23}{28} - 1 \quad (ب - 1)$$

$$1 = \frac{4}{7} + \frac{5}{28} + \frac{1}{4}$$

$$\frac{22}{15} = \frac{5}{15} - \frac{27}{15} = \frac{1}{3} - \frac{9}{5} \quad (ب - 2)$$

$$1 = \frac{1}{3} - \frac{9}{5}$$

$$\frac{22}{15}$$

3 - الطول الخارجي بالمتر :

$$10 = (2 \times 0,50) + 9$$

العرض الخارجي بالمتر :

$$5,75 = (2 \times 0,50) + 4,75$$

قيس مساحة الأرض بالمتر المربع :

$$57,5 = 5,75 \times 10$$

4 - الثمن المسجل لالة الخياطة بالدينار :

$$102,400 = \frac{100 \times 15,360}{15}$$

الثمن الحقيقي لالة الخياطة بالدينار :

$$87,040 = 15,360 - 102,400$$

ربح التاجر بالدينار :

$$17,040 = 70 - 87,040$$

II الشكل :

المقدار الذي ساهم به صندوق المدرسة بالدينار :

$$21,080 = \frac{2 \times 73,780}{7}$$

المقدار الذي ساهم به التلاميذ بالدينار :

$$52,700 = 21,080 - 73,780$$

عدد التلاميذ المساهمين :

$$62 = 6 - 68$$

مقدار مساهمة كل تلميذ بالدينار :

$$0,850 = \frac{52,700}{62}$$

مدة الرحلة :

$$9 \text{ س و } 25 \text{ دق} - 5 \text{ س و } 30 \text{ دق} = 3 \text{ س و } 55 \text{ دق}$$

مدة سير الحافلة :

$$3 \text{ س و } 55 \text{ دق} - 55 \text{ دق} = 3 \text{ س}$$

معدل سرعة الحافلة بالكم / س :

$$61 = \frac{183}{3}$$

$$100 \times 45,252 = \frac{1}{100} : 45,252 - 4$$

$$1000 \times 325,043 = 0,001 : 325,043$$

II المشكل :

أ - معدل سرعة الذراج بالكم / س :

$$30 = 60 \times \frac{1}{2}$$

ب - عند الانطلاق كانت المسافة الفاصلة بين الذراج والمترجل 36 كم ونلاحظ بعد ساعة أن الذراج قد قطع 30 كم والمترجل 6 كم ، فيكون الإلتقاء حينئذ على الساعة العاشرة صباحا .

ج - وتكون نقطة التلاقي تبعد عن سوسة بـ 30 كم

د - ساعة وصول الذراج الى المكنين

$$9 \text{ س و } \frac{60 \times 36}{30} \text{ دق} = 9 \text{ س و } 72 \text{ دق} = 10 \text{ س و } 12 \text{ دق}$$

أي الساعة العاشرة صباحا و 12 دق

ساعة وصول المترجل الى سوسة

$$9 \text{ س و } \frac{60 \times 36}{6} \text{ دق} = 9 \text{ س و } 360 \text{ دق} = 15 \text{ س أي الساعة}$$

الثالثة بعد الزوال .

هـ - المسافة سوسة - المكنين على التصميم وبالضم :

$$7,2 = \frac{3600000}{500000}$$

المسافة الفاصلة بين سوسة ومكان التلاقي على التصميم بالضم .

$$6 = \frac{3000000}{500000}$$



المجموعة رقم 22

I التمارين :

1 - وزن الحليب اللازم بالكغ :

$$260 = \frac{100 \times 13}{5}$$

كمية الحليب اللازم باللتر :

$$250 = \frac{260}{1,04}$$

2 - ابحث عن القاسم المشترك الأكبر لحدي الكسر :

$$\begin{array}{l|l} 588 & 2 \\ 294 & 2 \\ 147 & 3 \\ 49 & 7 \\ 7 & 7 \\ 1 & \end{array} \quad \begin{array}{l|l} 126 & 2 \\ 63 & 3 \\ 21 & 3 \\ 7 & 7 \\ 1 & \end{array}$$

$$2^2 \times 3 \times 2^2 = 588$$

$$7 \times 2^3 \times 2 = 126$$

$$42 = 7 \times 3 \times 2 = (588, 126) \text{ أ - م - ق}$$

$$\frac{3}{14} = \frac{42 : 126}{42 : 588} = \frac{126}{588}$$

3 - المبلغ الذي بقي لأمي بحساب الكسور :

$$\frac{1}{6} = \frac{5}{6} - \frac{6}{6}$$

المبلغ الذي بقي لأمي بالدينار :

$$0,807 = \frac{4,842}{6}$$

$6 = 2^6$ وبذلك يكون الذليل ج = 6

64	2	- 4
32	2	
16	2	
8	2	
4	2	
2	2	
1		

II المشكل :

إذا صرفت فوزية $\frac{1}{3}$ ما صرفته منيرة وخديجة معا فهذا يعني أن

منيرة وخديجة صرفتا 3 مرات أكثر من فوزية
ما صرفته فوزية بالدينار :

$$11600 = \frac{46400}{4}$$

ما صرفته منيرة بالدينار :

$$8900 = 2700 - 11600$$

ما صرفته فوزية ومنيرة بالدينار :

$$20500 = 8900 + 11600$$

ما صرفته خديجة بالدينار :

$$25900 = 20500 - 46400$$

المجموعة رقم 24

I التمارين :

1 - نعلم أن السنة الكبيسة هي التي يكون عددها الرتبي من مكررات 4 ، لذا فإن السنوات الكبيسة الموجودة بين 1960 و 1980 هي :

1960 - 1964 - 1968 - 1972 - 1976 - 1980

المجموعة رقم 23

I التمارين :

$$\begin{array}{r} 3056 \\ - 2047 \\ \hline = 1009 \end{array}$$

$$\begin{array}{r} 5349 \\ + 2703 \\ \hline = 8052 \end{array} \quad - 1$$

120	2	80	2	75	3	- 2
60	2	40	2	25	5	
30	2	20	2	5	5	
15	3	10	2	1		
5	5	5	5			
1		1				

$$25 \times 3 = 75$$

$$5 \times 42 = 80$$

$$5 \times 3 \times 32 = 120$$

$$1200 = 25 \times 3 \times 42 = (120, 80, 75) \text{ أ م - م - م}$$

- 3

29ر830 م	16ر956 م	72ر22 م	15ر072 صم	طول محيط الدائرة
9ر5 م	5ر4 م	23 م	4ر8 صم	قطر الدائرة
3ر14	3ر14	3ر14	3ر14	خارج قسمة طول المحيط على القطر

ب - عدد القطع حسب الطول :

$$16 = \frac{128}{8}$$

عدد القطع حسب العرض :

$$4 = \frac{32}{8}$$

عدد القطع بالطبقة الواحدة :

$$64 = 4 \times 16$$

عدد الطبقات

$$8 = \frac{512}{64}$$

ارتفاع الصندوق الثاني بالضم :

$$64 = 8 \times 8$$

ج - قيس المساحة الجمالية للصندوق الأول بالضم ² :

$$24576 = 6 \times (64 \times 64) \text{ أو بالمتر المربع } 24576$$

قيس المساحة الجمالية للصندوق الثاني بالضم ²

$$28672 = (2 \times 32 \times 128) + [64 \times 2 \times (32 + 128)]$$

بالمتر المربع 28672 .

نرى حينئذ أنه من الأنسب استعمال الضاديق المكعبة الشكل

لأن $28672 > 24576$.

د - ثمن الصندوق المكعب الشكل بالمليم :

$$24576 = 24576 \times 100$$

ثمن الصندوق الثاني بالمليم :

$$28672 = 28672 \times 100$$

الفرق بين الثمنين بالمليم :

$$4096 = 24576 - 28672$$

مرايبح المعمل في 1000 صندوق بالدينار :

$$40960 = 1000 \times 4096$$

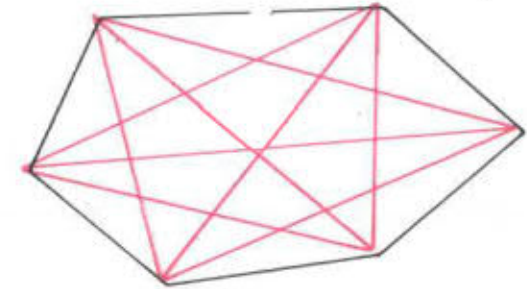
2 - 4946 م² هي 0946ر0 ها

19004 هي 40ر190 ها

20 كم² هي 2000 ها

3460 دكم² هي 34ر60 ها

3 - أرسم الأقطار بالأحمر :



عدد الأقطار هو $9 = 1 + 2 + 3 + 3$

$$\frac{15}{100} = \frac{5 \times 3}{5 \times 20} = \frac{3}{20} - 4$$

$$\frac{3125}{1000} = \frac{125 \times 25}{125 \times 8} = \frac{25}{8}$$

$$\frac{35}{10} = \frac{5 \times 7}{5 \times 2} = \frac{7}{2}$$

$$\frac{7}{100} = \frac{3 : 21}{3 : 300} = \frac{21}{300}$$

II الشكل :

أ - عدد القطع التي يمكن تصنيفها حسب كل بعد من أبعاد الصندوق :

$$8 = 8 : 64$$

عدد القطع هو إذا :

$$512 = 8 \times (8 \times 8)$$

www.najahni.tn