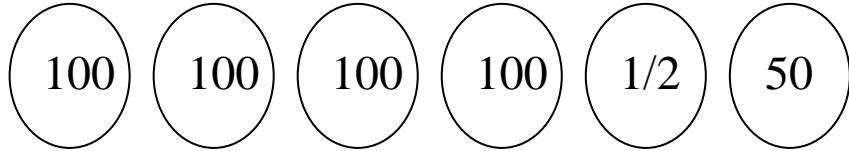


الاسم..... اللقب

السند 1 :

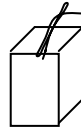
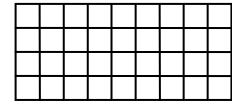
توجه رامي و ريم و فاطمة الى محل لبيع المرطبات
هذه نقود رامي

أساعد رامي على عد نقوده

3 مع

السند 2 :

قرر رامي شراء بضاعتين من بين البضائع التالية :

مثلجات
900 ميعصير
375 ميشكلاطة
445 مي

ابحث عن ثمن البضاعتين اللتين يمكن لرامي شراءهما

1 مع

كم يبقى له ؟

2 مع

السند 3 :

تملك ريم 990 مي

امثل نقود ريم باقل عدد ممكن من النقود

3 مع

قررت ريم شراء بضاعتين من بين البضائع التالية :

حليب معطر
450 ميعصير
350 ميمثلجات
750 مي

ابحث عن الثمن الذي ستدفعه ريم

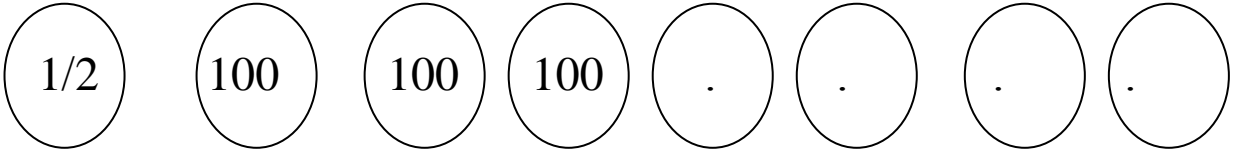
1 مع

كم بقي لـها؟

مع 2

السند 4 :

تملك فاطمة 975 مي



مع 3

اكمل تمثيل هذا المبلغ

شرت فاطمة علبة بسكويت ب 540 مي

كم بقي لـها؟

مع 1

مع 2

السند 5 :

وجدت فاطمة الاشكال التالية مرسومة على علبة البسكويت



مع 4

اضع علامة على الشكل الذي له 4 اضلاع

ارسم شكلا له 3 اضلاع

مع 4

اكمل رسم الشكل التالي ليصبح ذا 5 اضلاع



مع 4

السند 6 :

جمع الاطفال ما تبقى لهم من نقود و ارادوا شراء لعبة ب 850 مي

اضع علامة امام السؤال المناسب للوضعية و اجيب عنه

مع 5

| مع 5 | مع 4 | مع 3 | مع 2 | مع 1 | |
|------|------|------|------|------|-----|
| 0 | 0 | 0 | 0 | 0 | --- |
| 0 | 2 | 1 | 1.5 | 1.5 | +-- |
| 2 | 2 | 2 | 3 | 3 | ++- |
| 5 | 3 | 3 | 4.5 | 4.5 | +++ |



كم بقي لـه

ما هو ثمن اللعبة

كم ينقصهم لشراء اللعبة

الجواب

نجاهني