

..... : الإسم	العلوم الفيزيائية	المنذوبية الجهوية للتعليم بالقصرين
..... : اللقب	فرض تأليفي عـ01ـدد	إعدادية التقنية سبيطة
..... : القسم	التوقيت : ساعة	ديسمبر 2019
..... : الرقم		الأستاذ : منصف عباسي

**التمرين عـ01ـدد (05 نقاط)**

1/ أتم الفراغات التالية بما يناسب من العبارات :

- الشحنة الكهربائية هي مقدار فيزيائي قابل للقياس ، وحدة قياسها العالمية هي .....
- جسمان يحملان كمّيتا كهرباء من نفس النوع .....
- جسمان يحملان كمّيتا كهرباء من نوع مختلف .....
- تظهر على كلّ جسم متكهرب كمية من الكهرباء تسمّى .....
- التوتّر الكهربائي المنزلي هو .....
- كل تيار يسري في كلا الإتجاهين بالتداول هو .....

(ن3)

2/ ضع علامة (X) أمام كل مقترح صحيح :

- أ) تقاس القيمة القصوى لشدة التيار الكهربائي بواسطة جهاز :  
 الأمبيرمتر  ، مشواف الذبذبات  ، الفولتمتر
- ب) العلاقة بين القيمة القصوى للشدة وقيمتها الفعّالة هي :

$I_{max} = \sqrt{2} \times I_{eff}$  ،   $I_{max} = \frac{I_{eff}}{\sqrt{2}}$

ج) التركيب الكهربائي المنزلي هو تركيب :

- بالتسلسل  ، بالتوازي

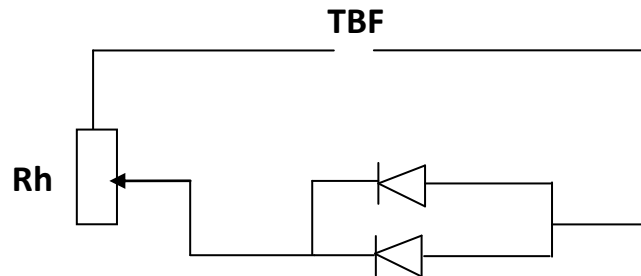
د) يتميز التيار الكهربائي المتغيّر بـ :

- تغيّر شدّته  ، تغيّر شدّته واتجاهه  ، تغيّر اتجاهه

(ن2)


**التمرين عـ02ـدد (07 نقاط)**

1) لكي يبين أنّ التيار المتناوب يسري في كلا الاتجاهين قام تلميذ بإنجاز التجربة المتمثلة في الدّارة الكهربائية التالية :

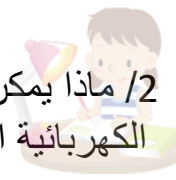


1/ الدّارة التي قام التلميذ برسمها صحيحة أم خاطئة ؟ ماذا يلاحظ التلميذ عند إنجاز التجربة؟

(ن2)



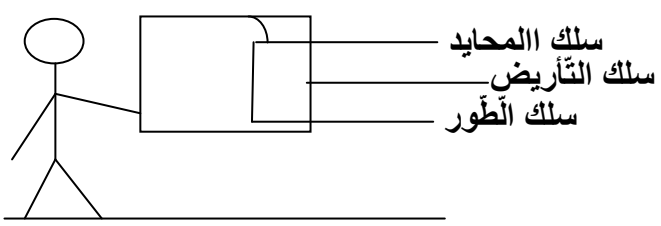
2/ ماذا يمكن أن نغيّر في الدّارة السّابقة حتّى يصبح إقترح التلميذ صحيح ؟ أعد رسم الدّارة الكهربائيّة الجديدة.



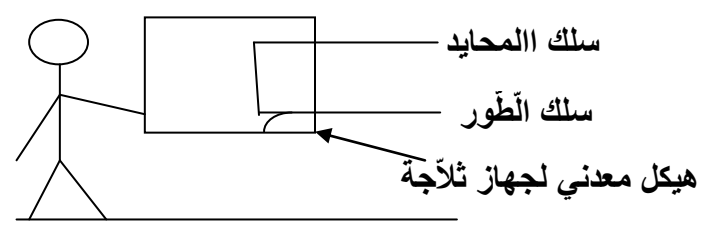
(ن1) .....

الدّارة الكهربائيّة الجديدة

(II) من بين الوضعيات التّالية بيّن الحالة التي يتعرّض فيها الشخص إلى صعقة كهربائيّة معلّلا جوابك.



وضعية 2



وضعية 1

وضعية 1 : .....

(ن2) .....

وضعية 2 : .....

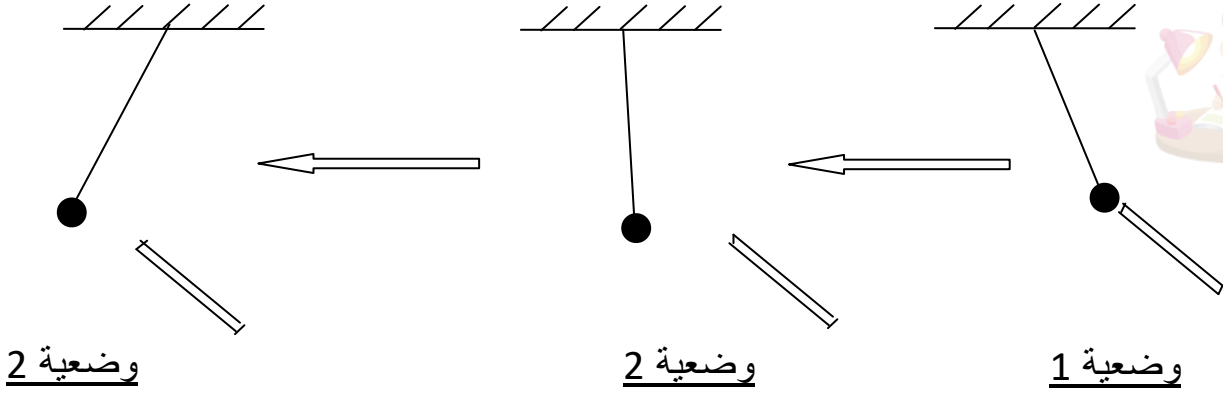
(ن2) .....

التمرين عـ03ـدـد (08 نقاط)

لدينا قضيب زجاجي متكهرب بالإحتكاك ، قمنا بتقريبه من كرة نواس كهربائي فحصلنا على الوضعيات التّالية كما يبيّنه الرّسم :



- وضعية 1 : قضيب الزجاج يجذب كرة النّواس الكهربائي
- وضعية 2 : رجوع كرة النّواس الكهربائي إلى الوضعيّة العموديّة.
- وضعية 3 : قرّبنا من جديد قضيب الزجاج فحصل تنافر



1/ حدّد من خلال التجربة السابقة الأجسام المتكهربة مبينا نوع تكهربها

(ن2) .....

2/ كيف تفسّر تنافر كرة النواس الكهربائي عن قضيب الزجاج في الوضعية 3 ؟ مبينا علامة شحنة كرة النواس الكهربائي

(ن2) .....

3/ علما أنّ الزجاج في بداية التجربة يحمل شحنة  $q_1$  حيث :  $|q_1| = 3.2 \times 10^{-14} \text{ C}$  ، ما نوع الكهرباء الموجودة على قضيب الزجاج ؟، أحسب العدد  $n_1$  للشحنات الكهربائية البسيطة المكوّنة للشحنة  $q_1$ . قيمة الشحنة الكهربائية البسيطة هي :  $e = 1.6 \times 10^{-19} \text{ C}$

(ن1.5) .....

4/ علما أنّ في بداية التجربة كانت كرة النواس الكهربائي متعادلة كهربائيا وفي نهايتها أصبحت تحمل شحنة  $q_2$  حيث  $q_2 = \left| \frac{q}{4} \right|$  ، أحسب العدد  $n_2$  للشحنات الكهربائية البسيطة المكوّنة للشحنة  $q_2$ .

(ن1.5) .....

5/ إستنتج عدد الشحنات  $n$  التي يجب إضافتها إلى قضيب الزجاج ( في نهاية التجربة ) ليصبح متعادلا كهربائيا

(ن1) .....



عملا موفقا