

المدرسة الإعدادية
 ببنى خيار
 التاريخ: 2010/02/.....
 الفرض العادي الثاني
 المادة: التربية التكنولوجية
 الضارب: 1
 التوقيت: 30 دقيقة
 الإسم:
 اللقب:
 الرقم:
 القسم:

/20

الأستاذ:



بديع بالشيف

تمرين 1
 ضع علامة في الخانة المناسبة للجواب الصحيح:

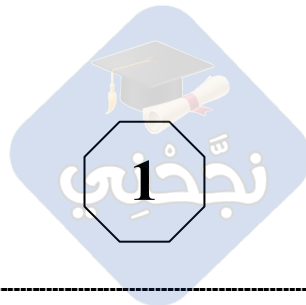
* يميز القاطع الإلكتروني الخاصيتين:

	جهد كهربائي قويّ مقابل شدة تيارٍ مرتفعة
	جهد كهربائي ضعيف نسبياً مقابل تيارٍ كهربائي مرتفع
	جهد كهربائي و شدة تيارٍ كهربائي ضعيفين
	جهد كهربائي و شدة تيارٍ كهربائي مرتفعين

تمرين 2
 أكتب اسم جهاز الحماية أو ارسم الرمز المقنن لجهاز الحماية المذكور:

			
.....	قاطع فارقي	صهيرة

تمرين 3
 أتمم الجدول التالي بما ينبغي:



الرمز	الطاقة المولدة	الطاقة المتقبلة	الجهاز
			مصباح كهربائي
			محرك كهربائي
			الجرس
			قفل كهربائي
			الفولطمتر
			الأمبرمتر

تمرين 4
أربط بسهم الإجابة الصحيحة:

يركب بالتسلسل مع
المكوّنات الكهربائيّة

الفولطمتر

يركب بالتوازي مع
المكوّنات الكهربائيّة

الأمبرمتر

