

المربية:

مريم الماجري

تقييم في مادة الرياضيات

الثلاثي الأول من
2024 - 2025

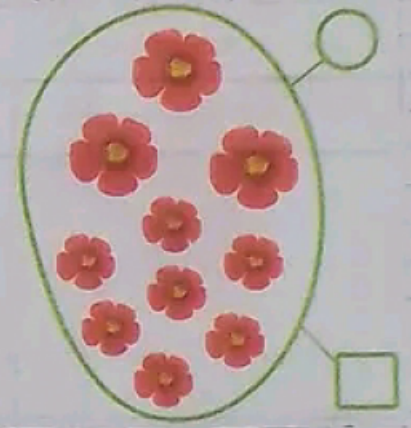


الإسم:

اللقب:

نحني


سند 1:

خَرَجَ الْأَنْفُسَانُ الثَّلَاثَ أَحْمَدُ وَمُرَاةٌ وَسَلِمَى إِلَى
الْحَقْلِ فَجَمَعَ كُلُّ وَاحِدٍ مِنْهُمُ أَرْهَارًا مُخْتَلِفَةً
اللَّوْنِ وَالْحَجْمِ
تعلیمة 1: أَرْمَزُ إِلَى كُلِّ مَجْمُوعَةٍ جُزِيَّةٍ بِالرَّمَزِ الْمُنَاسِبِ
تعلیمة 2: اَلكُتُبُ لَمْ كُلِّ مَجْمُوعَةٍ




سند 2:

كَانَ الْأَنْفُسَانُ إِلَى الْمَنْزِلِ وَقَدَّمُوا الْأَرْهَارَ قَدِيَّةً
لِوَالِدَيْهِمْ ثُمَّ تَوَجَّهُوا نَحْوَ الْغُرْفَةِ لِلقَبْلِ بِالشَّكْلِ
الْمَقَدَّسَةِ
تعلیمة 3: أُجَزِّئُ مَجْمُوعَةَ الشَّكْلِ الْمَقَدَّسَةِ حَسَبَ
خَاصِيَّةِ الشَّكْلِ



تعليمية: أجزئي مجموعة الأشكال الهندسية حسب حاجية اللون



سند 3:

أعطى الأب لكل واحدٍ من أطفاله مبلغًا ماليًا
تعليمية 5: أحسب مبلغ أحمد

تعليمية 6: أكمل تفتيل مبلغ مران بالقطع النقدية
تعليمية 7: أكمل مبلغ سلمى بالقطع النقدية

أحمد	مران	سلمى
مبي	55 مبي	64 مبي

تعليمية 8: أرتب مبالغ الأبطال ترتيبًا تنازليًا

سند 4:

اشترى أحمد حلوى ب 3 مبي و اشترى مراد
رغية تفوق ثمنها ثمن الحلوى ب 19 مبي
تعليمية 9: ماهو ثمن الرغية؟

الإجابة اللفظية:

$$\begin{array}{r}
 + \\
 \hline
 =
 \end{array}$$

الإجابة العددية:

$$= \quad + \quad +$$

وضعية 1:

يَمْلِكُ مُرَاهَ مَبْلَغًا قَدْرُهُ 98 مِي. إِشْتَرَى
حِذَاءً بِـ 32 مِي وَ سِرْوَالًا يَفَوْقَ ثَمَنِهِ



؟



32 مِي

ثَمَنُ الْحِذَاءِ بِـ 18 مِي

تعليمية 1: أَقْبَلُ مَبْلَغَ مُرَاهِ بِالْقِطْعِ
الْتَّقْدِيَةِ:

98 مِي

تعليمية 2: كَمْ ثَمَنُ السِّرْوَالِ ؟

الإجابة اللفظية:

الإجابة العددية: . + . =

+

=

وضعية 2:

يَمْلِكُ سَاحِدُ 79 مِي. إِشْتَرَى سِرْوَالًا بِـ 48 مِي وَ قَمِيصًا
يَفَوْقَ ثَمَنِ السِّرْوَالِ بِـ 16 مِي



48 مِي



؟

تعليمية 1: أَقْبَلُ مَبْلَغَ سَاحِدِ بِالْقِطْعِ
الْتَّقْدِيَةِ بِأَقْلَ كَدِّ مُمَكِنٍ:

79 مِي

تعليمية 2: كَمْ ثَمَنُ الْقَمِيصِ ؟

الإجابة اللفظية:

الإجابة العددية: . + . =

+

=

تعليمية 3: أُرَتِّبُ أَحْدَادَ الْعَمَلِيَّةِ نَحَايِدِيًّا: